

محتويات الكتاب

الجغرافيا

الوحدة الأولى: الموارد والأنشطة الاقتصادية في العالم.

الوحدة الثانية: نماذج لبعض الدول النامية والمتقدمة.



التاريخ

الوحدة الثالثة: ثورة يوليو والصراع العربي / الإسرائيلي.

الوحدة الرابعة: الحياة السياسية وعلاقات مصر الدولية.



يُصرف مع الكتاب

ومفكرة الامتحان

وتشمل :

- مراجعة على كل وحدة.
- إجابات أسئلة كتاب الشرح.
- إجابات أسئلة كتاب المراجعة والامتحانات.



كتاب المراجعة والامتحانات

ويشمل :


- مراجعة على كل درس.
- امتحان تراكمي بعد كل درس.
- أسئلة عامة على كل وحدة.
- تدريبات للتقييم الشهري.
- امتحانات نهاية الفصل الدراسي.



تَنَوِيهِ



قم باستخدام **QR** في حالة حدوث
أي تغييرات في توزيع دروس المقرر



الجغرافيا

أولاً

الموارد والأنشطة الاقتصادية في العالم

- النشاط الزراعي وموارده في العالم.
- الرعي والثروة الحيوانية والسمكية في العالم.
- النشاط التعدين في العالم.
- النشاط الصناعي في العالم.

نماذج لبعض الدول النامية والمتقدمة

- جمهورية الهند.
- جمهورية البرازيل الاتحادية.
- جمهورية نيجيريا الاتحادية.
- ألمانيا الاتحادية.
- الولايات المتحدة الأمريكية.

الوحدة 1

- الدرس الأول
- الدرس الثاني
- الدرس الثالث
- الدرس الرابع

الوحدة 2

- الدرس الأول
- الدرس الثاني
- الدرس الثالث
- الدرس الرابع
- الدرس الخامس

أساسيات تساعدك على فهم وقراءة الخريطة



إحداثيات الخريطة

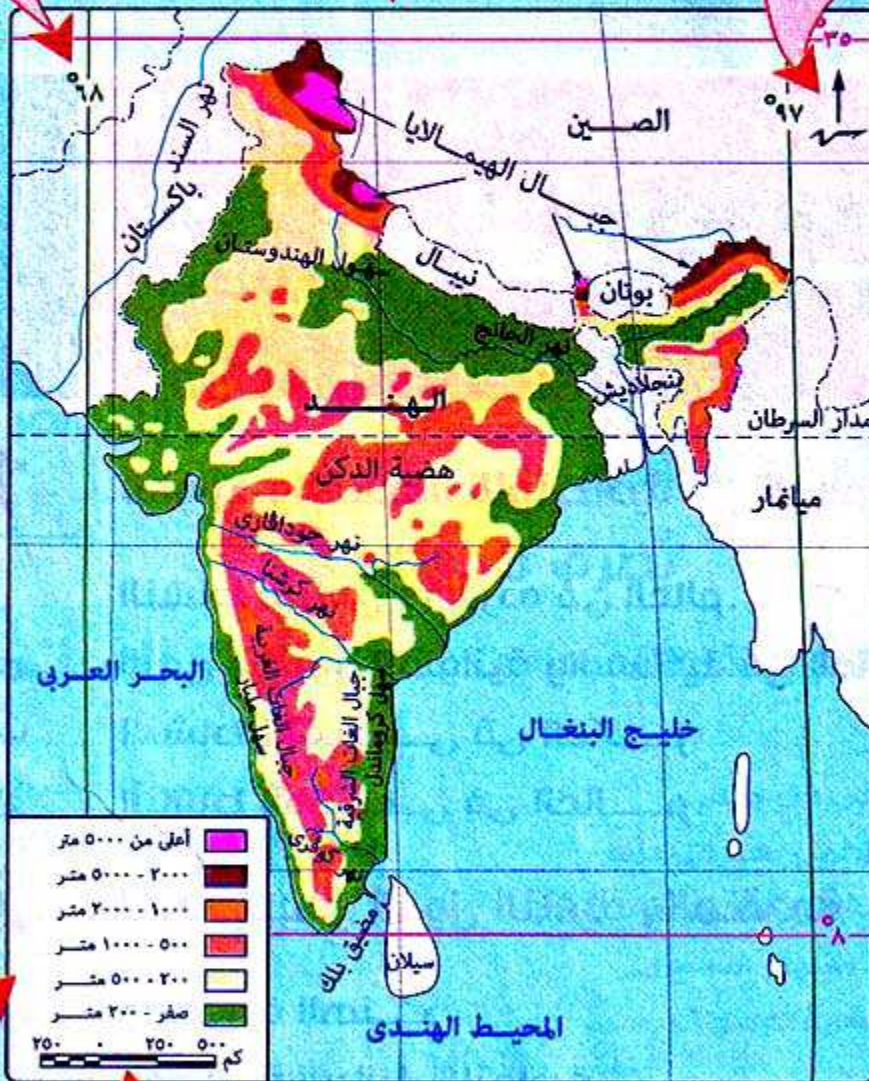
يقصد بها دوائر العرض
وخطوط الطول وتساعدنا
في تحديد الموقع الفلكي للمكان

إطار الخريطة

يضم داخله جميع
محتويات الخريطة

اتجاه الشمال

عن طريقه تستطيع تحديد باقي
الاتجاهات وله أشكال مختلفة
(منها ، شرق ، غرب)



موقع وتضاريس الهند

مفتاح الخريطة

دليل الرموز والألوان
الموضحة بالخريطة

مقياس الرسم

النسبة بين المسافة على
الخريطة وما يناسبها
في الطبيعة

عنوان الخريطة

يوضح ما تحتويه الخريطة



أهم المفاهيم الجغرافية

محاصيل يعتمد عليها الإنسان في غذائه مثل القمح، والأرز، والذرة الشامية، والذرة الرفيعة.	حبوب غذائية
هي مصادر غير قابلة للنفاذ ولا تؤثر سلبًا على البيئة.	مصادر الطاقة المتجددة
هي مصادر قابلة للنفاذ وتسبب تلوثًا للبيئة.	مصادر الطاقة غير المتجددة
عملية استخراج المعادن و مصادر الطاقة من فحم وبتروöl وغاز طبيعي من باطن القشرة الأرضية أو بالقرب من السطح.	★ النشاط التعدين
بقايا أشجار وشجيرات جفت وانظمرت منذ ملايين السنين تحت التكوينات الصخرية، ونتيجة للحرارة والضغط تحولت إلى مادة كربونية سوداء وهي (الفحم الحجري).	الفحم
تكوّن نتيجة تحلل كائنات عضوية كانت تعيش في البحار ثم تجمعت بكميات كبيرة جدًا وغطتها رواسب الطين والرمل وتحللت ثم تحولت إلى بترول.	البتروöl
عبارة عن غازات موجودة في باطن الأرض داخل مسام الصخور، قد توجد بشكل منفصل أو مصاحبة لوجود البترول وعادة ما تعلوه بسبب خفة وزنها.	الغاز الطبيعي
موقع المكان بالنسبة لخطوط الطول ودوائر العرض.	موقع فلكي
موقع المكان بالنسبة للأماكن الأخرى من بحار ومحيطات وقارات أو دول مجاورة.	موقع جغرافي
أشكال سطح الأرض المختلفة من مرتفعات ومنخفضات.	تضاريس
متوسط حالة الجو من حيث الحرارة والضغط والرياح والأمطار لفترة زمنية طويلة قد تكون شهرًا أو فصلًا من فصول السنة أو عامًا كاملًا.	مناخ
نبات ينمو طبيعيًا دون تدخل الإنسان نتيجة تفاعل مجموعة من العوامل الطبيعية كالحرارة والضوء والمياه والتربة.	نبات طبيعي
السلع والمنتجات والخدمات التي تبيعها الدول للدول الأخرى.	صادرات
السلع والمنتجات والخدمات التي تشتريها الدول من الدول الأخرى.	واردات

الموارد والأنشطة الاقتصادية في العالم

الوحدة

1

أهداف الوحدة

في نهاية دراسة هذه الوحدة يتوقع أن يكون التلميذ قادرًا على أن :

- يحدد الأنشطة الاقتصادية في العالم.
- يفسر العلاقة بين تنوع الموارد الطبيعية والأنشطة الاقتصادية في العالم.
- يقرأ الأشكال البيانية المرتبطة بالموارد والأنشطة الزراعية في العالم.
- يحدد مناطق الرعي الرئيسية في العالم.
- يوزع على خريطة العالم مناطق صيد الأسماك.
- يقارن بين الدول من حيث الإنتاج المعدني عالميًا.
- يوزع على خريطة العالم الصماء الأقاليم الرئيسية للصناعة في العالم.
- يقارن بين الدول المتقدمة والدول النامية من حيث مدى توافر مقومات الصناعة.
- يقدر عظمة الله في تنوع الموارد والأنشطة الاقتصادية في العالم.

النشاط الزراعي وموارده في العالم.

الدرس الأول

الرعي والثروة الحيوانية والسمكية في العالم.

الدرس الثاني

النشاط التعدين في العالم.

الدرس الثالث

النشاط الصناعي في العالم.

الدرس الرابع



• أسئلة تفاعلية



• أسئلة الكتاب المدرسي

• أسئلة للتمييز.

• أسئلة من امتحانات المحافظات.

على الوحدة الأولى.

أسئلة

كل درس تشمل

مشروع بحثي

مفتوح



• مراجعة على كل درس

وأسئلة عامة على الوحدة

• مراجعة على الوحدة

← كتاب المراجعة والامتحانات

← مفكرة الامتحان

انظر



أهداف دروس الوحدة الأولى

الدرس الأول

النشاط الزراعي وموارده في العالم.



من المتوقع بعد الانتهاء من الدرس أن يكون التلميذ قادرًا على أن :

- يحدد على خريطة العالم المناطق الزراعية الرئيسية في العالم.
- يفسر العلاقة بين الموارد الزراعية والنشاط الذي يمارسه الإنسان.
- يتعرف الموارد الزراعية المختلفة بالعالم.
- يقرأ الأشكال البيانية المرتبطة بالموارد والأنشطة الزراعية.
- يقدر عظمة الخالق في تنوع الموارد الزراعية اللازمة للإنسان.

الدرس الثاني

الرعي والثروة الحيوانية والسمكية في العالم.



من المتوقع بعد الانتهاء من الدرس أن يكون التلميذ قادرًا على أن :

- يصنف الموارد الحيوانية في العالم.
- يتعرف مناطق الرعي الرئيسية على خريطة العالم.
- يستنتج العلاقة بين الزراعة وتربية الحيوانات في العالم.
- يقرأ الأشكال البيانية المرتبطة بتوزيع حيوانات الرعي في العالم.
- يحدد على خريطة العالم مناطق صيد الأسماك في العالم.
- يقدر عظمة الله فيما وهبه لنا من ثروات.

الدرس الثالث

النشاط التعدين في العالم.



من المتوقع بعد الانتهاء من الدرس أن يكون التلميذ قادرًا على أن :

- يتعرف مناطق إنتاج الحديد على خريطة العالم.
- يقارن بين إنتاج الدول الرئيسية المنتجة للمعادن المهمة.
- يقدر أهمية النحاس ومناطق إنتاجه في قارات العالم.
- يحدد أهمية البوكسيت والصناعة التي تعتمد عليه.
- يوقع على خريطة العالم مناطق إنتاج كل من البترول والفحم.
- يعدد مصادر الطاقة النظيفة في العالم.
- يستنتج العلاقة بين الموارد المعدنية وقيام النشاط التعديني في العالم.

الدرس الرابع

النشاط الصناعي في العالم.



من المتوقع بعد الانتهاء من الدرس أن يكون التلميذ قادرًا على أن :

- يتعرف المراكز الرئيسية للصناعة على خريطة العالم.
- يعدد أنواع الصناعات الرئيسية في العالم.
- يقارن بين الدول المتقدمة والدول النامية من حيث مدى توافر مقومات الصناعة.
- يوقع على خريطة العالم الصماء المراكز الرئيسية للصناعة في العالم.

تمهيد



فى الماضى

مارس البشر العديد من الأنشطة الاقتصادية البدائية، مثل الصيد، والرعى، وتربية الحيوان، حيث اتجه الإنسان بفطرته نحو إشباع حاجاته الضرورية من مأكّل، ومشرب، ومأوى بهدف استمرار حياته، وبعد معرفته للزراعة عرف حياة الاستقرار وبدأت تنشأ الحضارات القديمة.

مع مرور الزمن

زاد عدد السكان وتنوعت أنشطتهم، وتطورت حتى وصلت إلى النشاط الصناعى المتطور والذي يتركز في معظم دول العالم المتقدمة.



وفى هذه الوحدة سوف نتعرف الأنشطة الاقتصادية للسكان فى قارات ودول العالم المختلفة

النشاط الزراعى وموارده فى العالم

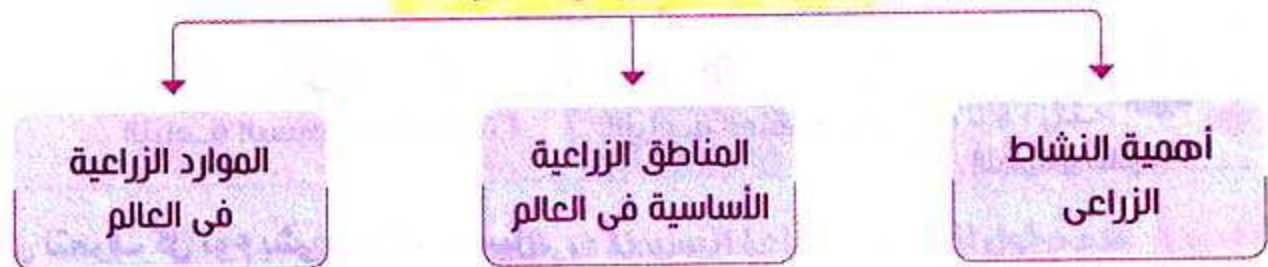
الدرس الأول



يُعد النشاط الزراعى من أقدم الأنشطة الاقتصادية التى عرفها الإنسان فقد عرف الزراعة (منذ نحو ٥٠٠٠ سنة)، وعرف معها الاستقرار فى الأراضى الخصبة على ضفاف الأنهار،

- ما هى أنواع الزراعة فى العالم ؟ وأين توجد ؟
- ما هى أهم المحاصيل الرئيسية فى العالم ؟
- ما أكبر الدول المنتجة لهذه المحاصيل ؟

فى هذا الدرس نتعرف



أولاً أهمية النشاط الزراعى

يُعد النشاط الزراعى من الأنشطة الاقتصادية الأساسية فى العالم **بم تفسر؟ لأنه :**

① يمثل مصدراً رئيسياً لغذاء الإنسان. (بجانب الأسماك والحيوانات).

② ترتبط به تربية الحيوان.

③ يُعد مصدراً مهماً للمواد الخام الزراعية اللازمة لبعض الصناعات، مثل :

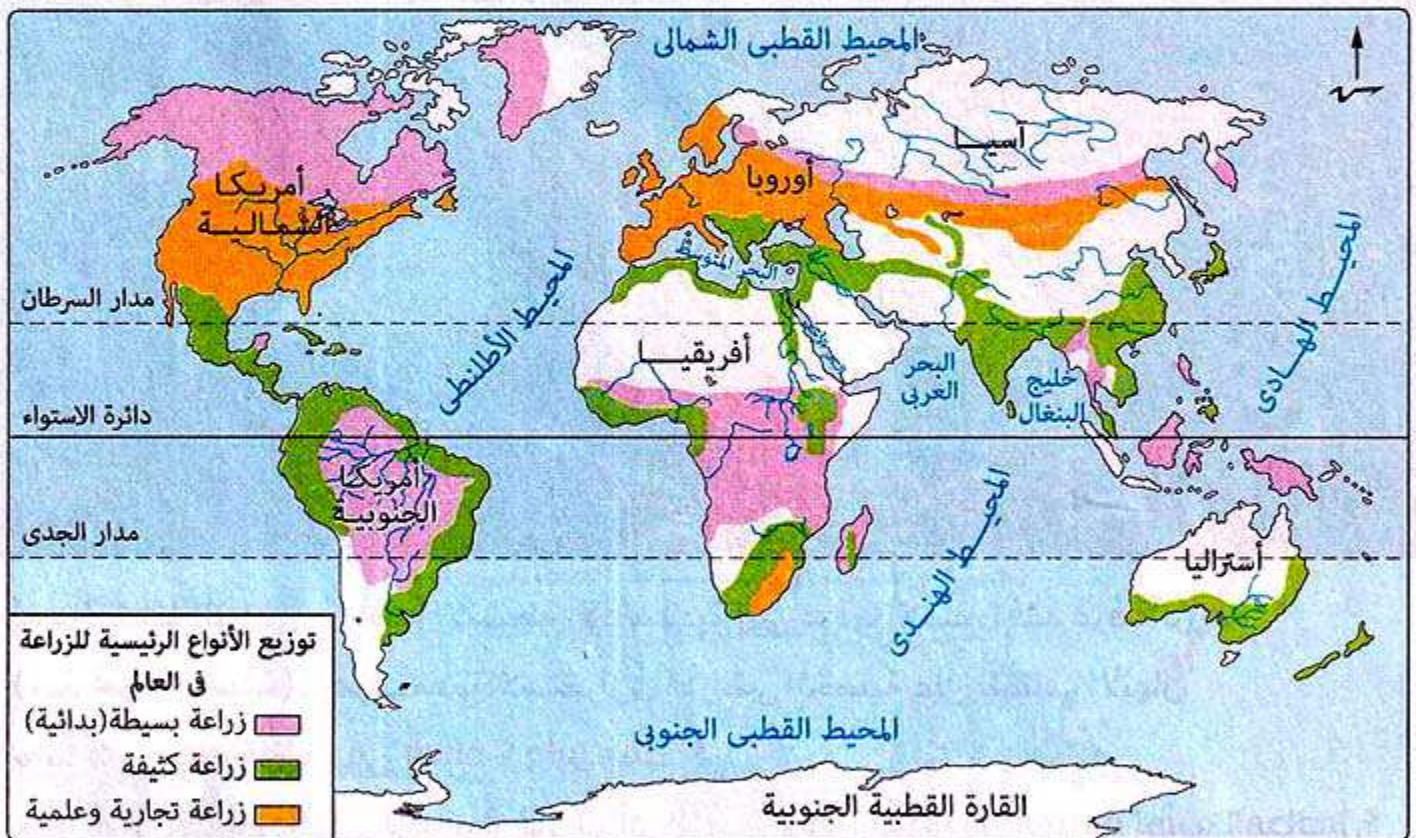


• محاصيل الألياف (القطن والكتان والحبوب) والتي تدخل فى صناعة المنسوجات.



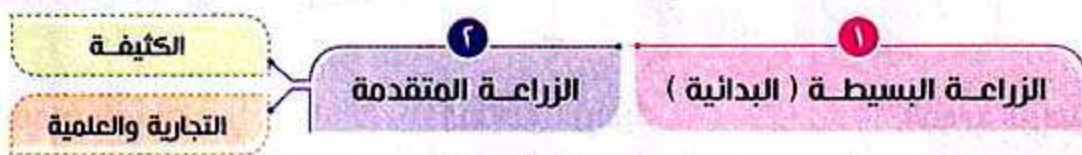
• المطاط الطبيعى الذى يدخل فى صناعة إطارات السيارات.

ثانياً المناطق الزراعية الأساسية فى العالم وأنواع الزراعة بها :



* من الخريطة السابقة يتضح أن : • النشاط الزراعى يسود فى كل قارات ودول العالم تقريباً.

• ينقسم النشاط الزراعى إلى نوعين رئيسيين كما يلى :



فيما يلى نتعرف كل نوع بشئ من التفصيل.



١ الزراعة البسيطة (البدائية)

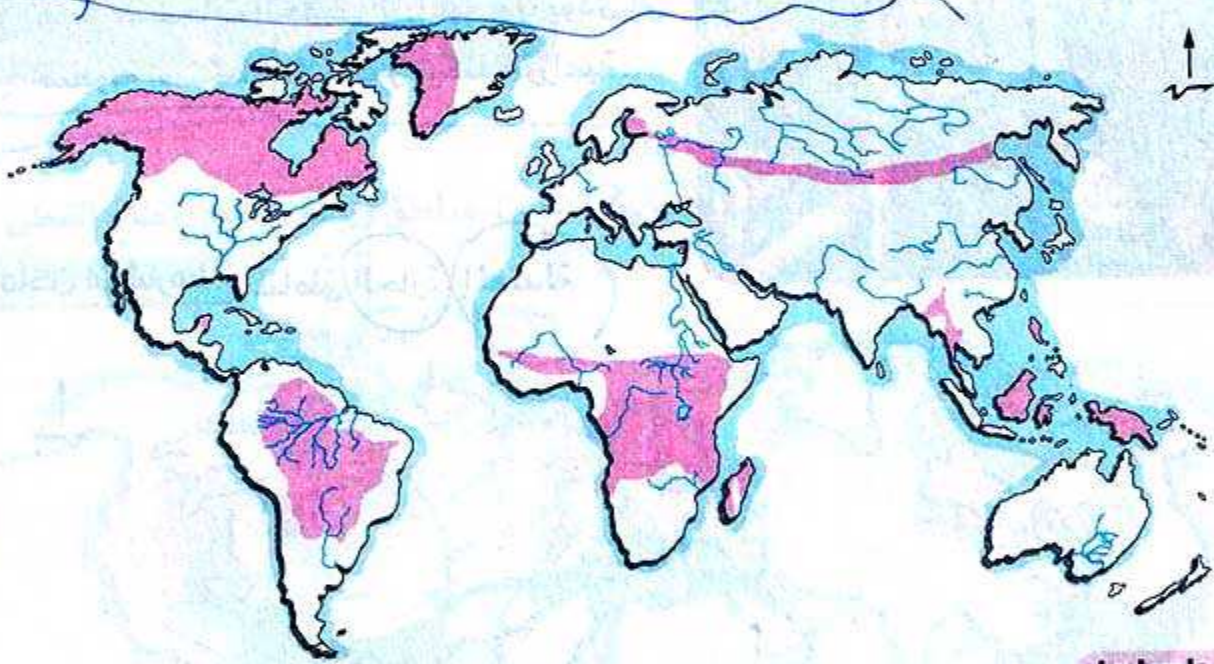
خصائصها

- ١ يعمل بها عدد قليل من سكان العالم.
- ٢ ضيق المساحة المزروعة وتباعدها عن بعضها.
- ٣ تُستخدم فيها أدوات بدائية بسيطة.
- ٤ توفر الاحتياجات الغذائية اللازمة للسكان المحليين دون وجود فائض للتصدير.

أماكن انتشارها

توجد في مناطق صغيرة ومعزولة، كما في:

- المناطق الحارة على هوامش الغابات الاستوائية.
- بعض مناطق حشائش السافانا.



أهم محاصيلها

- الذرة.
- الموز.
- الكسافا.
- اليام.

معلومة إثرائية

نبات ينمو في المناطق ذات المناخ الدافئ وجذوره غنية بالنشويات.

الكسافا



درنات (تشبه البطاطا) تجفف وتطحن لصناعة الخبز في عدد من دول قارة أفريقيا،

مثل : غانا ونيجيريا.

اليام



بم تفسر : عدم دخول الناتج من الزراعة البسيطة في التجارة الدولية ؟

٢ الزراعة المتقدمة نوعان هما :

الزراعة الكثيفة

زراعة الأرض أكثر من مرة في العام الواحد بهدف إشباع حاجة السكان المحليين من الغذاء (للاستهلاك المحلي فقط) وعادة ما توجد في المناطق كثيفة السكان.

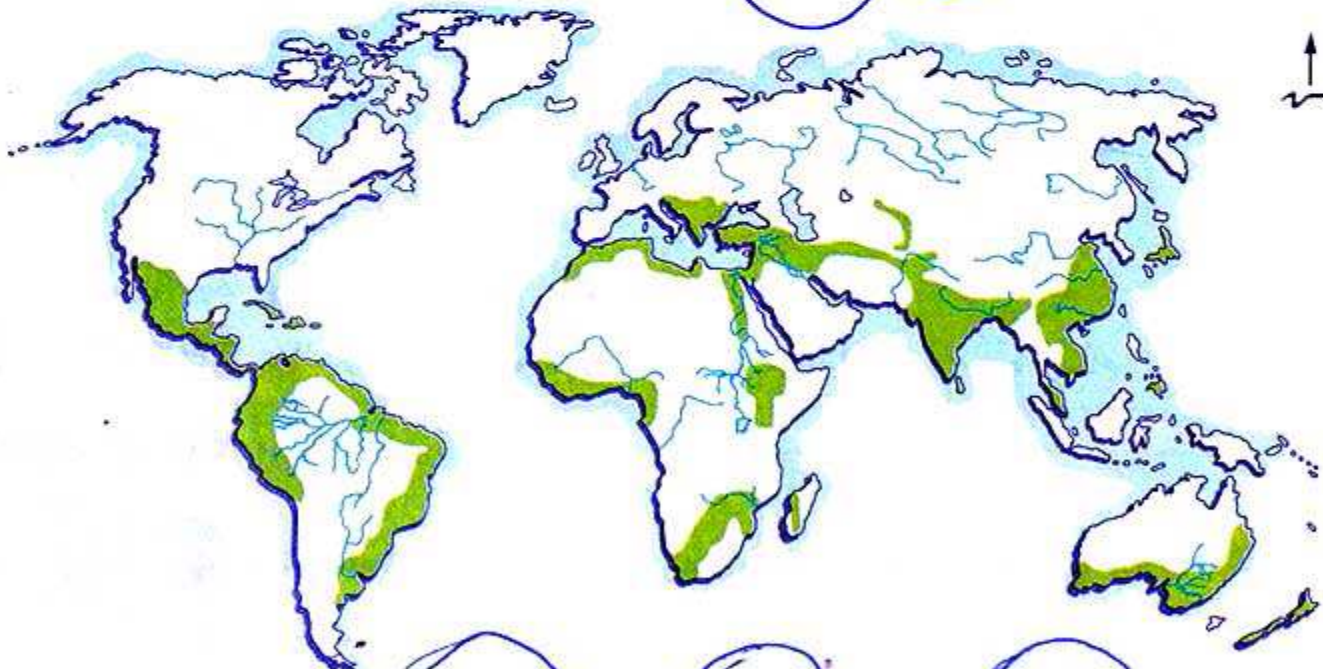
خصائصها

- ١ تتطلب أيدي عاملة وفيرة **بم تفسر؟** لأنها تتم من خلال عمليات عديدة،
مثل: بذر الحبوب، والرى، وتنقية الحشائش.
- ٢ تتم زراعة الأرض أكثر من مرة في العام الواحد بأكثر من محصول.
- ٣ صغر مساحات الحقول الزراعية مما يؤدي إلى صعوبة استخدام الآلات والميكنة الزراعية.



أماكن انتشارها

المناطق الحارة والمعتدلة.



أهم محاصيلها

• القطن.

• الأرز.

• القمح.

اختر: يصعب استخدام الآلات والميكنة الزراعية الحديثة في مناطق الزراعة الكثيفة نتيجة
(صغر المساحات الزراعية - زيادة عدد السكان - قلة خصوبة التربة - صغر مساحة الدولة)



الزراعة التجارية والعلمية

تعرف بالزراعة الواسعة وتهدف إلى الإنتاج التجاري الضخم.

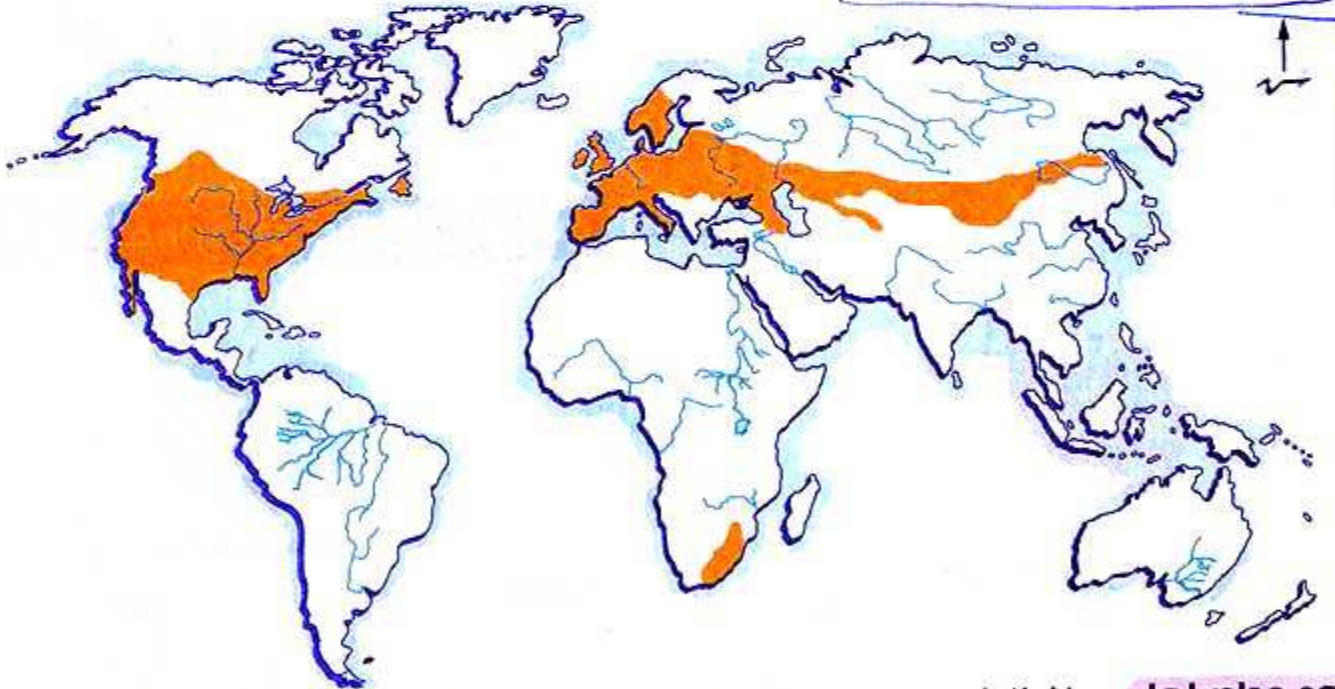
خصائصها

١) تتم في مزارع واسعة (في نطاقات محددة تخصص في محصول معين).

٢) تُستخدم فيها أحدث الآلات الزراعية والطرق العلمية الحديثة **ما النتائج؟** يؤدي ذلك إلى قلة التكاليف وقلة العمالة الزراعية.

أماكن انتشارها

- جنوب شرق آسيا حيث مزارع المطاط والشاي.
- أمريكا الشمالية خاصة الولايات المتحدة الأمريكية حيث مناطق زراعة القمح ونطاق القطن.
- أوروبا حيث مناطق زراعة القمح.



أهم محاصيلها: المطاط. القمح. القطن. الشاي.

اختر: أي من المناطق التالية تسود بها الزراعة التجارية والعلمية ؟
(جنوب آسيا - شرق أمريكا الجنوبية - وسط أوروبا - شمال أفريقيا)

١ تدريب

١ اختر الإجابة الصحيحة مما بين القوسين :

- (١) ضيق المساحات المزروعة وتباعدها عن بعضها إحدى خصائص الزراعة
(الكثيفة - العلمية - البدائية - التجارية)
(٢) تقوم بعض دول العالم ذات الحجم السكاني الكبير بزراعة أرضها أكثر من مرة في العام الواحد وذلك بهدف
(الإننتاج الضخم - تقليل البطالة - توفير الاحتياجات المحلية - تصدير المنتجات الزراعية)
(٣) أدى استخدام الميكنة الحديثة في الزراعة التجارية إلى
(زيادة العمالة الزراعية - زراعة الأرض أكثر من مرة - قلة تكاليف الزراعة - تنوع المحاصيل في نفس النطاق)

٢ بم تفسر: أهمية النشاط الزراعي في العالم ؟

٣ قارن بين :

الزراعة البسيطة	الزراعة الكثيفة	الزراعة التجارية والعلمية
الخصائص
أماكن الانتشار
أهم المحاصيل

اجابات
اسئلة الكتاب
انظر فكرة
الامتحان

ثالثاً الموارد الزراعية في العالم تنقسم إلى :



(*) من الحبوب الغذائية الأخرى : السمسم، وال فول السوداني، والشعير.



تشمل :

المحاصيل الغذائية

الحبوب الغذائية



الذرة

* تُستخدم كغذاء للإنسان (في بعض المناطق) وكعلف للحيوانات.

* ينتج في معظم قارات العالم وتُعد أمريكا الشمالية **أولى** القارات إنتاجًا، وتستخدم معظم الإنتاج كعلف للماشية وتُصدر جزءًا منه للخارج.



القمح

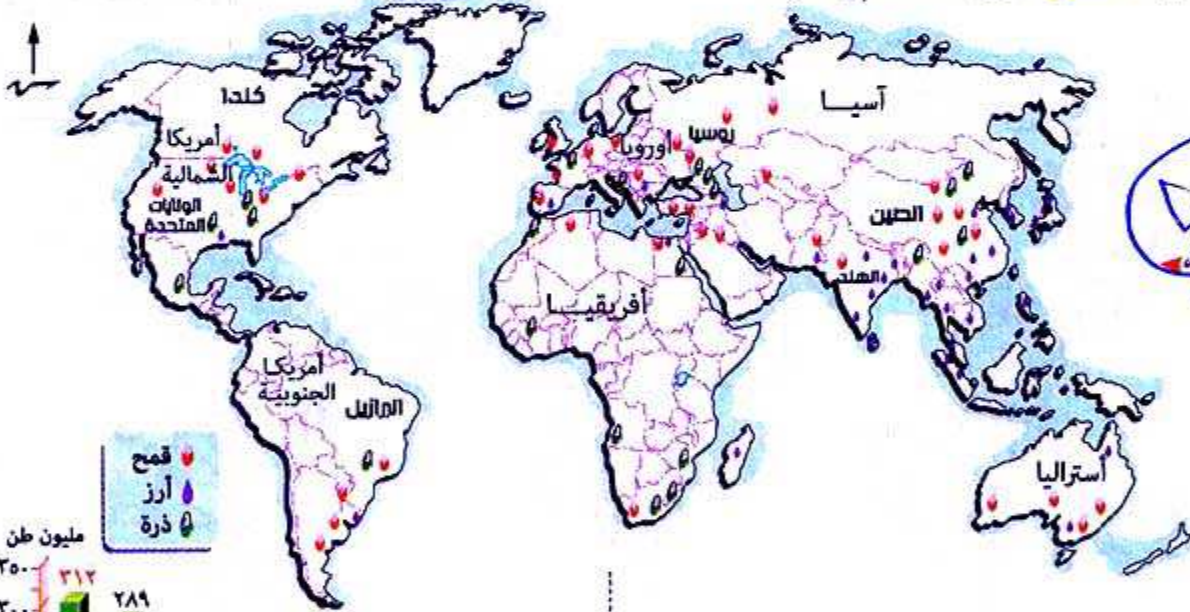
الأهمية

* يُعتبر الغذاء الرئيسي لمعظم شعوب العالم، حيث يُصنع منه الخبز والمكرونة والحلويات.

أهم القارات والدول المنتجة

* ينتج في جميع قارات العالم، وتُعد آسيا **أولى** القارات إنتاجًا، وأهم دولها :

- الصين **أولى** دول العالم إنتاجًا.
- الهند **ثاني** دول العالم إنتاجًا.



الذرة
القمح

توجد أكبر دول العالم إنتاجًا للقمح في

(جنوب أمريكا الشمالية - شمال أفريقيا - جنوب شرق آسيا - غرب أوروبا)

المحاصيل السكرية



البنجر



قصب السكر

الأهمية

* يُعد المحصول الثانى لإنتاج السكر في العالم.

* يُعد المحصول الأول (الرئيسى) لإنتاج السكر في العالم.

أهم القارات والدول المنتجة

* يزرع في المناطق المدارية الحارة حيث يحتاج القصب إلى :

- درجة حرارة مرتفعة .
 - كمية مياه وفيرة .
- لذلك يزرع في جميع القارات ما عدا قارة أوروبا لوقوعها في المنطقة المعتدلة .

* البرازيل أولى دول العالم إنتاجاً .

* تتركز زراعته في :

- أوروبا ، وأهم دولها : فرنسا .
 - أمريكا الشمالية ، وأهم دولها : الولايات المتحدة الأمريكية .
- بسبب ملائمة ظروف المناخ والتربة الزراعية

* أكبر الدول المنتجة في قارة أفريقيا : مصر .



شكل يبين لأهم الدول المنتجة لقصب السكر عام ٢٠١٢م



تعد البرازيل أولى دول العالم إنتاجاً للسكر، تليها الهند والصين.

اختار : القارة التي تعوض خلوها من قصب السكر بزراعة البنجر

(أستراليا - آسيا - أوروبا - أمريكا الشمالية)



القطن

محصول مدارى.

الأهمية

- * إنتاج الخيوط التى تُستخدم فى صناعة أجود أنواع المنسوجات والملابس.
- * يُعد مصدرًا لاستخراج زيت بذرة القطن وصناعة الأعلاف.

أهم القارات والدول المنتجة

- * آسيا أولى القارات إنتاجًا (ثلثي الإنتاج العالمى)، وأهم دولها : الصين . الهند .
- * أمريكا الشمالية ثانياً القارات إنتاجًا .
- * أمريكا الجنوبية ثالث القارات إنتاجًا .
- * أفريقيا رابع القارات إنتاجًا، وأهم دولها : مصر . السودان .



يُعد القطن فى مصر
والسودان من أجود
الأنواع فى العالم

بم
تفسر

لأن معظمه من الأنواع طويلة
التيلة (*).

أقل قارات العالم إنتاجًا لمحصول القطن

(أمريكا الشمالية - أفريقيا - آسيا - أوروبا)

(*) القطن طويل التيلة : يتميز بأليافه الطويلة وبنعومته الفائقة التى تؤهله للاستخدام فى صناعة المنسوجات العالية الجودة بخلاف الفصائل الأخرى من القطن.

٣ محاصيل ذات طبيعة خاصة

المطاط الطبيعي

يستخرج من عصارة أشجار استوائية.

الأهمية

* يصنع منه إطارات السيارات وصناعات أخرى.

أهم القارات والدول المنتجة

* آسيا أولى القارات إنتاجًا، وأهم دولها : تايلاند أولى دول العالم إنتاجًا.
* أفريقيا ثاني القارات إنتاجًا.

معلومة إثرائية

المطاط نوعان :

- المطاط الطبيعي : مادة بيضاء اللون تُستخرج من أشجار استوائية ثم تعالج كيميائيًا.
- المطاط الصناعي : يصنع من مشتقات البترول ويدخل في التجارة الدولية منافسًا للمطاط الطبيعي وتتركز صناعته في دول العالم المتقدمة.

الشاي

* نبات دائم الخضرة.

موطنه الأصلي

* شرق آسيا.

ظروف الزراعة

- * تربة خصبة خفيفة.
- * مناخ حار.
- * هواء رطب.
- * مطر غزير.

أهم الدول المنتجة

* الصين أولى دول العالم إنتاجًا.



اختر : توجد أولى دول العالم إنتاجًا للمطاط الطبيعي وأولى دول العالم إنتاجًا للشاي في قارة
(أفريقيا - آسيا - أمريكا الشمالية - أمريكا الجنوبية)



١ اخترا الإجابة الصحيحة مما بين القوسين :

- (١) احتلت دولة الهند المركز الثاني بين دول العالم إنتاجاً لمحصولي
(القمح وقصب السكر - البنجر والقطن - الذرة والمطاط - القطن والشاي)
(٢) أى من المحاصيل التالية يصعب زراعتها بقارة أوروبا ؟
(البنجر - الذرة - الشاي - القمح)
(٣) أولى دول العالم إنتاجاً للمطاط تقع بقارة (أوروبا - آسيا - أستراليا - أفريقيا)
(٤) تعد الصين أهم دول العالم إنتاجاً للشاي وذلك لتوافر ظروف زراعته ومنها
(المناخ المعتدل - التربة الطينية الثقيلة - درجة الحرارة المرتفعة - الهواء الجاف)

٢ أعد كتابة العبارات الآتية صحيحة بعد تصويب ما بها من خطأ :

(١) أولى قارات العالم إنتاجاً للقمح هي أستراليا.

(٢) تُعد أفريقيا أولى القارات إنتاجاً للذرة وتستخدم معظم إنتاجها كعلف للماشية.

(٣) يزرع المطاط الطبيعي في المناطق ذات المناخ المعتدل.

(٤) يُعد البنجر المحصول الأول لإنتاج السكر في العالم.

(٥) تُعد المغرب أكبر دول أفريقيا إنتاجاً لبنجر السكر.

(٦) أولى دول العالم في إنتاج السكر دولة الهند.

٣ بم تفسر ... ؟

(١) للقمح أهمية كبيرة.

(٢) عدم زراعة قصب السكر في أوروبا.

زراعة الأرض أكثر من مرة في العام الواحد بهدف إشباع حاجة السكان المحليين من الغذاء (للاستهلاك المحلي فقط) وعادة ما توجد في المناطق كثيفة السكان.

النشاط الزراعي في العالم

ينقسم إلى نوعين رئيسيين

الزراعة البسيطة (البدائية)

الزراعة المتقدمة

الزراعة التجارية والعلمية

* تتم في مزارع واسعة (بهدف الإنتاج التجاري الضخم).
* تُستخدم فيها أحدث الآلات الزراعية والطرق العلمية الحديثة مما يؤدي إلى قلة التكاليف وقلة العمالة الزراعية.

* جنوب شرق آسيا (مزارع المطاط والشاي).
* أمريكا الشمالية خاصة الولايات المتحدة الأمريكية (مناطق زراعة القمح والقطن).
* أوروبا (مناطق زراعة القمح).

* المطاط.
* القمح.
* الشاي.
* القطن.

الزراعة الكثيفة

* تتطلب أيدى عاملة وفيرة.
* تتم زراعة الأرض أكثر من مرة في العام الواحد بأكثر من محصول.
* صغر مساحات الحقول الزراعية، لذلك يصعب فيها استخدام الآلات والمكنة الزراعية.

المناطق الحارة والمعتدلة

* الأرز.
* القمح.
* القطن.

خصائصها

* يعمل بها عدد قليل من سكان العالم.
* ضيق المساحة المزروعة وتباعدها عن بعضها.
* تُستخدم فيها أدوات بدائية بسيطة.
* توفر الاحتياجات الغذائية اللازمة للسكان المحليين دون وجود فائض للتصدير.

أماكن انتشارها

* توجد في مناطق صغيرة ومعزولة، كما في:
• المناطق الحارة على هوامش الغابات الاستوائية.
• بعض مناطق حشائش السافانا.

أهم محاصيلها

* الذرة.
* الموز.
* الكسافا.
* اليام.

الموارد الزراعية فى العالم

الأهمية

أهم القارات المنتجة

أهم الدول المنتجة

القمح		الذرة		قصب السكر		البندر	
* يعتبر الغذاء الرئيسى لمعظم شعوب العالم حيث يُصنع منه الخبز والمكرونة والحلويات.		* تستخدم كغذاء للإنسان وكعلف للحيوانات.		* يُعد المحصول الأول (الرئيسى) لإنتاج السكر فى العالم.		* يُعد المحصول الثانى لإنتاج السكر فى العالم.	
* آسيا (أولى القارات).		* أمريكا الشمالية (أولى القارات).		* يُزرع فى المناطق المدارية الحارة بكل قارات العالم ما عدا قارة أوروبا لوقوعها فى المنطقة المعتدلة.		* أوروبا.	
* الصين (أولى دول العالم).		* الهند (ثانى دول العالم).		* البرازيل (أولى دول العالم).		* فرنسا.	
* مصر (أولى دول أفريقيا إنتاجاً).		* الولايات المتحدة الأمريكية.		* مصر (أولى دول أفريقيا إنتاجاً).		* الصين.	
* الهند.		* السودان.		* الصين.		* مصر.	
* إنتاج الخيوط التى تُستخدم فى صناعة أجود أنواع المنسوجات والملابس.		* مصدرًا لاستخراج زيت بذرة القطن وصناعة الأعلاف.		* آسيا (أولى القارات).		* أمريكا الشمالية (ثانى القارات).	
* أمريكا الجنوبية (ثالث القارات).		* أفريقيا (رابع القارات).		* آسيا (أولى القارات).		* أفريقيا (ثانى القارات).	
* يصنع منه إطارات السيارات وصناعات أخرى.		* آسيا (أولى القارات).		* أفريقيا (ثانى القارات).		* تايلاند (أولى دول العالم).	
* تربية خصبية خفيفة.		* مناخ حار.		* الظروف الزراعية		* الصين (أولى الدول إنتاجاً).	
* موطنه الأصلي		* هواء رطب.		* مطر غزير.		* أهم الدول المنتجة	
* شرق آسيا.		* الشاي		المطاط الطبيعي		* تايلاند (أولى دول العالم).	



١ اختر الإجابة الصحيحة من بين البدائل الآتية :

- (١) ارتبط استقرار الإنسان على سطح الأرض بحرفة
- (٢) تعد من أهم محاصيل الزراعة المتقدمة بنوعيتها
- (٣) تتشابه الزراعة البدائية والكثيفة في
(القمح والقطن - الأرز والذرة - القطن والشاي - اليام والقمح)
(ضيق المساحات المزروعة وتباعدها - احتياجها لأيدى عاملة وفيرة - توفير الاحتياجات المحلية - تعدد العمليات الزراعية)
- (٤) تقل التكاليف في الزراعة التجارية والعلمية بسبب
(تعدد عمليات الزراعة - استخدام التكنولوجيا الحديثة - كثرة الأيدى العاملة - اتساع مساحة الأراضي)
- (٥) أي قارة من القارات التالية توجد بها أولى دول العالم في إنتاج السكر؟



د



ج



ب



أ

- (٦) أي مما يلي من المحاصيل الزراعية التجارية ويتم زراعتها في الولايات المتحدة الأمريكية ؟
(المطاط والقمح - القمح والقطن - المطاط والذرة - الشاي والقطن)
- (٧) يُعد من الموارد الزراعية الرئيسية والأهم للإنسان
(الألياف النسيجية - المحاصيل السكرية - المحاصيل ذات الطبيعة الخاصة - الحبوب الغذائية)
- (٨) من أهم محاصيل الألياف
(القطن - الذرة - الشاي - المطاط) (الجيزة ١٩)
- (٩) من المحاصيل ذات الطبيعة الخاصة
(القمح - القطن - البن - الأرز) (الإسماعيلية ٢١)

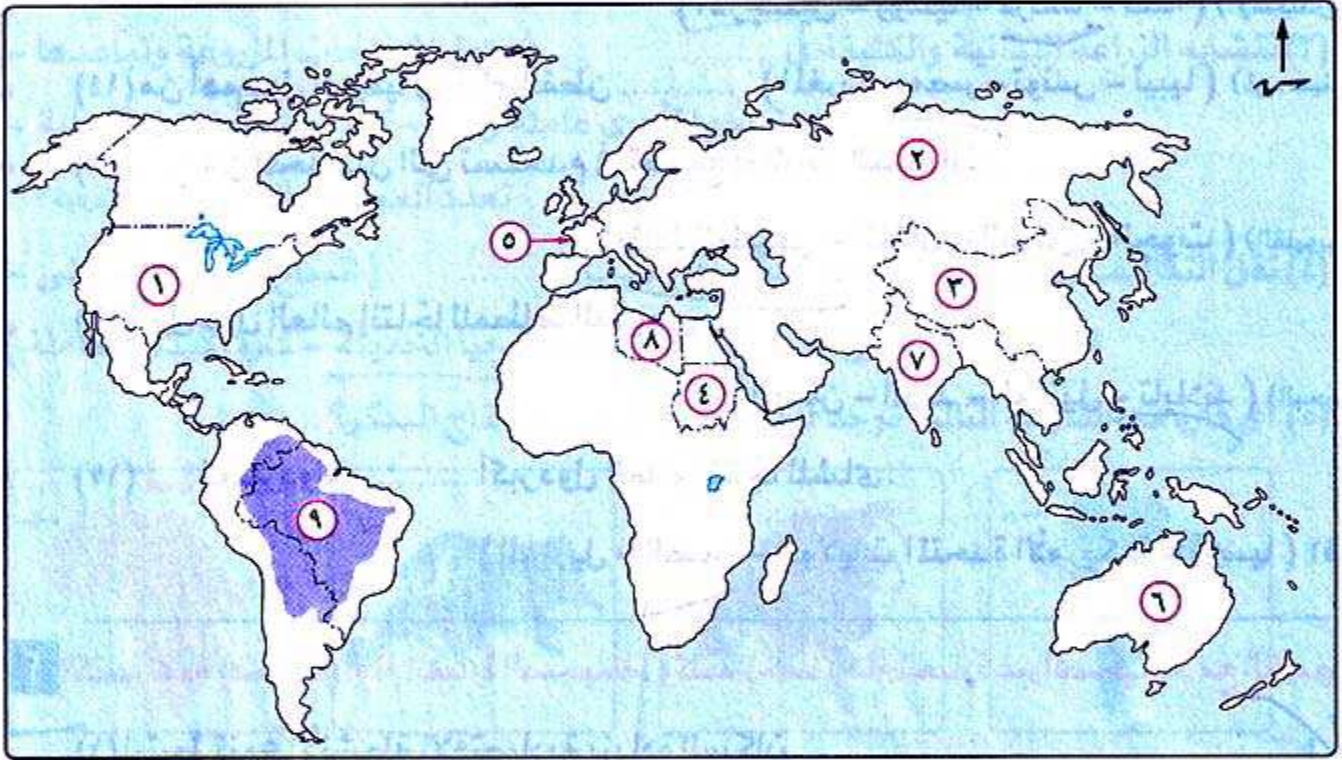
- (١٠) يتشابه محصول القمح ومحصول الذرة في
(تصنيفهما كغذاء غير مباشر للإنسان - المناخ الملائم لزراعتهما -
انتشارهما في معظم القارات - أهميتهما الاقتصادية)
- (١١) تأتي في المرتبة الأولى إنتاجًا للذرة
(أمريكا الجنوبية - أمريكا الشمالية - أفريقيا - أستراليا) (الإسكندرية ٢١)
- (١٢) تختفى زراعة قصب السكر في قارة (أوروبا - أستراليا - أفريقيا - آسيا) (الشرقية ١٨)
- (١٣) تتركز زراعة البنجر في قارة أوروبا وأهمها دولة
(الأرجنتين - روسيا - فرنسا - كندا) (الإسكندرية ٢١)
- (١٤) من أهم دول أفريقيا في إنتاج القطن (المغرب - مصر - تونس - ليبيا) (ش. سيناء ٢١)
- (١٥) من المحاصيل التي تستخدم في تصنيع إطارات السيارات
(المطاط الطبيعي - الكتان - القطن - الجوت) (القليوبية ٢١)
- (١٦) أولى دول العالم إنتاجًا للمطاط الطبيعي
(الصين - الهند - البرازيل - تايلاند) (البحيرة ٢١)
- (١٧) تعتبر دولة أكبر دول العالم إنتاجًا للشاي.
(البرازيل - الصين - الولايات المتحدة الأمريكية - روسيا) (قنا ١٤)

٢ اكتب كلمة (صواب) أمام العبارة الصحيحة، وكلمة (خطأ) أمام العبارة غير الصحيحة، مع التصويب :

- (١) ارتبط تنوع الأنشطة الاقتصادية بزيادة السكان. (✓)
- (٢) تسود الزراعة الكثيفة في المناطق الحارة على هوامش الغابات الاستوائية. (X)
- (٣) تساهم الزراعة الواسعة بنصيب كبير في التجارة الدولية. (✓)
- (٤) تنتشر الزراعة التجارية والعلمية في كل قارات العالم. (X)
- (٥) يزرع المطاط والشاي بمناطق الزراعة التجارية في جنوب شرق آسيا. (✓)
- (٦) تحتل دولة الصين المركز الأول في إنتاج القمح. (✓)
- (٧) تُعد قارة آسيا أكبر قارات العالم إنتاجًا للقمح. (✓)
- (٨) تُعد الهند من أكبر الدول إنتاجًا لقصب السكر في العالم. (X)

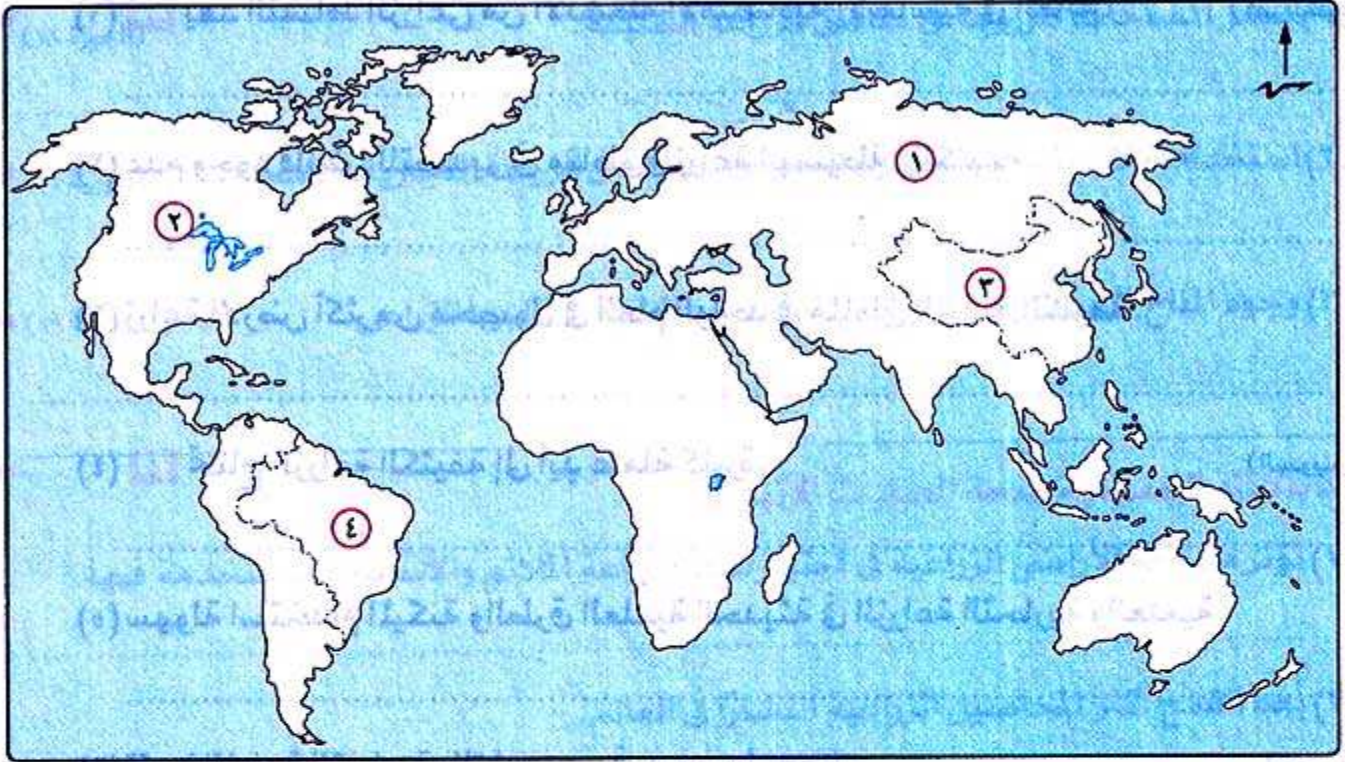
- (٩) تنتج بعض الدول الأوروبية السكر بالرغم من عدم توافر ظروف زراعة قصب السكر. (✓)
- (١٠) تتركز زراعة القطن في قارة آسيا وتعد الهند من أكبر الدول المنتجة له. (✓)
- (١١) يُعد القطن المصري من أجود الأنواع التي تنتج في العالم. (✓)
- (١٢) يستخرج المطاط من عصارة أشجار استوائية وتعد أمريكا الجنوبية أولى القارات المنتجة له. (✓)
- (١٣) تحتاج زراعة الشاي إلى تربة خصبة خفيفة وهواء رطب. (✓)

٣ استعن بخريطة العالم التي أمامك، وأجب عما يأتي :



- (١) يشير رقم ٣ إلى ثالث دول العالم في إنتاج السكر وهي دولة
- (٢) يمثل الرقم أهم دول أوروبا في زراعة البنجر.
- (٣) يمثل الرقم ثاني قارات العالم إنتاجاً لمحصول القطن.
- (٤) أولى دول العالم إنتاجاً للمطاط توجد في القارة رقم
- (٥) الرقم يمثل إحدى أهم الدول الأفريقية إنتاجاً للقطن.
- (٦) ثاني دول القارة الآسيوية في إنتاج القمح يمثل الرقم
- (٧) نوع الزراعة السائد في المنطقة رقم ٩

٤ أمامك خريطة للعالم استعن بالأرقام التي عليها، وأكمل الجدول الذي يليها :



أولى قارات العالم في إنتاج و و	١ قارة
أولى قارات العالم في إنتاج	٢ قارة
أولى دول العالم في إنتاج و	٣ دولة
أولى دول العالم المنتجة لـ و	٤ دولة

٥ اكتب المصطلح الجغرافي لكل عبارة مما يأتي :

(١) زراعة يعمل بها عدد قليل من سكان العالم في مناطق صغيرة ومعزولة.

(سوهاج ٢١) (.....)

(٢) زراعة الأرض أكثر من مرة في العام الواحد لإشباع حاجة السكان

المحليين من الغذاء. (البحر الأحمر ٢١) (.....)

(٣) تعرف بنظام الزراعة الواسعة وتهدف للإنتاج التجاري الضخم.

(ج. سيناء ١٥) (.....)

٦ بم تفسر...؟

(١) يُعد النشاط الزراعي من الأنشطة الاقتصادية الأساسية في العالم. (كفرالشيخ ٢١)

(٢) عدم وجود فائض للتصدير في مناطق الزراعة البسيطة والكثيفة.

(٣) زراعة الأرض أكثر من محصول في العام الواحد في مناطق الزراعة الكثيفة.

(٤) تحتاج الزراعة الكثيفة إلى أيدي عاملة كثيرة. (السويس ٢١)

(٥) سهولة استخدام الميكنة والطرق العلمية الحديثة في الزراعة التجارية والعلمية.

(٦) تتميز الزراعة التجارية بالتخصص في محصول معين. (الغربية ١٣)

(٧) قلة التكاليف وقلة العمالة الزراعية في الزراعة التجارية والعلمية. (الإسكندرية ٢١)

(٨) تجود زراعة قصب السكر في البرازيل.

(٩) تخلقارة أوروبا من زراعة المطاط الطبيعي.

(١٠) شهرة قارة أوروبا بإنتاج السكر من بنجر السكر. (الشرقية ١٣)

(١١) لإنتاج القطن في مصر والسودان أهمية خاصة.

(١٢) تركّز زراعة الشاي في دول شرق آسيا. (الإسماعيلية ١٩)

٧ ما النتائج المترتبة على ... ؟

- (١) صغر المساحات المزروعة في مناطق الزراعة الكثيفة. (الجيزة ١٨)
- (٢) استخدام الآلات الزراعية والطرق العلمية الحديثة في الزراعة التجارية والعلمية. (القليوبية ٢١)
- (٣) وجود المناخ الاستوائي والمدارى في قارة آسيا بالنسبة لإنتاجها الزراعى. (الدقهلية ١٩)

٨ أيد بالأدلة الجغرافية صحة العبارات الآتية :

- (١) تؤثر مساحة الأراضي الزراعية في اختيار نمط الزراعة الملائم والأساليب المستخدمة فيها.
- (٢) يُعد القمح أكثر المحاصيل الزراعية انتشارًا في العالم.
- (٣) ترتبط بعض الصناعات بالإنتاج الزراعى.

٩ قارن بين :

- (١) الزراعة البسيطة، والزراعة الكثيفة، من حيث :
 * أماكن الانتشار. * الخصائص. * أهم المحاصيل. (مطروح ٢١)

(بورشيد ١٤)

(٢) قصب السكر، والشاي، من حيث :

* ظروف الزراعة. * أولى دول العالم إنتاجاً له.

(٣) القطن، والمطاط الطبيعي، من حيث :

* الأهمية. * أولى القارات المنتجة. * أهم الدول المنتجة.

١٠ «عرف الإنسان الزراعة منذ أقدم العصور وكانت سبباً في استقراره على ضفاف الأنهار».

في ضوء ذلك، وضّح :

(١) خصائص الزراعة التجارية والعلمية.

(ج. سيناء ١٤)

(٢) مقترحاتك لتحقيق مصر الاكتفاء الذاتي من إنتاج المحاصيل الغذائية.

١١ «القمح والذرة من الحبوب الغذائية المهمة في العالم». في ضوء ذلك، حدد :

(١) أهمية كل منهما.

(٢) أولى قارات العالم المنتجة لكل منهما.



١٢ اختر الإجابة الصحيحة من بين البدائل التالية :

(١) أى من الدول الموضحة على الخريطة
المقابلة يزرع بها القطن في نطاقات محددة
كأحد محاصيل الزراعة الواسعة ؟

- أ دولة ١
- ب دولة ٢
- ج دولة ٣
- د دولة ٤

(٢) أى من الدولة التالية يتوفر بها زراعة قصب السكر ؟

(الأرجنتين - فرنسا - تركيا - كندا)

(٣) كان الهدف الرئيسى لممارسة الإنسان لنشاطه الاقتصادى فى الماضى

(تحقيق حاجاته الثانوية - إقامة علاقات تجارية - العمل على تعمير الكون -

تحقيق حاجاته الأولية)

(٤) تُعد حرفة الصيد أكثر ملائمة كأول نشاط إنسانى على سطح الأرض بسبب

(مهارة الإنسان واتساع خبراته - قلة الأراضي الزراعية الخصبة -

توافر المعدات والأدوات - سرعة الحصول على الإنتاج)

(٥) السبب الأساسى فى اختلاف محاصيل الزراعة التجارية والعلمية من قارة إلى أخرى هو

(تنوع المناخ - نوع الآلات المستخدمة - اختلاف خصوبة التربة - تنوع المساحة المزروعة)

(٦) السبب الرئيسى فى احتلال قارة أمريكا الشمالية المركز الأول فى إنتاج الذرة

(وفرة الظروف الملائمة لزراعتها - وفرة الأيدي العاملة -

اتباع الزراعة التجارية والعلمية - ارتفاع معدل خصوبة التربة)

١٣ بم تفسر ... ؟

(١) تزرع مصر قصب السكر وبنجر السكر.

(٢) تُعد زراعة القطن في مصر من الزراعات الكثيفة، بينما في الولايات المتحدة الأمريكية من الزراعات التجارية والعلمية.

١٤ ما النتائج المترتبة على :

وقوع معظم قارة أفريقيا في المناطق المناخية الحارة (بالنسبة للنشاط الزراعي) ؟

١٥ حدد العلاقة بين : زراعة القطن، والثروة الحيوانية.

١٦ حدد تقييمك لمصادقية العبارة الآتية :

يمكن التوسع في زراعة المطاط الطبيعي في كل قارات العالم.

١٧ من خلال الصور الآتية استنتج :



(٣)



(٢)



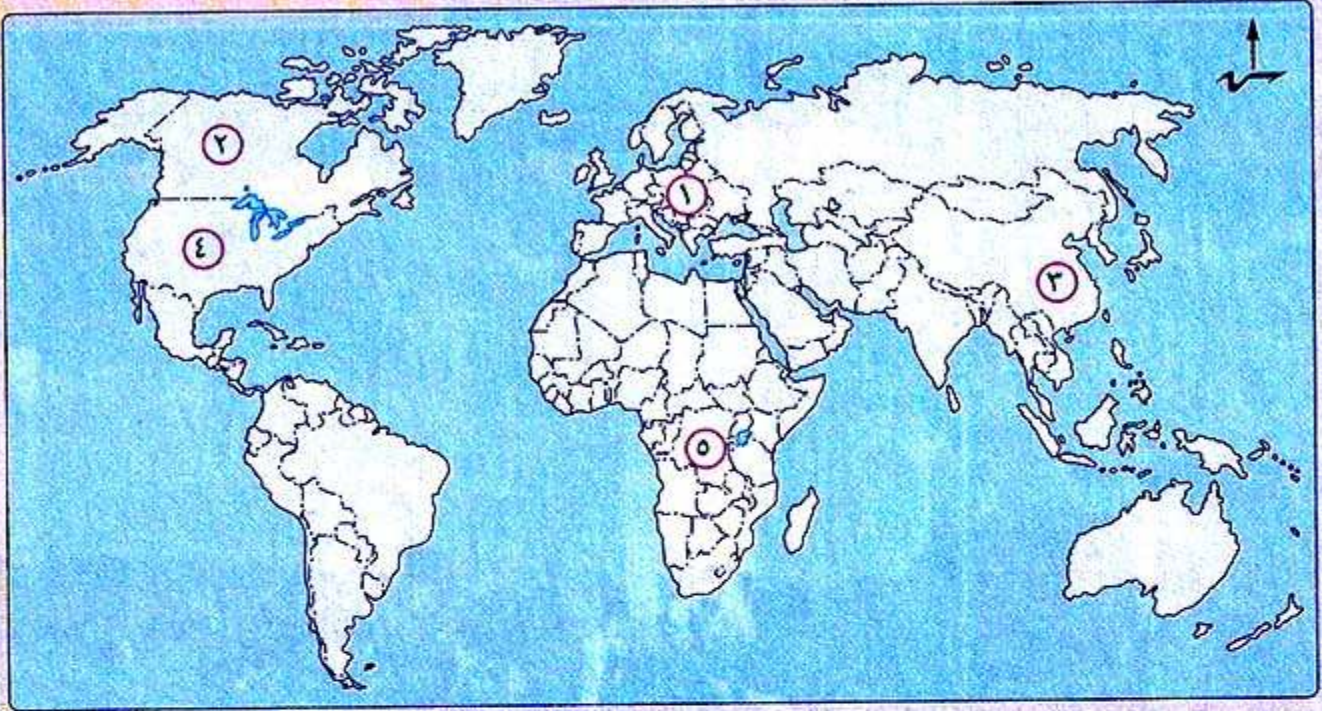
(١)

(أ) أعلى أنواع الزراعة تكلفة مقابل الإنتاج تتمثل في الصورة رقم

(ب) أعلى أنواع الزراعة دخلاً تتمثل في الصورة رقم

(ج) نوع الزراعة الذي يتركز معظمه في نصف الكرة الأرضية الشمالي يتمثل في الصورة رقم

١٨ أمامك خريطة صماء للعالم، في ضوءها أجب عما يلي :




(أ) حدد أوجه الشبه والاختلاف بين الزراعة المنتشرة في المنطقة رقم (٥)، والمنطقة رقم (٣).

(ب) أى الأرقام على الخريطة تمثل مناطق الزراعة المعتمدة على الآلات الحديثة ؟

١٩ حدد اسم المحصول الذى يدخل فى صناعة كل منتج من المنتجات التالية :

(٦)	(٥)	(٤)	(٣)	(٢)	(١)
..... (٢) (١) (٣) (٥) (٤) (٦)



تنتشر الحشائش التى تصلح كمراع طبيعية لرعى الحيوانات فى كثير من دول العالم والتى يستفيد منها الإنسان فى توفير احتياجاته من منتجات اللحوم والألبان والجلود والأصواف، وكذلك يحصل الإنسان على الثروة السمكية من المسطحات المائية المختلفة،

- ما هى أهم مناطق الرعى فى العالم ؟ وما هى أنواع النشاط الرعى ؟
- ما هى أهم الموارد الحيوانية وأهم الدول المنتجة لها ؟
- أين توجد مناطق تركيز الثروة السمكية فى العالم ؟

فى هذا الدرس نتعرف

الموارد الحيوانية
فى العالم، وتشمل :

- الثروة الحيوانية
- الدواجن • الأسماك

النشاط الرعى،
ويشمل :

- الرعى البدائى (التقليدى)
- الرعى التجارى



النشاط الرعوى

* يرتبط النشاط الرعوى (تربية الحيوانات) بمناطق الحشائش في العالم، ومنها :

الحشائش الطويلة (السافانا)

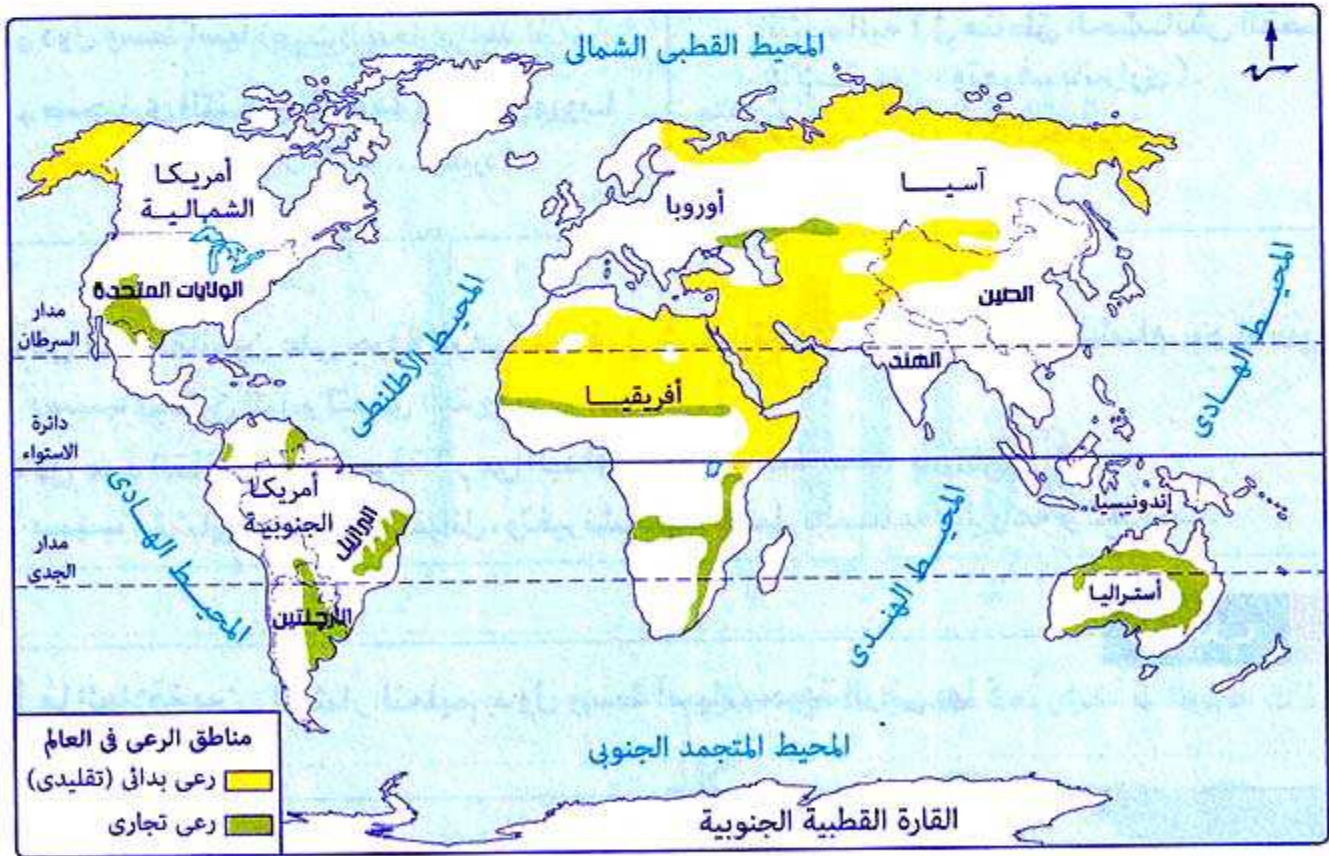


و

الحشائش القصيرة (الإستبس)



أنواع النشاط الرعوى في العالم



* بدراسة الخريطة السابقة نجد أن النشاط الرعوى في العالم ينقسم إلى :

الرعى التجارى



- * يعتمد على الأساليب العلمية الحديثة لإنتاج الألبان واللحوم حيث يرعى كل نوع من الحيوانات في مزارع خاصة به دون الاختلاط بحيوانات أخرى .
- * يمارس في مناطق حشائش الإستبس والسافانا بقارات العالم ويسود في :
 - الولايات المتحدة الأمريكية وأمريكا الشمالية (في مناطق الحشائش القصيرة «الإستبس» وتعرف بالبرارى).
 - الأرجنتين وأمريكا الجنوبية.
 - أستراليا.

الرعى البدائى (التقليدى)



- * يمارسه غالبًا سكان المناطق الصحراوية في مساحات واسعة بقارات العالم، كما في :
 - الصحارى الحارة بـ :
 - شبه الجزيرة العربية وبادية الشام بآسيا.
 - شمال أفريقيا.
 - دول وسط آسيا (حيث الصحارى المعتدلة).
 - صحارى التندرا الباردة بآسيا وأوروبا (حيث يرعى حيوان الرنة ... وغيره).

❗ * قل عدد القائمين على حرفة الرعى البدائى فى شبه الجزيرة العربية وبادية الشام **بم تفسر؟** بسبب توطين البدو لتدفق البترول.

* قل عدد القائمين على حرفة الرعى البدائى فى دول وسط آسيا **بم تفسر؟** بسبب انتشار التعليم بين القبائل، وتغير نشاطهم للعمل بالصناعة والزراعة والخدمات.

١ تدريب

١ ما العلاقة بين : انتشار التعليم بدول وسط آسيا، وحرفة الرعى بها ؟

٢ صوب ما تحته خط :

- (١) يمارس الرعى التجارى فى شبه الجزيرة العربية وبادية الشام. (.....)
- (٢) يسود الرعى التجارى فى الولايات المتحدة وأستراليا وشمال أفريقيا. (.....)



أولاً الثروة الحيوانية

* تُعد الثروة الحيوانية المصدر الرئيسى لإنتاج اللحوم والألبان بجانب الجلود والصوف وغيرها.
* من أهم أنواعها :


الأغنام



• تربي من أجل لحومها وأصوافها.

بسبب توافر الحشائش {
• الصين **أولى** دول العالم.
• الهند. • أستراليا.
(ترتبط تربيتها بمناطق
المراعى التجارية الواسعة)

شكل يبين الأعداد الأغنام فى الدول الرئيسية لعام ٢٠١٢م



الأبقار




الأهمية

• تُعد المصدر الرئيسى للحوم الحمراء لغالبية سكان العالم وتدخل بنسبة كبيرة فى التجارة الدولية.

أهم القارات والدول المربية

• آسيا **أولى** قارات العالم، وأهم دولها : الهند.
• أمريكا الجنوبية **ثانى** قارات العالم.

شكل يبين الأعداد الأبقار فى قارات العالم لعام ٢٠١٢م



◀ هناك حيوانات أخرى تُعد مصدراً للحوم، مثل :



الزينة



الخنزير



الماعز



الإبل



الجاموس

الإنتاج الحيوانى فى العالم (المنتجات الحيوانية)

أهم الدول المنتجة على الترتيب	الأهمية	
① الصين معظم إنتاجها من لحوم الخنازير. ② الولايات المتحدة الأمريكية.	المنتج الحيوانى الرئيسى.	اللحوم الحمراء 
① الهند. ② الولايات المتحدة الأمريكية.	ثانى منتج حيوانى رئيسى (بعد اللحوم الحمراء).	الألبان 
① أستراليا لوجود أغنام المارينو الشهيرة بغزارة الصوف. ② الصين.	يُعد صوف الأغنام مادة خام أساسية لصناعة نسيج الصوف.	الأصواف 
تقوم عليها صناعة دبغ الجلود وتصنيعها فى شكل منتجات جلدية متعددة.		الجلود 

- !!
- * يدخل نحو ٨٪ من الإنتاج العالمى للحوم الحمراء فى التجارة العالمية.
 - * زاد معدل الاستهلاك العالمى للحوم الحمراء **بم تفسر؟**
 - بسبب ارتفاع مستوى المعيشة فى كثير من دول العالم.
 - * تنتج مصر من الألبان نحو ٦ مليون طن سنوياً وإنتاجها لا يكفى السكان بسبب زيادة السكان وزيادة الاستهلاك.

٢ تدريب

١ اختر الإجابة الصحيحة مما بين القوسين :

- (١) تعد أولى قارات العالم المربية للأبقار
 (أمريكا الشمالية - آسيا - أوروبا - أمريكا الجنوبية)
 (٢) أى من الدول التالية تعد الأولى فى إنتاج اللحوم الحمراء بالعالم ؟
 (الولايات المتحدة الأمريكية - الهند - الصين - أستراليا)

٢ صوب الخطأ فى كل عبارة من العبارات الآتية :

- (١) ترتبط تربية الأغنام بمناطق الصحارى الباردة. (.....)
 (٢) تُعد الصين أولى دول العالم إنتاجاً للألبان. (.....)

٣ ما وجه الارتباط بين : مستوى معيشة الأفراد، والاستهلاك العالمى للحوم الحمراء ؟



ثانياً الدواجن

الأهمية

* تساهم بمنتجاتها من اللحوم والبيض في سد حاجة سكان العالم من الغذاء.

أهم الدول المنتجة

* الولايات المتحدة الأمريكية **أولى** دول العالم إنتاجاً.
* الصين **ثاني** دول العالم إنتاجاً.



ثالثاً الأسماك

الأهمية

* تمثل غذاءً رئيسياً لكثير من سكان العالم خاصة في المناطق الساحلية على البحار والمحيطات.

العوامل التي تساعد على تطور حرفة صيد وتربية الأسماك

عوامل طبيعية

- ① ضخالة المياه الساحلية وغناها بالمواد الغذائية.
- ② التقاء التيارات البحرية الدافئة مع الباردة (*).
- ③ توافر الموانئ لرسو سفن الصيد.

عوامل بشرية

- ④ توافر الخبرات الفنية والعلمية في صناعة المراكب وأدوات الصيد والثلاجات.
- ⑤ التوسع في تربية الأسماك على أسس علمية حديثة.

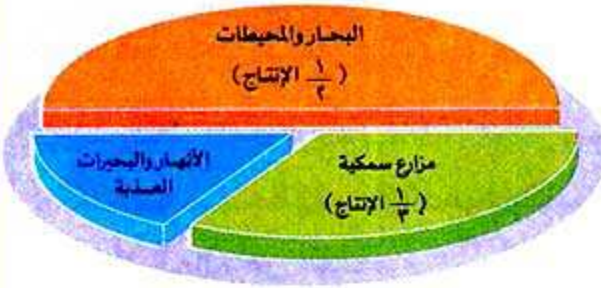
مناطق صيد الأسماك في العالم

* ساعد توافر العوامل الطبيعية والبشرية على تطور حرفة الصيد بمصايد الأسماك المنتشرة على سواحل القارات كما في :

- سواحل شمال غرب أوروبا.
- سواحل أمريكا الجنوبية.
- سواحل أمريكا الشمالية.
- سواحل شرق وجنوب شرق آسيا.

(*) التقاء التيارات البحرية الدافئة مع الباردة، يؤدي إلى تحريك الغذاء السمكي من القاع نحو السطح فتتجمع الأسماك لتتغذى عليه.

مصادر الإنتاج العالمي من الأسماك



- * نصف الإنتاج العالمي يأتي من أسماك المياه المالحة بالمحيطات والبحار.
- * ثلث الإنتاج العالمي يأتي من مزارع تربية الأسماك المنتشرة في العديد من دول العالم.
- * باقى الإنتاج يأتي من أسماك المياه العذبة (الأنهار والبحيرات العذبة).

أهم الدول المنتجة للأسماك

* الصين أولى دول العالم إنتاجاً حيث تنتج أكثر من ثلث الإنتاج العالمي **بم تفسر؟** بسبب توافر:

- ١ مصائدها على المحيط الهادى، والأنهار، والبحيرات.
- ٢ مزارع تربية الأسماك.

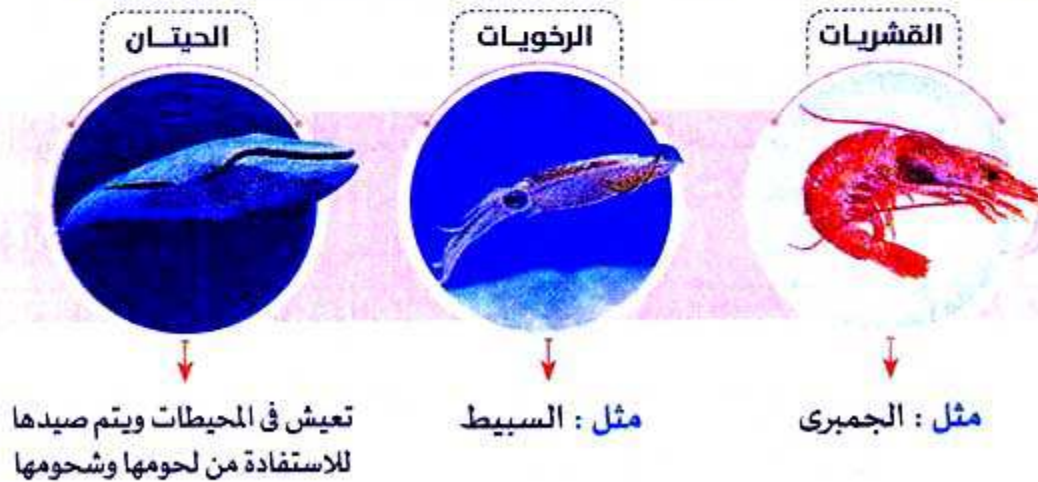
تليان الصين فى الإنتاج ويرجع ذلك إلى :
 • طول السواحل على البحار والمحيطات.
 • تقدم وسائل الصيد.

- * إندونيسيا.
- * الولايات المتحدة الأمريكية.

أهم الدول المصدرة للأسماك

- * الصين.
- * النرويج.
- * تايلاند.

◀ توجد أنواع من الأحياء البحرية بجانب الأسماك تستخدم كغذاء للإنسان، منها :



أيد صحة العبارة الآتية : تعد سواحل شرق وجنوب شرق آسيا من أغنى المصايد السمكية فى العالم.



٣

تدريب

١ اختر الإجابة الصحيحة مما بين القوسين :

- (١) توجد أولى دول العالم إنتاجًا للدواجن بقارة
(آسيا - أمريكا الجنوبية - أوروبا - أمريكا الشمالية)
(٢) أى من الدول التالية تُعد من الدول الرئيسية في تصدير الأسماك ؟
(تركيا - النرويج - إندونيسيا - الولايات المتحدة الأمريكية)
(٣) أكبر الدول الآسيوية إنتاجًا للأسماك لتنوع مصائد ما
(إندونيسيا - الهند - الصين - تايلاند)

٢ اكتب كلمة (صواب) أمام العبارة الصحيحة، وكلمة (خطأ) أمام العبارة غير الصحيحة، مع ذكر السبب في الحالتين :

- (١) تُعد الأسماك غذاءً رئيسيًا في المناطق الساحلية بقارات العالم. ☐
-
- (٢) يأتي كل الإنتاج السمكي في العالم من مياه المحيطات والبحار. ☐
-
- (٣) الأسماك هي الكائنات البحرية الوحيدة التي تصلح للغذاء. ☐
-

٣ بم تفسر ... ؟

- (١) توافر المصايد السمكية بسواحل شمال غرب أوروبا.
- (٢) الأهمية الاقتصادية لمزارع تربية الأسماك في العالم.
- (٣) تُعد إندونيسيا والولايات المتحدة الأمريكية أهم الدول المنتجة للأسماك بعد الصين.

اجابات
اسئلة الكتاب
الظر مفكرة
الامتحان

أهم نقاط الدرس

الرعى التجارى

* رعى يعتمد على الأساليب العلمية الحديثة لإنتاج اللحوم والألبان ويرعى كل نوع من الحيوانات في مزارع خاصة به دون الاختلاط بحيوانات أخرى.	
* مناطق حشائش الإستبس والسافانا بقارات العالم، ويسود في : • الولايات المتحدة الأمريكية في مناطق الحشائش القصيرة (الإستبس) والتي تعرف بالبرارى. • الأرجنتين بأمريكا الجنوبية. • أستراليا.	

الرعى البدائى (التقليدى)

* رعى يمارسه غالبًا سكان المناطق الصحراوية في مساحات واسعة بقارات العالم.	
* الصحارى الحارة في : شبه الجزيرة العربية وبادية الشام بآسيا. • شمال أفريقيا. * دول وسط آسيا (حيث الصحارى المعتدلة). * صحارى التندرا الباردة بآسيا وأوروبا.	يتركز في

الأهمية

المنتجات الحيوانية

أهم القارات و الدول المربية

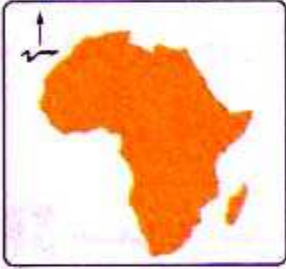
الأهمية

أهم الدول المنتجة على الترتيب	الأهمية	المنتجات الحيوانية	أهم القارات و الدول المربية	الأهمية	الأبقار
(١) الصين. (٢) الولايات المتحدة.	* المنتج الحيوانى الرئيسى.	اللحوم الحمراء	* آسيا (أولى القارات)، وأهم دولها : الهند. * أمريكا الجنوبية (ثانى القارات).	* المصدر الرئيسى للحوم الحمراء لغالبية سكان العالم وتدخل بنسبة كبيرة في التجارة الدولية.	
(١) الهند. (٢) الولايات المتحدة.	* المنتج الحيوانى الثانى بعد اللحوم الحمراء.	الألبان	* الصين (أولى دول العالم). * الهند. * أستراليا.	* تُرى من أجل لحومها وأصوافها.	
(١) أستراليا. (٢) الصين.	* يعد صوف الأغنام مادة خام أساسية لصناعة نسيج الصوف.	الأصواف	* الولايات المتحدة (أولى دول العالم). * الصين (ثانى دول العالم).	* تُساهم بمنتجاتها من اللحوم والبيض فى سد حاجة سكان العالم من الغذاء.	
	* تقوم عليها صناعة دبغ الجلود وتصنيعها في شكل منتجات جلدية متعددة.	الجلود	* الصين (أولى دول العالم) «أكثر من ثلث الإنتاج العالمى». * إندونيسيا. * الولايات المتحدة.	* تمثل غذاء رئيسيًا لكثير من سكان العالم خاصة في المناطق الساحلية على البحار والمحيطات.	



١ اختر الإجابة الصحيحة من بين البدائل الآتية :

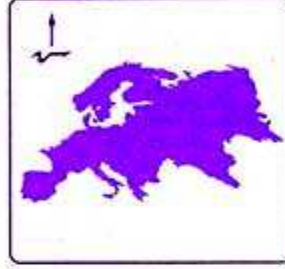
(١) أى من القارات التالية تتسع بها مناطق المراعى الصحراوية ذات المناخ الحار؟



د



ج



ب



أ

(٢) تختفى المراعى المناسبة لحيوان الرنة فى قارتي

(أمريكا الشمالية والجنوبية - أستراليا وأفريقيا - آسيا وأفريقيا - أوروبا وآسيا)

(٣) أى من الدول التالية تشتهر بإنتاج الأصواف من أغنام المارينو ؟

(روسيا - أستراليا - الهند - الولايات المتحدة الأمريكية)

(٤) يسود الرعى التقليدى بـ

الولايات المتحدة وشمال أفريقيا - الأرجنتين وأستراليا - شبه الجزيرة العربية والصين)

(٥) يسود الرعى التجارى بدولة فى أمريكا الجنوبية .

(شيلي - بيرو - إندونيسيا - البرازيل)

(٦) توجد علاقة بين عدد القائمين على حرفة الرعى البدائي فى قارة آسيا و

(الزراعة والتجارة - التعدين والصيد - الصناعة والتجارة - التعليم والبترول) (الشرقية ٢١)

(٧) المصدر الرئيسى للحوم الحمراء لغالبية سكان العالم

(الأغنام - الماعز - الأبقار - الجاموس) (أسيوط ٢١)

(٨) تُعد من أكبر الدول فى تربية الأبقار . (الصين - اليابان - الهند - أستراليا)

(٩) تحتل قارة المركز الثانى فى تربية الأبقار فى العالم .

(أوروبا - أفريقيا - أمريكا الجنوبية - آسيا) (الغربية ١٧)

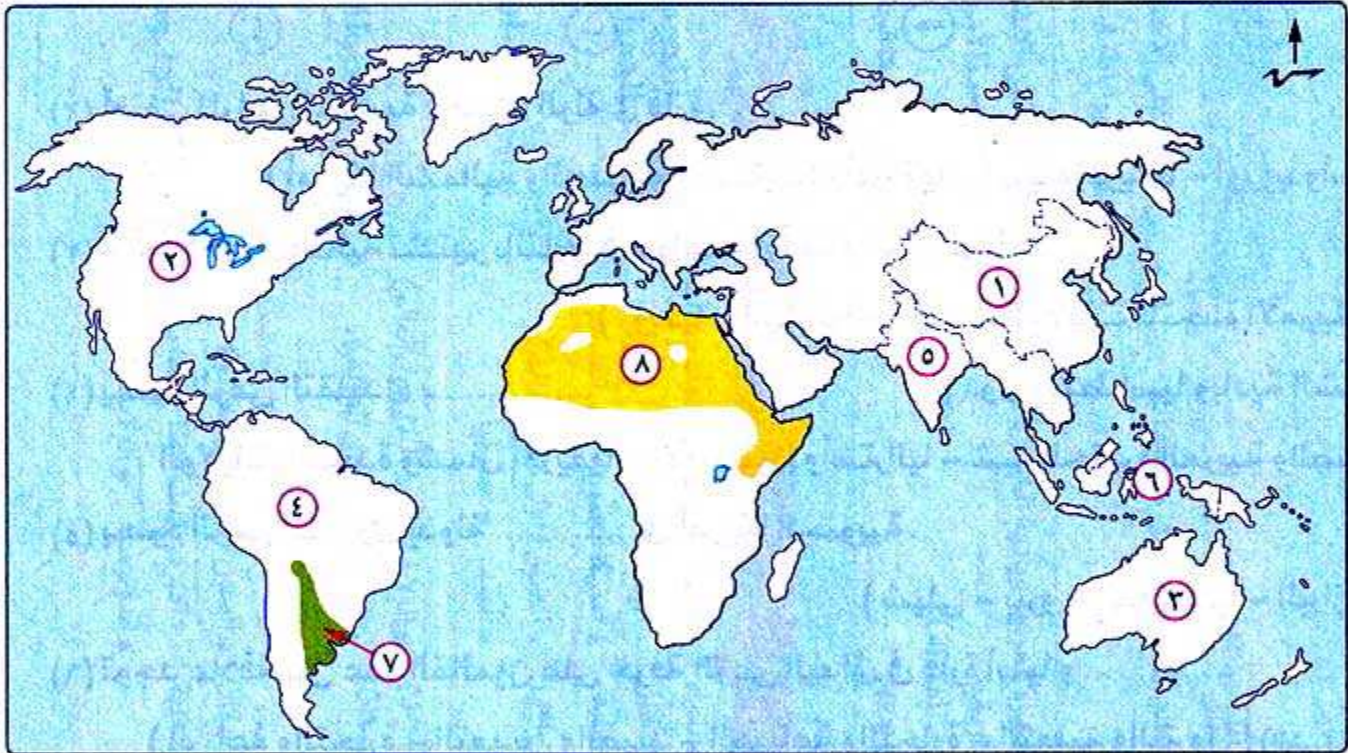
(١٠) ترتبط تربية بالمراعى التجارية الواسعة .

(الخيل - الجاموس - الرنة - الأغنام) (السويس ١٧)

تذكر • فهم • تطبيق • مستويات عليا

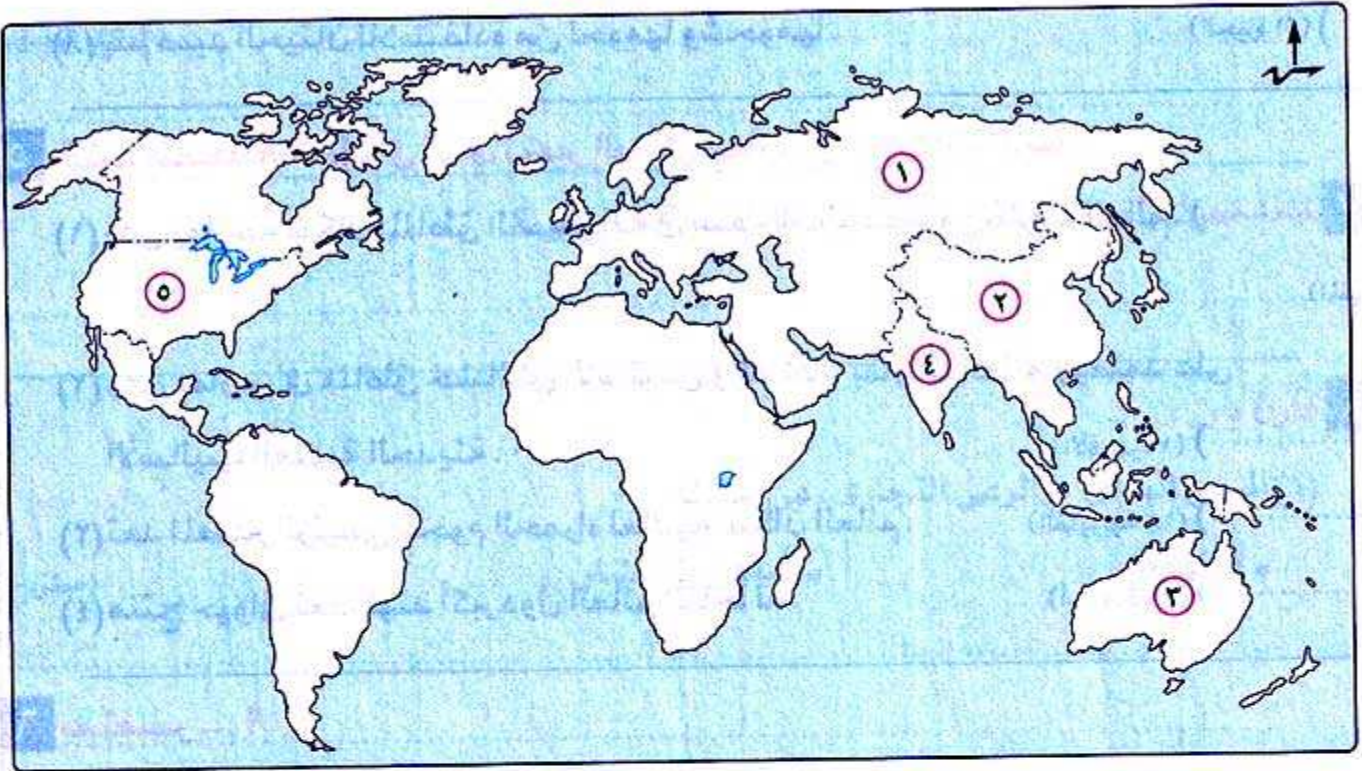
- (١١) تُعد الصين أكبر دول العالم في تربية (الأبقار - الأغنام - الماعز - الإبل)
- (١٢) تحتل دولة المركز الثاني عالميًا في تربية الدواجن.
- (الولايات المتحدة الأمريكية - الهند - أستراليا - الصين) (الوادي الجديد ١٧)
- (١٣) يأتي حوالى نصف إنتاج الأسماك في العالم من
- (المياه المالحة - الأنهار - مزارع تربية الأسماك - البحيرات العذبة) (القليوبية ٢١)
- (١٤) تحتل دولة المركز الأول عالميًا في إنتاج اللحوم الحمراء والأسماك معًا.
- (الهند - الصين - فرنسا - أستراليا) (ش. سيناء ١٩)

٢ استعن بخريطة العالم التي أمامك، وأجب عما يأتي :



- (١) الجزء المظلل والمشار إليه برقم يسود به الرعى التجارى.
- (٢) يمثل الرقم ١ دولة التى تُعد من أكبر الدول المنتجة والمصدرة للأسماك.
- (٣) الدولة رقم ٥ تُعد من أكبر دول العالم في تربية و
- (٤) يمثل الرقم منطقة صحارى حارة يمارس بها الرعى البدائى.
- (٥) ثانى قارات العالم في تربية الأبقار تمثل الرقم
- (٦) تعرف منطقة الحشائش القصيرة بـ «البرارى» فى القارة رقم

٣ أمامك خريطة للعالم، اكتب ما تدل عليه الأرقام التي عليها :



- (١) أولى القارات في تربية الأبقار.....
- (٢) أولى دول العالم في إنتاج اللحوم الحمراء.....
- (٣) أولى دول العالم في إنتاج الصوف.....
- (٤) أولى دول العالم في إنتاج الألبان.....
- (٥) أولى دول العالم في إنتاج الدواجن.....

٤ اكتب كلمة (صواب) أمام العبارة الصحيحة، وكلمة (خطأ) أمام العبارة غير الصحيحة، مع التصويب :

- () (١) يسود الرعى البدائي في منطقة البراري بقارة أمريكا الشمالية.
- () (٢) تُعد قارة أوروبا أكبر قارات العالم في تربية الأبقار.
- () (٣) تُعد مصر من أكبر الدول المنتجة للألبان في العالم. (الإسماعيلية ١٨)
- () (٤) تشتهر أستراليا بأجود أنواع الصوف في العالم. (ج. سيناء ١٩)
- () (٥) تُعتبر الولايات المتحدة الأمريكية أكبر دول العالم إنتاجاً للأسماك. (الإسكندرية ١٥)
- () (٦) تُعد إندونيسيا من أهم الدول المنتجة للأسماك.

- () (٧) تُعد دولة تايلاند من أهم دول العالم المصدرة للأسماك.
- () (٨) يتم صيد الحيتان للاستفادة من لحومها وشحومها. (الجيزة ٢١)

٥ اكتب المصطلح الجغرافي الذي تشير إليه كل عبارة من العبارات الآتية :

- (١) رعى يمارسه سكان المناطق الصحراوية في مساحات واسعة من قارات العالم. (.....) (المنيا ٢١)
- (٢) رعى يمارس في مناطق حشائش الإستبس والسافانا بقارات العالم ويعتمد على الأساليب العلمية الحديثة. (الأقصر ١٩) (.....)
- (٣) تُعد المصدر الرئيسي للحوم الحمراء لغالبية سكان العالم. (القليوبية ١٨) (.....)
- (٤) منتج حيواني تُعد الهند أكبر دول العالم إنتاجاً له. (أسيوط ١٩) (.....)

٦ بم تفسر... ؟

- (١) انخفاض أعداد العاملين بالرعى البدائي بقارة آسيا. (القاهرة ٢١) (.....)
- (٢) يسود الرعى التجارى في الولايات المتحدة الأمريكية والأرجنتين وأستراليا. (الوادى الجديد ١٩) (.....)
- (٣) أهمية الثروة الحيوانية في العالم. (الإسماعيلية ١٨) (.....)
- (٤) تحتل الصين والهند وأستراليا المراكز الأولى في تربية الأغنام. (أسوان ١٦) (.....)
- (٥) زيادة معدل الاستهلاك العالمى من اللحوم الحمراء. (أسيوط ٢١) (.....)
- (٦) تُعتبر أستراليا أولى دول العالم في إنتاج الصوف. (بورسعيد ١٤) (.....)
- (٧) تحتل الصين المركز الأول في إنتاج الأسماك في العالم. (القاهرة ١٨) (.....)



(٨) تُعد إندونيسيا والولايات المتحدة الأمريكية من الدول الرئيسية المنتجة للأسمك.

(الوادي الجديد ١٧)

٧ ماذا يحدث إذا: اتبعت مصر الأساليب العلمية في الرعي؟

٨ قارن بين :

(١) الرعي البدائي ، والرعي التجاري ، من حيث :

(مطروح ١٩)

* المفهوم. * أماكن الانتشار.

(٢) الأغنام ، والأبقار، من حيث :

(الجيزة ١٥)

* الأهمية. * أهم الدول المربية.

٩ دلل جغرافيًا على صحة كل عبارة مما يأتي :

(١) كان لتطور الأنشطة الاقتصادية تأثير سلبي على الرعي البدائي بقارة آسيا.

(الشرقية ٢١)

(٢) تفوق قارة آسيا في إنتاج الثروة الحيوانية.

١٠ «تنتشر حرفة صيد الأسماك على سواحل القارات التي تتوافر بها العوامل الطبيعية والبشرية التي تساعد في تطور هذه الحرفة». في ضوء هذه العبارة :
(١) حدد أهم مناطق انتشار حرفة صيد الأسماك في العالم.

(٢) صنف العوامل الرئيسية اللازمة لحرفة صيد الأسماك. (مطروح ١٩)

أسئلة للتمييز ؟

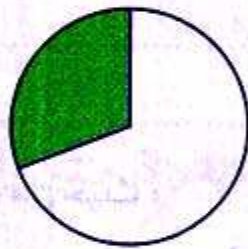
١١ اختر الإجابة الصحيحة من بين البدائل التالية :

(١) تتمثل النسبة الصحيحة لإنتاج الأسماك المعتمد على الأنهار والبحيرات العذبة بالعالم في الشكل

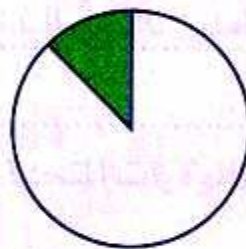
■ أسماك أنهار وبحيرات عذبة



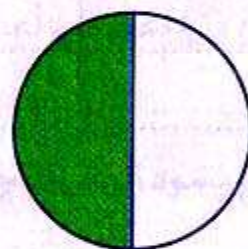
أ



ب



ج



د

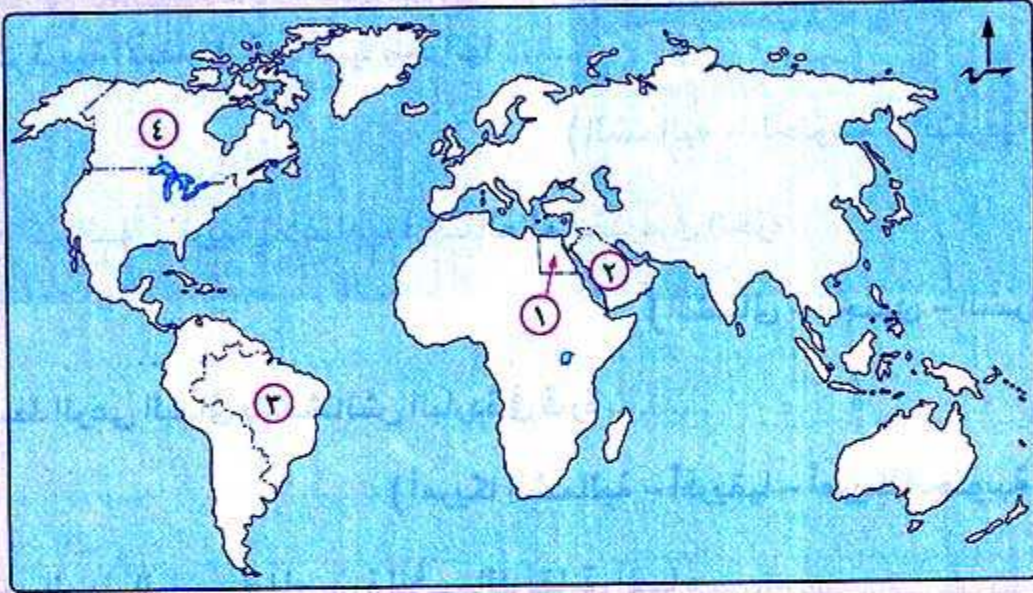


(٢) يرجع السبب الرئيسي في تواجد الأبقار بأعداد كبيرة في الدولة المظللة بالخريطة المقابلة إلى

- (توافر حشائش التندرا -
- اتساع مناطق الصحارى الحارة -
- التقدم العلمى والتكنولوجيا -
- وجود الحشائش المعتدلة)

(٣) أى من المناطق التالية ينعدم بها الرعى التجارى ؟
(شمال أفريقيا - شمال أستراليا - جنوب شرق أمريكا الجنوبية - جنوب شرق أفريقيا)

(٤) أى من الدول المشار إليها بالخريطة التالية يمارس بها الرعى التجارى ؟



(ب) دولة ٢

(ا) دولة ١

(د) دولة ٤

(ج) دولة ٣

(٥) يتركز الرعى التقليدى بقارة أمريكا الشمالية فى

(الشمال الشرقى - الشمال الغربى - الجنوب الشرقى - الجنوب الغربى)

(٦) يرتبط معظم النشاط الرعى فى قارة أفريقيا ب.....

(حشائش السافانا والنباتات الصحراوية - حشائش السافانا والتندرا -

حشائش البرارى والتندرا - حشائش الإستبس والنباتات الصحراوية)

(٧) تناقصت أعداد القائمين بحرفة الرعى البدائى بقارة آسيا نتيجة لتوطين البدو فى الجهات

(الشمالية الشرقية - الشمالية الغربية - الجنوبية الشرقية - الجنوبية الغربية)

(٨) أكثر قارات العالم ينتشر بها حرفة الرعى البدائى قارنى

(آسيا وأفريقيا - أفريقيا وأمريكا الجنوبية - أوروبا وآسيا - أمريكا الشمالية وأوروبا)

(٩) تخلق قارة أفريقيا من حرفة الرعى لحيوان (الإبل - الرنة - الأغنام - الجاموس)

- (١٠) يُعد وجه التشابه في الرعى التجارى بين دولتى الولايات المتحدة الأمريكية وأستراليا
 (الاعتماد على حشائش الإستبس والتندرا - التخصص فى حيوان المرعى -
 الاعتماد على حشائش التندرا والسافانا - تنوع الحيوانات فى المرعى الواحد)
- (١١) تتركز تربية الأبقار فى قارة آسيا بأجزائها
 (الشمالية - الجنوبية - الشرقية - الغربية)
- (١٢) تقع أكبر الدول المربية للأغنام بقارات العالم القديم فى الجزء
 (الشمالى - الجنوبى - الشرقى - الغربى)
- (١٣) يرتبط الرعى البدائى بالحشائش الباردة فى قارة
 (أمريكا الشمالية - أفريقيا - أمريكا الجنوبية - أستراليا)
- (١٤) توجد الدول الرئيسية المصدرة للأسماك بقارضى آسيا و
 (أوروبا - أمريكا الشمالية - أستراليا - أمريكا الجنوبية)
- (١٥) يرعى حيوان الرنة ب
 (شمال أوروبا وألاسكا - جنوب أستراليا والبرازيل -
 دول وسط آسيا والأرجنتين - غرب أمريكا الجنوبية وكندا)

١٢ بم تفسر: معظم نشاط الرعى فى مصر رعى بدائى ؟

.....

١٣ حدد: الصعوبات التى تواجه العديد من الدول العربية عند ممارسة الرعى التجارى.

.....

١٤ حدد نوع الرعى في كل صورة مما يأتي، مع ذكر السبب :



(٢)

.....

.....

.....

.....



(١)

.....

.....

.....

.....



(٤)

.....

.....

.....

.....



(٣)

.....

.....

.....

.....



تنتشر العديد من المعادن ومصادر الطاقة فى معظم دول العالم النامية والمتقدمة إلا أن الدول المتقدمة هى التى تسيطر على عمليات التعدين وتعمل على السيطرة على مصادر الطاقة،

- ما هى أهم المعادن فى العالم ؟ ولماذا تسيطر الدول المتقدمة على عمليات التعدين ؟
- ما هى مصادر الطاقة المختلفة ؟ وما هى أهم القارات والدول المنتجة لها ؟

فى هذا الدرس نتعرف





النشاط التعدينى

عملية استخراج **المعادن** و **مصادر الطاقة** من فحم وبتترول وغاز طبيعى من باطن القشرة الأرضية أو بالقرب من السطح.



منجم فحم



نقل بترول بحرى

* يرتبط النشاط التعدينى بوجود الخام (المعادن أو مصادر الطاقة) بكميات وفيرة قريبة من المراكز الصناعية، حيث يتم نقله من المناجم إلى المصانع.

عمليات تسبق التعدين

- ① البحث والكشف عن الخامات.
- ② إعداد المنجم لعملية التعدين والاستخراج، مثل :
مد الخطوط الحديدية والطرق، وإنشاء مساكن للعاملين.
بعد ذلك تتم مرحلة الإنتاج والنقل والتوزيع.

أولاً الموارد المعدنية

* تحتوى القشرة الأرضية على العديد من المعادن تبلغ نحو ٢٠٠٠ معدن، عُرف منها على المستوى التجارى والصناعى نحو ٢٠٠ معدن فقط.

* تستهلك الدول المتقدمة نحو ٨٥٪ من معادن العالم رغم أن بها نحو ١/٥ سكان العالم حيث تتوافر بها الصناعات المختلفة التى تقوم على هذه المعادن.

أهم المعادن فى العالم

الحديد النحاس البوكسيت (خام الألومنيوم) المنجنيز الفوسفات الذهب اليورانيوم

فيما يلى نتعرف كل منها بشيء من التفصيل.

بم تفسر: تستهلك الدول المتقدمة معظم الإنتاج من المعادن ؟



الحديد ١

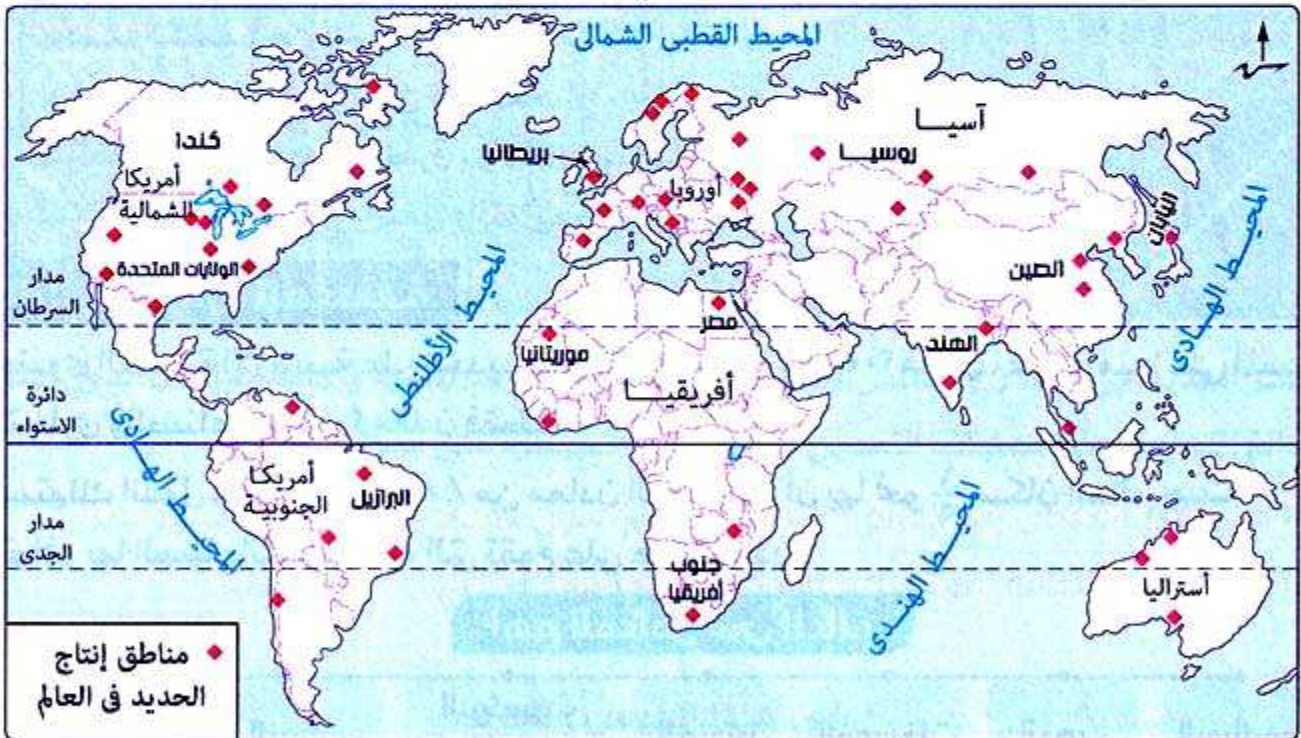
الأهمية

* يعتبر من أهم المعادن المستخدمة في العديد من الصناعات،
(مثل) صناعة الحديد والصلب.

أهم الدول المنتجة

* يوجد معدن الحديد في جميع قارات العالم،
وتعد:

- الصين **أولى** دول العالم إنتاجًا.
- أستراليا **ثاني** دول العالم إنتاجًا.



يدخل ٣٠٪ من الإنتاج العالمي للحديد في التجارة الدولية حيث تقوم الدول النامية (مثل) موريتانيا بتصدير خام الحديد إلى الدول الصناعية المتقدمة، (مثل) اليابان. • بريطانيا.


فسر: بالرغم من أن بريطانيا دولة منتجة للحديد إلا أنها من أهم الدول المستوردة له.



الأهمية

• الأدوات الكهربائية.

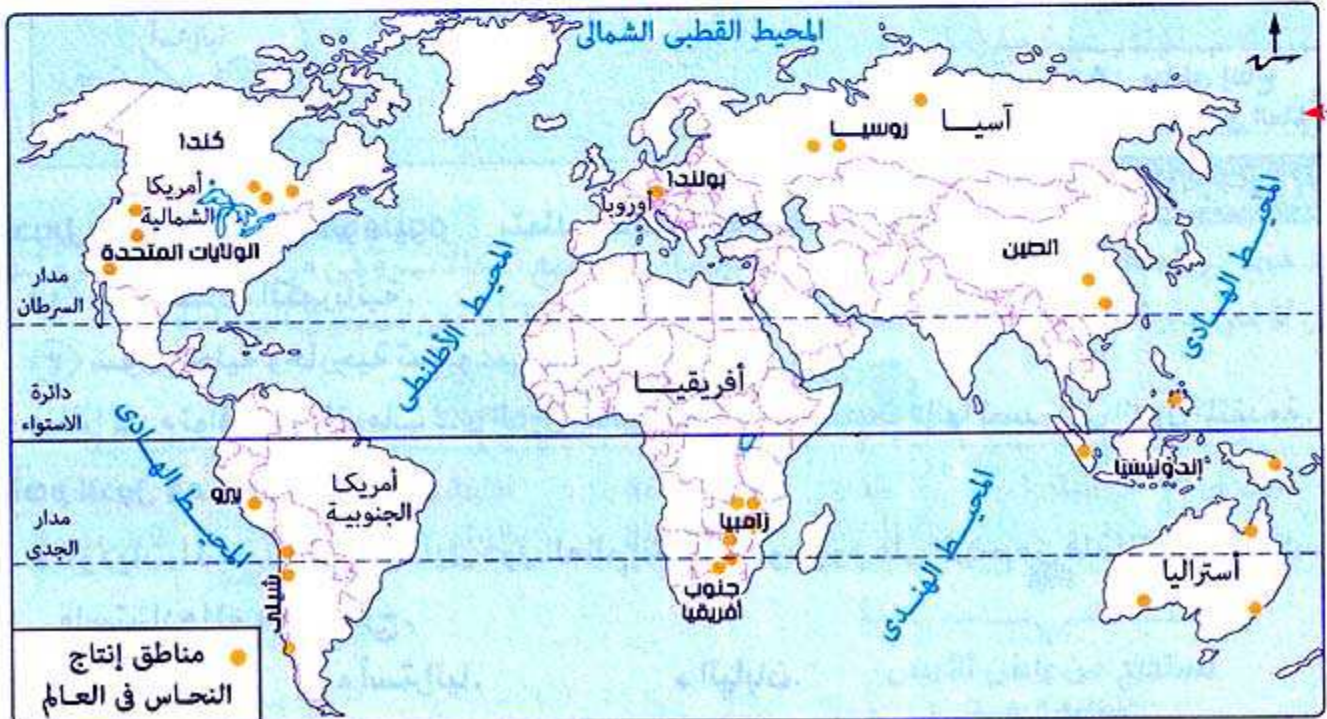
* يستخدم في الكثير من الصناعات، (مثل) • الأسلاك.



أهم الدول المنتجة



* شيلي أولى دول العالم إنتاجًا وتقع في أمريكا الجنوبية.
* الصين في آسيا.



المصريون والمعادن : عرف المصريون النحاس منذ القدم وخلطوه بالزنك للحصول على النحاس الأصفر، كما حصلوا على البرونز من خلال خلط النحاس بالقصدير.



١ تدريب

١ اختر الإجابة الصحيحة مما بين القوسين :

(١) تُعد الصين ثاني دول العالم إنتاجاً لمعدني

(الحديد والفوسفات - النحاس والبوكسيت - الذهب والحديد - الألومنيوم والنحاس)

(٢) تُعد دولة إحدى الدول الصناعية الكبرى المستوردة للحديد.

(موريثانيا - بريطانيا - أستراليا - الصين)

(٣) أي من الدول التالية تُعد منتجة لمعدن البوكسيت ومصنعة للألومنيوم ؟

(كندا - اليابان - أستراليا - موريثانيا)

(٤) يدخل في صناعة الأسلاك والأدوات الكهربائية معدن

(الحديد - البوكسيت - النحاس - المنجنيز)

٢ أمامك بعض الدول ضعها في مكانها المناسب بالجدول مع إمكانية ذكر بعضها أكثر من مرة :
«اليابان - كندا - موريثانيا - الولايات المتحدة الأمريكية»

دول مصدرة للحديد	دول مستوردة للحديد	دول مصنعة للألومنيوم
.....
.....

٣ دلل جغرافياً على صحة كل عبارة مما يأتي :

(١) توجد عدة عمليات تسبق التعدين.

.....

(٢) يجب توافر عدة مقومات لصناعة الألومنيوم.

.....

ثانياً مصادر الطاقة (القوى المحركة)

* تُعد مصادر الطاقة هي القوى المحركة لحياة الإنسان في جميع المجالات وهي من الموارد الطبيعية المهمة التي لا غنى عنها على مستوى الاستخدامات البشرية المختلفة أو على مستوى الصناعة.

مصادر الطاقة في العالم



فيما يلي نتعرف كل منها بشيء من التفصيل.

١ الفحم (*)

الأهمية «الاستخدامات»

- * يستخدم في توليد الكهرباء.
- * مصدر رئيسي في الصناعة بالدول الصناعية الكبرى.
- !! كان الفحم عماد الثورة الصناعية في أوروبا وأواخر القرن الـ ١٨م، والمصدر الأول والرئيسي للطاقة المستخدمة في العالم حتى أوائل القرن الـ ٢٠م.

أهم القارات والدول المنتجة

* يوجد في جميع قارات العالم وأهمها :

• آسيا،

أهم دولها :

- الصين **أولى** دول العالم إنتاجًا.

- الهند **ثالث** دول العالم إنتاجًا.

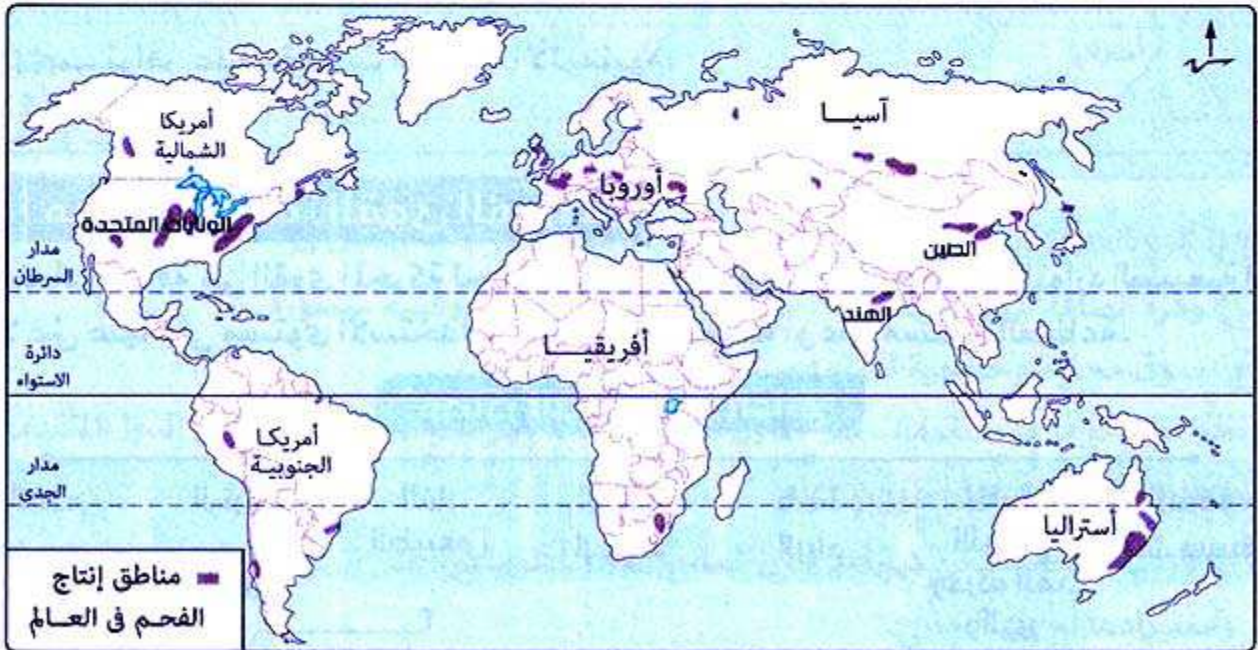
• أوروبا.

• أمريكا الشمالية تلي (آسيا وأوروبا) في الإنتاج، وأهم دولها : الولايات المتحدة الأمريكية **ثاني** دول العالم إنتاجًا.



الدول المنتجة للفحم لعام ٢٠١٣م

تنتج القارتان معًا
أكثر من $(\frac{3}{4})$
الإنتاج العالمي.



فسر: لم يعد الفحم المصدر الأول للطاقة في العصر الحديث.

(*) الفحم : عبارة عن بقايا أشجار وشجيرات جفت وانظمرت منذ ملايين السنين تحت التكوينات الصخرية، ونتيجة للحرارة والضغط تحولت إلى مادة كربونية سوداء وهي (الفحم الحجري).



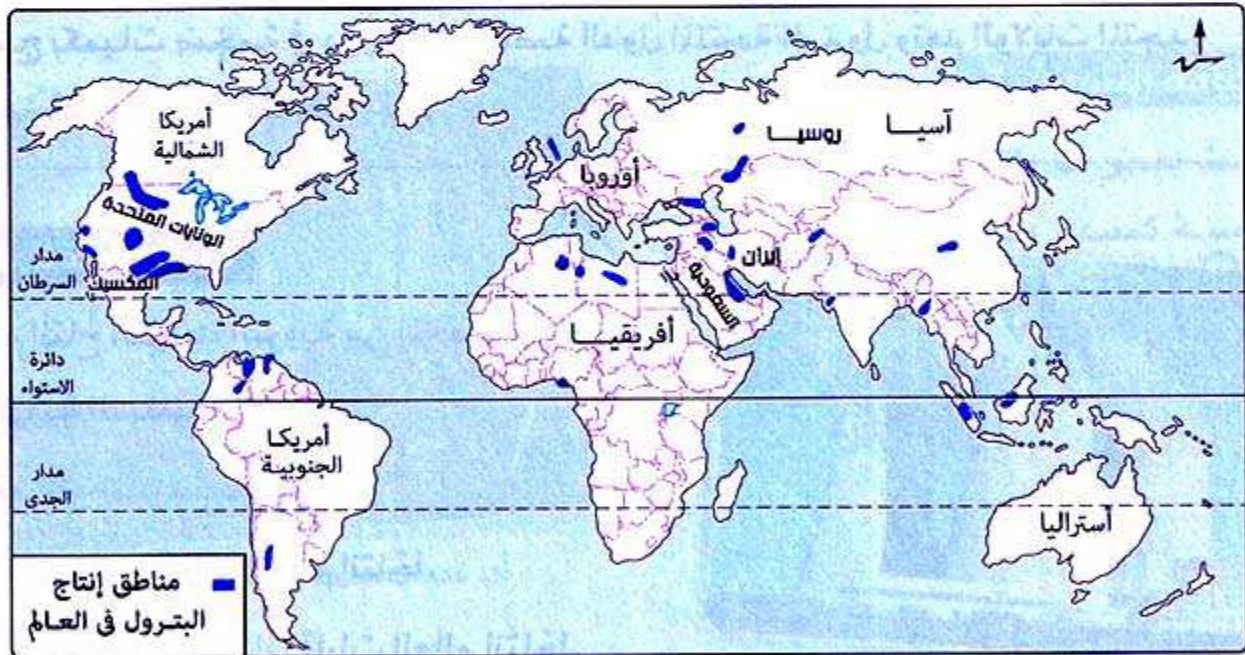
٢ البترول (*)

الأهمية

* يُعد البترول أهم مصادر الطاقة في العالم
بم تفسر؟ بسبب ارتباطه بالتنمية
 الاقتصادية والاجتماعية والعلاقات
 السياسية، حيث يُشكل مع الغاز الطبيعي
 نحو ٥٥٪ من الطاقة المستخدمة في العالم.

أهم الدول المنتجة

- * السعودية **أولى** دول العالم إنتاجًا.
- * روسيا **ثاني** دول العالم إنتاجًا.
- * الولايات المتحدة الأمريكية **ثالث** دول العالم إنتاجًا.



نظرًا لزيادة الطلب على البترول وتعدد استخداماته فإن أسعاره في زيادة مستمرة خاصة وأنه من موارد الطاقة القابلة للنفاذ.

فسر: ارتفاع أسعار البترول بشكل مستمر.

- (*) حفر أول بئر لاستخراج البترول في العالم في الولايات المتحدة الأمريكية عام ١٨٥٩م.
- * تُعد مصر أقدم دولة عربية اكتشف بها البترول، واستخرج عام ١٩١١م تليها العراق.

٣ الغاز الطبيعي (*)

الأهمية

- * يمثل حاليًا نحو ٢٥٪ من مصادر الوقود في العالم.
- * يُعد من مصادر الطاقة رخيصة الثمن وسهلة النقل والأقل تلويثًا للبيئة، لذلك توسع العالم في استخدامه كبديل لمصادر الطاقة الأخرى، حيث يُستخدم:
 - في الصناعة على نطاق واسع.
 - في الاستخدامات المنزلية.
 - في توليد الطاقة الكهربائية.
 - كوقود للسيارات (بديلًا للبنزين للحد من تلوث البيئة).

أهم القارات المنتجة

- * قارة أوروبا أولى قارات العالم إنتاجًا ($\frac{1}{3}$ الإنتاج العالمي).

أهم الدول المنتجة

- * ينتج بكميات ضخمة في دول العالم خاصة الدول المنتجة للبترول وتُعد الولايات المتحدة الأمريكية أولى دول العالم إنتاجًا.



مفاعل نووي

٤ الطاقة النووية

- * يتم إنتاج الكهرباء النووية من المحطات النووية السلمية.
- * أهم القارات المنتجة:
 - أوروبا أولى قارات العالم إنتاجًا.
 - أمريكا الشمالية ثاني قارات العالم إنتاجًا.

فسر: تحرص مصر على مد أنابيب الغاز الطبيعي في المناطق السكنية المختلفة.



محطة توليد الكهرباء، من الرياح

٥ طاقة الرياح

- * يتم إنتاج الطاقة الكهربائية من الرياح في :
• بعض الدول المتقدمة، مثل : فرنسا، بريطانيا، الولايات المتحدة الأمريكية.
• خمس دول عربية، تتقدمها **مصر** تليها المغرب.

٦ طاقة الأمواج وحركة المد والجزر

- * تستخدم في إنتاج الطاقة الكهربائية في بعض الدول المتقدمة، مثل :
• بريطانيا.
• فرنسا.
• اليابان.



أحد محطات الطاقة الشمسية

٧ الطاقة الشمسية

- * اتجهت بعض الدول لاستخدام الطاقة الشمسية كمصدر جديد للطاقة النظيفة (التي لا تسبب تلوث) مثل : **مصر** التي أقامت لها محطات لتوليد الكهرباء للاستخدامات المنزلية.

- * الكهرباء التي يتم إنتاجها من الفحم والبتروول والغاز الطبيعي تسمى **الكهرباء الحرارية**.
- * الكهرباء التي يتم إنتاجها من الأمواج وحركة المد والجزر والسدود والشلالات تسمى **الكهرباء المائية (الكهرومائية)**.

حدد : أي المصادر تفضل لإنتاج الطاقة في مصرنا الغالية ؟ ولماذا ؟

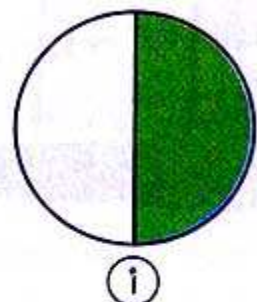
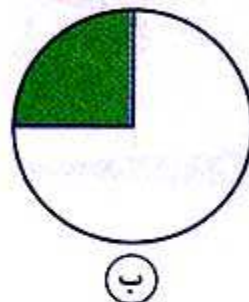
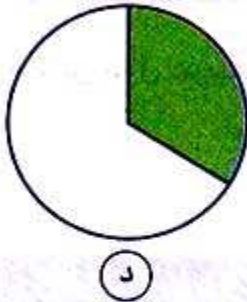
(*) يرجع استخدام الكهرباء إلى منتصف القرن الـ ١٩ الميلادي، ويبلغ الإنتاج العالمي من الكهرباء، نحو ٢٣ مليار كيلو وات / ساعة.

٢ تدريب

١ اختر الإجابة الصحيحة من بين البدائل التالية :

(١) أى الأشكال الآتية يشير إلى نسبة الإنتاج العالمى لقارة أوروبا من الغاز الطبيعى ؟

إنتاج أوروبا للغاز الطبيعى



(٢) أى قارة من القارات التالية تُعد الأعلى في إنتاج الفحم والبتروى ؟

(أوروبا - آسيا - أمريكا الشمالية - أفريقيا)

(٣) يُعد أهم مصادر القوى المحركة بالعالم

(الغاز الطبيعى - البتروى - الفحم - الكهرباء)

(٤) أولى قارات العالم إنتاجاً للكهرباء من الطاقة النووية قارة

(أمريكا الجنوبية - أستراليا - أوروبا - أمريكا الشمالية)

٢ اكتب مصدر الطاقة المناسب أمام كل عبارة من العبارات الآتية :

(١) كان يُشكّل عماد الثورة الصناعية في أوروبا أواخر القرن الـ ١٨ والمصدر

الرئيسى للطاقة حتى أوائل القرن الـ ٢٠ م. (.....)

(٢) يشكل مع الغاز الطبيعى ٥٥ ٪ من الطاقة المستخدمة في العالم. (.....)

(٣) مصدر نظيف للطاقة تستخدمه بعض الدول الساحلية المتقدمة

في توليد الكهرباء المائية. (.....)

(٤) اتجهت بعض الدول ومنها مصر لاستخدامها في توليد الكهرباء النظيفة

للاستخدامات المنزلية. (.....)

٢ بم تفسر: توسع العالم في استخدام الغاز الطبيعى كبديل لمصادر الطاقة الأخرى ؟

أهم نقاط الدرس

أهم مصطلحات ومفاهيم الدرس

النشاط التشغيلي
عملية استخراج المعادن و مصادر الطاقة من فحم وبتترول وغاز طبيعي من باطن القشرة الأرضية أو بالقرب من السطح.

الأهمية

أهم الدول المنتجة

الحديد	النحاس	البوكسيت
* يدخل في العديد من الصناعات، مثل: صناعة الحديد والصلب.	* يستخدم في الكثير من الصناعات، مثل: الأسلاك والأدوات الكهربائية.	* الخام الرئيسي لمعدن الألومنيوم.

الأهمية

أهم القارات المنتجة

أهم الدول المنتجة (على الترتيب)

الفحم	البتترول	الغاز الطبيعي
* يستخدم في توليد الكهرباء. * مصدر رئيسي للصناعة في الدول الصناعية الكبرى.	* يُعد أهم مصادر الطاقة في العالم بسبب ارتباطه بالتنمية الاقتصادية والاجتماعية والعلاقات السياسية.	* يمثل حاليًا نحو ٢٥٪ من مصادر الوقود في العالم. * يُعد من مصادر الطاقة الأقل تلويثًا للبيئة، ورخيص الثمن، وسهل النقل. * يُستخدم في: • الصناعة. • توليد الكهرباء الحرارية. • الاستخدامات المنزلية. • السيارات كوقود بديل للبنزين.

الطاقة النووية	طاقة الرياح	طاقة الأمواج وحركة المد والجزر	الطاقة الشمسية
* أوروبا (أولى القارات المنتجة). * أمريكا الشمالية (ثاني القارات المنتجة).	* بعض الدول المتقدمة مثل: فرنسا. * خمس دول عربية: تتقدمها مصر وتليها المغرب.	* بعض الدول المتقدمة مثل: بريطانيا. * فرنسا.	* بعض الدول مثل: مصر.



١ اختر الإجابة الصحيحة من بين البدائل التالية :

(١) يُعد من المراحل اللاحقة لعملية التعدين

(النقل والتوزيع - البحث والكشف - إنشاء الطرق - إنشاء مساكن العمال)

(٢) أكثر المعادن انتشارًا في العالم (الحديد - النحاس - البوكسيت - الذهب)

(٣) تعتبر من الدول المستوردة للحديد دولة (الهند - اليابان - موريتانيا - البرازيل)

(٤) تُعد ثاني دول العالم إنتاجًا للحديد والأولى في إنتاج البوكسيت دولة

(الصين - أستراليا - اليابان - غينيا)

(٥) أول دول العالم في إنتاج النحاس

(الولايات المتحدة الأمريكية - الصين - شيلي - جنوب أفريقيا) (الغريبة ١٨)

(٦) تُعد الولايات المتحدة الأمريكية أكبر دول العالم إنتاجًا لـ رغم عدم توافر

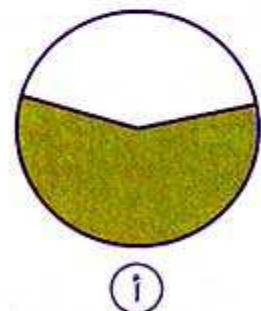
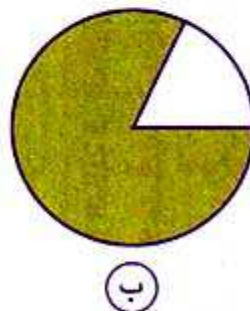
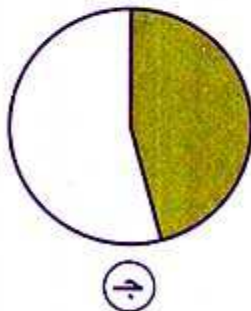
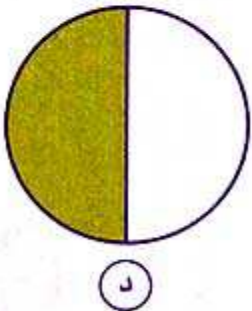
البوكسيت بها. (الحديد - النحاس - الألومنيوم - المنجنيز)

(٧) تعتمد دولة على المواد الخام المستوردة في صناعتها للألومنيوم.

(الصين - أستراليا - الهند - كندا)

(٨) أى الأشكال الآتية يشير إلى نسبة الإنتاج العالمى لدولة الصين من الفحم ؟

■ نسبة إنتاج الصين من الفحم



(٩) يُعد من مصادر الطاقة القابلة للنفاذ والأقل تلويثًا للبيئة

(الغاز الطبيعي - الكهرباء النووية - البترول - الفحم)

(١٠) يأتي $\frac{3}{4}$ إنتاج العالم من الفحم من قارتى

(أوروبا وأفريقيا - أوروبا وآسيا - آسيا وأستراليا - أمريكا الشمالية وأمريكا الجنوبية)

(١١) تُعد دولة أولى دول العالم إنتاجًا للبترول.

(السعودية - الولايات المتحدة الأمريكية - قطر - الهند) (الوادي الجديد ١٨)

(١٢) تنتج قارة ثلث إنتاج العالم من الغاز الطبيعي.

(آسيا - أمريكا الشمالية - أمريكا الجنوبية - أوروبا) (الفيوم ١٨)

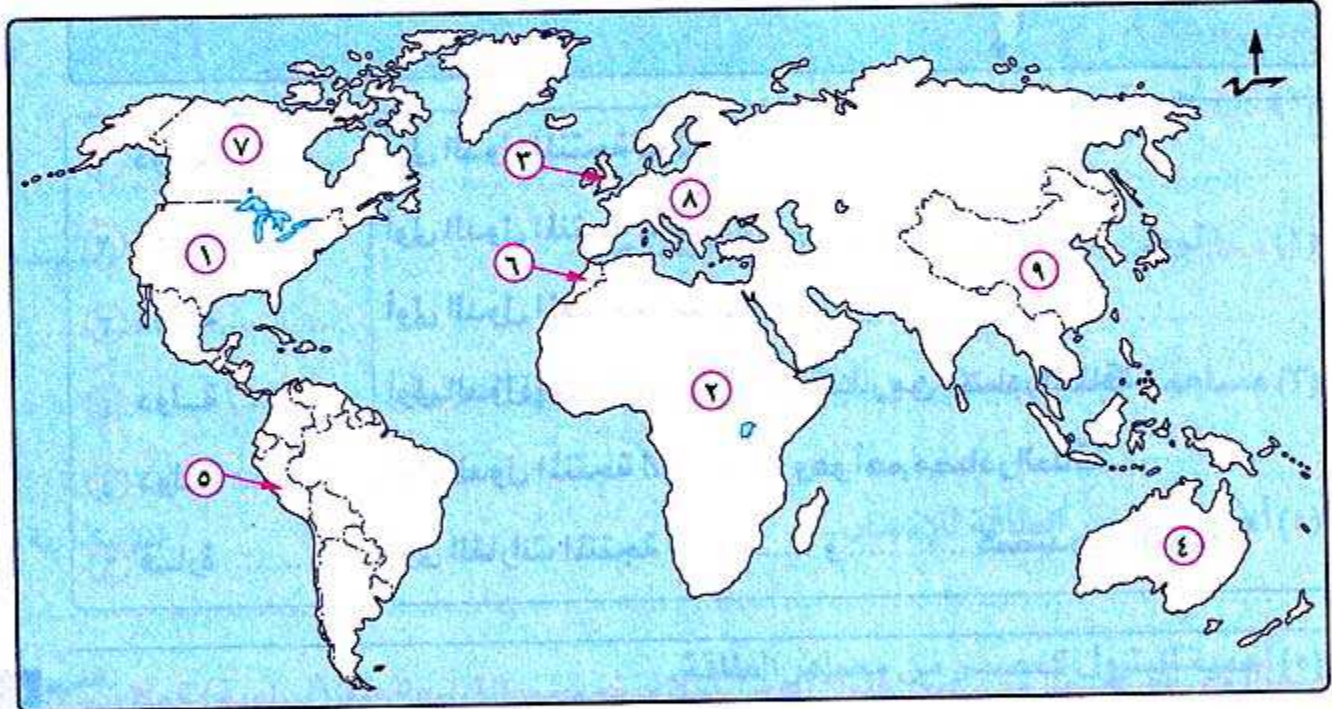
(١٣) تحتل قارة المركز الثاني عالميًا في إنتاج الطاقة النووية.

(أوروبا - أمريكا الجنوبية - أمريكا الشمالية - أستراليا) (السويس ١٧)

(١٤) أولى الدول العربية المنتجة للطاقة الكهربائية من الرياح

(المغرب - مصر - تونس - سوريا) (الغربية ١٨)

٢ استعن بخريطة العالم التي أمامك، وأجب عما يأتي :



(١) الدولة رقم تمثل إحدى الدول الصناعية المتقدمة المستوردة لخام الحديد.

(٢) يمثل الرقم ثاني دول الوطن العربي إنتاجًا للطاقة الكهربائية من الرياح.

(٣) تُعد الدولة رقم ٧ من أهم الدول المصنعة لـ رغم عدم توافر خاماته المعدنية.

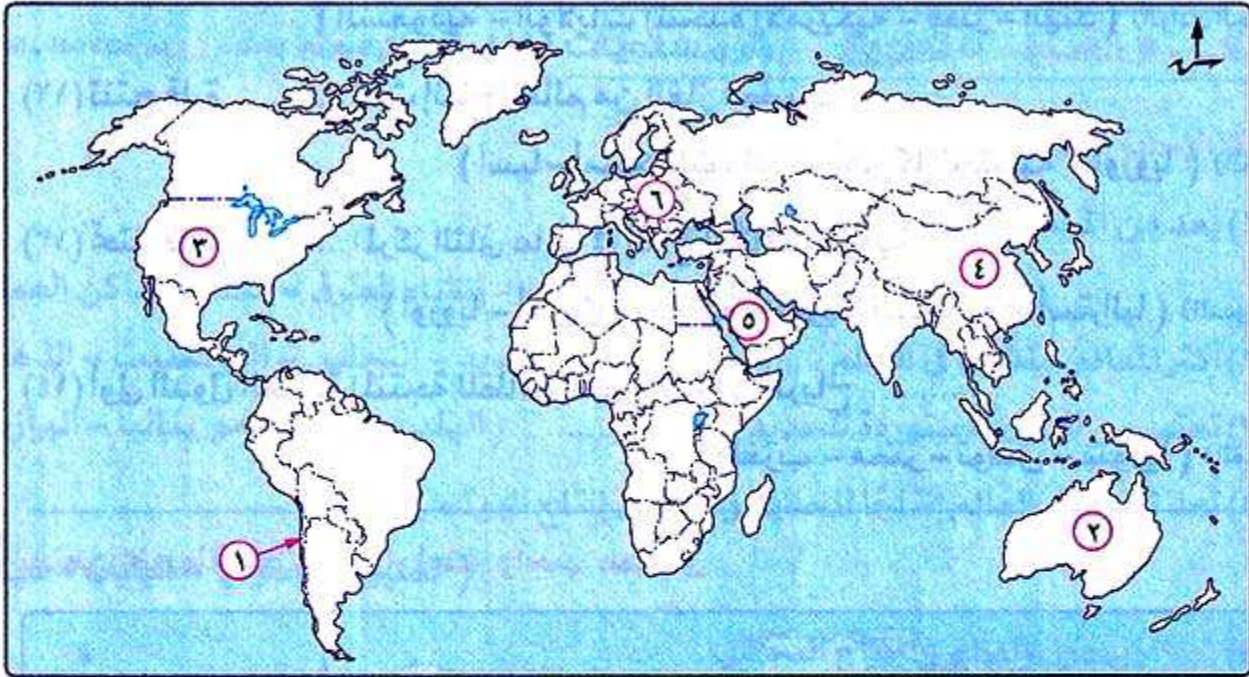
(٤) القارة رقم تسبق قارة أمريكا الشمالية في إنتاج الطاقة النووية.

(٥) يشير الرقم ١ إلى إحدى أهم الدول المنتجة لمصادر الطاقة فتحل المركز الثاني في

إنتاج والمركز الثالث في إنتاج

(٦) يشير الرقم ٩ إلى دولة بينما دولة بيروت تمثل رقم وهما من الدول المنتجة للنحاس.

٣ أمامك خريطة للعالم، استعن بالأرقام التي عليها، وأكمل الجدول الذي يليها :



أولى الدول المنتجة لمعدن	١ دولة
أولى الدول المنتجة لمعدن	٢ دولة
أولى الدول المصنعة لمعدن	٣ دولة
أولى الدول إنتاجاً لـ كمصدر من مصادر الطاقة.	٤ دولة
أولى الدول المنتجة لـ وهو أهم مصادر الطاقة.	٥ دولة
أولى القارات المنتجة لـ و كمصدرين للطاقة.	٦ قارة

٤ اكتب كلمة (صواب) أمام العبارة الصحيحة، وكلمة (خطأ) أمام العبارة غير الصحيحة، مع التصويب :

- (١) تسبق عملية التعدين عمليات البحث والكشف عن الخامات. (سوهاج ١٨) ()
- (٢) تُعد الصين أولى دول العالم إنتاجاً للحديد. ()
- (٣) تُعد موريتانيا من أهم الدول المستوردة للحديد. (الإسكندرية ١٨) ()
- (٤) تتساوى الدول المتقدمة مع الدول النامية في معدل استهلاك المعادن. (الشرقية ٢١) ()
- (٥) يُعد خام النحاس العامل الرئيسي في صناعة الألومنيوم. ()
- (٦) تُعتبر أستراليا أكبر دول العالم إنتاجاً للفحم. ()
- (٧) يتم إنتاج الكهرباء الحرارية من الفحم والبتروال والغاز الطبيعي. (ج. سيناء ١٨) ()

٥ اكتب المصطلح الجغرافي لكل عبارة من العبارات الآتية :

- (١) عملية استخراج المعادن ومصادر الطاقة من باطن الأرض
أو بالقرب من السطح. (الجيزة ١٨) (.....)
- (٢) المصدر الأول والرئيسي للطاقة في العالم حتى أوائل القرن
العشرين الميلادي. (السويس ٢١) (.....)
- (٣) مصدر للطاقة يمثل ٢٥٪ من مصادر الوقود في العالم وتُعد
أوروبا أولى قارات العالم المنتجة له. (الفيوم ٢١) (.....)
- (٤) طاقة تنتجها الأمواج وحركة المد والجزر في بعض
الدول المتقدمة. (بورسعيد ١٩) (.....)

٦ بم تفسر...؟

- (١) أهمية معدن النحاس. (.....)
- (٢) توطن صناعة الألومنيوم في الدول المتقدمة. (أسيوط ١٩) (.....)
- (٣) مساهمة الحديد بـ ٣٠٪ من الإنتاج العالمي في التجارة الدولية. (.....)
- (٤) أهمية مصادر الطاقة للإنسان. (الإسكندرية ٢١) (.....)
- (٥) أهمية البترول كمصدر من مصادر الطاقة. (الغربية ٢١) (.....)
- (٦) أسعار البترول في زيادة مستمرة. (كفر الشيخ ١٩) (.....)
- (٧) التوسع في استخدام الغاز الطبيعي كبديل لمصادر الطاقة الأخرى. (ش. سيناء ٢١) (.....)
- (٨) تُعد الدول المتقدمة الأكثر استهلاكًا للمعادن ومصادر الطاقة. (.....)

٧ ما النتائج المترتبة على ... ؟

(١) زيادة الطلب على البترول في الوقت الحالى.

(٢) وجود المعادن بالدول النامية.

٨ دلل جغرافيًا على صحة كل عبارة من العبارات الآتية :

(١) هناك عمليات تسبق التعدين. (السويس ١٥)

(٢) صناعة الألومنيوم تحتاج لعدة مقومات لقيامها. (القليوبية ١٩)

(٣) للفحم أهمية كبيرة منذ القرن الـ ١٨ وحتى الوقت الحالى.

(٤) توسع العالم فى استخدام الغاز الطبيعى كبديل لمصادر الطاقة الأخرى.

(٥) تُعد مصر رائدة على المستوى العربى فى إنتاج بعض مصادر الطاقة النظيفة.

(٦) تتعدد مصادر إنتاج الطاقة الكهربائية فى العالم.

٩ ماذا يحدث إذا ... ؟

(١) توافرت الطاقة الكهربائية والخبرة الفنية فى الدول النامية المنتجة للبوكسيت. (الشرقية ٢١)

(٢) أنتجت مصر الكهرباء من الأمواج وحركة المد والجزر. (القاهرة ١٥)

(٣) قامت الدول النامية بتصنيع منتجاتها المعدنية بدلًا من تصديرها خام.

١٠ قارن بين :

(١) الحديد، والبوكسيت، من حيث :

* الأهمية. * أولى دول العالم المنتجة. (الأقصر ١٩)

(٢) البترول، والفحم، من حيث :

* الأهمية. * أولى دول العالم المنتجة. (الإسكندرية ١٨)

١١ ما العلاقة بين ... ؟

(١) البوكسيت، والألومنيوم.

(بنى سويف ٢١)

(٢) الغاز الطبيعي، والكهرباء.

(٣) الأمواج، والكهرباء.

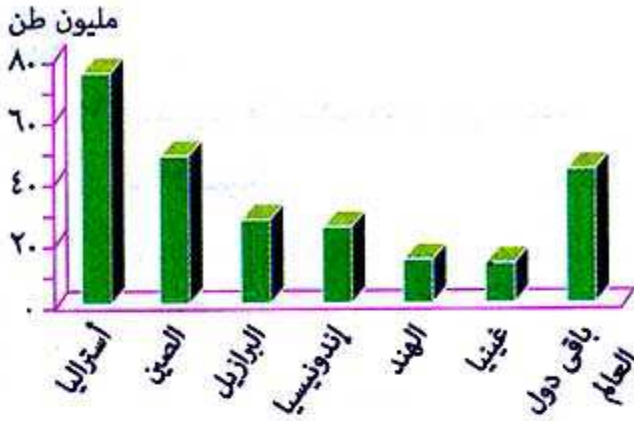
١٢ ما مقترحاتك من أجل : التوسع في إنتاج الطاقة النظيفة في مصرنا الغالية ؟

١٣ اكتب استخدام كل معدن من المعادن الآتية :

(١) الحديد :

(ش. سيناء ١٩)

(٢) النحاس :



١٤ أمامك رسم بياني : يمثل إنتاج إحدى

الموارد المعدنية في العالم، استعن بالرسم للإجابة عن الآتي :

(أسوان ٢١)

(١) ما : المورد المعدني الذي يمثله الرسم البياني ؟

(٢) حدد : الأهمية الاقتصادية لهذا المورد.

أسئلة للتمييز ؟

١٥ اختر الإجابة الصحيحة مما بين القوسين :



(١) تشترك الدولتان الموضحتان باللون

بالخريطة المقابلة أنهما من الدول التي

- تنتج الكهرباء من الطاقة المتجددة -
- تتسم بقلّة أسواقها المحلية والخارجية -
- تستخرج معظم الإنتاج العالمي من الفحم -

تصدر خام الحديد إلى الدول الصناعية الكبرى (

(٢) لكي تصل موريتانيا إلى مستوى الدول المتقدمة يجب عليها اتباع عدة خطوات منها

- (الحد من تصدير المواد الخام والقيام بتصنيعها - التوسع في الصناعات الاستخراجية -
- التوسع في إنشاء الأسواق المحلية لاستيعاب الإنتاج -
- استخدام الغاز الطبيعي في إنتاج الكهرباء الحرارية)

(٣) توجد أكبر الدول المنتجة للنحاس شرق المحيط

(الأطلسنطي - الهادي - الهندي - القطبي الشمالي)

(٤) يتم نقل الحديد من موريتانيا إلى بريطانيا عن طريق

(المحيط الأطلسنطي - البحر المتوسط - المحيط الهادي - بحر الشمال)

(٥) تُعد أولى قارات العالم في إنتاج النحاس

(أفريقيا - أمريكا الشمالية - أمريكا الجنوبية - أستراليا)

(٦) الشروط الأساسية لصناعة الألومنيوم تخلو من

(وفرة الخامات في الدولة المصنعة - توافر طاقة كهربائية - وجود خبرات علمية -

وجود أسواق كبيرة)

(٧) انعكست بصورة واضحة نتائج استخراج البترول في تحقيق التنمية الاقتصادية في دول

(جنوب أفريقيا - جنوب أوروبا - الخليج العربي - شرق آسيا)

(٨) تُعد أنسب المناطق في العالم لإنتاج الطاقة الشمسية شمال قارة

(أفريقيا - آسيا - أوروبا - أمريكا الشمالية)

(٩) تتجه بعض دول العالم لإنتاج الطاقة الشمسية التي تكون بديلاً عن

(الطاقة الحفزية - الطاقة الكهرومائية - طاقة الرياح - طاقة المد والجزر)

(١٠) أكبر الدول المنتجة للحديد بقارة أمريكا الجنوبية تقع في أجزائها

(الشرقية - الغربية - الشمالية - الجنوبية)

(١١) تُعد دولتي شيلي والصين من الدول التي

(تحتل مركزاً متقدماً عالمياً في إنتاج النحاس - تستخرج نصف الإنتاج العالمي من الحديد -

تصدر إنتاجهما من البوكسيت إلى الدول المتقدمة -

تنتج معظم الإنتاج العالمي من الألومنيوم)

١٦ استنتج: أسباب قيام معظم الشركات الأوروبية والأمريكية بنشاط البحث والتنقيب عن المعادن

والبترول والغاز الطبيعي في العالم.

١٧ حدد تقييمك مدى مصداقية كل عبارة مما يأتي :

(١) يُعد استخراج الألومنيوم من الأنشطة التعدينية.

(٢) تستطيع كل دول العالم إنتاج الطاقة الكهرومائية.



الصناعة هي تحويل المواد الخام من صورتها الأولية إلى صورة أكثر ملائمة لحاجات الإنسان ورغباته،

• ما هي المقومات اللازمة لقيام الصناعة ؟

• ما هي أهم الأقاليم والمراكز الرئيسية الصناعية في العالم ؟

في هذا الدرس نتعرف

الأقاليم والمراكز
الصناعية الرئيسية
في العالم

مقومات الصناعة



* تمهيد :

- يُعد النشاط الصناعي قمة الأنشطة الاقتصادية المتطورة، وبالرغم من وجود الصناعة في دول عديدة من العالم، إلا أنها تختلف في :
- نوعيتها (خفيفة أو ثقيلة). - مدى تركزها. - جودتها.
- تُعد الصناعة الحديثة مقياساً رئيسياً لتطور الشعوب وازدهارها **دلل؟** حيث إن الدول المتقدمة هي الدول التي تطورت فيها الصناعة تطوراً مذهباً أخذت بالأساليب العلمية وتطبيق الأبحاث والتجارب العلمية في الاختراع وتطوير وتحديث المنتجات الصناعية بشكل مستمر، **لذلك** تتركز الصناعة المتطورة والمتنوعة في الدول المتقدمة، وبعض الدول النامية التي ارتفعت بمستوى شعوبها واقتربت من مستوى الدول المتقدمة، **مثل** : الصين وجنوب أفريقيا ومصر.

مقومات الصناعة

* يرتبط قيام الصناعة وتطورها وازدهارها بمجموعة من المقومات تنقسم إلى :

مقومات بشرية

مقومات طبيعية

تتمثل في

- توافر الأيدي العاملة الماهرة.
- التطور العلمي.
- رأس المال.
- السياسات الحكومية.
- المواد الخام (معدنية - زراعية - حيوانية).
- مصادر الطاقة اللازمة.
- الموقع المتميز.

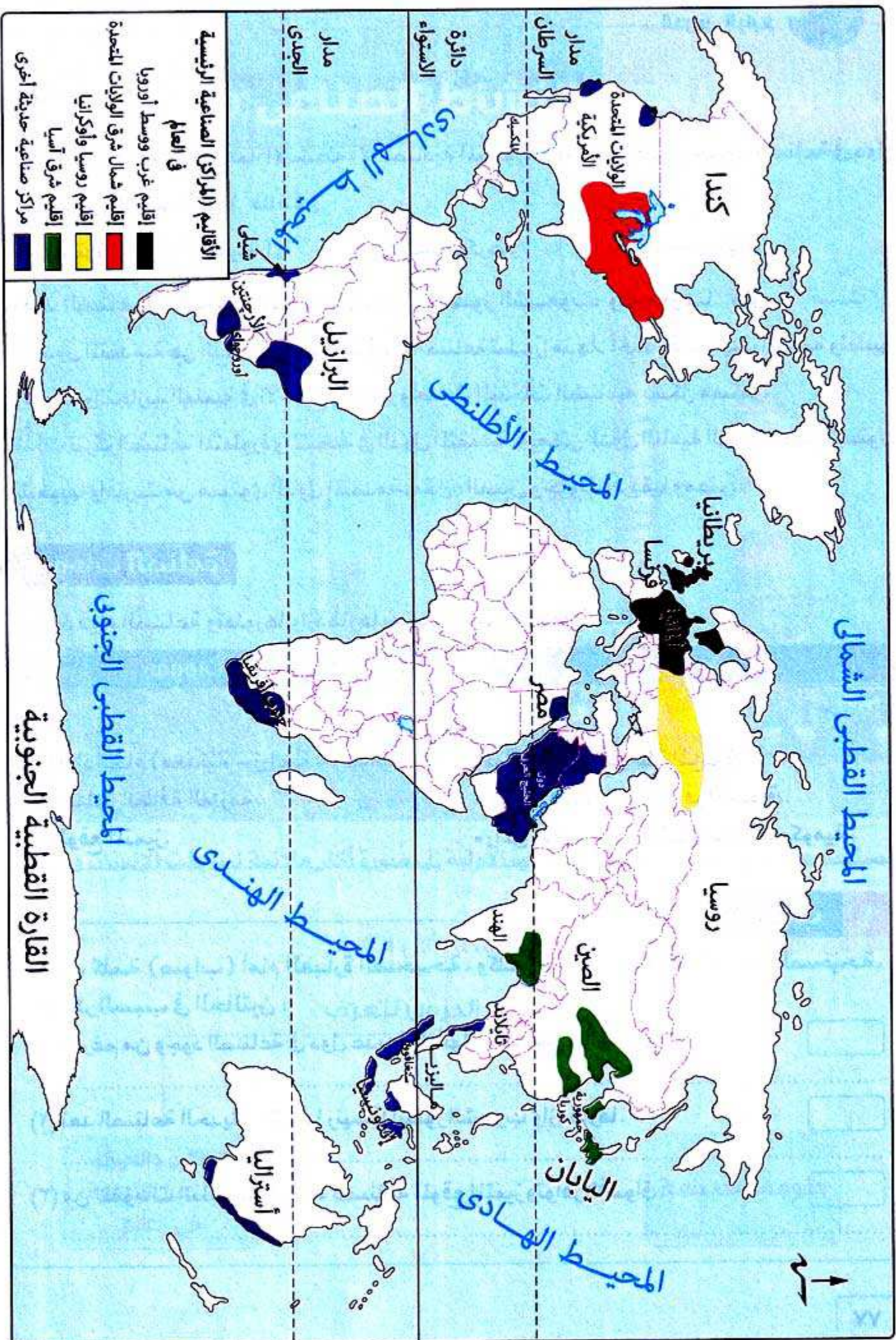
تدريب

اكتب كلمة (صواب) أمام العبارة الصحيحة، وكلمة (خطأ) أمام العبارة غير الصحيحة، مع ذكر السبب في الحالتين :

(١) بالرغم من وجود الصناعة في دول عديدة إلا أنها تختلف من دولة لأخرى.

(٢) تُعد الصناعة الحديثة مقياساً رئيسياً لتطور الشعوب وازدهارها.

(٣) من المقومات الطبيعية اللازمة للصناعة الموقع المتميز وتوافر الأسواق.





الأقاليم والمراكز الصناعية الرئيسية فى العالم

١ إقليم غرب ووسط أوروبا

- أهم المراكز الصناعية به : توجد فى عدة دول منها : بريطانيا، فرنسا، وألمانيا.
- تتوافر فى دول أوروبا بشكل عام مقومات الصناعة، وقد أدت الوحدة الاقتصادية الأوروبية فى إقليم غرب ووسط أوروبا إلى التكامل فى الجوانب الاقتصادية (الصناعية والتجارية) وحمايتها جمركيًا وتدعيمها من جانب هيئة الاتحاد الأوروبي(*) .

٢ إقليم شمال شرق الولايات المتحدة الأمريكية (أكبر الأقاليم الصناعية فى العالم الجديد)

- يشمل منطقة البحيرات العظمى، وأهم الصناعات به :
- الصناعات الهندسية، مثل : الإلكترونيات والسيارات والأدوات الكهربائية.
- الصناعات الخفيفة والاستهلاكية، مثل : الصناعات الغذائية، والنسيجية وغيرها.

٣ إقليم روسيا وأوكرانيا يبدو فى شكل مناطق متباعدة، وأهمها المراكز الصناعية فى :

- إقليم موسكو وما حولها.
- إقليم الأورال.

٤ إقليم شرق آسيا أهم المراكز الصناعية به :

- جزيرة هونشو باليابان.
- جمهورية كوريا.
- مناطق عديدة بالصين.

٥ مراكز صناعية حديثة أخرى توجد فى :

- آسيا، فى : - دول جنوب شرق القارة، منها : ماليزيا، سنغافورة، إندونيسيا، وتايلاند.
- دول الخليج العربى : معظم الصناعات بها صناعات بترولية.
- الأوقيانوسية، فى : أستراليا.
- أمريكا الجنوبية، فى : البرازيل، الأرجنتين، وشيلي.
- أفريقيا، فى : مصر، ودولة جنوب أفريقيا.
- أمريكا الشمالية، فى : كندا، والمكسيك.

اختبر : تنتشر المراكز الصناعية الحديثة بأفريقيا فى أطرافها

(الشمالية والجنوبية - الشمالية والغربية - الجنوبية والغربية - الغربية والشرقية)

(*) الاتحاد الأوروبي : هو تجمع اقتصادى وسياسى مهم أنشأ عام ١٩٥١م من تجمع ٦ دول أوروبية ثم زاد عدد الدول المنضمة إليه ليبلغ ٢٨ دولة عام ٢٠١٣م.

٢ تدريب

أمامك بعض البطاقات لأهم الأقاليم والمراكز الصناعية الحديثة في العالم، ضع كل منطقة من المناطق الصناعية الآتية في البطاقة التي تناسبها :

إقليم غرب ووسط أوروبا

(١) البحيرات العظمى.

(٢) موسكو وما حولها.

(٣) دول الخليج.

إقليم شمال شرق الولايات المتحدة الأمريكية

(٤) دولة جنوب أفريقيا.

(٥) فرنسا.

(٦) شيلي.

إقليم شرق آسيا

(٧) ألمانيا.

(٨) إقليم الأورال.

(٩) بريطانيا.

إقليم روسيا وأوكرانيا

(١٠) ماليزيا.

(١١) مصر.

(١٢) كندا.

مراكز صناعية حديثة

(١٣) كوريا.

(١٤) جزيرة هونشو.

اجابات
اسئلة الكتاب
التمرير
امتحان

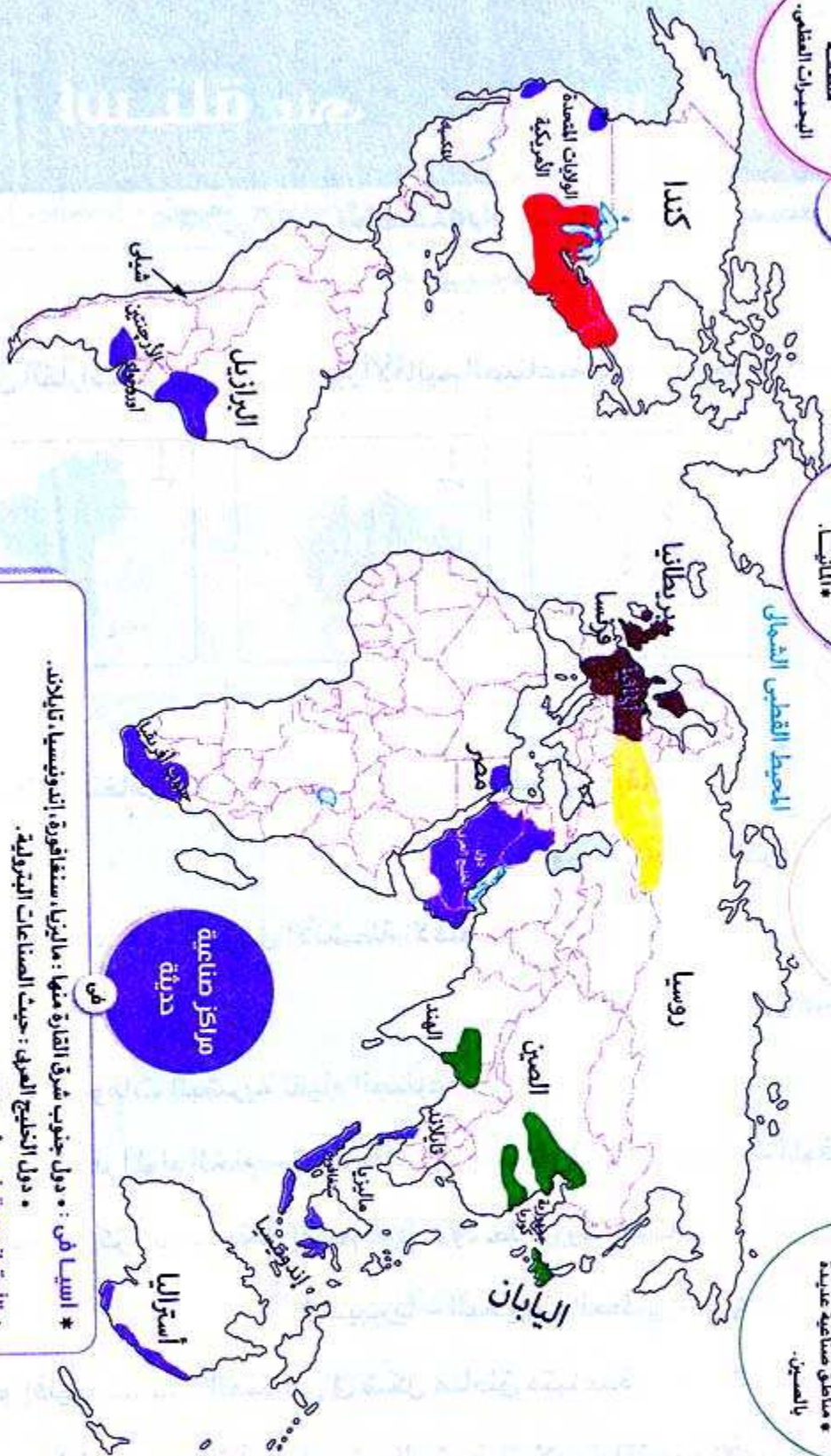
أهم نقاط الدرس

أقليم شمال شرق الولايات المتحدة الأمريكية
أهم المراكز
منطقة البحيرات العظمى.

أقليم غرب ووسط أوروبا
أهم المراكز
بريطانيا، فرنسا، ألمانيا.

أقليم روسيا وأوكرانيا
أهم المراكز
موسكو وما حولها، إقليم الأورال.

أقليم شرق آسيا
أهم المراكز
جزيرة هونغ كونغ، جمهورية كوريا، مناطق صناعية عديدة بالصين.



مقومات الصناعة

مقومات طبيعية

تتمثل في

- * المواد الخام (معدنية - زراعية - حيوانية).
- * مصادر الطاقة اللازمة.
- * الموقع المتميز

مقومات بشرية

تتمثل في

- * توافر الأيدي العاملة الماهرة.
- * التطور العلمي.
- * توافر الأسواق.
- * رأس المال.
- * السياسات الحكومية.

- * آسيا في : دول جنوب شرق افريقيا، سنغافورة، إندونيسيا، تايلاند.
- * دول الخليج العربى : حيث الصناعات البترولية.
- * اللاتينية أمريكية في : أمريكا الشمالية في : كندا، المكسيك.
- * أمريكا الجنوبية في : البرازيل، الأرجنتين، تشيلي.
- * أفريقيا في : مصر، ودولة جنوب أفريقيا.



١ اختر الإجابة الصحيحة من بين البدائل التالية :

(١) أى من القارات التالية يقع بها أكبر الأقاليم الصناعية بالعالم الجديد ؟



د



ج



ب



ا

(٢) تُعد دولة سنغافورة من أهم المراكز الصناعية الحديثة بقارة

(أوروبا - آسيا - أفريقيا - أمريكا الشمالية)

(٣) تمثل قمة الهرم في الأنشطة الاقتصادية المتطورة.

(الصناعة - الزراعة - التجارة - الرعى)

(٤) من أهم المقومات البشرية لقيام الصناعة

(توافر المواد الخام - توافر الأسواق - توافر مصادر الطاقة - الموقع المتميز) (دمياط ١٤)

(٥) من أهم المراكز الصناعية في إقليم غرب ووسط أوروبا الصناعى

(سيبيريا - البحيرات العظمى - بريطانيا - موسكو) (الأقصر ١٩)

(٦) يبدو إقليم الصناعى في شكل مناطق متباعدة.

(غرب ووسط أوروبا - شمال شرق الولايات المتحدة الأمريكية - روسيا وأوكرانيا -

شرق آسيا) (بور سعيد ١٥)

(٧) أى من الدول التالية تُعد من المراكز الصناعية الحديثة بقارة أمريكا الشمالية ؟

(كوبا - شيلي - بنما - المكسيك)

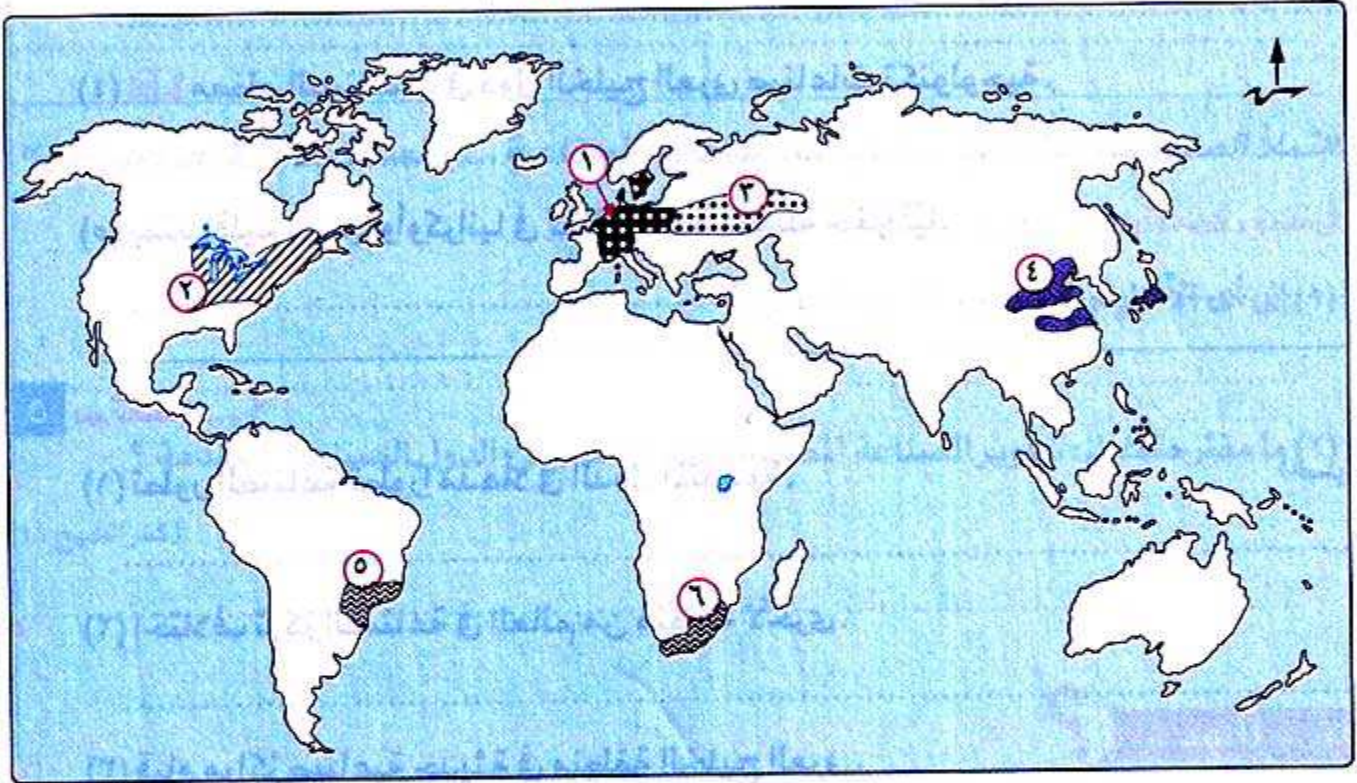
(٨) توجد مراكز صناعية حديثة في جنوب شرق آسيا بدولة

(اليابان - ماليزيا - الصين - أستراليا) (الإسكندرية ٢١)

(٩) يوجد بدولة في قارة أمريكا الجنوبية مراكز صناعية حديثة.

(بوليفيا - بيرو - فنزويلا - شيلي) (الغربية ١٩)

٢ أمامك خريطة للعالم، اكتب ما تشير إليه الأرقام التي عليها :



(١) إقليم صناعي (٢) إقليم صناعي

(٣) إقليم صناعي (٤) إقليم صناعي

(٥) مركز صناعي حديث (٦) مركز صناعي حديث

٣ أكمل العبارات الآتية بكلمات مناسبة :

(١) ارتفعت بعض الدول النامية بمستوى شعوبها في الصناعة ، مثل مصر و و

(٢) من مقومات الصناعة الرئيسية التي تتوافر في الأقاليم الصناعية الكبرى و

(٣) من المناطق الصناعية في إقليم شرق آسيا الصناعي جزيرة باليابان. (السويس ١٤)

٤ أعد كتابة العبارات الآتية صحيحة بعد تصويب ما بها من خطأ :

(١) التطور العلمي ورأس المال من العوامل الطبيعية اللازمة لقيام الصناعة الحديثة. (بني سويف ١٤)

(٢) أكبر الأقاليم الصناعية في العالم الجديد إقليم غرب ووسط أوروبا. (البحيرة ١٤)

(٣) جمهورية كوريا من أهم مراكز إقليم غرب ووسط أوروبا الصناعي. (الغربية ١٤)

(٤) معظم الصناعات في دول الخليج العربي صناعات تكنولوجية.

(٥) يمتد إقليم روسيا وأوكرانيا في كتلة واحدة متصلة جغرافيًا.

٥ بم تفسر... ؟

(١) تطور الصناعة تطورًا مذهلاً في الدول المتقدمة. (البحيرة ١٧)

(٢) اختلاف تركيز الصناعة في العالم من منطقة لأخرى.

(٣) قيام مراكز صناعية حديثة في منطقة الخليج العربي.

٦ ما النتائج المترتبة على : الوحدة الاقتصادية الأوروبية ؟

(بورسعيد ٢١)

٧ ماذا يحدث إذا ... ؟

(١) أخذت الدول النامية بالأساليب العلمية في الصناعة. (بورسعيد ١٨)

(٢) نجحت الدول العربية في تطبيق السياسات الاقتصادية للاتحاد الأوروبي. (الشرقية ٢١)

(١) مقومات الصناعة الطبيعية والبشرية.

(٢) أهم المراكز الصناعية الحديثة في العالم.

٩ «تملأ الصين أسواقنا وشوارعنا وبيوتنا بمنتجاتها الصناعية... وتتساءل لماذا لا نصنعها نحن».

في ضوء هذه العبارة، أجب عما يأتي :

(١) إلى أي الأقاليم الصناعية تنتمي الصين ؟

(٢) ما مقترحاتك لـ : تطوير الصناعة المصرية لتصبح مصر من الدول الصناعية المتقدمة ؟

(كفر الشيخ ١٨)

٩ أسئلة للتمييز

١٠ اختر الإجابة الصحيحة مما بين القوسين :

(١) عملت العديد من الدول المتقدمة على تطوير الصناعة بها وذلك من خلال

(الاعتماد على الطاقة المتجددة - الاهتمام بالبحث العلمي -

توفير المواد الخام المحلية - فتح أسواق خارجية)

(٢) يقع أكبر الأقاليم الصناعية في العالم الجديد إلى الغرب من المحيط

(الهادي - الهندي - الأطلنطي - القطبي الجنوبي)

(٣) تعتمد المراكز الصناعية الحديثة في جنوب غرب قارة آسيا على الصناعات

(البترولية - الهندسية - الغذائية - النسيجية)

١١ حدد تقييمك لمصادقية العبارة الآتية :

تُعد التكنولوجيا الحديثة أساس تقدم وتطور الصناعة.

١٢ حدد ثلاثة أمثلة لكل من :

(١) الصناعات الثقيلة.

(٢) الصناعات الاستخراجية.

(٣) الصناعات التحويلية.

١٣ أيد بالأدلة الجغرافية صحة العبارة الآتية :

يتوافر بالوطن العربي مقومات الصناعة ليصبح منطقة صناعية عالمية.



مشروع بحثي مقترح على الوحدة الأولى

اتجه الإنسان إلى ممارسة الأنشطة الاقتصادية ليستطيع الحياة على سطح الأرض، مع زيادة عدد البشر تطورت هذه الأنشطة وتعددت...

من خلال دراستك قم بعمل مشروع بحثي يتضمن المحاور الآتية :

* أنواع الزراعة في العالم ومناطق توطنها وأهم خصائصها.

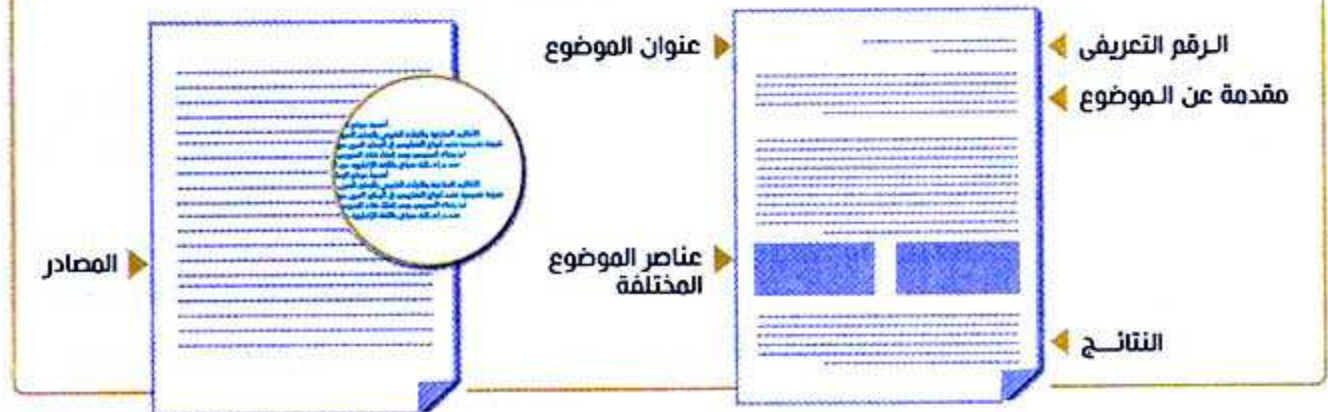
* أهم الموارد الحيوانية والعوامل المؤثرة فيها والصناعات القائمة عليها.

* شريحة تقليدية عن أهم الأقاليم الصناعية في العالم وأهم الصناعات الخاصة بكل إقليم وأثر الصناعة على البيئة.

* تمثيلاً بيانياً أو حسابياً يعبر عن أحد جوانب بحثك.

* فقرة لا تقل عن خمسة أسطر باللغة الأجنبية الأولى تعبر عن أهمية الاتجاه إلى موارد الطاقة النظيفة والمتجددة.

الإرشادات العامة محاور المشروع



نماذج لبعض الدول النامية والمتقدمة

الوحدة 2

أهداف الوحدة

في نهاية دراسة هذه الوحدة يتوقع أن يكون التلميذ قادرًا على أن :

- يميز بين دول العالم النامي والمتقدم.
- يحدد الموقع الجغرافي لبعض دول العالم النامي والمتقدم.
- يوزع تضاريس هذه الدول على الخريطة.
- يقارن بين الأقاليم المناخية التي تسود هذه الدول.
- يوقع مناطق النبات الطبيعي بهذه الدول على الخريطة.
- يفسر أسباب تركيز السكان في الأقاليم المختلفة بهذه الدول.
- يفسر أسباب تنوع الأنشطة الاقتصادية بهذه الدول.
- يعدد أهم المشكلات الاقتصادية في بعض دول العالم.
- يشرح مجالات التنمية الاقتصادية لهذه الدول.
- يستخلص أسباب التقدم الاقتصادي في دول العالم المتقدم.
- يستنتج الدروس المستفادة من تجارب بعض دول العالم المتقدم.
- يوقع أهم مدن هذه الدول على الخريطة.
- يقدر جهود بعض شعوب هذه الدول من أجل التقدم.

جمهورية الهند.

الدرس الأول

جمهورية البرازيل الاتحادية.

الدرس الثاني

جمهورية نيجيريا الاتحادية.

الدرس الثالث

ألمانيا الاتحادية.

الدرس الرابع

الولايات المتحدة الأمريكية.

الدرس الخامس

تترك الحرية لكل محافظة في اختيار دراسة ثلاث دول فقط على أن تكون باقى الدول للقراءة



• أسئلة تفاعلية



• أسئلة الكتاب المدرسى

• أسئلة للتمييز.

• أسئلة من امتحانات المحافظات.

على الوحدة الثانية.

أسئلة

كل درس تشمل

مشروع بحثي

مقتراح



كتاب المراجعة والامتحانات

مفكرة الامتحان

انظر

•مراجعة على كل درس

وأسئلة عامة على الوحدة

•مراجعة على الوحدة

أهداف دروس الوحدة الثانية

الدرس الأول

جمهورية الهند (من الدول النامية).



من المتوقع بعد الانتهاء من الدرس أن يكون التلميذ قادرًا على أن :

- يحدد الموقع الفلكي والجغرافي للهند.
- يوزع تضاريس الهند على الخريطة.
- يقارن بين الأقاليم المناخية التي تسود الهند.
- يوقع مناطق النبات الطبيعي على الخريطة.
- يفسر تركيز السكان في الأقاليم المختلفة.
- يفسر تنوع الأنشطة الاقتصادية الزراعية والصناعية في الهند.
- يحدد أهم مدن الهند على الخريطة.
- يقدر جهود الشعب الهندي في تنمية بلاده والنهوض بها.

الدرس الثاني

جمهورية البرازيل الاتحادية (من الدول النامية).



من المتوقع بعد الانتهاء من الدرس أن يكون التلميذ قادرًا على أن :

- يحدد الموقع الفلكي والجغرافي للبرازيل.
- يحدد تضاريس البرازيل على الخريطة.
- يقارن بين الأقاليم المناخية التي تسود البرازيل.
- يوقع مناطق النبات الطبيعي على خريطة البرازيل.
- يستنتج أسباب تركيز السكان في الأقاليم المختلفة.
- يفسر أسباب تنوع الأنشطة الاقتصادية الزراعية والصناعية في البرازيل.
- يوزع أهم مدن البرازيل على خريطة صماء لها.

الدرس الثالث

جمهورية نيجيريا الاتحادية (من الدول النامية).



من المتوقع بعد الانتهاء من الدرس أن يكون التلميذ قادرًا على أن :

- يحدد الموقع الفلكي والجغرافي لنيجيريا.
- يوزع تضاريس نيجيريا على الخريطة.
- يقارن بين الأقاليم المناخية التي تسود نيجيريا.
- يوزع مناطق النبات الطبيعي والحيوان على خريطة صماء.
- يفسر أسباب تركيز السكان في الأقاليم المختلفة في نيجيريا.
- يفسر تنوع الأنشطة الاقتصادية الزراعية والصناعية في نيجيريا.
- يوقع أهم مدن نيجيريا على الخريطة.

تابع أهداف دروس الوحدة الثانية

الدرس الرابع ألمانيا الاتحادية (من الدول المتقدمة).



من المتوقع بعد الانتهاء من الدرس أن يكون التلميذ قادرًا على أن :

- يحدد الموقع الفلكي والجغرافي لألمانيا.
- يوزع تضاريس ألمانيا الاتحادية على الخريطة.
- يقارن بين الأقاليم المناخية التي تسود ألمانيا.
- يحدد مناطق النبات الطبيعي في ألمانيا.
- يفسر أسباب تركيز السكان على الأودية وفي المدن الكبرى.
- يقيم الأنشطة الاقتصادية في ألمانيا.

الدرس الخامس الولايات المتحدة الأمريكية (من الدول المتقدمة).



من المتوقع بعد الانتهاء من الدرس أن يكون التلميذ قادرًا على أن :

- يحدد الموقع الفلكي والجغرافي للولايات المتحدة الأمريكية.
- يوزع تضاريس الولايات المتحدة الأمريكية على الخريطة الصماء.
- يقارن بين الأقاليم المناخية التي تسود الولايات المتحدة الأمريكية.
- يحدد مناطق النبات الطبيعي في الولايات المتحدة الأمريكية.
- يعدد أسباب تركيز السكان في الأقاليم المختلفة في الولايات المتحدة الأمريكية.
- يستخلص أسباب تنوع الأنشطة الاقتصادية الزراعية والصناعية.
- يحدد أهم مدن الولايات المتحدة الأمريكية على الخريطة.



جمهورية الهند إحدى الدول النامية بقارة آسيا وقد شهدت تطورها في مجالاتها السياسية والاقتصادية،

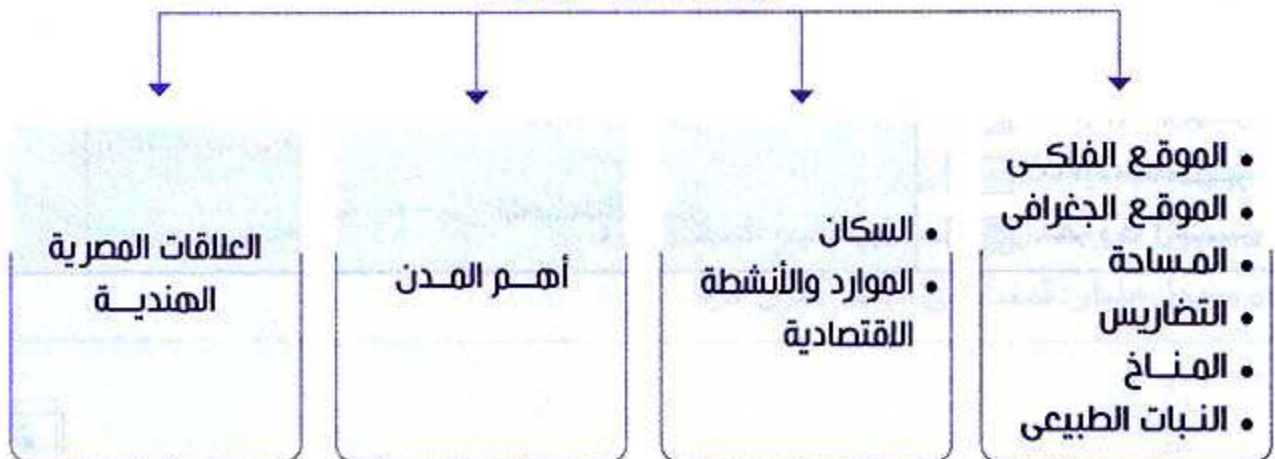
• ما هي أهم مقوماتها الطبيعية ؟

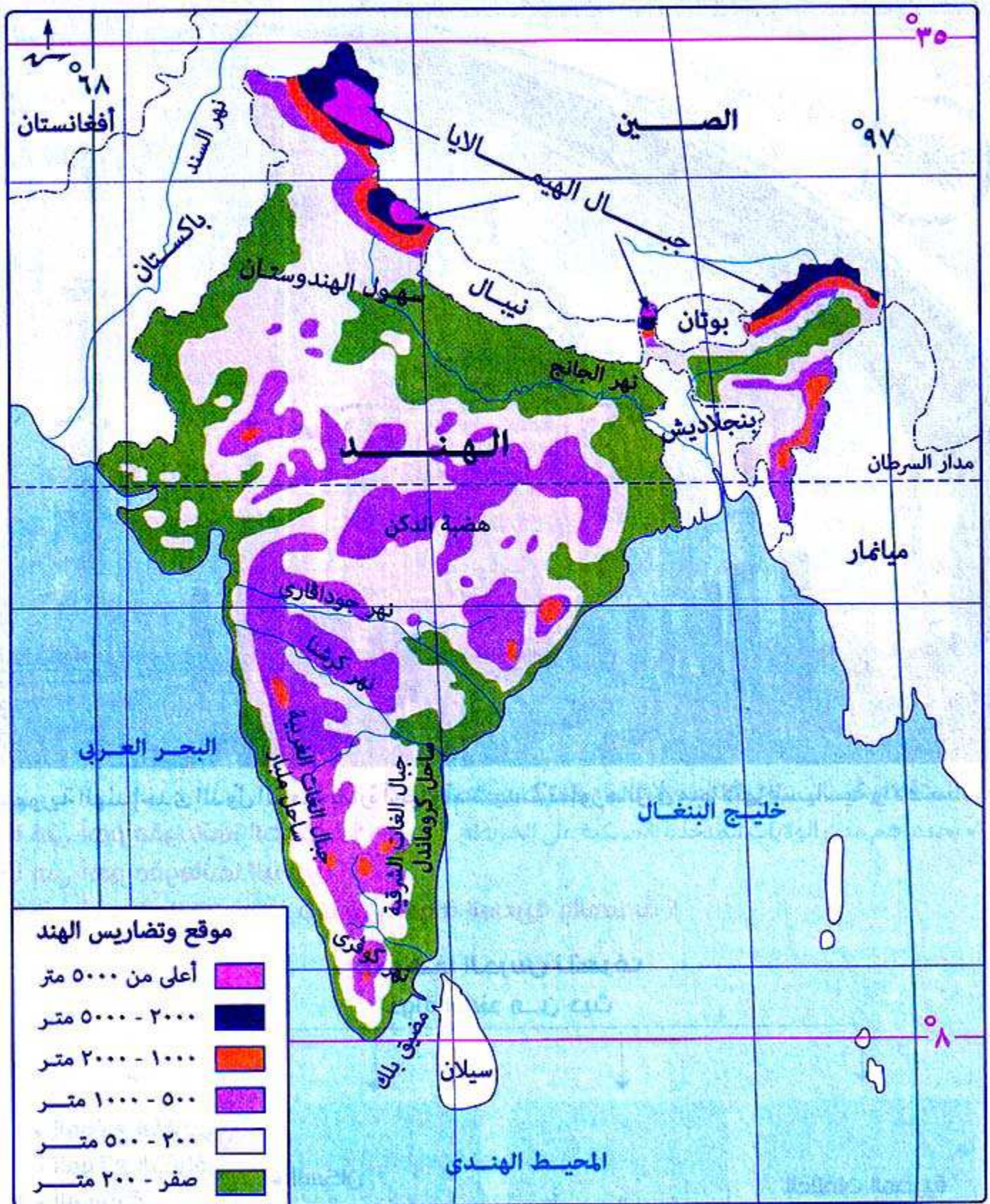
• ما هي أهم مقوماتها البشرية ؟

• ما هي أهم الصادرات والواردات بين الدولة المصرية والهندية ؟

في هذا الدرس نتعرف

دولة الهند من حيث







الموقع الفلكي

تمتد الهند فيما بين :

- دائرتي عرض ٨° ، ٣٥° شمالاً.
- خطي طول ٦٨° ، ٩٧° شرقاً.

الموقع الجغرافي

* تقع الهند في قارة آسيا، ويحدها من :

- الشمال : دول نيبال والصين وبوتان.
- الشمال الغربي : دولة باكستان.
- الغرب والجنوب الغربي : البحر العربي.
- الشمال الشرقي : دولة ميانمار.
- الشرق والجنوب الشرقي : خليج البنغال.

!! * دولة الهند عبارة عن شبه جزيرة تحيط بها المياه من جميع الجهات عدا جهة الشمال وهي على شكل مثلث رأسه في الجنوب.

* دولة بنجلاديش يقع معظمها داخل حدود دولة الهند.

المساحة

* تبلغ حوالي ٣,٢ مليون كم^٢.

التضاريس

جبال تتمثل في :

- جبال الهيمالايا في الشمال.
- جبال الغات الشرقية.
- جبال الغات الغربية.

هضاب تتمثل في :

هضبة الدكن ممتدة في شكل مثلث متقطع بالأنهار.

سهول تشمل :

* سهول فيضية، منها :

- سهول نهر الجانج في الشمال الشرقي.
- سهول أنهار صغيرة في الجنوب أهمها سهل نهر كوفري.

* سهول ساحلية، تتمثل في :

- سهول كروماندل : تمتد على خليج البنغال شرقاً.
- سهول ملبار : تمتد على البحر العربي غرباً.



جبال الهيمالايا

حدد أوجه التشابه بين :

الجانب الشرقي، والجانب الغربي في دولة الهند.

المناخ

- * يزيد المتوسط السنوي لدرجات الحرارة على ٣٠° مئوية ويقل كلما اتجهنا نحو الشمال.
- * تسقط أمطار موسمية صيفية غزيرة في الجنوب تقل بالاتجاه نحو الشمال.

النبات الطبيعي

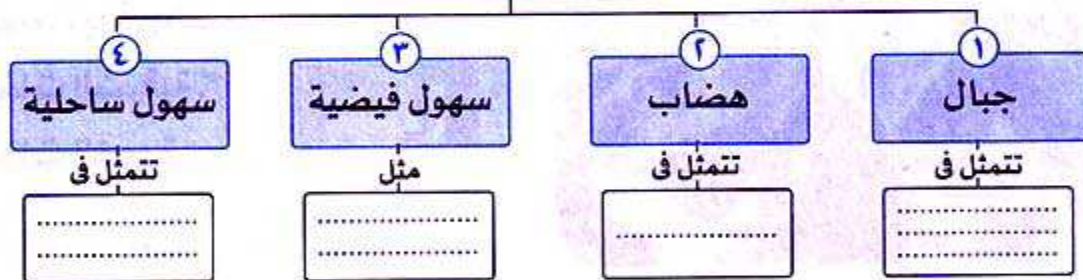
- * تنمو الغابات الموسمية على السواحل الغربية والشرقية.
- * تنمو الحشائش القصيرة على هضبة الدكن.

١ تدريب

١ أكمل المخططين الآتيين :



أهم تضاريس الهند



٢ اختر الإجابة الصحيحة مما بين القوسين :

- (١) أي من الدول الآسيوية التالية يقع معظمها داخل حدود دولة الهند ؟
(باكستان - بنجلاديش - ميانمار - نيبال)
- (٢) تنمو على سواحل الهند الغربية والشرقية.
(الغابات الموسمية - الغابات الاستوائية - غابات البحر المتوسط - الغابات النفضية)
- (٣) تمتد سهول كروماندل في الهند.
(شمال غرب - شمال شرق - جنوب غرب - جنوب شرق)



السكان

* تُعد الهند ثاني دول العالم سكاناً (بعد الصين)، وقد واجهت زيادة عدد السكان (المشكلة السكانية) بسياسات تنموية مختلفة، أهمها الاهتمام بالتعليم وتطوير البحث العلمي، مما أدى إلى تطوير الزراعة والصناعة.

* يتركز السكان في السهول الساحلية والفيضية حيث المدن الرئيسية، مثل :
• نيودلهي (العاصمة). • بومباي.

الموارد والأنشطة الاقتصادية

* تتوافر الموارد الاقتصادية بالهند (سواء موارد زراعية أو ثروات معدنية)، مما أدى إلى تنوع الأنشطة الاقتصادية، كالتالي :

* توجد في الهند مساحات واسعة من الأرض الزراعية تعتمد في زراعتها على مياه الأمطار أو الأنهار.

تذكر أن (من الوحدة الأولى) :

الهند من أكبر الدول في إنتاج الكثير من المحاصيل الزراعية، مثل : القمح، قصب السكر، القطن.

* تنتج الهند محاصيل زراعية (حبوب غذائية، ومحاصيل سكرية، ونسيجية، وزيتية)، وقد زاد إنتاج الهند منها بكميات كبيرة في السنوات الأخيرة.

١
الزراعة

أ الثروة الحيوانية

* توجد بالهند ثروة حيوانية ضخمة بسبب كثرة المراعي، حيث يوجد بها :
• عدد كبير من الأبقار (٢٢٠ مليون رأس) في العالم، إلا أن القيمة الاقتصادية لها محدودة **بم تفسر؟** بسبب تحريم الديانة الهندوسية أكل لحوم الأبقار.
• أعداد كبيرة من الجاموس، والأغنام.

٢
الإنتاج الحيواني

ب الثروة السمكية

* تُعد الهند من الدول الرئيسية المنتجة للأسماك **بم تفسر؟** لأنها تطل على مسطحات مائية بجبهات ساحلية طويلة، مثل : خليج البنغال والبحر العربي.

ما وجه الارتباط بين : عدد سكان الهند والإنتاج الزراعي فيها ؟

* **الثروات المعدنية، أهمها: الحديد** (انظر الشكل البياني بالدرس الثالث من الوحدة الأولى).

* **مصادر الطاقة:**

- الفحم (ثالث دول العالم إنتاجاً له) ويُعد أساس قيام صناعة الحديد والصلب وتوجد مناجمه في هضبة الدكن.
- الطاقة النووية والكهربائية وقد لجأت إليها الهند لافتقارها للبتروول ومصادر الطاقة الأخرى.

٣
الثروات
المعدنية
ومصادر
الطاقة

* شهدت الهند قفزات سريعة في تطور الصناعة **بم تفسر؟** بسبب:

- توافر مقومات الصناعة بها.
- الاهتمام بالتعليم والبحث العلمي.

* **أهم الصناعات:**

- الحديد والصلب.
- السيارات.
- الإلكترونيات.
- الآلات.
- المنسوجات.
- الصناعات الغذائية.
- الصناعات الكيماوية.

٤
الصناعة

أهم مدن الهند



نيودلهي — العاصمة السياسية

- * تتميز بوجود الجامعات والمراكز الصناعية والمعالن التاريخية المهمة.

بومباي — العاصمة التجارية

- * أهم مدن الساحل الغربي فهي تُعد من أكبر الموانئ ومن أكبر المدن الصناعية بالهند.

حيدر أباد

- * توجد بهضبة الدكن.
- * من أكبر مراكز الصناعات اليدوية.
- * تضم العديد من المراكز الإسلامية.

أهم المدن
في الهند

المحيط الهندي

جزر
أنديمان
نيكوبار



العلاقات المصرية الهندية

* تشهد العلاقات المصرية الهندية نموًا كبيرًا على كافة الأصعدة (المستويات) :

- السياسية.
- الاقتصادية.
- الثقافية والعلمية.



٢ تدريب

١ اختر الإجابة الصحيحة مما بين القوسين :

- (١) تعد دولة الهند ثالث دول العالم إنتاجًا لـ.....
(البترول - الغاز الطبيعي - الفحم - الكهرباء)
- (٢) تقع العاصمة التجارية للهند في جهتها.....
(الشرقية - الغربية - الجنوبية - الشرقية)
- (٣) أي مما يلي تقوم مصر باستيراده من الهند ؟
(الصناعات الكيماوية - قطع غيار السيارات - الأسمدة المصنعة - الصناعات الجلدية)

٢ اكتب كلمة (صواب) أمام العبارة الصحيحة، وكلمة (خطأ) أمام العبارة غير الصحيحة، مع التصويب :

- (١) تُعد الهند ثاني دول العالم سكانًا بعد روسيا.
- (٢) يتركز سكان الهند في السهول الفيضية والسهول الساحلية.
- (٣) استطاعت الهند مواجهة زيادة عدد السكان بسياسات تنمية مختلفة.
- (٤) من الصناعات الموجودة بالهند المنسوجات والبتروكيماويات.

٣ دلل جغرافيًا على صحة العبارتين الآتيتين :

- (١) تمتلك الهند ثروة حيوانية ضخمة.

- (٢) توجد علاقات اقتصادية بين مصر والهند.

أهم نقاط الدرس



جمهورية الهند

النبات الطبيعي

- * تنمو بها :
 - غابات موسمية على سواحلها الغربية والشرقية.
 - حشائش قصيرة على هضبة الدكن.

المناخ

- * يزيد المتوسط السنوي لدرجات الحرارة عن ٣٠° ويقل كلما اتجهنا شمالاً.
- * تسقط أمطار موسمية صيفية غزيرة في الجنوب وتقل بالاتجاه شمالاً.

التضاريس

- * جبال : • الهيمالايا في الشمال.
- الغات الشرقية والغات الغربية.
- * هضبة الدكن.
- * سهول فيضية :
 - سهول نهر الجانج في الشمال الشرقي.
 - سهول نهر كوكري في الجنوب.
- * سهول ساحلية :
 - كروماندل على خليج البنغال شرقاً.
 - ملبار على البحر العربي غرباً.

الموقع الجغرافي

- * الشمال : نيبال والصين وبتان.
- * الشمال الشرقي : ميانمار.
- * الشمال الغربي : باكستان.
- * الشرق والجنوب الشرقي :
 - خليج البنغال.
 - الغرب والجنوب الغربي : البحر العربي.

الموقع الفلكي

- * تمتد بين :
 - دائرتي عرض ٨° ٣٥° شمالاً.
 - خطي طول ٦٨° ٩٧° شرقاً.

الصناعة

- * تطورت الصناعة بها، بسبب توافر مقومات الصناعة والاهتمام بالتعليم والبحث العلمي ومن أهم الصناعات بها :
 - الحديد والصلب.
 - السيارات.
 - الإلكترونيات.
 - الآلات.
 - المنسوجات.
 - الصناعات الغذائية والكيمياوية.

الثروات المعدنية ومصادر الطاقة

- * الحديد : من أهم الثروات المعدنية.
- * الفحم : تعد ثالث دول العالم إنتاجاً له ويعد أساس قيام صناعة الحديد والصلب وتوجد مناجمه في هضبة الدكن.
- * طاقة نووية وكهربائية.

الثروة السمكية

- * تُعد من الدول الرئيسية المنتجة للأسماك لأنها تطل على مسطحات مائية بحبيبات ساحلية طويلة مثل خليج البنغال والبحر العربي.

الثروة الحيوانية

- * توجد بها ثروة حيوانية ضخمة لكثرة المراعي حيث يوجد عدد كبير من الأبقار والجاموس والأغنام.

الزراعة

- * يوجد بها مساحات واسعة من الأراضي الزراعية تعتمد على مياه الأمطار والأنهار.
- * زاد إنتاجها من المحاصيل الزراعية في السنوات الأخيرة.

السكان

- * ثاني دول العالم سكاناً بعد الصين.
- * يتركز سكانها في السهول الساحلية والفيضانية حيث المدن الرئيسية مثل :
 - نيودلهي.
 - بومباي.

تستورد مصر منها

- * الشاي.
- * السمسم.
- * قطع غيار وسائل النقل.
- * غزل القطن.
- * التوابل.

تصدر مصر لها

- * الفوسفات.
- * الجلود.
- * القطن.
- * الأسمدة الخام والصنعة.

العلاقات الاقتصادية المصرية الهندية

أهم المدن

- * نيودلهي : العاصمة السياسية.
- * بومباي : العاصمة التجارية.
- * حيدرآباد : من أكبر مراكز الصناعات اليدوية.

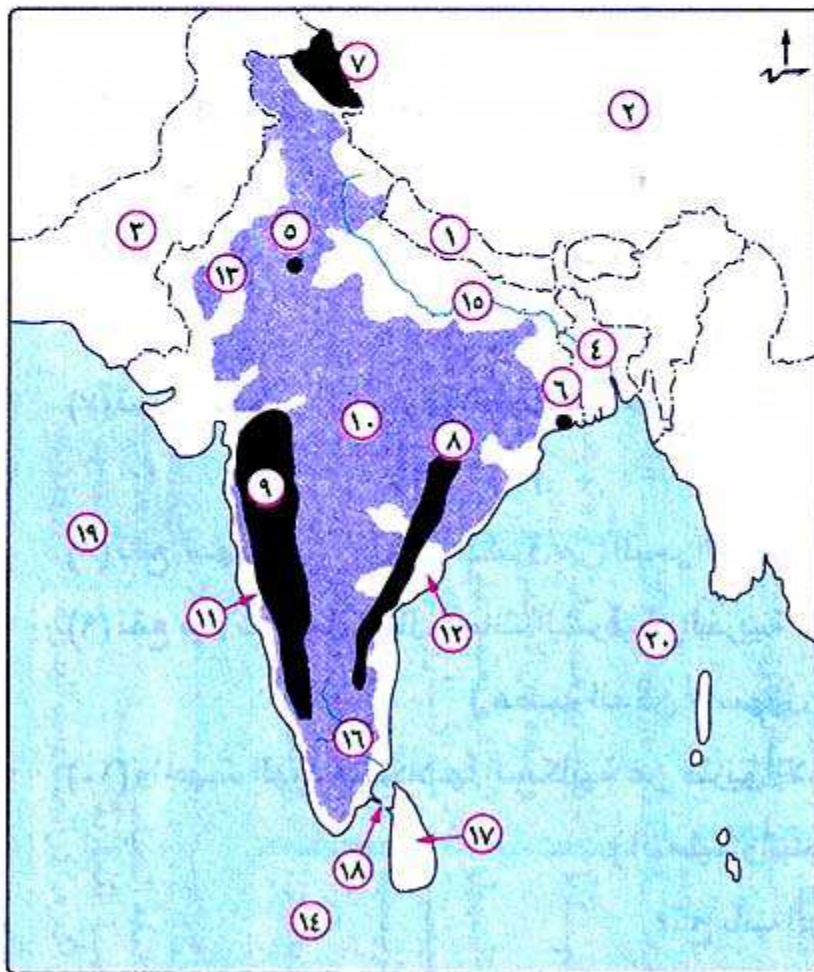


١ اختر الإجابة الصحيحة مما بين القوسين :

- (١) أى الدول الآسيوية التالية تعد الأولى على العالم في عدد السكان ؟
(الهند - الصين - اليابان - تايلاند)
- (٢) تقوم الزراعة في الهند معتمدة على
(مياه الأنهار والأمطار - المياه الجوفية والأمطار - الآبار ومياه البحيرات - المياه الجوفية والأنهار)
- (٣) تختفى مساهمة الهند في التجارة الدولية للبترول بسبب
(قلة رؤوس الأموال المستخدمة في عملية التعدين - الاعتماد عليه كمصدر للطاقة في الصناعة - تدنى نسبة تواجده بالأراضي الهندية - صعوبة نقله وتوزيعه)
- (٤) يمتد في شمال شرق الهند سهول نهر
(كوفرى - كرشنا - الجانج - جودافارى)
- (٥) توجد سهول نهر كوفرى دولة الهند.
(شمال - جنوب - شرق - غرب)
- (٦) تقع معظم دولة داخل حدود الهند.
- (٧) تمتد سهول إلى الغرب من خليج البنغال وتكون موازية له.
(بوتان - باكستان - بنجلاديش - نيبال) (كفر الشيخ ١٦)
- (٨) تقع سهول إلى الشرق من البحر العربي.
(كروماندل - ملبار - الجانج - الهندوستان)
- (٩) تقع بين سلاسل جبال الغات الشرقية والغربية
(هضبة الدكن - سهول الجانج - سهول كروماندل - سهول ملبار)
- (١٠) واجهت الهند مشكلاتها السكانية عن طريق الاهتمام ب.....
(التعليم والبحث العلمى - خفض معدلات الإنجاب - فتح باب الهجرة للخارج - الاهتمام بالرعاية الصحية)
- (١١) يزيد المتوسط السنوى للحرارة في الهند على ٣٠°م ويقل كلما اتجهنا
(شرقاً - غرباً - شمالاً - جنوباً) (الشرقية ١٢)

- (١٢) تنمو الغابات في سهول كروماندل وسهول ملبار.
(الموسمية - الباردة - المعتدلة - الاستوائية)
- (١٣) تحتل الهند مراكز متقدمة في إنتاج محصول
(قصب السكر - المطاط - بنجر السكر - الزيتون)
- (١٤) تُعد الهند ثالث دول العالم إنتاجًا لـ (البترول - الغاز الطبيعي - الفحم - الحديد)
- (١٥) تعد مدينة أهم مدن الساحل الغربي في الهند.
- (١٦) تعد مدينة من أكبر مراكز الصناعات اليدوية في الهند.
(نيودلهي - بومباي - كلكتا - حيدر أباد - بومباي) (البحيرة ١٩)
- (١٧) تصدر مصر للهند
(الجلود - التوابل - الشاي - غزل القطن)

٢ أمامك خريطة للهند، اكتب ما تدل عليه الأرقام التي عليها :



- (١) دولة
(٢) دولة
(٣) دولة
(٤) دولة
(٥) مدينة
(٦) مدينة
(٧) جبال
(٨) جبال
(٩) جبال
(١٠) هضبة
(١١) سهل
(١٢) سهل
(١٣) سهول
(١٤) المحيط
(١٥) نهر
(١٦) نهر
(١٧) جزيرة
(١٨) مضيق
(١٩) مسطح مائي
(٢٠) خليج

٣ أكمل الجدول الآتي :

يحد الهند من	
(١) الشمال و
(٢) الشمال الشرق
(٣) الشمال الغربى
(٤) الشرق والجنوب الشرق
(٥) الغرب والجنوب الغربى

٤ اكتب كلمة (صواب) أمام العبارة الصحيحة، وكلمة (خطأ) أمام العبارة غير الصحيحة، مع التصويب :

- (١) تسقط أمطار موسمية صيفية غزيرة في جنوب الهند وتقل بالاتجاه نحو الشمال. ()
- (٢) يتركز سكان الهند في السهول الساحلية والفيضية. ()
- (٣) تنتج الهند المحاصيل الغذائية بكميات كبيرة خاصة في السنوات الأخيرة. ()
- (٤) معظم الصناعات بالهند صناعات بدائية بسيطة. ()
- (٥) توجد مناجم الفحم في السواحل الشرقية بالهند. ()
- (٦) نيودلهى العاصمة التجارية للهند ويومباى العاصمة السياسية. ()
- (٧) تستورد مصر من الهند الفوسفات والقطن. ()

٥ بم تفسر ... ؟

- (١) نمو الغابات الموسمية على السواحل الغربية والشرقية بالهند.

.....

- (٢) تنوع الأنشطة الاقتصادية في الهند. (المنيا ١٧)

.....

- (٣) توجد بالهند ثروة حيوانية ضخمة. (دمياط ٢١)

.....

- (٤) القيمة الاقتصادية المحدودة للأبقار في الهند. (القاهرة ٢١)

.....

(٥) تعد الهند من الدول الرئيسية المنتجة للأسماك.

(٦) تفوق الهند في صناعة الحديد والصلب. (ج. سيناء ١٧)

(٧) لجوء الهند لاستخدام الطاقة النووية والكهربائية. (كفر الشيخ ١٨)

(٨) شهدت الهند قفزات سريعة في تطور الصناعة. (أسيوط ٢١)

٦ ما النتائج المترتبة على ... ؟

(١) إشراف الهند على محيطات وخليجان بجهات ساحلية طويلة. (السويس ١٦)

(٢) افتقار الهند لمصادر الطاقة مثل البترول. (الغربية ١٨)

٧ دلل جغرافيًا على صحة كل عبارة مما يأتي :

(١) يكاد يتشابه الجانب الشرقي والجانب الغربي بالهند.

(٢) تتوافر بالهند العديد من مقومات الصناعة.

٨ حدد ما يميز كل مدينة مما يأتي :

(١) نيودلهي : (السويس ٢١)

(٢) بومباي :

(٣) حيدر أباد : (القليوبية ٢١)

٩ «على هامش أعمال قمة منتدى الهند - أفريقيا التقى الرئيس المصري برئيس الوزراء الهندي وتناول اللقاء دعم العلاقات المصرية الهندية في مختلف المجالات وزيادة التبادل التجاري بين البلدين». في ضوء هذه العبارة، وضّح :

(١) السياسات التي واجهت بها الهند المشكلة السكانية.

(٢) أهم العلاقات بين كل من مصر والهند.

(النيان ١٨)

أسئلة للتمييز

١٠ اختر الإجابة الصحيحة مما بين القوسين :

- (١) يفصل مضيق بلك بين الهند و.....
 - (٢) أطول حدود برية لدولة الهند تمتد مع دولة
 - (٣) الدولة التي يفتقد معظمها للاتصال الأرضي مع الدول المجاورة إلا عن طريق المرور بالهند هي دولة
 - (٤) تُعد جبال الهيمالايا حدًا طبيعيًا بين الهند ودولة
 - (٥) يضيق اتساع هضبة الدكن كلما اتجهنا
 - (٦) تتميز السهول الساحلية للهند على البحر العربي بالضيق بسبب وجود
 - (٧) تقل درجة الحرارة في أقصى شمال الهند بسبب البُعد عن دائرة الاستواء و.....
 - (٨) تُعد مركزًا للقرار الاقتصادي في المعاملات التجارية بدولة الهند مدينة
- (جزيرة هنشو - جزر نيكوبار - جزيرة سيلان - جزر أندمان)
- (باكستان - الصين - بوتان - بنجلاديش)
- (باكستان - الصين - بوتان - بنجلاديش)
- (جنوبًا - غربًا - شمالًا - شرقًا)
- (جبال الغات الغربية - هضبة الدكن - جبال الغات الشرقية - جبال الهيمالايا)
- (نيودلهي - حيدر أباد - بومباي - كلكتا)

١١ اكتب كلمة (صواب) أمام العبارة الصحيحة، وكلمة (خطأ) أمام العبارة غير الصحيحة، مع التصويب :

- () (١) يساهم تنوع مظاهر السطح بدولة الهند في ازدهار السياحة بها.
- () (٢) تغطي الثلوج بعض المناطق الشمالية في الهند.
- () (٣) تقع معظم دولة الهند ضمن نطاق الإقليم المدارى الحار.
- () (٤) تُعد ثروات هضبة الدكن عاملاً مهماً في صناعة الحديد والصلب بالهند.

١٢ دلل جغرافياً على صحة كل عبارة مما يأتي :

- (١) تساهم المحاصيل المدارية في تعميق العلاقات الثنائية بين الهند ومصر.
- (٢) تساهم مصر في زيادة الإنتاج الزراعى لدولة الهند بطريقة غير مباشرة.



جمهورية البرازيل الاتحادية

(من الدول النامية)

الدرس الثانى



- البرازيل هي إحدى دول العالم النامي إلا أنها تمتلك مساحة كبيرة وموارد متنوعة وثروة بشرية رائعة،
- أين تقع البرازيل ؟ وما هي الخصائص الطبيعية والبشرية التي تمتلكها ؟
 - ما هو حجم التعاون والتبادل التجارى بين مصر والبرازيل ؟

فى هذا الدرس نتعرف

دولة البرازيل من حيث

العلاقات المصرية
البرازيلية

أهم المدن

السكان
الموارد والأنشطة
الاقتصادية

الموقع الفلكي
الموقع الجغرافي
المساحة
التضاريس
المناخ
النبات الطبيعي



الموقع الفلكي

- دائرتي عرض 5° شمالاً، 33° جنوباً.
- خطي طول 35° ، 74° غرباً.

الموقع الجغرافي

* تقع البرازيل في قارة أمريكا الجنوبية، ويحدها :

- عدد كبير من الدول هي : جيانا، وسورينام، وجويانا، وفنزويلا، وكولومبيا، وبيرو، وبوليفيا، وباراجواي، والأرجنتين، وأوروغواي.
- من الشرق والشمال الشرقي : المحيط الأطلنطي.

المساحة

- * تبلغ أكثر من 8,5 مليون كم².
- * تشغل البرازيل حوالي نصف مساحة قارة أمريكا الجنوبية، وبذلك تُعد أكبر دول القارة مساحة.

التضاريس

هضاب يسود المظهر الهضبي معظم الأراضي البرازيلية، حيث توجد :

- * هضبة البرازيل في الوسط والجنوب.
- * بعض الهضاب في الشمال.

سهول

- * سهول فيضية، مثل سهول نهر الأمازون.
- * سهول ساحلية، ضيقة تطل على المحيط الأطلنطي.



المناخ

* الموقع الفلكي للبرازيل أدى إلى :

- وقوع معظمها في المناطق الاستوائية، والمدارية؛ ولذلك :
- يسود المناخ الاستوائي (شديد الحرارة طوال العام) في حوض الأمازون والسهل الساحلي الشمالي.

- يسود المناخ المداري الحار في السهول الشرقية وهضبة البرازيل.
- سيادة المناخ المعتدل الرطب أقصى الجنوب الشرقي للبرازيل.

ما النتائج المترتبة على ؟

الموقع الفلكي للبرازيل

النبات الطبيعي

- * تسود الغابات الاستوائية في حوض الأمازون، وتُعد أكبر غابة استوائية في العالم.
- * تنمو حشائش السافانا فوق هضبة البرازيل.
- * تنمو الحشائش المعتدلة في أطراف البرازيل الجنوبية.

١ تدريب

١ اكتب كلمة (صواب) أمام العبارة الصحيحة، وكلمة (خطأ) أمام العبارة غير الصحيحة، مع التصويب :

- (١) تُعد البرازيل أكبر دول أمريكا الجنوبية مساحة.
- (٢) يسود المظهر الجبلي معظم دولة البرازيل.
- (٣) تُعد الغابات الاستوائية في البرازيل أكبر غابة استوائية في العالم.
- (٤) تنمو حشائش السافانا بالبرازيل في سهول نهر الأمازون.
- (٥) تنمو الحشائش المعتدلة في الأطراف الشمالية للبرازيل.

٢ دلل جغرافيًا على صحة العبارة الآتية : تنوع المناخ في البرازيل.

السكان

- * يُعد سكان البرازيل خليطًا من معظم الأجناس **دلل؟** حيث يوجد بها :
 - الهنود الحمر (السكان الأصليون).
 - العناصر السوداء (ذات أصول أفريقية).
 - الأوروبيون.

عناصر
السكان

- * حوالي ٢٠٣ مليون نسمة عام ٢٠١٤م، يمثلون نصف (٥٠٪) عدد سكان أمريكا الجنوبية.
- * تُعد البرازيل أكبر دول القارة سكانًا، ومع ذلك تعاني من قلة عدد السكان **بم تفسر؟** بسبب مساحتها الواسعة ووجود مناطق شبه خالية من السكان، مثل : سهول الأمازون (أي أن : عدد السكان لا يتناسب مع مساحتها).

عدد
السكان

- * الساحل الجنوبي الشرقي حيث يوجد العديد من المدن الرئيسية، مثل :
 - مدينة ريو دي جانيرو (العاصمة القديمة).
 - مدينة ساو باولو.
- * أنشأت البرازيل عدة مدن لإعادة توزيع السكان نحو الداخل، أهمها :
 - مدينة برازيليا (العاصمة) لتعمير هضبة البرازيل.
 - مدينة ميناؤوس (على نهر الأمازون).

مناطق
تركز
السكان



الموارد والأنشطة الاقتصادية

* يتنوع النشاط الاقتصادي بالبرازيل، ويشمل :

١ الزراعة

- * تشغل الأراضي الزراعية حوالي ٢٪ من مساحة البرازيل ويوجد معظمها في الجنوب.
- * يعمل بالزراعة أكثر من ربع (٢٥٪) القوى العاملة في البرازيل.
- * تشتهر البرازيل بإنتاج محاصيل زراعية عديدة، وتُعد **أولى** دول العالم إنتاجًا لكل من :
• البن. • قصب السكر.

٢ قطع الأشجار

- * يتم قطع أشجار الغابات الاستوائية والحدائق وتصنيع أخشابها.

٣ الرعي

- * يُمثل الرعي حرفة مهمة في الاقتصاد البرازيلي حيث تمتلك البرازيل ثروة حيوانية كبيرة وذلك لوجود المراعي الدائمة (الغنية) في شمال هضبة البرازيل مما جعلها من الدول الرئيسية المنتجة والمصدرة للحوم.

٤ صيد الأسماك

- * تُعد البرازيل من الدول المنتجة للأسماك **بم تفسر؟ بسبب :**
• امتلاكها سواحل طويلة على المحيط الأطلنطي والبحر الكاريبي.
• وجود نهر الأمازون.

٥ التعدين

- * يوجد بالبرازيل ثروة معدنية كبيرة يقوم عليها نشاط التعدين، من أهمها :
• الحديد. • البوكسيت. • المنجنيز.

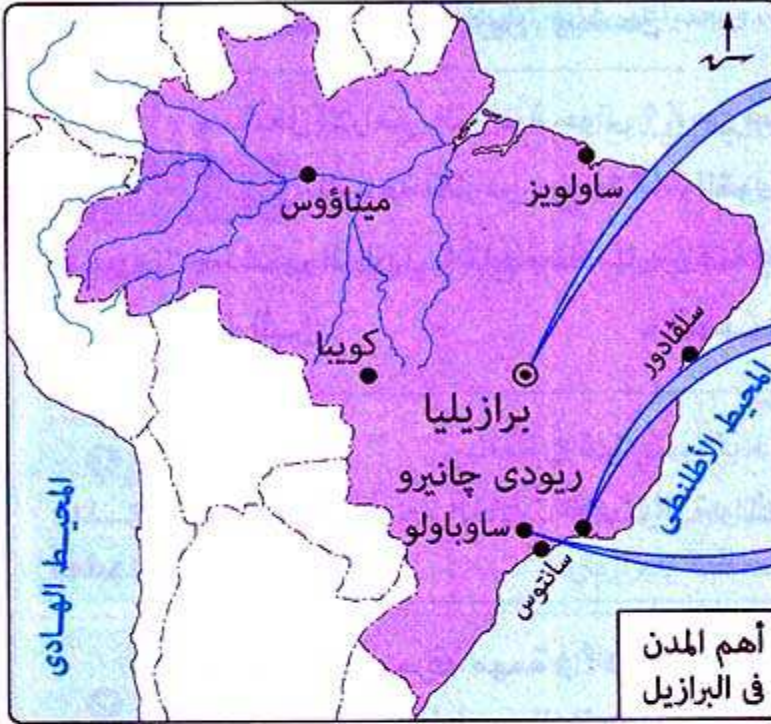
٦ الصناعة

- * **في الماضي :** كانت الصناعة تقتصر على الصناعات الغذائية والمنسوجات والصناعات الكيماوية.

- * **الآن :** تطورت الصناعة وظهرت الصناعات الثقيلة، مثل :
• الحديد والصلب. • السيارات. • الطائرات.
• الآلات الكهربائية. • الأسمدة.

- * تتركز الصناعة في الجنوب الشرقي للبرازيل بالقرب من مدينتي :
ساو باولو، وريودي جانيرو، وغيرهما من المدن الرئيسية الأخرى.

أهم مدن البرازيل



برازيليا — العاصمة الجديدة

ريودي جانيرو — العاصمة القديمة
* تعد واحدة من أجمل مدن العالم.

ساوباولو — أهم الموانئ
* تقع على المحيط الأطلسي.
* تشتهر بمبانيها الضخمة وشواطئها الرملية الواسعة.

العلاقات المصرية البرازيلية

* ترتبط مصر بالبرازيل بعلاقات قديمة تمتد إلى القرن الـ ١٩م، منها العلاقات الاقتصادية وهناك اهتمام بتوسيع نطاق التبادل التجاري بين البلدين **حيث** :

تستورد مصر من البرازيل

- الحبوب الغذائية، خاصة الزيتية.
- السكر.
- المعادن، خاصة الحديد.
- اللحوم.
- البن.

تصدر مصر إلى البرازيل

- الأقطان.
- المواد الغذائية.
- المنسوجات.
- الأسمدة.



٢ تدريب

١ اختر الإجابة الصحيحة مما بين القوسين :

- (١) من المناطق شبه الخالية من السكان في البرازيل
(الساحل الجنوبي الشرقي - سهول الأمازون - هضبة البرازيل - الجنوب الغربي)
(٢) يعمل بـ..... أكثر من ربع القوى العاملة بالبرازيل.
(الصناعة - الزراعة - قطع الأشجار - التعدين)
(٣) تتركز الصناعة في البرازيل.
(جنوب غرب - جنوب شرق - شمال غرب - شمال شرق)
(٤) تُعد العاصمة القديمة للبرازيل.
(ريودي جانيرو - برازيليا - ساو باولو - ميناؤوس)

٢ بم تفسر... ؟

- (١) تعاني البرازيل من قلة عدد السكان رغم أن عدد سكانها يبلغ ٢٠٣ مليون نسمة.
.....

(٢) امتلاك البرازيل ثروة حيوانية كبيرة.
.....

٣ دلل جغرافيًا على صحة كل عبارة مما يلي :

- (١) سكان البرازيل خليط من معظم الأجناس.
.....

(٢) تطور الصناعة في البرازيل.
.....

(٣) وجود تبادل تجاري بين مصر والبرازيل.
.....



أهم نقاط الدرس

جمهورية البرازيل



الموقع الجغرافي

- * يحدها :
 - عدد كبير من الدول هي :
 - جيانا ، وسورينام ، وجويانا ،
 - وفنزويلا ، وكولومبيا ، وبيرو ،
 - وبوليفيا ، وباراجواي ، والأرجنتين ،
 - وأورجواي .
 - من الشرق والشمال الشرقي : المحيط الأطلنطي .

الموقع الفلكي

- * تمتد بين :
 - دائرتي عرض
 - ٥° شمالاً ، ٣٣° جنوباً .
 - خطي طول
 - ٣٥° ، ٧٤° غرباً .

التضاريس

- * هضاب : يسودها المفهر الهضبي حيث توجد :
 - هضبة البرازيل في الوسط والجنوب .
 - بعض الهضاب في الشمال .
 - * سهول :
 - فيضية : سهول نهر الأمازون .
 - ساحلية : ضيقة تطل على المحيط الأطلنطي .

المناخ

- * يقع معظمها في المناطق الاستوائية والمدارية ولذلك يسود :
 - المناخ الاستوائي في حوض الأمازون والسهل الساحلي الشمالي .
 - المناخ المداري الحار في السهول الشرقية وهضبة البرازيل .
 - * يسود المناخ المعتدل الرطب أقصى جنوبها الشرقي .

النبات الطبيعي

- * تسود الغابات الاستوائية في حوض الأمازون وتعد أكبر غابة استوائية في العالم .
- * تنمو حشائش السافانا فوق هضبة البرازيل .
- * تنمو الحشائش المعتدلة في أطراف البرازيل الجنوبية .

الزراعة

- * تُعد أولى دول العالم إنتاجاً للبن وقصب السكر .
- * يعمل بالزراعة أكثر من ربع القوى العاملة في البرازيل .

السكان

- * تُعد أكبر دول قارة أمريكا الجنوبية سكاناً .
- * تضم خليطاً من معظم الأجناس (الهنود الحمر، والعناصر السوداء، والأوروبيون) .
- * يتركز سكانها في : الساحل الجنوبي الشرقي ، مثل : مدينة ريو دي جانيرو وساوپاولو .
- * أنشئت عدة مدن لإعادة توزيع السكان نحو الداخل أهمها :
 - برازيليا .
 - مينأوس .

التعدين

- * من أهم المعادن التي تمتلكها :
 - الحديد .
 - البوكسيت .
 - المنجنيز .

صيد الأسماك

- * تُعد من الدول المنتجة للأسماك لامتلاكها سواحل طويلة على المحيط الأطلنطي والبحر الكاريبي ووجود نهر الأمازون .

الري

- * تمتلك ثروة حيوانية كبيرة وذلك لوجود مراعي دائمة في شمال هضبة البرازيل .

قطع الأشجار

- * يتم قطع أشجار الغابات الاستوائية والمدارية وتصنيع أخشابها .

الصناعة

- * تتركز الصناعة في جنوب شرق البرازيل بالقرب من مدينتي ساوپاولو وريودي جانيرو وغيرهما من المدن الرئيسية الأخرى .

تستورد مصر منها

- * السكر .
- * البن .

تصدر مصر لها

- * الحبوب الغذائية ، خاصة الرتيبة .
- * المعادن ، خاصة الحديد .
- * اللحوم .

العلاقات المصرية البرازيلية

- * الأقطان .
- * الأثاث .

أهم المدن

- * برازيليا : العاصمة الجديدة .
- * ريو دي جانيرو : العاصمة القديمة .
- * ساوپاولو : أهم الموانئ بالبرازيل .



أسئلة على

الدرس الثاني

أسئلة تفاعلية



السؤال المسبوق بالعلامة () من أسئلة الكتاب المدرسي

مستويات عليا

تطبيق

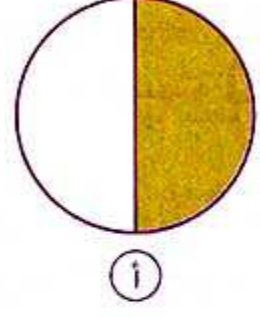
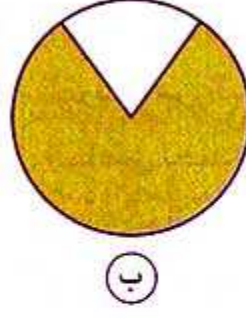
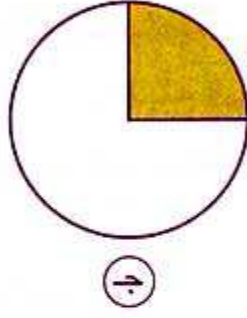
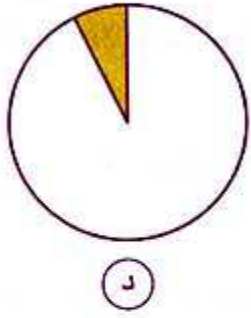
فهم

تذكر

١ اختر الإجابة الصحيحة من بين البدائل التالية :

(١) أى من الأشكال الآتية يعبر عن نسبة العاملين في الزراعة بدولة البرازيل ؟

نسبة العاملين في الزراعة



(٢) يتمثل المناخ المدارى الحار بالبرازيل فى

(حوض نهر الأمازون - هضبة البرازيل - حوض نهر بارانا - هضبة جيانا)

(٣) أى من المدن البرازيلية التالية تم إنشائها لإعادة توزيع السكان نحو الداخل ؟

(ساو باولو - ريو دي جانيرو - ميناؤوس - سانتوس)

(٤) يحده المحيط الأطلنطى دولة البرازيل من جهة

(الغرب والشمال الغربى - الشرق والجنوب الشرقى - الغرب والجنوب الغربى)

(٥) ترتفع درجات الحرارة فى دولة البرازيل كلما اتجهنا نحو

(الشمال - الجنوب - الشرق - الغرب)

(٦) يسود سطح البرازيل المظهر (الجبلى - السهلى - الهضبى - الصحراوى) (الأقصر ١٩)

(٧) يسود المناخ فى أقصى جنوب شرق البرازيل.

(الاستوائى - المدارى الحار - المعتدل الرطب - الصحراوى المعتدل)

(٨) ينتشر الإقليم الاستوائى فى دولة البرازيل فى الجهات

(الشمالية - الجنوبية - الشرقية - الغربية)

(٩) تنمو فى الأطراف الجنوبية للبرازيل.

(الغابات الاستوائية - الغابات المدارية - الحشائش الحارة - الحشائش المعتدلة)

(١٠) من أسباب قلة الكثافة السكانية فى دولة البرازيل وجود مناطق غير مأهولة بالسكان

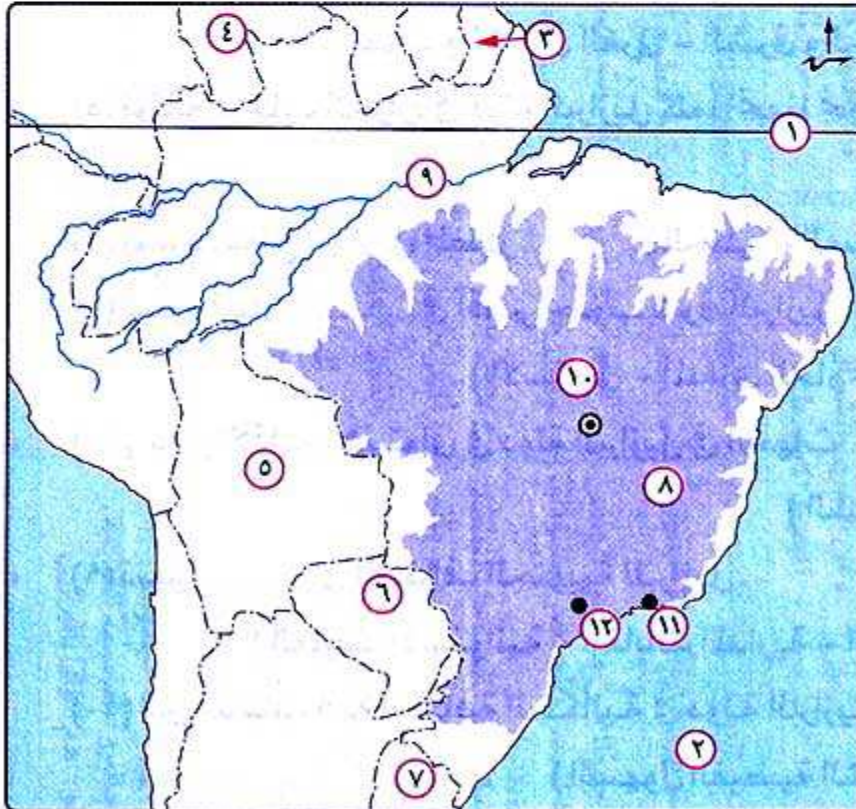
(السهول الفيضية الشمالية - السهول الساحلية الشرقية -

مثل

(السهول الفيضية الجنوبية - السهول الساحلية الغربية)

- (١١) تُربي الحيوانات في الجهات الجنوبية لدولة البرازيل اعتمادًا على
 (الحشائش المعتدلة - الحشائش الحارة - الحشائش الباردة - النباتات الصحراوية)
- (١٢) أنشئت عدة مدن لتعمير هضبة البرازيل من أهمها
 (ساو باولو - ريو دي جانيرو - برازيليا - ميناؤوس) (أسوان ٢١)
- (١٣) ميناء من أهم موانئ البرازيل على المحيط الأطلنطي.
 (بومباي - برازيليا - ساو باولو - ميناؤوس) (كفر الشيخ ١٦)
- (١٤) تتركز أهم المناطق الصناعية للبرازيل في المدن (المطلة على المحيط الأطلنطي -
 الحديثة في الشمال - القريبة من البحر الكاريبي - الحديثة في الغرب)
- (١٥) كانت القرارات السياسية بدولة البرازيل في الماضي تصدر من مدينة
 (ريودي جانيرو - برازيليا - ساو باولو - سلفادور)
- (١٦) تصدر مصر للبرازيل (اللحوم - الحديد - السكر - الأقطان) (القاهرة ١٦)
- (١٧) تستورد مصر من البرازيل (الحبوب الزيتية - الأقطان - الأسمدة - الأثاث)
- (١٨) معظم الصادرات المصرية للبرازيل تتركز على
 (المواد المصنعة - المواد الخام - مصادر الطاقة - المعادن)

٢ أمامك خريطة لجمهورية البرازيل، اكتب ما تدل عليه الأرقام :



- (١) دائرة
 (٢) المحيط
 (٣) دولة
 (٤) دولة
 (٥) دولة
 (٦) دولة
 (٧) دولة
 (٨) هضبة
 (٩) نهر
 (١٠) العاصمة
 (١١) مدينة
 (١٢) مدينة

٣ أكمل العبارات الآتية بما يناسبها من كلمات :

- (١) تم إنشاء مدينة برازيليا لتعمير.....
- (٢) البرازيل من الدول الرئيسية المنتجة والمصدرة ل..... نظرًا لوجود المراعى الدائمة (الغنية).
- (٣) تتركز الصناعة بالبرازيل بالقرب من مدينتى ساو باولو و.....

٤ اكتب كلمة (صواب) أمام العبارة الصحيحة، وكلمة (خطأ) أمام العبارة غير الصحيحة، مع التصويب :

- (١) تُعد البرازيل أكبر دول أمريكا الجنوبية من حيث المساحة وعدد السكان. ()
- (٢) يسود المناخ الاستوائى شديد الحرارة حوض الأمازون طوال العام. (مطروح ١٥) ()
- (٣) تُعد غابات حوض الأمازون أكبر غابة استوائية في العالم. ()
- (٤) تنمو حشائش السافانا في حوض نهر الأمازون بالبرازيل. (ج. سيناء ١٦) ()
- (٥) السكان الأصليون لجمهورية البرازيل الاتحادية من الزنوج الأفريقيين. (دمياط ١٦) ()
- (٦) يتركز سكان البرازيل على الساحل الشمالى الشرقى حيث المدن الرئيسية. ()
- (٧) تشغل الأراضى الزراعية حوالى ٢٪ من مساحة البرازيل ويوجد معظمها في الجنوب. ()
- (٨) تُعد البرازيل أولى دول العالم في إنتاج البن وقصب السكر. ()
- (٩) قطع الأشجار من الأنشطة الاقتصادية في البرازيل. ()
- (١٠) توجد المراعى الدائمة في شمال هضبة البرازيل. ()
- (١١) يمثل الرعى أحد الركائز الأساسية للاقتصاد البرازيلى. ()
- (١٢) تعتمد دولة البرازيل في إنتاج الأسماك على المياه المالحة من المحيط الهادى والأطلنطى. ()
- (١٣) تمتلك البرازيل ثروة معدنية كبيرة. ()
- (١٤) تتركز الصناعة في البرازيل بالجنوب الغربى بالقرب من مدينتى ساو باولو وريودى جانيرو. ()
- (١٥) برازيليا هى العاصمة القديمة للبرازيل وتُعد واحدة من أجمل مدن العالم. ()

٥ بم تفسر...؟

(١) تعاني البرازيل من قلة عدد السكان رغم أن سكانها يمثلون نصف سكان قارة أمريكا الجنوبية.

(مطروح ١٧)

(٢) نقل العاصمة في جمهورية البرازيل الاتحادية من ريودي چانيرو إلى برازيليا.

(أسوان ١٩)

(٣) امتلاك البرازيل ثروة حيوانية كبيرة.

(الوادي الجديد ١٦)

(٤) تُعد البرازيل من الدول المنتجة للأسماك.

(القليوبية ١٦)

(٥) تركز سكان البرازيل في منطقة الساحل الجنوبي الشرقي.

٦ ما النتيجة المترتبة على...؟

(١) الموقع الفلكي للبرازيل.

(٢) امتلاك البرازيل ثروة حيوانية كبيرة.

٧ دلل جغرافيًا على صحة كل عبارة من العبارات الآتية :

(١) تنوع المناخ في البرازيل.

.....

.....

(٢) تنوع النبات الطبيعي في البرازيل.

.....

.....

(٣) سكان البرازيل خليط من أجناس مختلفة. (كفر الشيخ ١٩)

.....

.....

(٤) قوة العلاقات الاقتصادية بين مصر والبرازيل. (الفيوم ١٣)

.....

.....

٨ حدد ما يميز كل مدينة مما يأتي :

(١) برازيليا. (المنيا ٢١)

.....

.....

(٢) ريو دي جانيرو. (بورسعيد ٢١)

.....

.....

(٣) ساو باولو. (بنى سويف ١٩)

.....

.....

أسئلة للتمييز ؟

٩ اختر الإجابة الصحيحة مما بين القوسين :

- (١) يعد أكبر اتساع عرضي لدولة البرازيل عند التقاء حدودها مع دولة
(بيرو - بوليفيا - كولومبيا - فنزويلا)
- (٢) يسود الإقليم المعتدل الرطب في دولة البرازيل بالقرب من حدودها مع دولة
(أورجواي - بوليفيا - بيرو - فنزويلا)
- (٣) أكبر الأقاليم المناخية في البرازيل الإقليم المناخي
(المداري الحار - المعتدل الرطب - الاستوائي - الصحراوي الحار)
- (٤) يسقط المطر طوال العام بدولة البرازيل في الأجزاء الشمالية و
(الجهات الغربية - الأطراف الجنوبية - هضبة البرازيل - المناطق الشرقية)
- (٥) أقصى اتساع للسهول الفيضية في دولة البرازيل يوجد في الجهات
(الغربية - الشمالية - الجنوبية - الشرقية)
- (٦) أي مما يلي تعد الأكثر انتشارًا في دولة البرازيل ؟
(حشائش السافانا - حشائش الإستبس - حشائش التندرا - النباتات الصحراوية)
- (٧) تنتشر حرفة قطع الأشجار بصورة كبيرة في الجهات
(الغربية - الجنوبية - الشرقية - الشمالية)
- (٨) تعتمد حرفة قطع الأشجار في البرازيل على أشجار
(جوز الهند والزيتون - الصنوبر والشربين - المطاط والماهوجني - الفلين والأرز)

١٠ بم تفسر: تحقق دولة البرازيل الاكتفاء الذاتي من اللحوم الحمراء ؟



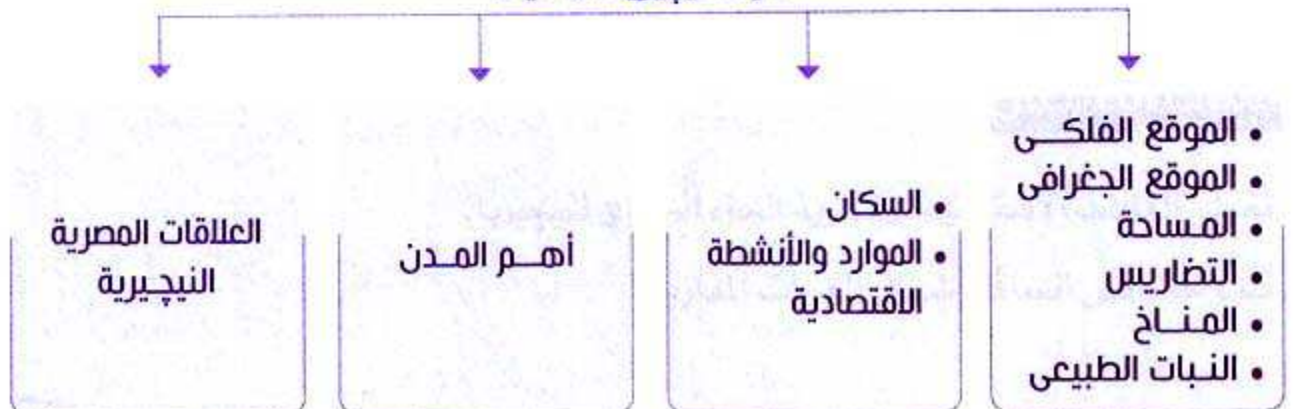
تُعد دولة نيجيريا إحدى دول العالم الثالث وقد استقلت عن بريطانيا وأصبحت دولة اتحادية تضم ١٢ ولاية تبعاً للقبائل التي تعيش فيها والتي بدأت تتداخل مع بعضها البعض،

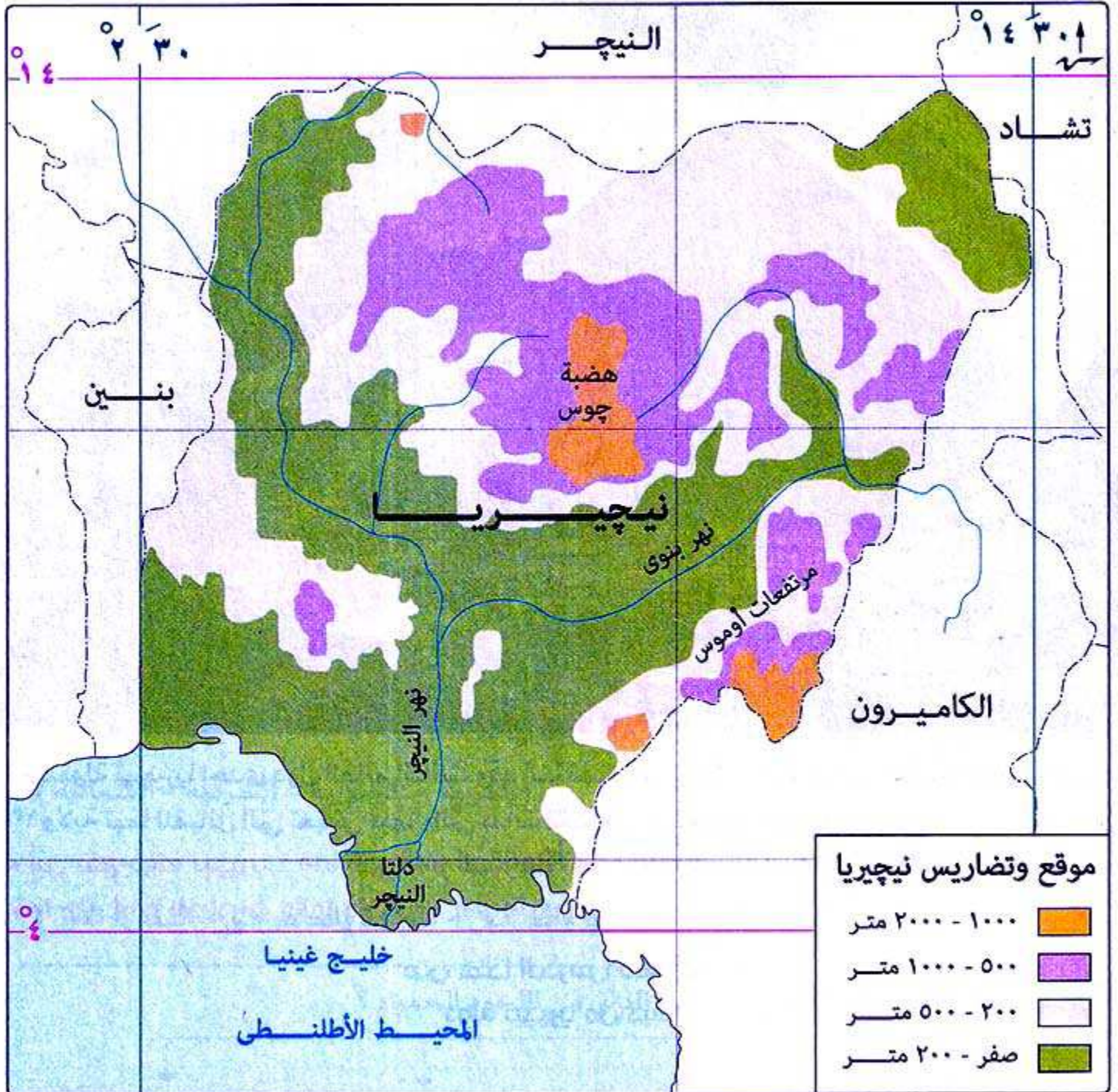
• أين تقع دولة نيجيريا ؟ وما هي أهم المقومات الطبيعية والبشرية التي تمتلكها ؟

• ما هي أهم الصادرات والواردات بين مصر ونيجيريا ؟

في هذا الدرس نتعرف

دولة نيجيريا من حيث







الموقع الفلكي تمتد نيجيريا فيما بين :

- دائرتي عرض 4° ، 14° شمالاً.
- خطي طول 30° ، 14° شرقاً.

الموقع الجغرافي

* تقع نيجيريا غرب قارة أفريقيا، ويحدها من :

- الشمال : دولة النيجر.
- الشرق : دولتي الكاميرون وتشاد.
- الجنوب : المحيط الأطلنطي (خليج غينيا).
- الغرب : دولة بنين.

المساحة تبلغ نحو ٩٢٤ ألف كم^٢.

التضاريس تنقسم إلى :

سهول تشمل :

- * سهول ساحلية منخفضة على خليج غينيا جنوباً ينتهي عندها نهر النيجر في دلتا واسعة.
- * سهول فيضية تعرف ب (السهول الشمالية) يجري بها نهر النيجر الذي تعتمد عليه نيجيريا في الري والزراعة.

هضاب تتمثل في هضبة جوس والتي ترتفع إلى ١٧٨٠ متر، وتقع وسط السهول الشمالية.

تلال عبارة عن أراضٍ مرتفعة تلي السهول الساحلية، وتزداد ارتفاعاً في الشمال الغربي.

المناخ

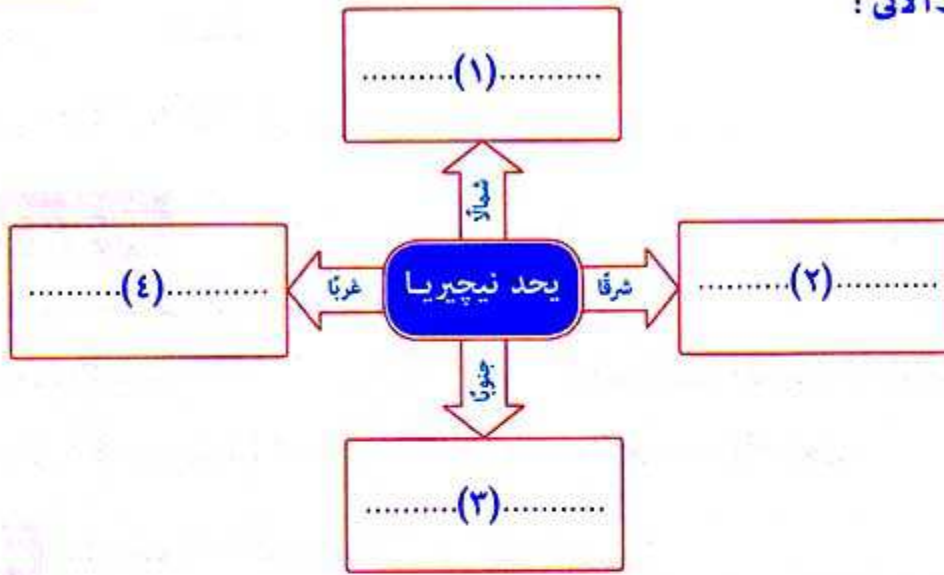
- * يقع معظم نيجيريا ضمن نطاق المناخ المداري ذي الحرارة المرتفعة والمطر الصيفي، بينما تقع الأطراف الجنوبية ضمن المناخ الاستوائي ذي الحرارة المرتفعة والأمطار طوال العام.

النبات الطبيعي

- * تغطي الغابات الاستوائية والمدارية الجزء الجنوبي لنيجيريا.
- * تنمو حشائش السافانا شمال الغابات المدارية.

١ تدريب

١ أكمل المخطط الآتي :



٢ اختر الإجابة الصحيحة مما بين القوسين :

- (١) تقع هضبة جوس وسط السهول في نيجيريا.
(الشمالية - الجنوبية - الشرقية - الغربية)
- (٢) يقع معظم نيجيريا ضمن
(المناخ الاستوائي - المناخ المداري - المناخ الصيني - مناخ البحر المتوسط)
- (٣) تغطي الغابات الجزء الجنوبي من نيجيريا.
(الاستوائية والمدارية - النفضية والمخروطية - المخروطية والموسمية - الموسمية والاستوائية)

السكان

* نحو ١٧٨ مليون نسمة عام ٢٠١٤م، وبذلك تُعد نيجيريا أكبر دول قارة أفريقيا من حيث عدد السكان.

عدد السكان

* يتركز السكان في :

- الغرب.
 - السهول الشمالية.
 - هضبة جوس.
- حيث الأراضي الزراعية والمراعي ومناطق التعدين.

توزيع السكان

* يقل السكان في دلتا نهر النيجر جنوب نيجيريا **بم تفسر؟** بسبب وجود الغابات الكثيفة والظروف المناخية القاسية.



الموارد والأنشطة الاقتصادية

* تتنوع الموارد الاقتصادية خاصة الموارد الزراعية والموارد الغابية والثروات المعدنية والبتترول ومع ذلك يُعد اقتصاد نيجيريا اقتصادًا ناميًا يعتمد على الزراعة في المقام الأول، وتمثل الأنشطة الاقتصادية فيما يلي :

* أكثر من نصف أراضي نيجيريا صالحة للزراعة والرعى، وعلى الرغم من ذلك فإن المساحة المستغلة في الزراعة لا تتجاوز ١٥٪ من المساحة الكلية.
* يُعد الإقليم الغربي أهم مناطق نيجيريا في الإنتاج الزراعي.
* أهم المحاصيل الزراعية :

• يزرع في الجنوب :

- المطاط : تُعد نيجيريا أولى دول أفريقيا إنتاجًا له.

- الأرز : تُعد نيجيريا ثاني دول أفريقيا إنتاجًا له بعد مصر ويزرع بدلتا نهر النيجر.

• يزرع في الوسط والشمال :

- الذرة الشامية. - الذرة الرفيعة. - الكاكاو.
- الفول السوداني. - نخيل الزيت.

١
الزراعة

* تغطي الغابات نحو ثلث ($\frac{1}{3}$) مساحة نيجيريا وتُعد مصدرًا للأخشاب.

٢
قطع
الأشجار

* توجد في نيجيريا أعداد كبيرة من الأبقار والأغنام والماعز **بم تفسر؟**
بسبب وجود مراعى حشائش السافانا.

٣
الرعى
والإنتاج
الحيواني

* تنتج نيجيريا كميات كبيرة من الأسماك **بم تفسر؟** لأن بها :
• ساحل طويل على خليج غينيا. • أنهار وبحيرات بالداخل.

٤
صيد
الأسماك

* توجد بنيجيريا ثروات معدنية، ومصادر طاقة **دلل؟** حيث يوجد :

- القصدير: يُستخرج من هضبة جوس.
- الفحم: يُستخرج من المنطقة الشرقية.
- البترول :

5 التعدين

- يُستخرج من المنطقة القريبة من الساحل في الجنوب الشرقي.
- تنتج منه كميات كبيرة، فقد وصل إنتاجها إلى نحو ٣٪ من الإنتاج العالمي.

* الصناعة في نيجيريا ليست متطورة أو متنوعة برغم امتلاكها لثروات زراعية وموارد معدنية بجانب البترول.

* أهم الصناعات :

6 الصناعة

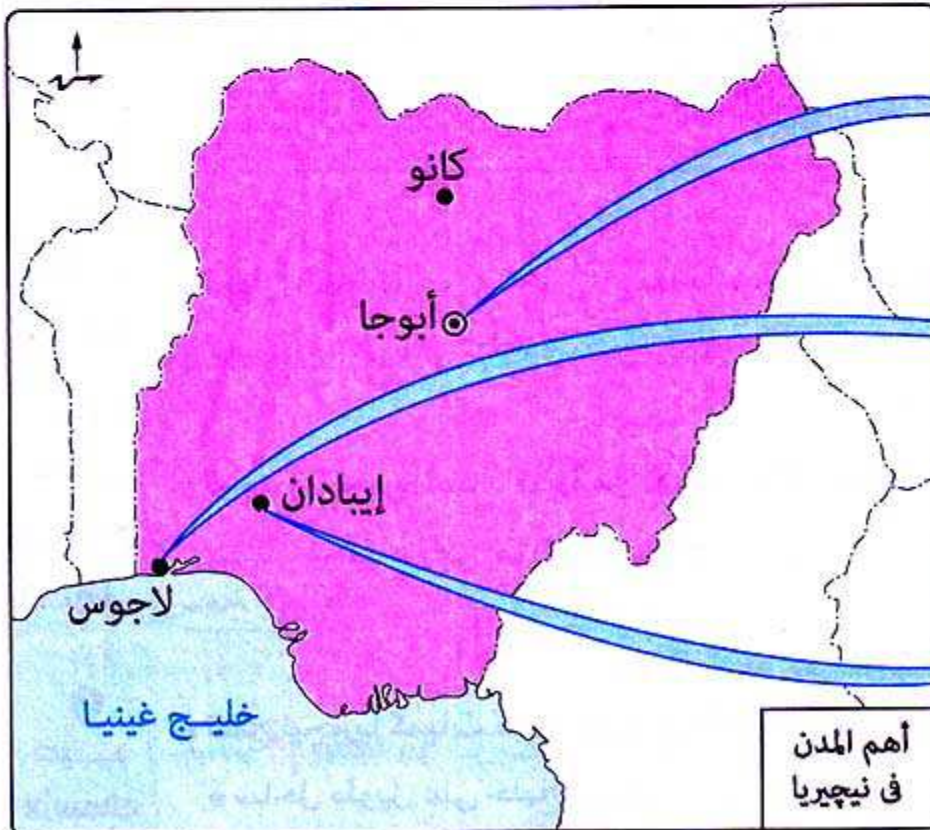
- الغزل والنسيج.
- تكرير البترول.
- بعض الصناعات الغذائية.
- الصناعات الكيماوية.

أهم مدن نيجيريا

أبوجا العاصمة الحالية
* مدينة داخلية حديثة.

لاجوس العاصمة القديمة
* أكبر المدن النيجيرية وأكثرها تكدسًا بالسكان.
* تُعتبر العاصمة الاقتصادية.

إيبادان
* تأتي في المركز الثاني في الأهمية بعد لاجوس.
* تعتبر مركزًا للتجارة والتعليم والمواصلات.





العلاقات المصرية النيجيرية

* توجد علاقات قوية بين البلدين حيث :

تستورد مصر من نيجيريا

- السلع الزراعية، وأهمها :
- الحبوب الزيتية.

تصدر مصر إلى نيجيريا

- الأسمدة.
- الأسلاك النحاسية.
- المحولات الكهربائية.
- المعدات الثقيلة.
- الإطارات.
- مواسير الألومنيوم.

٢ تدريب

١ اختر الإجابة الصحيحة مما بين القوسين :

- (١) يعد الإقليم الغربى بنيجيريا أهم مناطق الإنتاج
(الصناعى - التعدين - السمكى - الزراعى)
- (٢) يستخرج فى نيجيريا من هضبة جوس. (البترول - الفحم - القصدير - المنجنيز)
- (٣) يتم استخراج الفحم فى نيجيريا من
(هضبة جوس - المنطقة الشرقية - الساحل الجنوبى - الإقليم الغربى)
- (٤) تُعد مدينة العاصمة القديمة لنيجيريا. (كانو - أبوجا - إبيادان - لاجوس)
- (٥) تستورد مصر من نيجيريا (الإطارات - الحبوب الزيتية - المحولات الكهربائية - الأسمدة)

٢ اكتب كلمة (صواب) أمام العبارة الصحيحة، وكلمة (خطأ) أمام العبارة غير الصحيحة، مع التصويب :

- (١) تُعد نيجيريا ثانى دول قارة أفريقيا من حيث عدد السكان. ☐
- (٢) أكثر من نصف أراضى نيجيريا صالحة للزراعة والرعى. ☐
- (٣) توجد أعداد كبيرة من الأبقار والأغنام والماعز بنيجيريا تُربى فى مراعى حشائش الإستبس. ☐
- (٤) الإنتاج السمكى فى نيجيريا كبير لطول ساحلها على خليج غينيا ووجود أنهار وبحيرات. ☐
- (٥) تعتبر مدينة إبيادان مركزاً للتجارة والتعليم والمواصلات فى نيجيريا. ☐
- (٦) تصدر مصر إلى نيجيريا الأسمدة. ☐

٣ ما العلاقة بين : الظروف الطبيعية، وتوزيع السكان فى نيجيريا ؟



١ اختر الإجابة الصحيحة مما بين القوسين :

- (١) من المناطق التي يقل بها السكان بدولة نيجيريا
(السهول الشمالية - دلتا النيجر - الجهات الغربية - هضبة جوس)
- (٢) يرجع السبب وراء قلة السكان بجنوب نيجيريا إلى
(وجود الغابات الاستوائية والمدارية - محدودية الموارد الطبيعية -
تدنى جودة خصوبة الأراضي الزراعية - ارتفاع السطح وشدة البرودة)
- (٣) أى من المناطق التالية بدولة نيجيريا يتم استخراج معدن القصدير منها ؟
(وسط السهول الشمالية - السهول الساحلية على خليج غينيا - دلتا نهر النيجر -
المنطقة الشرقية)
- (٤) يجاور نيجيريا من الغرب دولة
(الكاميرون - النيجر - بنين - تشاد)
- (٥) يحده نيجيريا من الجنوب المحيط (الهادى - الهندى - الأطلسى - القطبى الجنوبى)
- (٦) تقع دلتا النيجر ضمن الإقليم المناخى
(الاستوائى - المدارى - الصحراوى الحار - المعتدل الدفئ)
- (٧) تنمو حشائش بشمال نيجيريا. (السافانا - الإستبس - التندرا - البرارى) (الجيزة ١٩)
- (٨) يُعد اقتصاد نيجيريا اقتصاداً نامياً بسبب
(قلة إنتاج المعادن - الاعتماد على الرعى - الاعتماد على الزراعة - قلة إنتاج البترول)
- (٩) تُعد نيجيريا أولى دول أفريقيا إنتاجاً لمحصول
(الذرة الشامية - قصب السكر - المطاط - الأرز) (البحيرة ١٥)
- (١٠) من المحاصيل التي تزرع في وسط وشمال نيجيريا
(الكافو - الأرز - المطاط - القمح) (الغربية ٢١)
- (١١) تستخرج نيجيريا من المنطقة القريبة من الساحل في الجنوب الشرقى.
(القصدير - البوكسيت - الفحم - البترول)
- (١٢) تتركز أهم المناطق في نيجيريا لإنتاج مصادر الطاقة الصلبة في الجهات
(الجنوبية - الغربية - الشمالية - الشرقية)
- (١٣) تنتج نيجيريا كميات كبيرة من حيث تنتج منه نحو ٣ ٪ من الإنتاج العالمى.
(الفحم - البترول - الغاز الطبيعى - الكهرباء)

(١٤) تُعتبر مدينة العاصمة الاقتصادية لدولة نيجيريا.

(لاجوس - كانو - أبوجا - إيبادان) (الإسماعيلية ١٤)

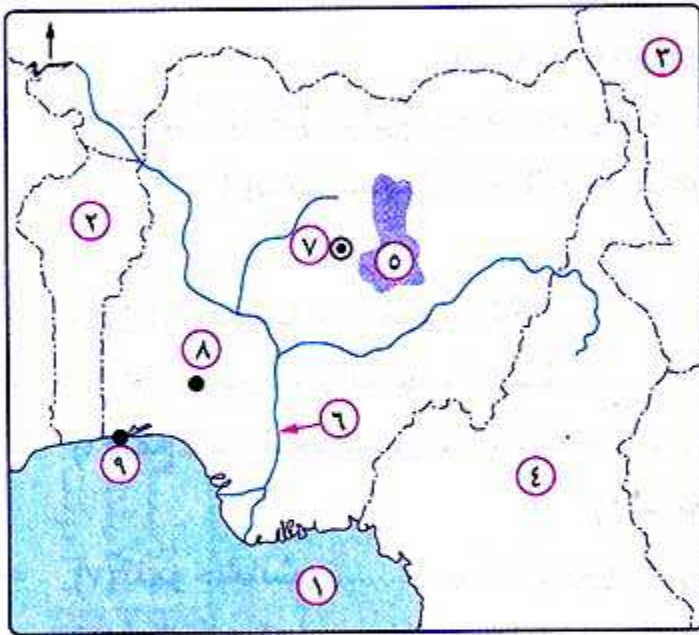
(١٥) من أهم واردات مصر من نيجيريا

(مواسير الألومنيوم - الإطارات - الأسمدة - الحبوب الزيتية) (أسوان ١٤)

(١٦) تحتل المرتبة الأولى في الأهمية بنيجيريا مدينة (أبوجا - إيبادان - كانو - لاجوس)

(١٧) تمتد دولة نيجيريا إلى الشرق من دولة (تشاد - بنين - الكاميرون - النيجر)

٢ أمامك خريطة لنيجيريا، اكتب ما تشير إليه الأرقام الآتية :



(١) خليج

(٢) دولة

(٣) دولة

(٤) دولة

(٥) هضبة

(٦) نهر

(٧) العاصمة

(٨) مدينة

(٩) مدينة

٣ اكتب كلمة (صواب) أمام العبارة الصحيحة، وكلمة (خطأ) أمام العبارة غير الصحيحة، مع التصويب :

() (١) تتمتع نيجيريا بساحل طويل على خليج غينيا.

() (٢) يقع معظم نيجيريا في نطاق المناخ الاستوائي.

() (٣) يحده نيجيريا من جهة الشمال دولة الكاميرون.

() (٤) يزداد ارتفاع السطح في نيجيريا تدريجياً من الشمال إلى الجنوب.

() (٥) تُعد نيجيريا أكبر دول أفريقيا من حيث عدد السكان. (السويس ١١)

() (٦) يتركز سكان نيجيريا في الجنوب.

() (٧) يُعد الإقليم الغربي أهم مناطق نيجيريا في الإنتاج الزراعي.

() (٨) يزرع المطاط والأرز في جنوب نيجيريا.

() (٩) تتميز نيجيريا بتنوع مصائد الأسماك بها.

() (١٠) تُعد الصناعة في نيجيريا متطورة ومتنوعة.

- () (١١) أبوجا العاصمة القديمة، بينما لاجوس أكبر المدن النيجيرية.
() (١٢) تقتصر الصادرات المصرية إلى نيجيريا على المواد الخام.

٤ اكتب ما تدل عليه كل عبارة مما يأتي :

- (١) إحدى دول غرب أفريقيا استقلت عن بريطانيا وأصبحت دولة اتحادية تضم ١٢ ولاية.
(الفيوم ٢١) (.....)
(٢) نهر تعتمد عليه نيجيريا في الري والزراعة.
(الإسماعيلية ٢١) (.....)
(٣) أكبر المدن النيجيرية تكدسا بالسكان.
(بنى سويف ٢١) (.....)
(٤) مدينة نيجيرية تُعد مركزا للتجارة والتعليم والمواصلات.
(القليوبية ٢١) (.....)

٥ بم تفسر ... ؟

- (١) ترتفع الكثافة السكانية بنيجيريا في الغرب والسهول الشمالية وهضبة جوس. (السويس ١٨)
.....
(٢) قلة السكان في دلتا نهر النيجر جنوب نيجيريا.
(دمياط ٢١) (.....)
(٣) وجود ثروة كبيرة من الأبقار والأغنام والماعز في نيجيريا.
(الإسماعيلية ٢١) (.....)
(٤) تنتج نيجيريا كميات كبيرة من الأسماك.
(الإسكندرية ١٨) (.....)

٦ دلل جغرافيا على صحة كل عبارة من العبارات الآتية :

- (١) يسود المناخ الحار في دولة نيجيريا.
.....
(٢) تنوع النبات الطبيعي بنيجيريا.
.....
(٣) يختلف توزيع السكان في نيجيريا من مكان لآخر.
(الشرقية ٢١) (.....)
(٤) غنى نيجيريا بالمعادن ومصادر الطاقة.
(الشرقية ١٤) (.....)
(٥) تدل العلاقات الاقتصادية بين مصر ونيجيريا على قوة الميزان التجارى لصالح مصر.
.....

٧ أمامك مجموعة من أهم المدن في نيجيريا، حدد شهرة كل منها :

- (١) لاجوس : (المنيا ١٦)
 (٢) أبوجا : (بورسعيد ١٩)
 (٣) إيبادان : (الإسكندرية ١٦)

٨  **صنف** : المحاصيل الزراعية التي تنتجها نيجيريا حسب التوزيع الجغرافي.

٩ حدد الأثر الناتج عن : موقع نيجيريا الفلكي بالنسبة لمناخها.

أسئلة للتمييز ؟

١٠ اختر الإجابة الصحيحة مما بين القوسين :

- (١) أقرب دوائر العرض الرئيسية إلى دولة نيجيريا
 (دائرة الاستواء - مدار السرطان - الدائرة القطبية الجنوبية - مدار الجدى)
 (٢) تمتد أقصر حدود برية لدولة نيجيريا مع دولة (الكاميرون - تشاد - بنين - النيجر)
 (٣) يوجد أقل ارتفاع للسهول الفيضية بنيجيريا في
 (الشرق - الشمال - الغرب - الجنوب)
 (٤) يُعد العامل الأساسي في انتشار الغابات بالأجزاء الجنوبية من دولة نيجيريا
 (كثرة الأمطار - التربة الخصبة - استواء السطح - الحرارة المرتفعة)
 (٥) يزرع المطاط في جنوب دولة نيجيريا بسبب
 (المناخ الملائم - التربة الخصبة - وجود الأنهار - استواء السطح)


١١ حدد وجه الاختلاف بين :

مصر، ونيجيريا، من حيث الكثافة السكانية عند دلتا النهر.

ألمانيا الاتحادية

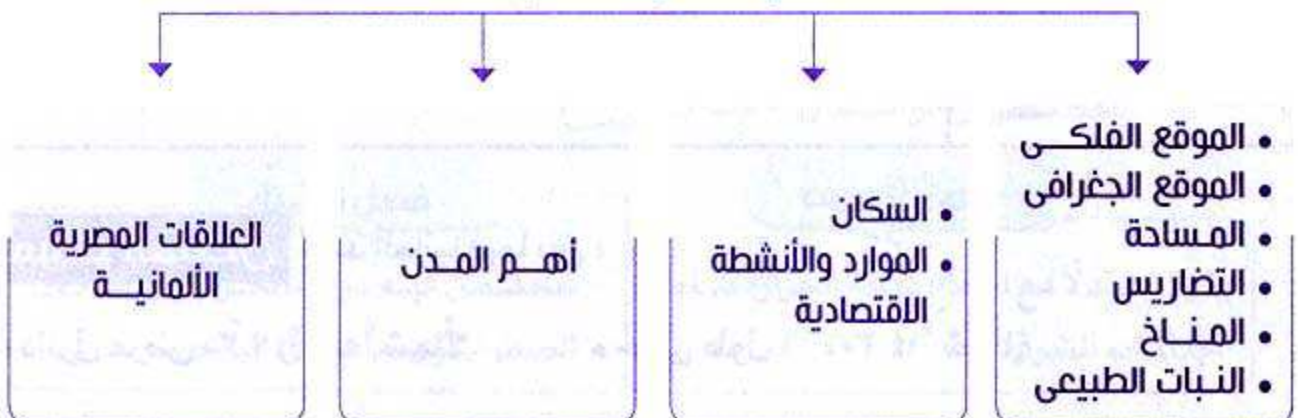
(من الدول المتقدمة)

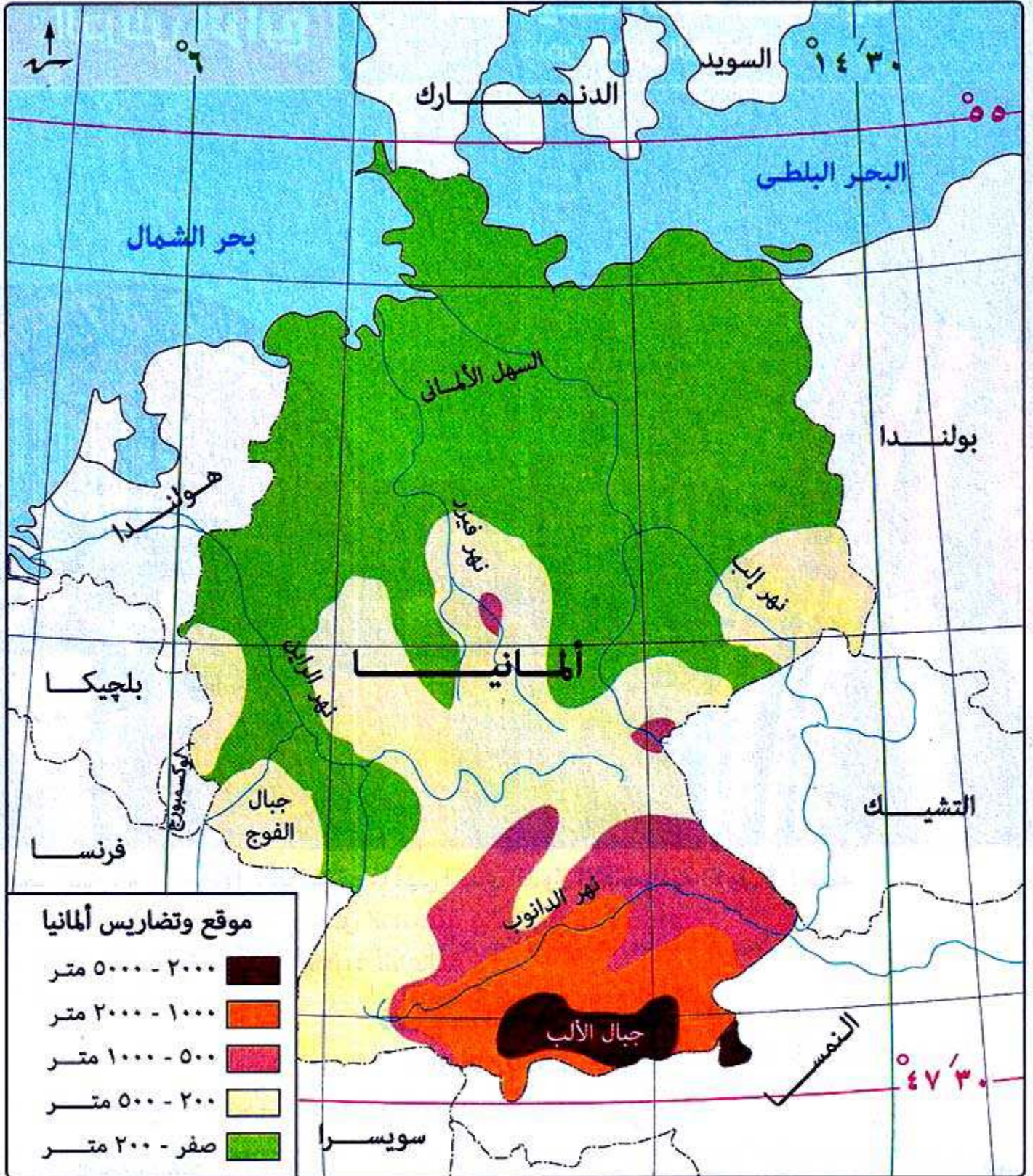
الدرس الرابع



- تعد ألمانيا من أكبر دول العالم تقدمًا فهي إحدى الدول الاقتصادية الأولى في العالم،
- أين تقع ألمانيا ؟ وما الخصائص الطبيعية والبشرية التي تميزها ؟
 - ما هي طبيعة العلاقات المصرية الألمانية ؟

في هذا الدرس نتعرف
دولة ألمانيا من حيث





الموقع الفلكي : تمتد ألمانيا فيما بين :

- دائرتي عرض ٤٧° ٣٠' ، ٥٥° شمالاً .
- خطي طول ٦° ، ١٤° ٣٠' شرقاً .



الموقع الجغرافى

* تقع ألمانيا غرب قارة أوروبا، ويحدها من :

- الشمال : البحر البلطى ودولة الدنمارك وبحر الشمال.
- الجنوب : دولتي النمسا وسويسرا.
- الشرق : دولتي بولندا والتشيك.
- الغرب : دول هولندا وبلجيكا ولوكسمبورج وفرنسا.

المساحة

تبلغ نحو ٣٥٧ ألف كم^٢.

التضاريس

* تتنوع تضاريس ألمانيا من الشمال إلى الجنوب وتتكون من الأقاليم (الأقسام) الآتية :

السهل الألماني الشمالى

- * يُعد من أكبر الأقاليم التضاريسية في ألمانيا، وهو جزء من السهل الأوروبي العظيم الخصب حيث يبدأ في الشمال بالسهول الساحلية.
- * تجرى خلاله عدة أنهار تصب في بحر الشمال، أهمها : • نهر إلب. • نهر الراين.
- * تنتشر به المستنقعات في الشمال قرب الساحل.

المرتفعات الوسطى

- * عبارة عن هضاب متقطعة تفصل بينها سهول خصبة تجرى فيها أنهار تتجه نحو الشمال.
- * تغطي بالغابات المخروطية وتكثر بها التلال والينابيع المائية لذلك تُعد مناطق جذب للسياح.

جبال الألب

- * تُعد جزءًا من جبال الألب الأوروبية وتقطعها الأنهار.
- * توجد بها أعلى القمم الجبلية بألمانيا ويكسوها الجليد.
- * تنمو على منحدراتها الغابات المخروطية والنفضية.

ما النتائج المترتبة على : كثرة التلال والينابيع المائية في المرتفعات الوسطى بألمانيا ؟



المناخ

يسود ألمانيا مناخ غرب أوروبا الممطر طوال العام خاصة في الشمال متأثرًا بالمحيط الأطلنطى وبحر الشمال، حيث :

فصل الشتاء

تنخفض فيه درجة الحرارة إلى ما دون الصفر المئوى خاصة في الداخل.

فصل الصيف

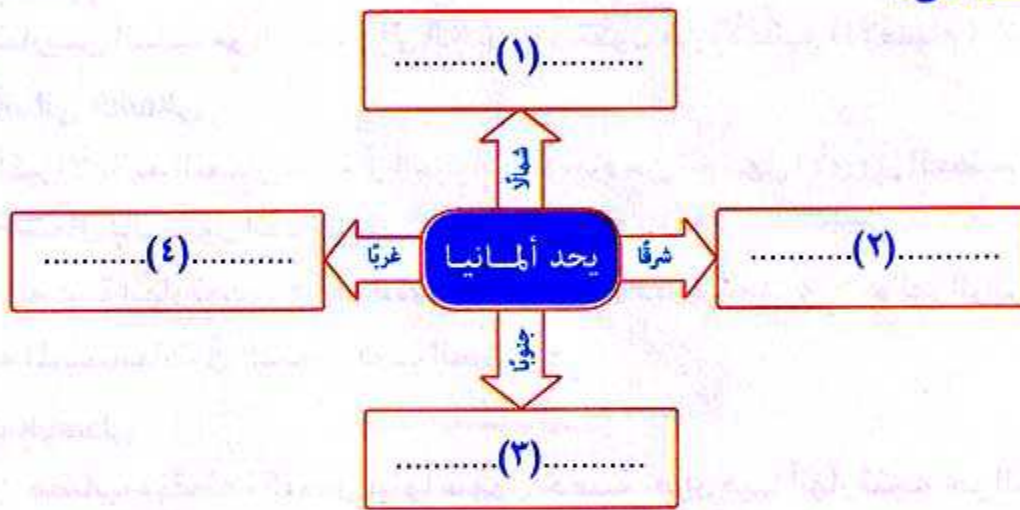
يكون معتدلًا مع ارتفاع درجة الحرارة كلما اتجهنا نحو الشرق.

النبات الطبيعي

- * تغطي الغابات ثلث ($\frac{1}{3}$) مساحة ألمانيا وتسود في مناطق الجبال والهضاب وتُعد مصدرًا للأخشاب، وأهم هذه الغابات : • الغابات النفضية. • الغابات المخروطية.
- * تنتشر الحشائش في السهل الساحلي وقد انكمشت مساحة الحشائش في الوقت الحالي **بم تفسر؟**
- بسبب : • إحلال الزراعة محلها. • التوسع العمراني.

١ تدريب

١ أكمل المخطط الآتي :



٢ اختر الإجابة الصحيحة مما بين القوسين :

- (١) يُعد من أكبر الأقاليم التضاريسية في ألمانيا
(السهل الألماني الشمالي - المرتفعات الوسطى - جبال الألب - جبال الفوج)
- (٢) يصب نهر إلب والراين بألمانيا في
(البحر البلطي - بحر الشمال - البحر المتوسط - المحيط الأطلسي)
- (٣) يسود مناخ غرب أوروبا في ألمانيا خاصة في
(الشرق - الغرب - الشمال - الجنوب)

٣ بم تفسر : تُعد المرتفعات الوسطى بألمانيا مناطق جذب للسياح ؟

.....

٤ ما النتائج المترتبة على : التوسع العمراني في السهل الساحلي الشمالي بألمانيا ؟

.....



السكان

عدد السكان

* نحو ٨١ مليون نسمة عام ٢٠١٤م، وبذلك تُعد ألمانيا من أكبر الدول الأوروبية سكاناً.

مناطق تركيز السكان

{ * المدن الكبرى
* المناطق الصناعية
* الأودية على جانبي الأنهار حيث تقوم الزراعة.

الموارد و الأنشطة الاقتصادية

* تُعد ألمانيا من الدول الاقتصادية الأولى في العالم، وأكثرها تقدماً حيث تتعدد الأنشطة الاقتصادية بها، وتتمثل فيما يلي :

١ الزراعة

* تنتشر في السهل الشمالي والأودية النهرية.
* تعتمد الزراعة في ألمانيا على التكنولوجيا الحديثة ويعمل بها نحو ٣٪ من القوى العاملة.
* أهم المحاصيل الزراعية : • القمح. • الشعير. • بنجر السكر.

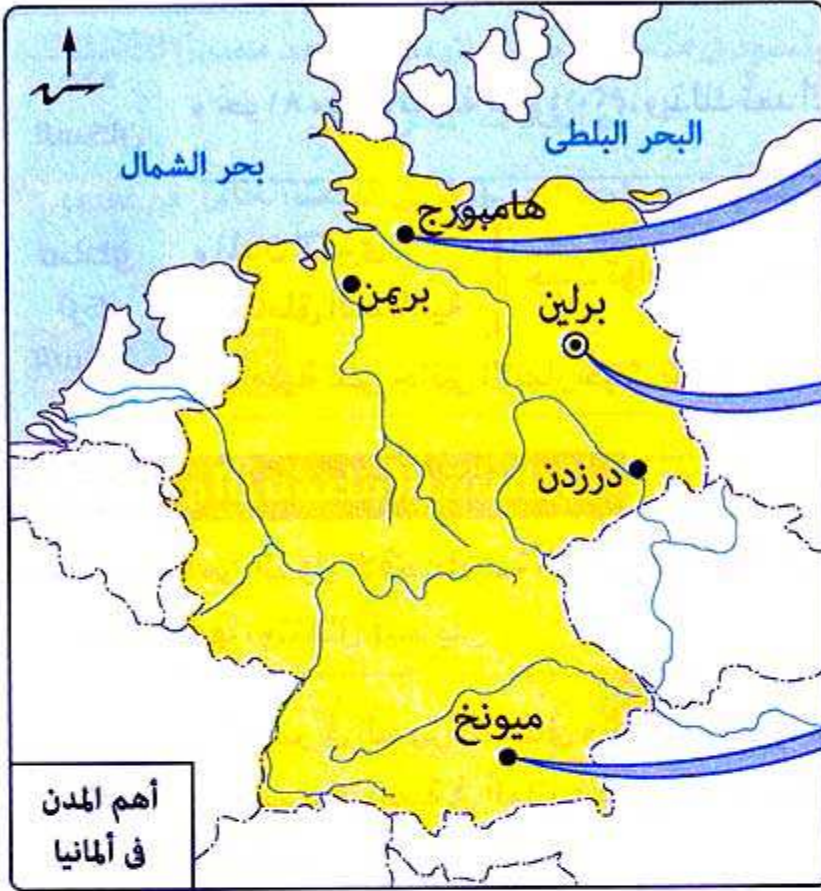
٢ الإنتاج الحيواني

* تُربي الماشية والخنازير والأغنام في مناطق الحشائش وفي الحظائر بأساليب علمية لإنتاج اللحوم والألبان.

٣ الصناعة

* تُعد الصناعة العمود الفقري للاقتصاد الألماني حيث يعمل بها نحو ثلث (١/٣) القوى العاملة.
* شهدت الصناعة الألمانية توسعاً وتطوراً كبيراً، بعد الحرب العالمية الثانية **بم تفسر؟**
بسبب : • توافر مقومات الصناعة.
• تدفق الاستثمارات.
• توافر المراكز العلمية المتقدمة.
* تتميز الصناعات الألمانية بالجودة والتنوع، وأهمها :
• الحديد والصلب. • السيارات.
• السفن. • المنسوجات.
• الصناعات الإلكترونية والكهربائية.

أهم مدن ألمانيا



هامبورج - أهم الموانئ

* قريبة من بحر الشمال.

برلين - العاصمة السياسية

* يبلغ عدد سكانها نحو ٣,٤ مليون نسمة.

ميونخ - عاصمة إقليم بافاريا جنوباً

* يوجد بها مقر عدد من الشركات والمصانع الألمانية العالمية.

العلاقات المصرية الألمانية

(١) علاقات ثقافية وعلمية، تتمثل في :

- * هيئة التبادل العلمي الألمانية.
- * الجامعة الألمانية بالقاهرة.
- * المركز الثقافي الألماني.
- * معهد الآثار الألماني.

(٢) علاقات اقتصادية، تتمثل في :

- * تمويل ألمانيا لمحطات توليد الكهرباء من الرياح في مصر.
- * تصدير واستيراد المنتجات بين البلدين **حيث :**

تستورد مصر من ألمانيا

- الصناعات الكيماوية.
- الآلات.
- السيارات.... وغيرها.

تصدر مصر إلى ألمانيا

- البترول.
- الغاز الطبيعي.
- الملابس.... وغيرها.



٢ تدريب

١ أكمل الجدول الآتي :

٣ هامبورج	٢ ميونخ	١ برلين	المدينة
.....	شهرتها
.....	
.....	
.....	

٢ أعد كتابة العبارات الآتية صحيحة بعد تصويبها :

(١) من أهم المحاصيل الزراعية بألمانيا القمح والشعير وقصب السكر.

.....

(٢) تنتشر الزراعة في ألمانيا بالجزء الجنوبي منها.

.....

(٣) تُعد السياحة العمود الفقري للاقتصاد الألماني حيث يعمل بها ثلث القوى العاملة.

.....

٣ بم تفسر : توسع الصناعة الألمانية بعد الحرب العالمية الثانية ؟

.....

٤ دلل جغرافيًا على صحة العبارة الآتية : قوة العلاقات المصرية الألمانية.

.....



أهم نقاط الدرس

ألمانيا الاتحادية

الموقع الجغرافي

* تقع غرب قارة أوروبا ويحدها من:

• الشمال: البحر البلطي ودولة

الدنمارك ويجر الشمال.

• الجنوب: دولتي النمسا

وسويسرا.

• الشرق: دولتي بولندا

والتشيك.

• الغرب: دول هولندا وبلجيكا

ولوكسمبورج وفرنسا.

الموقع الفلكي

* تمتد بين:

• دائرتي عرض

٥٥°، ٤٧° شمالاً.

• خطي طول

١٤°، ٣° شرقاً.

المناخ

* يسودها مناخ غرب

أوروبا الماطر طوال العام

خاصة في الشمال متأثراً

بالحيط الأطلنطي

ويجر الشمال.

التضاريس

* السهل الألماني الشمالي:

من أكبر الأقاليم التضاريسية وهو جزء من السهل

الأوروبي العظيم وتجري خلاله عدة أنهار تصب في

بحر الشمال، أهمها: نهر الب ونهر الراين.

* المرتفعات الوسطى:

• هضاب متقطعة تفصل بينها سهول خصبة.

• تغطي بالغابات المخروطية وتكثر بها التلال والينابيع المائية.

* جبال الألب:

• بها أعلى القمم الجبلية في ألمانيا.

• تنمو على منحدراتها الغابات المخروطية والنبضية.

الزراعة

* تنتشر في سهل الشمالي

والأودية النهرية وتعتمد

على التكنولوجيا الحديثة.

* أهم المحاصيل: القمح

والشعير وينجر السكر.

السكان

* من أكبر الدول الأوروبية

سكاناً.

* يتركز السكان في:

المدن الكبرى، المناطق

الصناعية، الأودية على

جانبى الأنهار.

الصناعة

* تعد العمود الفقري للاقتصاد الألماني حيث يعمل بها نحو ثلث القوى العاملة.

* تطورت بعد الحرب العالمية الثانية بسبب:

• توافر مقومات الصناعة. • تدفق الاستثمارات. • توافر المراكز العلمية المتقدمة.

* من أهم الصناعات:

• الحديد والصلب. • السيارات. • السفن. • المنسوجات. • الصناعات الإلكترونية والكهربائية.

اقتصادية

* تمثلت في:

تمويل ألمانيا لمحطات توليد الكهرباء من الرياح في مصر.

تصدير مصر لها:

* البترول. * الغاز الطبيعي. * الملابس... وغيرها.

* تصورات مصر منها:

* الصناعات الكيماوية. * الآلات. * السيارات... وغيرها.

الثقافية وعلمية

* تمثلت في:

• هيئة التبادل العلوي الألمانية.

• المركز الثقافي الألماني.

• الجامعة الألمانية بالقاهرة.

• معهد الآثار الألماني.

العلاقات

العربية

الألمانية

أهم المدن

* هامبورج: أهم الموانئ وقرية من بحر الشمال.

* برلين: العاصمة السياسية.

* ميونخ: عاصمة إقليم بافاريا جنوباً، يوجد بها مقر عدد

من الشركات والمصانع الألمانية العالية.



الدرس الرابع

أسئلة على



السؤال المسبوق، بالعلامة من أسئلة الكتاب المدرسي

مستويات عليا

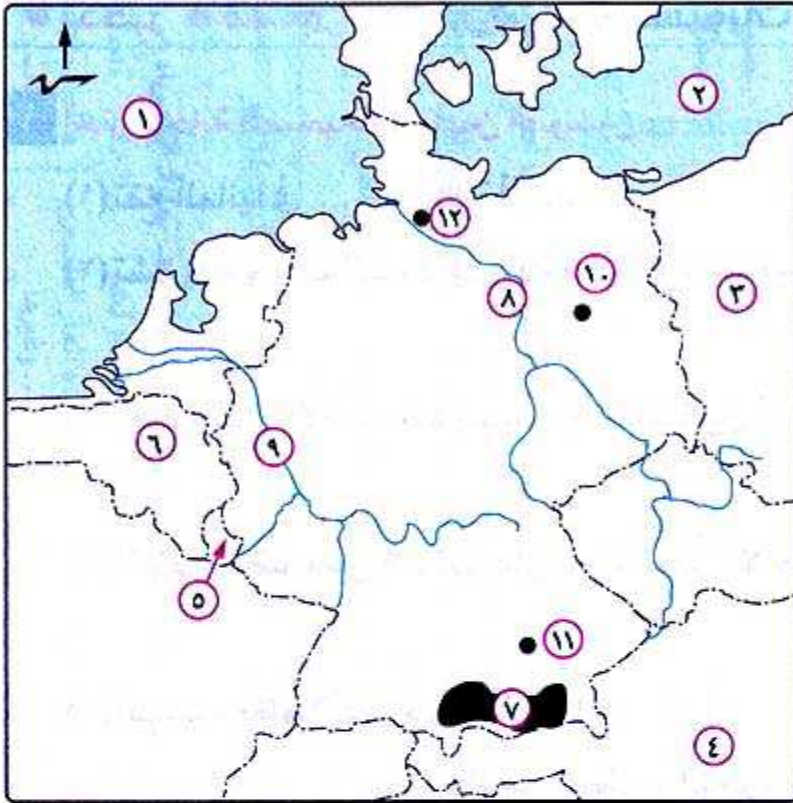
تطبيق

تذكر • فهم • تطبيق

١ اخترا الإجابة الصحيحة مما بين القوسين :

- (١) تقع ألمانيا في قارة أوروبا. (شرق - وسط - غرب - شمال) (أسيوط ١٦)
- (٢) تشترك دولة ألمانيا بحدود برية مع دولة واحدة من جهة (الشمال - الغرب - الجنوب - الشرق)
- (٣) تُعد جبال الألب حدًا سياسيًا طبيعيًا بين ألمانيا و (فرنسا - بولندا - النمسا - لوكسمبورج)
- (٤) المظهر التضاريسي الغالب على دولة ألمانيا الاتحادية هو الطابع (السهلي - الصحراوي - الجبلي - الهضبي)
- (٥) تصب معظم الأنهار بدولة ألمانيا في (البحر البلطي - البحر المتوسط - البحر الأسود - بحر الشمال) (المنيا ٢١)
- (٦) تُعد مناطق جذب للسياح في ألمانيا. (دمياط ١٤)
- (٧) السهل الألماني الشمالي - جبال الغات - السهل الأوروبي العظيم - المرتفعات الوسطى (السهول الوسطى - السهول الشمالية - جبال الغات - جبال الألب) (البحيرة ١٩)
- (٨) يتمثل وجه التشابه بين المرتفعات الوسطى وجبال الألب بدولة ألمانيا في (الغطاء النباتي - وجود أعلى القمم الجبلية - المناخ المعتدل - السهول الخصبة التي تقطعها)
- (٩) أي من المحاصيل الزراعية التالية يصعب زراعته بألمانيا ؟ (القمح - الشعير - قصب السكر - بنجر السكر)
- (١٠) تخلو دولة ألمانيا من زراعة (الأرز - القمح - البنجر - الشعير)
- (١١) تعتبر العمود الفقري للاقتصاد الألماني. (الزراعة - الصناعة - التجارة - الثروة الحيوانية) (الوادي الجديد ٢١)
- (١٢) تُصدر مصر إلى ألمانيا (الصناعات الكيماوية - الآلات - السيارات - البترول) (القاهرة ١٧)

٢ أمامك خريطة لألمانيا، اكتب ما تدل عليه الأرقام التي عليها :



- (١) بحر.....
 (٢) البحر.....
 (٣) دولة.....
 (٤) دولة.....
 (٥) دولة.....
 (٦) دولة.....
 (٧) جبال.....
 (٨) نهر.....
 (٩) نهر.....
 (١٠) مدينة.....
 (١١) مدينة.....
 (١٢) مدينة.....

٣ أكمل العبارات الآتية بما يناسبها :

- (١) يحد ألمانيا من الشرق بولندا و.....، ومن الغرب هولندا وبلجيكا و..... وفرنسا.
 (٢) تغطي الغابات المخروطية المرتفعات الوسطى ومنحدرات جبال.....
 (٣) يسود ألمانيا مناخ..... الممطر طوال العام.
 (٤) تنتشر الزراعة في ألمانيا في..... والأودية النهرية.

٤ اكتب كلمة (صواب) أمام العبارة الصحيحة، وكلمة (خطأ) أمام العبارة غير الصحيحة، مع التصويب :

- () (١) تنتشر المستنقعات في السهل الألماني الشمالي.
 () (٢) تشغل المرتفعات الوسطى في ألمانيا الجزء الأكبر من مساحتها.
 () (٣) الصيف معتدل في ألمانيا وتزداد درجة الحرارة بالاتجاه نحو الغرب. (الوادي الجديد ١٤)
 () (٤) يتركز السكان بألمانيا في المناطق الزراعية.
 () (٥) ألمانيا من الدول الاقتصادية الأولى في العالم ومن أكثر دول العالم تقدماً.

- (٦) ترى الماشية والخنازير والأغنام في ألمانيا في مناطق الحشائش والحظائر بأساليب علمية. ()
- (٧) يعمل بالصناعة ثلث القوى العاملة بألمانيا. ()
- (٨) تزدهر الصناعة في ألمانيا لتدفق الاستثمارات وتوافر المراكز العلمية المتقدمة. ()
- (٩) تُعد مدينة برلين أهم موانئ ألمانيا، بينما تُعد مدينة هامبورج عاصمتها. (الأقصر ١٤) ()
- (١٠) تقع مدينة ميونخ عاصمة إقليم بافاريا غرب ألمانيا. ()
- (١١) توجد علاقات ثقافية وعلمية بين مصر وألمانيا. (القليوبية ١٨) ()
- (١٢) تصدر مصر لألمانيا الغاز الطبيعي. ()

٥ صوب ما تحته خط :

- (١) يحد ألمانيا من الشمال بحر العرب والبحر الأسود. (.....)
- (٢) من أهم الأنهار التي تجري في ألمانيا نهر السين. (.....)
- (٣) توجد جبال البرانس في دولة ألمانيا وفيها أعلى القمم الجبلية. (ألمانيا ١٧) (.....)
- (٤) يسود ألمانيا الاتحادية مناخ غرب أوروبا الممطر طوال العام خاصة في الجنوب. (أسيوط ١٩) (.....)
- (٥) تغطي الغابات ثلث مساحة ألمانيا وأهمها الغابات الاستوائية والمدارية. (.....)
- (٦) تستورد مصر من ألمانيا البترول والملابس. (.....)

٦ بم تفسر ... ؟

- (١) جذب المرتفعات الوسطى للسياح في ألمانيا. (البحيرة ٢١) (.....)
- (٢) انكماش مساحة الحشائش بالسهول الساحلية في ألمانيا. (ألمانيا ٢١) (.....)
- (٣) توسع الصناعة الألمانية توسعاً كبيراً بعد الحرب العالمية الثانية. (الجيزة ١٦) (.....)

٧ دلل جغرافيًا على صحة العبارة الآتية :

(الشرقية ١٤)

تربط مصر بألمانيا علاقات ثقافية واقتصادية.

٨ وضع :

(١) العوامل التي ساعدت على تطور الصناعة الألمانية.

(٢) أهم الصناعات في ألمانيا.

(٣) أهم الصادرات والواردات المصرية الألمانية.

٩ حدد شهرة المدن التالية :

(سوهاج ٢١)

(١) هامبورج.

(المنيا ١٧)

(٢) برلين.

(البحر الأحمر ٢١)

(٣) ميونخ.

أسئلة للتمييز

١٠ اختر الإجابة الصحيحة مما بين القوسين :

- (١) تظهر أقصر الحدود البرية لدولة ألمانيا مع دولة
(هولندا - بولندا - سويسرا - الدنمارك)
- (٢) يظهر تأثير عامل الارتفاع على المناخ بوضوح بدولة ألمانيا في الجهات
(الجنوبية - الشرقية - الشمالية - الغربية)
- (٣) يُعد من الأنهار المحلية في ألمانيا والتي تجري من منبعها إلى مصبها داخل
ألمانيا نهر
(إل - فيزر - الراين - الدانوب)
- (٤) ترتفع درجة الحرارة في دولة ألمانيا كلما اتجهنا نحو دولتي
(النمسا وسويسرا - فرنسا وبلجيكا - بولندا والتشيك - هولندا ولوكسمبورج)
- (٥) يقل عدد العاملين في القطاع الزراعي بدولة ألمانيا بسبب اعتمادها على الزراعة
(التجارية - الكثيفة - المختلطة - البدائية)
- (٦) تُعد ألمانيا الاتحادية من أكثر دول العالم تقدماً وذلك بسبب
(تنوع الموارد - ضخامة عدد السكان - الاهتمام بالبحث العلمي - موقعها الجغرافي)
- (٧) يُعد مركز القرار السياسي بدولة ألمانيا مدينة
(برلين - ميونخ - هامبورج - بريمن)
- (٨) تقع عاصمة دولة ألمانيا في الجزء
(الجنوبي الغربي - الشمالي الغربي - الجنوبي الشرقي - الشمالي الشرقي)
- (٩) من أهم المدن الصناعية وتقع بالقرب من جبال الألب مدينة
(ميونخ - برلين - هامبورج - بريمن)

١١ اكتب كلمة (صواب) أمام العبارة الصحيحة، وكلمة (خطأ) أمام العبارة غير الصحيحة، مع التصويب :

- (١) يتشابه الوقت في دولة ألمانيا مع دولة نيجيريا بسبب موقعها على
المسطحات المائية. ()
- (٢) تقع الأجزاء الشمالية لدولة ألمانيا ضمن الإقليم المناخي القاري البارد. ()

١٢ دلل جغرافيًا على صحة كل عبارة مما يأتي :

(١) توجد علاقة بين التطور العمراني والنبات الطبيعي بدولة ألمانيا.

(٢) الاهتمام بالعلم يعد صانع التقدم لدولة ألمانيا.

١٣ حدد تقييمك لمدى مصداقية العبارة الآتية :

تقتصر أهمية الغابات في دولة ألمانيا على أنها مصدر للأخشاب.



الولايات المتحدة الأمريكية

(من الدول المتقدمة)

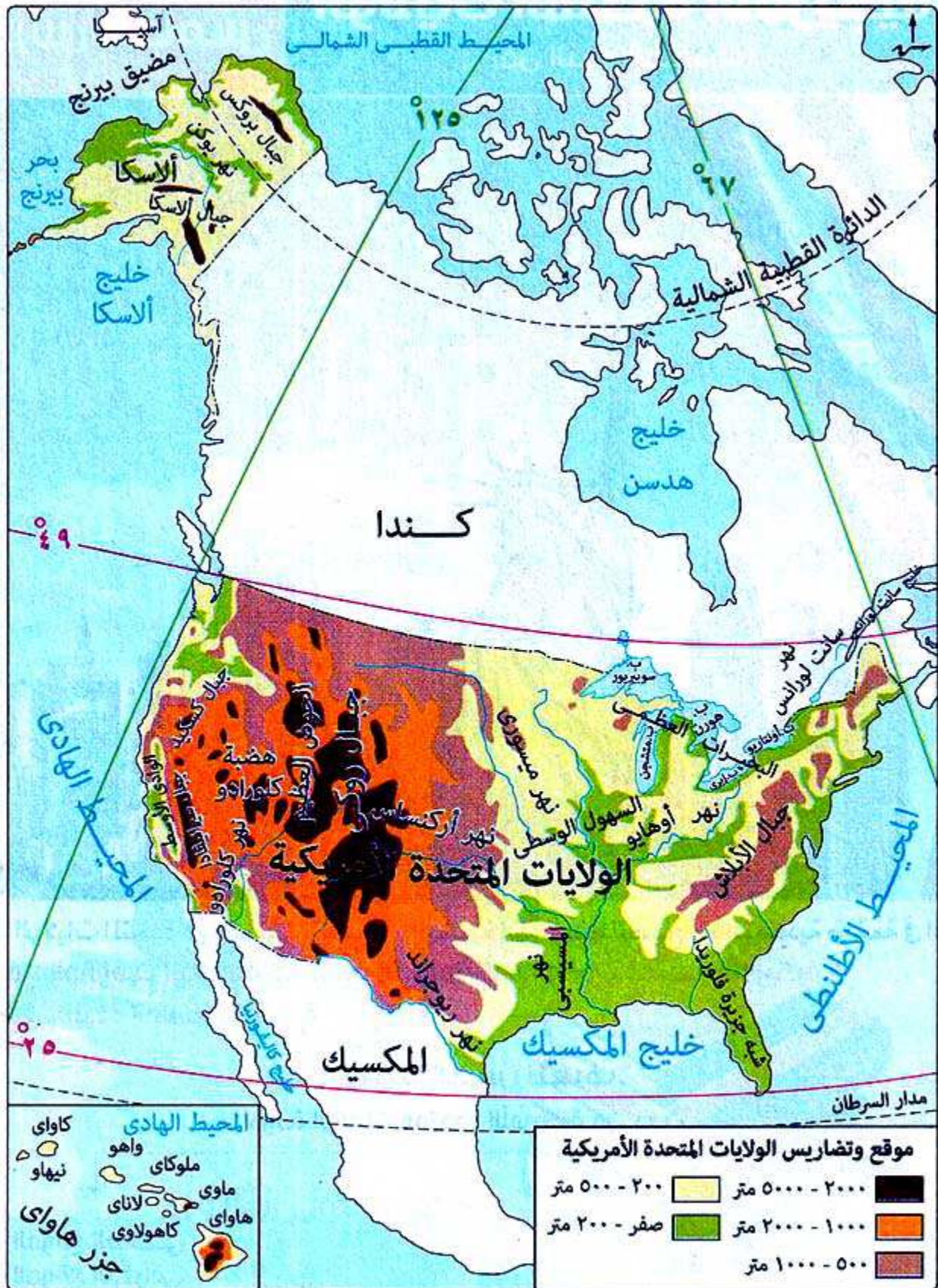
الدرس الخامس



- تمتلك الولايات المتحدة كل المقومات الطبيعية والبشرية التي تؤهلها لتصبح قوة اقتصادية ضخمة في العالم،
- ما هي المقومات الطبيعية والبشرية التي تمتلكها الولايات المتحدة الأمريكية ؟
 - ما هي طبيعة العلاقات المصرية الأمريكية ؟

في هذا الدرس نتعرف
دولة الولايات المتحدة الأمريكية من حيث





* تتكون الولايات المتحدة الأمريكية من ٥٠ ولاية، منها ولايتان تقعان خارج الموقع الفلكي والجغرافي لها هما: • ولاية هاواي (مجموعة جزر تقع وسط المحيط الهادئ).
• ولاية ألاسكا (تقع في أقصى الشمال الغربي لقارة أمريكا الشمالية).



الموقع الفلكي

- دائرتي عرض 25° ، 49° شمالاً.
- خطي طول 67° ، 125° غرباً.

الموقع الجغرافي

* تقع الولايات المتحدة الأمريكية في قارة أمريكا الشمالية، ويحدها من :

- الشمال : دولة كندا.
- الشرق : المحيط الأطلنطي.
- الجنوب : دولة المكسيك وخليج المكسيك.
- الغرب : المحيط الهادي.

المساحة

* تبلغ نحو ٩,٤ مليون كم^٢، وبذلك تُعد الولايات المتحدة الأمريكية رابع أكبر دول العالم من حيث المساحة بعد روسيا وكندا والصين.

التضاريس

* تتنوع تضاريس الولايات المتحدة الأمريكية من الشرق إلى الغرب كالآتي :

السهل الساحلي الشرقي وساحل خليج المكسيك

يتميز باستواء السطح والتعرج وظهور الخلجان ويتسع بالاتجاه جنوباً.

المرتفعات الشرقية

يطلق عليها جبال الأبلاتش.

السهول الوسطى

- تمتد من إقليم البحيرات العظمى (شمالاً) حتى خليج المكسيك (جنوباً).
- يجري فيها نهر المسيسيبي.

نطاق المرتفعات والأحواض الجبلية الغربية

تتكون من :

- سلاسل جبلية، أعلاها جبال روكي.
- هضاب مرتفعة، أهمها هضبة كلورادو.

السلاسل الجبلية الغربية (الساحلية)

تمتد من الشمال إلى الجنوب ومنها جبال كسكيد.

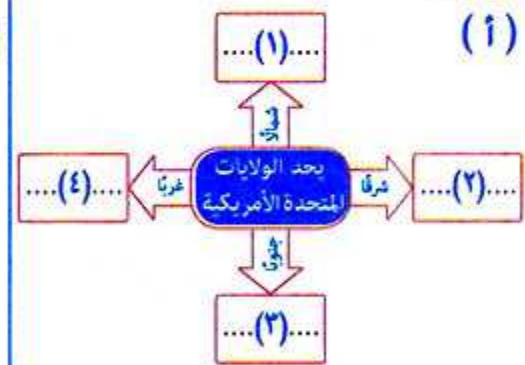
المناخ و النبات الطبيعي

* أدى اتساع مساحة الولايات المتحدة الأمريكية وتنوع تضاريسها إلى تنوع المناخ وبالتالي تنوع النبات الطبيعي بها، كالتالي :

المنطقة	الخصائص المناخية بها	النبات الطبيعي بها
الساحل الجنوبي الشرقي ودلتا نهر المسيسيبي	* يسودها المناخ شبه المداري الحار مع أمطار غزيرة طوال العام والذي يتأثر بالأعاصير المدارية المدمرة.	* تنتشر غابات الإقليم الصيني.
السهول الوسطى	* تختلف خصائصها المناخية من منطقة لأخرى نظرًا لاتساعها وامتدادها من الشمال للجنوب.	* تنتشر: • الحشائش في الوسط. • الغابات في أقصى الجنوب.
الإقليم الجبلي والهضبي في الغرب	* تقل الأمطار على الأحواض الجنوبية حيث صحراء أريزونا الحارة الجافة. * تسقط الأمطار الغزيرة وتنخفض الحرارة على المرتفعات الشمالية الغربية.	* تنتشر بها الأعشاب الصحراوية. * تنتشر بها الحشائش والنباتات الجبلية.

١ تدريب

الظاهرة التضاريسية	موقعها بالولايات المتحدة
(١) جبال الأبلاش
(٢) سهول نهر المسيسيبي
(٣) جبال روكي
(٤) هضبة كلورادو
(٥) جبال كسكيد



٢ اكتب كلمة (صواب) أمام العبارة الصحيحة، وكلمة (خطأ) أمام العبارة غير الصحيحة، مع التصويب :

- (١) تقع جميع أراضي الولايات المتحدة الأمريكية بين دائرتي عرض ٢٥°، ٤٩° شمالاً. ☐
- (٢) تُعد الولايات المتحدة رابع دول العالم من حيث المساحة بعد روسيا وكندا والصين. ☐
- (٣) يسود المناخ شبه المداري الحار في السهول الوسطى بالولايات المتحدة الأمريكية. ☐
- (٤) تنتشر الأعشاب الصحراوية بالأحواض الجنوبية غرب الولايات المتحدة الأمريكية. ☐



السكان

عدد
السكان

- * نحو ٣١٨ مليون نسمة عام ٢٠١٤م.
- * يعيش ثلثي ($\frac{2}{3}$) السكان في المدن والثلث ($\frac{1}{3}$) في الريف.

توزيع
السكان

- * يتركز السكان في :
 - إقليم نيويورك في المنطقة الشمالية الشرقية (٥٠٪ من السكان) فعلى الرغم من أنه يمثل ١٢٪ من المساحة الكلية للدولة، إلا أنه أكثر الأقاليم اكتظاظًا بالسكان بسبب :
 - وجود المدن الكبرى، مثل : نيويورك.
 - وجود المناطق الصناعية والتجارية الكبرى.
 - السهول الوسطى حول البحيرات العظمى وفي السهول الفيضية لنهر المسيسيبي ودلتاه.
 - السواحل الغربية حيث :
 - المناطق الصناعية والمدن الكبرى، مثل : سان فرانسيسكو، ولوس أنجلوس.
 - المناطق الزراعية الخصبة.
- * يقل السكان في :
 - نطاق المرتفعات والأحواض الغربية بسبب الظروف الطبيعية الصعبة.
 - ولاية ألاسكا بسبب برودة الجو.

الموارد والأنشطة الاقتصادية

- * تُعد الولايات المتحدة الأمريكية القوة الاقتصادية الأولى في العالم **بم تفسر؟** لأنها تتمتع بموارد طبيعية وفيرة ومتنوعة، مما أدى إلى تعدد الأنشطة الاقتصادية وضخامة إنتاجها.
- * تتمثل الأنشطة الاقتصادية فيما يلي :

- * تتمتع الولايات المتحدة الأمريكية بضخامة وتنوع الإنتاج الزراعي **بم تفسر؟** وذلك بسبب :

١
الزراعة

- وجود أراضٍ زراعية خصبة واسعة :
- في سهول نهر المسيسيبي في الوسط.
- في الجنوب الشرقي.
- في الوادي الأوسط بكاليفورنيا.
- على جوانب المرتفعات.
- اعتمادها على التكنولوجيا الحديثة.

تذكر أن ! (من الوحدة الأولى) :

الولايات المتحدة الأمريكية من أكبر دول العالم في إنتاج كل من :
القمح، وبنجر السكر.

أ الثروة الحيوانية

* تربي الولايات المتحدة الأمريكية أعداد كبيرة من الأبقار، والأغنام، والخنازير لإنتاج اللحوم التي يُصدر جزء منها إلى الخارج، بالإضافة إلى إنتاج الألبان والجلود.

ب الثروة السمكية

- * توجد ثروة سمكية كبيرة بالولايات المتحدة الأمريكية **بم تفسر؟** بسبب :
- وقوعها على محيطين كبيرين هما الأطلنطي والهادي.
 - وجود الأنهار والبحيرات.

٢ الإنتاج الحيواني

تنتج الولايات المتحدة الأمريكية كميات كبيرة من المعادن ومصادر الطاقة وتُعد من أكبر دول العالم في إنتاج النحاس، والفحم والبتروول والغاز الطبيعي (كما درسنا في الدرس الثالث بالوحدة الأولى).

٣ التعدين

* تُعد الولايات المتحدة الأمريكية القوة الصناعية الأولى في العالم، وأولى الدول الصناعية السبع (*) **بم تفسر؟** بسبب :

- ١) توافر كل مقومات الصناعة بها.
 - ٢) إسهامها بحصص مرتفعة من الإنتاج العالمي في عدة صناعات، منها :
 - صناعة السيارات.
 - صناعة الصلب.
 - صناعة الألومنيوم.
 - صناعة الطائرات وسفن الفضاء والأقمار الصناعية حيث تحتل المرتبة الأولى عالمياً في هذه الصناعات.
 - الصناعات الإلكترونية والكهربائية حيث تنتج ثلث ($\frac{1}{3}$) الإنتاج العالمي منها.
- * مناطق الصناعة الرئيسية في الولايات المتحدة الأمريكية :

منطقة الشمال الشرقي	* تضم نطاق المدن الصناعية الكبرى، منها : منطقة البحيرات العظمى.
منطقة الجنوب	* تشمل مدناً صناعية، أهمها : برمنجهام.
منطقة الغرب الساحلي	* تضم مدناً صناعية، أهمها : سان فرانسيسكو.

٤ الصناعة



أهم مدن الولايات المتحدة الأمريكية

شيكاغو

* أكبر مدن السهول الوسطى وتقع على بحيرة متشجن.

نيويورك

* ميناء مهم وتطل على المحيط الأطلنطي.
* يوجد بها مقر الأمم المتحدة.

واشنطن

العاصمة السياسية
* تطل على المحيط الأطلنطي.

سان فرانسيسكو

* أكبر الموانئ الأمريكية على ساحل المحيط الهادى.



العلاقات المصرية الأمريكية

- * ترتبط الدولتان بعلاقات قوية في مختلف المجالات، وتوجد اتفاقيات بين البلدين في إطار التعاون الاقتصادي والتكنولوجى والثقافى والعلمى.
- * توجد اتفاقيات تجارية بين البلدين، منها:
 - اتفاقية منطقة التجارة الحرة.
 - اتفاقية المناطق الصناعية المؤهلة (الكويز).
- * تستورد مصر من الولايات المتحدة الأمريكية منتجات تكنولوجية حديثة وأسلحة وطائرات وغيرها.

١ أكمل الجدول الآتي :

المدينة	تطل على	شهرتها
..... (١) (٢)	العاصمة السياسية
نيويورك (٣) (٤)
..... (٥) (٦)	أكبر مدن السهول الوسطى
سان فرانسيسكو	المحيط الهادئ (٧)

٢ بم تفسر... ؟

(١) تركز ٥٠٪ من سكان الولايات المتحدة الأمريكية في إقليم نيو إنجلاند رغم أنه يمثل ١٢٪ من مساحتها.

(٢) قلة السكان في نطاق المرتفعات والأحواض الغربية وولاية ألاسكا بالولايات المتحدة الأمريكية.

(٣) ضخامة وتنوع الإنتاج الزراعي في الولايات المتحدة الأمريكية.

(٤) توجد ثروة سمكية كبيرة بالولايات المتحدة الأمريكية.

٢ دلل جغرافيًا على صحة كل عبارة مما يأتي :

(١) تنوع الصناعات في الولايات المتحدة الأمريكية.

(٢) ترتبط مصر مع الولايات المتحدة الأمريكية بعلاقات قوية في مختلف المجالات.

اجابات
أسئلة الكتاب
التمرير
مفكرة
الامتحان

أهم نقاط الدرس

الولايات المتحدة الأمريكية



النبات الطبيعي

* غابات الإقليم الصيني.

* الحشائش في الوسط.
* الغابات في أقصى الجنوب.

المناخ

* الساحل الجنوبي الشرقي ودلتا نهر المسيسيبي يسودها مناخ شبه مداري حار.

* السهول الوسطى:
تختلف خصائصها المناخية من منطقة لأخرى لاتساعها وامتدادها من الشمال للجنوب.

* الإقليم الجبلي والهضبي في الغرب:
• نقل الأمطار على الأحواض الجنوبية حيث تسقط الأمطار الغزيرة وتنخفض الحرارة على المرتفعات الشمالية الغربية.

التضاريس

* تتنوع من الشرق إلى الغرب كالآتي:
• السهل الساحلي الشرقي وساحل خليج المكسيك.
• المرتفعات الشرقية (جبال الأبلاش).
• السهول الوسطى: يجري فيها نهر المسيسيبي.
• نطاق المرتفعات والأحواض الجبلية الغربية، تتكون من:
- سلاسل جبلية أعلاها جبال روكي.
- هضاب مرتفعة أهمها هضبة كلورادو.
• السلاسل الجبلية الغربية (الساحلية) منها: جبال كسكيد.

الموقع الجغرافي

* تقع في قارة أمريكا الشمالية يحدها من:
• الشمال: دولة كندا.
• الجنوب: دولة المكسيك.
• خليج المكسيك.
• الشرق: المحيط الأطلنطي.
• الغرب: المحيط الهادي.

الموقع الفلكي

* تمتد بين:
• دائرتي عرض 49° شمالاً.
• خطي طول 127° غرباً.

الصناعة

* تعد القوة الصناعية الأولى في العالم وأولى الدول الصناعية السبع.
* مناطق الصناعة الرئيسية بها:
• منطقة الشمال الشرقي منها (منطقة البحيرات العظمى).
• منطقة الجنوب (برمنجهام).
• منطقة الغرب الساحلي (سان فرانسيسكو).

التعدين

* من أكبر دول العالم في إنتاج:
النحاس والفحم والبترو، الغاز الطبيعي.

الإنتاج الحيواني

(أ) الثروة الحيوانية: تربي أعداد كبيرة من الأبقار والأغنام، والخنازير لإنتاج اللحوم التي تصدر جزء منها للخارج، بالإضافة إلى إنتاج الألبان والجلود.
(ب) الثروة السمكية: تمتلك ثروة سمكية كبيرة لسوقها على محيطين كبيرين هما الأطلنطي والهادي ووجود الأنهار والبحيرات.

الزراعة

* تتمتع بخصامة وتنوع الإنتاج الزراعي بسبب:
• وجود أراضي زراعية خصبة واسعة.
• اعتمادها على التكنولوجيا الحديثة.
* تعد من أكبر الدول المنتجة للقمح، وبنجر السكر.

السكان

* يتركزون في:
• إقليم نيو إنجلاند في المنطقة الشمالية الشرقية (50% من السكان).
• السهول الوسطى حول البحيرات العظمى، والسهول الفيضية لنهر المسيسيبي ودلتاه.
• السواحل الغربية بالمناطق الصناعية والمدن الكبرى والمناطق الزراعية الخصبة.
* يقعون في:
• نطاق المرتفعات والأحواض الغربية.
• ولاية ألاسكا.

العلاقات المصرية الأمريكية

* توجد اتفاقيات بين البلدين في إطار التعاون الاقتصادي والتكنولوجي والثقافي والعلمي.
* توجد اتفاقيات تجارية بين البلدين منها:
• اتفاقية منطقة التجارة الحرة.
* تستورد مصر منها: • منتجات تكنولوجية حديثة. • أسلحة. • طائرات.

أهم المدن

* شيكاغو: أكبر مدن السهول الوسطى وتقع على بحيرة متشجن.
* نيويورك: ميناء مهم وتطل على المحيط الأطلنطي ويوجد بها مقر الأمم المتحدة.
* واشنطن: العاصمة السياسية، وتطل على المحيط الأطلنطي.
* سان فرانسيسكو: أكبر الموانئ الأمريكية على ساحل المحيط الهادي.



١ اخترا الإجابة الصحيحة من بين البدائل التالية :

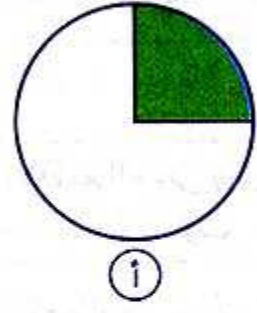
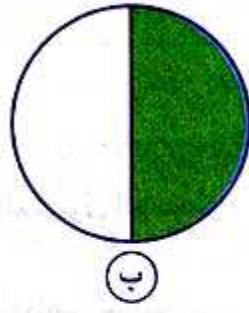
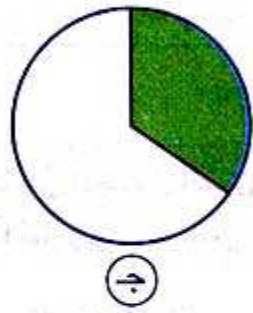
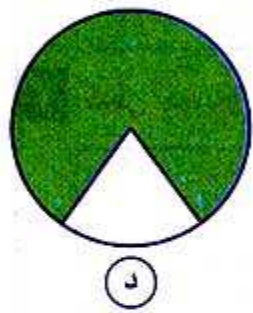
- (١) تقترب الحدود الجنوبية للولايات المتحدة الأمريكية من دائرة عرض
(مدار الجدى - مدار السرطان - دائرة الاستواء - الدائرة القطبية الشمالية)
- (٢) يحد الولايات المتحدة الأمريكية من الجنوب خليج
(سانت لورانس - هدرس - المكسيك - كاليفورنيا)
- (٣) تقع ولاية وسط المحيط الهادى . (ألاسكا - هاواى - كاليفورنيا - نيويورك) (الجيزة ١٥)
- (٤) تقع ولاية فى أقصى الشمال الغربى لقارة أمريكا الشمالية .
(ألاسكا - هاواى - كاليفورنيا - لوس أنجلوس)
- (٥) يمنع اتصال دولة الولايات المتحدة الأمريكية بولاية ألاسكا
(دولة كندا - المحيط الأطلنطى - دولة المكسيك - المحيط الهادى)
- (٦) يحد الولايات المتحدة الأمريكية غرباً
(كندا - المحيط الأطلنطى - المحيط الهادى - المكسيك) (الفيوم ٢١)
- (٧) تُعد سلاسل جبال أعلى جبال نطاق المرتفعات والأحواض الجبلية الغربية بالولايات المتحدة الأمريكية .
(كسكيد - الأبلاش - روكى - سيرانيقادا)
- (٨) تمتد جبال الأبلاش فى الولايات المتحدة الأمريكية .
(شمال - جنوب - شرق - غرب)
- (٩) تنمو بالساحل الجنوبي الشرقى ودلتا نهر المسيسيبي . (السويس ١٧)
(الغابات المخروطية - غابات الإقليم الصينى - غابات البحر المتوسط - الغابات المدارية)
- (١٠) تنتمى الأطراف الجنوبية الشرقية للولايات المتحدة الأمريكية إلى إقليم مناخ
(المعتدل البارد - البحر المتوسط - الصحارى المعتدل - شبه المدارى الحار)

(١١) يرجع العامل الرئيسي لتركز السكان في شمال شرق الولايات المتحدة الأمريكية
(تنوع المناخ - وجود المدن الكبرى - التربة الخصبة - وجود الأنهار)

(١٢) من المدن الصناعية في المنطقة الجنوبية للولايات المتحدة الأمريكية
(سان فرانسيسكو - برمنجهام - لوس أنجلوس - شيكاغو)

(١٣) أى من الأشكال التالية يعبر عن نسبة مشاركة الصناعات الإلكترونية والكهربائية بالولايات المتحدة الأمريكية في الإنتاج العالمى ؟

نسبة مشاركة الصناعات الإلكترونية والكهربائية



(١٤) يقل عدد السكان في ولاية ألاسكا بسبب

(الظروف المناخية - بُعدها عن العاصمة - انتشار الجبال - قلة الأنهار)

(١٥) أكبر مدن السهول الوسطى بالولايات المتحدة الأمريكية وتقع على بحيرة متشجن هي مدينة
(نيويورك - واشنطن - شيكاغو - لوس أنجلوس) (الغربية ١٦)

٢ (١) أمامك خريطة لقارة أمريكا الشمالية،

اكتب ما تدل عليه الأرقام التى عليها :



(١) المحيط (٢) المحيط

(٣) خليج (٤) دولة

(٥) دولة (٦) ولاية

(٧) مدينة (٨) مدينة

(٩) مدينة (١٠) مدينة

(ب) أمامك خريطة للولايات المتحدة الأمريكية، اكتب ما تدل عليه الأرقام :



(١) جبال

(٢) جبال

(٣) جبال

(٤) هضبة

(٥) نهر

٣ أكمل الجدول الآتي :

الإقليم الجبلي والهضبي في الغرب	السهول الوسطى	الساحل الجنوبي الشرقي ودلتا نهر المسيسيبي	
تقل الأمطار على (٢) وتكون غزيرة على (٣)	تختلف الخصائص المناخية من منطقة لأخرى	يسودها مناخ (١)	المناخ
(٦)	(٥)	(٤)	النبات الطبيعي

٤ اكتب كلمة (صواب) أمام العبارة الصحيحة، وكلمة (خطأ) أمام العبارة غير الصحيحة، مع التصويب :

(١) تتكون الولايات المتحدة الأمريكية من ٥٠ ولاية وتقع ولايتا ألاسكا ونيويورك

خارج موقعها الفلكي.

()

(٢) تعد الولايات المتحدة الأمريكية رابع دول العالم من حيث المساحة.

()

(٣) يُطلق على مرتفعات الولايات المتحدة الأمريكية الشرقية جبال روكي.

()

(٤) تمتد السهول الوسطى في الولايات المتحدة الأمريكية من إقليم البحيرات

()

العظمى حتى خليج المكسيك.

(٥) تنمو الغابات في وسط السهول الوسطى بالولايات المتحدة الأمريكية، بينما

()

تنمو الحشائش في أقصى جنوبها.

(٦) تقل الأمطار في الولايات المتحدة الأمريكية على الأحواض الجنوبية الغربية.

()

(٧) تتسم المرتفعات الشمالية الغربية بالولايات المتحدة الأمريكية بندرة الأمطار والحرارة المنخفضة.

()

(٨) يتركز نصف سكان الولايات المتحدة الأمريكية في إقليم نيو إنجلاند.

()

(٩) يعتمد النشاط الزراعي في الولايات المتحدة الأمريكية على الأيدي العاملة.

()

(١٠) تنتج الولايات المتحدة الأمريكية كميات كبيرة من اللحوم وتستهلكها محليًا.

()

(١١) تُعد الولايات المتحدة الأمريكية القوة الصناعية الأولى في العالم. (بني سويف ١٥)

()

(١٢) تُعد الولايات المتحدة الأمريكية أولى دول العالم في صناعة الطائرات.

()

(١٣) برمنجهام من أهم المدن الصناعية في شمال شرق الولايات المتحدة. (الإسماعيلية ١٩)

()

(١٤) نيويورك ميناء مهم يطل على المحيط الأطلنطي.

()

(١٥) شيكاغو أكبر الموانئ الأمريكية وتقع على ساحل المحيط الهادى.

()

(١٦) من الاتفاقيات التجارية بين مصر والولايات المتحدة الأمريكية اتفاقية

()

المناطق الصناعية المؤهلة (الكويز).

٥ بم تفسر ... ؟

(١) تنوع المناخ في الولايات المتحدة الأمريكية واختلافه من منطقة لأخرى. (الغربية ٢١)

.....

(٢) تنوع النبات الطبيعى بالولايات المتحدة الأمريكية.

.....

(٣) تركز نصف سكان الولايات المتحدة الأمريكية في إقليم نيو إنجلاند. (الجيزة ١٧)

.....

(٤) قلة السكان في منطقة المرتفعات والأحواض الغربية بالولايات المتحدة الأمريكية.


.....

(٥) قلة عدد السكان في ولاية ألاسكا بالولايات المتحدة الأمريكية. (المنيا ١٨)

.....

(٦) تُعد الولايات المتحدة الأمريكية القوة الاقتصادية الأولى في العالم.

.....

(٧)  ضخامة وتنوع الإنتاج الزراعي في الولايات المتحدة الأمريكية. (الدقهلية ١٦)

(٨) تمتلك الولايات المتحدة الأمريكية ثروة سمكية كبيرة. (المنوفية ١٥)

(٩) تُعد الولايات المتحدة القوة الصناعية الأولى في العالم وأولى الدول الصناعية السبع. (الإسكندرية ١٧)

٦ ما النتائج المترتبة على :

تمتع الولايات المتحدة الأمريكية بموارد طبيعية متنوعة ؟ (دمياط ١٦)

٧ دلل جغرافيًا على صحة العبارة الآتية :

تربط مصر بالولايات المتحدة الأمريكية علاقات قوية. (بورسعيد ٢١)

٨ حدد المدن الصناعية بالولايات المتحدة الأمريكية في كل منطقة مما يأتي :

(١) منطقة الجنوب.

(٢) منطقة الغرب الساحلي.

أسئلة للتمييز

٩ اختر الإجابة الصحيحة مما بين القوسين :

- (١) تمتد دولة الولايات المتحدة الأمريكية إلى الغرب من
(المحيط الأطلنطي - دولة كندا - المحيط الهادى - دولة المكسيك)
- (٢) تقترب الولايات المتحدة الأمريكية من روسيا عند ولاية
(نيويورك - هاواى - ألاسكا - لوس أنجلوس)
- (٣) تمتد بحيرة بأكملها داخل دولة الولايات المتحدة الأمريكية.
(متشجن - إيرى - أنتاريو - هورن)
- (٤) يظهر أقصى اتساع للسهول الساحلية لدولة الولايات المتحدة الأمريكية في الجهات المطلّة على
(خليج المكسيك - المحيط الهادى - البحيرات العظمى - المحيط الأطلنطي)
- (٥) يظهر الإقليم الجبلى بوضوح في دولة الولايات المتحدة الأمريكية في الأجزاء
(الشمالية - الغربية - الشرقية - الجنوبية)
- (٦) يرجع تنوع المناخ في الولايات المتحدة الأمريكية إلى تنوع التضاريس و
(كثرة دوائر العرض - بعدها عن المسطحات المائية - تعدد خطوط الطول - كثرة الجزر بها)
- (٧) العامل المشترك في مناطق التركيز السكاني في دولة الولايات المتحدة الأمريكية
(وجود المدن الكبرى - المناخ المعتدل الممطر - وجود التربة الخصبة - القرب من المسطحات المائية)
- (٨) تحقق الولايات المتحدة الأمريكية الاكتفاء الذاتي من محصول
(المطاط - البن - القمح - الشاى)
- (٩) تنتشر المصايد البحرية في الولايات المتحدة الأمريكية في الجهات
(الغربية - الجنوبية - الشرقية - الشمالية)
- (١٠) تعتبر حلقة الوصل التجارى مع دول غرب أوروبا مدينة
(نيويورك - شيكاغو - لوس أنجلوس - سان فرانسيسكو)

١١) تُعد حلقة الوصل التجاري مع دول شرق آسيا مدينة

(سان فرانسيسكو - نيويورك - شيكاغو - واشنطن)

١٠. حدد تقييمك لمدى مصداقية العبارات الآتية :

(١) تربى حيوانات الرنة في بعض أجزاء دولة الولايات المتحدة الأمريكية.

(٢) تخلو السواحل الغربية في الولايات المتحدة الأمريكية من الموانئ بسبب وجود الجبال.

(٣) تضم دولة الولايات المتحدة الأمريكية كل أنواع الحشائش الطبيعية.

١١. دلل جغرافيًا على صحة العبارة الآتية :

تحتل مدينة نيويورك أهمية دولية وعالمية.

مشروع بحثي مقترح على الوحدة الثانية



تُعد العلاقات المصرية الدولية أحد أهم أوجه الاهتمام لدى الدولة حرصًا منها على التعاون الاقتصادي والتكنولوجي والثقافي والعلمي مع دول العالم المختلفة، من خلال دراستك قم بعمل مشروع بحثي يتضمن ما يلي :

* أهم الموارد الاقتصادية بدولة الهند وأسباب التطور الصناعي فيها وأهم العلاقات التجارية بينها وبين مصر.

* أهمية البيئة الطبيعية بدولة البرازيل بالنسبة للعالم وأهمية وضع تشريعات للحفاظ عليها.

* أهم أساليب التنمية الاقتصادية في نيجيريا مستخدمًا في ذلك التمثيل البياني.

* مظاهر العلاقات الثقافية والعلمية بين ألمانيا ومصر.

* فقرة لا تقل عن خمسة أسطر باللغة الأجنبية عن الأسباب التي جعلت الولايات المتحدة الأمريكية قوة عظمى.

الإرشادات العامة محاور المشروع





التاريخ

ثانيًا

ثورة يوليو والصراع العربي / الإسرائيلي

ثورة ٢٣ يوليو ١٩٥٢م.

مصر والقضية الفلسطينية.

حرب أكتوبر ١٩٧٣م.

مصر والصراع العربي / الإسرائيلي.

ثورتا ٢٥ يناير ٢٠١١م و ٣٠ يونيو ٢٠١٣م.

الحياة السياسية وعلاقات مصر الدولية

الحياة النيابية والحزبية ودور المرأة في العمل الوطني.

مصر والمنظمات الإقليمية والدولية.

الوحدة 3

الدرس الأول

الدرس الثاني

الدرس الثالث

الدرس الرابع

الدرس الخامس

الوحدة 4

الدرس الأول

الدرس الثاني

أهم المفاهيم التاريخية



توزيع الثروات القومية بين المواطنين توزيعاً عادلاً.	عدالة اجتماعية
يعنى امتلاك فئة صغيرة من الملاك لمساحات كبيرة من الأراضي الزراعية (إقطاعيات) وتسخير الفلاحين في زراعتها.	الإقطاع
منظمة دولية قامت على أساس عدم الانضمام إلى أى من الكتلتين الشرقية والغربية.	★ حركة عدم الانحياز (الحياد الإيجابي)
مجموعة الدول الاشتراكية التي كانت متحالفة مع الاتحاد السوفيتي أثناء الحرب الباردة ضد الولايات المتحدة الأمريكية.	الكتلة الشرقية
مجموعة الدول الرأسمالية التي تحالفت مع الولايات المتحدة الأمريكية أثناء الحرب الباردة ضد الاتحاد السوفيتي.	الكتلة الغربية
مصطلح أطلقه الرئيس (جمال عبدالناصر) على العمليات القتالية بين مصر وإسرائيل والتي قامت بعد عدوان يونيه ١٩٦٧م وانتهت عام ١٩٧٠م بعد عقد معاهدة روجرز.	حرب الاستنزاف
خط دفاعي أقامته إسرائيل على الضفة الغربية لقناة السويس عقب احتلالها شبه جزيرة سيناء.	خط بارليف
يُطلق على المجالس النيابية التي تتولى السلطة التشريعية في الدولة.	★ برلمان
الوثيقة الرسمية التي تحدد نظام الحكم في الدولة وتحدد شكل واختصاصات المؤسسات الدستورية المختلفة.	★ دستور

تنويه المصطلح المسبوق بالعلامة (★) مقرر هذا العام.

ثورة يوليو والصراع العربي / الإسرائيلي

الوحدة 3

أهداف الوحدة

في نهاية دراسة هذه الوحدة يتوقع أن يكون التلميذ قادرًا على أن :

- يصف أحوال مصر قبل قيام ثورة ٢٣ يوليو ١٩٥٢م.
- يتعرف نشأة ومراحل تطور القضية الفلسطينية.
- يحدد الموقف العربي في قرار تقسيم فلسطين عام ١٩٤٧م.
- يقارن بين نتائج حرب ١٩٤٨م، ونتائج هزيمة يونيو ١٩٦٧م.
- يصف أحداث حرب أكتوبر ١٩٧٣م وموقف الدول العربية أثناء الحرب على الجبهتين المصرية والسورية.
- يستخلص الدروس المستفادة من نتائج حرب أكتوبر ١٩٧٣م.
- يفسر موقف مصر وسياستها تجاه حل الصراع العربي / الإسرائيلي (معاهدة السلام).
- يقيم موقف كل من الدول العربية والمواقف الإقليمية والدولية من قضية السلام وحل الصراع العربي / الإسرائيلي.
- يتعرف أسباب وأهداف ثورة ٢٥ يناير ٢٠١١م وأهم أحداثها.
- يقدر دور الشعوب في صناعة الأحداث والوقائع التاريخية.
- يفسر قيام ثورة ٣٠ يونيو ٢٠١٣م.

الدرس الأول

الدرس الثاني

الدرس الثالث

الدرس الرابع

الدرس الخامس

ثورة ٢٣ يوليو ١٩٥٢م.

مصر والقضية الفلسطينية.

حرب أكتوبر ١٩٧٣م.

مصر والصراع العربي / الإسرائيلي.

ثورتا ٢٥ يناير ٢٠١١م و ٣٠ يونيو ٢٠١٣م.



• أسئلة تفاعلية



• أسئلة الكتاب المدرسي

• أسئلة للتميز.

• أسئلة من امتحانات المحافظات.

على الوحدة الثالثة.

أسئلة

كل درس تشمل



مشروع بحثي

مفتوح



← كتاب المراجعة والامتحانات

← مفكرة الامتحان

انظر

• مراجعة على كل درس

وأسئلة عامة على الوحدة

• مراجعة على الوحدة

أهداف دروس الوحدة الثالثة

الدرس الأول

ثورة ٢٣ يوليو ١٩٥٢م.

من المتوقع بعد الانتهاء من الدرس أن يكون التلميذ قادرًا على أن :



- يربط بين الأحوال السياسية والاجتماعية والاقتصادية في مصر قبل الثورة وبين أسباب قيام ثورة ٢٣ يوليو ١٩٥٢م.
- يحلل الأحوال السياسية والاجتماعية والاقتصادية على اعتبار أنها مقدمات لثورة ٢٣ يوليو ١٩٥٢م.
- يستخلص أسباب قيام ثورة ٢٣ يوليو ١٩٥٢م.
- يصف أحداث ثورة ٢٣ يوليو ١٩٥٢م.
- يحدد مطالب الجيش من الملك فاروق.
- يربط بين أهداف ثورة ٢٣ يوليو ١٩٥٢م وإنجازاتها.
- يقدر أهمية الدور الوطني لبعض الشخصيات والرموز.

الدرس الثاني

مصر والقضية الفلسطينية.

من المتوقع بعد الانتهاء من الدرس أن يكون التلميذ قادرًا على أن :



- يتتبع نشأة القضية الفلسطينية والحركة الصهيونية.
- يكتب مقالًا قصيرًا عن وعد بلفور والانتداب البريطاني على فلسطين.
- يقيم الموقف العربي من قرار تقسيم فلسطين عام ١٩٤٧م.
- يحدد أسباب حرب ١٩٤٨م وموقف الولايات المتحدة منها.
- يحلل أسباب العدوان الثلاثي على مصر والموقف الدولي منه.
- يكتشف العلاقة بين نتائج حرب ١٩٤٨م ونتائج هزيمة يونيو ١٩٦٧م.
- يقدر الجهود الوطنية لخدمة القضية الفلسطينية.
- يستخلص نتائج حرب الاستنزاف.
- يقيم دور بريطانيا بالنسبة للقضية الفلسطينية.

الدرس الثالث

حرب أكتوبر ١٩٧٣م.

من المتوقع بعد الانتهاء من الدرس أن يكون التلميذ قادرًا على أن :



- يحلل ظروف وأحداث ما قبل حرب أكتوبر ١٩٧٣م.
- يحدد الأسباب التي أدت إلى قيام حرب أكتوبر ١٩٧٣م.
- يصف أحداث الحرب على كل من الجبهتين المصرية والسورية.
- يوضح موقف الدول العربية أثناء حرب أكتوبر ١٩٧٣م.
- يفسر موقف الولايات المتحدة الأمريكية أثناء حرب أكتوبر ١٩٧٣م.
- يحدد بنود قرار مجلس الأمن رقم ٣٣٨.
- يوضح العوامل التي كانت سببًا في انتصار أكتوبر ١٩٧٣م.
- يستخلص الدروس المستفادة من حرب أكتوبر ١٩٧٣م ونتائجها.

تابع أهداف دروس الوحدة الثالثة

الدرس الرابع

مصر والصراع العربي / الإسرائيلي.

من المتوقع بعد الانتهاء من الدرس أن يكون التلميذ قادرًا على أن :

• يحلل أسباب مبادرة الرئيس السادات بالذهاب إلى إسرائيل في ١٩ نوفمبر ١٩٧٧م.

• يحدد نتائج مؤتمر كامب ديفيد في سبتمبر ١٩٧٨م.

• يعدد نصوص معاهدة السلام بين مصر وإسرائيل في مارس ١٩٧٩م.

• يحدد موقف كل من الدول العربية ودول العالم الأخرى من معاهدة السلام.

• يوضح كيف عادت طابا إلى مصر.

• يعدد مزايا السلام لكل من مصر والدول العربية.

• يستخلص جهود مصر الإقليمية والدولية لتحقيق السلام.



الدرس الخامس

ثورتا ٢٥ يناير ٢٠١١م و ٣٠ يونيو ٢٠١٣م.

من المتوقع بعد الانتهاء من الدرس أن يكون التلميذ قادرًا على أن :

• يتعرف عوامل قيام ثورة ٢٥ يناير ٢٠١١م.

• يستنتج دور التكنولوجيا ووسائل الاتصال في ثورة يناير ٢٠١١م.

• يتتبع أحداث ثورة ٢٥ يناير ٢٠١١م.

• يقدر دور الشعب المصري في صنع الأحداث والوقائع التاريخية.

• يقدر الدور العظيم للقوات المسلحة في حماية الشعب.

• يوضح أحداث ثورة ٣٠ يونيو ٢٠١٣م.

• يستخلص الدروس المستفادة من تاريخ الشعوب.

• يقدر أهمية الوحدة الوطنية في الحفاظ على الأمن القومي.





ظل تحرير مصر من الاحتلال البريطاني هو الهدف الرئيسى لكل الوطنيين ومنهم ضباط الجيش المصرى العظيم الذى بات هدفه تحقيق الاستقلال الحقيقى وطرد المستعمر الأجنبى لتصبح مصر للمصريين،

• ما هى عوامل قيام ثورة ٢٣ يوليو ١٩٥٢م ؟

• ما هى أهداف الثورة ؟ وما أهم إنجازاتها ؟

فى هذا الدرس نتعرف

ثورة ٢٣ يوليو ١٩٥٢م من حيث



❖ اختلفت الكتابات وتعددت الآراء حول ثورة ٢٣ يوليو ١٩٥٢م، حيث :

يرى بعض المؤرخين أنها :

تكتسب أهمية كبيرة لما تركته من آثار على أغلب الحركات التحررية في المنطقة العربية بشكل خاص وفي العالم بشكل عام، ولما أسهم به قادتها من تأسيس لحركات دولية منها على سبيل المثال حركة عدم الانحياز والحياد الإيجابي.

يرى مؤرخين آخرون أنها :

لم تبدأ عندما تأسس تنظيم الضباط الأحرار، أو عندما سيطرت قيادة الثورة على مقرات الجيش والإذاعة المصرية، إنما كان هذا التحرك مكملًا لنضال طويل وممتد لشعب مصر، الذي ثار ضد الفساد والاحتلال وسوء الحكم منذ الثورة العربية وثورة ١٩١٩م وحتى قيام ثورة ٢٣ يوليو ١٩٥٢م.

تنظيم الضباط الأحرار

* أسسه جمال عبدالناصر.

* تكون من مجموعة ضباط من الجيش المصري الذين نظموا صفوفهم في سرية تامة بهدف القيام بثورة للقضاء على الفساد وتحرير واستقلال مصر من الاحتلال البريطاني بعد أن تجمعت عدة عوامل تتضح فيما يلي :

عوامل قيام ثورة ٢٣ يوليو ١٩٥٢م



وفيما يلي نتعرف هذه العوامل بشيء من التفصيل.



١ استمرار الاحتلال البريطاني وتدخله في الشؤون الداخلية لمصر : حيث :

لم تحقق معاهدة ١٩٣٦م الاستقلال الحقيقي لمصر **دلل ؟** حيث قامت قوات الاحتلال البريطاني بحصار قصر عابدين في فبراير ١٩٤٢م لإجبار الملك فاروق على تعيين مصطفى النحاس باشا رئيساً للحكومة.

٢ هزيمة الجيش المصري في حرب فلسطين ١٩٤٨م : بم تفسر ؟ بسبب :

- * دعم الولايات المتحدة الأمريكية وبريطانيا لإسرائيل.
- * عدم استعداد الجيش المصري والعربي عسكرياً للحرب.

٣ فساد النظام الملكي : دلل ؟ حيث تمثل في :

- * استبداد الملك فاروق بالحكم.
- * انتشار الرشاوى كما حدث في صفقة الأسلحة الفاسدة.

٤ عدم وجود حياة ديمقراطية سليمة : بسبب :

- * خضوع مصر للاحتلال البريطاني.
- * فساد النظام الملكي.
- * فساد الأحزاب السياسية وزيادة الصراع بينهم من أجل الوصول إلى الحكم.

٥ تدهور الحياة الاقتصادية لمصر : حيث أدى توقيع معاهدة ١٩٣٦م إلى :

- * جعل مصر ميداناً لمعارك الحرب العالمية الثانية.
- * استنزاف موارد مصر لخدمة بريطانيا وحلفائها.
- * مما ترتب عليه : • إرهاب الاقتصاد المصري.
- * زيادة معاناة أفراد الشعب.

٦ سوء الأحوال الاجتماعية : بسبب :

- * الصراعات السياسية بين الأحزاب والتي أدت إلى عدم وجود سياسات واضحة وثابتة للإصلاح الاجتماعى.
- * ظاهرة الإقطاع (*) (سوء توزيع ملكية الأرض الزراعية) مما جعل فئة صغيرة تملك وتستبد.
- * مما أدى إلى انتشار ظاهرة الفقر والجهل والمرض.

(*) الإقطاع : يعنى امتلاك فئة صغيرة من الملاك لمساحات كبيرة من الأراضى الزراعية (إقطاعات) وتسخير الفلاحين في زراعتها.

أهداف ثورة ٢٣ يوليو ١٩٥٢م



أحداث ثورة ٢٣ يوليو ١٩٥٢م

* فى صباح يوم ٢٣ يوليو ١٩٥٢م تحرك الضباط الأحرار وسيطروا على المواقع المهمة فى القاهرة والإسكندرية.

* أصبحت القاهرة بأكملها تحت سيطرة قوات الثورة.

بيان الثورة

فى الساعة السابعة والنصف صباح ٢٣ يوليو ١٩٥٢م أذيع البيان الأول للثورة من دار الإذاعة المصرية باسم اللواء محمد نجيب القائد العام للقوات المسلحة بصوت محمد أنور السادات وبموجب هذا البيان أصبح اللواء محمد نجيب مسيطراً على جميع قطاعات الجيش المصرى.

مطالب الثورة من الملك فاروق

١ التنازل عن العرش لابنه أحمد فؤاد الثانى الذى كان طفلاً.

٢ مغادرة البلاد قبل الساعة السادسة من مساء يوم ٢٦ يوليو ١٩٥٢م.

وافق الملك فاروق على مغادرة البلاد هو وأسرته قبل الموعد الذى تم تحديده **بم تفسر؟** لأنه أدرك أن الجيش والشعب يكرهان حكمه بالإضافة إلى تخلى الإنجليز عنه.





١ تدريب

١ اختر الإجابة الصحيحة مما بين القوسين :

- (١) أجبر الملك فاروق على تعيين رئيساً للحكومة المصرية فبراير ١٩٤٢م.
(محمد نجيب - جمال عبدالناصر - أنور السادات - مصطفى النحاس)
- (٢) أصبحت مصر ميداناً لمعارك الحرب العالمية الثانية نتيجة
(صفقة الأسلحة الفاسدة - معاهدة ١٩٣٦م - صراع الأحزاب السياسية - حصار قصر عابدين ١٩٤٢م)
- (٣) أسس تنظيم الضباط الأحرار
(محمد أنور السادات - جمال عبدالناصر - مصطفى النحاس - محمد نجيب)

٢ بم تفسر ... ؟

- (١) اكتساب ثورة ٢٣ يوليو ١٩٥٢ أهمية كبيرة لدى بعض المؤرخين.

- (٢) هزيمة الجيش المصرى فى حرب فلسطين ١٩٤٨م.

- (٣) موافقة الملك فاروق على مطالب ثورة ٢٣ يوليو ١٩٥٢م.

٣ حدد : أهداف قيام ثورة ٢٣ يوليو ١٩٥٢م.

٤ ما النتائج التى ترتبت على :

- انتشار ظاهرة الإقطاع فى مصر قبل ثورة ٢٣ يوليو ١٩٥٢م ؟

٥ دلل تاريخياً على صحة العبارة التالية :

- تأثر الاقتصاد المصرى بالحرب العالمية الثانية.

اجابات
اسئلة الكتاب
الطير مشفرة
الامتحان

إنجازات ثورة ٢٣ يوليو ١٩٥٢م

* نجحت ثورة ٢٣ يوليو ١٩٥٢م في تحقيق بعض أهدافها ويتضح ذلك من خلال إنجازاتها في مختلف المجالات، والتي تتمثل في :

أولاً المجال السياسى



يونيه
١٩٥٢م

إلغاء الملكية وإعلان الجمهورية،
وعُين اللواء محمد نجيب أول
رئيس للجمهورية المصرية.



يناير
١٩٥٣م

حل الأحزاب السياسية.



ديسمبر
١٩٥٢م

إلغاء دستور ١٩٢٣م.



يوليو
١٩٥٦م

تأميم شركة قناة السويس
البحرية، وأصبحت منذ هذا
التاريخ شركة مصرية بإدارة
مصرية.



١٨ يونيو
١٩٥٦م

رحيل القوات البريطانية عن مصر
بعد احتلال دام أربعة وسبعين
عامًا، فأصبح هذا اليوم
عيدًا للجلاء.



أكتوبر
١٩٥٤م

توقيع اتفاقية الجلاء عن مصر
التي تقر فيها جلاء القوات
البريطانية عن مصر خلال
عشرين شهرًا من توقيع الاتفاقية.

ثانيًا المجال الاقتصادى

١ الزراعة

* اهتمت ثورة يوليو ١٩٥٢م بالزراعة **دلل ؟** حيث تم :

- التوسع فى استصلاح الأراضى الصحراوية لزيادة الرقعة الزراعية.
- إنشاء السد العالى وتم إنجازه عام ١٩٧١م بهدف :

- حماية البلاد من خطر الفيضان.
- تخزين المياه وتوليد الكهرباء.




السد العالى



٢ الصناعة

* اهتمت ثورة يوليو ١٩٥٢م بالصناعة **دلل ؟** حيث تم :

- إنشاء العديد من المصانع، منها مصنع الحديد والصلب بحلوان، ومصنع الأسمدة بأسوان.
- الاهتمام بالتعليم الصناعي ومراكز التدريب المهني.
- الاهتمام بالبحث والتنقيب عن البترول وإنشاء معامل لتكرير البترول.



مصنع للحديد والصلب

٣ التجارة

* اهتمت ثورة يوليو ١٩٥٢م بالتجارة **دلل ؟** حيث تم :

- فتح أسواق خارجية جديدة لتسويق المنتجات المصرية.
- تمصير البنوك وشركات التأمين وشركات التصدير والاستيراد.

ثالثاً المجال الاجتماعي

١ القضاء على الإقطاع حيث تحقق ذلك من خلال :

صدور قانون الإصلاح الزراعي الأول في سبتمبر ١٩٥٢م ثم صدور قوانين أخرى للإصلاح الزراعي حددت الملكية الزراعية في النهاية بـ ٥٠ فداناً، مما زاد من تملك الفلاحين للأرض الزراعية.

٢ مجانية التعليم حيث جعلت التعليم بجميع مراحله بما فيها التعليم الجامعي بالمجان.

٣ إقامة الوحدات الصحية والجمعيات الزراعية.

٤ تحديد ساعات العمل وإشراك العمال في مجالس إدارة الشركات والمصانع وتحديد نسبة لهم من الأرباح.

٥ إصدار قوانين للتأمينات الاجتماعية والمعاشات للموظفين والعمال.

٦ منح المرأة حق الانتخاب والترشح لمجلس الأمة (مجلس النواب حالياً) عام ١٩٥٦م.

رابعاً المجال العربي والدولى

* مساندة الدول العربية والأفريقية لنيل الاستقلال، مثل :

السودان ، الجزائر ، تونس ، المغرب ، الكويت ، العراق ، اليمن ، كينيا .

* تأييد ومساندة حقوق الشعب الفلسطيني في إقامة دولة مستقلة عاصمتها القدس الشريف .

* تحقيق أول تجربة للوحدة العربية وكانت بين مصر وسوريا في فبراير ١٩٥٨م .

* كسراحتكار السلاح العالمى بعقد صفقة الأسلحة الشرقية .

* المساهمة في تشكيل حركة **عدم الانحياز** وظهور دور مصر الرائد مع كل من الهند ، ويوغوسلافيا (سابقاً) بالإضافة إلى إندونيسيا التي انعقد بها مؤتمر باندونج عام ١٩٥٥م .

ما المقصود بـ : عدم الانحياز ؟
عدم الانضمام إلى أى من الكتلتين الشرقية والغربية .

٢ تدريب

١ اخترا الإجابة الصحيحة مما بين القوسين :

- (١) بناء السد العالى من إنجازات ثورة ٢٣ يوليو ١٩٥٢م فى المجال
(الاقتصادى - السياسى - الاجتماعى - العربى والدولى)
- (٢) يعد من إنجازات ثورة ٢٣ يوليو ١٩٥٢م فى المجال السياسى
(تمصير البنوك - البحث والتنقيب عن البترول - تأميم شركة قناة السويس - الاهتمام بالتعليم الصناعى)
- (٣) يعتبر من إنجازات ثورة ٢٣ يوليو ١٩٥٢م فى المجال الاجتماعى
(رحيل القوات الإنجليزية عن مصر - فتح أسواق خارجية جديدة - تحديد نسبة للعمال من أرباح الشركات - حل الأحزاب السياسية)
- (٤) قامت أول تجربة للوحدة العربية بين مصر و عام ١٩٥٨م .
(العراق - اليمن - سوريا - ليبيا)
- (٥) يعد من أهداف ثورة ٢٣ يوليو ١٩٥٢م القضاء على أعوان الاستعمار تم ذلك من خلال
(تشكيل حركة عدم الانحياز - إلغاء الملكية وإعلان الجمهورية - مجانية التعليم - إنشاء العديد من المصانع)
- (٦) عقد مؤتمر باندونج عام ١٩٥٥م فى دولة
(الهند - كينيا - إندونيسيا - المغرب)

٢ اكتب ما تشير إليه كل عبارة مما يأتى :

- (١) عدم الانضمام إلى أى من الكتلتين الشرقية والغربية .
(.....)
- (٢) إجراء حكومى تم من خلاله تمصير شركة قناة السويس البحرية وشركات التأمين والبنوك .
(.....)
- (٣) ظاهرة انتشرت قبل ثورة ٢٣ يوليو ١٩٥٢م عبرت عن سوء توزيع ملكية الأراضى الزراعية .
(.....)

في المجال العربي والدولي

١. مساندة الدول العربية وبعض الدول الأفريقية لنيل الاستقلال.
٢. تأييد ومساندة حقوق الشعب الفلسطيني.
٣. تحقيق أول تجربة للوحدة العربية بين مصر وسوريا.
٤. كسراحتكار السلاح العالمي بعقد صفقة الأسلحة الشرقية.
٥. المساهمة في تشكيل حركة عدم الانحياز.

في المجال الاجتماعي

١. القضاء على الإقطاع.
٢. مجانية التعليم.
٣. إقامة الوحدات الصحية والجمعيات الزراعية.
٤. تحديد ساعات العمل وإشراك العمال في مجالس إدارة الشركات والمصانع وتحديد نسبة لهم من الأرباح.
٥. إصدار قوانين للتأمينات الاجتماعية والمعاشات للموظفين والعمال.
٦. منح المرأة حق الانتخاب والترشح لمجلس الأمة.

في المجال الاقتصادي

- **الزراعة**
 ١. التوسع في استصلاح الأراضي الصحراوية.
 ٢. إنشاء السد العالي.
- **الصناعة**
 ١. إنشاء العديد من المصانع، مثل: مصنع الحديد والصلب بجبلون ومصنع الأسمدة بأسوان.
 ٢. الاهتمام بالتعليم الصناعي ومراكز التدريب المهني.
 ٣. الاهتمام بالبحث والتنقيب عن البترول وإنشاء معامل تكرير البترول.
- **التجارة**
 ١. فتح أسواق خارجية جديدة لتسويق المنتجات المصرية.
 ٢. تمصير البنوك وشركات التأمين، وشركات التصدير والاستيراد.

في المجال السياسي

١. إلغاء دستور ١٩٢٣م.
٢. حل الأحزاب السياسية.
٣. إلغاء الملكية وإعلان الجمهورية وتعيين محمد نجيب أول رئيس للجمهورية المصرية.
٤. توقيع اتفاقية الجلاء عن مصر.
٥. رحيل القوات البريطانية عن مصر.
٦. تأميم شركة قناة السويس البحرية.

• القضاء على

١. الاستعمار وأعوانه.
٢. الإقطاع.
٣. الاحتكار وسيطرة رأس المال على الحكم.

• إقامة

١. جيش وطني قوي.
٢. عدالة اجتماعية.
٣. حياة ديمقراطية سليمة.

١. استمرار الاحتلال البريطاني وتدخله في الشؤون الداخلية لمصر.
٢. هزيمة الجيش المصري في حرب فلسطين عام ١٩٤٨م.
٣. فساد النظام الملكي.
٤. عدم وجود حياة ديمقراطية سليمة.
٥. تدهور الحياة الاقتصادية لمصر.
٦. سوء الأحوال الاجتماعية.



١ اختر الإجابة الصحيحة مما بين القوسين :

- (١) يرى بعض المؤرخين أن ثورة ٢٣ يوليو ١٩٥٢م تكتسب أهمية عالمية لارتباطها بـ.....
(استقلال البلاد العربية - حركة الحياض الإيجابى - القضاء على الإقطاع - عقد اتفاقية الأسلحة الشرقية) (الغربية ٢١)
- (٢) يُعد من العوامل الداخلية التي أدت إلى هزيمة الجيش المصرى فى حرب فلسطين عام ١٩٤٨م.....
(فساد النظام الملكى - رفض الملك فاروق للحرب - سوء الأحوال الاجتماعية - تدهور الأحوال الاقتصادية)
- (٣) يرجع السبب الذى جعل مصر ميداناً لمعارك الحرب العالمية الثانية إلى.....
(حرب فلسطين - الأسلحة الفاسدة - الصراع بين الأحزاب - معاهدة ١٩٣٦م)
- (٤) العامل المشترك بين سوء الأحوال الاجتماعية واختفاء الحياة الديمقراطية السليمة قبل ثورة ٢٣ يوليو ١٩٥٢م.....
(الصراع بين الأحزاب - انتشار ظاهرة الإقطاع - تدهور الأحوال الاقتصادية - توقيع معاهدة ١٩٣٦م)
- (٥) سيطر..... على جميع قطاعات الجيش المصرى بعد إذاعة البيان الأول لثورة ٢٣ يوليو ١٩٥٢م.
(جمال عبدالناصر - أنور السادات - محمد نجيب - مصطفى النحاس) (بورسعيد ٢١)
- (٦) تحقق الهدف الأول لثورة ٢٣ يوليو ١٩٥٢م عن طريق.....
(إلغاء دستور ١٩٢٣م - قانون الإصلاح الزراعى الأول - توقيع اتفاقية الجلاء - تأميم شركة قناة السويس البحرية)
- (٧) الاهتمام بالتعليم الصناعى ومراكز التدريب المهنى من إنجازات ثورة يوليو ١٩٥٢م فى المجال.....
(الاجتماعى - السياسى - الاقتصادى - العربى والدولى) (الجيزة ١٦)
- (٨) القضاء على الإقطاع من إنجازات ثورة ٢٣ يوليو ١٩٥٢م فى المجال.....
(السياسى - الاجتماعى - الاقتصادى - العربى والدولى) (بنى سويف ١٩)
- (٩) يُعد من إنجازات ثورة ٢٣ يوليو ١٩٥٢م فى المجال الاجتماعى.....
(تمصير البنوك - استصلاح الأراضى - إنشاء المصانع - جعل التعليم بالمجان) (السويس ٢١)

- (١٠) يعتبر منح المرأة حق الترشح والانتخاب في مجلس الأمة من إنجازات ثورة ٢٣ يوليو ١٩٥٢ م في المجال
(الاجتماعى - السياسى - الاقتصادى - الثقافى)
- (١١) يعتبر رفض مصر الانضمام للأحلاف العسكرية من إنجازات ثورة ١٩٥٢ م في المجال
(السياسى - العسكرى - الاجتماعى - العربى والدولى)
- (١٢) من الدول التى شاركت إلى جانب مصر في تأسيس حركة عدم الانحياز
(السودان - باكستان - تركيا - الهند)
- (١٣) تدهورت الحياة الاقتصادية في مصر قبل ثورة ٢٣ يوليو ١٩٥٢ م بسبب
(فساد النظام الملكى - توقيع معاهدة ١٩٣٦ م - فساد الأحزاب السياسية - هزيمة حرب فلسطين ١٩٤٨ م)
- (١٤) تعتبر من إنجازات ثورة ٢٣ يوليو ١٩٥٢ م في المجال الدولى
(تأميم شركة قناة السويس - توقيع اتفاقية الجلاء - المساهمة في تشكيل حركة عدم الانحياز - تمصير البنوك)
- (١٥) يعد من إنجازات ثورة ٢٣ يوليو ١٩٥٢ م في المجال الاقتصادى
(توقيع اتفاقية الجلاء - تأميم شركة قناة السويس البحرية - تمصير شركات التأمين - تحديد ساعات العمل)

٢ أكمل العبارات الآتية بالكلمات المناسبة :

- (١) حاصر الإنجليز في فبراير ١٩٤٢ م قصر عابدين لإجبار على تعيين رئيسًا للحكومة. (المنيا ١٨)
- (٢) أذاع البيان الأول لثورة ٢٣ يوليو ١٩٥٢ م من دار الإذاعة المصرية. (ش. سيناء ١٧)
- (٣) ساهمت ثورة ٢٣ يوليو ١٩٥٢ م على المستوى الأفريقى في تحقيق استقلال (قنا ١٦)
- (٤) عقد مؤتمر باندونيسيا في عام ١٩٥٥ م. (قنا ١٦)

٣ اكتب كلمة (صواب) أمام العبارة الصحيحة، وكلمة (خطأ) أمام العبارة غير الصحيحة، مع التصويب :

- (١) يرى بعض المؤرخين أن ثورة ٢٣ يوليو ١٩٥٢ م حلقة في سلسلة نضال المصريين ضد الفساد والاحتلال. ()
- (٢) رحلت القوات البريطانية عن مصر بموجب تطبيق معاهدة ١٩٣٦ م. ()
- (٣) وافق الملك فاروق على مغادرة البلاد قبل الموعد المحدد له من قيادة ثورة ٢٣ يوليو ١٩٥٢ م. (القليوبية ١٦)

- (٤) ألغت ثورة ٢٣ يوليو ١٩٥٢ دستور ١٩٢٣ كما حلت الأحزاب السياسية. ()
(القاهرة ٢١)
- (٥) تأميم شركة قناة السويس البحرية من أهم إنجازات ثورة ٢٣ يوليو ١٩٥٢
في المجال الاقتصادي. ()
(الغربية ٢١)
- (٦) يُعد إنشاء السد العالي من إنجازات ثورة ٢٣ يوليو ١٩٥٢ في المجال السياسي. ()
(ش. سيناء ١٧)
- (٧) تم تمصير البنوك وشركات التأمين بعد ثورة ٢٣ يوليو ١٩٥٢. ()
(كفر الشيخ ١٥)
- (٨) اهتمت ثورة ٢٣ يوليو ١٩٥٢ ببعض الصناعات لخدمة المجال الزراعي. ()
(المنيا ٢١)
- (٩) كان لمصر دور فعال في مساندة الدول العربية وبعض الدول الأفريقية للحصول على استقلالها بعد ثورة ٢٣ يوليو ١٩٥٢. ()
- (١٠) تُعد الوحدة بين مصر واليمن فبراير ١٩٥٨ أحد إنجازات ثورة ٢٣ يوليو ١٩٥٢. ()
- (١١) كسرت مصر احتكار السلاح العالمي بعقد صفقة الأسلحة الشرقية. ()

٤ من هو ... ؟

- (١) تولى رئاسة الحكومة المصرية في فبراير ١٩٤٢. ()
(القاهرة ٢١)
- (٢) تنازل له والده عن عرش مصر عام ١٩٥٢. ()
(الجيزة ١٥)
- (٣) أول رئيس جمهورية لمصر بعد إلغاء الملكية وإعلان الجمهورية. ()
(السويس ٢١)

٥ اكتب المصطلح التاريخي لكل عبارة من العبارات الآتية :

- (١) تنظيم كونه بعض ضباط الجيش المصري قبل ثورة ٢٣ يوليو ١٩٥٢ بهدف استقلال الوطن من الاحتلال البريطاني والقضاء على فساد الحكم. ()
(أسوان ١٦)
- (٢) معاهدة جعلت مصر ميداناً لمعارك الحرب العالمية الثانية واستنزفت مواردها. ()
(الجيزة ١٩)
- (٣) قانون صدر في سبتمبر ١٩٥٢ للقضاء على الإقطاع. ()
(بورسعيد ٢١)
- (٤) حركة ساهمت مصر في تشكيلها تقوم على عدم الانضمام إلى أي من الكتلتين الشرقية والغربية. ()

٦ بم تفسر ... ؟

- (١) قيام ثورة ٢٣ يوليو ١٩٥٢. ()
(المنيا ١٦)

(٢) سقوط الادعاءات المزيّفة باستقلال مصر عقب حادث فبراير ١٩٤٢م.

(٣) هزيمة الجيش المصرى فى حرب فلسطين ١٩٤٨م. (الغربية ١٥)

(٤) عجز الأحزاب السياسية (قبل ثورة ٢٣ يوليو ١٩٥٢م) عن التعبير عن إرادة الشعب ومطالبه. (الشرقية ١٩)

(٥) مغادرة الملك فاروق وأسرته لمصر قبل الموعد المحدد له من قبل قادة ثورة ٢٣ يوليو ١٩٥٢م. (البحيرة ١٩)

(٦) إصدار قانون الإصلاح الزراعى فى سبتمبر عام ١٩٥٢م. (الوادى الجديد ١٤)

٧ ما النتائج التى ترتبت على ... ؟

(١) توقيع معاهدة ١٩٣٦م. (المنيا ٢١)

(٢) سوء توزيع ملكية الأرض الزراعية فى مصر قبل عام ١٩٥٢م.

(٣) إنشاء السد العالى. (الفيوم ٢١)

٨ ماذا كان يحدث إذا ... ؟

(١) لم توقع ثورة ٢٣ يوليو ١٩٥٢م اتفاقية الجلاء.

(٢) لم تقم ثورة ٢٣ يوليو ١٩٥٢م بإصدار قوانين الإصلاح الزراعى. (القاهرة ١٨)

(٣) لم تقم ثورة ٢٣ يوليو ١٩٥٢م بإنشاء السد العالى. (بنى سويف ١٧)

٩ دُلِّلْ تاريخيًا على صحة كل عبارة من العبارات الآتية :

(الدقهلية ٢١)

(١) اختلاف آراء المؤرخين حول ثورة ٢٣ يوليو ١٩٥٢م.

(٢) لم تحقق معاهدة ١٩٣٦م الاستقلال الحقيقي لمصر.

(الوادى الجديد ٢١)

(٣) فساد النظام الملكى قبل ثورة ٢٣ يوليو ١٩٥٢م.

(٤) سوء الأحوال الاقتصادية فى مصر قبل قيام ثورة يوليو ١٩٥٢م.

(٥) نجاح ثورة ٢٣ يوليو ١٩٥٢م فى تحقيق هدفها فى القضاء على الاستعمار وأعوانه.

(الغربية ١٨)

(٦) اهتمام ثورة ٢٣ يوليو ١٩٥٢م بالصناعة فى مصر.

(الإسماعيلية ١٦)

(٧) حققت ثورة ٢٣ يوليو ١٩٥٢م هدفها فى القضاء على الإقطاع.

(٨) استطاعت ثورة ٢٣ يوليو ١٩٥٢م تحقيق إنجازات فى التعليم.

(القليوبية ٢١)

(٩) اهتمت ثورة ٢٣ يوليو ١٩٥٢م بالعمال والموظفين.

(المنيا ١٤)

(١٠) ظهر اهتمام الدولة المصرية بالمرأة بعد ثورة ٢٣ يوليو ١٩٥٢م.

(الوادى الجديد ١٩)

(١١) حققت ثورة ٢٣ يوليو ١٩٥٢م إنجازات عديدة فى المجال العربى والدولى.

(الإسكندرية ٢١)

١٠ حدد الأثر الناتج عن : إذاعة البيان الأول لثورة ٢٣ يوليو ١٩٥٢م.

١١ ما العلاقة بين ... ؟

(١) الأحزاب السياسية، وسوء نظام الحكم في مصر قبل عام ١٩٥٢ م.

(٢) ثورة ٢٣ يوليو ١٩٥٢ م، وظهور قوة مصر الدولية.

١٢ حدد أوجه النقد لـ: الحياة السياسية في مصر قبل ثورة ٢٣ يوليو ١٩٥٢ م.

١٣ رتب الأحداث الآتية في ضوء التسلسل التاريخي لها :

(١) (.....) حصار الإنجليز لقصر عابدين.

(.....) اتفاقية الجلاء بين مصر وبريطانيا.

(.....) هزيمة الجيش المصري في حرب فلسطين.

(.....) إصدار قانون الإصلاح الزراعي الأول.

(٢) (.....) تأميم شركة قناة السويس البحرية. (.....) إعلان الجمهورية المصرية.

(.....) الوحدة بين مصر وسوريا. (.....) تنازل الملك فاروق عن العرش.

(.....) إلغاء دستور ١٩٢٣ م. (.....) مؤتمر باندونج.

١٤ «استقبل الشعب المصري في صباح يوم ٢٣ يوليو ١٩٥٢ م بالابتهاج والترحيب نبأ قيام ثورة الجيش

المجيدة، التي أعادت حكم مصر للمصريين».

في ضوء هذه العبارة، وضح :

(١) عوامل قيام ثورة ٢٣ يوليو ١٩٥٢ م. (المنوفية ١٨)

(٢) أهداف ثورة ٢٣ يوليو ١٩٥٢ م. (يكتفى بثلاثة فقط) (القاهرة ١٨)

(٣) إنجازات ثورة ٢٣ يوليو ١٩٥٢ م في المجال السياسي. (كفر الشيخ ٢١)

(٤) إنجازات ثورة ٢٣ يوليو ١٩٥٢ م في المجال الاجتماعي. (الدقهلية ٢١)

١٥ «عملت ثورة ٢٣ يوليو ١٩٥٢م على تحقيق كثير من الإنجازات في مختلف المجالات». في ضوء هذه العبارة، وضّح إنجازات ثورة يوليو ١٩٥٢م في:

(١) المجال الزراعي.

(٢) مجال التجارة.

أسئلة للتمييز ؟

١٦ اختر الإجابة الصحيحة مما بين القوسين :

- (١) كان من إنجازات ثورة ٢٣ يوليو ١٩٥٢م في المجال الاقتصادي إنشاء السد العالي والذي أدى إلى
(حماية البلاد من خطر السيول - استصلاح الأراضي في سيناء - توليد الطاقة الحرارية - نمو النشاط الصناعي)
- (٢) ساندت ثورة ٢٣ يوليو ١٩٥٢م بعض دول شمال أفريقيا للتخلص من الاستعمار ومنهم
(المغرب - اليمن - السودان - غينيا)
- (٣) دعمت ثورة ٢٣ يوليو ١٩٥٢م تيار القومية العربية من خلال
(مساندة الدول العربية والأفريقية لنيل الاستقلال - تحقيق أول تجربة للوحدة العربية - كسر احتكار السلاح - المساهمة في تشكيل حركة عدم الانحياز)

١٧ دلل تاريخياً على صحة العبارة الآتية :

اهتمت ثورة ٢٣ يوليو ١٩٥٢م ببعض الصناعات لخدمة المجال الزراعي.

١٨ حدد تقييماً لمدى مصداقية العبارة الآتية :

حولت ثورة ٢٣ يوليو ١٩٥٢م ملكية بعض الهيئات من الأجانب إلى المصريين.

١٩ ما العلاقة بين : فساد النظام الملكي في مصر، وحرب فلسطين ١٩٤٨م ؟



فلسطين عربية ... حقيقة تاريخية إلا أن الموقع المهم لفلسطين جعلها جزءاً من الأطماع والمصالح الاستعمارية، ومصر دائماً الشقيقة الكبرى لجميع الدول العربية والعدوان على أى دولة عربية يعنى العدوان على مصر،

• كيف تطورت القضية الفلسطينية ؟

• ما هى أهم النتائج التى ترتبت على الحروب بين العرب وإسرائيل ؟

فى هذا الدرس نتعرف

إعادة بناء القوات
المسلحة المصرية

الحروب بين العرب
وإسرائيل

الوعد بوطن
لليهود



* فلسطين جزء عزيز من الوطن العربي،

ولها أهمية خاصة في قلوب العرب (مسيحيين ومسلمين) **بم تفسر؟**

لأن: • ولد فيها السيد المسيح عليه السلام.

• أسرى إليها بسيدنا محمد صلى الله عليه وسلم.

• بها المسجد الأقصى أولى القبلتين وثالث الحرمين.

* عاش فيها المسلمون والمسيحيون وقليل من اليهود حتى قيام الحرب العالمية الأولى (١٩١٤م : ١٩١٨م).

الوعد بوطن لليهود

وعد بلفور

* أدركت بريطانيا أهمية فلسطين (*) لذلك سعت لتأييد فكرة إقامة وطن

قومي لليهود في فلسطين (**) فأصدر بلفور وزير خارجية بريطانيا

عام ١٩١٧م وعد (تصريح) نص على :

«تعهد بريطانيا ببذل مساعيها لإنشاء وطن قومي لليهود في فلسطين» ،

وقد وُصِفَ هذا الوعد بأنه :

«وعد ممن لا يملك لمن لا يستحق».

اليهود

بريطانيا

!! موقع فلسطين الجغرافي (المتميز نسبيًا) كان سببًا في طمع الغزاة فيها على مر العصور.

الانتداب البريطاني على فلسطين (١٩٢٠م : ١٩٤٨م)

* بموجب نظام الانتداب الذي وضعته عصبة الأمم :

✓ قررت دول الحلفاء (الدول المنتصرة في الحرب العالمية الأولى) وضع فلسطين تحت الانتداب البريطاني مع تنفيذ وعد بلفور.

✓ أعطى مؤتمر سان ريمو (بإيطاليا) في أبريل ١٩٢٠م لبريطانيا حق الانتداب على فلسطين.

معلومة إثرائية

الانتداب: نظام وضعته عصبة الأمم بعد انتهاء الحرب العالمية الأولى، وهو شكل من أشكال الاستعمار، وبموجب هذا النظام يتم وضع الدول التي كانت تابعة للدول المنهزمة (ألمانيا وتركيا «الدولة العثمانية آنذاك») تحت إدارة دول متقدمة للنهوض بها.

(*) ترجع أهمية فلسطين لبريطانيا إلى أنها تعد خط الدفاع الأول من الجهة الشمالية لمستعمراتها في الشرق، ويستطيع من يحتلها أن يسيطر على الركن الشرق من البحر المتوسط الغني بموارده الاقتصادية.

(**) ترجع جذور الحركة الصهيونية إلى هرتزل (١٨٦٠ - ١٩٠٤م) في مدينة لندن (عاصمة بريطانيا) وهي حركة سياسية تنادى بإقامة وطن قومي خاص لليهود.





إجراءات تنفيذ وعد بلفور

- * قررت حكومة الانتداب البريطاني اتخاذ عدة إجراءات لتنفيذ وعد بلفور تمثلت في :
 - السماح بهجرة أعداد كبيرة من اليهود من جميع أنحاء العالم إلى فلسطين.
 - السماح بانتقال ملكية الأراضي من عرب فلسطين عن طريق الشراء إلى اليهود.

موقف الشعب الفلسطيني من إجراءات تنفيذ وعد بلفور

- * قام الشعب الفلسطيني بالعديد من الحركات الوطنية فيما بين عامي ١٩٢٠م : ١٩٣٩م
 - كان أخطرها :
 - انتفاضة ١٩٢٩م.
 - ثورة ١٩٣٦م بقيادة اللجنة العربية.

تقسيم فلسطين عام ١٩٤٧م

عرضت بريطانيا حل القضية الفلسطينية على هيئة الأمم المتحدة التي وافقت على تقسيم فلسطين عام ١٩٤٧م إلى ثلاثة أقسام، وهي :

- ١ دولة عربية.
- ٢ دولة يهودية.
- ٣ منطقة دولية (القدس) أي وضع القدس تحت إدارة دولية.

* كانت ردود أفعال الأطراف المعنية من قرار التقسيم عام ١٩٤٧م كالتالي :

موقف الدول العربية

رفضت الدول العربية مشروع التقسيم.

موقف اليهود

* وافق اليهود على التقسيم وقامت عصابات اليهود المسلحة بـ :

- طرد العرب من ديارهم.
- ارتكاب أبشع المذابح، مثل : مذبح دير ياسين.

موقف بريطانيا

امتنعت بريطانيا عن التصويت وأعلنت أنها ستسحب قواتها وتنتهي انتدابها على فلسطين في ١٤ مايو ١٩٤٨م.



تقسيم فلسطين عام ١٩٤٧م

قيام دولة إسرائيل

* عقب خروج أخرجندي بريطاني من فلسطين في ١٤ مايو ١٩٤٨م، أعلن اليهود قيام دولة إسرائيل في ١٥ مايو ١٩٤٨م، واعترفت بها كل من الولايات المتحدة الأمريكية، والاتحاد السوفيتي (سابقًا).

١ تدريب

١ اكتب ما تشير إليه كل عبارة مما يأتي :

- (١) تصريح أصدره وزير خارجية بريطانيا الذي نص على إقامة وطن قومي لليهود في فلسطين. (.....)
- (٢) دولة أصبح لها حق الانتداب على فلسطين بمقتضى قرارات عصبة الأمم ومؤتمر سان ريمو ١٩٢٠م. (.....)
- (٣) قادت ثورة ١٩٣٦م بفلسطين. (.....)
- (٤) هيئة دولية عرضت عليها بريطانيا القضية الفلسطينية عام ١٩٤٧م لحلها. (.....)
- (٥) مدينة فلسطينية تم وضعها تحت إدارة دولية طبقًا لقرار التقسيم عام ١٩٤٧م. (.....)
- (٦) نظام وضعته عصبة الأمم بموجبه سيطرت بريطانيا على فلسطين لتنفيذ وعد بلفور. (.....)

٢ وضع :

(١) إجراءات بريطانيا لتنفيذ وعد بلفور.

(٢) موقف العرب واليهود وبريطانيا من قرار الأمم المتحدة بتقسيم فلسطين عام ١٩٤٧م.

الحروب بين العرب وإسرائيل

* تعددت الحروب بين العرب وإسرائيل منذ عام ١٩٤٨م وحتى عام ١٩٧٣م، والتي تمثلت في :





حرب فلسطين ١٩٤٨م

أسبابها

عقب إعلان اليهود قيام دولة إسرائيل تحركت الجيوش العربية إلى فلسطين عام ١٩٤٨م بهدف :

- ١ نصرته وإنقاذ الشعب الفلسطيني من بطش اليهود.
- ٢ مساعدة الشعب الفلسطيني على إقامة حكومة وطنية على أرضه.

أحداثها

- * تمكنت الجيوش العربية في البداية من تحقيق انتصارات على القوات الإسرائيلية.
- * تقدمت الولايات المتحدة الأمريكية باقتراح إلى مجلس الأمن، تضمن :
 - وقف القتال.
 - إقامة هدنة مدتها شهر يمتنع خلالها العرب واليهود عن جلب الأسلحة والمحاربين إلى فلسطين، وأن يكون ذلك تحت إشراف دولي.



فلسطين بعد حرب ١٩٤٨م

- * لم يلتزم اليهود بالهدنة، حيث بدأوا في تقوية قواتهم من حيث العدد والتسليح والتدريب.
- * أستؤنف القتال وظهرت فوق اليهود على جميع جبهات القتال مما أدى إلى تراجع وهزيمة القوات العربية.

ما النتائج التي ترتبت على هزيمة الجيوش العربية في حرب فلسطين ١٩٤٨م ؟

- ترتب على ذلك استيلاء اليهود على جميع أراضي فلسطين ولم يتبقى منها سوى :
- ١ قطاع غزة تحت إدارة مصرية.
 - ٢ الضفة الغربية وبها القوات الأردنية.
 - ٣ القدس وقسمت بين العرب واليهود.

العدوان الثلاثي على مصر ١٩٥٦م

* الدول المشتركة في العدوان : إسرائيل ، فرنسا ، بريطانيا.

أسبابه

- ١ عقد حكومة ثورة ٢٣ يوليو اتفاقية مع الاتحاد السوفيتي (سابقًا) لتزويد مصر بالأسلحة والمعدات وذلك لمواجهة الأطماع الإسرائيلية والاعتداءات على الشعب الفلسطيني.
- ٢ مساندة مصر لحركات التحرر الوطني في الجزائر ضد الاستعمار الفرنسي.
- ٣ تأميم شركة قناة السويس في يوليو ١٩٥٦م مما أضر بمصالح الدول الاستعمارية خاصة إنجلترا.

أثناء العدوان

استطاعت القوات الإنجليزية والفرنسية احتلال مدينة بورسعيد ولكنها عجزت عن احتلال الإسماعيلية لشدة المقاومة، وانتهزت إسرائيل الفرصة وتوغلت في سيناء.

بم تفسر ؟

فشل العدوان الثلاثي على
مصر عام ١٩٥٦م

أسباب فشل العدوان الثلاثي على مصر عام ١٩٥٦م

- ١ المقاومة الباسلة من الجيش والشعب وصلابة القيادة.
- ٢ وقوف الشعوب العربية إلى جانب مصر.
- ٣ تهديد الاتحاد السوفيتي (سابقًا) بالتدخل لوقف العدوان.
- ٤ رفض الولايات المتحدة الأمريكية استخدام القوة في حل النزاعات.
- ٥ تنديد الأمم المتحدة بالعدوان.

ما نتائج ؟

فشل العدوان الثلاثي على
مصر عام ١٩٥٦م

نتائج فشل العدوان الثلاثي على مصر عام ١٩٥٦م

ترتب على ذلك :

- ١ انسحاب القوات الإنجليزية والفرنسية من بورسعيد في ٢٣ ديسمبر ١٩٥٦م.
- ٢ انسحاب القوات الإسرائيلية من قطاع غزة وسيناء في أوائل عام ١٩٥٧م، ووضع قوات طوارئ دولية بين مصر وإسرائيل منذ عام ١٩٥٧م.
- ٣ إدراك الدول العربية الخطر الإسرائيلي وأطماعه في السيطرة على العالم العربي، ولذلك قامت وحدة بين مصر وسوريا عام ١٩٥٨م، حتى تم الانفصال بينهما عام ١٩٦١م.

!!
يُعتبر يوم ٢٣ ديسمبر عيدًا للنصر،
وعيدًا سنويًا لمحافظة بورسعيد.



العدوان الإسرائيلي ٥ يونيو ١٩٦٧م

* قامت إسرائيل (بمساعدة الولايات المتحدة الأمريكية) بالإعداد والتهيئة والتخطيط للعدوان.

أسبابه

* رغبة إسرائيل في القضاء على قوة مصر خاصة بعد فشل العدوان الثلاثي، وذلك باستدراج مصر والدول العربية إلى حرب كانت غير مستعدة لها فقامت إسرائيل بحشد قواتها على الحدود مع سوريا عام ١٩٦٧م ولذلك قامت مصر بعدة إجراءات تمثلت في :

• إعلان وقفها إلى جانب سوريا تطبيقاً لاتفاقية الدفاع المشترك بينهما، وإرسال مصر قواتها بسرعة إلى شبه جزيرة سيناء.

• مطالبة قوات الطوارئ الدولية الموجودة على الحدود بينها وبين إسرائيل منذ عام ١٩٥٧م بالانسحاب من بعض النقاط.

• إغلاق خليج العقبة في وجه الملاحة الإسرائيلية في مايو ١٩٦٧م وذلك إحصاراً للاقتصاد الذي يفرضه العرب على إسرائيل.

برغم المساعي الدولية التي بذلت لمعالجة الموقف المتهب بين الدول العربية وإسرائيل، قامت إسرائيل (في صباح يوم ٥ يونيو ١٩٦٧م) بغارات مفاجئة على المطارات المصرية وبدأت أحداث الحرب.



نتائج العدوان استيلاء إسرائيل على :

- قطاع غزة.
- سيناء حتى الضفة الشرقية لقناة السويس.
- هضبة الجولان بسوريا.
- مدينة القدس العربية.
- الضفة الغربية لنهر الأردن.

أسباب هزيمة الدول العربية

- ١ التفوق العسكري الإسرائيلي وبصفة خاصة السلاح الجوي.
- ٢ استخدام إسرائيل عنصر المفاجأة في ضرب المطارات المصرية بعد أن صورت أجهزة تجسس أمريكية حديثة المواقع المصرية.
- ٣ مساندة الولايات المتحدة الأمريكية وبعض الدول الأوروبية لإسرائيل عسكرياً واقتصادياً وسياسياً.
- ٤ نقص التدريب وعدم توافر الأسلحة المتطورة للقوات المصرية.

* تدخل مجلس الأمن وأصدر قراره رقم ٢٤٢ في نوفمبر ١٩٦٧م.

قرار مجلس الأمن رقم ٢٤٢

نصوصه

- * إنهاء حالة الحرب بين إسرائيل والعرب.
- * احترام سيادة دول المنطقة على أراضيها.
- * حرية الملاحة في الممرات الدولية.
- * إنشاء مناطق منزوعة السلاح.
- * انسحاب إسرائيل من الأراضي التي احتلتها عام ١٩٦٧م.

موقف مصر وإسرائيل منه

- * قبلت مصر تنفيذ قرار مجلس الأمن.
- * امتنعت إسرائيل عن تنفيذ قرار مجلس الأمن ولم تنسحب من الأراضي التي احتلتها.

٢ تدريب

١ أكمل الجدول الآتي :

٣	٢	١	
عدوان ٥ يونيو ١٩٦٧م	العدوان الثلاثي ١٩٥٦م	حرب فلسطين ١٩٤٨م	
.....	الأسباب
.....	
.....	
.....	النتائج
.....	
.....	
.....	

٢ بم تفسر...؟

(١) فشل العدوان الثلاثي على مصر في ١٩٥٦م.

(٢) هزيمة الدول العربية أمام إسرائيل يونيو ١٩٦٧م.

٣ حدد : نصوص قرار مجلس الأمن رقم ٢٤٢ لعام ١٩٦٧م، وموقف الدول المعنية منه.



إعادة بناء القوات المسلحة المصرية

- * حرصت القيادة المصرية على إعادة بناء القوات المسلحة (الجيش) على أسس جديدة من حيث الاختيار والتدريب والتسليح.
- * مرت عملية إعادة بناء القوات المسلحة بمرحلتين هما :

١ مرحلة الصمود والتصدي

- * يقصد بها : تصدى القوات المصرية للاعتداءات الإسرائيلية.
- * من مظاهرها :
- معركة رأس العش : فيها نجحت القوات المسلحة المصرية في هزيمة القوات الإسرائيلية عندما حاولت احتلال مدينة بورفؤاد.
- تدمير المدمرة الإسرائيلية إيلات : بالصواريخ البحرية المصرية في أكتوبر ١٩٦٧م.

٢ حرب الاستنزاف والمواجهة عامي ١٩٦٩م ، ١٩٧٠م

- * يقصد بها : استنزاف طاقات العدو الإسرائيلي في سيناء.
- * قامت مصر في هذه المرحلة بـ :
- بناء حائط الصواريخ على الضفة الغربية لقناة السويس مما منع اختراق الطائرات الإسرائيلية للأجواء المصرية.
- القصف المستمر بالمدفعية لخط بارليف وتحصيناته على طول خط قناة السويس.
- ونتيجة لذلك تدخلت الولايات المتحدة الأمريكية حيث قدم وزير خارجيتها روجرز مبادرة عُرفت بمبادرة روجرز لوقف إطلاق النار تمهيداً لحل النزاع سلمياً.

* خلال هذه المرحلة : استشهد الفريق أول عبدالمنعم رياض وكان :

- رئيس أركان حرب القوات المسلحة وقتئذ.
- أحد الأعمدة الرئيسية التي اعتمد عليها الرئيس جمال عبدالناصر في إعادة بناء وتنظيم القوات المسلحة في حرب الاستنزاف.

معلومة إثرائية

- * يُعد الفريق أول عبدالمنعم رياض واحداً من أشهر العسكريين العرب خلال النصف الثاني من القرن العشرين، وكان من أهم أعماله :
- شارك في الحرب العالمية الثانية ضد قوات ألمانيا وإيطاليا وغيرها.
- شارك في حرب فلسطين ١٩٤٨م والعدوان الثلاثي عام ١٩٥٦م.



الفريق أول
عبدالمنعم رياض

وفاة الرئيس جمال عبدالناصر سبتمبر ١٩٧٠م

توفي الرئيس جمال عبدالناصر بعد مرحلة طويلة من الكفاح لتحقيق حلم الاستقلال والتقدم للأمة، وخلفه في رئاسة الجمهورية الرئيس محمد أنور السادات لتشهد مصر مرحلة جديدة من المواجهة مع إسرائيل وهي حرب أكتوبر ١٩٧٣م.

٣ تدريب

١ صوب ما تحته خط :

(١) تُعرف المرحلة الأولى من إعادة بناء القوات المسلحة بعد ١٩٦٧م

بـ حرب الاستنزاف والمواجهة. (.....)

(٢) تصدت القوات المصرية لإسرائيل أثناء معركة رأس العش عندما

حاولت احتلال مدينة السويس. (.....)

(٣) نجحت المدفعية المصرية في تدمير المدمرة الإسرائيلية إيلات

في أكتوبر ١٩٦٧م. (.....)

(٤) استشهد محمد نجيب أثناء حرب الاستنزاف. (.....)

٢ بم تفسر : تقديم الولايات المتحدة لمبادرة روجرز أثناء حرب الاستنزاف ؟

.....

.....

إجابات
أسئلة الكتاب
انظر فكرة
الامتحان

أهم نقاط الدرس

القضية الفلسطينية



النتائج

- * هزيمة العرب واستيلاء اليهود على جميع أراضي فلسطين ما عدا: قطاع غزة (تحت إدارة مصرية). • الضفة الغربية (بها القوات الأردنية). القدس (قسمت بين العرب واليهود).

الأسباب

- * فشل العدوان وترتب على ذلك:
 - انسحاب القوات الإنجليزية والفرنسية من بورسعيد ٢٣ ديسمبر ١٩٥٦.
 - انسحاب القوات الإسرائيلية من قطاع غزة وسياء في أوائل ١٩٥٧ ووضع قوات طوارئ دولية بين مصر وإسرائيل.
 - * إدراك الدول العربية الخطر الإسرائيلي وأطماعه في العالم العربي فقامت وحدة بين مصر وسوريا عام ١٩٥٨ واستمرت حتى عام ١٩٦١.

- * إنقاذ الشعب الفلسطيني من بطش اليهود عقب إعلان قيام دولة إسرائيل ومساعدته في إقامة حكومة وطنية على أرضه.
- * عقد حكومة ثورة ٢٣ يوليو اتفاقية مع الاتحاد السوفيتي لتزويد مصر بالأسلحة لمواجهة الأطماع الإسرائيلية.
- * مساندة مصر لحركات التحرر الوطني في الجزائر ضد الاستعمار الفرنسي.
- * تأميم مصر لشركة قناة السويس في يوليو ١٩٥٦.

- * هزيمة الدول العربية واستيلاء إسرائيل على:
 - قطاع غزة.
 - سيناء حتى الضفة الشرقية لقناة السويس.
 - هضبة الجولان بسوريا.
 - مدينة القدس العربية.
 - الضفة الغربية لنهر الأردن.

- * رغبة إسرائيل في القضاء على قوة مصر باستدراجها والدول العربية إلى حرب غير مستعدة لها بجيش القوات الإسرائيلية على الحدود مع سوريا عام ١٩٦٧ ولذلك قامت مصر ب:
 - إعلان وقفها إلى جانب سوريا.
 - مطالبة قوات الطوارئ الدولية على الحدود بالانسحاب.
 - إغلاق خليج العقبة في وجه الملاحة الإسرائيلية مايو ١٩٦٧.

١ حرب الاستنزاف والمواجهة ١٩٦٩م / ١٩٧٠م

- * فيها تم: * بناء مصر لحائط صواريخ على الضفة الغربية لقناة السويس.
- * القصف المستمر بالمدفعية المصرية لخط بارليف.

١ مرحلة الصمود والتصدى

- * معركة رأس العش (وانتصرت فيها القوات المصرية على القوات الإسرائيلية).
- * تدمير المدفعية الإسرائيلية إيلات (بالصواريخ البحرية المصرية).

حرب فلسطين
١٩٤٨م

العدوان
الثلاثي على
مصر ١٩٥٦م

العدوان
الإسرائيلي
٥ يونيو ١٩٦٧م

مراتل إعادة بناء القوات
المسلحة المصرية



١ اخترا الإجابة الصحيحة مما بين القوسين :

(١) أصبحت فلسطين محط أطماع إنجلترا

(قبل الحرب العالمية الأولى - أثناء الحرب العالمية الأولى - بعد الحرب العالمية الأولى -

بعد الحرب العالمية الثانية)

(٢) خرجت قرارات فرض الانتداب البريطاني على فلسطين من دولة

(إيطاليا - فرنسا - إنجلترا - الولايات المتحدة الأمريكية)

(٣) امتنعت عن التصويت على مشروع تقسيم فلسطين عام ١٩٤٧م.

(فرنسا - الولايات المتحدة الأمريكية - بريطانيا - الاتحاد السوفيتي) (الجيزة ١٦)

(٤) ظهر انحياز هيئة الأمم المتحدة لليهود من خلال

(إصدار قرار تقسيم فلسطين - فرض نظام الانتداب - إصدار وعد بلفور -

إعلان قيام دولة إسرائيل)

(٥) الجهة التي أصدرت قرار بوقف إطلاق النار وإقامة الهدنة أثناء حرب فلسطين ١٩٤٨م

هي (عصبة الأمم - الأمم المتحدة - الولايات المتحدة الأمريكية - الاتحاد السوفيتي)

(٦) ترتب على حرب فلسطين ١٩٤٨م استيلاء اليهود على

(أرض سيناء كاملة - معظم أراضي فلسطين - الضفة الغربية والقدس - قطاع غزة)

(٧) أرادت مصر الضغط على إسرائيل بعد حشدها لقواتها على الحدود السورية عن طريق

(الحصار الاقتصادي - تدمير المدمرة إيلات - قصف خط بارليف - رفض مبادرة روجرز)

(٨) استولت إسرائيل على هضبة الجولان بعد

(حرب ١٩٤٨م - العدوان الثلاثي ١٩٥٦م - عدوان ٥ يونيو ١٩٦٧م - حرب الاستنزاف)

(٩) صدر قرار مجلس الأمن رقم ٢٤٢ بعد

(تقسيم فلسطين - حرب فلسطين ١٩٤٨م - العدوان الثلاثي ١٩٥٦م - عدوان ٥ يونيو ١٩٦٧م)

(١٠) أصبح قطاع غزة بعد انتهاء حرب فلسطين ١٩٤٨م تحت إشراف

(أردني - مصري - لبناني - سوري)

(١١) نجحت القوات المصرية في هزيمة القوات الإسرائيلية في معركة رأس العش عندما حاولت

احتلال مدينة (بورسعيد - السويس - بورفؤاد - الإسماعيلية) (بورشعيد ٢١)

- (١٢) كانت من إنجازات ثورة ٢٣ يوليو ١٩٥٢م وأحد أسباب العدوان الثلاثي على مصر.....
(توقيع اتفاقية الجلاء - عقد صفقة الأسلحة الشرقية -
قيام وحدة بين مصر وسوريا - بناء السد العالي)
- (١٣) قامت إسرائيل بعد عدوان ٥ يونيو ١٩٦٧م بالاستيلاء على
(بورسعيد وسيناء - غزة وسيناء - هضبة الجولان وبورسعيد - الضفة الغربية وبورفؤاد)
- (١٤) تم تنفيذ تصريح جيمس بلفور بناءً على قرارات
(مؤتمر سان ريمو - مؤتمر باندونج - اتفاقية الدفاع المشترك - اتفاقية الجلاء)
- (١٥) قامت فرنسا بالمشاركة في العدوان الثلاثي عام ١٩٥٦م لمساعدة مصر لـ..... ضد الاستعمار.
(السعودية - الجزائر - ليبيا - فلسطين)
- (١٦) تم وقف إطلاق النار والتمهيد لحل النزاع المصري الإسرائيلي أثناء حرب الاستنزاف نتيجة
لمبادرة
(بريطانية - أمريكية - فرنسية - إسرائيلية)

٢ أكمل العبارات الآتية بالكلمات المناسبة :

- (١) قامت ثورة ١٩٣٦م بفلسطين بقيادة
- (٢) بعد قرار تقسيم فلسطين عام ١٩٤٧م قام اليهود بارتكاب مذبحه
- (٣) أعلنت مصر عام ١٩٦٧م وقوفها إلى جانب سوريا تطبيقاً لاتفاقية (البحيرة ١٤)
- (٤) تمكنت البحرية المصرية من تدمير المدمرة الإسرائيلية في أكتوبر ١٩٦٧م. (بنى سويف ١٤)
- (٥) أثناء حرب الاستنزاف قدم وزير الخارجية الأمريكي مبادرة لوقف إطلاق النار.

٣ اكتب كلمة (صواب) أمام العبارة الصحيحة، وكلمة (خطأ) أمام العبارة غير الصحيحة، مع التصويب :

- (١) أصدرت ألمانيا وعد بلفور ١٩١٧م لإنشاء وطن لليهود في فلسطين. (القاهرة ١٩) ()
- (٢) قررت بريطانيا في عام ١٩٢٠م إلغاء الانتداب على فلسطين. (المنيا ١٥) ()
- (٣) تأثرت أوضاع فلسطين بموقف بريطانيا المؤيد لليهود خلال الحرب العالمية الأولى. ()
- (٤) توجد علاقة بين سياسة بريطانيا في فلسطين وثورة ١٩٣٦م. ()
- (٥) وافقت عصبة الأمم على قرار تقسيم فلسطين عام ١٩٤٧م. ()
- (٦) رفضت الدول العربية تقسيم فلسطين عام ١٩٤٧م. (السويس ١٦) ()
- (٧) انقلبت موازين القوة العسكرية في حرب فلسطين ١٩٤٨م بعد قرار مجلس الأمن. ()
- (٨) أعلن اليهود قيام دولة إسرائيل في ١٥ مايو ١٩٤٨م. (الغربية ١٥) ()

- () (٩) أولى الدول اعترافاً بقيام دولة إسرائيل ١٥ مايو ١٩٤٨ م هي بريطانيا.
- () (١٠) كانت مساندة مصر لحركات التحرر الوطني في الجزائر من أسباب العدوان الثلاثي على مصر عام ١٩٥٦ م.
- () (١١) تلاقت مصالح الاستعمار الإنجليزي والفرنسي مع إسرائيل في العدوان الثلاثي على مصر ١٩٥٦ م.
- () (١٢) توجد عوامل خارجية دولية ساعدت على فشل العدوان الثلاثي على مصر.
- () (١٣) تم تدمير المدمرة الإسرائيلية إيلات بسلاح المدفعية المصرية في أكتوبر ١٩٦٧ م.
- () (١٤) بعد فشل العدوان الثلاثي على مصر انسحبت إسرائيل من قطاع غزة وسيناء في أوائل عام ١٩٥٧ م.
- () (١٥) أعلنت مصر وقفها بجانب سوريا بعد التهديدات الإسرائيلية عام ١٩٦٧ م.
- () (١٦) استولت إسرائيل على القدس وقطاع غزة إلى جانب سيناء والجولان والضفة الغربية لنهر الأردن بعد عدوان ١٩٦٧ م.
- () (١٧) قبلت مصر قرار مجلس الأمن رقم ٢٤٢ وامتنعت إسرائيل عن تنفيذه.
- () (١٨) نجحت قواتنا المسلحة في بناء حائط الصواريخ على الضفة الغربية لقناة السويس أثناء العدوان الثلاثي ١٩٥٦ م.
- () (١٩) حققت مصر انتصارات عسكرية خلال مرحلة الصمود والتصدي.
- () (٢٠) يعتبر الفريق أول عبد المنعم رياض من شهداء حرب الاستنزاف.
- () (الفيوم ١٤) (الفيوم ٢١) (الشرقية ١٦)

٤ اكتب المصطلح التاريخي لكل عبارة من العبارات الآتية :

- () (١) تصريح بريطاني يتضمن إنشاء وطن قومي لليهود في فلسطين. (المنوفية ١٦)
- () (٢) مؤتمر قررو وضع فلسطين تحت الانتداب البريطاني. (الجيزة ١٧)
- () (٣) المرحلة الأولى من إعادة بناء القوات المسلحة بعد هزيمة ٥ يونيو ١٩٦٧ م. (السويس ١٨)
- () (٤) معركة انتصرت فيها القوات المصرية على القوات الإسرائيلية عند مدينة بورفؤاد. (الإسماعيلية ٢١)

٥ بم تفسر...؟

(١) فلسطين لها أهمية خاصة في قلوب العرب. (الجيزة ٢١)

(٢) طمع الغزاة في فلسطين على مر العصور.

(٣) دخول الجيوش العربية حرب فلسطين عام ١٩٤٨م. (دمياط ١٤)

(٤) التفوق العسكري الإسرائيلي على القوات العربية في حرب فلسطين ١٩٤٨م بعد عقد الهدنة.

(٥) العدوان الثلاثي على مصر عام ١٩٥٦م. (الإسكندرية ١٦)

(٦) عقد حكومة ثورة ٢٣ يوليو لصفقة الأسلحة مع الاتحاد السوفيتي.

(٧) فشل العدوان الثلاثي على مصر عام ١٩٥٦م. (الغربية ١٩)

(٨) العدوان الإسرائيلي على مصر في ٥ يونيو ١٩٦٧م. (الغربية ١٩)

(٩) وقوف مصر إلى جانب سوريا عام ١٩٦٧م.

(١٠) إغلاق مصر لخليج العقبة أمام الملاحة الإسرائيلية في مايو ١٩٦٧م. (الإسكندرية ١٥)

(١١) هزيمة الدول العربية في ٥ يونيو ١٩٦٧م. (الشرقية ١٨)

(١٢) تقديم الولايات المتحدة الأمريكية لمبادرة روجرز أثناء حرب الاستنزاف. (الأقصر ١٦)

٦ ما النتائج التي ترتبت على ... ؟

- (١) وضع فلسطين تحت الانتداب البريطاني عام ١٩٢٠م. (السويس ١٦)
- (٢) عرض بريطانيا قضية فلسطين على هيئة الأمم المتحدة عام ١٩٤٧م. (الدقهلية ١٨)
- (٣) هزيمة الجيوش العربية في حرب فلسطين ١٩٤٨م. (المنيا ٢١)
- (٤) فشل العدوان الثلاثي على مصر ١٩٥٦م. (القليوبية ١٩)
- (٥) العدوان الإسرائيلي على الدول العربية عام ١٩٦٧م. (القاهرة ٢١)
- (٦) معركة رأس العش. (الإسكندرية ١٩)
- (٧) بناء مصر حائط صواريخ على الضفة الغربية لقناة السويس أثناء حرب الاستنزاف. (أسيوط ١٧)

٧ ماذا كان يحدث إذا ... ؟

- (١) لم تقم بريطانيا بإصدار وعد بلفور. (الفيوم ٢١)
- (٢) لم تهزم القوات العربية في حرب فلسطين ١٩٤٨م. (سوهاج ١٥)
- (٣) وافقت إسرائيل على تنفيذ قرار مجلس الأمن رقم ٢٤٢. (بورسعيد ١٨)
- (٤) لم تتمكن مصر من إعادة بناء قواتها المسلحة بعد هزيمة ٥ يونيو ١٩٦٧م. (البحر الأحمر ١٦)

٨ ما رأيك في : تصريح بلفور وزير خارجية بريطانيا عام ١٩١٧م ؟

(دمياط ١٤)

٩ ما العلاقة بين ... ؟

(١) نتائج الحرب العالمية الأولى، والوضع السياسي في فلسطين.

(٢) حركات التحرر الوطني في الجزائر، والعدوان الثلاثي على مصر عام ١٩٥٦م. (الفيوم ١٩)

(٣) الموقف الدولي، ونتائج العدوان الثلاثي على مصر عام ١٩٥٦م.

(٤) حرب الاستنزاف، ومبادرة روجرز. (البحيرة ١٥)

١٠ دال تاريخيًا على صحة كل عبارة مما يأتي:

(١) تعتبر بريطانيا صانعة مشكلة فلسطين. (الإسكندرية ٢١)

(٢) كان تدخل الولايات المتحدة الأمريكية أثناء حرب فلسطين ١٩٤٨م في صالح إسرائيل.

(٣) ساندت الولايات المتحدة الأمريكية إسرائيل في عدوان يونيو ١٩٦٧م. (كفر الشيخ ١٧)

(٤) تصدت القوات المصرية للاعتداءات الإسرائيلية في مرحلة الصمود. (الإسكندرية ١٨)

(٥) كانت حرب الاستنزاف دليلاً على إعادة مصر لبناء قواتها المسلحة بعد عدوان ٥ يونيو ١٩٦٧م.

١١ قارن بين :

(١) موقف العرب تجاه مشروع تقسيم فلسطين عام ١٩٤٧م، وموقف اليهود تجاه مشروع تقسيم فلسطين عام ١٩٤٧م.

(٢) العدوان الثلاثي عام ١٩٥٦م، وعدوان ٥ يونيه ١٩٦٧م، من حيث :

* الأسباب . * النتائج . (القليوية ١٤)

١٢ رتب الأحداث التاريخية الآتية من القديم إلى الحديث :

(.....) مؤتمر سان ريمو . (.....) صدور وعد بلفور .

(.....) إعلان قيام دولة إسرائيل .

(.....) موافقة هيئة الأمم المتحدة على تقسيم فلسطين .

(.....) حرب فلسطين «الحرب العربية / الإسرائيلية» .

١٣ ما تقييمك لمدى مصداقية كل عبارة من العبارات الآتية ... ؟

(١) وافقت عصبة الأمم على قرار تقسيم فلسطين عام ١٩٤٧م .

(٢) يُعد إحكام الحصار الاقتصادي على إسرائيل أول رد مصري لحشد القوات الإسرائيلية على حدود سوريا .

(٣) واجهت الدول العربية أطماع إسرائيل بعد العدوان الثلاثي ١٩٥٦م من خلال الوحدة السياسية .

١٤ «تعهدت بريطانيا بإنشاء وطن قومي لليهود في فلسطين عن طريق وعد بلفور عام ١٩١٧م الذي

وصف بأنه وعد ممن لا يملك لمن لا يستحق» . في ضوء هذه العبارة، وضح :

(١) الإجراءات التي اتخذتها بريطانيا لتنفيذ وعد بلفور . (الجيزة ٢١)



(٢) موقف الشعب الفلسطيني من إجراءات تنفيذ وعد بلفور.



أسئلة للتمييز

١٥ اختر الإجابة الصحيحة مما بين القوسين :

(١) من أسباب فشل العدوان الثلاثي ١٩٥٦ م.....

- (تنديد عصبة الأمم بالعدوان - الخلاف بين الدول المعادية - محاصرة الفدائيين للدول المعادية - افتقاد العدوان للدعم الدولي)
- (٢) استولت إسرائيل للمرة الثانية على قطاع غزة أثناء.....
- (عدوان ٥ يونيو ١٩٦٧ م - العدوان الثلاثي ١٩٥٦ م - حرب الاستنزاف ١٩٦٩ م ، ١٩٧٠ م - حرب فلسطين ١٩٤٨ م)
- (٣) كان موقف الاتحاد السوفيتي من عدوان ١٩٥٦ م.....
- (مؤيد - معارض - محايد - سلبي)

١٦ دلل تاريخيًا على صحة كل عبارة من العبارات الآتية :

(١) تناقض موقف الاتحاد السوفيتي عامي ١٩٤٨ م و ١٩٥٦ م تجاه الصراع العربي / الإسرائيلي.

(٢) اتخذت الولايات المتحدة الأمريكية نفس الموقف تجاه اليهود خلال حرب فلسطين

١٩٤٨ م وحرب الاستنزاف ١٩٦٩ م ، ١٩٧٠ م.

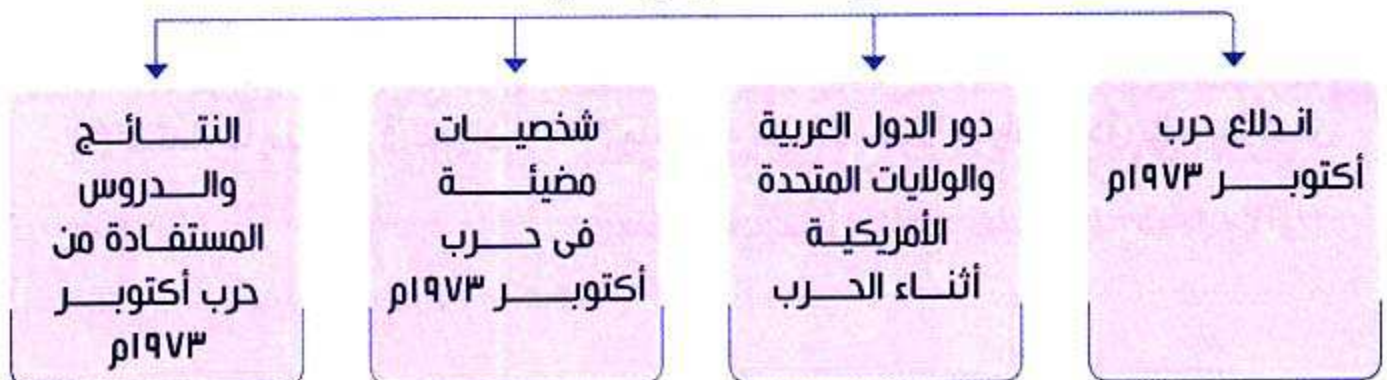
(٣) استعادت إسرائيل في عدوان ١٩٦٧ م ما فقدته من مكاسب العدوان الثلاثي بالنسبة لمصر.



لم يقبل الشعب المصري وجيشه الباسل بالهزيمة (٥ يونيو ١٩٦٧م) فخاض الجيش بكل شجاعة حلقة أخرى من حلقات الصراع العربي / الإسرائيلي وهي حرب السادس من أكتوبر ١٩٧٣م / العاشر من رمضان ١٣٩٣هـ،

- كيف استعدت مصر لحرب ٦ أكتوبر ١٩٧٣م ؟
- كيف وقفت الدول العربية بجوار مصر وسوريا ؟
- ما هي أهم النتائج والدروس المستفادة من حرب أكتوبر المجيدة ؟

في هذا الدرس نتعرف





اندلاع حرب أكتوبر ١٩٧٣ م

الأطراف مصر وسوريا ضد إسرائيل.

الأسباب

?

- * رفض إسرائيل لكل نداءات السلام بالانسحاب من الأراضي التي احتلتها في العدوان الإسرائيلي ٥ يونيو ١٩٦٧ م بموجب قرار مجلس الأمن «٢٤٢».
- * تصميم مصر وسوريا على إزالة آثار نكسة يونيو ١٩٦٧ م (واسترداد شبه جزيرة سيناء والجولان).

استعدادات الحرب

* قامت مصر بالاستعداد للحرب من خلال :

تهيئة وإعداد الجبهة العربية

عن طريق :

- تصفية الخلافات العربية وتوحيد الصف العربي.
- الاستفادة من كل الموارد والإمكانات العربية المتاحة.

تهيئة وإعداد الجبهة الداخلية (مصر)

عن طريق :

- رفع الرقابة عن الصحف.
- إصدار دستور جديد للبلاد «دستور ١٩٧١ م».
- إلغاء الحراسات والإجراءات المقيدة للحريات.
- القضاء على مراكز القوى.
- تجهيز الجيش وتسليحه بأحدث الأسلحة وتدريبه عليها.

الأحداث

* على الجبهة المصرية :

- أعطى الرئيس محمد أنور السادات إشارة بدء الحرب، وبدأت العمليات العسكرية.
- قام سلاح الطيران بقيادة محمد حسني مبارك بضربة جوية ناجحة، وقامت المدفعية بإطلاق النيران على طول القناة مما أدى إلى :
- ١) تخطيم أعداد كبيرة من الطائرات والمعدات العسكرية الإسرائيلية.

٢) عبور الدبابات والمدافع والآليات العسكرية المصرية بمختلف أنواعها.

- تم تدمير خط بارليف (أسطورة إسرائيل) في ست ساعات.
- انتشرت القوات المصرية على الضفة الشرقية لقناة السويس، ورفع علم مصر عليها، وأسرت مئات الجنود الإسرائيليين،

وسطر الجيش المصرى أعظم الانتصارات في البر والبحر والجو.



رفع العلم المصرى فوق أرض سيناء.

* على الجبهة السورية :

- بدأت القوات السورية الهجوم في نفس اللحظة التي بدأت فيها القوات المسلحة المصرية طبقًا للاتفاق بين القيادة العسكرية في البلدين، وبدأت العمليات العسكرية حيث :
- عبرت الطائرات السورية إلى منطقة الجولان المحتلة.
- اندفعت الدبابات والمدافع نحو **خط ألون** «خط الدفاع الإسرائيلي في هضبة الجولان الذي يماثل خط بارليف في الجبهة المصرية».
- دارت معارك جوية عديدة بين الطيران الإسرائيلي والطيران السوري الذي استمر في تقديم دعمه للقوات البرية التي اخترقت خط الدفاع الإسرائيلي ودمرته تمامًا.
- **وتنتيجة** للخسائر الكبيرة التي لحقت بإسرائيل في أعداد الجنود والطائرات (على الجبهتين المصرية والسورية) طلبت إسرائيل المساعدة من الولايات المتحدة الأمريكية.

دور الدول العربية والولايات المتحدة الأمريكية أثناء الحرب

دور الدول العربية (الدعم العربي) في دعم مصر وسوريا

عسكريًا

- * قدمت بعض الدول العربية دعمًا عسكريًا وتمثلت هذه الدول في : العراق، الجزائر، ليبيا، الأردن، المغرب، السعودية، السودان، الكويت، تونس.

ماليًا

- * قدمت بعض الدول العربية دعمًا ماليًا مثل : السعودية، الجزائر، الإمارات.

سياسيًا

- * أصدر وزراء النفط العربي قرار في اجتماعهم بالكويت نص على :
 - خفض إنتاج البترول.
 - حظر الصادرات النفطية إلى الولايات المتحدة الأمريكية «خاصة عندما طلب الرئيس الأمريكي مساعدات عاجلة لإسرائيل».

(وكان لهذه المساهمات دورًا مهمًا في انتصارات أكتوبر ١٩٧٣م)



دور الولايات المتحدة الأمريكية في دعم إسرائيل

عسكرياً

- * أقامت جسراً جويًا لتقديم المساعدات العسكرية لإسرائيل.
- * قدمت معلومات عسكرية لإسرائيل ساعدتها في إحداث ثغرة في منطقة الدفرسوار.

مالياً

- * قدمت مساعدات مالية ضخمة عاجلة لإسرائيل.

سياسياً

- * تدخلت مع الدول الأعضاء في مجلس الأمن الدولي التابع للأمم المتحدة، وتم إصدار القرار رقم «٣٣٨» الذي يقضى بوقف جميع الأعمال الحربية بدءاً من يوم ٢٢ أكتوبر ١٩٧٣م، وبعدها بدأت مباحثات المفاوضات بين الطرفين (المصري - الإسرائيلي).

١ تدريب

١ اخترا الإجابة الصحيحة مما بين القوسين :

- (١) بدأت العمليات العسكرية في حرب أكتوبر ١٩٧٣م بسلاح
(البحرية - المدفعية - المشاة - الطيران)
- (٢) قامت مصر استعداداً لحرب أكتوبر ١٩٧٣م بإعداد الجبهة الداخلية من خلال
(تصفية الخلافات العربية - الاستفادة من الموارد العربية - تشديد الرقابة على الصحف - إصدار دستور جديد)
- (٣) تعد دولة من الدول العربية التي قدمت دعماً عسكرياً ومالياً لمصر وسوريا أثناء حرب أكتوبر ١٩٧٣م.
(الكويت - الإمارات - الجزائر - تونس)
- (٤) نتج عن المساعدات العسكرية الأمريكية لإسرائيل أثناء حرب أكتوبر ١٩٧٣م إحداثها ثغرة في منطقة
(بورسعيد - الدفرسوار - بورفؤاد - خليج العقبة)

٢ اكتب كلمة (صواب) أمام العبارة الصحيحة، وكلمة (خطأ) أمام العبارة غير الصحيحة، مع التصويب :

- (١) قامت مصر وسوريا بحرب أكتوبر ١٩٧٣م لإزالة آثار نكسة يونيو ١٩٦٧م. ☐
- (٢) استطاع الجيش المصري تدمير خط ألون، بينما استطاع الجيش السوري تدمير خط بارليف. ☐
- (٣) أصدر وزراء النفط العربي قرار في اجتماعهم بالإمارات بحظر الصادرات النفطية إلى الولايات المتحدة الأمريكية. ☐

٣ بم تفسر : طلب إسرائيل المساعدة من الولايات المتحدة الأمريكية أثناء حرب أكتوبر ١٩٧٣ م ؟

٤ ما النتائج التي ترتبت على : الضربة الجوية الناجحة وإطلاق المدفعية المصرية للنيران على طول القناة في بداية حرب أكتوبر ١٩٧٣ م ؟

٥ دلل تاريخيًا على صحة كل عبارة مما يأتي :

(١) اتخذت مصر عدة إجراءات لتهيئة الجبهة الداخلية والعربية استعدادًا لحرب أكتوبر ١٩٧٣ م.

(٢) دعمت الولايات المتحدة الأمريكية إسرائيل عسكريًا وماليًا أثناء حرب أكتوبر ١٩٧٣ م.

شخصيات مضيئة فى حرب أكتوبر ١٩٧٣ م

المشير أحمد إسماعيل



المشير
أحمد إسماعيل

* كان مديرًا للمخابرات العامة ثم وزيرًا للحربية ، وقائدًا للقوات المسلحة .
* تولى القيادة العامة الموحدة للقوات المصرية السورية فى حرب أكتوبر ١٩٧٣ م .

* تولى التخطيط والتنسيق على الجبهتين المصرية والسورية بدقة ومهارة عالية .
* قاد خطة الخداع لصرف أنظار إسرائيل عن التجهيزات الهجومية .
* حصل على وسام نجمة سيناء الذى يُعد أعلى الأوسمة العسكرية .

الفريق سعد الدين الشاذلى



الفريق
سعد الدين الشاذلى

* اختاره الرئيس (الراحل) أنور السادات رئيسًا لأركان حرب القوات المسلحة المصرية عام ١٩٧١ م حتى ١٣ ديسمبر ١٩٧٣ م .
* شارك مع القادة العسكريين فى تطوير القوات المسلحة وفى وضع خطة لعبور قناة السويس وتحطيم خط بارليف وقام بتنفيذها فى حرب ١٩٧٣ م .
* تم تكريمه فى الذكرى الـ ٣٩ لنصر أكتوبر بمنح اسمه «قلادة النيل العظمى» .



الفريق
محمد عبدالغنى الجمسى

الفريق محمد عبدالغنى الجمسى

* شغل منصب رئيس هيئة عمليات القوات المسلحة عام ١٩٧٢م، وقامت الهيئة بإعداد دراسة عن أنسب التوقيتات للقيام بالعمليات الهجومية على إسرائيل على الجبهتين المصرية والسورية مما كان له الأثر في إحراز النصر.
* أصبح رئيساً لأركان حرب القوات المسلحة في ديسمبر ١٩٧٣م.

ولن ينسى التاريخ أمجاد العسكرية المصرية في حرب أكتوبر ١٩٧٣م وكل أبناء مصر البواسل من الذين شاركوا في كل العمليات العسكرية (قادة - ضباط - صف - جنود) الذين ضحوا من أجل مصر.

النتائج والدروس المستفادة من حرب أكتوبر ١٩٧٣م

- ١ تُعد نقطة تحول في الصراع العربى / الإسرائيلى، حيث أثبتت أن منطق القوة لا يمنح سلاماً.
- ٢ تحطيم أسطورة الجيش الإسرائيلى الذى لا يقهر وعودة الثقة للمقاتل المصرى والعربى.
- ٣ تقويض (هدم) أسس العقيدة القتالية للقوات الإسرائيلية.
- ٤ انتهاء نظرية الأمن الإسرائيلية بعد انهيار الخطوط الدفاعية والتحصينات القوية، مثل خط بارليف.
- ٥ أنهت حالة اللاسلم واللاحرب، وأفسحت المجال للمفاوضات السياسية من منطلق القوة العربية.
- ٦ أظهرت أهمية استخدام سلاح النفط العربى.
- ٧ أثرت في العلاقات بين إسرائيل وبعض الدول المحبة للسلام في آسيا وأفريقيا وأوروبا.

٢ تدريب

١ أكمل البطاقات التي أمامك :

المشير أحمد إسماعيل



..... المناصب التي شغلها :

..... دوره في حرب أكتوبر ١٩٧٣ م :

.....

الفريق سعد الدين الشاذلي



..... المناصب التي شغلها :

..... دوره في حرب أكتوبر ١٩٧٣ م :

.....

الفريق محمد عبدالغنى الجمسى



..... المناصب التي شغلها :

..... دوره في حرب أكتوبر ١٩٧٣ م :

.....

٢ حدد ، أهم النتائج والدروس المستفادة من حرب أكتوبر ١٩٧٣ م.

.....

نتائجها والدروس المستفادة منها

١. تُعد نقطة تحول في الصراع العربي الإسرائيلي.
٢. تحطيم أسطورة الجيش الإسرائيلي الذي لا يقهر.
٣. تقويض أسس العقيدة القتالية للقوات الإسرائيلية.
٤. انتهاء نظرية الأمن الإسرائيلية.
٥. إنهاء حالة اللاسلم واللاحرب.
٦. أظهرت أهمية استخدام سلاح النفط العربي.
٧. أثرت في العلاقات بين إسرائيل وبعض الدول المحبة للسلام.

دور الدول العربية في دعم مصر وسوريا

- * قدمت بعض الدول العربية دعمًا عسكريًا كما قدمت بعض الدول العربية دعمًا ماليًا لمصر وسوريا.
- * أصدر وزراء النفط العربي قرارًا بخفض إنتاج البترول، وحظر الصادرات النفطية إلى الولايات المتحدة الأمريكية لمساعدتها لإسرائيل.
- دور الولايات المتحدة في دعم إسرائيل**
 ١. أقامت جسرًا جويًا لمساعدة إسرائيل.
 ٢. قدمت معلومات عسكرية لإسرائيل ساعدتها في إحداث ثغرة الدفرسوار.
 ٣. قدمت مساعدات مالية ضخمة.
 ٤. تدخلت مع الدول الأعضاء في مجلس الأمن الدولي لإصدار القرار رقم «٣٣٨» بوقف جميع الأعمال الحربية.

أحداثها

- * **على الجبهة المصرية:**
 ١. قيام سلاح الطيران بصرية جوية ناجحة وقيام المدفعية بإطلاق النيران على طول القناة.
 ٢. تدمير خط بارليف.
 ٣. انتشار القوات المصرية على الضفة الشرقية لقناة السويس.
- * **على الجبهة السورية:**
 ١. عبور الطائرات السورية لمنطقة الجولان المحتلة.
 ٢. تدمير (خط ألون) الإسرائيلي.

الاستعدادات للحرب

- * **تهيئة وإعداد الجبهة الداخلية (مصر) عن طريق:**
 ١. رفع الرقابة عن الصحف.
 ٢. إصدار دستور ١٩٧١م.
 ٣. إلغاء الحراسات والإجراءات المفيدة للحريات.
 ٤. القضاء على مراكز القوى.
 ٥. تجهيز الجيش بأحدث الأسلحة وتدريبه عليها.
- * **تهيئة وإعداد الجبهة العربية:**
 ١. تصفية الخلافات العربية وتوحيد الصف العربي.
 ٢. الاستفسار من الموارد والإمكانات العربية المتاحة.

أسبابها

١. رفض إسرائيل لكل نداءات السلام بالانسحاب من الأراضي التي احتلتها في عدوان ٥ يونيو ١٩٦٧م بموجب قرار مجلس الأمن رقم ٢٤٢.
٢. تصميم مصر وسوريا على إزالة آثار نكسة يونيو ١٩٦٧م (واسترداد شبه جزيرة سيناء والجولان).

شخصيات مميّنة في حرب أكتوبر ١٩٧٣م

الفريق سعد الدين الشاذلي

- * اختياره الرئيس السادات رئيسًا لأركان حرب القوات المسلحة المصرية عام ١٩٧١م حتى ١٣ ديسمبر ١٩٧٣م.
- * شارك في تطوير القوات المسلحة ووضع خطة العبور لقناة السويس وتخطيط خط بارليف وقام بتنفيذها في حرب أكتوبر ١٩٧٣م.
- * تم تكريمه في الذكرى الـ ٣٩ لنصر أكتوبر بمنح اسمه «قلادة النيل العظمى».

المشير أحمد إسماعيل

- * كان مديرًا للمخابرات العامة ثم وزيرًا للحربية وقائدًا للقوات المسلحة.
- * تولى القيادة العامة الموحدة للقوات المصرية السورية في حرب أكتوبر ١٩٧٣م.
- * تولى التخطيط والتنسيق على الجبهتين المصرية والسورية.
- * قاد خطة الخداع لصرف أنظار إسرائيل عن التجهيزات الهجومية.
- * حصل على وسام نجمة سيناء الذي يُعد أعلى الأوسمة العسكرية.

الفريق محمد عبدالفتي الجبسي

- * شغل منصب رئيس هيئة عمليات القوات المسلحة عام ١٩٧٢م، والتي أعدت دراسة لأنسب التوقيعات للهجوم على إسرائيل.
- * أصبح رئيسًا لأركان حرب القوات المسلحة في ديسمبر ١٩٧٣م.



١ اختر الإجابة الصحيحة مما بين القوسين :

- (١) تُعد من الدول العربية التي قدمت مساعدات مالية وعسكرية لمصر وسوريا أثناء حرب أكتوبر ١٩٧٣م دولة
(السعودية - موريتانيا - الصومال - الإمارات)
- (٢) توغلت القوات المصرية بعد تدمير خط بارليف على الضفة لقناة السويس.
(الشمالية - الغربية - الشرقية - الجنوبية)
- (٣) استعدت مصر لخوض حرب أكتوبر ١٩٧٣م على الصعيد العربي من خلال
(توحيد الصف - المعاهدات الاقتصادية - اتفاقيات الدفاع المشترك - صفقة الأسلحة الشرقية)
- (٤) بدأت شرارة حرب أكتوبر ١٩٧٣م وعملياتها العسكرية بسلاح
(المدفعية - الطيران - البحرية - الدفاع الجوي)
- (٥) سقطت أسطورة إسرائيل الدفاعية في الساعات الأولى من حرب أكتوبر ١٩٧٣م من خلال تدمير
(خط بارليف - خط ألون - سلاح الطيران - المدمرة إيلات)
- (٦) إصدار وزراء النفط العربي في اجتماعهم في الكويت قرارًا بخفض إنتاج البترول يعد دعمًا
(ماليًا - سياسيًا - عسكريًا - معنويًا)
- (٧) اتخذت الدول العربية النفطية قرار حظر تصدير النفط إلى الولايات المتحدة الأمريكية بعد
(تقديمها مساعدات لإسرائيل في حرب يونيو ١٩٦٧م - إقامة جسر جوى يحمل المساعدات لإسرائيل أثناء حرب أكتوبر ١٩٧٣م - مطالبة الدول الأوروبية لها بالضغط على إسرائيل - طلب الرئيس الأمريكي مساعدات عاجلة لإسرائيل)
- (٨) من الدول العربية التي قدمت دعمًا عسكريًا لمصر وسوريا في حرب أكتوبر ١٩٧٣م
(اليمن - الصومال - لبنان - الجزائر) (السويس ١٨)
- (٩) ساندت بعض الدول العربية الأفريقية مصر وسوريا عسكريًا أثناء حرب أكتوبر ١٩٧٣م ومنها
(المغرب - موريتانيا - الصومال - جيبوتي)
- (١٠) اختلفت مساعدة الولايات المتحدة الأمريكية لإسرائيل عن مساندة العرب لمصر وسوريا في حرب أكتوبر ١٩٧٣م بتقديم
(معلومات عسكرية - مساعدات مالية - معدات عسكرية - قوات متعددة)

- (١١) أقامت جسرًا جويًا لتقديم المساعدات العسكرية لإسرائيل أثناء حرب أكتوبر ١٩٧٣ م.
- (فرنسا - الصين - الاتحاد السوفيتي - الولايات المتحدة الأمريكية) (النياب ١٥)
- (١٢) حصل على وسام نجمة سيناء الذي يعد أعلى الأوسمة العسكرية. (النياب ١٦)
- (سعد الدين الشاذلي - أحمد إسماعيل - عبد المنعم رياض - محمد عبدالغنى الجمسى)
- (١٣) أصبح رئيس أركان الجيش المصرى فى ديسمبر ١٩٧٣ م.....
- (محمد عبدالغنى الجمسى - سعد الدين الشاذلي - أحمد إسماعيل - عبد المنعم رياض)

٢ اكتب كلمة (صواب) أمام العبارة الصحيحة، وكلمة (خطأ) أمام العبارة غير الصحيحة، مع التصويب :

- (١) كان إصدار دستور عام ١٩٧١ م إجراءً لتهيئة الجبهة الداخلية لمصر. ()
- (٢) حرصت مصر على تصفية الخلافات وتوحيد الصف العربى استعداداً لحرب أكتوبر ١٩٧٣ م. ()
- (٣) أعطى الرئيس السادات إشارة بدء حرب أكتوبر ١٩٧٣ م. ()
- (٤) يعرف خط الدفاع الإسرائيلى فى هضبة الجولان باسم خط بارليف. (ج. سيناء ١٧) ()
- (٥) ظهر التفوق العسكرى المصرى على العدو الإسرائيلى منذ الساعات الأولى لحرب أكتوبر ١٩٧٣ م. ()
- (٦) ساهمت مشاركات الدول العربية فى حرب أكتوبر ١٩٧٣ م فى تحقيق النصر. ()
- (٧) يُعد النفط العربى من أخطر الأسلحة التى استخدمتها الدول العربية أثناء حرب أكتوبر ١٩٧٣ م على الصعيد الدولى. ()
- (٨) قدمت الولايات المتحدة الأمريكية المساعدات العسكرية لمصر أثناء حرب أكتوبر ١٩٧٣ م. (الشرقية ١٩) ()
- (٩) نص قرار ٣٣٨ لمجلس الأمن بوقف جميع الأعمال الحربية بدءاً من ٢٢ أكتوبر ١٩٧٣ م. ()
- (١٠) تولى الفريق محمد عبدالغنى الجمسى خطة خداع العدو لصرف أنظاره عن التجهيزات لهجوم حرب أكتوبر ١٩٧٣ م. ()
- (١١) تم تكريم المشير أحمد إسماعيل بمنح اسمه «قلادة النيل العظمى». ()
- (١٢) تركت حرب أكتوبر ١٩٧٣ م أثراً فى العلاقات بين إسرائيل والدول المحبة للسلام. ()
- (١٣) انتهت نظرية الأمن الإسرائيلى نتيجة تحطيم خط بارليف على الجبهة السورية. ()
- (١٤) استردت مصر الضفة الغربية لقناة السويس أثناء حرب أكتوبر ١٩٧٣ م. ()
- (١٥) كانت حرب أكتوبر ١٩٧٣ م حرباً دفاعية فى المقام الأول. ()

٣ إلى من تنسب الأعمال التاريخية الآتية ... ؟

- (١) قاد سلاح الطيران المصرى فى حرب أكتوبر ١٩٧٣م. (الفيوم ٢١) (.....)
- (٢) تولى القيادة العامة للموحدة للقوات المصرية السورية فى حرب أكتوبر ١٩٧٣م. (الجيزة ٢١) (.....)
- (٣) قام بتنفيذ خطة عبور القوات المصرية لقناة السويس وتخطيط خط بارليف فى حرب أكتوبر ١٩٧٣م. (القاهرة ١٩) (.....)
- (٤) رأس الهيئة التى قامت بإعداد دراسة عن أنسب التوقيتات للقيام بالعمليات الهجومية المصرية فى حرب أكتوبر ١٩٧٣م. (ج. سيناء ١٥) (.....)

٤ بم تفسر ... ؟

- (١) قيام مصر وسوريا بالإعداد والتخطيط لحرب أكتوبر ١٩٧٣م. (بورسعيد ١٨) (.....)
- (٢) أحداث ثغرة فى منطقة الدفرسوار أثناء حرب أكتوبر ١٩٧٣م. (البحر الأحمر ١٦) (.....)
- (٣) إصدار مجلس الأمن قرار رقم ٣٣٨ (.....)
- (٤) حصول المشير أحمد إسماعيل على أعلى الأوسمة العسكرية. (.....)
- (٥) منح اسم الفريق سعد الدين الشاذلى قلادة النيل العظمى. (.....)

٥ ما النتائج التى ترتبت على ... ؟

- (١) نجاح العمليات العسكرية المصرية التى قام بها سلاح الطيران والمدفعية أثناء حرب أكتوبر ١٩٧٣م. (أسيوط ١٨) (.....)
- (٢) اجتماع وزراء النفط العربى بالكويت أثناء حرب أكتوبر ١٩٧٣م. (بنى سويف ١٨) (.....)

(٣) تقديم الولايات المتحدة الأمريكية معلومات عسكرية لإسرائيل

أثناء حرب أكتوبر ١٩٧٣م.

(بورشيد ٢١)

(السويس ١٩)

(٤) حرب أكتوبر ١٩٧٣م بالنسبة لمصر وإسرائيل.

(٥) قيام هيئة عمليات القوات المسلحة بدراسة عن أنسب توقيتات حرب أكتوبر ١٩٧٣م.

(٦) انتهاء حالة اللاسلم واللاحرب من خلال حرب أكتوبر ١٩٧٣م.

٦ ماذا كان يحدث إذا ... ؟

(١) فشل الرئيس السادات في تصفية الخلافات العربية قبل حرب أكتوبر ١٩٧٣م. (دمياط ١٧)

(الجيزة ١٥)

(٢) استجابت إسرائيل لقرار مجلس الأمن رقم ٢٤٢

(٣) لم تقدم الولايات المتحدة الأمريكية الدعم لإسرائيل خلال حرب أكتوبر ١٩٧٣م. (كفر الشيخ ١٥)

(الجيزة ١٩)

٧ ما رأيك في : الدعم العربي لمصر وسوريا أثناء حرب ٦ أكتوبر ١٩٧٣م ؟

٨ دلل تاريخيًا على صحة كل عبارة مما يأتي :

(١) اتخذت مصر عدة إجراءات لإعداد الجبهة الداخلية قبل حرب أكتوبر ١٩٧٣م. (الإسكندرية ١٨)

(الوادى الجديد ١٩)

(٢) لعب سلاح البترول دورًا مهمًا في حرب أكتوبر ١٩٧٣م.

(٣) ساندت الولايات المتحدة الأمريكية إسرائيل في حرب أكتوبر ١٩٧٣م. (البحيرة ١٧)

(٤) أنهت حرب أكتوبر ١٩٧٣م نظرية الأمن الإسرائيلية. (القليوبية ٢١)

٩ ما العلاقة بين :

هيئة عمليات القوات المسلحة المصرية، وإحراز النصر في حرب أكتوبر ١٩٧٣م ؟ (الإسماعيلية ٢١)

١٠ وضع : أهم الإجراءات التي اتخذتها مصر على المستوى العربي استعدادًا لحرب أكتوبر ١٩٧٣م.

أسئلة للتمييز ؟

١١ اختر الإجابة الصحيحة مما بين القوسين :

(١) نتج عن موقف إسرائيل السلبي من قرار مجلس الأمن رقم ٢٤٢

(اتجه مصر وسوريا للحل العسكري - تقديم العرب الدعم المالى لمصر -

خفض الدول العربية إنتاج البترول - رفض اليهود الانسحاب من فلسطين)

(٢) عاشت إسرائيل في عزلة سياسية بعد حرب أكتوبر ١٩٧٣م بسبب موقف بعض

الدول فى

(آسيا وأفريقيا - أمريكا الشمالية وأوروبا - أفريقيا وأستراليا - آسيا وأمريكا الجنوبية)

١٢ حدد تقييمك لمدى مصداقية العبارة الآتية :

أدخل الرئيس السادات إصلاحات تشريعية فى إطار استعداداته لحرب أكتوبر ١٩٧٣م.

مصر والصراع العربي / الإسرائيلي

الدرس الرابع



حققت حرب أكتوبر ١٩٧٣ م بعض أهدافها وبصفة خاصة تحريك القضية الفلسطينية نحو الحل الشامل للصراع

العربي / الإسرائيلي واختيار مبدأ الأرض مقابل السلام،

• ما هي السياسة التي اتبعتها مصر لتحقيق السلام ؟

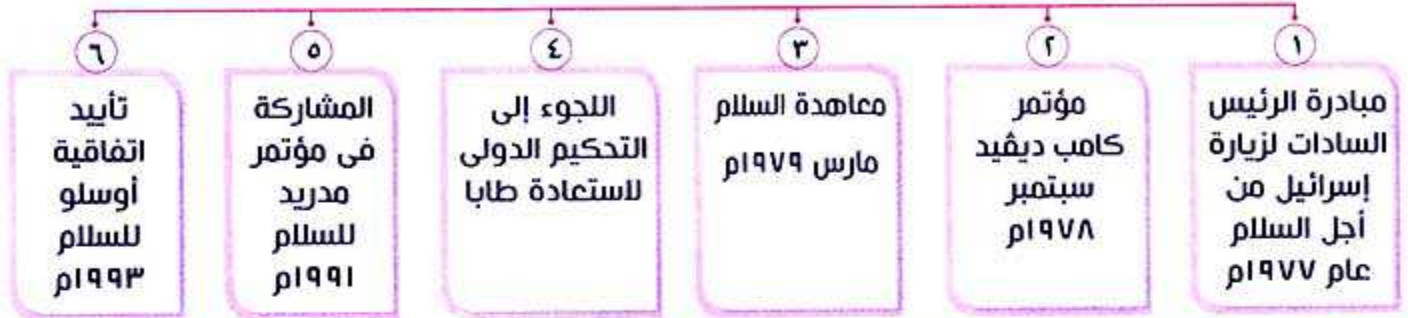
• ما هي المزايا لتحقيق السلام ؟

في هذا الدرس نتعرف

مزايا تحقيق السلام
وانهاء الصراع
العربي / الإسرائيلي

سياسة مصر
نحو إنهاء الصراع
العربي / الإسرائيلي
لتحقيق السلام

سياسة مصر نحو إنهاء الصراع العربي / الإسرائيلي لتحقيق السلام : تمثلت في :



١ مبادرة الرئيس السادات لزيارة إسرائيل من أجل السلام ١٩٧٧م

- * بعد حرب أكتوبر ١٩٧٣م فكر الرئيس السادات في إنهاء الصراع العربي / الإسرائيلي سلميًا، فبادر بزيارة إسرائيل عام ١٩٧٧م، وهناك :
- نادى بالسلام العادل لكل شعوب المنطقة.
- دعا العالم كله إلى مساندته في التطلع إلى السلام الدائم بعد سلسلة من الحروب التي استنزفت طاقات وموارد البلاد البشرية والمادية.

ما النتائج التي ترتبت على مبادرة الرئيس السادات لزيارة إسرائيل ١٩٧٧م ؟

ترتب على ذلك أن مهد الطريق أمام إسرائيل للقبول بمبدأ التفاوض مع الأطراف المهمة والمعنية بقضية الصراع العربي / الإسرائيلي.

٢ مؤتمر كامب ديفيد سبتمبر ١٩٧٨م

- * دعا الرئيس الأمريكي كارتر كلًا من الرئيس المصري محمد أنور السادات ورئيس وزراء إسرائيل بيجين لعقد اجتماعات في كامب ديفيد بالولايات المتحدة الأمريكية.

نتائج المؤتمر ؟

تم التوصل إلى إطار اتفاق (معاهدة) للسلام بين مصر وإسرائيل.

معلومة إثرائية

كان من نتائج اتفاقية كامب ديفيد حصول كل من السادات وبيجين على جائزة نوبل للسلام، وكان مبرر المنح هو جهودهما الحثيثة في تحقيق السلام في منطقة الشرق الأوسط.



توقيع معاهدة السلام



٣ معاهدة السلام مارس ١٩٧٩م

أطرافها مصر وإسرائيل بمشاركة ورعاية الولايات المتحدة الأمريكية.

? أهم نصوصها

- ١ انسحاب إسرائيل الكامل من سيناء التي احتلتها عام ١٩٦٧م.
- ٢ إنهاء حالة الحرب بين مصر وإسرائيل وحل المنازعات بالطرق السلمية.
- ٣ احترام كل طرف لسيادة واستقلال الطرف الآخر.
- ٤ إقامة علاقات ودية (سياسية - اقتصادية - ثقافية) بين الدولتين.
- ٥ إقامة مناطق محدودة السلاح على جانبي الحدود مع تحديد عدد الأسلحة والقوات.
- ٦ احترام حرية الملاحة في الممرات الدولية.
- ٧ البدء بمفاوضات لإنشاء حكم ذاتي للفلسطينيين في الضفة الغربية وقطاع غزة.
- ٨ التطبيق الكامل لقرار مجلس الأمن الدولي رقم ٢٤٢

? نتائجها

رفع العلم المصري فوق شبه جزيرة سيناء في ٢٥ أبريل ١٩٨٢م بعد استعادتها من المحتل الإسرائيلي، فيما عدا منطقة طابا على رأس خليج العقبة.

معلومة إثرائية

* بالرغم من الجهود التي بذلها الرئيس السادات لتحقيق السلام الشامل وتأييده لكل المبادرات السياسية التي تتفق مع الأهداف والمواقف العربية إلا أن الأيدي الأثمة اغتالته أثناء الاحتفال السنوي بذكرى ٦ أكتوبر في عام ١٩٨١م.

* خلفه محمد حسني مبارك في رئاسة الجمهورية وبدأت صفحة جديدة في مسار تحقيق السلام العادل والشامل للصراع العربي / الإسرائيلي.

٤ اللجوء إلى التحكيم الدولي لاستعادة طابا



* حدث خلاف على تعيين مكان بعض علامات الحدود، ونتيجة لذلك اتفق الطرفان (مصر وإسرائيل) على مبدأ التحكيم فتم إحالة قضية طابا إلى هيئة التحكيم الدولي «محكمة العدل الدولية»

ما النتائج؟ ترتب على ذلك أن أصدرت هيئة التحكيم بمحكمة العدل الدولية في سبتمبر ١٩٨٨م حكمها لصالح مصر وعادت طابا إلى السيادة المصرية في مارس ١٩٨٩م في عهد الرئيس الأسبق محمد حسني مبارك.

١ تدريب

١ اكتب كلمة (صواب) أمام العبارة الصحيحة، وكلمة (خطأ) أمام العبارة غير الصحيحة، مع التصويب :

(١) بادر الرئيس محمد أنور السادات بزيارة إسرائيل من أجل السلام عام ١٩٧٧م.

(٢) دعا الرئيس الأمريكي إلى عقد مؤتمر مدريد للسلام عام ١٩٧٨م.

(٣) عادت طابا إلى السيادة المصرية في عهد الرئيس الأسبق محمد حسني مبارك.

٢ ما النتائج التي ترتبت على ... ؟

(١) مؤتمر كامب ديفيد سبتمبر ١٩٧٨م.

.....

(٢) معاهدة السلام مارس ١٩٧٩م.

.....

(٣) عرض قضية طابا على محكمة العدل الدولية سبتمبر ١٩٨٨م.

.....

٣ حدد : أهم بنود معاهدة السلام بين مصر وإسرائيل مارس ١٩٧٩م.

.....



٥ المشاركة في مؤتمر مدريد للسلام ١٩٩١م

- * شاركت فيه مصر بفاعلية لدعوته إلى حل الصراع العربي / الإسرائيلي على ضوء قرارات الأمم المتحدة (مجلس الأمن) وعلى أساس مبدأ الأرض مقابل السلام.
- * عُقد في مدريد «عاصمة إسبانيا» عام ١٩٩١م، برعاية كل من الولايات المتحدة الأمريكية والاتحاد السوفيتي (سابقًا).

٦ تأييد اتفاقية أوسلو للسلام ١٩٩٣م

- * ترتب على مؤتمر مدريد للسلام حدوث مفاوضات سرية بين إسرائيل ومنظمة التحرير الفلسطينية وقد أسفرت هذه المفاوضات عن توقيع اتفاقية برعاية أمريكية في سبتمبر ١٩٩٣م بواشنطن.

موقف مصر من الاتفاقية

أيدت مصر الاتفاقية وما حدث من اتفاقيات أخرى تتعلق بالانسحاب الإسرائيلي من الأراضي المحتلة وإقامة السلطة الوطنية الفلسطينية.

معلومة إثرائية

- * سميت الاتفاقية بأوسلو؛ لأن التفاوض بشأن الاتفاقية تم في مدينة أوسلو عاصمة النرويج، وهي تعتبر أول اتفاقية رسمية مباشرة بين إسرائيل ممثلة بوزير خارجيتها آنذاك شمعون بيريز، ومنظمة التحرير الفلسطينية ممثلة بأمين سر اللجنة التنفيذية محمود عباس وهو الرئيس الحالي للسلطة الفلسطينية، ونصت هذه الاتفاقية على:
- إقامة سلطة حكومية ذاتية انتقالية فلسطينية (تعرف الآن بالسلطة الوطنية الفلسطينية).
- إقامة مجلس تشريعي منتخب للشعب الفلسطيني في الضفة الغربية وقطاع غزة لفترة انتقالية.
- أن تغطي المفاوضات فيما بعد القضايا المتبقية (القدس، اللاجئين، المستوطنات، الترتيبات الأمنية، الحدود، العلاقات، التعاون).
- إنشاء قوة شرطة فلسطينية قوية لضمان حفظ الأمن والنظام.

مزايا تحقيق السلام وإنهاء الصراع العربي / الإسرائيلي

- * إن اختيار السلام (بدلاً من الحرب التي تستنزف كافة الموارد الاقتصادية والبشرية) يعود بالنفع على الدول العربية، ويحقق ما يلي :
- الاستقرار الداخلي للبلاد العربية.
 - دفع عجلة التنمية الاقتصادية والاجتماعية وإصلاح البنية الأساسية للبلاد.
 - تشجيع رؤوس الأموال العربية والأجنبية للاستثمار في مصر وغيرها من الدول العربية.
 - تنشيط حركة السياحة مما يؤدي إلى :
 - زيادة الدخل القومي.
 - توفير العملات الأجنبية.
 - إقامة المشروعات الوطنية وتحقيق التنمية في مصر بشكل خاص ومنطقتنا العربية بشكل عام.

٢ تدريب

١ اكتب ما تشير إليه كل عبارة من العبارات الآتية :

(١) مؤتمر دعا إلى حل الصراع العربي / الإسرائيلي على أساس

(.....)

مبدأ الأرض مقابل السلام.

(.....)

(٢) مدينة إسبانية عقد بها مؤتمر للسلام عام ١٩٩١م.

(٣) اتفاقية تم توقيعها بواشنطن عام ١٩٩٣م بين إسرائيل

(.....)

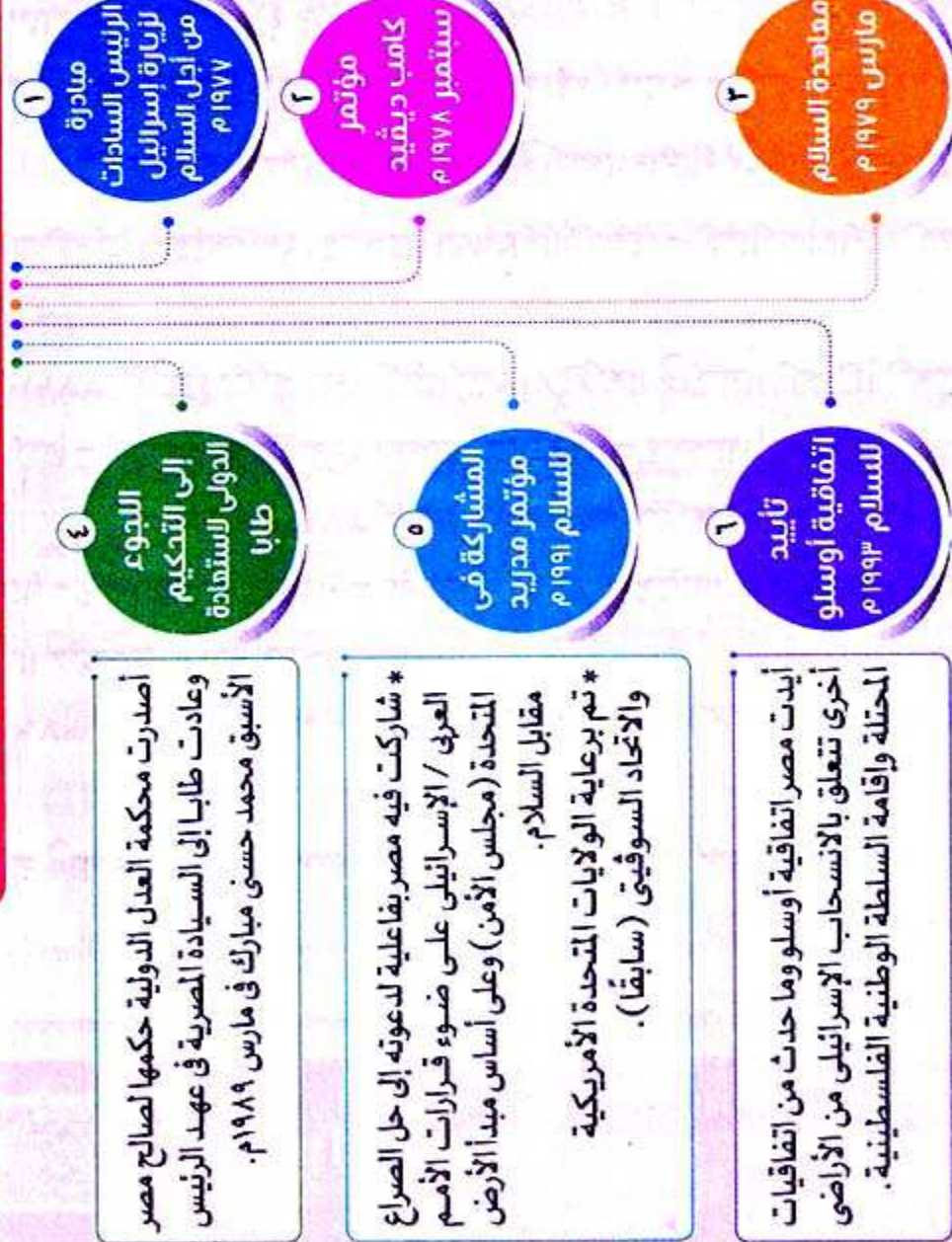
ومنظمة التحرير الفلسطينية بعد محادثات سرية.

٢ وضح : مزايا تحقيق السلام بين إسرائيل والدول العربية.

.....
.....
.....

أهم نقاط الدرس

سياسة مصر نحو إنهاء الصراع العربي / الإسرائيلي لتحقيق السلام



أصدرت محكمة العدل الدولية حكمها لصالح مصر وعادت طابا إلى السيادة المصرية في عهد الرئيس الأسبق محمد حسني مبارك في مارس ١٩٨٩ م.

* شاركت فيه مصر بفاعلية لدعوته إلى حل الصراع العربي / الإسرائيلي على ضوء قرارات الأمم المتحدة (مجلس الأمن) وعلى أساس مبدأ الأرض مقابل السلام.

* تم برعاية الولايات المتحدة الأمريكية والاتحاد السوفيتي (سابقاً).

أيدت مصر اتفاقية أوسلو وما حدث من اتفاقيات أخرى تتعلق بالانسحاب الإسرائيلي من الأراضي المحتلة وإقامة السلطة الوطنية الفلسطينية.

- دفع عجلة التنمية وإصلاح البنية الأساسية للبلاد.

- إقامة المشروعات الوطنية في مصر والدول العربية.

- الاستقرار الداخلي للبلاد العربية.

- تشجيع رؤوس الأموال للاستثمار في مصر وغيرها من الدول العربية.

- تنشيط حركة السياحة.

مزايا تحقيق السلام وإنهاء الصراع العربي / الإسرائيلي

* نادى بالسلام العادل لكل شعوب المنطقة.

* دعا العالم كله لمساندته في التطلع للسلام الدائم.

* دعا إليه الرئيس الأمريكي **كارتر** كلاً من **محمد أنور السادات** و**بيجين**.

* **نتائجه**: التوصل إلى إطار اتفاق للسلام بين مصر وإسرائيل.

* نصوصها:

- ١ انسحاب إسرائيل الكامل من سيناء التي احتلتها عام ١٩٦٧ م.
- ٢ إنهاء حالة الحرب بين مصر وإسرائيل وحل المنازعات سلمياً.
- ٣ احترام كل طرف لسيادة واستقلال الطرف الآخر.
- ٤ إقامة علاقات ودية سياسية واقتصادية وثقافية بين الدولتين.
- ٥ إقامة مناطق محدودة السلاح على جانبي الحدود.
- ٦ احترام حرية الملاحة في الممرات الدولية.
- ٧ البدء بمفاوضات لإنشاء حكم ذاتي للفلسطينيين.
- ٨ التطبيق الكامل لقرار مجلس الأمن رقم ٢٤٢.

* **نتائجها**: رفع العلم المصري فوق شبه جزيرة سيناء في ٢٥ أبريل ١٩٨٢ م بعد استعادتها كاملة فيما عدا طابا الواقعة على رأس خليج العقبة.



١ اختر الإجابة الصحيحة مما بين القوسين :

(١) ظهر التفكير للبدء بمفاوضات للحكم الذاتي الفلسطيني في الضفة الغربية وقطاع غزة من خلال

(قرار مجلس الأمن رقم ٢٤٢ - قرار مجلس الأمن رقم ٣٣٨ - معاهدة السلام ١٩٧٩م -

حكم هيئة التحكيم الدولي)

(٢) تم توقيع اتفاقية أوسلو عام ١٩٩٣م في مدينة (مديرد - واشنطن - القاهرة - باندونج)

(٣) تُعد أولى خطوات السلام في المنطقة العربية بعد حرب أكتوبر ١٩٧٣م بدعوة من

(الأمم المتحدة - الولايات المتحدة الأمريكية - مصر - إسرائيل)

(٤) تُعد ثانی خطوات السعى إلى حل الصراع العربي / الإسرائيلي بعد حرب أكتوبر ١٩٧٣م على يد

(رئيس مصر - رئيس وزراء إسرائيل - رئيس الولايات المتحدة الأمريكية - رئيس سوريا)

(٥) تُعد النواة الأساسية لتحقيق السلام وإنهاء الصراع العربي / الإسرائيلي

(زيارة رئيس مصر لإسرائيل - حضور مؤتمر كامب ديفيد - توقيع معاهدة السلام -

المشاركة في مؤتمر مدريد للسلام)

(٦) استطاعت مصر استرداد معظم سيناء عن طريق

(المعاهدات الرسمية - القوة العسكرية - المبادرات السلمية - التحكيم الدولي)

(٧) عادت طابا للسيادة المصرية مرة أخرى عن طريق

(التحكيم الدولي - القوة العسكرية - المبادرات السلمية - المعاهدات الرسمية) (الجيزة ٢١)

٢ أكمل العبارات التالية بالكلمات المناسبة:

(١) تم عقد مؤتمر كامب ديفيد عام ١٩٧٨م برعاية

(الوادی الجديد ١٦)

(٢) تم رفع العلم المصري عام ١٩٨٢م فوق شبه جزيرة سيناء بعد استعادتها

ما عدا

(المنيا ١٦)

(٣) عقد مؤتمر للسلام عام ١٩٩١م في إسبانيا.

٣ اكتب كلمة (صواب) أمام العبارة الصحيحة، وكلمة (خطأ) أمام العبارة غير الصحيحة، مع التصويب :

- (١) دعت مبادرة الرئيس السادات إلى السلام العادل لكل شعوب المنطقة. ()
- (٢) تغيرت السياسة المصرية نحو إنهاء الصراع العربي / الإسرائيلي عقب عقد مؤتمر كامب ديفيد ١٩٧٨م. ()
- (٣) كانت معاهدة السلام بين مصر وإسرائيل بمشاركة ورعاية إسبانيا. ()
- (٤) تحقق الانسحاب الإسرائيلي الكامل من سيناء في ٢٥ أبريل ١٩٨٢م. (القاهرة ٢١) ()
- (٥) تم وضع النواة الأساسية لإطار معاهدة السلام بين مصر وإسرائيل في مؤتمر كامب ديفيد. ()
- (٦) الأرض مقابل السلام مبدأ دعا إليه مؤتمر كامب ديفيد عام ١٩٧٨م. ()
- (٧) عقد مؤتمر مدريد برعاية كل من الولايات المتحدة الأمريكية والاتحاد السوفيتي سابقاً. ()
- (٨) عقدت اتفاقية أوسلو عام ١٩٩٣م بين إسرائيل ومنظمة التحرير الفلسطينية. (المنيا ١٣) ()
- (٩) ترتب على عقد اتفاقية أوسلو مفاوضات سرية بين إسرائيل ومنظمة التحرير الفلسطينية. ()
- (١٠) اتخذت اتفاقية أوسلو عام ١٩٩٣م الشكل الرسمي والإطار القانوني في دولة الولايات المتحدة الأمريكية. ()
- (١١) عارضت مصر اتفاقية أوسلو عام ١٩٩٣م. (الدقهلية ١٦) ()
- (١٢) من مزايا السلام وإنهاء الصراع العربي / الإسرائيلي دفع عجلة التنمية في الدول العربية. (القاهرة ١٦) ()

٤ من هو ... ؟

- (١) دعا مصر وإسرائيل لعقد مؤتمر كامب ديفيد للسلام. (أسيوط ١٧) (.....)
- (٢) عقد معاهدة السلام مع إسرائيل عام ١٩٧٩م. (.....)
- (٣) عادت في عهد طابا إلى السيادة المصرية. (المنيا ١٧) (.....)

٥ بم تفسر...؟

(١) زيارة الرئيس السادات لإسرائيل عام ١٩٧٧م. (الإسكندرية ٢١)

(٢) عقد مؤتمر للسلام في مدريد بإسبانيا عام ١٩٩١م. (الشرقية ١٩)

٦ ما النتائج التي ترتبت على ...؟

(١) مبادرة الرئيس السادات لزيارة إسرائيل عام ١٩٧٧م.

(٢) توقيع معاهدة السلام مارس ١٩٧٩م. (أسبوط ١٩)

(٣) قرار التحكيم الدولي الصادر في سبتمبر ١٩٨٨م. (المنيا ١٩)

(٤) عقد مؤتمر مدريد للسلام ١٩٩١م.

(٥) اختيار السلام كبديل للحرب لإنهاء الصراع العربي / الإسرائيلي بالنسبة للسياسة والتنمية.

٧ ماذا كان يحدث إذا ...؟

(١) فشل مؤتمر كامب ديفيد في سبتمبر ١٩٧٨م. (الجيزة ٢١)

(٢) لم يتم توقيع معاهدة السلام في مارس ١٩٧٩م. (الإسكندرية ١٩)

(٣) رفضت إسرائيل تنفيذ قرار محكمة العدل الدولية في سبتمبر ١٩٨٨م.

٨ ما رأيك في ... ؟

(١) مبادرة الرئيس السادات بالذهاب إلى إسرائيل من أجل السلام. (ج. سيناء ١٧)

(٢) بنود معاهدة السلام ١٩٧٩ م. (أسوان ١٨)

٩ ما موقف مصر من كل مما يلي ... ؟

(١) مؤتمر مدريد للسلام عام ١٩٩١ م.

(٢) اتفاقية أوسلو للسلام عام ١٩٩٣ م. (الجيزة ٢١)

١٠ قارن بين :

أهم نصوص قرار مجلس الأمن رقم ٢٤٢، وأهم نصوص معاهدة السلام عام ١٩٧٩ م.

١١ أيد بالأدلة التاريخية صحة كل عبارة من العبارات الآتية :

(١) تعتبر زيارة الرئيس السادات لإسرائيل عام ١٩٧٧ م حدثًا تاريخيًا هامًا. (البحر الأحمر ١٠)

(٢) لعبت الولايات المتحدة الأمريكية دورًا في تحقيق السلام بين مصر وإسرائيل. (البحر الأحمر ١٠)

● تذكر ● فهم ● تطبيق ● مستويات عليا

(٣) التزمت مصر وإسرائيل بحل المنازعات بالطرق السلمية بعد عام ١٩٨٢م.

(٤) لتحقيق السلام وحل الصراع العربي / الإسرائيلي مزايا عديدة للدول العربية. (الغريبة ٢١)

١٢ حدد العلاقة بين :

(١) الرئيس كارتر، ومؤتمر كامب ديفيد.

(٢) قرار مجلس الأمن رقم ٢٤٢، ومعاهدة السلام ١٩٧٩م.

١٣ حدد تقييمك لدى مصداقية كل عبارة مما يأتي :

(١) استخدمت مصر عدة وسائل لاستعادة أراضيها المحتلة من إسرائيل.

(٢) التزمت مصر بالطرق القانونية لاستعادة أرضها كاملة بعد معاهدة السلام.

١٤ رتب الأحداث التاريخية الآتية من القديم إلى الحديث :

(.....) معاهدة السلام بين مصر وإسرائيل.

(.....) عقد مؤتمر مدريد.

(.....) مبادرة الرئيس السادات لزيارة إسرائيل.

(.....) استعادة مصر طابا.

(.....) عقد مؤتمر كامب ديفيد.

(.....) عقد اتفاقية أوسلو.

١٥ اختر الإجابة الصحيحة مما بين القوسين :

يُعد مبدأ الأرض مقابل السلام من أسس
حل الصراع العربي / الإسرائيلي.

(١) في ضوء النص المقابل نستنتج أن الأراضي المقصودة
هي التي استولت عليها إسرائيل كأحد نتائج

(العدوان الثلاثي ١٩٥٦م - قرار التقسيم عام ١٩٤٧م -

عدوان ٥ يونيو ١٩٦٧م - حرب فلسطين ١٩٤٨م)

(٢) تمكنت مصر في مارس ١٩٨٩م من السيطرة الكاملة على الشريط الساحلي

(الشرق لخليج السويس - الشرق لخليج العقبة - الغرب لخليج العقبة -

الغرب لخليج السويس)

١٦ بم تفسر : استحق الرئيس السادات لقب رجل الحرب والسلام ؟

١٧ دلل تاريخيًا على صحة العبارة الآتية : لم تسعى مصر أبدًا لتحقيق سلامًا منفردًا مع إسرائيل.



ثورتا ٢٥ يناير ٢٠١١ م و ٣٠ يونيه ٢٠١٣ م

الدرس الخامس



قام الشعب المصرى بثورتين متتاليتين (ثورة ٢٥ يناير ٢٠١١ م وثورة ٣٠ يونيه ٢٠١٣ م) مما يؤكد على حرصه على تحقيق كل أمانيه فى رؤية بلده دولة قوية رائدة بين دول العالم،
فما هى الأسباب التى أدت إلى قيام الثورتين ؟ وما النتائج التى حققتها كل منهما ؟

فى هذا الدرس نتعرف

ثانيًا

ثورة
٣٠ يونيه ٢٠١٣ م

أولًا

ثورة
٢٥ يناير ٢٠١١ م

أولا ثورة ٢٥ يناير ٢٠١١ م

* تُعد ثورة ٢٥ يناير ٢٠١١ م من الثورات الفريدة في التاريخ المصرى الحديث والمعاصر حيث ساهمت التكنولوجيا المتطورة ووسائل الاتصال في اندلاع الثورة لتشمل شتى أنحاء البلاد وتمثلت هذه الوسائل في :



• الشبكة الدولية للمعلومات (الإنترنت).



• مواقع التواصل الاجتماعى (الفيس بوك وغيره).

* لم تكن ثورة ٢٥ يناير ٢٠١١ م وليدة هذا التاريخ بل كانت هناك حركات سياسية احتجاجية سبقتها، ومهدت لها.

أسباب قيام الثورة

١ تدهور الأوضاع الاقتصادية بسبب :

معلومة إثرائية

* الانفتاح الاقتصادى :

هو تغير شامل فى النظم والسياسات الاقتصادية، من أبرز ملامحه التحول عن نظام التخطيط الشامل واستبداله ببرامج سنوية تقوم على تشجيع القطاع الخاص والمستثمرين الأجانب على المشاركة فى التنمية الاقتصادية للدولة من خلال إنشاء المشروعات الخاصة.

* الخصخصة :

تعنى عملية التحول من الاعتماد على القطاع العام إلى القطاع الخاص، سواء ملكية أو إدارة، وإعطاء دور فعال للقطاع الخاص فى الحياة الاقتصادية للمجتمع.

* اتباع سياسة الانفتاح الاقتصادى دون ضوابط علمية.
* التطبيق غير السليم لسياسة الخصخصة حيث تم بيع مؤسسات الدولة بأقل من سعرها الحقيقى لصالح فئة معينة من رجال الأعمال، مما أدى إلى :
• ارتفاع الأسعار.

• تجمع آلاف العاملين (بعد خروجهم بنظام التقاعد المبكر) وانضمامهم لصفوف البطالة من الشباب فى وقفات احتجاجية.

٢ سوء الأوضاع الاجتماعية

بسبب زيادة الفوارق الاجتماعية بين طبقات المجتمع وغياب العدالة الاجتماعية فى توزيع الثروات.

٣ تدهور الأحوال الصحية والخدمية والتعليمية

٤ استمرار العمل بقانون الطوارئ

وذلك منذ تولى الرئيس مبارك الحكم فى أكتوبر ١٩٨١ م.

٥ تزوير الانتخابات البرلمانية لمجلس الشعب عام ٢٠١٠ م

حيث حصل الحزب الوطنى الحاكم على ٩٧٪ من المقاعد وبهذا خلا المجلس من أى معارضة وطنية تذكر.

أحداث الثورة

* تطورت الأحداث في ثورة ٢٥ يناير ٢٠١١م تطورًا سريعًا مما أدى إلى نجاحها، ويتضح ذلك فيما يلي :

البداية

اختيار يوم ٢٥ يناير ٢٠١١م بداية للاحتجاج والتظاهر السلمي.

المكان

اتخذت الميادين العامة بالقاهرة (ميدان التحرير) (*) والإسكندرية والسويس والمنصورة ومعظم ميادين المدن المصرية مكانًا للتظاهر.

استمرار الثورة

استمرت الثورة ثمانية عشر يومًا حدثت خلالها أحداث كثيرة أهمها :

• الاضطراب الأمني الشديد، والذي قابله المجتمع المصري بكل فئاته بتشكيل ما عُرف باللجان الشعبية (في الميادين والشوارع والحارات) **بم تفسر؟** بهدف :

- حماية المنشآت والمناطق.

- مواجهة أعمال السرقة والحرق والترويع.

• الاستعانة بالقوات المسلحة المصرية **بهدف :**

- حماية وتأمين الممتلكات (العامة والخاصة).

- المحافظة على أمن المواطنين.

موقف النظام

* قام نظام مبارك باتخاذ بعض الإجراءات لامتناس غضب الجماهير أثناء الثورة **دلل؟** حيث تم :

• تعيين نائب للرئيس وتفويض صلاحيات رئيس الجمهورية إليه.

• تشكيل حكومة جديدة.

لكن هذه المحاولات لم تمنع استمرار المظاهرات



(*) ميدان التحرير: أكبر ميادين القاهرة، سُمى في بداية إنشائه باسم ميدان الإسماعيلية نسبة للخديو إسماعيل ثم تغير في الخمسينيات إلى اسمه الحالي نسبة إلى التحرر من الاستعمار.



نتائج الثورة

- * تخلى الرئيس الأسبق مبارك عن الرئاسة في ١١ فبراير ٢٠١١ وتسليم إدارة شئون البلاد للمجلس الأعلى للقوات المسلحة (*)، فخرجت الملايين من الجماهير تحتفل بهذا الحدث التاريخي. هكذا... أثبتت أحداث ووقائع الثورة :
- مدى إصرار الشعب المصري على الاستمرار من أجل تحقيق مطالبه.
- أن الجيش المصري قوة مساندة للشعب وليس أداة لدى النظام لقمع المتظاهرين وإجهاض الثورة.

١ تدريب

١ اكتب كلمة (صواب) أمام العبارة الصحيحة، وكلمة (خطأ) أمام العبارة غير الصحيحة، مع التصويب :

- (١) زيادة الفوارق الاجتماعية بين طبقات المجتمع من أسباب قيام ثورة ٢٥ يناير ٢٠١١. ☐
- (٢) شهدت سنوات حكم مبارك توقف العمل بقانون الطوارئ. ☐
- (٣) نتج عن الانتخابات البرلمانية لمجلس الشعب عام ٢٠١٠ وجود معارضة وطنية داخل المجلس. ☐
- (٤) اختار شباب الثورة يوم ٢٥ يناير ٢٠١١ بداية للتظاهر السلمي. ☐
- (٥) قام مبارك بتفويض صلاحياته لنائبه لامتناس غضب الجماهير فتوقفت المظاهرات. ☐

٢ بم تفسر... ؟ (١) تدهور الأوضاع الاقتصادية في مصر قبل ثورة ٢٥ يناير ٢٠١١.

(٢) قيام الشعب بتشكيل اللجان الشعبية أثناء ثورة ٢٥ يناير ٢٠١١.

(٣) الاستعانة بالقوات المسلحة المصرية أثناء ثورة ٢٥ يناير ٢٠١١.

٣ ما النتائج التي ترتبت على : ثورة ٢٥ يناير ٢٠١١ ؟

ثانياً ثورة ٣ يونيو ٢٠١٣ م

مقدمات الثورة

- * تولى محمد مرسي مرشح حزب الحرية والعدالة حكم البلاد نتيجة فوزه في انتخابات رئاسة الجمهورية عام ٢٠١٢ م.
- * لم تحقق السياسات الجديدة للدولة حلول للمشكلات التي يعاني منها غالبية الشعب المصري خاصة :
 - العدالة الاجتماعية.
 - استمرار سوء الأحوال الاقتصادية.

(*) المجلس الأعلى للقوات المسلحة : يتألف من قادة الفروع العسكرية الرئيسية في الجيش المصري برئاسة وزير الدفاع (القائد العام للقوات المسلحة)، ويُعد رئيس الجمهورية بحكم منصبه القائد الأعلى للقوات المسلحة.

أحداث الثورة

- * حفاظًا على الأمن العام للدولة تدخلت القوات المسلحة، وأعلنت بيانًا في ٢٣ يونيو ٢٠١٣ حيث :
 - وضحت فيه : أن المسؤولية الوطنية والأخلاقية للقوات المسلحة تجاه الشعب تحتم التدخل لمنع انزلاق مصر في نفق مظلم من الصراع والاقتتال والفتنة الطائفية.
 - دعت فيه : إلى إيجاد صيغة تفاهم وتوافق ومصالحة حقيقية لحماية مصر وشعبها خلال أسبوع.
- * رفض الرئيس الأسبق محمد مرسي الموافقة على إجراء انتخابات رئاسية مبكرة وكذلك رفضت المعارضة دعوته إلى الحوار.
- * خرجت جموع الشعب المصري في أعداد هائلة إلى الميادين والشوارع في ثورة جديدة يوم ٣٠ يونيو ٢٠١٣ للتعبير عن رأيها في التغيير.

نتائج الثورة



- * عزل محمد مرسي في الثالث من يوليو ٢٠١٣ وتسليم السلطة إلى المستشار عدلي منصور رئيس المحكمة الدستورية العليا حين إجراء انتخابات رئاسية مبكرة وتعديل دستور ٢٠١٢.
- * صدر دستور جديد في يناير ٢٠١٤، ثم عُقدت انتخابات الرئاسة وأعلن فوز المرشح عبدالفتاح السيسي.

وبذلك بدأت صفحة جديدة من تاريخ مصر الحديث يتطلع فيها الشعب المصري إلى تحقيق طموحاته في تطبيق الديمقراطية وإقامة العدالة الاجتماعية، وأصبحت مصر تسير خطوات جادة نحو التقدم والازدهار في كافة المجالات

٢ تدريب

١ بم تفسر... ؟

(١) قيام ثورة ٣٠ يونيو ٢٠١٣.

(٢) إعلان القوات المسلحة بيان ٢٣ يونيو ٢٠١٣.

٢ ما النتائج التي ترتبت على : ثورة ٣٠ يونيو ٢٠١٣ ؟

أهم نقاط الدرس

ثورة
٢٥ يناير
٢٠١١م

أسبابها

- ١- تدهور الأوضاع الاقتصادية **بسبب** :
 - اتباع سياسة الانفتاح الاقتصادي دون ضوابط علمية.
 - التطبيق غير السليم لسياسة الخصخصة.
- ٢- سوء الأوضاع الاجتماعية وذلك **بسبب** زيادة الفوارق الاجتماعية بين طبقات المجتمع وغياب العدالة الاجتماعية في توزيع الثروات.
- ٣- تدهور الأحوال الصحية والخدمات والتعليمية.
- ٤- استمرار العمل بقانون الطوارئ.
- ٥- تزوير الانتخابات البرلمانية لمجلس الشعب عام ٢٠١٠م حيث حصل الحزب الوطني على ٩٧٪ من المقاعد.

نتائجها

- * تخلى الرئيس الأسبق مبارك عن رئاسة مصر في ١١ فبراير ٢٠١١م وقام بتسليم إدارة شؤون البلاد للمجلس الأعلى للقوات المسلحة.

مقدماتها

- * لم تحقق السياسات الجديدة للدولة حلول للمشكلات التي يعاني منها غالبية الشعب المصري **خاصة** :
 - العدالة الاجتماعية.
 - استمرار سوء الأحوال الاقتصادية.

ثورة
٣٠ يونيو
٢٠١٣م

نتائجها

- ١- عزل محمد مرسى في ٣ يوليو ٢٠١٣م وتسليم السلطة للمستشار عدلي منصور رئيس المحكمة الدستورية العليا حين إجراء انتخابات رئاسية مبكرة وتعديل دستور ٢٠١٢م.
- ٢- صدور دستور جديد في يناير ٢٠١٤م، ثم عقدت انتخابات الرئاسة وأعلن فوز المرشح **عبد الفتاح السيسي**.



١ اختر الإجابة الصحيحة مما بين القوسين :

- (١) تعددت الأسباب التي أدت إلى انفجار ثورة ٢٥ يناير ٢٠١١ ومنها
- () خلو مجلس الشعب ٢٠١٠م من أى معارضة - إدخال تعديلات على قانون الطوارئ - إلغاء الدستور والانفراد بالحكم - تجريم وجود أى معارضة فكرية)
- (٢) كانت أولى قرارات نظام مبارك لامتناس غصب الجماهير فى ثورة ٢٥ يناير ٢٠١١م
- () تعيين نائب للرئيس - تشكيل حكومة جديدة - الاستعانة بالقوات المسلحة - تخليه عن الرئاسة)
- (٣) تنحى الرئيس مبارك عن الرئاسة وتسلم إدارة البلاد.
- () رئيس المحكمة الدستورية العليا - المجلس الأعلى للقوات المسلحة - رئيس مجلس الشعب - رئيس مجلس الشورى)
- (٤) عقدت انتخابات رئاسية مبكرة فى عام ٢٠١٤م فى عهد الرئيس
- () مبارك - محمد مرسى - عدلى منصور - عبدالفتاح السيسى)

٢ أكمل العبارات الآتية بما يناسبها :

- (١) أطاحت ثورة ٢٥ يناير ٢٠١١م بالرئيس
- (٢) فاز مرشح حزب الحرية والعدالة فى الانتخابات الرئاسية عام ٢٠١٢م.
- (٣) أكدت الأحداث أن قوة مساندة للشعب فى ثورة ٢٥ يناير ٢٠١١م. (الإسكندرية ١٦)

٣ اكتب كلمة (صواب) أمام العبارة الصحيحة، وكلمة (خطأ) أمام العبارة غير الصحيحة، مع التصويب :

- (١) ساهمت مواقع التواصل الاجتماعى فى اندلاع ثورة ٢٥ يناير ٢٠١١م. (أسبوط ٢١) ()
- (٢) كانت ثورة ٢٥ يناير ٢٠١١م وليدة هذا التاريخ. ()
- (٣) التطبيق السليم لسياسة الخصخصة أدى إلى ارتفاع الأسعار فى المجتمع المصرى. (الدقهلية ١٨) ()

- (٤) من الأسباب الاقتصادية لقيام ثورة ٢٥ يناير ٢٠١١ م استمرار العمل بقانون الطوارئ. (الشرقية ١٣) ()
- (٥) من عوامل قيام ثورة ٢٥ يناير ٢٠١١ م سوء الأحوال الصحية في مصر. ()
- (٦) اتخذت الميادين العامة في القاهرة والمحافظات مكاناً للتظاهر السلمي أثناء ثورة ٢٥ يناير ٢٠١١ م. ()
- (٧) شكّل المجتمع المصري بكل فئاته ما عُرف باللجان الشعبية أثناء ثورة ٢٥ يناير ٢٠١١ م. (قنا ١٨) ()
- (٨) نجح نظام مبارك في امتصاص غضب الجماهير خلال أحداث ثورة ٢٥ يناير ٢٠١١ م. ()
- (٩) كانت ثورة ٣٠ يونيو ٢٠١٣ م خطوة مهمة لتحقيق التنمية والتقدم. ()
- (١٠) تسلم السلطة في ٣ يوليو ٢٠١٣ م المستشار عدلى منصور رئيس المحكمة الدستورية العليا. (القاهرة ١٩) ()

٤ اكتب المصطلح التاريخي لكل عبارة مما يأتي :

- (١) سياسة اقتصادية طُبقت في مصر دون ضوابط علمية حتى يناير ٢٠١١ م. (سوهاج ١٤) (.....)
- (٢) قانون استمر العمل به منذ تولى مبارك الحكم وكان أحد أسباب قيام ثورة ٢٥ يناير ٢٠١١ م. (.....)

٥ بم تفسر ... ؟

- (١) ولدت ثورة ٢٥ يناير ٢٠١١ م قبل تاريخ قيامها.
- (٢) قيام الشعب المصري بثورة ٢٥ يناير ٢٠١١ م. (الشرقية ١٨)
- (٣) تدهور الأوضاع الاقتصادية في مصر قبل ثورة ٢٥ يناير ٢٠١١ م. (المنيا ٢١)
- (٤) تجمع آلاف العاملين وانضمامهم لصفوف البطالة قبل ثورة ٢٥ يناير ٢٠١١ م.

(٥) سوء الأوضاع الاجتماعية قبل ثورة ٢٥ يناير ٢٠١١م. (الغريبة ٢١)

(٦) اعتبار الانتخابات البرلمانية عام ٢٠١٠م مخالفة لإرادة الشعب المصري.

(٧) تشكيل الشعب المصري لما عُرف باللجان الشعبية أثناء ثورة ٢٥ يناير ٢٠١١م. (بورسعيد ٢١)

(٨) أهمية يوم ١١ فبراير ٢٠١١م في حياة الشعب المصري.

(٩) يُعد الجيش المصري الضامن لثورتي ٢٥ يناير ٢٠١١م و٣٠ يونيو ٢٠١٣م. (أسيوط ١٨)

(١٠) قيام ثورة ٣٠ يونيو ٢٠١٣م. (ج. سيناء ١٦)

(١١) إصدار القوات المسلحة بيان ٢٣ يونيو ٢٠١٣م.

٦ ما النتائج التي ترتبت على ... ؟

(١) التطبيق غير السليم لسياسة الخصخصة قبل ثورة ٢٥ يناير ٢٠١١م. (القاهرة ٢١)

(٢) تزوير الانتخابات البرلمانية لمجلس الشعب عام ٢٠١٠م.

(٣) حدوث اضطراب أمني أثناء أحداث ثورة ٢٥ يناير ٢٠١١م.

(٤) ثورة ٢٥ يناير ٢٠١١م. (المنيا ٢١)

(٥) ثورة ٣٠ يونيو ٢٠١٣م. (القليوبية ١٨)

٧ ما العلاقة بين ... ؟

(١) التكنولوجيا المتطورة لوسائل الاتصال، وثورة ٢٥ يناير ٢٠١١م. (البحيرة ١٥)

.....

.....

(٢) سياسة الخصخصة في مصر، والأوضاع الاقتصادية قبل ثورة ٢٥ يناير ٢٠١١م.

.....

.....

٨ دلل تاريخياً على صحة العبارة الآتية :

حافظ الشعب المصرى على أمن البلاد أثناء ثورة ٢٥ يناير ٢٠١١م.

.....

٩ ماذا كان يحدث إذا ... ؟

(١) لم يتم الاستعانة بالقوات المسلحة خلال أحداث ثورة ٢٥ يناير ٢٠١١م.

.....

(٢) لم تصدر القوات المسلحة بيان ٢٣ يونيو ٢٠١٣م.

.....

١٠ «تجمعت العديد من الأسباب التي مهدت لاندلاع ثورة ٢٥ يناير ٢٠١١م».

في ضوء هذه العبارة، وضع :

(١) دور الانتخابات البرلمانية عام ٢٠١٠م في قيام ثورة ٢٥ يناير ٢٠١١م.

.....

.....

(٢) دور القوات المسلحة المصرية في ثورة ٢٥ يناير ٢٠١١م. (كفر الشيخ ٢١)

.....

.....

أسئلة للتمييز ؟

١١ اختر الإجابة الصحيحة مما بين القوسين :

- (١) افتقدت سياسة الانفتاح الاقتصادي قبل ثورة ٢٥ يناير ٢٠١١م إلى
- (العدالة الاجتماعية - التنوع في الإنتاج - الأسس العلمية - المشاركة الشعبية)
- (٢) تولى حكم مصر بعد الثالث من يوليو ٢٠١٣م أحد أفراد السلطة
- (القضائية - العسكرية - التشريعية - التنفيذية)

١٢ اكتب كلمة (صواب) أمام العبارة الصحيحة، وكلمة (خطأ) أمام العبارة غير الصحيحة، مع التصويب :

- (١) عبرت بعض الوقفات الاحتجاجية التي سبقت ثورة ٢٥ يناير ٢٠١١م عن مطالب
- عدد كبير من العمال. (٢٠١٠م، ٥٦ في هذا الشأن، كليب، ما رأت في مصر بعد ١١ يناير ٢٠١١م) ()
- (٢) تجاوزت الحكومة المصرية بشكل سريع مع حركة المعارضة الشعبية قبل يناير ٢٠١١م. ()

١٣ دلل على صحة العبارة الآتية : ٥٦ في هذا الشأن، كليب، ما رأت في مصر بعد ١١ يناير ٢٠١١م

كانت السياسة الحزبية محركاً أساسياً لثورة ٢٥ يناير ٢٠١١م.

مشروع بحثي مقترح

على الوحدة الثالثة

لفلسطين أهمية خاصة في قلب كل عربي، فقد وُلد فيها السيد المسيح ﷺ وإليها أُسرى بسيدنا محمد ﷺ وبها المسجد الأقصى أولى القبلتين وثالث الحرمين، من خلال دراستك قم بعمل مشروع بحثي يتضمن ما يلي :

* المقصود بوعد بلفور وأسباب اهتمام بريطانيا بفلسطين، والنتائج المترتبة على الانتداب البريطاني على فلسطين.

* أهم الحروب العربية الإسرائيلية والنتائج المترتبة على كل منها موضوعًا ذلك بالخرائط.

* أهمية حرب الاستنزاف ١٩٦٩م ، ١٩٧٠م وحرب أكتوبر ١٩٧٣م في الصراع العربي / الإسرائيلي.

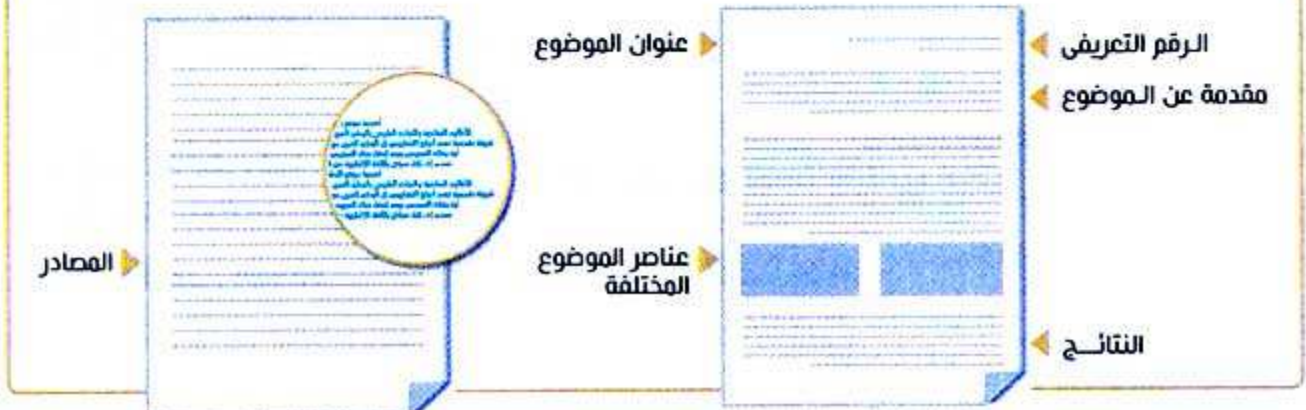
* دور مصر كدولة داعية للسلام.

* خطأ زمنيًا يوضح الأحداث التاريخية المرتبطة بالقضية الفلسطينية.

* خمسة أسطر باللغة الأجنبية الأولى عن أهمية السلام في المنطقة العربية.

الإرشادات العامة

محاور المشروع



الحياة السياسية وعلاقات مصر الدولية

الوحدة 4

أهداف الوحدة

فى نهاية دراسة هذه الوحدة يتوقع أن يكون التلميذ قادرًا على أن :

- يقارن بين مراحل تطور الحياة النيابية فى مصر قبل وبعد الاحتلال البريطانى.
- يحدد مراحل تطور الحياة النيابية فى مصر بعد ثورة ٢٣ يوليو ١٩٥٢ م.
- يعدد سلطات الحكم فى مصر على ضوء الدستور الدائم عام ١٩٧١ م.
- يقارن بين مراحل تطور الحياة الحزبية فى مصر قبل وبعد ثورة ١٩١٩ م.
- يصف دور الأحزاب فى العمل الوطنى خلال كل مرحلة من مراحل تطور الحياة الحزبية فى مصر.
- يقارن بين تطور الحياة الحزبية والدور الوطنى للأحزاب بعد ثورة ١٩١٩ م، وثورة ٢٣ يوليو ١٩٥٢ م.
- يعدد بالأمثلة الأدوار التى قامت بها المرأة المصرية فى العمل الوطنى خلال تطور الحياة النيابية وتطور الحياة الحزبية فى مصر.
- يحدد دور منظمات المجتمع المدنى ودورها فى العمل الوطنى.
- يقيم دور مصر فى المنظمات الإقليمية والدولية.
- يقارن بين أهداف جامعة الدول العربية وأهداف الأمم المتحدة.
- يعدد أهداف بعض الأجهزة الرئيسة التابعة للأمم المتحدة.
- يقارن بين دور مصر فى إنشاء الاتحاد الأفريقى وإنشاء منظمة المؤتمر الإسلامى وأهداف كل منهما.

الحياة النيابية والحزبية ودور المرأة فى العمل الوطنى.
مصر والمنظمات الإقليمية والدولية.

الدرس الأول

الدرس الثانى



- أسئلة تفاعلية
- أسئلة الكتاب المدرسى
- أسئلة للتميز.
- أسئلة من امتحانات المحافظات.
- على الوحدة الرابعة.

أسئلة
كل درس تشمل



مشروع بحثى
مقترح



كتاب المراجعة والامتحانات

مفكرة الامتحان

انظر

- مراجعة على كل درس
- وأسئلة عامة على الوحدة
- مراجعة على الوحدة

الدرس الأول الحياة النيابية والحزبية ودور المرأة فى العمل الوطنى.

من المتوقع بعد الانتهاء من الدرس أن يكون التلميذ قادرًا على أن :



- يحدد مراحل تطور الحياة النيابية فى مصر.
- يحدد سلطات الحكم فى مصر فى ضوء الدستور الدائم ١٩٧١م.
- يقيم دور المرأة فى الحياة النيابية فى مصر.
- يتتبع مراحل تطور الحياة النيابية فى مصر ودورها فى تحقيق الوحدة الوطنية والسلام الاجتماعى.
- يحدد مراحل تطور الحياة الحزبية فى مصر.
- يقارن بين مراحل تطور الحياة الحزبية فى مصر من حيث عدد الأحزاب وأسباب نشأتها وزعماءها.
- يقارن بين مراحل تطور العمل الوطنى للمرأة المصرية ودورها فى حرية وتقديم الوطن.
- يوضح أساليب وإجراءات تعزيز دور المرأة فى المجتمع.
- يقيم منظمات المجتمع المدنى ودورها فى العمل الوطنى.
- يعطى فكرة عن تعميق مشاركة المرأة فى الحياة الاجتماعية.

الدرس الثانى مصر والمنظمات الإقليمية والدولية.

من المتوقع بعد الانتهاء من الدرس أن يكون التلميذ قادرًا على أن :



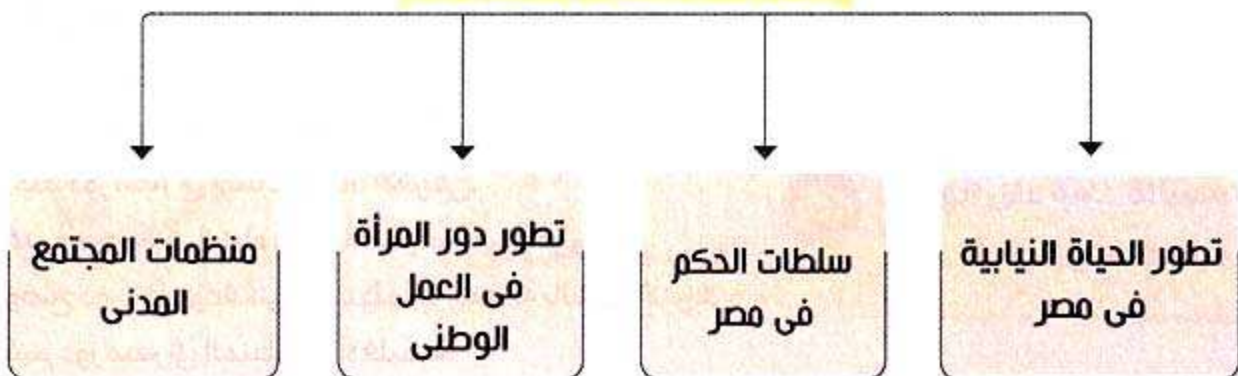
- يعطى فكرة موجزة عن إنشاء جامعة الدول العربية.
- يعدد دور مصر فى إنشاء جامعة الدول العربية.
- يستخلص الهدف من إنشاء جامعة الدول العربية.
- يحدد الهيكل التنظيمى لجامعة الدول العربية.
- يحدد الهيكل التنظيمى للأمم المتحدة.
- يوضح أهداف الأمم المتحدة.
- يقارن بين أهداف الأجهزة الرئيسة للأمم المتحدة.
- يعطى فكرة عن المنظمات الفرعية التابعة للأمم المتحدة.
- يحدد دور مصر فى إنشاء حركة عدم الانحياز.
- يحدد أهداف إنشاء حركة عدم الانحياز.
- يحدد دور مصر فى إنشاء الاتحاد الأفريقى.
- يقدر دور مصر فى إنشاء منظمة المؤتمر الإسلامى.
- يوضح دور مصر وعلاقتها بالمنظمات المعنية بالشأن الأفريقى.
- يقيم دور مصر فى المنظمات الإقليمية.



كافح الشعب المصري خلال مراحل التاريخ المختلفة من أجل الاستقلال والدستور والحرية،

- ما هي المراحل التي مرت بها الحياة النيابية في مصر ؟
- ما هي سلطات الحكم في مصر ؟
- كيف تطور دور المرأة في العمل الوطني ؟
- ما المقصود بمنظمات المجتمع المدني ؟

في هذا الدرس نتعرف





ما المقصود بـ: الحياة النيابية ؟

قيام الشعب بانتخاب ممثلين لإدارة شئون الحكم فى البلاد وسن القوانين ومراقبة أعمال الحكومة نيابة عنه.



محمد على باشا



الخديو إسماعيل

تطور الحياة النيابية فى مصر

مرت الحياة النيابية فى مصر بمراحل عديدة.

١ مرحلة ما قبل الاحتلال البريطانى

أنشئت خلال هذه الفترة عدة مجالس نيابية صورية لا سلطة لها، كما يلى :

أ عصر محمد على (١٨٠٥م : ١٨٤٨م)

* أنشأ محمد على عدة مجالس استشارية لا سلطة لها، ومنها :

• مجلس المشورة.

• المجلس العالى.

ب عصر الخديو إسماعيل (١٨٦٣م : ١٨٧٩م)

* أنشأ إسماعيل مجلس شورى النواب فى ديسمبر ١٨٦٦م.

٢ مرحلة عصر الاحتلال البريطانى

قسمت هذه الفترة إلى مرحلتين، هما :

المرحلة الأولى (من بداية الاحتلال ١٨٨٢م حتى اندلاع الحرب العالمية الأولى ١٩١٤م)

* فى عام ١٨٨٣م تم إنشاء مجلسين استشاريين، هما :

• مجلس شورى القوانين.

* فى عام ١٩١٣م تم إنشاء الجمعية التشريعية.

المرحلة الثانية (من عام ١٩٢٣م حتى قيام ثورة ٢٣ يوليو ١٩٥٢م)

* صدر دستور ١٩٢٣م، والذى تضمن :

• حرية تكوين الأحزاب السياسية.

• إنشاء برلمان يمثل السلطة التشريعية، والذى تكون من مجلسين، هما :

- مجلس النواب.

- مجلس الشيوخ.

ما المقصود بـ: برلمان ؟

يُطلق على المجالس النيابية التى تتولى السلطة التشريعية فى الدولة.

ما المقصود بـ: دستور ؟

الوثيقة الرسمية التى تحدد نظام الحكم فى الدولة وتحدد شكل واختصاصات المؤسسات الدستورية المختلفة.

٣ مرحلة ما بعد ثورة ٢٣ يوليو ١٩٥٢م

* قامت الثورة بـ:

- إلغاء دستور ١٩٢٣م.
- حل الأحزاب السياسية التي كانت قائمة قبل الثورة.
- * تطورت الحياة النيابية خلال عهد رؤساء مصر، كما يلي:

أ عهد الرئيس جمال عبدالناصر (١٩٥٤م : ١٩٧٠م)

* صدر أول دستور لمصر بعد الثورة وهو دستور ١٩٥٦م، والذي نص على أن السلطة التشريعية تكون في يد مجلس منتخب هو مجلس الأمة (مجلس النواب حالياً) الذي تشكل في يوليو ١٩٥٧م.

ب عهد الرئيس السادات (١٩٧٠م : ١٩٨١م)

* صدر دستور عام ١٩٧١م أطلق عليه

(الدستور الدائم) **بم تفسر؟**

ليؤكد على:

- سيادة القانون.
- استقلال القضاء.
- إقرار مبادئ التعددية الحزبية.

تذكر أن!

كان صدور دستور ١٩٧١م من إجراءات تهيئة وإعداد الجبهة الداخلية قبل حرب أكتوبر ١٩٧٣م.

سلطات الحكم في مصر

* تتمثل سلطات الحكم بمصر في أربع سلطات يوضحها الشكل التالي :





١ تدريب

١ اخترا الإجابة الصحيحة مما بين القوسين :

- (١) يمثل السلطة التشريعية في مصر.....
(مجلس النواب - مجلس الوزراء - الإدارة المحلية - المحاكم)
- (٢) أنشأ محمد علي مجلس.....
(الأمة - المشورة - الشيوخ - شورى النواب)
- (٣) تم إنشاء مجلس استشارى عام ١٩١٣م فى عصر الاحتلال البريطانى تمثل فى.....
(مجلس شورى القوانين - الجمعية التشريعية - مجلس النواب - المجلس العالى)
- (٤) شهد عهد الرئيس جمال عبدالناصر إنشاء.....
(مجلس الأمة - مجلس شورى القوانين - مجلس الشيوخ - المجلس العالى)
- (٥) صدر الدستور الدائم عام ١٩٧١م فى عهد الرئيس.....
(جمال عبدالناصر - حسنى مبارك - أنور السادات - محمد نجيب)

٢ صوب ما تحته خط :

- (١) رئيس الدولة هو رئيس السلطة التشريعية. (.....)
- (٢) تتمثل السلطة التنفيذية فى المحاكم على اختلاف أنواعها. (.....)

٣ اكتب المصطلح التاريخى لكل عبارة مما يأتى :

- (١) قيام الشعب بانتخاب ممثلين لإدارة شئون الحكم فى البلاد وسن القوانين ومراقبة أعمال الحكومة نيابة عنه. (.....)
- (٢) وثيقة رسمية تحدد نظام الحكم فى الدولة. (.....)
- (٣) المجالس النيابية التى تتولى السلطة التشريعية فى الدولة. (.....)

تطور دور المرأة فى العمل الوطنى

* ارتبط تطور دور المرأة المصرية فى العمل الوطنى بقضايا اجتماعية طرحتها الصحافة والهيئات النيابية، والذي مر بعدة مراحل، كما يلى :

١ مرحلة ما قبل ثورة ١٩١٩ م

* بدأت هذه المرحلة فعليًا عندما استجاب الخديو إسماعيل لدعوة رفاة الطهطاوى بتعليم البنات فأنشأ أول مدرسة لتعليم البنات عام ١٨٧٣ م وهى **مدرسة السنية** (موجودة حاليًا بجى السيدة زينب).

* ساهمت المرأة فى تأسيس صحافة نسائية تتبنى القضايا النسائية وتدافع عن حقوق المرأة ومكانتها حيث ظهرت أول مجلة نسائية مصرية هى **الريحانة** فى فبراير ١٩٠٧ م والتي أصدرتها **جميلة حافظ** ثم تحولت إلى جريدة فى مارس ١٩٠٨ م.

٢ مرحلة ما بعد ثورة ١٩١٩ م حتى ثورة ٢٣ يوليو ١٩٥٢ م

* شهدت هذه المرحلة نهضة نسائية ودورًا رائدًا للمرأة فى مختلف المجالات، حيث :

- شاركت المرأة إلى جانب الرجل فى المظاهرات عقب نفي سعد زغلول (مارس ١٩١٩ م) بصورة لم يعهدها المجتمع المصرى من قبل.
- شكلت المرأة لجنة الوفد المركزية للسيدات عام ١٩٢٠ م وانتخبت **هدى شعراوى** رئيسًا لها.
- التحقت المرأة بالجامعة المصرية (جامعة القاهرة حاليًا) عام ١٩٢٨ م.



هدى شعراوى

معلومة إثرائية

هدى شعراوى : شاركت فى أول وفد عربى فى المؤتمر النسائى العالمى الذى عقد فى مدينة روما من خلال مؤسسة الاتحاد النسائى.



٣ مرحلة ما بعد ثورة ٢٣ يوليو ١٩٥٢م حتى الآن

* شهدت هذه المرحلة تحولات كبيرة ساعدت على ترسيخ مبدأ مشاركة المرأة في كافة المجالات السياسية والاقتصادية والاجتماعية، **وظهر ذلك في :**

أ الفترة من ١٩٥٢م إلى ١٩٧١م حيث :



حكمت أبو زيد

• حصلت المرأة على حق الانتخاب والترشح في دستور ١٩٥٦م، فأصبحت عضواً بالبرلمان المصري.

• تقلدت المرأة المناصب الوزارية فكانت **حكمت أبو زيد** أول وزيرة للشئون الاجتماعية عام ١٩٦٢م.



عائشة راتب

• شاركت المرأة في النقابات العمالية والمهنية والمنظمات غير الحكومية.

ب الفترة من ١٩٧١م إلى ١٩٨١م حيث :



آمال عثمان

• شغلت المرأة المناصب الوزارية حيث عين الرئيس السادات

الدكتورة **عائشة راتب** وزيرة للشئون الاجتماعية عام ١٩٧١م.

• شاركت المرأة في الحياة النيابية فشغلت **الدكتورة آمال عثمان** منصب رئيس اللجنة التشريعية بمجلس الشعب.

ج الفترة من ١٩٨١م حتى الآن

• إدراكاً من الدولة لمكانة المرأة، تم العمل على تدعيم مكانة المرأة على كافة المستويات **فأنشئ المجلس القومي للمرأة**، وتقلدت بعض الوظائف والمناصب المختلفة.

معلومة إثرائية

* تم تعيين أول **قاضية** بالمحكمة الدستورية العليا

في عام ٢٠٠٣م وهي **تهانى الجبالى**.

* تم تعيين أول **مأذونة شرعية** (في مصر والعالم الإسلامى)

في عام ٢٠٠٨م وهي **أمل سليمان عفيفى**.

* تم تعيين أول **عمدة امرأة** بإحدى قرى محافظة أسيوط

وهي **إيضا هاويل**.



أمل سليمان عفيفى



تهانى الجبالى



إيضا هاويل

منظمات المجتمع المدني

تضم جمعيات المجتمعات المحلية والمنظمات غير الحكومية، والنقابات العمالية والجمعيات الخيرية وغيرها.

* يعد دور منظمات المجتمع المدني مكمل للعمل الحكومي **دلل ؟**

حيث تُعد هذه المنظمات عناصر فاعلة في تقديم الخدمات الاجتماعية وتنفيذ برامج التنمية ويتضح ذلك من خلال الأنشطة التي تقوم بها، ومنها :

• تثقيف المواطنين وتعريفهم بالحقوق السياسية كالتصويت والانتخاب والترشح للمناصب السياسية.

• توضيح علاقة المواطن بالدولة وكيفية التعبير عن حقوقه وواجباته.

• توفير مناخ يحقق الوحدة الوطنية من خلال توعية الأفراد بنبذ العنف.

• تدعيم السياسة العامة للدولة ومواقفها من القضايا الدولية، مثل :

- حظر استخدام الألغام الأرضية. - محاربة الإرهاب. - حماية البيئة.

٢ تدريب

١ صوب ما تحته خط :

(١) أنتخبت جميلة حافظ رئيسًا للجنة الوفد المركزية للسيدات

عام ١٩٢٠م. (.....)

(٢) أصدرت حكمت أبو زيد أول مجلة نسائية مصرية عام ١٩٠٧م. (.....)

(٣) كانت هدى شعراوي أول وزيرة للشئون الاجتماعية عام ١٩٦٢م. (.....)

(٤) قام الرئيس السادات بتعيين آمال عثمان وزيرة للشئون الاجتماعية

عام ١٩٧١م. عائشة عبد الله (.....)

٢ دلل تاريخيًا على صحة كل عبارة من العبارتين الآتيتين :

(١) شهدت الفترة من ١٩١٩م وحتى ثورة ٢٣ يوليو ١٩٥٢م نهضة نسائية ودورًا رائدًا للمرأة المصرية.

.....

(٢) لمنظمات المجتمع المدني دور مكمل للعمل الحكومي في النواحي الاجتماعية والتنمية.

.....



للقراءة
فقط

مراحل الحياة الحزبية في مصر الحديثة

* يُعد ظهور الأحزاب السياسية في مصر تعبيراً عن تفاعلات اجتماعية واقتصادية وثقافية نتيجة لظروف تاريخية ووطنية وسياسية، وقد مرت الحياة الحزبية بثلاث مراحل، تتمثل في :

١ مرحلة ما قبل ثورة ١٩١٩ م (١٩٠٧ : ١٩١٤ م)

* في هذه المرحلة تم تأسيس عدة أحزاب سياسية، وأهم هذه الأحزاب :

- **الحزب الوطني** : وكان برئاسة مصطفى كامل.
- **حزب الأمة** : وكان فيلسوفه المفكر أحمد لطفي السيد.

٢ مرحلة ما بعد ثورة ١٩١٩ م (١٩٢٣ : ١٩٥٢ م)

* اتسمت هذه المرحلة بـ :

- وجود عدة أحزاب مثل : حزب الوفد، والأحرار الدستوريين، والهيئة السعدية.
- الصراعات الحزبية مما أدى إلى ضعف الأحزاب وعدم الاستقرار السياسي بسبب الصراع بين حزب الوفد والقصر الملكي أو بينه وبين سلطات الاحتلال البريطاني.

٣ مرحلة ما بعد ثورة ٢٣ يوليو ١٩٥٢ م : مرت هذه المرحلة بمرحلتين فرعيتين، هما :

أ مرحلة التنظيم السياسي الواحد (١٩٥٣ م : ١٩٧٦ م)

- * تم إنشاء تنظيم سياسي واحد هو ما عرف **بالاتحاد الاشتراكي**.
- * بعد أن تولى الرئيس السادات الحكم عام ١٩٧٠ م أصدر في :
- **مارس ١٩٧٦ م** قرار يسمح بقيام ثلاثة منابر للرأي تمثل اليمين واليسار والوسط.
- **نوفمبر ١٩٧٦ م** قرار بتحويل التنظيمات السياسية الثلاثة (المنابر) إلى أحزاب.

ب مرحلة تعددية الأحزاب

* الفترة من (١٩٧٧ : ١٩٨١ م) :

- * أصدر الرئيس السادات قانون الأحزاب السياسية في **يونيه ١٩٧٧ م** واشترط القانون لتأسيس أي حزب ما يلي :
- عدم تعارض مبادئه مع مبادئ الشريعة الإسلامية.
- الحفاظ على الوحدة الوطنية والسلام الاجتماعي والنظام الاشتراكي الديمقراطي.
- عدم قيام الحزب على أساس طبقي أو طائفي.
- * الفترة من (١٩٨١ : ٢٠١١ م) :

تم تخفيف القيود على النشاط الحزبي فبعد أن كان عددهم خمسة في عام ١٩٨١ م زادت حتى أصبح عدد الأحزاب ٢٤ حزباً.

أهم نقاط الدرس

تطور الحياة النيابية

١ مرحلة ما قبل الاحتلال البريطاني

- ١ عهد محمد علي : أنشأ عدة مجالس استشارية لا سلطة لها، ومنها :
مجلس المشورة .
المجلس العالي .
- ٢ عهد الخديو إسماعيل : أسس مجلس شورى النواب ديسمبر ١٨٦٦م .

٢ مرحلة عصر الاحتلال البريطاني

- قسمت إلى مرحلتين هما :
- ١ المرحلة الأولى (١٨٨٢م : ١٩١٤م) :
تم إنشاء مجلس شورى القوانين والجمعية العمومية عام ١٨٨٣م ،
والجمعية التشريعية عام ١٩١٣م .
 - ٢ المرحلة الثانية (١٩٢٣م : ١٩٥٢م) :
صدر دستور ١٩٢٣م ، والذي تضمن :
(١) حرية تكوين الأحزاب السياسية .
(٢) إنشاء برلمان يمثل السلطة التشريعية ، تكون من مجلسين هما :
مجلس النواب ومجلس الشيوخ .

٣ مرحلة ما بعد ثورة ٢٣ يوليو ١٩٥٢م

- ١ عهد الرئيس جمال عبدالناصر (١٩٥٤م : ١٩٧٠م) : أصدر دستور ١٩٥٦م .
- ٢ عهد الرئيس محمد أنور السادات (١٩٧٠م : ١٩٨١م) : أصدر دستور ١٩٧١م (الدستور الدائم) .

سلطات الحكم في مصر

- * رئيس الدولة .
- * السلطة التنفيذية .
- * السلطة التشريعية .
- * السلطة القضائية .

تطور دور المرأة في العمل الوطني

١ مرحلة ما قبل ثورة ١٩١٩م

- * تم إنشاء أول مدرسة لتعليم البنات (مدرسة السنية) والتي أسسها الخديو إسماعيل .
- * تم إنشاء أول مجلة نسائية وهي (الركائز) عام ١٩٠٧م والتي أصدرتها جميلة حافظ وتحوّلت إلى جريدة في ١٩٠٨م .

٢ مرحلة ما بعد ثورة ١٩١٩م حتى ثورة ٢٣ يوليو ١٩٥٢م

- * شاركت المرأة إلى جانب الرجل في المظاهرات وشكلت لجنة الوفد المركزية للسيدات عام ١٩٢٠م ، وكانت هدى شعراوي رئيسة لها .
- * التحقت المرأة بالجامعة المصرية عام ١٩٢٨م .

٣ مرحلة ما بعد ثورة ٢٣ يوليو حتى الآن

- ١ الفترة من (١٩٥٢م : ١٩٧١م) :
حصلت المرأة على حق الانتخاب والترشيح في دستور ١٩٥٦م فأصبحت عضواً بالبرلمان المصري .
تقلدت المرأة المناصب الوزارية فكانت حكمت أبو زيد أول وزيرة للشئون الاجتماعية عام ١٩٦٢م .
شاركت في انتخابات العمالية والهنئية والمنظمات غير الحكومية .
- ٢ الفترة من (١٩٧١م : ١٩٨١م) :
شغلت المرأة المناصب الوزارية فتم تعيين عائشة راتب وزيرة للشئون الاجتماعية عام ١٩٧١م .
شاركت المرأة في الحياة النيابية فشغلت آمال عثمان منصب رئيس اللجنة التشريعية بمجلس الشعب .
- ٣ الفترة من ١٩٨١م حتى الآن :
تم إنشاء المجلس القومي للمرأة وتقلدت بعض الوظائف والمناصب المختلفة .

منظمات المجتمع المدني

- تقوم بـ :
• تثقيف المواطنين وتعريفهم بالحقوق السياسية .
• توضيح علاقة المواطن بالدولة وكيفية التعبير عن حقوقه واجباته .
• توفير مناخ يحقق الوحدة الوطنية .
• تدعيم السياسة العامة للدولة ومواقعها من القضايا الدولية .



١ اخترا الإجابة الصحيحة مما بين القوسين :

- (١) تم إقرار مبادئ التعددية الحزبية وفق الدستور الدائم ١٩٧١م في عهد الرئيس
(محمد حسنى مبارك - جمال عبدالناصر - محمد نجيب - محمد أنور السادات)
- (٢) أنشئ في عهد محمد على
(المجلس العالى - مجلس الشيوخ - مجلس شورى النواب - مجلس شورى القوانين) (سوهاج ١٩)
- (٣) أنشأ الخديو إسماعيل
(الجمعية التشريعية - مجلس المشورة - مجلس شورى النواب - مجلس الشيوخ)
- (٤) صدر دستور ١٩٥٦م في عهد الرئيس
(محمد نجيب - جمال عبدالناصر - أنور السادات - حسنى مبارك) (الإسكندرية ١٢)
- (٥) نص دستور ١٩٥٦م على أن السلطة التشريعية تكون في يد مجلس
(المشورة - شورى القوانين - الشيوخ - الأمة) (البحيرة ٢١)
- (٦) رئيس الدولة هو رأس السلطة التنفيذية التى تضم الإدارة المحلية و
(مجلس النواب - الحكومة - القضاء - الجيش)
- (٧) يمثل حاليًا السلطة التشريعية في مصر
(مجلس النواب - رئيس الجمهورية - الإدارة المحلية - الحكومة)
- (٨) تم إنشاء أول مدرسة لتعليم البنات عام ١٨٧٣م استجابةً لدعوة
(رفاعة الطهطاوى - أحمد لطفى السيد - مصطفى كامل - سعد زغلول) (الجيزة ١٨)
- (٩) أنشئت مدرسة السنية للبنات في عهد
(محمد على - إسماعيل - السادات - جمال عبدالناصر)
- (١٠) استطاعت المرأة الدفاع عن حقوقها ومكانتها في بداية القرن الـ ٢٠م عن طريق
(الصحافة - المجالس النيابية - التظاهر - القضاء) (الغربية ٢١)
- (١١) برزت المرأة على الساحة السياسية لأول مرة منذ
(الثورة العربية - ثورة ١٩١٩م - ثورة ١٩٥٢م - ثورة ٢٥ يناير ٢٠١١م)

- (١٢) تأسست الصحافة النسائية في مصر عام ١٩٠٧ م على يد
- (حكمت أبو زيد - هدى شعراوي - جميلة حافظ - عائشة راتب) (البحيرة ١٩)
- (١٣) أول وزيرة للشئون الاجتماعية في مصر عام ١٩٦٢ م
- (حكمت أبو زيد - آمال عثمان - عائشة راتب - هدى شعراوي) (البحيرة ١٩)
- (١٤) شاركت المرأة في الحياة النيابية وشغلت منصب رئيس اللجنة التشريعية بمجلس الشعب.
- (جميلة حافظ - هدى شعراوي - آمال عثمان - عائشة راتب) (الغربية ١٩)

٢ أكمل العبارات التالية بالكلمات المناسبة :

- (١) أنشأ «محمد على» مجلس
- (٢) بموجب دستور عام ١٩٥٦ م تم تشكيل مجلس عام ١٩٥٧ م.
- (٣) في عهد الرئيس السادات صدر لمصر في عام ١٩٧١ م.

٣ اكتب كلمة (صواب) أمام العبارة الصحيحة، وكلمة (خطأ) أمام العبارة غير الصحيحة، مع التصويب :

- (١) أنشأ محمد على مجالس نيابية استشارية لا سلطة لها. (القاهرة ١٦) ()
- (٢) ألغت ثورة يوليو ١٩٥٢ م دستور ١٩٢٣ م. ()
- (٣) حلت (ألغت) ثورة ٢٣ يوليو ١٩٥٢ م الأحزاب السياسية القائمة آنذاك. ()
- (٤) صدر عام ١٩٥٦ م أول دستور لمصر بعد ثورة يوليو ١٩٥٢ م. ()
- (٥) خلا دستور ١٩٧١ م من نصوص تسمح بتكوين وتعدد الأحزاب السياسية في مصر. ()
- (٦) ظهر تطور دور المرأة خلال ثورة ١٩١٩ م. ()
- (٧) تشكلت لجنة الوفد المركزية للسيدات عام ١٩٢٠ م برئاسة هدى شعراوي. (الشرقية ٢١) ()
- (٨) شاركت المرأة في كافة المجالات السياسية والاقتصادية والاجتماعية منذ ثورة ٢٣ يوليو ١٩٥٢ م. ()
- (٩) حصلت المرأة على حق الانتخاب والترشح لأول مرة في دستور ١٩٥٦ م. ()
- (١٠) يُعد توفير مناخ يحقق الوحدة الوطنية أحد أنشطة منظمات المجتمع المدني. ()

٤ من تنسب الأعمال التاريخية الآتية ... ؟

- (١) أنشأ مجلس شورى النواب عام ١٨٦٦م. (القاهرة ٢١) (.....)
- (٢) أنشأ أول مدرسة لتعليم البنات عام ١٨٧٣م. (الإسكندرية ٢١) (.....)
- (٣) أصدرت أول مجلة نسائية مصرية «الريحانة» عام ١٩٠٧م. (القاهرة ١٩) (.....)
- (٤) عين عائشة راتب وزيرة للشئون الاجتماعية عام ١٩٧١م. (.....)

٥ اكتب المصطلح التاريخي لكل عبارة من العبارات الآتية :

- (١) قيام الشعب بانتخاب ممثلين لإدارة شئون الحكم في البلاد وسن القوانين ومراقبة أعمال الحكومة نيابة عنه. (أسوان ١٣) (.....)
- (٢) الوثيقة الرسمية التي تحدد نظام الحكم في الدولة وتحدد شكل واختصاصات المؤسسات الدستورية المختلفة. (بورسعيد ١٢) (.....)
- (٣) يُطلق على المجالس النيابية التي تتولى السلطة التشريعية في الدولة. (.....)
- (٤) إحدى سلطات الحكم في مصر وتتكون من الحكومة والإدارة المحلية. (.....)
- (٥) أول مدرسة لتعليم البنات أنشأها الخديو إسماعيل عام ١٨٧٣م. (الإسكندرية ١٦) (.....)
- (٦) جمعيات المجتمع المحلية والمنظمات غير الحكومية والنقابات العمالية والجمعيات الخيرية وغيرها. (الدقهلية ١٨) (.....)

٦ بم تفسر ... ؟

- (١) عدم وجود حياة نيابية حقيقية في عهد محمد علي.

- (٢) قيام فئات الشعب باختيار ممثلين لهم في المجالس النيابية.

(٣) اهتمام الدولة بوضع الدساتير.

(٤) أهمية الدستور الدائم لجمهورية مصر العربية عام ١٩٧١م. (المنيا ٢١)

(٥) إصدار أول مجلة نسائية مصرية في فبراير ١٩٠٧م.

٧ ما النتائج التي ترتبت على ... ؟

(١) صدور دستور ١٩٢٣م بالنسبة للحياة السياسية.

(٢) ثورة ٢٣ يوليو ١٩٥٢م بالنسبة للحياة النيابية.

(٣) صدور دستور ١٩٥٦م بالنسبة للمرأة في مصر. (القليوبية ٢١)

٨ دلل تاريخيًا على صحة كل عبارة مما يأتي :

(١) يُعد عام ١٩٢٣م تاريخًا فاصلاً في تطور الحياة النيابية في مصر.

(٢) تقوم منظمات المجتمع المدني بدور مكمل للعمل الحكومي. (قنا ١٩)

٩ ماذا كان يحدث إذا : تخلت الدول عن وضع الدساتير ؟

١٠ رتب الأحداث التاريخية الآتية من الأقدم للأحدث :

- (١) صدور الدستور الدائم لمصر الذي أكد سيادة القانون واستقلال القضاء.
- (.....) تكوين البرلمان المصرى من مجلس النواب ومجلس الشيوخ.
- (.....) إنشاء سلطات الاحتلال البريطانى لمجلس شورى القوانين وللجمعية العمومية.
- (.....) إلغاء ثورة يوليو ١٩٥٢م للأحزاب السياسية القائمة.
- (.....) إنشاء مجلس المشورة والمجلس العالى.
- (٢) تشكيل لجنة الوفد المركزية للسيدات.
- (.....) إنشاء مجلس الأمة.
- (.....) التحاق المرأة بالجامعة المصرية.
- (.....) إنشاء مجلس شورى النواب.

١١ «ساهمت المرأة بدور كبير فى العمل الوطنى فى تاريخ مصر الحديث».

فى ضوء هذه العبارة، وضح :

- (١) دور المرأة المصرية فى مرحلة ما بعد ثورة ١٩١٩م وحتى ثورة ٢٣ يوليو ١٩٥٢م. (بنى سويف ٢١)
- (٢) دور المرأة المصرية فى الحياة النيابية فى الفترة من عام ١٩٧١م إلى عام ١٩٨١م.
- (٣) مقترحاتك للمرأة المصرية لكى تدعم مكانتها فى المجتمع.

١٢ «مرت الحياة النيابية في مصر بمراحل عديدة من حيث المسمى أو الصلاحيات».

في ضوء هذه العبارة، أجب عما يأتي :

(١) حدد أهم المجالس النيابية في عهد كل من محمد علي، وإسماعيل.

(٢) ما أهم المبادئ التي أكد عليها دستور ١٩٧١ م ؟

(٣) في رأيك : ما خطورة عدم المشاركة بالتصويت في الانتخابات ؟

أسئلة للتمييز ؟

١٣ اختر الإجابة الصحيحة مما بين القوسين :

إنشاء محمد علي لمجلس المشورة والمجلس العالي يعد تعبيراً عن إنشاء (.....)
(الديمقراطية - الحياة النيابية - الحكم المطلق - مناخ الحرية)

١٤ حدد مدى مصداقية العبارة الآتية :

ساهمت المرأة المصرية بدور واضح في الصحافة منذ العقد الأول من القرن الـ ٢٠ م.

١٥ بم تفسر :

أهمية الحياة النيابية للشعوب ؟

١٦ حدد وجه الشبه بين :


الحياة النيابية في عهد محمد علي، وعهد الاحتلال البريطاني لمصر.



لعبت مصر دورًا مهمًا في تعزيز التعاون الدولي حيث ساهمت في إنشاء العديد من المنظمات الإقليمية والدولية،

- ما الفرق بين المنظمات الإقليمية، والمنظمات الدولية ؟
- ما الهدف من إنشاء كل منظمة ؟

في هذا الدرس نتعرف





أولاً المنظمات الإقليمية

١ جامعة الدول العربية «أنشئت في مارس ١٩٤٥م»



شعار جامعة الدول العربية

فكرة إنشاء جامعة الدول العربية (دور مصر في إنشائها)

- * دعت مصر كلاً من رئيس وزراء سوريا والكتلة الوطنية اللبنانية للتباحث في القاهرة حول فكرة إقامة جامعة عربية.
- * في مارس ١٩٤٥م أقر ميثاق القاهرة(*) الذي يعد أول وثيقة تخص الجامعة العربية بشكلها الحالي وتضمن مبادئ قيامها، وتم التوقيع عليه من سبع دول عربية هي:
- مصر، الأردن، سوريا، العراق، السعودية، لبنان، اليمن.
- * أصبح عدد الدول المنضمة للجامعة العربية(**) الآن ٢٢ دولة بما فيها فلسطين.

الهدف من إنشائها

- * تنسيق العلاقات بين الدول الأعضاء.
- * تنسيق الخطط السياسية والاقتصادية والاجتماعية والثقافية والأمنية.
- * التعاون وحماية الأمن القومي العربي.
- * صيانة وحماية استقلال الدول الأعضاء وسيادتها.
- * تعزيز العمل العربي المشترك في مختلف المجالات.

(*) يُعد بروتوكول الإسكندرية (١٩٤٤م) الوثيقة الأساسية التي وُضع على أساسها ميثاق القاهرة.

(**) • يوجد مقر جامعة الدول العربية في مدينة القاهرة بمصر.

• تعقد الجامعة العربية سنوياً مؤتمراً للقمّة العربية في الأسبوع الأخير من شهر مارس، ويمكن الدعوة لعقد مؤتمرات طارئة حسب المستجدات على الساحتين العربية والدولية.



الهيكل التنظيمي لجامعة الدول العربية يتمثل في :

الأمانة العامة	اللجان الدائمة	مجلس الجامعة
<ul style="list-style-type: none"> * تتكون من الأمين العام وعدد من الأمناء المساعدون، وعدد من الموظفين. * يُعين الأمين العام بموافقة مجلس الجامعة بأغلبية الثلثين لمدة خمس سنوات. 	<ul style="list-style-type: none"> * هي لجان معنية بمختلف مجالات التعاون فيما بين الدول الأعضاء. * عددها حالياً ١٢ لجنة وتحوّل الكثير منها إلى منظمات متخصصة في مختلف المجالات. 	<ul style="list-style-type: none"> * يُعد أعلى سلطة داخل الجامعة. * يتألف من ممثلى جميع الدول الأعضاء بما فيهم ممثل دولة فلسطين ولكل دولة صوت واحد. * له مهام محددة أقرها ميثاق الجامعة.

٢ الاتحاد الأفريقى



شعار الاتحاد الأفريقى

لمصر دور مهم في منظمة الاتحاد الأفريقى **دلل ؟ حيث :**

• شاركت مصر في تأسيسه ، بعد أن تحررت معظم الدول الأفريقية من الاستعمار.

• استضافت مصر أول قمة أفريقية على أرضها عام ١٩٦٤م.

• تولت مصر رئاسة الاتحاد الأفريقى للمرة الثالثة في فبراير ٢٠١٩م

برئاسة الرئيس عبدالفتاح السيسى لتعود مصر من جديد لحضن أفريقيا متبنية استراتيجية جديدة تهدف إلى :

① العمل على تذليل المعوقات التى تواجه تعميق العمل الأفريقى المشترك.

② تشجيع أبناء القارة على بناء المشروعات القارية الرائدة لتطوير البنية التحتية الأفريقية.

③ ربط الأسواق الأفريقية وتفعيل اتفاقية التجارة الحرة.

في مايو ٢٠١٩م ألقى الرئيس عبدالفتاح السيسى كلمته في الاحتفال بيوم أفريقيا **وقد أكد فيها على :**

• ضرورة سعى دول القارة نحو تطوير ثرواتها البشرية وتأهيل شبابها لمواكبة تطورات العصر.

• مواصلة تعزيز دور المرأة الأفريقية كقلب نابض لمجتمعاتها.

• تدعيم الروابط الثقافية والحضارية بين شعوب القارة ترسيخاً للهوية الأفريقية وإعلاناً لمبادئ التضامن الأفريقى.

منظمة المؤتمر الإسلامي



* لمصر دور مهم في منظمة المؤتمر الإسلامي **دلل ؟ حيث :**

• تُعد مصر من أوائل الدول التي ساهمت في بلورة فكرة إنشاءها.

• شاركت مصر في كافة المؤتمرات الإسلامية، وكان أهمها : مؤتمر القمة

الإسلامي في سبتمبر ١٩٦٩م الذي عُقد في مدينة الرباط بالمغرب. شعار منظمة المؤتمر الإسلامي

١ تدريب

١ اكتب ما تشير إليه كل عبارة من العبارات الآتية :

(١) منظمة تجمع عددًا من الدول المستقلة التي ترتبط ببعضها بروابط معينة. (.....)

(٢) منظمة تضم في عضويتها دول العالم المستقلة وإن لم ترتبط ببعضها بروابط معينة. (.....)

(٣) يُعد أعلى سلطة داخل جامعة الدول العربية ويتألف من ممثلي جميع الدول الأعضاء بها. (.....)

(٤) منظمة إقليمية تولت مصر رئاستها للمرة الثالثة في فبراير ٢٠١٩م. (.....)

(٥) دولة استضافت أول قمة أفريقية على أرضها عام ١٩٦٤م. (.....)

(٦) مدينة عُقد بها مؤتمر القمة الإسلامي في سبتمبر ١٩٦٩م. (.....)

٢ دلل تاريخيًا على صحة كل عبارة مما يأتي :

(١) لمصر دور كبير في إنشاء عدد من المنظمات الإقليمية.

(٢) تبنت مصر استراتيجية جديدة تجاه القارة الأفريقية منذ فبراير ٢٠١٩م.



شعار منظمة الأمم المتحدة

ثانياً المنظمات الدولية

١ منظمة الأمم المتحدة

أنشئت : أواخر عام ١٩٤٥م.

تضم : في عضويتها جميع دول العالم المستقلة.

مقرها : مدينة نيويورك بالولايات المتحدة الأمريكية.

من أهم أهدافها :

* المحافظة على السلام والأمن الدوليين.

* تنمية العلاقات الودية والتعاون الدولي لحل المشكلات

الاقتصادية والاجتماعية والثقافية.

* تعزيز احترام حقوق الإنسان وحرياته دون تفرقة بسبب

الجنس أو الدين.

أجهزتها : تتكون الأمم المتحدة من ستة أجهزة رئيسية هي :

١ الجمعية العامة

* تضم : جميع الدول الأعضاء في الأمم المتحدة ولكل دولة صوت واحد.

٢ الأمانة العامة

* مقرها : مدينة نيويورك بالولايات المتحدة الأمريكية.

* يرأسها : الأمين العام (*). ويتم تعيينه عن طريق الجمعية العامة بناء على توصية من مجلس الأمن لفترة خمس سنوات.

٣ مجلس الأمن يُعد أهم أجهزة الأمم المتحدة **بم تفسر ؟** لأنه مسئول عن حفظ السلام والأمن الدوليين وله سلطة قانونية على حكومات الدول الأعضاء.

٤ مجلس الوصاية

* اختصاصه : رعاية مصالح شعوب البلدان التي كانت مستعمرات « محتلة » والأخذ بيدها نحو الحكم الذاتي والاستقلال.

٥ محكمة العدل الدولية الجهاز القضائي الأساسي للأمم المتحدة.

* مقرها : مدينة لاهاي بهولندا.

* اختصاصاتها : • النظر في القضايا التي تضعها الدول أمامها.

• تقديم الاستشارات القانونية للهيئات الدولية.

معلومة إثرائية

* الفترة من ١٩١٩م : ١٩٤٥م كانت

هناك عصبة الأمم إلا أنها فشلت في

مهامها بقيام الحرب العالمية الثانية،

مما أدى لنشأة منظمة الأمم المتحدة

بعد انتصار الحلفاء.

* عضوية الأمم المتحدة مفتوحة أمام

كل الدول المحبة للسلام.

* عدد الدول الأعضاء بها حالياً ١٩٢ دولة.

٦ المجلس الاقتصادي والاجتماعي

- * اختصاصه : مسئول عن نشاط الأمم المتحدة الاقتصادي والاجتماعي .
- * المنظمات المتخصصة التابعة له :

أ منظمة اليونسكو(*)

هي منظمة متخصصة في التربية والعلوم والثقافة .

• تأسست عام ١٩٤٥م .

• هدفها : المساهمة في إحلال السلام والأمن عن طريق رفع مستوى التعاون بين دول العالم في مجالات التربية والعلوم والثقافة .

• هناك تعاون بين مصر ومنظمة اليونسكو حيث ساهمت في :

١ إنقاذ معابد (أبو سمبل) في عام ١٩٦٤م لتجنب تعرضها للغرق .

٢ إحياء مكتبة الإسكندرية .

ب منظمة الصحة العالمية

• أنشئت في أبريل ١٩٤٨م .

• مقرها : مدينة جنيف بسويسرا .

• أهدافها : - توفير أفضل سبل الرعاية الصحية لجميع الشعوب .

- نشر الوعي من أجل حماية مياه الشرب من التلوث .

- عقد دورات تدريبية لتطوير الخدمات الصحية .

ج منظمة الأغذية والزراعة (الفاو)

هي منظمة متخصصة في المجال الزراعي .

• مقرها : مدينة روما بإيطاليا .

• أهدافها : - القضاء على الجوع .

- مساعدة البلدان النامية على تطوير وتحسين الإنتاج الزراعي

والتغذية الجيدة .

د منظمة اليونيسيف(**)

هي المنظمة الوحيدة المتخصصة في مجال الطفولة .

• هدفها : تعزيز وحماية حقوق الأطفال ورفاهيتهم ،

حيث قامت المنظمة في عام ١٩٥٩م بإعلان حقوق الطفل

حيث يمثل الأطفال محور التنمية .



شعار منظمة اليونسكو



شعار منظمة
الصحة العالمية



شعار منظمة الأغذية
والزراعة (الفاو)



unicef
شعار منظمة
اليونيسيف



دور مصر واضح في الأمم المتحدة ؟

دلل

حيث :

- شاركت مصر في الأنشطة المختلفة للأمم المتحدة.
- شاركت مصر بجنودها في قوات حفظ السلام الدولية في بلدان عديدة، منها : الكونغو ، البوسنة والهرسك ، الصومال ، الكويت.

٢ حركة عدم الانحياز

دور مصر في تأسيسها



- * ساهمت مصر في تأسيس الحركة حيث كانت البداية مصرية في مؤتمر باندونغ عام ١٩٥٥م بالاشتراك مع الهند وإندونيسيا ويوغوسلافيا (سابقاً).

عدد الدول المنظمة إليها

شعار مؤتمر حركة عدم الانحياز
بشهر الشيخ

- * كانت تضم في البداية ٢٥ دولة وأصبحت حالياً كياناً ضخماً يضم ١١٨ دولة من قارات أفريقيا وآسيا وأوروبا وأمريكا اللاتينية (الجنوبية).

أحرز على اقتناء

سلسلة كتب
الامتحان

في العام الدراسي القادم

لجميع مواد

الصف الأول الثانوى



٢ تدريب

١ أكمل الجدول الآتي :

أهدافها	مقرها	المنظمة
.....	(١) الأمم المتحدة
.....	(٢) اليونسكو
.....	(٣) الصحة العالمية
.....	(٤) الأغذية والزراعة (الفاو)
.....	(٥) اليونيسيف

٢ اختر الإجابة الصحيحة مما بين القوسين :

- (١) تتكون من جميع الدول الأعضاء بالأمم المتحدة.
(الجمعية العامة - مجلس الأمن - مجلس الوصاية - الأمانة العامة)
- (٢) يهتم بمنظمة الأمم المتحدة برعاية مصالح شعوب البلدان التي كانت مستعمرات.
(مجلس الأمن - مجلس الوصاية - محكمة العدل الدولية - المجلس الاقتصادي والاجتماعي)
- (٣) يوجد مقر محكمة العدل الدولية في مدينة (نيويورك - جنيف - روما - لاهاي)
- (٤) ساهمت مصر في تأسيس حركة عدم الانحياز في مؤتمر عام ١٩٥٥ م.
(مدريد - الرباط - باندونج - كامب ديشيد)

٣ قارن بين :

اختصاصات مجلس الأمن	اختصاصات محكمة العدل الدولية
.....

أهم نقاط الدرس

المنظمات الإقليمية

منظمات تجمع عدداً من الدول المستقلة التي ترتبط ببعضها بروابط معينة.

أمثلتها

١ جامعة الدول العربية (مارس ١٩٤٥ م)

* أهدافها :

- ١- تنسيق العلاقات بين الدول الأعضاء.
 - ٢- التعاون وحماية الأمن القومي العربي.
 - ٣- صيانة وحماية استقلال الدول الأعضاء وسيادتها.
 - ٤- تنسيق الخطط السياسية والاقتصادية والاجتماعية والثقافية والأمنية.
 - ٥- تعزيز العمل العربي المشترك في مختلف المجالات.
- * **الهيكل التنظيمي لجامعة الدول العربية :**
- ١- مجلس الجامعة.
 - ٢- اللجان الدائمة.
 - ٣- الأمانة العامة.

٢ الاتحاد الأفريقي

- * شاركت مصر في تأسيسه ورأسته ثلاث مرات.
- * استضافت مصر أول قمة أفريقية على أرضها عام ١٩٦٤ م.
- * تتبنى مصر استراتيجية جديدة للعمل على :
 - تذليل المعوقات التي تواجه تعميق العمل الأفريقي المشترك.
 - تشجيع أبناء القارة على بناء المشروعات الرائدة.
 - ربط الأسواق الأفريقية وتنفيذ اتفاقية التجارة الحرة.

٣ منظمة المؤتمر الإسلامي

- * ساهمت مصر في بلورة فكرة إنشائها.
- * شاركت مصر في كافة المؤتمرات الإسلامية، وكان أهمها :
مؤتمر القمة الإسلامي في سبتمبر ١٩٦٩ م والذي عقد في مدينة الرباط بالمغرب.

المنظمات الدولية

منظمات تضم في عضويتها دول العالم المستقلة وإن لم ترتبط ببعضها بروابط معينة.

أمثلتها

١ منظمة الأمم المتحدة (أواخر ١٩٤٥ م)

* أهدافها :

- ١- المحافظة على السلام والأمن الدوليين.
 - ٢- تنمية العلاقات الودية والتعاون الدولي لحل المشكلات الاقتصادية والاجتماعية والثقافية.
 - ٣- تعزيز احترام حقوق الإنسان وحرياته دون تفرقة بسبب الجنس أو الدين.
- * **الأجهزة الرئيسية للأمم المتحدة :**
- ١- الجمعية العامة.
 - ٢- الأمانة العامة.
 - ٣- مجلس الأمن.
 - ٤- مجلس الوصاية.
 - ٥- محكمة العدل الدولية.
 - ٦- المجلس الاقتصادي والاجتماعي، **ومن المنظمات التابعة له :**
 - ١- منظمة اليونسكو.
 - ٢- منظمة الأغذية والزراعة (الفاو).
 - ٣- منظمة الصحة العالمية.
 - ٤- منظمة اليونيسيف.

٢ حركة عدم الانحياز

- * ساهمت مصر في تأسيسها في مؤتمر (باندونج ١٩٥٥ م) بالاشتراك مع الهند وإندونيسيا ويوغوسلافيا (سابقاً).
- * كانت تضم في البداية ٢٥ دولة وأصبحت حالياً ١١٨ دولة **من القارات الآتية :**
أفريقيا / آسيا / أوروبا / أمريكا اللاتينية (الجنوبية).



١ اختر الإجابة الصحيحة مما بين القوسين :

(١) تُعد من أوائل الدول التي وقعت على ميثاق القاهرة الخاص بإنشاء جامعة الدول العربية
(ليبيا - الجزائر - الكويت - اليمن)

(٢) تولت رئاسة الاتحاد الأفريقي للمرة الثالثة في فبراير ٢٠١٩م دولة

(المغرب - مصر - كينيا - الكونغو)

(٣) عقد مؤتمر القمة الإسلامية في سبتمبر ١٩٦٩م بمدينة

(القاهرة - الرياض - الرباط - بغداد) (الدقهلية ٢١)

(٤) شارك الجنود المصريين في قوات حفظ السلام الدولية في دولة

(المغرب - الكويت - تونس - سوريا)

(٥) تعتبر سلطته قانونية على حكومات الدول الأعضاء في منظمة الأمم المتحدة

(مجلس الوصاية - محكمة العدل الدولية - مجلس الأمن - الجمعية العامة)

(٦) تبنت دولة فكرة إنشاء جامعة الدول العربية. (سوريا - لبنان - مصر - العراق)

(٧) يعد أعلى سلطة داخل الجامعة العربية.

(مجلس الجامعة - الأمانة العامة - مجلس الوصاية - اللجان الدائمة) (الشرقية ٢١)

(٨) أحد أجهزة الأمم المتحدة المسئول عن حفظ السلام والأمن الدوليين هو (بور سعيد ١٩)

(الجمعية العامة - المجلس الاقتصادي والاجتماعي - مجلس الأمن - الأمانة العامة)

(٩) الجهاز القضائي الأساسي للأمم المتحدة ومقرها لاهاي بهولندا هو

(الجمعية العامة - مجلس الأمن - محكمة العدل الدولية - الأمانة العامة) (الجيزة ٢١)

(١٠) تتبع منظمة اليونسكو أحد أجهزة الأمم المتحدة.

(الجمعية العامة - مجلس الوصاية - محكمة العدل الدولية -

المجلس الاقتصادي والاجتماعي)

(١١) ساهمت مصر في تأسيس حركة عدم الانحياز في مؤتمر

(القمة الإسلامية - مدريد - باندونج - كامب ديفيد) (بنى سويف ١٦)

٢ أكمل الجدول الآتي :

مدينة	
(١)	عُقد بها مؤتمر القمة الإسلامي عام ١٩٦٩م.
(٢)	يوجد بها مقر منظمة الأمم المتحدة.
(٣)	يوجد بها مقر محكمة العدل الدولية.
(٤)	يوجد بها مقر الأمانة العامة للأمم المتحدة.
(٥)	يوجد بها مقر منظمة الصحة العالمية.
(٦)	يوجد بها مقر منظمة الأغذية والزراعة (الفاو).

٣ اكتب كلمة (صواب) أمام العبارة الصحيحة، وكلمة (خطأ) أمام العبارة غير الصحيحة، مع التصويب :

- (١)  تُعد جامعة الدول العربية منظمة إقليمية أنشئت عام ١٩٤٥م. ()
- (٢)  يعين الأمين العام لجامعة الدول العربية بموافقة مجلس الجامعة بأغلبية الثلثين لمدة خمس سنوات. ()
- (٣) تقتصر أهداف جامعة الدول العربية على الأهداف السياسية. ()
- (٤) عقدت أول قمة أفريقية عام ١٩٦٤م بدولة السودان. ()
- (٥) تولت مصر رئاسة الاتحاد الأفريقي للمرة الثالثة فبراير ٢٠١٩م. ()
- (٦) شاركت مصر في كافة المؤتمرات الإسلامية. ()
- (٧) تتشابه المنظمات الإقليمية والمنظمات الدولية في أنها تضم في عضويتها الدول المستقلة. ()
- (٨) تضم الجمعية العامة للأمم المتحدة جميع الدول الأعضاء في الأمم المتحدة. ()
- (٩) يحق لمحكمة العدل الدولية التدخل للفصل في القضايا الدولية. ()
- (١٠) سلطة مجلس الأمن سلطة قانونية على حكومات الدول الأعضاء في الأمم المتحدة. ()
- (١١)  مجلس الأمن هو المسئول عن النشاط الاقتصادي والاجتماعي للأمم المتحدة. ()
- (١٢) يتم تعيين الأمين العام للأمم المتحدة عن طريق مجلس الوصاية. ()
- (١٣)  ساهمت اليونسكو في إنقاذ معابد أبو سمبل في عام ١٩٦٤م. (الشرقية ١٩) ()
- (١٤)  أنشئت منظمة الصحة العالمية في أبريل ١٩٤٨م ومقرها روما بإيطاليا. ()

- () (١٥) اليونسيف إحدى منظمات الأمم المتحدة المتخصصة في المجال الزراعي.
- () (١٦) شاركت مصر بجنودها في قوات حفظ السلام الدولية في بلدان عديدة.
- () (١٧) ساهمت مصر في تأسيس حركة عدم الانحياز. (دمياط ١٦)

٤ اكتب المصطلح الدال على كل عبارة من العبارات الآتية :

- (١) أهم أجهزة الأمم المتحدة المسئول عن حفظ السلام والأمن الدوليين.
- (.....) (الإسماعيلية ٢١)
- (٢) منظمة تابعة للأمم المتحدة هدفها الرئيسي المساهمة في إحلال السلام والأمن عن طريق رفع مستوى التعاون بين دول العالم في مجالات التربية والعلوم والثقافة.
- (.....)
- (٣) من المنظمات التابعة للأمم المتحدة ومتخصصة في المجال الزراعي هدفها القضاء على الجوع ومقرها روما. (دمياط ٢١)
- (.....)
- (٤) المنظمة العالمية الوحيدة المتخصصة في مجال الطفولة وهدفها تعزيز وحماية حقوق الأطفال ورفاهيتهم. (بنى سويف ١٩)
- (.....)


٥ ما المقصود بالمصطلحات الآتية ... ؟


- (١) المنظمة الإقليمية. (سوهاج ١٩)
-
- (٢) المنظمة الدولية. (السويس ١٥)
-
- (٣) الأمم المتحدة. (القاهرة ١٩)
-


٦ بم تفسر ... ؟

- (١) جامعة الدول العربية منظمة إقليمية.
-

- (٢) أهمية ميثاق القاهرة الذي أقر في مارس ١٩٤٥ م.
-

(٣)  الأمم المتحدة منظمة دولية. (القليوبية ٢١)

(٤)  مجلس الأمن هو أهم أجهزة الأمم المتحدة. (البحيرة ١٩)

(٥)  إنشاء مجلس الوصاية كأحد الأجهزة الرئيسية للأمم المتحدة. (الغربية ٢١)

(٦)  إنشاء منظمة الصحة العالمية. (المنيا ٢١)

(٧)  أهمية منظمة الأغذية والزراعة (الفاو). (أسيوط ١٦)

(٨)  تُعد منظمة حركة عدم الانحياز منظمة دولية.

٧ ما النتائج التي ترتبت على : تعاون منظمة اليونسكو مع مصر؟ (الجيزة ١٩)

٨ دلل تاريخياً على صحة العبارة الآتية :

لعبت مصر دوراً رئيسياً في إنشاء جامعة الدول العربية.

٩ قارن بين :

(١) أهداف جامعة الدول العربية ، وأهداف الأمم المتحدة.

(٢) منظمة اليونسكو، ومنظمة اليونيسيف، من حيث : (كفر الشيخ ٢١)
* التخصص. * الهدف.

١٠ «ساهمت مصر في إنشاء العديد من المنظمات الإقليمية والدولية».

من خلال دراستك، وضع دور مصر في :

(١) إنشاء جامعة الدول العربية.

(٢) منظمة الاتحاد الأفريقي. (الجيزة ٢١)

(٣) تأسيس حركة عدم الانحياز.

أسئلة للتمييز ؟

١١ حدد : الأهداف الإنسانية من إنشاء منظمة الأمم المتحدة.

١٢ قارن بين :

الدور الإنساني لمنظمة اليونيسيف	الدور الإنساني لمنظمة الفاو

الدراسات مفكرة

2022



المفكرة
الاعدادى
الفصل الدراسي الثاني



الدولية للطبع والنشر والتوزيع
القاهرة - القاهرة

تليفون: ٢٥٨٨٥٥٨٥ - ٢٥٩-٤٢٢٣ - ٢٢٢٥٨٨٨٨٨٨٦

www.alemte7anbooks.com

Email: info@alemte7anbooks.com

الخط الساخن ١٥٠١٤

f /alemte7anbooks

إعداد

نخبة من خبراء التعليم

حقوق الطبع محفوظة

الدراسات الاجتماعية

جغرافية العالم
وتاريخ مصر الحديث والمعاصر

محتويات المفكرة



مراجعة على كل وحدة.

إجابات أسئلة كتاب الشرح.

إجابات أسئلة كتاب المراجعة والامتحانات.



أولاً أهم المخططات ...

ثانياً ما المقصود بـ ...

ثالثاً قارن بين ...

رابعاً بم تفسر ...

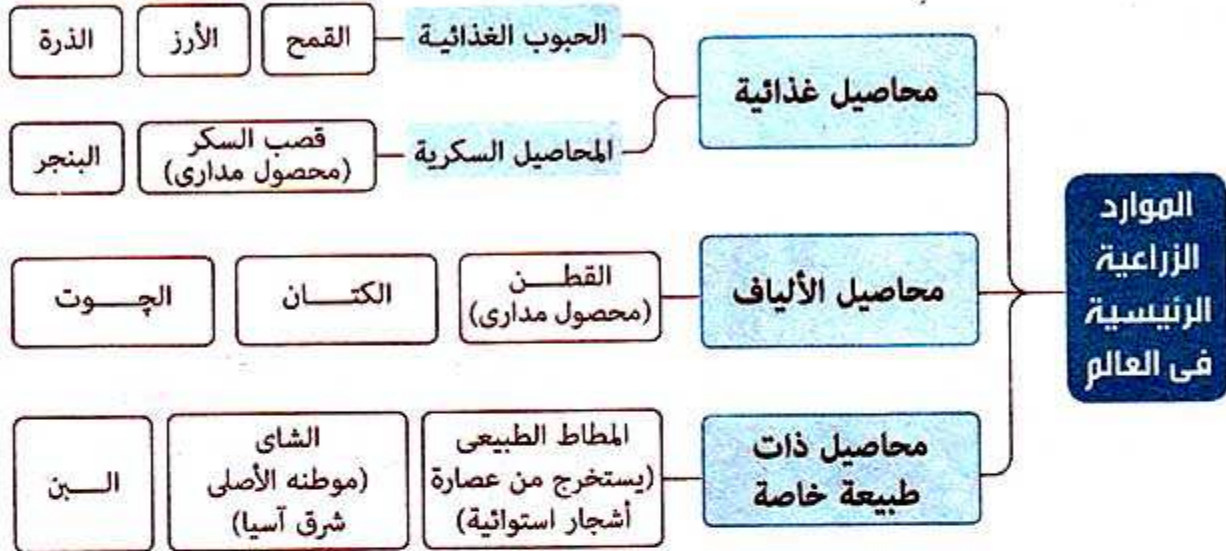
خامساً ما النتائج المترتبة على ...

سادساً دلل ...

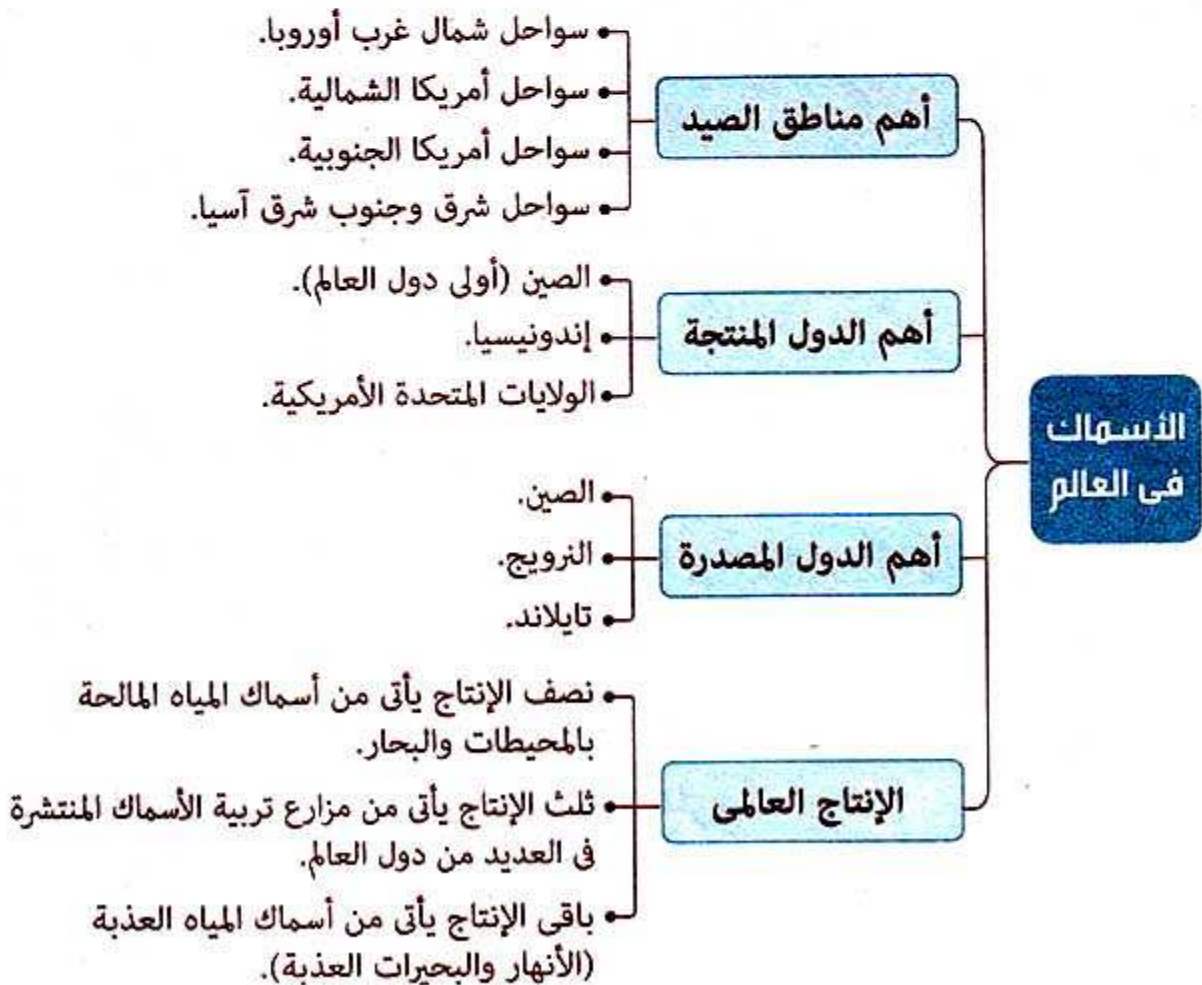
سابعاً الخرائط ...

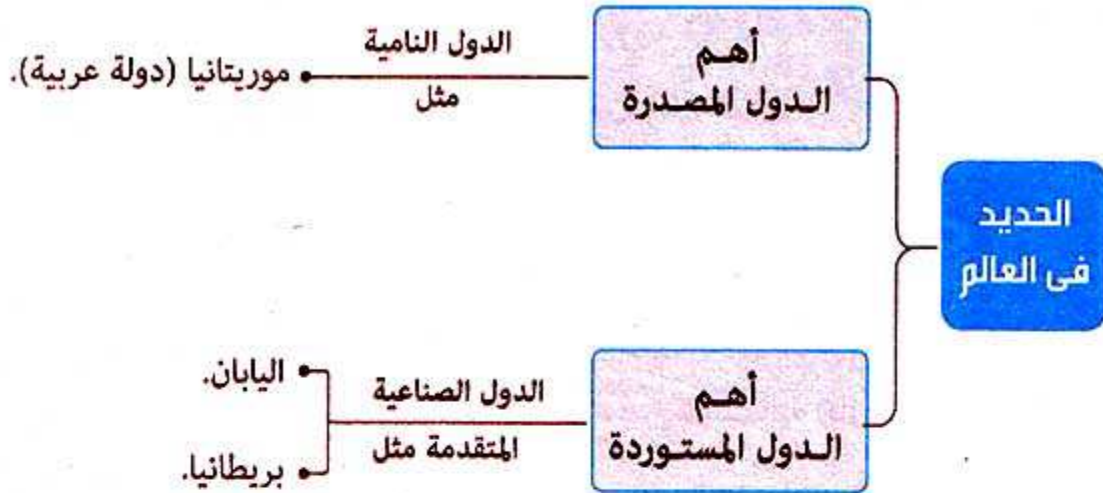
أولاً أهم المخططات ...

١

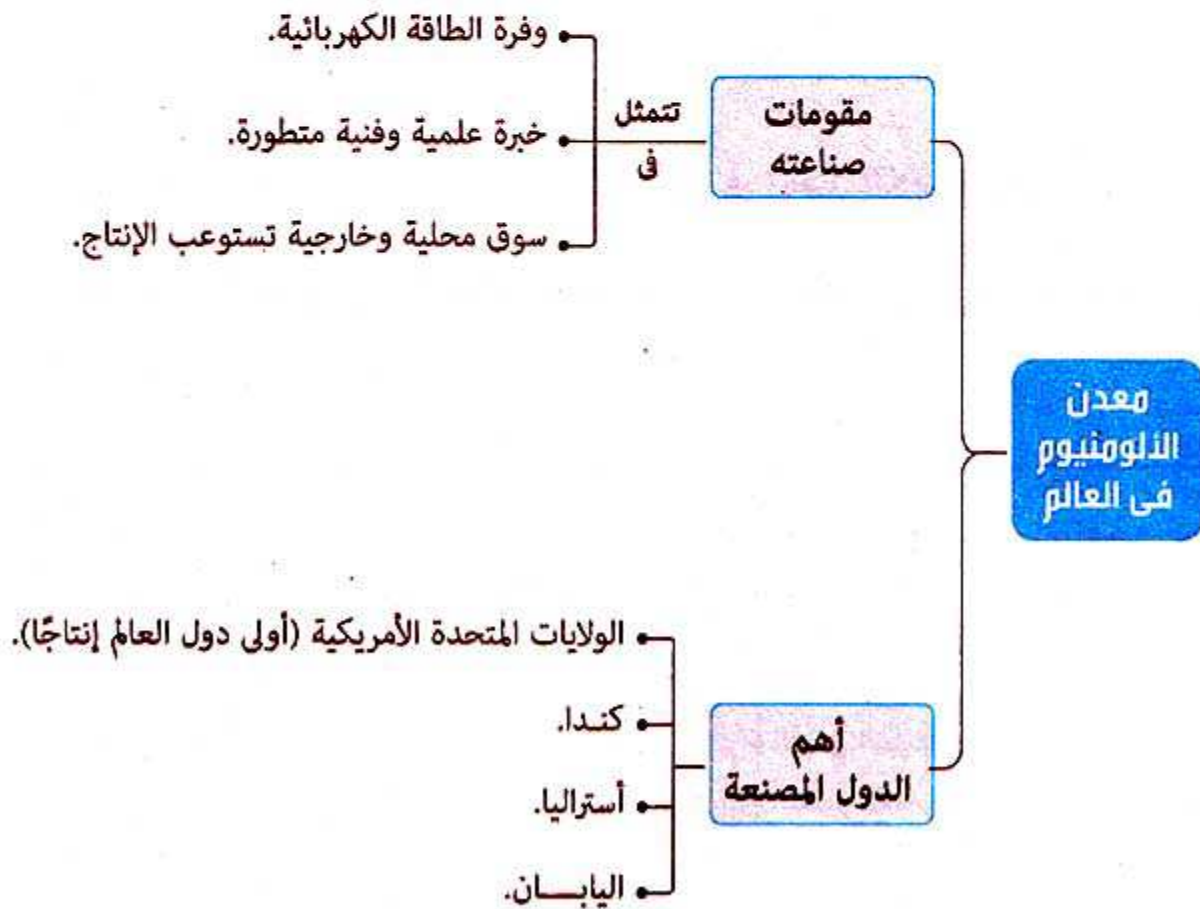


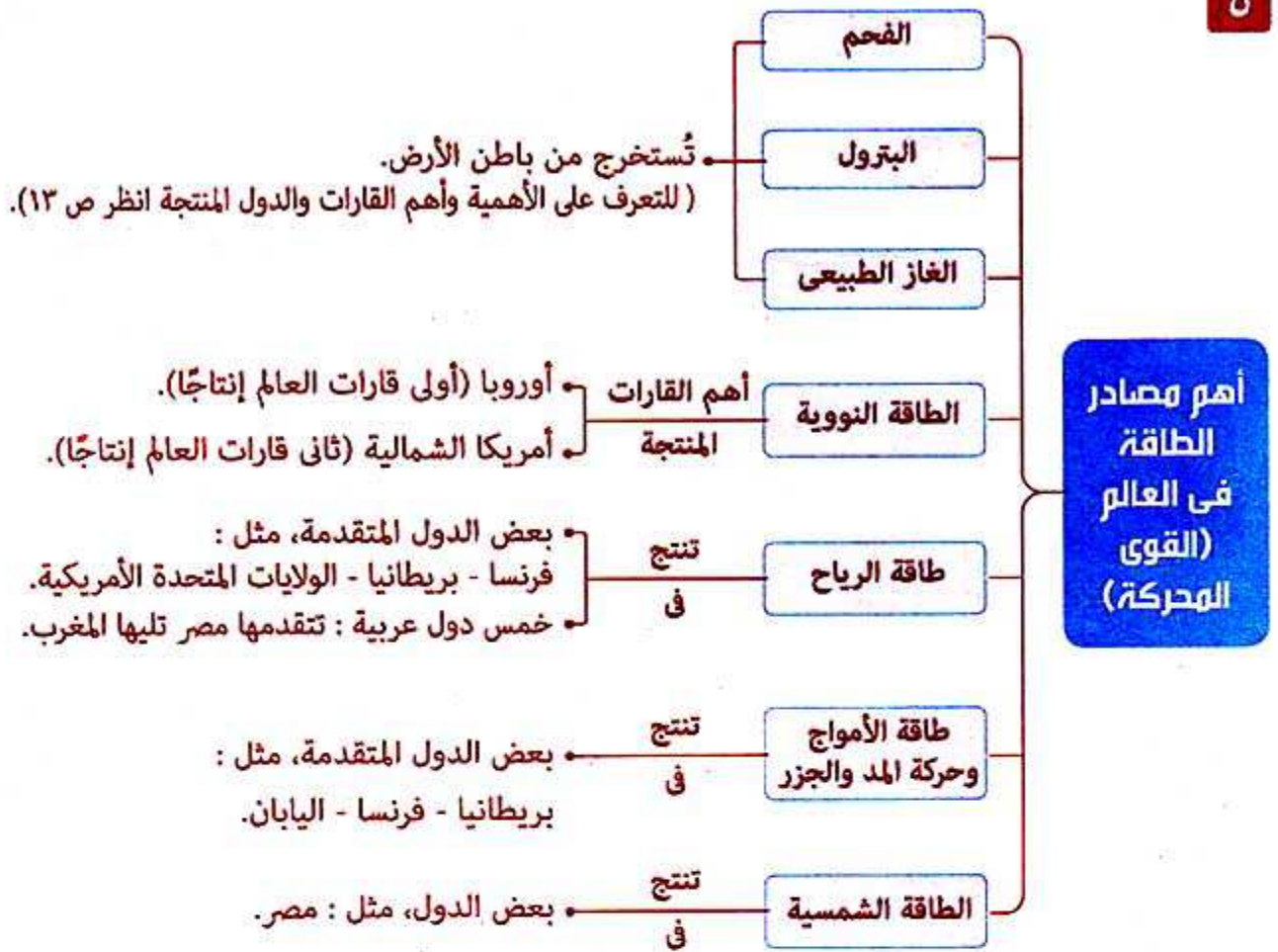
٢





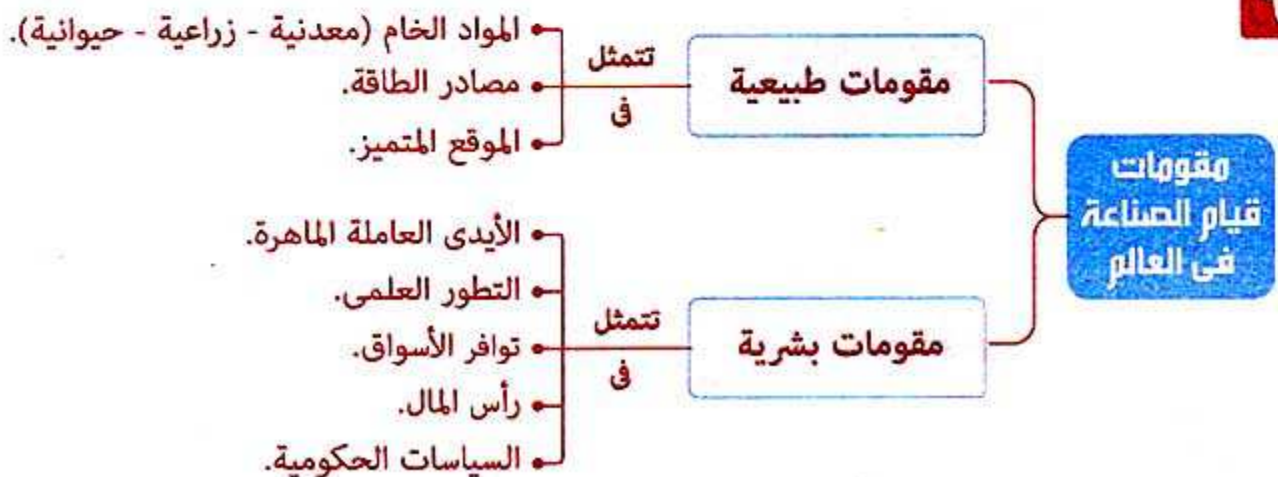
!! يدخل ٣٠ ٪ من الإنتاج العالمي للحديد في التجارة الدولية.





!! يستخدم الفحم والبترو والغاز الطبيعي في توليد الكهرباء الحرارية.

!! تُستخدم الأمواج وحركة المد والجزر والشلالات والسدود في توليد الكهرباء المائية (الكهرومائية).



أهم الأقاليم والمراكز الصناعية الرئيسية في العالم

إقليم غرب ووسط أوروبا

• أهم المراكز الصناعية به : بريطانيا، فرنسا، ألمانيا.

إقليم شمال شرق الولايات المتحدة الأمريكية

• يعتبر أكبر الأقاليم الصناعية في العالم الجديد.
• يشمل منطقة البحيرات العظمى.
• أهم الصناعات به :

- الصناعات الهندسية، مثل :
- الإلكترونيات والسيارات والأدوات الكهربائية.
- الصناعات الخفيفة والاستهلاكية، مثل :
- الصناعات الغذائية والنسيجية وغيرها.

إقليم روسيا وأوكرانيا

• يبدو في شكل مناطق متباعدة وأهم المراكز الصناعية به : إقليم موسكو وما حولها، إقليم الأورال.

إقليم شرق آسيا

• أهم المراكز الصناعية به : جزيرة هونشو باليابان، جمهورية كوريا، مناطق عديدة بالصين.

مراكز صناعية حديثة أخرى

- قارة آسيا في :
 - دول جنوب شرق القارة منها : ماليزيا ، سنغافورة ، إندونيسيا ، تايلاند.
 - دول الخليج العربي : معظم الصناعات بترولية.
- قارة أفريقيا في : مصر ، دولة جنوب أفريقيا.
- الأوقيانوسية في : أستراليا.
- قارة أمريكا الشمالية في : كندا ، المكسيك.
- قارة أمريكا الجنوبية في : البرازيل ، الأرجنتين ، شيلي.

ثانياً ما المقصود بـ ...

نوع من الزراعة يعمل بها عدد قليل من السكان في مناطق صغيرة ومعزولة.	الزراعة البسيطة (البداية)
زراعة الأرض أكثر من مرة في العام الواحد بهدف إشباع حاجة السكان المحليين من الغذاء (للاستهلاك المحلي فقط) وعادة ما توجد في المناطق كثيفة السكان.	الزراعة الكثيفة
نوع من الزراعة المتقدمة تتم في مزارع واسعة تستخدم فيها أحدث الآلات والطرق العلمية وتهدف للإنتاج التجاري الضخم.	الزراعة التجارية والعلمية (الزراعة الواسعة)
رعى يمارسه سكان المناطق الصحراوية في مساحات واسعة بقارات العالم.	الرعى البدائي (التقليدي)
رعى يعتمد على الأساليب العلمية الحديثة لإنتاج الألبان واللحوم حيث يرعى كل نوع من الحيوانات في مزارع خاصة به دون الاختلاط بحيوانات أخرى.	الرعى التجاري
عملية استخراج المعادن ومصادر الطاقة من فحم وبتروöl وغاز طبيعي من باطن القشرة الأرضية أو بالقرب من السطح.	النشاط التعديني

١ الأنواع الرئيسية للنشاط الزراعى فى العالم			
الزراعة المتقدمة		الزراعة البسيطة (البداية)	
الزراعة التجارية والعلمية	الزراعة الكثيفة		خصائصها
(١) تتم فى مزارع واسعة.	(١) صغر مساحات الحقول الزراعية لذلك يصعب فيها استخدام الآلات والميكنة الزراعية.	(١) ضيق المساحة المزروعة وتباعدها عن بعضها.	
(٢) تُستخدم فيها أحدث الآلات الزراعية والطرق العلمية الحديثة.	(٢) تتم زراعة الأرض بأكثر من محصول فى العام الواحد.	(٢) تُستخدم فيها أدوات بدائية بسيطة.	
(٣) تقل بها العمالة الزراعية.	(٣) تتطلب أيدى عاملة وفيرة لأنها تتم من خلال عمليات عديدة.	(٣) يعمل بها عدد قليل من سكان العالم.	
* الإنتاج التجارى الضخم.	* توفير الاحتياجات الغذائية اللازمة للسكان المحليين (دون وجود فائض للتصدير).		الهدف منها
* جنوب شرق آسيا حيث مزارع المطاط والشاي.	* المناطق الحارة والمعتدلة.	* توجد فى مناطق صغيرة ومعزولة كما فى : • المناطق الحارة على هوامش الغابات الاستوائية. • بعض مناطق حشائش السافانا.	أماكن انتشارها
* أمريكا الشمالية خاصة الولايات المتحدة الأمريكية حيث مناطق زراعة القمح ونطاق القطن.			
* أوروبا حيث مناطق زراعة القمح.			
* المطاط. * القطن. * الشاي.	* الأرز. * القمح. * القطن.	* الذرة. * الموز. * الكسافا.	أهم محاصيلها

الذرة	القمح	٢
* تستخدم كغذاء للإنسان (فى بعض المناطق) وكعلف للحيوانات.	* يُعد الغذاء الرئيسى لمعظم شعوب العالم حيث يُصنع منه الخبز والمكرونة والحلويات.	الأهمية
أمريكا الشمالية (تستخدم معظم الإنتاج كعلف للماشية وتصدر جزء منه للخارج)	آسيا : وأهم دولها : (١) الصين. (٢) الهند.	أولى القارات، وأهم الدول المنتجة (بالترتيب)

البنجر	قصب السكر	٣
* المحصول الثانى لإنتاج السكر فى العالم.	* المحصول الأول (الرئيسى) لإنتاج السكر فى العالم.	الأهمية
* أوروبا. * أمريكا الشمالية.	* يزرع فى المناطق المدارية الحارة فى جميع القارات عدا قارة أوروبا.	أهم القارات المنتجة
* فرنسا. * الولايات المتحدة الأمريكية. * مصر (أكبر الدول المنتجة فى قارة أفريقيا).	* البرازيل (أولى دول العالم).	أهم الدول المنتجة

المطاط الطبيعى	القطن	٤
* يصنع منه إطارات السيارات وصناعات أخرى.	* إنتاج الخيوط التى تُستخدم فى صناعة أجود أنواع الملابس والمنسوجات. * مصدر لاستخراج زيت بذرة القطن وصناعة الأعلاف.	الأهمية (الاستخدام)
(١) آسيا. (٢) أفريقيا.	(١) آسيا (تغلب الإنتاج العالمى). (٢) أمريكا الشمالية. (٣) أمريكا الجنوبية. (٤) أفريقيا.	أهم القارات المنتجة (بالترتيب)
* تايلاند (أولى دول العالم).	* الصين. * الهند. * مصر. * السودان. * أفريقيا	أهم الدول المنتجة

٥	الرعى البدائي (التقليدي)	الرعى التجارى
يقصد به	انظر ما المقصود بـ	
يتركز فى مناطق الانتشار	<p>* الصحارى الحارة، كما فى :</p> <ul style="list-style-type: none"> ● شبه الجزيرة العربية وبادية الشام بآسيا. ● شمال أفريقيا. <p>* دول وسط آسيا (حيث الصحارى المعتدلة).</p> <p>* صحارى التندرا الباردة بآسيا وأوروبا (حيث يرعى حيوان الرنة وغيره).</p>	<p>* مناطق حشائش الإستبس والسافانا بقارات العالم ويسود فى :</p> <ul style="list-style-type: none"> ● الولايات المتحدة الأمريكية بأمريكا الشمالية : ● فى مناطق الحشائش القصيرة (الإستبس) والتي تعرف بالبرارى. ● الأرجنتين بأمريكا الجنوبية. ● أستراليا.

٦	الأبقار	الأغنام
الأهمية	<p>* تُعد المصدر الرئيسى للحوم الحمراء لغالبية سكان العالم، وتدخل بنسبة كبيرة فى التجارة الدولية.</p>	<p>* تُربى من أجل لحومها وأصوافها.</p>
أهم القارات والدول المربية	<p>* آسيا (أولى قارات العالم)، وأهم دولها : الهند.</p> <p>* أمريكا الجنوبية (ثانى قارات العالم).</p>	<p>* الصين (أولى دول العالم).</p> <p>* الهند.</p> <p>* أستراليا.</p>

٧	اللحوم الحمراء	الألبان	الأصواف	الجلود
الأهمية	* المنتج الحيواني الرئيسي.	* ثاني منتج حيواني رئيسي (بعد اللحوم الحمراء).	* يُعد صوف الأغنام مادة خام أساسية لصناعة نسيج الصوف.	* تقوم عليها صناعة دُبغ الجلود وتصنيعها في شكل منتجات جلدية متعددة.
أهم الدول المنتجة (بالترتيب)	(١) الصين (معظم إنتاجها من لحوم الخنازير). (٢) الولايات المتحدة الأمريكية.	(١) الهند. (٢) الولايات المتحدة الأمريكية.	(١) أستراليا. (٢) الصين.	—

٨	الدواجن	الأسماك
الأهمية	* تساهم بمنتجاتها من اللحوم والبيض في سد حاجة سكان العالم من الغذاء.	* تمثل غذاءً رئيسياً للكثير من سكان العالم خاصة في المناطق الساحلية على البحار والمحيطات.
أهم الدول المنتجة	* الولايات المتحدة الأمريكية (أولى دول العالم). * الصين (ثاني دول العالم).	* الصين (أولى دول العالم وتنتج أكثر من $\frac{1}{3}$ الإنتاج العالمي). * إندونيسيا. * الولايات المتحدة الأمريكية.
أهم الدول المصدرة	—	* الصين. * تايلاند. * النرويج.

٩	الحديد	النحاس	البوكسيت
الأهمية	* يدخل في العديد من الصناعات، مثل: صناعة الحديد والصلب.	* يُستخدم في الكثير من الصناعات، مثل: الأسلاك، والأدوات الكهربائية.	* يُعد الخام الرئيسي لمعدن الألومنيوم.
أهم الدول المنتجة (بالترتيب)	(١) الصين. (٢) أستراليا.	(١) شيلي. (٢) الصين.	* أستراليا (أولى دول العالم).

١٠	الفحم	البترو	الغاز الطبيعي
الأهمية	* يعد مصدر رئيسي للصناعة في الدول الصناعية الكبرى.	* يعد أهم مصادر الطاقة في العالم لارتباطه بالتنمية الاقتصادية والاجتماعية والعلاقات السياسية.	* يمثل حاليًا نحو ٢٥٪ من مصادر الوقود في العالم. * يعد من مصادر الطاقة الأقل تلويثًا للبيئة، ورخيص الثمن، وسهل النقل.
يستخدم في توليد الكهرباء الحرارية			
أهم القارات المنتجة	* آسيا * أوروبا * أمريكا الشمالية.	—	* أوروبا (أولى القارات) وتنتج $\frac{1}{3}$ الإنتاج العالمي.
أهم الدول المنتجة (بالترتيب)	(١) الصين (٤٧٪). (٢) الولايات المتحدة (١١٪). (٣) الهند (٨٪).	(١) السعودية. (٢) روسيا. (٣) الولايات المتحدة الأمريكية.	* الولايات المتحدة الأمريكية (أولى دول العالم).

رابعاً بم تفسر ...

١ يُعد النشاط الزراعى من الأنشطة الاقتصادية الأساسية فى العالم. **لأنه** : - مصدرًا رئيسيًا لغذاء الإنسان بجانب الأسماك والحيوانات. - ترتبط به تربية الحيوان. - مصدرًا مهمًا للمواد الخام الزراعية اللازمة لبعض الصناعات مثل محاصيل الألياف والمطاط الطبيعى.

٢ تزرع الأرض فى مناطق الزراعة الكثيفة أكثر من مرة فى العام الواحد. **بهدف** إشباع حاجة السكان المحليين من الغذاء (للاستهلاك المحلى فقط).

٣ تحتاج الزراعة الكثيفة إلى أيدٍ عاملة وفيرة. **لأنها** تتم من خلال عمليات عديدة، مثل : بذر الحبوب، والرى، وتنقية الحشائش.

٤ يُزرع قصب السكر فى جميع قارات العالم ما عدا قارة أوروبا. **لأن** قصب السكر يحتاج إلى درجة حرارة مرتفعة وكمية مياه وفيرة فيزرع فى المناطق المدارية الحارة بقارات العالم، بينما تقع أوروبا فى المنطقة المعتدلة التى لا تتوافر بها الشروط السابقة.

٥ تركز زراعة البنجر فى دول أوروبا وأمريكا الشمالية. **بسبب** ملائمة ظروف زراعته من مناخ وتربة زراعية.

٦ شهرة القطن المصرى والسودانى. **لأنه** من أجود أنواع القطن فى العالم ومعظمه من الأنواع طويلة التيلة.

٧ * تعد الصين أولى دول العالم إنتاجًا للشاي. * تركز زراعة الشاي فى دول شرق آسيا. **بسبب** توافر ظروف زراعته من تربة خصبة خفيفة ومناخ حار وهواء رطب ومطر غزير.

٨ قلة أعداد القائمين بحرفة الرعى البدائى فى شبه الجزيرة العربية وبادية الشام ودول وسط آسيا.

- فى شبه الجزيرة العربية وبادية الشام **بسبب** توطين البدو لتدفق البترول. - فى دول وسط آسيا **بسبب** انتشار التعليم بين القبائل وتغير نشاطهم للعمل فى الصناعة والزراعة والخدمات.

٩ يُعد الرعى التجارى مصدر الإنتاج الرئيسى للحوم والألبان فى العالم.

بسبب اعتماده على أحدث الأساليب العلمية لإنتاج اللحوم والألبان حيث يرعى كل نوع فى مزارع خاصة به دون الاختلاط بحيوانات أخرى.

١٠ يسود الرعى التجارى فى الولايات المتحدة الأمريكية والأرجنتين وأستراليا.

بسبب : - وفرة الحشائش (إستبس - ساقانا).

- الاعتماد على الأساليب العلمية الحديثة.

١١ أهمية الثروة الحيوانية فى العالم.

لأنها تُعد المصدر الرئيسى لإنتاج اللحوم والألبان فى العالم بجانب الجلود والصوف وغيرها.

١٢ تركّز تربية الأغنام فى الصين والهند وأستراليا.

بسبب توافر الحشائش حيث المراعى التجارية الواسعة.

١٣ تعتبر أستراليا أولى دول العالم فى إنتاج الصوف.

بسبب تربية أستراليا لأغنام المارينو المشهورة بغزارة الصوف.

١٤ زيادة معدل الاستهلاك العالمى من اللحوم الحمراء.

بسبب ارتفاع مستوى المعيشة فى كثير من دول العالم.

١٥ اتساع الفجوة بين إنتاج مصر من الألبان والاستهلاك المحلى.

لأن إنتاج مصر من الألبان لا يتناسب مع زيادة عدد السكان.

١٦ * تحتل الصين المركز الأول فى إنتاج الأسماك فى العالم.

* تنتج الصين أكثر من ثلث الإنتاج العالمى من الأسماك.

لأنها تمتلك : - مصائد على طول سواحل المحيط الهادى، وأنهار، وبحيرات.

- مزارع تربية الأسماك.

١٧

* انتشار مناطق صيد الأسماك على سواحل القارات.

* انتشار مصايد الأسماك شمال غرب أوروبا.

بسبب توافر العوامل الطبيعية والبشرية التي تساعد على تطور حرفة صيد وتربية الأسماك وتتمثل هذه العوامل في :

- ضخالة المياه الساحلية وغناها بالمواد الغذائية.
- التقاء التيارات البحرية الدافئة مع الباردة.
- توافر الموانئ لرسو سفن الصيد.
- توافر الخبرات الفنية والعلمية في صناعة المراكب وأدوات الصيد والثلاجات.
- التوسع في تربية الأسماك على أسس علمية حديثة.

١٨

تُعدّ إندونيسيا والولايات المتحدة الأمريكية من أهم الدول المنتجة للأسماك في العالم.

بسبب :

- طول السواحل على البحار والمحيطات.
- تقدم وسائل الصيد.

١٩

قيام بعض الدول بصيد الحيتان.

للاستفادة من لحومها وشحومها.

٢٠

* توطن صناعة الألومنيوم في الدول المتقدمة.

* تُعتبر الولايات المتحدة أكبر دول العالم المصنعة للألومنيوم.

بسبب توافر المقومات اللازمة لصناعة الألومنيوم من طاقة كهربائية وخبرة فنية وعلمية متطورة وسوق محلية وخارجية تستوعب الإنتاج.

٢١

يُعدّ البترول أهم مصادر الطاقة في العالم.

بسبب ارتباط البترول بالتنمية الاقتصادية والاجتماعية والعلاقات السياسية.

٢٢

التوسع في استخدام الغاز الطبيعي كبديل لمصادر الطاقة الأخرى.

لأنه من مصادر الطاقة الأقل تلويثاً للبيئة ورخيص الثمن وسهل النقل.

خامساً ما النتائج المترتبة على ...

١ صغر المساحات المزروعة فى نطاق الزراعة الكثيفة.
أدى ذلك إلى صعوبة استخدام الآلات والميكنة الزراعية والاعتماد على الأيدى العاملة.

٢ استخدام الآلات الزراعية والطرق العلمية الحديثة فى الزراعة التجارية.
ترتب على ذلك : - قلة التكاليف، وقلة عدد العمالة الزراعية.
- الإنتاج التجارى الضخم.

٣ وقوع أجزاء كثيرة من قارة آسيا ضمن الإقليمين الاستوائى والمدارى (بالنسبة للإنتاج الزراعى).
ترتب على ذلك إنتاج قارة آسيا لـ :

- قصب السكر لأنه محصول مدارى حار.
- القطن (تلتى الإنتاج العالمى وهى أولى القارات إنتاجاً له) لأنه محصول مدارى.
- المطاط الطبيعى (أولى قارات العالم إنتاجاً له) لأنه يستخرج من عصارة أشجار استوائية.

٤ عدم توافر الطاقة الكهربائية والخبرة الفنية فى الدول النامية المنتجة للبوكسيت.
أدى ذلك إلى قيام هذه الدول بتصدير إنتاجها من البوكسيت للدول المتقدمة لتصنيع الألومنيوم.

٥ زيادة الطلب على البترول وتعدد استخداماته.
ترتب على ذلك ارتفاع أسعاره عالمياً.

٦ الوحدة الاقتصادية الأوروبية.
ترتب على ذلك حدوث التكامل فى الجوانب الاقتصادية (الصناعية والتجارية) بإقليم غرب ووسط أوروبا وحمايتها جمركياً وتدعيمها من جانب هيئة الاتحاد الأوروبى.

سادساً دلل ...

١ يسبق عملية التعدين عدة عمليات.
حيث تتمثل هذه العمليات فى :

- البحث والكشف عن الخامات.

- إعداد المنجم لعملية التعدين والاستخراج، مثل :

♦ مد الخطوط الحديدية والطرق. ♦ إنشاء مساكن للعاملين بحفرة التعدين.

٢ للفهم أهمية كبيرة منذ أواخر القرن الـ ١٨ وحتى الوقت الحالى.

حيث :

- فى أواخر القرن الـ ١٨ شكّل عماد الثورة الصناعية فى أوروبا وأصبح المصدر الأول والرئيسى للطاقة المستخدمة فى العالم حتى أوائل القرن الـ ٢٠ م.
- فى الوقت الحالى يستخدم كمصدر رئيسى فى الصناعة بالدول الصناعية الكبرى وفى توليد الكهرباء الحرارية.

٣ توسع العالم فى استخدام الغاز الطبيعى كبديل لمصادر الطاقة الأخرى.

حيث يستخدم :

- فى الصناعة على نطاق واسع.
- فى الاستخدامات المنزلية.
- فى توليد الطاقة الكهربائية (الكهرباء الحرارية).
- كوقود للسيارات بديلاً للبنزين للحد من تلوث البيئة.

٤ تُعد الصناعة الحديثة مقياساً رئيسياً لتطور الشعوب وازدهارها.

حيث إن الدول المتقدمة هى الدول التى تطورت فيها الصناعة تطوراً مذهباً أخذت بالأساليب العلمية وتطبيق الأبحاث والتجارب العلمية فى الاختراع وتطوير وتحديث المنتجات الصناعية بشكل مستمر.

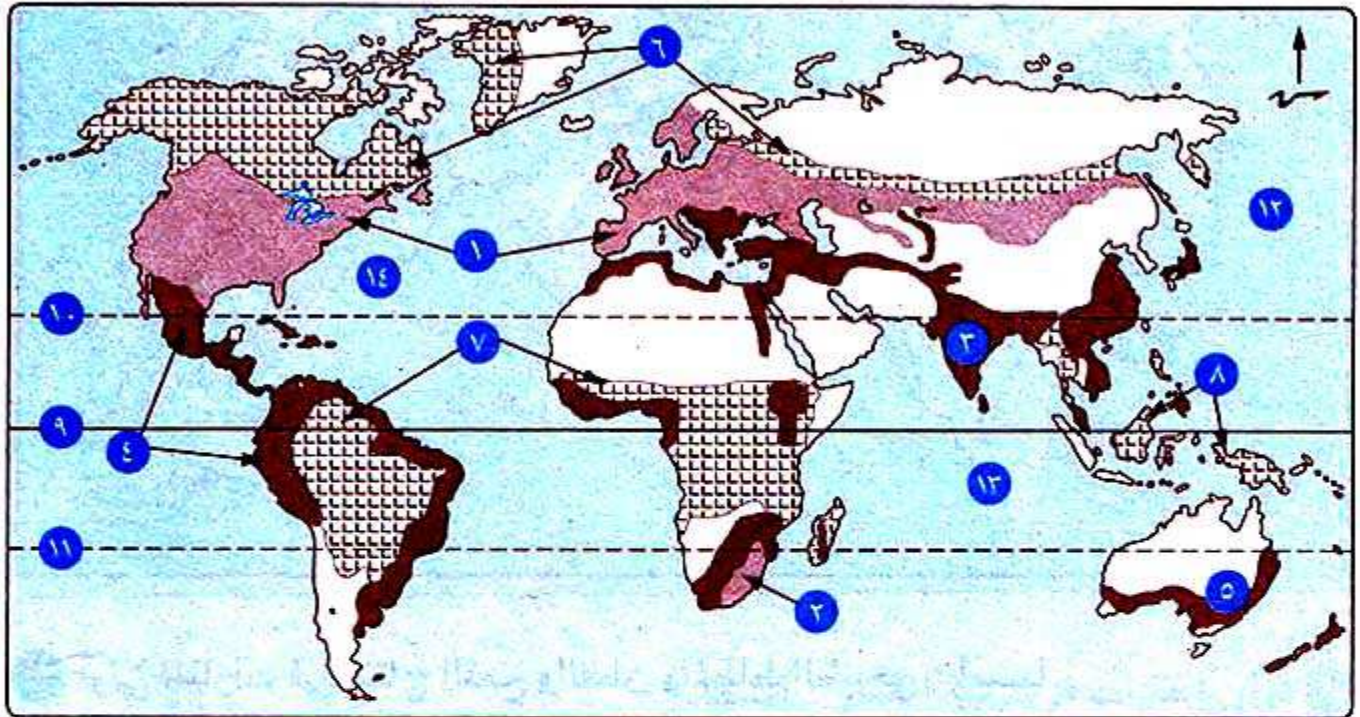
٥ ليست كل الدول الصناعية تتوافر بها المواد الخام بكميات كبيرة.

حيث تعد الولايات المتحدة الأمريكية أولى دول العالم إنتاجاً للألومنيوم برغم قلة إنتاجها من خام البوكسيت.

٦ ليست كل الدول المنتجة للمواد الخام دول صناعية.

حيث تصدر موريتانيا خام الحديد إلى الدول الصناعية مثل : اليابان وبريطانيا وذلك بسبب عدم توافر المقومات اللازمة لصناعته.

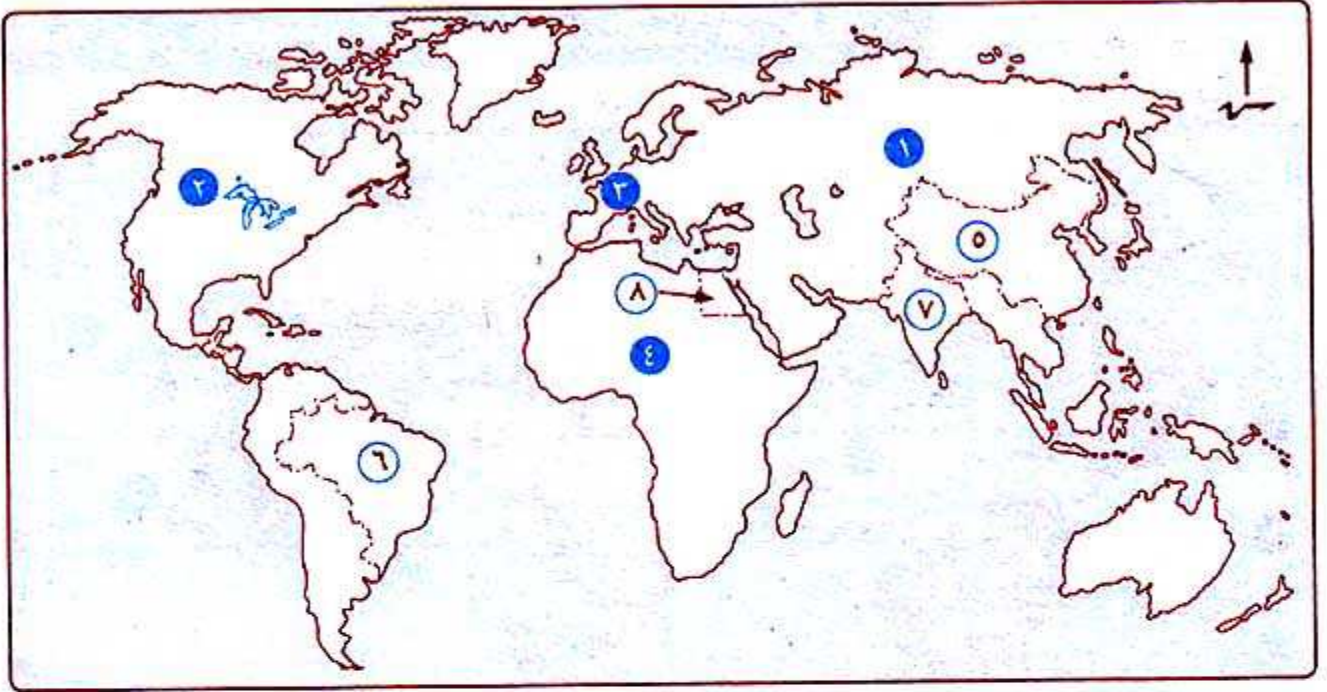
١ أهم المناطق الزراعية الأساسية في العالم



- ١ ، ٢ نوع الزراعة السائدة في هذه المنطقة : زراعة تجارية وعلمية.
- ٣ : ٥ نوع الزراعة السائدة في هذه المنطقة : زراعة كثيفة.
- ٦ : ٨ نوع الزراعة السائدة في هذه المنطقة : زراعة بسيطة (بدائية).
- ٩ دائرة عرض : دائرة الاستواء.
- ١٠ مدار : السرطان.
- ١١ مدار : الجدى.
- ١٢ المحيط : الهادى.
- ١٣ المحيط : الهندى.
- ١٤ المحيط : الأطلنطى.

أهم الموارد الزراعية الرئيسية في العالم

٢



١ أولى القارات في إنتاج القمح والقطن والمطاط الطبيعي : آسيا.

٢ أولى القارات في إنتاج الذرة ومن أهم القارات في إنتاج البنجر : أمريكا الشمالية.

٣ من أهم القارات في إنتاج البنجر : أوروبا.

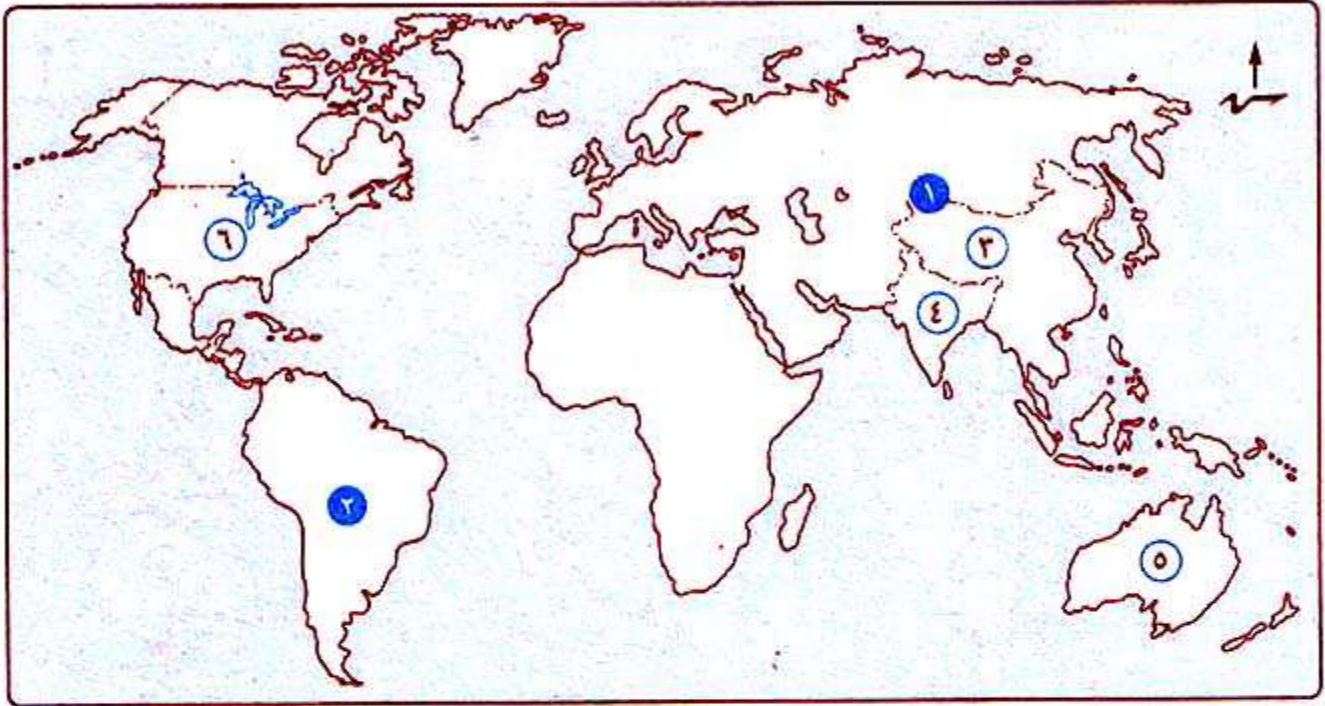
٤ ثانی القارات في إنتاج المطاط الطبيعي : أفريقيا.

٥ أولى الدول في إنتاج القمح والشاي ومن أهم الدول في إنتاج السكر : الصين.

٦ أولى الدول في إنتاج قصب السكر وفي إنتاج السكر : البرازيل.

٧ ثانی الدول في إنتاج القمح وفي إنتاج السكر : الهند.

٨ أكبر الدول في إنتاج البنجر في قارة أفريقيا : مصر.



١ أولى القارات فى تربية الأبقار : آسيا.

٢ ثانى قارات العالم فى تربية الأبقار : أمريكا الجنوبية.

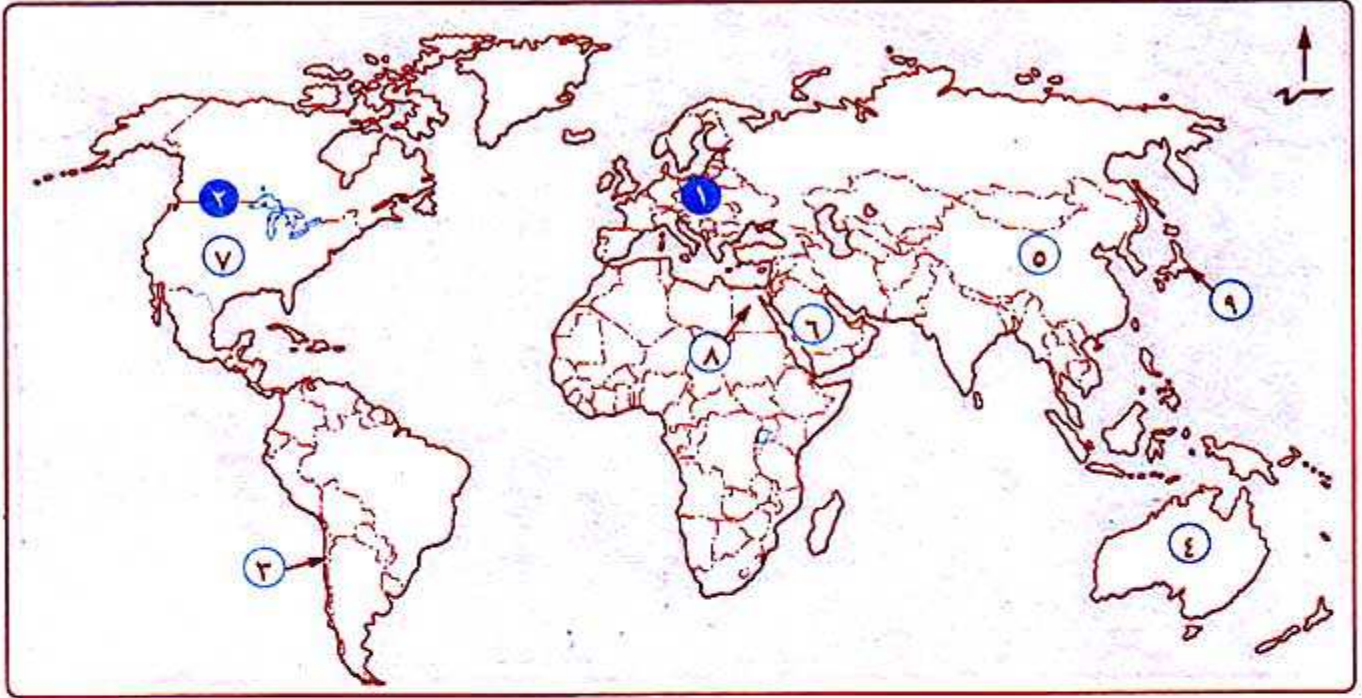
٣ أولى الدول فى إنتاج اللحوم الحمراء والأسماك وفى تربية الأغنام : الصين.

٤ أولى الدول فى إنتاج الألبان : الهند.

٥ أولى الدول فى إنتاج الأصواف : أستراليا.

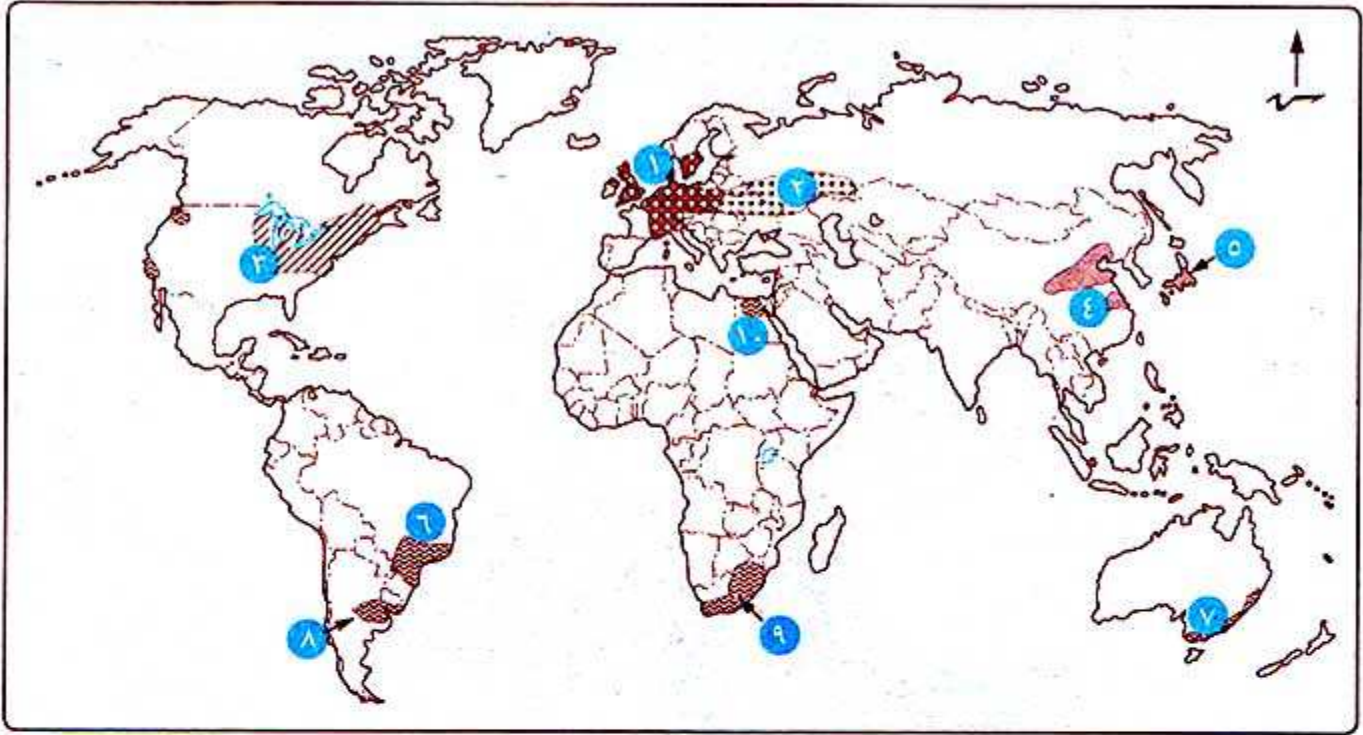
٦ أولى الدول فى تربية الدواجن : الولايات المتحدة الأمريكية.

٤ أهم المعادن ومصادر الطاقة في العالم



- ١ أولى القارات المنتجة للغاز الطبيعي والطاقة النووية : أوروبا.
- ٢ ثانياً القارات المنتجة للطاقة النووية : أمريكا الشمالية.
- ٣ أولى الدول المنتجة للنحاس : شيلي.
- ٤ أولى الدول المنتجة للأكسجين وثاني الدول المنتجة للحديد : أستراليا.
- ٥ أولى الدول المنتجة للحديد والفحم وثاني الدول المنتجة للنحاس : الصين.
- ٦ أولى الدول المنتجة للبترو : السعودية.
- ٧ أولى الدول المنتجة للألمنيوم وللغاز الطبيعي وثاني الدول إنتاجاً للفحم وثالث الدول إنتاجاً للبترو : الولايات المتحدة الأمريكية.
- ٨ أولى الدول العربية المنتجة للطاقة الكهربائية من الرياح : مصر.
- ٩ من الدول المصنعة للألمنيوم والمنتجة للطاقة الكهربائية من الأمواج وحركة المد والجزر : اليابان.

٥ أهم الأقاليم والمراكز الصناعية الرئيسية في العالم



■ إقليم صناعي :

١ إقليم غرب ووسط أوروبا.

■ إقليم صناعي :

٢ إقليم روسيا وأوكرانيا.

■ أكبر الأقاليم الصناعية في العالم الجديد :

٣ إقليم شمال شرق الولايات المتحدة الأمريكية.

■ أهم المراكز الصناعية في إقليم شرق آسيا :

٥ جزيرة هونشو باليابان.

٤ مناطق عديدة بالصين.

■ من المراكز الصناعية الحديثة :

٧ أستراليا.

٦ البرازيل.

٩ دولة جنوب أفريقيا.

٨ الأرجنتين.

١٠ مصر.

نماذج لبعض الدول النامية والمتقدمة

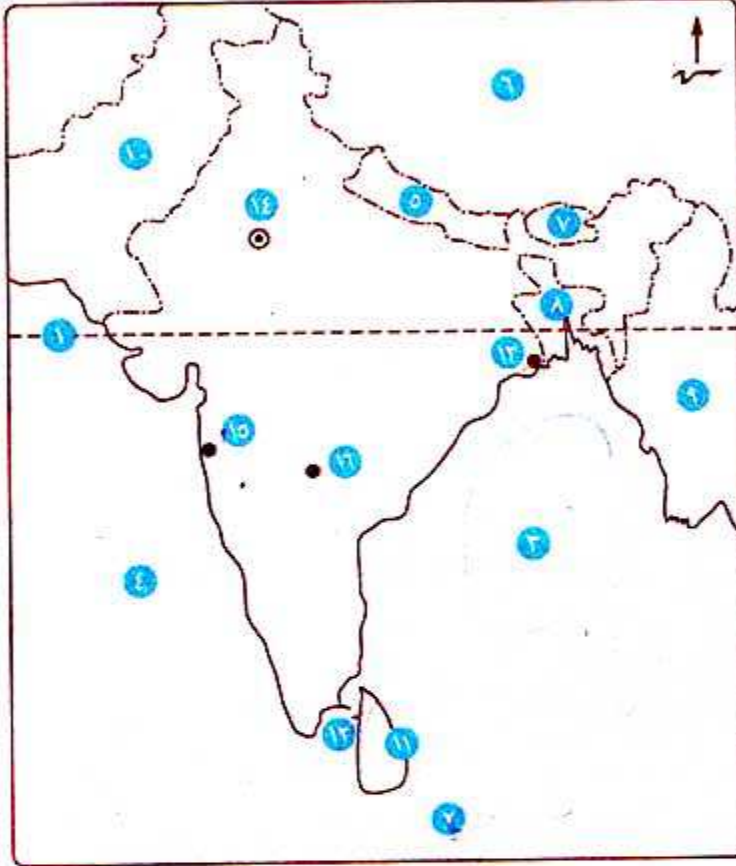
الوحدة
2



- | | |
|---|-----------------------------|
| ١ | جمهورية الهند. |
| ٢ | جمهورية البرازيل الاتحادية. |
| ٣ | جمهورية نيجيريا الاتحادية. |
| ٤ | ألمانيا الاتحادية. |
| ٥ | الولايات المتحدة الأمريكية. |

★ مقارنات عامة على الدول المقررة.

أولاً الموقع وأهم المدن...



* الهند تقع فى قارة آسيا وهى عبارة عن شبه جزيرة تحيط بها المياه من جميع الجهات عدا جهة الشمال وهى على شكل مثلث رأسه فى الجنوب.

١ مدار : السرطان.

٢ المحيط : الهندي.

٣ خليج : البنغال

(فى الشرق والجنوب الشرقى).

٤ البحر : العربى

(فى الغرب والجنوب الغربى).

٥ دولة : نيبال

٦ دولة : الصين { فى الشمال.

٧ دولة : بوتان

٨ دولة : بنجلاديش (معظمها داخل حدود الهند).

٩ دولة : ميانمار (فى الشمال الشرقى).

١٠ دولة : باكستان (فى الشمال الغربى).

١١ جزيرة : سيلان.

١٢ مضيق : بلك.

١٣ مدينة : كلكتا.

١٤ مدينة : نيودلهى : * العاصمة السياسية.

* تتميز بوجود الجامعات والمراكز الصناعية والمعالم التاريخية المهمة.

١٥ مدينة : بومباى : * العاصمة التجارية. * من أكبر المدن الصناعية بالهند.

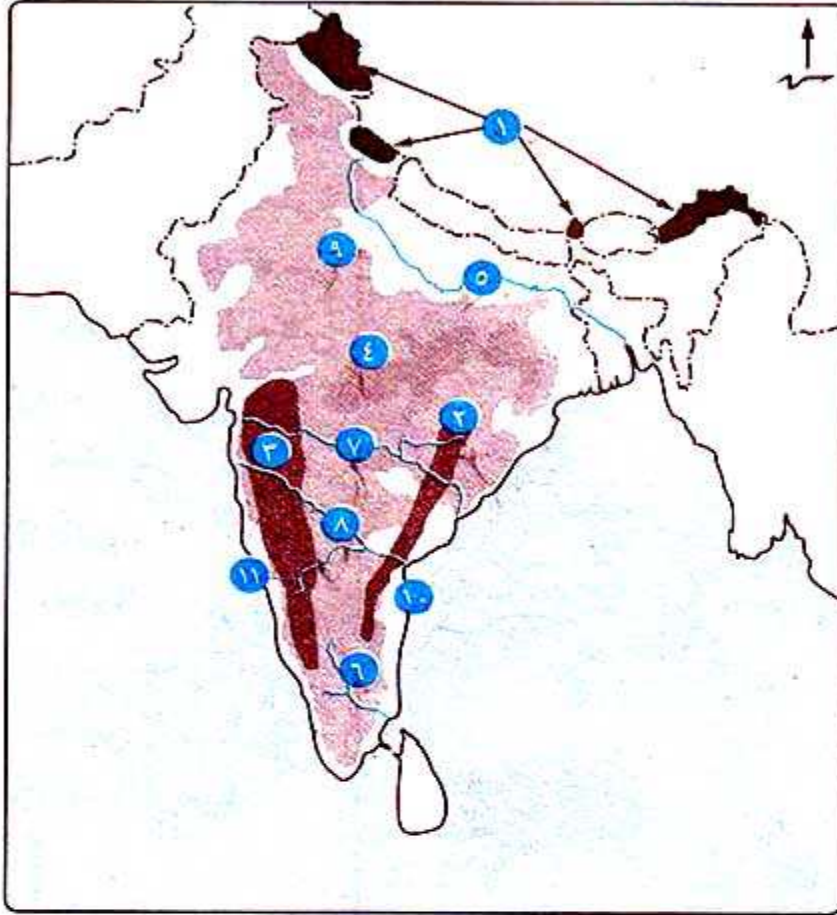
* أهم مدن الساحل الغربى فهى تُعد من أكبر الموانئ الهندية.

١٦ مدينة : حيدر أباد : * توجد بهضبة الدكن.

* من أكبر مراكز الصناعات اليدوية.

* تضم العديد من المراكز الإسلامية.

ثانياً التضاريس...



- ١ جبال الهيمالايا (في الشمال).
- ٢ جبال الغات الشرقية.
- ٣ جبال الغات الغربية.

الجبال

٤ هضبة الدكن (تمتد في شكل مثلث متقطع بالأنهار).

الهضاب

٥ نهر الجانج (في الشمال الشرقي).

٦ نهر كوثري (في الجنوب).

٧ نهر جوداڤاري.

٨ نهر كرشنا.

٩ الهندوستان.

مثل
سهول

الفيضية

السهول

١٠ كروماندل شرقاً على خليج البنغال.

١١ ملبار غرباً على البحر العربي.

مثل
سهول

الساحلية

١ تنوع الأنشطة الاقتصادية فى الهند.

بسبب توافر الموارد الاقتصادية بالهند سواء كانت موارد زراعية أو ثروات معدنية.

٢ تمتلك الهند ثروة حيوانية ضخمة.

بسبب كثرة المراعى حيث يوجد بها أعداد كبيرة من الأبقار والجاموس والأغنام.

٣ القيمة الاقتصادية المحدودة للأبقار فى الهند.

بسبب تحريم الديانة الهندوسية أكل لحوم الأبقار.

٤ تُعد الهند من الدول الرئيسية المنتجة للأسماك.

لأنها تطل على مسطحات مائية بجبهات ساحلية طويلة مثل : خليج البنغال والبحر العربى.

٥ تفوق الهند فى صناعة الحديد والصلب.

لأنها ثالث دول العالم إنتاجاً للفحم الذى يُعد أساس قيام صناعة الحديد والصلب.

٦ لجوء الهند لاستخدام الطاقة النووية والكهربائية.

لأنها تفتقر للبترول ومصادر الطاقة الأخرى.

٧ شهدت الهند قفزات سريعة فى تطور الصناعة.

بسبب :

- توافر مقومات الصناعة بها.

- الاهتمام بالتعليم والبحث العلمى.

رابعاً دال ...

١ تنوع النبات الطبيعي في الهند.

حيث :

- تنمو الغابات الموسمية على السواحل الغربية والشرقية.
- تنمو الحشائش القصيرة على هضبة الدكن.

٢ واجهت الهند المشكلة السكانية بسياسات تنموية مختلفة.

حيث اهتمت بالتعليم وتطوير البحث العلمي مما أدى إلى تطوير الزراعة والصناعة.

٣ تنوع العلاقات بين الهند ومصر.

حيث :

- توجد علاقات سياسية وثقافية وعلمية واقتصادية وتشهد نمواً كبيراً.
- تصدر مصر إلى الهند «القطن والأسمدة الخام والمصنعة والفوسفات والجلود».
- تستورد مصر من الهند «غزل القطن والشاي والسمن والتوابل وقطع غيار وسائل النقل».



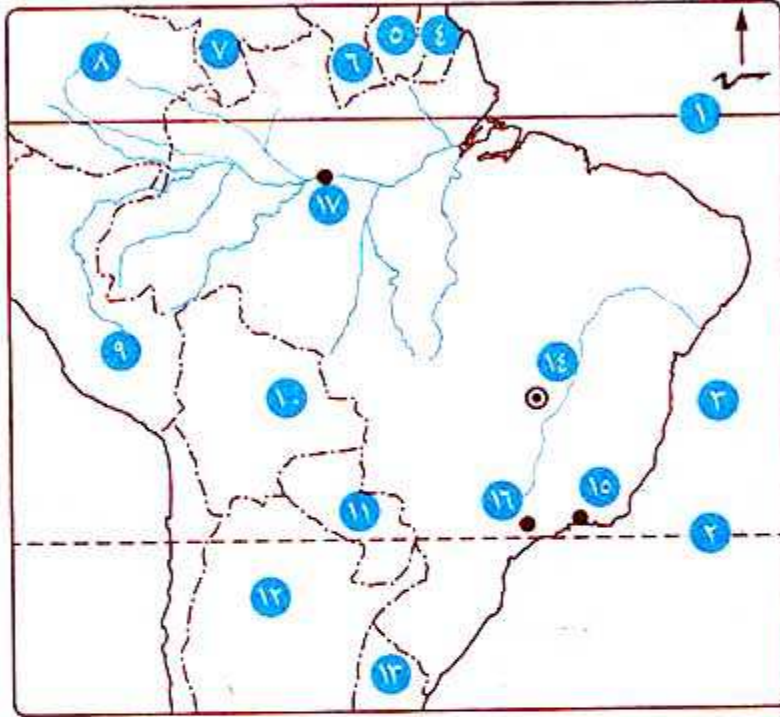
في العام
الدراسي القادم

احرص على اقتناء
كتب الامتحان
في جميع المواد

للف 1 الثانوى

* تشغل البرازيل حوالي نصف مساحة قارة أمريكا الجنوبية وتعد أكبر دول القارة مساحة.

أولاً الموقع وأهم المدن...



١ دائرة : الاستواء.

٢ مدار : الجدى.

٣ المحيط : الأطلنطى
(من الشرق والشمال الشرقى).

٤ دولة : جيانا الفرنسية.

٥ دولة : سورينام.

٦ دولة : جويانا.

٧ دولة : فنزويلا.

٨ دولة : كولومبيا.

٩ دولة : بيرو.

١٠ دولة : بوليفيا.

١١ دولة : باراجواى.

١٢ دولة : الأرجنتين.

١٣ دولة : أورجواى.

١٤ مدينة : برازيليا : * العاصمة الجديدة.

* من المدن التى أنشئت لتعمير هضبة البرازيل وإعادة توزيع السكان نحو الداخل.

١٥ مدينة : ريو دى جانيرو : * العاصمة القديمة.

* تُعد واحدة من

أجمل مدن العالم.

١٦ مدينة : ساو باولو : * تقع على المحيط الأطلنطى،

وتعتبر أهم الموانئ البرازيلية.

* تشتهر بمبانيها الضخمة

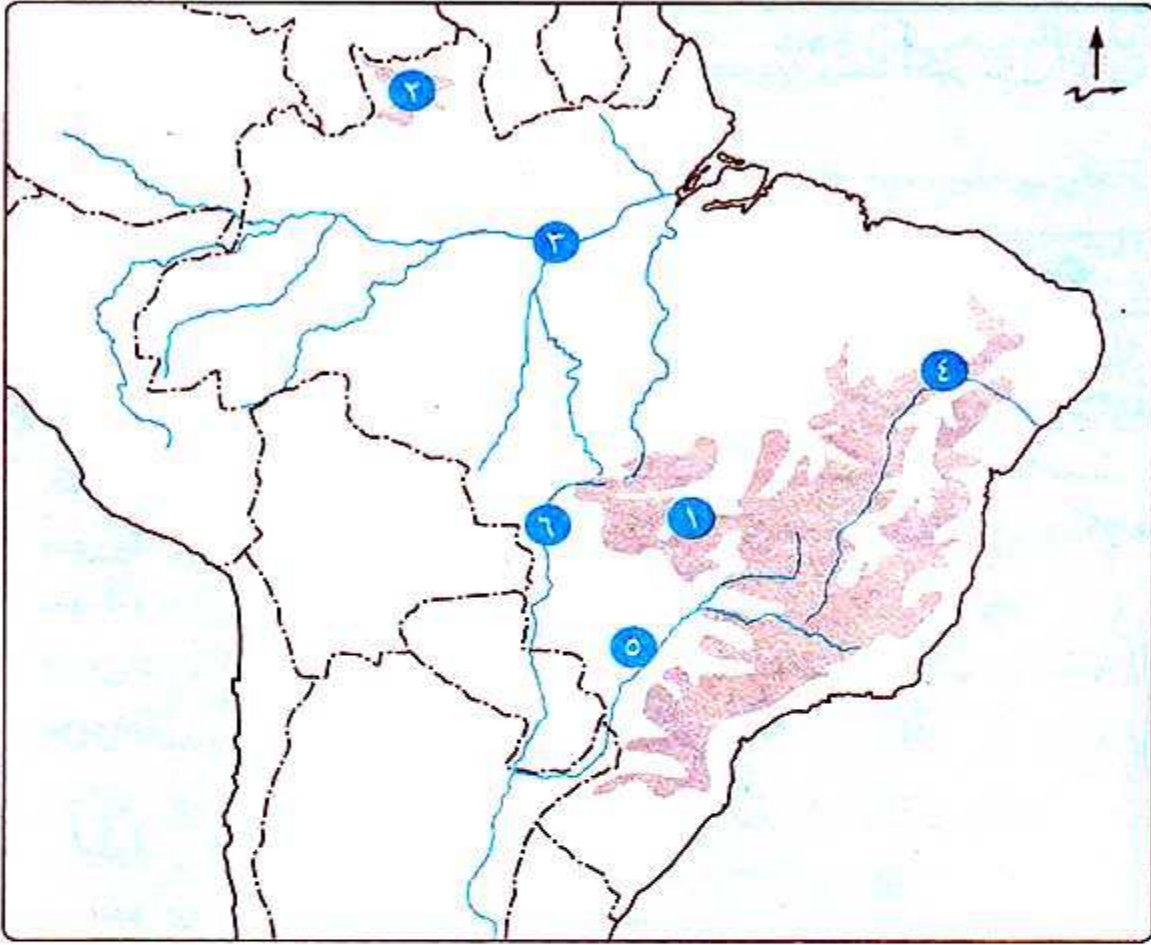
وشواطئها الرملية الواسعة.

• من المدن الرئيسية التى يتركز بها السكان.

• تتركز الصناعة بالقرب منهما فى (جنوب شرق البرازيل).

١٧ مدينة : ميناؤوس من المدن التى أنشئت على نهر الأمازون لإعادة توزيع السكان نحو الداخل.

ثانياً التضاريس...



١ هضبة البرازيل (في الوسط والجنوب).
٢ هضبة جيانا (في الشمال).

الهضاب

٣ نهر الأمازون.
٤ نهر ساو فرانسيسكو.
٥ نهر بارانا.
٦ نهر باراجواي.

الأنهار

مثل سهل حوض نهر الأمازون.

الفيضية

ضيقة تطل على المحيط الأطلنطي.

الساحلية

السهول

١ تنتشر حشائش الساقانا فوق هضبة البرازيل.

بسبب وقوع هضبة البرازيل فى نطاق المناخ المدارى الحار.

٢ البرازيل من الدول التى تعاني من قلة السكان رغم أن عدد سكانها ٢٠٣ مليون نسمة.

بسبب مساحتها الواسعة، ووجود مناطق شبه خالية من السكان مثل سهول الأمازون.

٣ يتركز السكان فى البرازيل فى الساحل الجنوبى الشرقى.

بسبب وجود العديد من المدن الرئيسية، مثل :

- ريو دى جانيرو.

- ساو باولو.

٤ إنشاء البرازيل مدن جديدة مثل ميناؤوس وبرازيليا.

بهدف إعمار هضبة البرازيل وإعادة توزيع السكان نحو الداخل.

٥ امتلاك البرازيل ثروة حيوانية كبيرة ومتنوعة.

بسبب وجود المراعى الدائمة (الغنية) فى شمال هضبة البرازيل.

٦ تُعد البرازيل من الدول المنتجة للأسماك.

بسبب :

- امتلاكها سواحل طويلة على المحيط الأطلنطى والبحر الكاريبى.

- وجود نهر الأمازون.

رابعاً ما النتائج المترتبة على ...

١ الموقع الفلكي للبرازيل.

ترتب على ذلك :

- وقوع معظم البرازيل فى المناطق الاستوائية والمدارية.
- سيادة المناخ المعتدل الرطب فى أقصى جنوب شرق البرازيل.

٢ امتلاك البرازيل ثروة حيوانية كبيرة.

ترتب على ذلك أن أصبحت البرازيل من الدول الرئيسية المنتجة والمصدرة للحوم.

خامساً دلائل ...

١ يسود المظهر الهضبي فى البرازيل.

حيث توجد :

- هضبة البرازيل فى الوسط والجنوب.
- بعض الهضاب فى الشمال.

٢ تنوع المناخ فى البرازيل.

حيث :

- يسود المناخ الاستوائى (شديد الحرارة طوال العام) فى حوض الأمازون والسهل الساحلى الشمالى للبرازيل.
- يسود المناخ المدارى الحار فى السهول الشرقية وهضبة البرازيل.
- يسود المناخ المعتدل الرطب فى أقصى جنوب شرق البرازيل.

٣ تنوع النبات الطبيعى فى البرازيل.

حيث :

- تسود الغابات الاستوائية فى حوض الأمازون وتعد أكبر غابة استوائية فى العالم.
- تنمو حشائش الساقانا فوق هضبة البرازيل.
- تنمو الحشائش المعتدلة فى أطراف البرازيل الجنوبية.

٤ سكان البرازيل خليط من أجناس مختلفة.

حيث يتكون سكان البرازيل من :

- الهنود الحمر (السكان الأصليون).
- الأوروبيون.
- العناصر السوداء (ذات الأصول الأفريقية).

٥ شهدت البرازيل تطوراً كبيراً في الصناعة.

حيث :

- في الماضي : كانت الصناعة تقتصر على الصناعات الغذائية والمنسوجات والصناعات الكيماوية.
- الآن : تطورت وظهرت الصناعات الثقيلة كصناعة الحديد والصلب والسيارات والطائرات والآلات الكهربائية وصناعة الأسمنت.

٦ * وجود تبادل تجارى بين مصر والبرازيل.

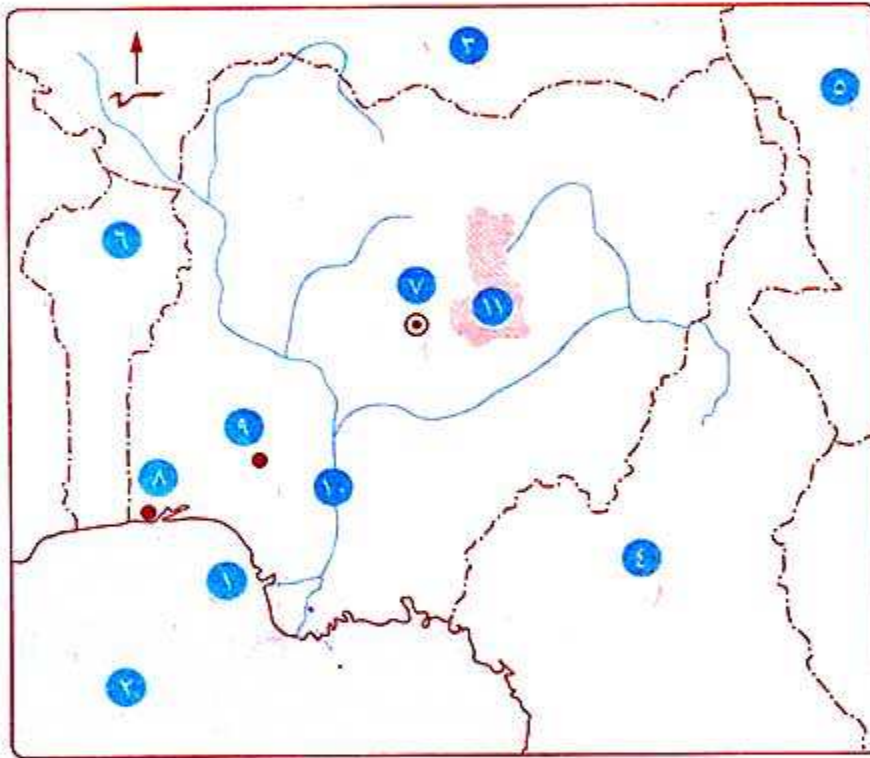
* قوة العلاقات الاقتصادية بين مصر والبرازيل.

حيث :

- تصدر مصر إلى البرازيل : الأقطان، المواد الغذائية، الأثاث، المنسوجات، الأسمدة.
- تستورد مصر من البرازيل : الحبوب الغذائية (خاصة الزيتية)، السكر، اللحوم، البن، المعادن (خاصة الحديد).

أولاً الموقع وأهم المدن...

- ١ خليج : غينيا
- ٢ المحيط : الأطلنطي
- ٣ دولة : النيجر (فى الشمال).
- ٤ دولة : الكاميرون
- ٥ دولة : تشاد
- ٦ دولة : بنين (فى الغرب).
- ٧ مدينة : أبوجا : * العاصمة الحالية.
- ٨ مدينة : لاجوس : * العاصمة القديمة. * تعتبر العاصمة الاقتصادية. * أكبر المدن النيجيرية وأكثرها تكدساً بالسكان.
- ٩ مدينة : إيبادان : * ثانى المدن أهمية بعد لاجوس. * تعتبر مركزاً للتجارة والتعليم والمواصلات.



ثانياً التضاريس...

- السهول
 - الفيضية (السهول الشمالية) كونتها الأنهار مثل ١٠ نهر النيجر وتعتمد عليه نيجيريا فى الرى والزراعة.
 - الساحلية منخفضة تقع على خليج غينيا جنوباً وينتهى عندها نهر النيجر فى دلتا واسعة.
- الهضاب — ١١ هضبة چوس تقع وسط السهول الشمالية.
- التلال — أراض مرتفعة تلى السهول الساحلية وتزداد ارتفاعاً فى الشمال الغربى.

ثالثاً بم تفسر ...

١ تنوع النبات الطبيعي فى نيجيريا.

بسبب وقوع معظم نيجيريا ضمن إقليم المناخ المدارى المرتفع الحرارة والمطر صيفاً فتنمو حشائش الساقانا، بينما تقع الأطراف الجنوبية ضمن إقليم المناخ الاستوائى المرتفع الحرارة والمطر طوال العام فتنمو الغابات الاستوائية والمدارية.

٢ ارتفاع الكثافة السكانية بدولة نيجيريا فى الغرب والسهول الشمالية وهضبة چوس.
بسبب وجود الأراضى الزراعية والمراعى ومناطق التعدين.

٣ قلة عدد السكان فى دلتا النيجر جنوب نيجيريا.
بسبب وجود الغابات الكثيفة والظروف المناخية القاسية.

٤ وجود أعداد كبيرة من الأبقار والأغنام والماعز فى نيجيريا.
بسبب وجود مراعى حشائش الساقانا.

٥ تنتج نيجيريا كميات كبيرة من الأسماك.
لأن بها :

- ساحل طويل على خليج غينيا.
- أنهار وبحيرات بالداخل.

رابعاً دلل ...

١ يسود المناخ الحار فى نيجيريا.

حيث يقع معظم نيجيريا ضمن المناخ المدارى ذى الحرارة المرتفعة والمطر الصيفى، بينما تقع الأطراف الجنوبية ضمن المناخ الاستوائى ذى الحرارة المرتفعة والأمطار طوال العام.

٢ تنوع النبات الطبيعي فى نيجيريا.

حيث تغطى الغابات الاستوائية والمدارية الجزء الجنوبى لنيجيريا، بينما تنمو حشائش الساقانا شمال الغابات المدارية.

٣

يُعد اقتصاد نيجيريا اقتصاداً نامياً على الرغم من تنوع مواردها الاقتصادية. **حيث** يعتمد اقتصادها على الزراعة فى المقام الأول كما أن الصناعة ليست متطورة أو متنوعة.

٤

تنوع المحاصيل الزراعية بنيجيريا.

حيث :

- يُزرع فى الجنوب :
- ♦ المطاط وتُعد أولى دول أفريقيا إنتاجاً له.
- ♦ الأرز وتُعد ثانياً دول أفريقيا إنتاجاً له بعد مصر ويزرع فى دلتا نهر النيجر.
- يُزرع فى الوسط والشمال :
- الذرة الشامية، والذرة الرفيعة، والكاكاو، والفاول السودانى ونخيل الزيت.

٥

وجود ثروات معدنية ومصادر طاقة بنيجيريا.

حيث يوجد بها :

- معدن القصدير : يستخرج من هضبة چوس.
- الفحم : يستخرج من المنطقة الشرقية.
- البترول : يستخرج من المنطقة القريبة من الساحل فى الجنوب الشرقى وينتج منه نحو ٣ ٪ من الإنتاج العالمى.

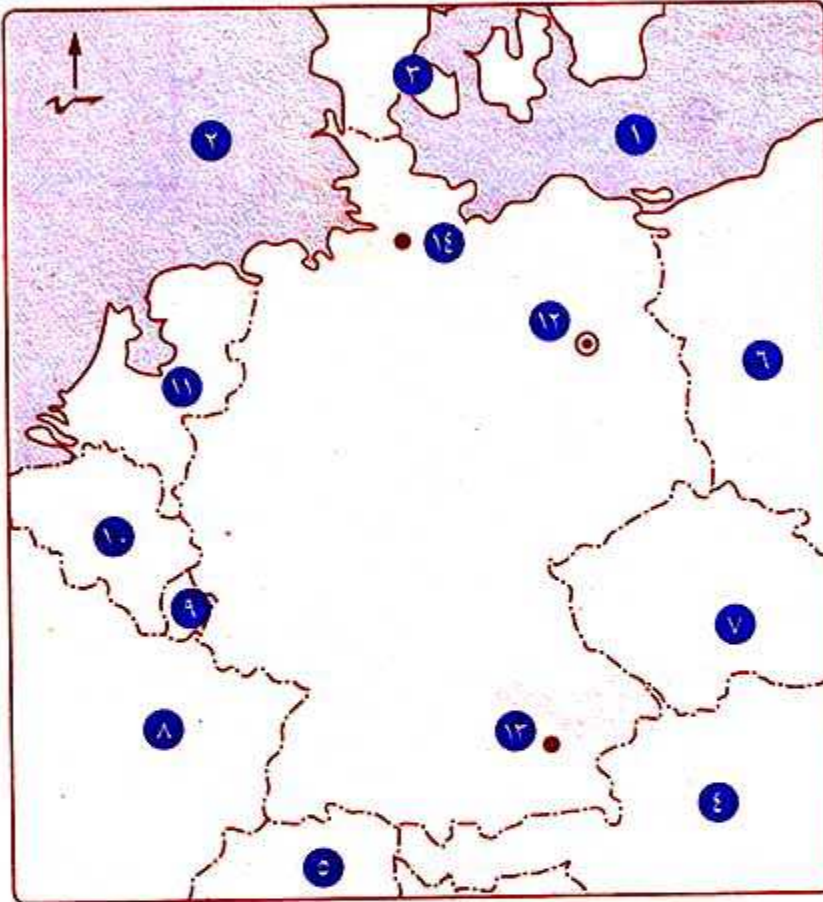
٦

وجود علاقات اقتصادية بين مصر ونيجيريا.

حيث :

- تصدر مصر إلى نيجيريا : الأسمدة، المعدات الثقيلة، الأسلاك النحاسية، الإطارات، مواسير الألومنيوم، المحولات الكهربائية.
- تستورد مصر من نيجيريا : السلع الزراعية وأهمها الحبوب الزيتية.

أولاً الموقع وأهم المدن...



- ١ البحر : البلطى
- ٢ بحر : الشمال
- ٣ دولة : الدنمارك
- ٤ دولة : النمسا
- ٥ دولة : سويسرا
- ٦ دولة : بولندا
- ٧ دولة : التشيك
- ٨ دولة : فرنسا
- ٩ دولة : لوكسمبورج
- ١٠ دولة : بلجيكا
- ١١ دولة : هولندا

١٢ مدينة : برلين : * العاصمة السياسية.

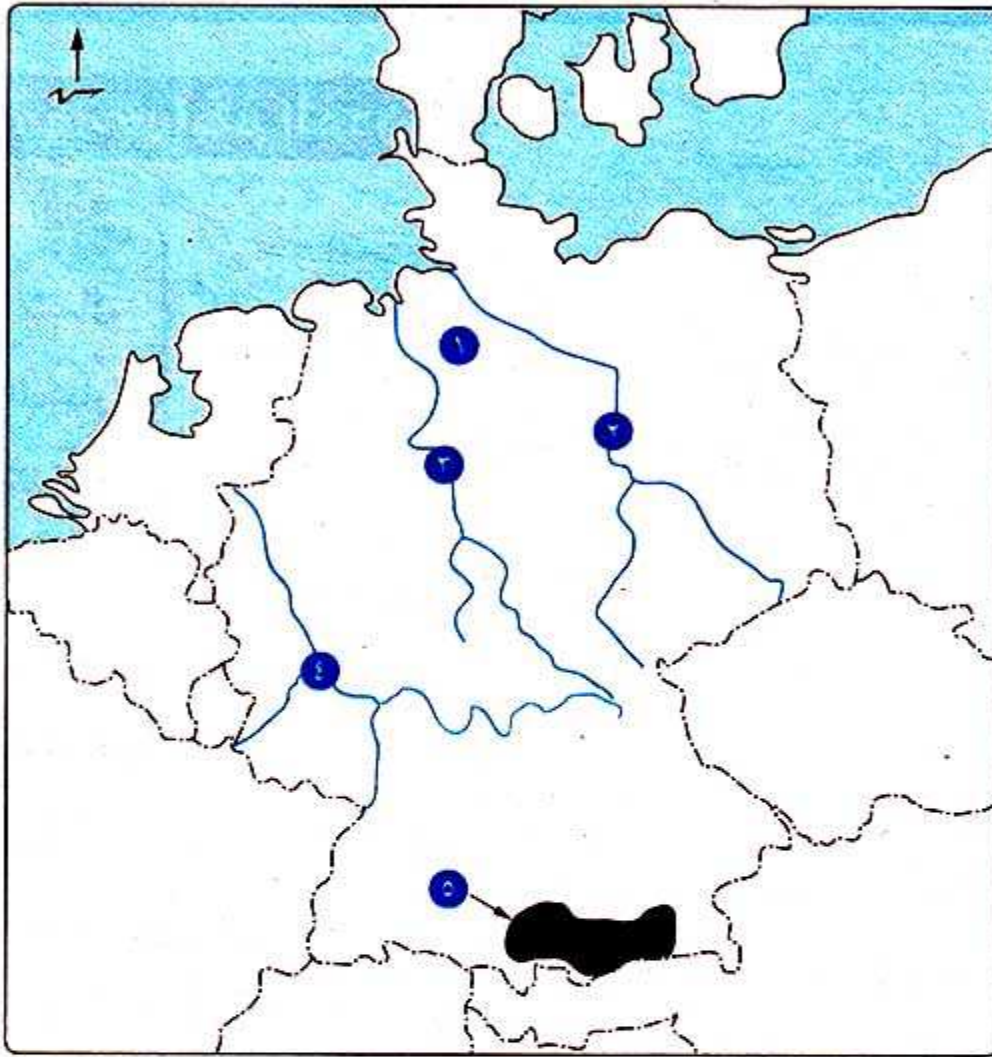
* يبلغ عدد سكانها نحو ٣,٤ مليون نسمة.

١٣ مدينة : ميونخ : * عاصمة إقليم بافاريا جنوب ألمانيا.

* يوجد بها مقر عدد من الشركات والمصانع الألمانية العالمية.

١٤ مدينة : هامبورج أهم موانئ ألمانيا، وقريبة من بحر الشمال.

ثانياً التضاريس...



من أكبر الأقاليم التضاريسية في ألمانيا.

جزء من السهل الأوروبي العظيم الخصب ويبدأ في الشمال بالسهول الساحلية.

تجرى خلاله أنهار تصب في بحر الشمال أهمها:

نهر إلب، نهر فيزر، نهر الراين.

تنتشر به المستنقعات في الشمال قرب الساحل.

١
السهل
الألماني الشمالي

هضاب متقطعة تفصل بينها سهول خصبة تجرى فيها أنهار تتجه نحو الشمال.

تغطي بالغابات المخروطية وتكثر بها التلال والينابيع المائية.

٢
المرتفعات
الوسطى

تُعد جزءاً من جبال الألب الأوروبية وتقطعها الأنهار.

توجد بها أعلى القمم الجبلية بألمانيا ويكسوها الجليد.

تنمو على منحدراتها الغابات المخروطية والنفضية.

٣
جبال الألب

ثالثاً بم تفسر ...

١

تُعد المرتفعات الوسطى فى ألمانيا مناطق جذب للسياح.
لأن المرتفعات الوسطى تغطى بالغابات المخروطية وتكثر بها التلال والينابيع المائية.

٢

انكماش مساحة الحشائش بالسهل الساحلى فى ألمانيا فى الوقت الحالى.
بسبب إحلال الزراعة محلها والتوسع العمرانى.

٣

تطور الصناعات الألمانية بعد الحرب العالمية الثانية.
بسبب توافر مقومات الصناعة وتدفق الاستثمارات وتوافر المراكز العلمية المتقدمة.

رابعاً ما النتائج المترتبة على ...

١

وقوع ألمانيا فى نطاق مناخ غرب أوروبا.
ترتب على ذلك : - اعتدال المناخ صيفاً مع ارتفاع درجة الحرارة كلما اتجهنا نحو الشرق.
- انخفاض درجة الحرارة شتاءً إلى ما دون الصفر المئوى خاصة بالداخل.
- سقوط الأمطار طوال العام خاصة فى الشمال.

٢

استخدام ألمانيا للتكنولوجيا والأساليب العلمية المتقدمة فى الأنشطة الاقتصادية.
ترتب على ذلك :
- تقدم الزراعة لاعتمادها على التكنولوجيا الحديثة.
- تربية الماشية والخنازير والأغنام لإنتاج اللحوم والألبان فى حظائر بأساليب علمية حديثة.
- توسع وتطور الصناعات الألمانية بعد الحرب العالمية الثانية لتوافر المراكز العلمية المتقدمة.

خامساً دلل ...

١

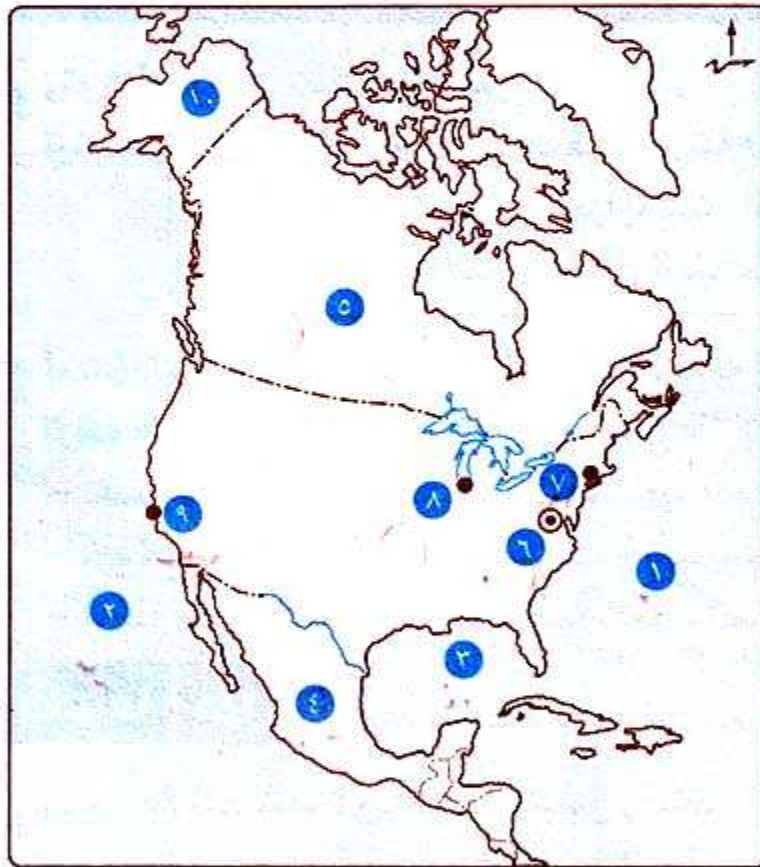
وجود علاقات ثقافية وعلمية بين مصر وألمانيا.
حيث توجد : - هيئة التبادل العلمى الألمانية.
- الجامعة الألمانية بالقاهرة.
- المركز الثقافى الألمانى.
- معهد الآثار الألمانى.

٢

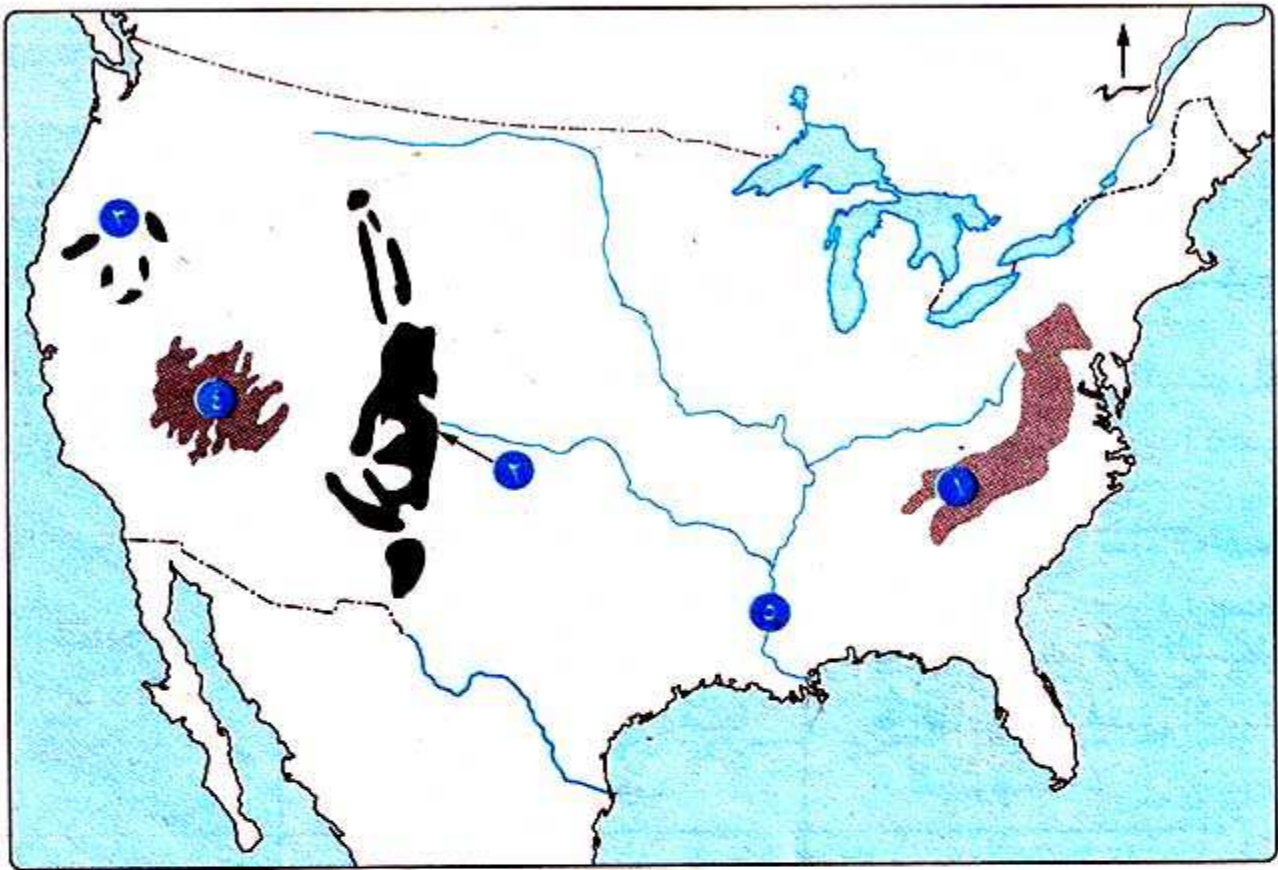
قوة العلاقات الاقتصادية بين مصر وألمانيا.
حيث : - تمول ألمانيا محطات توليد الكهرباء من الرياح فى مصر.
- تصدر مصر لألمانيا «البتروى والغاز الطبيعى والملابس».
- تستورد مصر من ألمانيا «الصناعات الكيماوية والآلات والسيارات».

- * تتكون من ٥٠ ولاية، منها ولايتان تقعان خارج موقعها الفلكي والجغرافي هما :
 - هاواي (مجموعة جزر وسط المحيط الهادى).
 - ألاسكا (أقصى شمال غرب أمريكا الشمالية).
- * تُعد رابع أكبر دول العالم من حيث المساحة بعد روسيا وكندا والصين.

أولاً الموقع وأهم المدن...



- ١ المحيط : الأطلنطى (فى الشرق).
- ٢ المحيط : الهادى (فى الغرب).
- ٣ خليج : المكسيك { فى الجنوب.
- ٤ دولة : المكسيك {
- ٥ دولة : كندا (فى الشمال).
- ٦ مدينة : واشنطن :
 - * العاصمة السياسية.
 - * تطل على المحيط الأطلنطى.
- ٧ مدينة : نيويورك :
 - * بها مقر الأمم المتحدة.
 - * ميناء مهم، وتطل على المحيط الأطلنطى.
- ٨ مدينة : شيكاغو :
 - * أكبر مدن السهول الوسطى.
 - * تقع على بحيرة متشجن.
- ٩ مدينة : سان فرانسيسكو أكبر الموانئ الأمريكية على ساحل المحيط الهادى.
- ١٠ ولاية : ألاسكا.



١ جبال الأبالاش (في الشرق).

٢ جبال روكي (أعلى السلاسل الجبلية)

٣ جبال كسكيد

في الغرب.

٤ هضبة كلورادو

الجبال

الهضاب

• السهل الساحلي الشرقي وساحل خليج المكسيك، ويتميز باستواء السطح والتعرج وظهور الخلجان، ويتسع بالاتجاه نحو الجنوب.

• السهول الوسطى ممتدة من إقليم البحيرات العظمى شمالاً

حتى خليج المكسيك جنوباً ويجري فيها ٥ نهر المسيسيبي.

السهول

ثالث المناخ والنبات الطبيعي...

* يتنوع المناخ والنبات الطبيعي بالولايات المتحدة الأمريكية، كما يلي :

المنطقة	الخصائص المناخية بها	النبات الطبيعي بها
الساحل الجنوبي الشرقي ودلتا نهر المسيسيبي	* يسودها المناخ شبه المداري الحار مع أمطار غزيرة طوال العام والذي يتأثر بالأعاصير المدارية المدمرة.	* تنتشر به غابات الإقليم الصيني.
السهول الوسطى	* تختلف خصائصها المناخية من منطقة لأخرى نظرًا لاتساعها وامتدادها من الشمال للجنوب.	* تنتشر بها : • الحشائش فى الوسط. • الغابات فى أقصى الجنوب.
الإقليم الجبلى والهضبي فى الغرب	* تقل الأمطار على الأحواض الجنوبية حيث صحراء أريزونا الحارة الجافة. * تسقط الأمطار الغزيرة وتنخفض الحرارة على المرتفعات الشمالية الغربية.	* تنتشر بها الأعشاب الصحراوية. * تنتشر بها الحشائش والنباتات الجبلية.

رابعًا بم تفسر ...

* يُعد إقليم نيوإنجلند بالولايات المتحدة الأمريكية أكثر الأقاليم اكتظاظًا بالسكان.

* يتركز نحو ٥٠ ٪ من سكان الولايات المتحدة الأمريكية فى إقليم نيوإنجلند.

بسبب : - وجود المدن الكبرى مثل نيويورك.

- وجود المناطق الصناعية والتجارية الكبرى.

٢ ارتفاع الكثافة السكانية فى الساحل الغربى للولايات المتحدة الأمريكية.
بسبب :

- وجود المناطق الصناعية والمدن الكبرى مثل سان فرانسيسكو، ولوس أنجلوس.
- وجود المناطق الزراعية الخصبة.

٣ يقل السكان فى نطاق المرتفعات والأحواض الغربية بالولايات المتحدة الأمريكية.
بسبب الظروف الطبيعية الصعبة.

٤ يقل عدد السكان فى ولاية ألاسكا.
بسبب برودة الجو.

٥ ضخامة وتنوع الإنتاج الزراعى فى الولايات المتحدة الأمريكية.
بسبب :

- توافر الأراضى الزراعية الخصبة الواسعة التى توجد فى سهول نهر المسيسبى فى الوسط، وفى الجنوب الشرقى، وفى الوادى الأوسط بكاليفورنيا، وعلى جوانب المرتفعات.
- اعتماد الولايات المتحدة الأمريكية على التكنولوجيا الحديثة.

٦ توجد ثروة سمكية كبيرة بالولايات المتحدة الأمريكية.
بسبب وقوعها على محيطين كبيرين هما الأطلنطى والهادى إلى جانب وجود الأنهار والبحيرات.

٧ تُعد الولايات المتحدة الأمريكية القوة الصناعية الأولى فى العالم وأولى الدول الصناعية السبع.
بسبب :

- توافر كل مقومات الصناعة بها.
- إسهامها بحصص مرتفعة من الإنتاج العالمى فى عدة صناعات، منها :
 - ♦ صناعة السيارات.
 - ♦ صناعة الألومنيوم.
 - ♦ صناعة الطائرات وسفن الفضاء والأقمار الصناعية حيث تحتل المراتب الأولى عالمياً فى هذه الصناعات.
 - ♦ الصناعات الإلكترونية والكهربائية حيث تنتج ثلث الإنتاج العالمى منها.

خامساً ما النتائج المترتبة على ...

١ اتساع مساحة الولايات المتحدة وتنوع تضاريسها.
ترتب على ذلك تنوع المناخ وبالتالي تنوع النبات الطبيعي من منطقة لأخرى.

٢ وفرة الموارد الطبيعية وتنوعها بالولايات المتحدة الأمريكية.
أدى ذلك إلى تعدد الأنشطة الاقتصادية وضخامة الإنتاج وبالتالي أصبحت الولايات المتحدة الأمريكية القوة الاقتصادية الأولى في العالم.

سادساً دلل ...

١ توجد بالولايات المتحدة الأمريكية ثروة حيوانية ضخمة.
حيث تربي الولايات المتحدة الأمريكية أعداد كبيرة من الأبقار، والأغنام، والخنازير لإنتاج اللحوم التي يُصدر جزء منها إلى الخارج، بالإضافة إلى إنتاج الألبان والجلود.

٢ تتعدد مناطق الصناعة الرئيسية بالولايات المتحدة الأمريكية.
حيث يوجد بها :

- منطقة الشمال الشرقي والتي تضم نطاق المدن الصناعية الكبرى ومنها منطقة البحيرات العظمى.
- منطقة الجنوب وتشمل مدن صناعية أهمها برمنجهام.
- منطقة الغرب الساحلي وتضم مدن صناعية أهمها سان فرانسيسكو.

٣ ترتبط مصر مع الولايات المتحدة الأمريكية بعلاقات قوية في مختلف المجالات.
حيث :

- توجد اتفاقيات بين البلدين في إطار التعاون الاقتصادي والتكنولوجي والثقافي والعلمي.
- توجد اتفاقيات تجارية بين البلدين منها اتفاقية منطقة التجارة الحرة واتفاقية المناطق الصناعية المؤهلة (الكويز).
- تستورد مصر من الولايات المتحدة الأمريكية منتجات تكنولوجية حديثة وأسلحة وطائرات.

مقارنات عامة على الدول المقررة

١	من الدول النامية				من الدول المتقدمة	
	الهند	البرازيل	نيجيريا	ألمانيا	الولايات المتحدة الأمريكية	
الموقع الفلكي	<p>* تمتد بين : • دائرتي عرض ٥٨ : ٢٥ شمالاً. • خطي طول ٩٧ ، ٥٦٨ شرقاً.</p>	<p>* تمتد بين : • دائرتي عرض ٥ شمالاً ، ٢٣ جنوباً. • خطي طول ٧٤ ، ٢٥ غرباً.</p>	<p>* تمتد بين : • دائرتي عرض ٥٤ : ١٤ شمالاً. • خطي طول ١٤٢ ، ٢٠ شرقاً.</p>	<p>* تمتد بين : • دائرتي عرض ٢٠ ، ٥٤٧ شمالاً. • خطي طول ١٤٢ ، ٥٦ شرقاً.</p>	<p>* تمتد بين : • دائرتي عرض ٢٥ ، ٤٩ شمالاً. • خطي طول ١٢٥ ، ٩٧ غرباً.</p>	
الموقع الجغرافي	<p>* تقع في قارة آسيا ويحدها من : • الشمال : نيبال والصين وبتان. • الشمال الشرقي : ميانمار. • الشمال الغربي : باكستان. • الشرق : البحر العربي. • الغرب والجنوب الغربي : خليج البنغال. • الشرق : البحر العربي.</p>	<p>* تقع في قارة أمريكا الجنوبية ويحدها : • من الشرق والشمال الشرقي : البحر الاطلنطي. • عدد كبير من الدول : - جيانا الفرنسية. - سورينام. - جويانا. - فنزويلا. - كولومبيا. - بيرو. - بوليفيا. - باراجواي. - الأرجنتين. - أورجواي.</p>	<p>* تقع غرب قارة أفريقيا ويحدها من : • الشمال : دولة النيجر. • الجنوب : البحر الاطلنطي (خليج غينيا). • الشرق : تشاد والكاميرون. • الغرب : بنين.</p>	<p>* تقع غرب قارة أوروبا ويحدها من : • الشمال : البحر البلطي ودولة الدنمارك وبحر الشمال. • الجنوب : النمسا وسويسرا. • الشرق : بولندا والتيشيك. • الغرب : هولندا وبيلجيك ولوكسمبورج وفرنسا.</p>	<p>* تقع في قارة أمريكا الشمالية ويحدها من : • الشمال : كندا. • الجنوب : دولة المكسيك وخليج المكسيك. • الشرق : البحر الاطلنطي. • الغرب : البحر الهادي.</p>	

من الدول المتقدمة		من الدول النامية		
الولايات المتحدة الأمريكية	ألمانيا	نيجيريا	البرازيل	الهند
<p>* تنوع من الشرق إلى الغرب كالآتي :</p> <ul style="list-style-type: none"> • السهل الساحلي الشرقي وساحل خليج المكسيك. • المرتفعات الشرقية : يطلق عليها جبال الأبلاش. • السهل الوسطي : يجري فيها نهر المسيسيبي. • نطاق المرتفعات والأحواض الجبلية الغربية، تتكون من : <ul style="list-style-type: none"> - سلاسل جبلية - أعلاها جبال روكي. - هضاب مرتفعة أهمها هضبة كورادو. • السلاسل الجبلية الغربية (الساحلية) منها جبال كسكيد. 	<p>* تنقسم إلى :</p> <ul style="list-style-type: none"> • السهل الألماني الشمالي : - يُعد من أكبر الأقاليم التضاريسية في ألمانيا. - تجري خلاله عدة أنهار تصب في بحر الشمال، أهمها : <ul style="list-style-type: none"> ◆ نهر إلب. ◆ نهر الراين. • المرتفعات الوسطي : تُغطي بالغابات المخروطية. • جبال الألب : - بها أعلى القمم الجبلية بألمانيا. - تنمو على منحدراتها الغابات المخروطية والنفضية. 	<p>* تنقسم إلى :</p> <ul style="list-style-type: none"> • سهول فيضية : يجري بها نهر النيجر. • سهول ساحلية : منخفضة على خليج غينيا جنوبًا. • الهضاب : هضبة جوس وتقع وسط السهول الشمالية. • التلال : أراضي مرتفعة تلي السهول الساحلية وتزداد ارتفاعاً في الشمال الغربي. 	<p>* تنقسم إلى :</p> <ul style="list-style-type: none"> • هضاب (تسود معظم الأراضي البرازيلية) حيث : - هضبة البرازيل في الوسط والجنوب. - بعض الهضاب في الشمال. • سهول فيضية : سهل نهر الأمازون. • سهول ساحلية : ضيقة تطل على المحيط الأطلنطي. 	<p>* تنقسم إلى :</p> <ul style="list-style-type: none"> • جبال : - الهيمالايا في الشمال. - الغات الشرقية والغات الغربية. • هضبة الدكن. • سهول فيضية : نهر الجانج في الشمال الشرقي. - أنهار صغيرة في الجنوب أهمها نهر كوفري. • سهول ساحلية : كروماندل تمتد على خليج البنغال شرقًا. - ملبار تمتد على البحر العربي غربًا.
التضاريس				

3.3	<p>* يزيد المتوسط السنوي للحرارة عن ٣٠° مئوية ويقل كما اتجهنا شمالاً.</p> <p>* تسقط أمطار موسمية صيفية غزيرة في الجنوب تقل بالاتجاه شمالاً.</p>	<p>* تنمو الغابات الموسمية على السواحل الغربية والشرقية.</p>	<p>* تنمو حشائش قصيرة على هضبة الدكن.</p>	النبات الطبيعي	الحشائش
		<p>* تنمو الغابات الاستوائية في حوض الأمازون وتعد أكبر غابة استوائية في العالم.</p>	<p>* تنمو حشائش السافانا فوق هضبة البرازيل.</p> <p>* تنمو الحشائش المعتدلة في أطراف البرازيل الجنوبية.</p>	الغابات	الحشائش
		<p>* يسود المناخ المداري الحار في السهول الشرقية وهضبة البرازيل.</p> <p>* يسود المناخ المعتدل الرطب أقصى جنوبها الشرقي.</p>	<p>* تقع معظمها ضمن نطاق المناخ المداري.</p> <p>* تقع الأطراف الجنوبية ضمن المناخ الاستوائي.</p>		

من الدول المتقدمة		من الدول النامية			
الولايات المتحدة الأمريكية	ألمانيا	نيجيريا	البرازيل	الهند	العاصمة
واشنطن	برلين	أبوجا	برازيليا	نيودلهي	
٣١٨ مليون نسمة	٨١ مليون نسمة (أكبر دول أوروبا سكانًا)	١٧٨ مليون نسمة (أكبر دول أفريقيا سكانًا)	٢٠٢ مليون نسمة (نصف سكان القارة)	(تعد ثاني دول العالم سكانًا بعد الصين)	السكان
<p>* يتركزون في :</p> <ul style="list-style-type: none"> • إقليم نيويورك في المنطقة الشمالية الشرقية. • السهول الوسطى. • السواحل الغربية حيث المناطق الصناعية والمدن الكبرى والمناطق الزراعية الخصبة. <p>* يقعون في :</p> <ul style="list-style-type: none"> • نطاق المرتفعات والأحواض الغربية. • ولاية أسكا. 	<p>* يتركزون في :</p> <ul style="list-style-type: none"> • المدن الكبرى. • المناطق الصناعية. • الأودية على جانبي الأنهار. 	<p>* يتركزون في :</p> <ul style="list-style-type: none"> • الغرب. • السهول الشمالية. • هضبة جوس. <p>* يقعون في :</p> <ul style="list-style-type: none"> • دلتا نهر النيجر في الجنوب. 	<p>* يتركزون في :</p> <ul style="list-style-type: none"> • الساحل الجنوبي الشرقي حيث المدن الرئيسية، مثل : ريو دي جانيرو. • ساو باولو. 	<p>* يتركزون في :</p> <ul style="list-style-type: none"> • السهول الساحلية والفيضانية حيث المدن الرئيسية، مثل : نيودلهي. • بومباي. 	<p>* تعتمد مساحات واسعة من الأراضي الزراعية على مياه الأمطار أو الأنهار.</p> <p>* أهم المحاصيل : حبوب غذائية ومحاصيل سكرية ونسجية وزيتية.</p>
<p>* تتمتع بخصوبة وتنوع الإنتاج الزراعي.</p> <p>* أهم المحاصيل : القمح وبنجر السكر.</p>	<p>* تنتشر في السهل الشمالي والأودية النهرية.</p> <p>* يعمل بها نحو ٢/٣ من القوى العاملة.</p> <p>* أهم المحاصيل : القمح والشعير وبنجر السكر.</p>	<p>* أكثر من نصف الأراضي صالحة للزراعة والرعي والمساحة المستقلة لا تتجاوز ١٥٪ منها.</p> <p>* الإقليم الغربي أهم مناطق الإنتاج الزراعي.</p> <p>* أهم المحاصيل : الأرز.</p> <ul style="list-style-type: none"> • الجنوب : المطاط، الأرز. • الوسط، الشمال : اللوزة الشامية والرفيعة والكاكاو والفول السوداني ونخيل الزيت. 	<p>* تشغل الأراضي الزراعية ٢/٣ من المساحة ومعظمها في الجنوب.</p> <p>* يعمل بها أكثر من ربع (٢٥٪) القوى العاملة.</p> <p>* أهم المحاصيل : البن وقصب السكر وتعد الأولى في إنتاجهما.</p>	<p>* تعتمد مساحات واسعة من الأراضي الزراعية على مياه الأمطار أو الأنهار.</p> <p>* أهم المحاصيل : حبوب غذائية ومحاصيل سكرية ونسجية وزيتية.</p>	الزراعة وأهم المحاصيل

الثروات المعدنية ومصادر الطاقة	* أهمها : الحديد، والفحم (ثالث دول العالم في إنتاجه)، والطاقة النووية والكهربائية.	* أهمها : الحديد، والبروكسيت والمنجنيز.	* أهمها : الغزل والنسيج. تكرير البترول. الصناعات الكيماوية. بعض الصناعات الغذائية.	* تُعد العمود الفقري للاقتصاد الألماني ويعمل بها ثلث القوى العاملة. أهمها : الحديد والصلب. السيارات. السفن. المنسوجات. الصناعات الإلكترونية والكهربائية.	* أهمها : النحاس والفحم والبترول والغاز الطبيعي.
الصناعة	* أهمها : الحديد والصلب. السيارات. الآلات. الإلكترونيات. المنسوجات. الصناعات الكيماوية.	* أهمها : الحديد والصلب. السيارات. الطائرات. آلات كهربائية. الأسمنت.	* الحبوب الغذائية، خاصة الزيتية. السكر. اللحوم. المعادن وخاصة الحديد. البن.	* السلع الزراعية، وأهمها الحبوب الزيتية.	* منتجات تكنولوجية حديثة. أسلحة. طائرات.
تستورد مصر منها	* غزل القطن. الشاي. السمسم. التوابل. قطع غيار وسائل النقل.	* القطن. الأسمدة الخام والمصنعة. الفوسفات. الجلود.	* الأقطان. المواد الغذائية. الآثاث. المنسوجات. الأسمدة.	* البترول. الغاز الطبيعي. الملابس.	—
تصدير مصر إليها					

أهم المدن		٢
الهند	نيودلهي	* العاصمة السياسية. * تتميز بوجود الجامعات والمراكز الصناعية والمعالم التاريخية المهمة.
	بومباي	* العاصمة التجارية. * تُعد من أكبر المدن الصناعية بالهند. * أهم مدن الساحل الغربي فهي تُعد من أكبر الموانئ الهندية.
	حيدر أباد	* توجد بهضبة الدكن. * من أكبر مراكز الصناعات اليدوية. * تضم العديد من المراكز الإسلامية.
البرازيل	برازيليا	* العاصمة الجديدة. * أنشئت لتعمير هضبة البرازيل.
	ريودي چانيرو	* العاصمة القديمة. * تُعد واحدة من أجمل مدن العالم.
	ساوباولو	* أهم الموانئ البرازيلية. * تقع على المحيط الأطلنطي. * تشتهر بمبانيها الضخمة وشواطئها الرملية الواسعة.
نيجيريا	أبوجا	* العاصمة الحالية. * مدينة داخلية حديثة.
	لاجوس	* العاصمة القديمة. * تُعتبر العاصمة الاقتصادية. * أكبر المدن النيجيرية وأكثرها تكدسًا بالسكان.
	إيبادان	* ثاني المدن أهمية بعد لاجوس. * تعتبر مركزًا للتجارة والتعليم والمواصلات.
ألمانيا	برلين	* العاصمة السياسية. * يبلغ عدد سكانها نحو ٣,٤ مليون نسمة.
	ميونخ	* عاصمة إقليم بافاريا جنوبًا. * بها مقر عدد من الشركات والمصانع الألمانية العالمية.
	هامبورج	* أهم الموانئ، وقريبة من بحر الشمال.
الولايات المتحدة الأمريكية	واشنطن	* العاصمة السياسية. * تطل على المحيط الأطلنطي.
	نيويورك	* ميناء مهم، وتطل على المحيط الأطلنطي. * يوجد بها مقر الأمم المتحدة.
	شيكاغو	* أكبر مدن السهول الوسطى وتقع على بحيرة متشجن.
	سان فرانسيسكو	* أكبر الموانئ الأمريكية على ساحل المحيط الهادى.

ثورة يوليو والصراع العربي / الإسرائيلي

الوحدة
3



أولاً أهم المخططات ...

ثانياً أهم الحروب بين العرب وإسرائيل ...

ثالثاً ما المقصود بـ ...

رابعاً من هو ...

خامساً بم تفسر ...

سادساً ما النتائج التي ترتبت على ...

سابعاً دلل ...

ثامناً ما العلاقة بين ...

أولا أهم المخططات ...

١

عوامل قيام ثورة ٢٣ يوليو ١٩٥٢ م



٢

أهداف ثورة ٢٣ يوليو ١٩٥٢ م



٣

تصريح بلفور

أصدرته

• بريطانيا عام ١٩١٧ م عن طريق وزير خارجيتها جيمس بلفور.

نص على

• تعهد بريطانيا ببذل مساعيها لإنشاء وطن قومي لليهود في فلسطين.

يوصف بأنه

• وعد ممن لا يملك "بريطانيا" لمن لا يستحق "اليهود".

إجراءات تنفيذه

• السماح بهجرة أعداد كبيرة من اليهود من جميع أنحاء العالم إلى فلسطين.

• السماح بانتقال ملكية الأراضي من عرب فلسطين عن طريق الشراء إلى اليهود.

موقف الشعب الفلسطيني من إجراءات تنفيذه

• رفضه الشعب الفلسطيني، وقام بالعديد من الحركات الوطنية خلال الفترة بين ١٩٢٠ م : ١٩٣٩ م، وكان أخطرها : - انتفاضة ١٩٢٩ م.

- ثورة ١٩٣٦ م بقيادة اللجنة العربية.

الفلسطينية على

صدر بعدما عرضت بريطانيا القضية الفلسطينية على الأمم المتحدة عام ١٩٤٧م.

صدر

قرار تقسيم فلسطين الصادر من هيئة الأمم المتحدة

نص على

تقسيم فلسطين إلى ثلاثة أقسام، وهي :
- دولة عربية.
- دولة يهودية.
- منطقة دولية «القدس»
(أى وضع القدس تحت إدارة دولية).

موقف الأطراف المختلفة منه

- قبله اليهود.
- رفضه العرب.

وأعلنت أنها

- امتنعت بريطانيا عن التصويت وأعلنت أنها ستسحب قواتها وتنتهى الانتداب على فلسطين

على فلسطين

في ١٤ مايو ١٩٤٨م.

صدر في نوفمبر ١٩٦٧م بعد عدوان ٥ يونيه.

إسرائيل والعرب

نص على : - إنهاء حالة الحرب بين إسرائيل والعرب.

- احترام سيادة دول المنطقة على أراضيها.
- حرية الملاحة في الممرات الدولية.
- إنشاء مناطق منزوعة السلاح.

قرار رقم ٢٤٢

أهم القرارات الصادرة عن مجلس الأمن

- انسحاب إسرائيل من الأراضي التي احتلتها

عام ١٩٦٧م. إسرائيل

موقف مصر وإسرائيل منه : قبلت مصر تنفيذ القرار،

وامتنعت إسرائيل عن تنفيذه.

قرار رقم ٣٣٨

صدر بعد تدخل الولايات المتحدة الأمريكية والدول

الأعضاء في مجلس الأمن الدولي أثناء حرب أكتوبر ١٩٧٣م.

يقضى بوقف جميع الأعمال الحربية بدءاً من يوم ٢٢

أكتوبر ١٩٧٣م، وبعدها بدأت مباحثات المفاوضات

بين الطرفين (المصري - الإسرائيلي).

مباحثات المفاوضات



ثانياً أهم الحروب بين العرب وإسرائيل ...

<p>حرب فلسطين ١٩٤٨م</p>	<p>* الأسباب :</p> <ul style="list-style-type: none"> • نصرته وإنقاذ الشعب الفلسطيني من بطش اليهود عقب إعلان اليهود قيام دولة إسرائيل في ١٥ مايو ١٩٤٨م. • مساعدة الشعب الفلسطيني على إقامة حكومة وطنية على أرضه. <p>* النتائج : هزيمة الجيوش العربية واستيلاء اليهود على جميع أراضي فلسطين ما عدا :</p> <ul style="list-style-type: none"> • قطاع غزة (تحت إدارة مصرية). • الضفة الغربية (بها القوات الأردنية). • القدس (قُسمت بين العرب واليهود).
<p>العدوان الثلاثي ١٩٥٦م</p>	<p>* الأسباب :</p> <ul style="list-style-type: none"> • عقد حكومة ثورة ٢٣ يوليو اتفاقية مع الاتحاد السوفيتي (سابقاً) لتزويد مصر بالأسلحة والمعدات لمواجهة الأطماع الإسرائيلية والاعتداءات على الشعب الفلسطيني. • مساندة مصر لحركات التحرر الوطني في الجزائر ضد الاستعمار الفرنسي. • تأميم مصر لشركة قناة السويس في يوليو ١٩٥٦م (مما أضر بمصالح الدول الاستعمارية خاصة إنجلترا). <p>* النتائج : فشل العدوان وقد ترتب على ذلك :</p> <ul style="list-style-type: none"> • انسحاب القوات الإنجليزية والفرنسية من بورسعيد في ٢٣ ديسمبر ١٩٥٦م (ويعتبر هذا اليوم عيداً للنصر والعيد السنوي لمحافظة بورسعيد). • انسحاب القوات الإسرائيلية من قطاع غزة وسيناء في أوائل عام ١٩٥٧م ووضع قوات طوارئ دولية بين مصر وإسرائيل منذ عام ١٩٥٧م. • إدراك الدول العربية الخطر الإسرائيلي وأطماعه في السيطرة على العالم العربي فقامت وحدة بين مصر وسوريا عام ١٩٥٨م (حتى تم الانفصال بينهما عام ١٩٦١م).
<p>العدوان الإسرائيلي ٥ يونيو ١٩٦٧م</p>	<p>* الأسباب :</p> <p>رغبة إسرائيل في القضاء على قوة مصر خاصة بعد فشل العدوان الثلاثي وذلك باستدراج مصر والدول العربية إلى حرب غير مستعدة لها فقامت إسرائيل بحشد قواتها على الحدود مع سوريا عام ١٩٦٧م ولذلك قامت مصر بعدة إجراءات</p> <p>تمثلت في :</p>

- إعلان وقفها إلى جانب سوريا تطبيقاً لاتفاقية الدفاع المشترك بينهما، وإرسال مصر قواتها بسرعة إلى شبه جزيرة سيناء.
- مطالبة قوات الطوارئ الدولية الموجودة على الحدود بينها وبين إسرائيل منذ عام ١٩٥٧م بالانسحاب من بعض النقاط.
- إغلاق خليج العقبة في وجه الملاحة الإسرائيلية في مايو ١٩٦٧م وذلك إحصاماً للحصار الاقتصادي الذي يفرضه العرب على إسرائيل.
- النتائج : هزيمة الدول العربية واستيلاء إسرائيل على :
 - قطاع غزة.
 - سيناء حتى الضفة الشرقية لقناة السويس.
 - هضبة الجولان بسوريا.
 - مدينة القدس العربية.
 - الضفة الغربية لنهر الأردن.

• الأسباب :

- رفض إسرائيل لكل نداءات السلام بالانسحاب من الأراضي التي احتلتها في العدوان الإسرائيلي ٥ يونيو ١٩٦٧م بموجب قرار مجلس الأمن (٢٤٢).
- تصميم مصر وسوريا على إزالة آثار نكسة يونيو ١٩٦٧م (استرداد شبه جزيرة سيناء وهضبة الجولان).

• النتائج والدروس المستفادة :

- تُعد نقطة تحول في الصراع العربي / الإسرائيلي حيث أثبتت أن منطق القوة لا يمنح سلاماً.
- تحطيم أسطورة الجيش الإسرائيلي الذي لا يقهر وعودة الثقة للمقاتل المصري والعربي.
- تقويض (هدم) أسس العقيدة القتالية للقوات الإسرائيلية.
- انتهاء نظرية الأمن الإسرائيلية بعد انهيار الخطوط الدفاعية والتحصينات القوية مثل خط بارليف.
- إنهاء حالة اللاسلم واللاحرب وبذلك أفسحت المجال للمفاوضات السياسية من منطلق القوة العربية.
- إظهار أهمية استخدام سلاح النفط العربي.
- تأثر العلاقات بين إسرائيل وبعض الدول المحبة للسلام في آسيا وأفريقيا وأوروبا.

حرب

أكتوبر

١٩٧٣م

ثالثاً ما المقصود بـ ...

الضباط الأحرار	مجموعة من ضباط الجيش المصري الذين نظموا صفوفهم في سرية تامة وقاموا بثورة ٢٣ يوليو ١٩٥٢م بهدف القضاء على الفساد واستقلال وتحرير مصر من الاحتلال البريطاني.
عدم الانحياز	عدم الانضمام إلى أى من الكتلتين الشرقية والغربية.
مرحلة الصمود والتصدى	تصدى القوات المصرية للاعتداءات الإسرائيلية بعد عدوان ٥ يونيو ١٩٦٧م.
حرب الاستنزاف والمواجهة	استنزاف طاقات العدو الإسرائيلي في سيناء بعد عدوان ٥ يونيو ١٩٦٧م (بين عامي ١٩٦٩ ، ١٩٧٠م).
خط بارليف	خط عسكري منيع أقامته إسرائيل على الضفة الشرقية لقناة السويس وحطمت القوات المصرية في حرب أكتوبر ١٩٧٣م.
خط آلون	خط الدفاع الإسرائيلي في مضبة الجولان ويمثل تماماً خط بارليف في الجبهة المصرية.
اللجان الشعبية	تشكيلات تكوّنت من أفراد المجتمع المصري بكل فئاته لحماية المنشآت والمناطق ومواجهة أعمال السرقة والحرق والترويع أثناء ثورة ٢٥ يناير ٢٠١١م.

رابعاً من هو ...

الملك فاروق	<ul style="list-style-type: none"> * ملك مصر الذي أجبرته قوات الاحتلال البريطاني في فبراير ١٩٤٢م (بعد أن حاصرت قصر عابدين) على تعيين مصطفى النحاس باشا رئيساً للحكومة. * وافق على مطالب ثورة ٢٣ يوليو ١٩٥٢م، والتي تمثلت في : <ul style="list-style-type: none"> • التنازل عن عرش مصر لابنه أحمد فؤاد الثاني الذي كان طفلاً. • مغادرة البلاد قبل الساعة السادسة من مساء يوم ٢٦ يوليو ١٩٥٢م.
مصطفى النحاس	رئيس الحكومة المصرية الذي عينه الملك فاروق بعد حادث فبراير ١٩٤٢م.

<p>محمد نجيب</p>	<p>* القائد العام للقوات المسلحة، أصبح بموجب البيان الأول لثورة ٢٣ يوليو ١٩٥٢م المسيطر على جميع قطاعات الجيش المصري. * عُين أول رئيس للجمهورية المصرية في يونيو ١٩٥٣م بعد إلغاء الملكية.</p>
<p>جمال عبدالناصر</p>	<p>* أسس تنظيم الضباط الأحرار. * تولى رئاسة الجمهورية بعد الرئيس محمد نجيب.</p>
<p>جيمس بلفور</p>	<p>وزير خارجية بريطانيا، أصدر وعدًا (تصريحًا) عام ١٩١٧م نص على تعهد بريطانيا بإقامة وطن قومي لليهود في فلسطين.</p>
<p>روجرز</p>	<p>وزير خارجية الولايات المتحدة الأمريكية، قدم مبادرة عُرفت بـ «مبادرة روجرز» لوقف إطلاق النار خلال حرب الاستنزاف بين مصر وإسرائيل تمهيدًا لحل النزاع سلميًا.</p>
<p>الفريق أول عبدالمنعم رياض</p>	<p>* رئيس أركان حرب القوات المسلحة المصرية أثناء حرب الاستنزاف. * كان أحد الأعمدة الرئيسية التي اعتمد عليها الرئيس جمال عبدالناصر في إعادة بناء وتنظيم القوات المسلحة في حرب الاستنزاف واستشهد أثناءها.</p>
<p>محمد أنور السادات</p>	<p>* أذاع البيان الأول لثورة ٢٣ يوليو ١٩٥٢م من دار الإذاعة المصرية باسم اللواء محمد نجيب. * تولى رئاسة الجمهورية عام ١٩٧٠م بعد وفاة الرئيس جمال عبدالناصر. * أصدر دستور عام ١٩٧١م. * أعطى إشارة بدء حرب أكتوبر ١٩٧٣م. * بادر بزيارة إسرائيل عام ١٩٧٧م من أجل السلام. * كان طرفًا في اجتماعات كامب ديفيد سبتمبر ١٩٧٨م من أجل السلام. * وقع معاهدة السلام مع إسرائيل في مارس ١٩٧٩م.</p>
<p>المشير أحمد إسماعيل</p>	<p>* كان مديرًا للمخابرات العامة ثم وزيرًا للحربية وقائدًا للقوات المسلحة. * تولى القيادة العامة الموحدة للقوات المصرية السورية في حرب أكتوبر ١٩٧٣م. * تولى التخطيط والتنسيق على الجبهتين المصرية والسورية بدقة ومهارة عالية. * قاد خطة الخداع لصرف أنظار إسرائيل عن التجهيزات الهجومية لحرب أكتوبر ١٩٧٣م. * حصل على وسام نجمة سيناء الذي يُعد أعلى الأوسمة العسكرية.</p>

<p>الفريق سعد الدين الشاذلي</p>	<p>* اختاره الرئيس السادات رئيساً لأركان حرب القوات المسلحة المصرية عام ١٩٧١م حتى ١٣ ديسمبر ١٩٧٣م.</p> <p>* شارك مع القادة العسكريين في تطوير القوات المسلحة وفي وضع خطة العبور لقناة السويس وتحطيم خط بارليف وقام بتنفيذها في حرب أكتوبر ١٩٧٣م.</p> <p>* تم تكريمه في الذكرى الـ ٣٩ لنصر أكتوبر بمنح اسمه «قلادة النيل العظمى».</p>
<p>الفريق محمد عبد الغنى الجمسى</p>	<p>* شغل منصب رئيس هيئة عمليات القوات المسلحة عام ١٩٧٢م حيث قامت الهيئة بإعداد دراسة عن أنسب التوقيعات للقيام بالعمليات الهجومية على إسرائيل على الجبهتين المصرية والسورية مما كان له الأثر في إحراز النصر.</p> <p>* أصبح رئيساً لأركان حرب القوات المسلحة في ديسمبر ١٩٧٣م.</p>
<p>كارتر</p>	<p>الرئيس الأمريكى الذى دعا كلاً من الرئيس المصرى محمد أنور السادات ورئيس وزراء إسرائيل بيجين إلى عقد مؤتمر كامب ديفيد بالولايات المتحدة الأمريكية.</p>
<p>محمد حسنى مبارك</p>	<p>* قائد سلاح الطيران أثناء حرب أكتوبر ١٩٧٣م.</p> <p>* تولى رئاسة الجمهورية فى أكتوبر ١٩٨١م بعد وفاة الرئيس أنور السادات.</p> <p>* عادت طابا فى عهده إلى السيادة المصرية فى مارس ١٩٨٩م عن طريق هيئة التحكيم الدولى.</p> <p>* استمر العمل بقانون الطوارئ منذ توليه الحكم.</p> <p>* تخلى عن الرئاسة فى ١١ فبراير ٢٠١١م وسلم إدارة شئون البلاد للمجلس الأعلى للقوات المسلحة بعد قيام الشعب المصرى بثورة ٢٥ يناير ٢٠١١م.</p>
<p>محمد مرسى</p>	<p>* مرشح حزب الحرية والعدالة الذى تولى حكم مصر بعد فوزه فى الانتخابات الرئاسية عام ٢٠١٢م.</p> <p>* رفض إجراء انتخابات رئاسية مبكرة ورفضت المعارضة دعوته للحوار.</p> <p>* تم عزله فى ٣ يوليو بعد ثورة ٣٠ يونيه ٢٠١٣م.</p>
<p>عدلى منصور</p>	<p>رئيس المحكمة الدستورية العليا الذى تسلم سلطة حكم مصر بعد عزل محمد مرسى فى ٣ يوليو ٢٠١٣م لحين إجراء انتخابات رئاسية مبكرة وتعديل دستور ٢٠١٢م.</p>
<p>عبدالفتاح السيسى</p>	<p>تولى رئاسة الجمهورية بعد فوزه فى الانتخابات الرئاسية عام ٢٠١٤م.</p>

خامساً بم تفسر

١ هزيمة الجيش المصرى والجيش العربية فى حرب فلسطين ١٩٤٨م.

بسبب : - دعم الولايات المتحدة الأمريكية وبريطانيا لإسرائيل.
- عدم استعداد الجيش المصرى والعربى عسكرياً للحرب.

٢ * عدم وجود حياة ديمقراطية سليمة قبل ثورة ٢٣ يوليو ١٩٥٢م.

* عجز الأحزاب السياسية قبل ثورة ٢٣ يوليو ١٩٥٢م عن التعبير عن إرادة الشعب ومطالبه.
بسبب : - خضوع مصر للاحتلال البريطانى.
- فساد النظام الملكى.
- فساد الأحزاب السياسية وزيادة الصراع بينهم من أجل الوصول إلى الحكم.

٣ سوء الأحوال الاجتماعية فى مصر قبل ثورة ٢٣ يوليو ١٩٥٢م.

بسبب :
- الصراعات السياسية بين الأحزاب.
- انتشار ظاهرة الإقطاع (سوء توزيع ملكية الأرض الزراعية) مما جعل فئة صغيرة تملك وتستبد.
- مما أدى إلى تفشى ظاهرة الفقر والجهل والمرض.

٤ موافقة «الملك فاروق» على مطالب قادة ثورة ٢٣ يوليو ١٩٥٢م.

لأنه أدرك أن الجيش والشعب يكرهان حكمه بالإضافة إلى تخلى الإنجليز عنه لذلك غادر البلاد قبل الموعد المحدد.

٥ أهمية فلسطين فى قلوب كل العرب.

لأن : - وُلد بها السيد المسيح عليه السلام .
- أُسرى إليها بسيدنا محمد ﷺ .
- يوجد بها المسجد الأقصى أولى القبلتين وثالث الحرمين.

٦ دخول الجيوش العربية حرب فلسطين عام ١٩٤٨م.

بهدف : - نصرته وإنقاذ الشعب الفلسطينى من بطش اليهود (عقب إعلانهم قيام دولة إسرائيل فى ١٥ مايو ١٩٤٨م).
- مساعدة الشعب الفلسطينى على إقامة حكومة وطنية على أرضه.

٧ فشل العدوان الثلاثى على مصر عام ١٩٥٦م.

- بسبب :** - المقاومة الباسلة لجيش مصر وشعبها وصلابة القيادة.
- وقوف الشعوب العربية إلى جانب مصر.
- تهديد الاتحاد السوفيتى (سابقاً) بالتدخل لوقف العدوان.
- رفض الولايات المتحدة الأمريكية استخدام القوة فى حل النزاعات.
- تنديد الأمم المتحدة بالعدوان.

٨ وقوف مصر إلى جانب سوريا عام ١٩٦٧م.

تطبيقاً لاتفاقية الدفاع المشترك بين مصر وسوريا بعد أن قامت إسرائيل بحشد قواتها على الحدود مع سوريا.

٩ إغلاق مصر لخليج العقبة أمام الملاحة الإسرائيلية فى مايو ١٩٦٧م.
لإحكام الحصار الاقتصادى الذى فرضه العرب على إسرائيل.

١٠ هزيمة الدول العربية فى عدوان ٥ يونيه ١٩٦٧م.

بسبب :

- التفوق العسكرى الإسرائيلى وبصفة خاصة السلاح الجوى.
- استخدام إسرائيل عنصر المفاجأة فى ضرب المطارات المصرية بعد أن صورت أجهزة تجسس أمريكية حديثة المواقع المصرية.
- مساندة الولايات المتحدة الأمريكية وبعض الدول الأوروبية لإسرائيل عسكرياً واقتصادياً وسياسياً.
- نقص التدريب وعدم توافر الأسلحة المتطورة للقوات المصرية.

١١ تقديم الولايات المتحدة الأمريكية لمبادرة روجرز.

بهدف وقف إطلاق النار تمهيداً لحل النزاع سلمياً بين مصر وإسرائيل أثناء حرب الاستنزاف.

١٢ طلب إسرائيل المساعدة من الولايات المتحدة الأمريكية أثناء حرب أكتوبر ١٩٧٣م.

بسبب الخسائر الكبيرة التى لحقت بإسرائيل فى أعداد الجنود والطائرات على الجبهتين المصرية والسورية.

١٣

إحداث ثغرة في منطقة الدفرسوار في حرب أكتوبر ١٩٧٣م.

بسبب تقديم الولايات المتحدة الأمريكية معلومات عسكرية لإسرائيل ساعدتها في إحداث الثغرة.

١٤

زيارة الرئيس السادات لإسرائيل عام ١٩٧٧م.

لإنهاء الصراع العربي/ الإسرائيلي سلمياً ولتحقيق السلام الدائم بعد سلسلة من الحروب استنزفت طاقات وموارد البلاد البشرية والمادية.

١٥

لجوء مصر إلى التحكيم الدولي بعد ٢٥ أبريل ١٩٨٢م.

بسبب حدوث خلاف بين مصر وإسرائيل على تعيين مكان بعض علامات الحدود (طابا)، واتفق الطرفان على مبدأ التحكيم (اللجوء إلى محكمة العدل الدولية).

١٦

* مشاركة مصر بفاعلية في مؤتمر مدريد للسلام عام ١٩٩١م.

* عقد مؤتمر السلام في مدريد بإسبانيا عام ١٩٩١م.

لحل الصراع العربي/ الإسرائيلي على أساس مبدأ الأرض مقابل السلام على ضوء قرارات الأمم المتحدة (مجلس الأمن).

١٧

قيام ثورة ٢٥ يناير ٢٠١١م.

للسبب الآتية :

- تدهور الأوضاع الاقتصادية.
- سوء الأوضاع الاجتماعية.
- تدهور الأحوال الصحية والخدمية والتعليمية.
- استمرار العمل بقانون الطوارئ.
- تزوير الانتخابات البرلمانية لمجلس الشعب عام ٢٠١٠م.

١٨

تدهور الأحوال الاقتصادية في مصر قبل ثورة ٢٥ يناير ٢٠١١م.

بسبب : - اتباع سياسة الانفتاح الاقتصادي دون ضوابط علمية.

- التطبيق غير السليم لسياسة الخصخصة حيث تم بيع مؤسسات الدولة بأقل من سعرها الحقيقي لصالح فئة معينة من رجال الأعمال.

١٩ سوء الأحوال الاجتماعية في مصر قبل ثورة ٢٥ يناير ٢٠١١ م.
بسبب زيادة الفوارق الاجتماعية (بين طبقات المجتمع) وغياب العدالة الاجتماعية في توزيع الثروات.

٢٠ تشكيل الشعب المصري لما عرف بالجان الشعبية أثناء ثورة ٢٥ يناير ٢٠١١ م.
بهدف : - حماية المنشآت والمناطق.
- مواجهة أعمال السرقة والحرق والترويع.

٢١ الاستعانة بالقوات المسلحة خلال ثورة ٢٥ يناير ٢٠١١ م.
بهدف : - حماية وتأمين الممتلكات (العامة والخاصة).
- المحافظة على أمن المواطنين.

٢٢ يعتبر يوم ١١ فبراير ٢٠١١ م يوماً تاريخياً في حياة المصريين.
لأنه اليوم الذي تخلى فيه الرئيس مبارك عن الرئاسة وتم تسليم إدارة شئون البلاد للمجلس الأعلى للقوات المسلحة.

٢٣ قيام ثورة ٣٠ يونيو ٢٠١٣ م.
لأن السياسات الجديدة للدولة في عهد محمد مرسى لم تحقق حلول للمشكلات التي عانى منها غالبية الشعب المصري خاصة العدالة الاجتماعية، واستمرار سوء الأحوال الاقتصادية.

٢٤ يُعد الجيش المصري الضامن لثورتى ٢٥ يناير ٢٠١١ م، و٣٠ يونيو ٢٠١٣ م.
لأن : - أثناء ثورة ٢٥ يناير ٢٠١١ م : أثبتت أحداث ووقائع الثورة أن الجيش المصري قوة مساندة للشعب وليس أداة لدى النظام لقمع المتظاهرين وإجهاض الثورة.
- أثناء ثورة ٣٠ يونيو ٢٠١٣ م : تدخلت القوات المسلحة للدولة حفاظاً على الأمن العام وأعلنت بيان ٢٣ يونيو ٢٠١٣ م ودعت إلى إيجاد صيغة تفاهم وتوافق ومصالحة حقيقية لحماية مصر وشعبها خلال أسبوع.

٢٥ إصدار القوات المسلحة بيان ٢٣ يونيو ٢٠١٣ م.
بهدف : - الحفاظ على الأمن العام للدولة.
- منع انزلاق مصر في نفق مظلم من الصراع والاقتتال والفتنة الطائفية.

سادساً ما النتائج التي ترتبت على ...

١ توقيع مصر لمعاهدة ١٩٣٦م.

ترتب على ذلك :

- جعل مصر ميداناً لمعارك الحرب العالمية الثانية.
- استنزاف مواردها لخدمة بريطانيا وحلفائها.
- مما أزهق الاقتصاد المصري وزاد من معاناة أفراد الشعب المصري.

٢ توقيع مصر لاتفاقية الجلاء في أكتوبر ١٩٥٤م.

ترتب على ذلك جلاء القوات البريطانية عن مصر في ١٨ يونيو ١٩٥٦م بعد احتلال دام ٧٤ عاماً.

٣ بناء السد العالي في مصر.

ترتب على ذلك :

- حماية البلاد من خطر الفيضان.
- تخزين المياه وتوليد الكهرباء.

٤ إصدار قوانين الإصلاح الزراعي بعد قيام ثورة ٢٣ يوليو ١٩٥٢م.

ترتب على ذلك القضاء على ظاهرة الإقطاع حيث تم تحديد الملكية الزراعية في النهاية (بعد صدور عدة قوانين) بـ ٥٠ فداناً مما زاد من تملك الفلاحين للأراضي الزراعية.

٥ مؤتمر سان ريمو بإيطاليا في أبريل ١٩٢٠م بالنسبة لفلسطين.

ترتب على ذلك وضع فلسطين تحت الانتداب البريطاني.

٦ وضع فلسطين تحت الانتداب البريطاني عام ١٩٢٠م.

ترتب على ذلك قيام بريطانيا بتنفيذ وعد بلفور عن طريق اتخاذ عدة إجراءات تمثلت في :

- السماح بهجرة أعداد كبيرة من اليهود من جميع أنحاء العالم إلى فلسطين.
- السماح بانتقال ملكية الأراضي من عرب فلسطين عن طريق الشراء إلى اليهود.

٧ قرار تقسيم فلسطين عام ١٩٤٧ م.

ترتب على ذلك :

- رفض الدول العربية مشروع التقسيم.
- موافقة اليهود على التقسيم وقامت عصابات اليهود المسلحة بـ :
 - ♦ طرد العرب من ديارهم.
 - ♦ ارتكاب أبشع المذابح، مثل : مذبح دير ياسين.
- امتناع بريطانيا عن التصويت وأعلنت انسحاب قواتها وإنهاء انتدابها على فلسطين في ١٤ مايو ١٩٤٨ م.

٨ قيام مصر بتأميم شركة قناة السويس يوليو ١٩٥٦ م.

ترتب على ذلك :

- أصبحت شركة قناة السويس شركة مصرية بإدارة مصرية.
- العدوان الثلاثي على مصر ١٩٥٦ م.

٩ فشل العدوان الثلاثي على مصر ١٩٥٦ م.

ترتب على ذلك :

- انسحاب القوات الإنجليزية والفرنسية من بورسعيد في ٢٣ ديسمبر ١٩٥٦ م.
- انسحاب القوات الإسرائيلية من قطاع غزة وسيناء في أوائل عام ١٩٥٧ م ووضع قوات طوارئ دولية بين مصر وإسرائيل منذ عام ١٩٥٧ م.
- إدراك الدول العربية الخطر الإسرائيلي وأطماعه في السيطرة على العالم العربي، ولذلك قامت وحدة بين مصر وسوريا عام ١٩٥٨ م.

١٠ معركة رأس العش.

ترتب على ذلك نجاح القوات المسلحة المصرية في هزيمة القوات الإسرائيلية عندما حاولت احتلال مدينة بورفؤاد.

١١ بناء مصر حائط صواريخ على الضفة الغربية لقناة السويس أثناء حرب الاستنزاف.

ترتب على ذلك منع اختراق الطائرات الإسرائيلية للأجواء المصرية.

١٢

نجاح العمليات العسكرية المصرية التي قام بها سلاح الطيران والمدفعية أثناء حرب أكتوبر ١٩٧٣ م.
ترتب على ذلك :

- تحطيم أعداد كبيرة من الطائرات والمعدات العسكرية الإسرائيلية.
- عبور الدبابات والمدرعات والآليات العسكرية المصرية بمختلف أنواعها إلى الضفة الشرقية لقناة السويس.

١٣

اجتماع وزراء النفط العربي بالكويت أثناء حرب أكتوبر ١٩٧٣ م.
ترتب على ذلك :

- خفض إنتاج البترول.
- حظر الصادرات النفطية إلى الولايات المتحدة الأمريكية خاصة عندما طلب الرئيس الأمريكي مساعدات عاجلة لإسرائيل.

١٤

مبادرة الرئيس السادات لزيارة إسرائيل في ١٩٧٧ م.
ترتب على ذلك تمهيد الطريق أمام إسرائيل للقبول بمبدأ التفاوض مع الأطراف المهمة والمعنية بقضية الصراع العربي/ الإسرائيلي.

١٥

عقد مؤتمر كامب ديفيد في سبتمبر ١٩٧٨ م.
ترتب على ذلك التوصل إلى إطار اتفاق (معاهدة) للسلام بين مصر وإسرائيل.

١٦

توقيع معاهدة السلام بين مصر وإسرائيل في مارس ١٩٧٩ م.
ترتب على ذلك رفع العلم المصري فوق شبه جزيرة سيناء في ٢٥ أبريل ١٩٨٢ م بعد استعادتها من المحتل الإسرائيلي، فيما عدا منطقة طابا الواقعة على رأس خليج العقبة.

١٧

إحالة قضية طابا إلى هيئة التحكيم الدولي.
ترتب على ذلك إصدار محكمة العدل الدولية في سبتمبر ١٩٨٨ م حكمها لصالح مصر وعادت طابا إلى السيادة المصرية في مارس ١٩٨٩ م.

١٨

عقد مؤتمر مدريد للسلام عام ١٩٩١ م.
ترتب على ذلك حدوث مفاوضات سرية بين إسرائيل ومنظمة التحرير الفلسطينية أسفرت هذه المفاوضات عن توقيع اتفاقية أوسلو في سبتمبر ١٩٩٣ م بواشنطن برعاية أمريكية.

١٩

التطبيق غير السليم لسياسة الخصخصة في مصر قبل ثورة ٢٥ يناير ٢٠١١ م.
ترتب على ذلك :

- ارتفاع الأسعار.
- تجمع آلاف العاملين (بعد خروجهم بنظام التقاعد المبكر) وانضمامهم لصفوف البطالة من الشباب في وقفات احتجاجية.

٢٠

ثورة ٢٥ يناير ٢٠١١ م.

- ترتب على ذلك : - تخلى الرئيس مبارك عن الرئاسة في ١١ فبراير ٢٠١١ م.
- تسليم إدارة شئون البلاد للمجلس الأعلى للقوات المسلحة المصرية.

٢١

ثورة ٣٠ يونيو ٢٠١٣ م.

ترتب على ذلك :

- عزل محمد مرسى في ٣ يوليو ٢٠١٣ م وتسليم السلطة للمستشار عدلى منصور رئيس المحكمة الدستورية العليا حين إجراء انتخابات رئاسية مبكرة وتعديل دستور ٢٠١٢ م.
- صدور دستور جديد في يناير ٢٠١٤ م، ثم عُقدت انتخابات الرئاسة وأعلن فوز المرشح عبدالفتاح السيسي.

سابعاً دلل ...

١

اختلفت آراء المؤرخين حول ثورة ٢٣ يوليو ١٩٥٢ م.

حيث :

- يرى بعض المؤرخين أنها تكتسب أهمية كبيرة لما تركته من آثار على أغلب الحركات التحررية في المنطقة العربية وفي العالم، ولما أسهم به قادتها من تأسيس لحركات دولية منها حركة عدم الانحياز والحياد الإيجابي.
- يرى مؤرخون آخرون أنها لم تبدأ عندما تأسس تنظيم الضباط الأحرار، أو عندما سيطرت قيادة الثورة على مقرات الجيش والإذاعة المصرية، إنما كان هذا التحرك مكملًا لنضال طويل وممتد لشعب مصر، الذي ثار ضد الفساد والاحتلال وسوء الحكم منذ الثورة العراقية وثورة ١٩١٩ م وحتى قيام ثورة ٢٣ يوليو ١٩٥٢ م.

٢

- * سقوط الادعاءات المزيفة باستقلال مصر عقب حادث فبراير ١٩٤٢م.
- * لم تؤد معاهدة ١٩٣٦م إلى الاستقلال الحقيقي لمصر.

حيث قامت قوات الاحتلال البريطاني في فبراير ١٩٤٢م بمحاصرة قصر عابدين لإجبار الملك فاروق على تعيين مصطفى النحاس باشا رئيساً للحكومة مما يعد تدخل في شئون مصر الداخلية.

٣

- فساد النظام الملكي قبل ثورة ٢٣ يوليو ١٩٥٢م.
- حيث تمثل ذلك في :** - استبداد الملك فاروق بالحكم.
- انتشار الرشاوى كما حدث في صفقة الأسلحة الفاسدة.

٤

- كان لثورة ٢٣ يوليو ١٩٥٢م إنجازات عديدة في المجال السياسى.
- حيث تم :**

- إلغاء دستور ١٩٢٣م في ديسمبر ١٩٥٢م.
- حل الأحزاب السياسية في يناير ١٩٥٢م.
- إلغاء الملكية وإعلان الجمهورية في يونيو ١٩٥٣م.
- توقيع اتفاقية الجلاء بين مصر وبريطانيا في أكتوبر ١٩٥٤م.
- رحيل القوات البريطانية عن مصر في ١٨ يونيو ١٩٥٦م.
- تأميم شركة قناة السويس البحرية لتصبح شركة مصرية بإدارة مصرية في يوليو ١٩٥٦م.

٥

- نجاح ثورة يوليو ١٩٥٢م في تحقيق هدفها في القضاء على الاستعمار وأعوانه.
- حيث تم :** - حل الأحزاب السياسية يناير ١٩٥٢م.

- إلغاء الملكية وإعلان الجمهورية في يونيو ١٩٥٣م.
- توقيع اتفاقية الجلاء مع بريطانيا في أكتوبر ١٩٥٤م وجلاء القوات البريطانية عن مصر في ١٨ يونيو ١٩٥٦م بعد احتلال دام ٧٤ عاماً.

٦

- اهتمت ثورة ٢٣ يوليو ١٩٥٢م بالزراعة.
- حيث تم :** - التوسع في استصلاح الأراضى الصحراوية لزيادة الرقعة الزراعية.
- إنشاء السد العالى وتم إنجازه عام ١٩٧١م.

٧

اهتمت ثورة ٢٣ يوليو ١٩٥٢م بالصناعة.

حيث تم :

- إنشاء العديد من المصانع منها مصنع الحديد والصلب بحلوان ومصنع الأسمدة بأسوان.
- الاهتمام بالتعليم الصناعى ومراكز التدريب المهنى.
- الاهتمام بالبحث والتنقيب عن البترول وإنشاء معامل لتكرير البترول.

٨

حققت ثورة ٢٣ يوليو ١٩٥٢م إنجازات فى التجارة.

حيث تم :

- فتح أسواق خارجية جديدة لتسويق المنتجات المصرية.
- تمصير البنوك وشركات التأمين وشركات التصدير والاستيراد.

٩

كان لثورة ٢٣ يوليو ١٩٥٢م العديد من الإنجازات فى المجال الاجتماعى.

حيث تمثلت هذه الإنجازات فى :

- القضاء على الإقطاع عن طريق إصدار قوانين الإصلاح الزراعى.
- مجانية التعليم.
- إقامة الوحدات الصحية والجمعيات الزراعية.
- تحديد ساعات العمل وإشراك العمال فى مجالس إدارة الشركات والمصانع وتحديد نسبة لهم من الأرباح.
- إصدار قوانين للتأمينات الاجتماعية والمعاشات للموظفين والعمال.
- منح المرأة حق الانتخاب والترشح لمجلس الأمة (مجلس النواب حالياً) عام ١٩٥٦م.

١٠

استطاعت ثورة ٢٣ يوليو ١٩٥٢م القضاء على الإقطاع.

حيث تم إصدار قانون الإصلاح الزراعى الأول فى سبتمبر ١٩٥٢م، ثم صدور قوانين أخرى للإصلاح الزراعى حددت الملكية الزراعية فى النهاية ٥٠ فداناً، مما زاد من تملك الفلاحين للأرض الزراعية.

١١ حققت ثورة ٢٣ يوليو ١٩٥٢م العديد من الإنجازات فى المجال العربى والدولى.

حيث تمثلت هذه الإنجازات فى :

- مساندة الدول العربية وبعض الدول الأفريقية لنيل الاستقلال، مثل : السودان والجزائر وتونس والمغرب والكويت والعراق واليمن وكينيا.
- تأييد ومساندة حقوق الشعب الفلسطينى فى إقامة دولة مستقلة عاصمتها القدس الشريف.
- تحقيق أول تجربة للوحدة العربية وكانت بين مصر وسوريا فى فبراير ١٩٥٨م.
- كسر احتكار السلاح العالمى بعقد صفقة الأسلحة الشرقية.
- المساهمة فى تشكيل حركة عدم الانحياز وظهور الدور الرائد لمصر بالتعاون مع الهند ويوغوسلافيا (سابقاً)، بالإضافة إلى إندونيسيا التى انعقد بها مؤتمر باندونج عام ١٩٥٥م.

١٢ تُعتبر بريطانيا صانعة مشكلة فلسطين.

حيث قامت بريطانيا بإصدار وعد (تصريح) بلفور عام ١٩١٧م واتخذت عدة إجراءات لتنفيذه بعد انتدابها على فلسطين ١٩٢٠م، منها :

- السماح بهجرة أعداد كبيرة من اليهود من جميع أنحاء العالم إلى فلسطين.
- السماح بانتقال ملكية الأراضى من عرب فلسطين عن طريق الشراء إلى اليهود.

١٣ تطبيق الهدنة أثناء حرب فلسطين ١٩٤٨م لم يكن فى صالح العرب.

حيث استطاعت إسرائيل تقوية قواتها من حيث العدد والتسليح والتدريب وبعد استئناف القتال ظهر تفوق اليهود على جميع جبهات القتال مما أدى إلى تراجع وهزيمة القوات العربية.

١٤ استطاعت مصر التصدى للاعتداءات الإسرائيلية بعد هزيمة ١٩٦٧م.

حيث استطاعت :

- هزيمة القوات الإسرائيلية فى معركة رأس العش عندما حاولت إسرائيل احتلال مدينة بورفؤاد.
- تدمير المدمرة الإسرائيلية إيلات بصواريخ البحرية المصرية أكتوبر ١٩٦٧م.
- وأطلق على هذه المرحلة الصمود والتصدى.

١٥ كانت حرب الاستنزاف دليلاً على إعادة مصر لبناء قواتها المسلحة بعد عدوان ٥ يونيه ١٩٦٧ م.

حيث قامت مصر بـ :

- بناء حائط الصواريخ على الضفة الغربية لقناة السويس مما منع اختراق الطائرات الإسرائيلية للأجواء المصرية.
- القصف المستمر بالمدفعية لخط بارليف وتحصيناته على طول خط قناة السويس.

١٦ اتخذت مصر عدة إجراءات لإعداد الجبهة الداخلية قبل حرب أكتوبر ١٩٧٣ م.
حيث تم : - رفع الرقابة عن الصحف.

- إصدار دستور جديد للبلاد (دستور ١٩٧١ م).
- إلغاء الحراسات والإجراءات المقيدة للحريات.
- القضاء على مراكز القوى.
- تجهيز الجيش وتسليحه بأحدث الأسلحة وتدريبه عليها.

١٧ عملت مصر على تهيئة الجبهة العربية استعداداً لحرب أكتوبر ١٩٧٣ م.
عن طريق : - تصفية الخلافات وتوحيد الصف العربى.

- الاستفادة من كل الموارد والإمكانات العربية المتاحة.

١٨ تشابه الدفاعات الإسرائيلية فى كل من الجبهتين المصرية والسورية.
حيث أقامت إسرائيل «خط ألوان» فى هضبة الجولان على الجبهة السورية
والذى يماثل «خط بارليف» الذى أقامته إسرائيل على الضفة الشرقية لقناة السويس
على الجبهة المصرية.

١٩ * أظهرت حرب أكتوبر ١٩٧٣ أهمية التضامن العربى فى مواجهة إسرائيل.
* كان موقف الدول العربية مشرفاً فى حرب أكتوبر ١٩٧٣ م.

حيث :

- قدمت بعض الدول العربية الدعم المالى والعسكرى لمصر وسوريا.
- قرر وزراء النفط العربى فى اجتماعهم بالكويت خفض إنتاج البترول وحظر الصادرات النفطية إلى الولايات المتحدة الأمريكية خاصة عندما طلب الرئيس الأمريكى مساعدات عاجلة لإسرائيل.

٢٠ ساندت الولايات المتحدة الأمريكية إسرائيل أثناء حرب أكتوبر ١٩٧٣ م.

حيث: حيث

- عسكرياً :

- ♦ أقامت جسراً جويّاً لتقديم المساعدات العسكرية لإسرائيل.
- ♦ قدمت معلومات عسكرية ساعدت إسرائيل في إحداث ثغرة في منطقة الدفرسوار.
- مالياً : قدمت مساعدات مالية ضخمة عاجلة لإسرائيل.
- سياسياً : تدخلت مع الدول الأعضاء في مجلس الأمن التابع للأمم المتحدة وتم إصدار القرار رقم (٣٣٨) الذي يقضى بوقف جميع الأعمال الحربية ابتداءً من يوم ٢٢ أكتوبر ١٩٧٣ م.

٢١ أنهت حرب أكتوبر ١٩٧٣ م نظرية الأمن الإسرائيلية.

حيث انهارت الخطوط الدفاعية والتحصينات القوية لإسرائيل مثل خط بارليف على الجبهة المصرية.

٢٢ أثرت حرب أكتوبر ١٩٧٣ م على الجيش الإسرائيلي.

حيث تم: حيث تم

- تحطيم أسطورة الجيش الإسرائيلي الذي لا يقهر.
- تقويض (هدم) أسس العقيدة القتالية للقوات الإسرائيلية.
- انتهاء نظرية الأمن الإسرائيلية بعد انهيار الخطوط الدفاعية والتحصينات القوية مثل خط بارليف.

٢٣ كان لمصر العديد من الخطوات لتحقيق السلام وإنهاء الصراع العربي / الإسرائيلي.

حيث تمثل ذلك في: حيث تمثل ذلك في

- مبادرة الرئيس السادات لزيارة إسرائيل من أجل السلام عام ١٩٧٧ م.
- مؤتمر كامب ديفيد سبتمبر ١٩٧٨ م.
- معاهدة السلام مارس ١٩٧٩ م.
- اللجوء إلى التحكيم الدولي لاستعادة طابا.
- المشاركة في مؤتمر مدريد للسلام ١٩٩١ م.
- تأييد اتفاقية أوسلو للسلام ١٩٩٣ م.

٢٤ لتحقيق السلام وحل الصراع العربى/ الإسرائيلى مزايا عديدة.

حيث إن تحقيق السلام يساعد على :

- الاستقرار الداخلى للبلاد العربية.
- دفع عجلة التنمية الاقتصادية والاجتماعية وإصلاح البنية الأساسية للبلاد.
- تشجيع رءوس الأموال العربية والأجنبية للاستثمار فى مصر وغيرها من الدول العربية.
- تنشيط حركة السياحة التى تؤدى إلى زيادة الدخل القومى وتوفير العملات الأجنبية.
- إقامة المشروعات الوطنية وتحقيق التنمية فى مصر بشكل خاص، ومنطقتنا العربية بشكل عام.

٢٥ * جاءت الانتخابات البرلمانية عام ٢٠١٠م مخالفة لإرادة الشعب المصرى.

* كان للانتخابات البرلمانية التى أجريت عام ٢٠١٠م دور فى قيام ثورة ٢٥ يناير ٢٠١١م. حيث تم تزوير انتخابات مجلس الشعب وحصل الحزب الوطنى الحاكم على ٩٧٪ من مقاعد مجلس الشعب، وبذلك خلا المجلس من وجود أى معارضة وطنية تذكر.

٢٦ قام نظام مبارك باتخاذ بعض الإجراءات لامتنعاص غضب الجماهير أثناء ثورة ٢٥ يناير ٢٠١١م.

حيث تمثلت فى :

- تعيين نائب للرئيس وتفويض صلاحيات رئيس الجمهورية إليه.
- تشكيل حكومة جديدة.

ثامناً ما العلاقة بين ...

١ حرب فلسطين، وثورة ٢٣ يوليو ١٩٥٢م.

كان لهزيمة الجيش المصرى فى حرب فلسطين أحد العوامل التى أدت لقيام الضباط الأحرار بثورة ٢٣ يوليو ١٩٥٢م.

٢ ثورة ٢٣ يوليو ١٩٥٢م ، وحركة عدم الانحياز.

كان من إنجازات ثورة ٢٣ يوليو ١٩٥٢م فى المجال العربى والدولى المساهمة فى تشكيل حركة عدم الانحياز فى مؤتمر باندونج عام ١٩٥٥م وظهور دور مصر الرائد بالتعاون مع الهند ويوغوسلافيا (سابقاً) وإندونيسيا.

٣ مؤتمر سان ريمو، ومصير فلسطين.

أعطى مؤتمر سان ريمو لبريطانيا في أبريل ١٩٢٠م حق الانتخاب على فلسطين فبدأت بريطانيا في إجراءات تنفيذ وعد بلفور لإنشاء وطن قومي لليهود في فلسطين.

٤ حركات التحرر الوطني في الجزائر، والعدوان الثلاثي على مصر ١٩٥٦م.

كانت مساندة مصر لحركات التحرر الوطني في الجزائر سبباً في اشتراك فرنسا في العدوان الثلاثي على مصر عام ١٩٥٦م.

٥ البترول (النفط) العربي، وحرب أكتوبر ١٩٧٣م.

كان لاستخدام البترول دوراً في تحقيق النصر في حرب أكتوبر ١٩٧٣م وذلك عندما أصدر وزراء النفط العربي قراراً في اجتماعهم بالكويت نص على خفض إنتاج البترول وحظر الصادرات النفطية إلى الولايات المتحدة الأمريكية (خاصة عندما طلب الرئيس الأمريكي مساعدات عاجلة لإسرائيل).

٦ التكنولوجيا المتطورة لوسائل الاتصال، وثورة ٢٥ يناير ٢٠١١م.

ساهمت التكنولوجيا المتطورة لوسائل الاتصال الممثلة في الشبكة الدولية للمعلومات (الإنترنت) ومواقع التواصل الاجتماعي (الفيس بوك وغيره) في اندلاع ثورة ٢٥ يناير ٢٠١١م لتشمل شتى أنحاء البلاد.

٧ سياسة الخصخصة، وثورة ٢٥ يناير ٢٠١١م.

أدى التطبيق غير السليم لسياسة الخصخصة إلى ارتفاع الأسعار بالإضافة إلى تجمع آلاف العاملين (بعد خروجهم بنظام التقاعد المبكر) وانضمامهم لصفوف البطالة من الشباب في وقفات احتجاجية مما أثر بالسلب على الأوضاع الاقتصادية في مصر وقيام ثورة ٢٥ يناير ٢٠١١م.

الحياة السياسية وعلاقات مصر الدولية

الوحدة

4



أولاً أهم المخططات ...

ثانياً ما المقصود بـ ...

ثالثاً من هو ...

رابعاً قارن بين ...

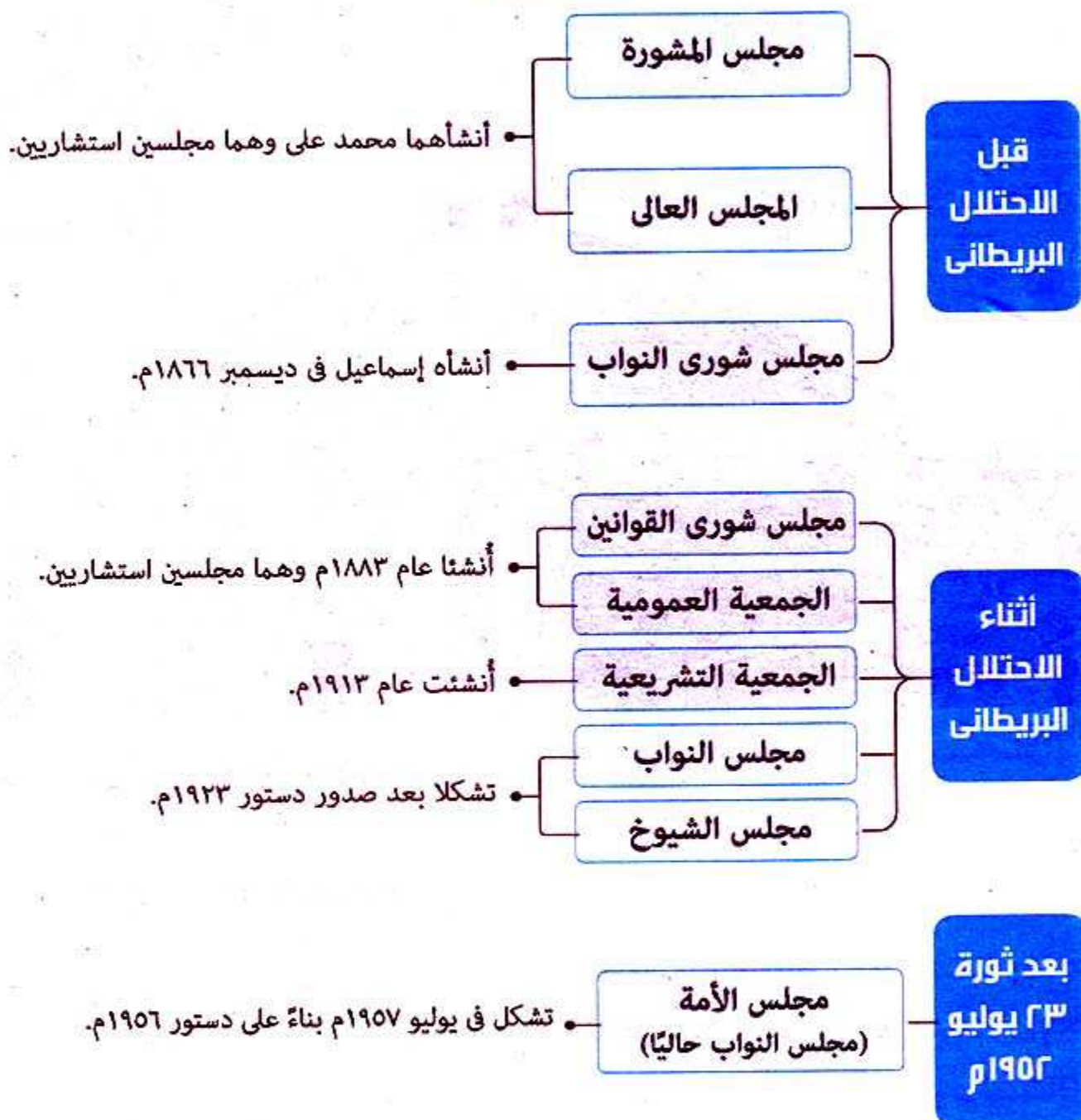
خامساً بم تفسر ...

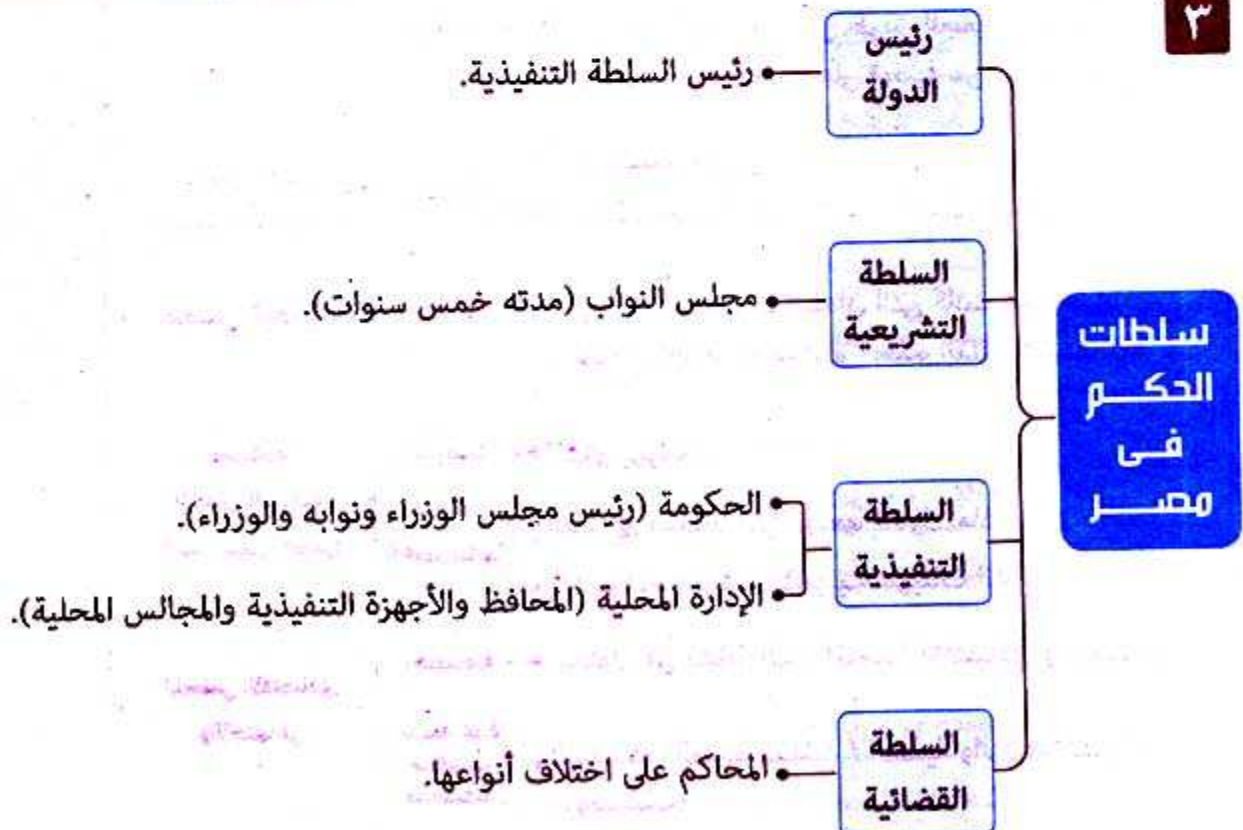
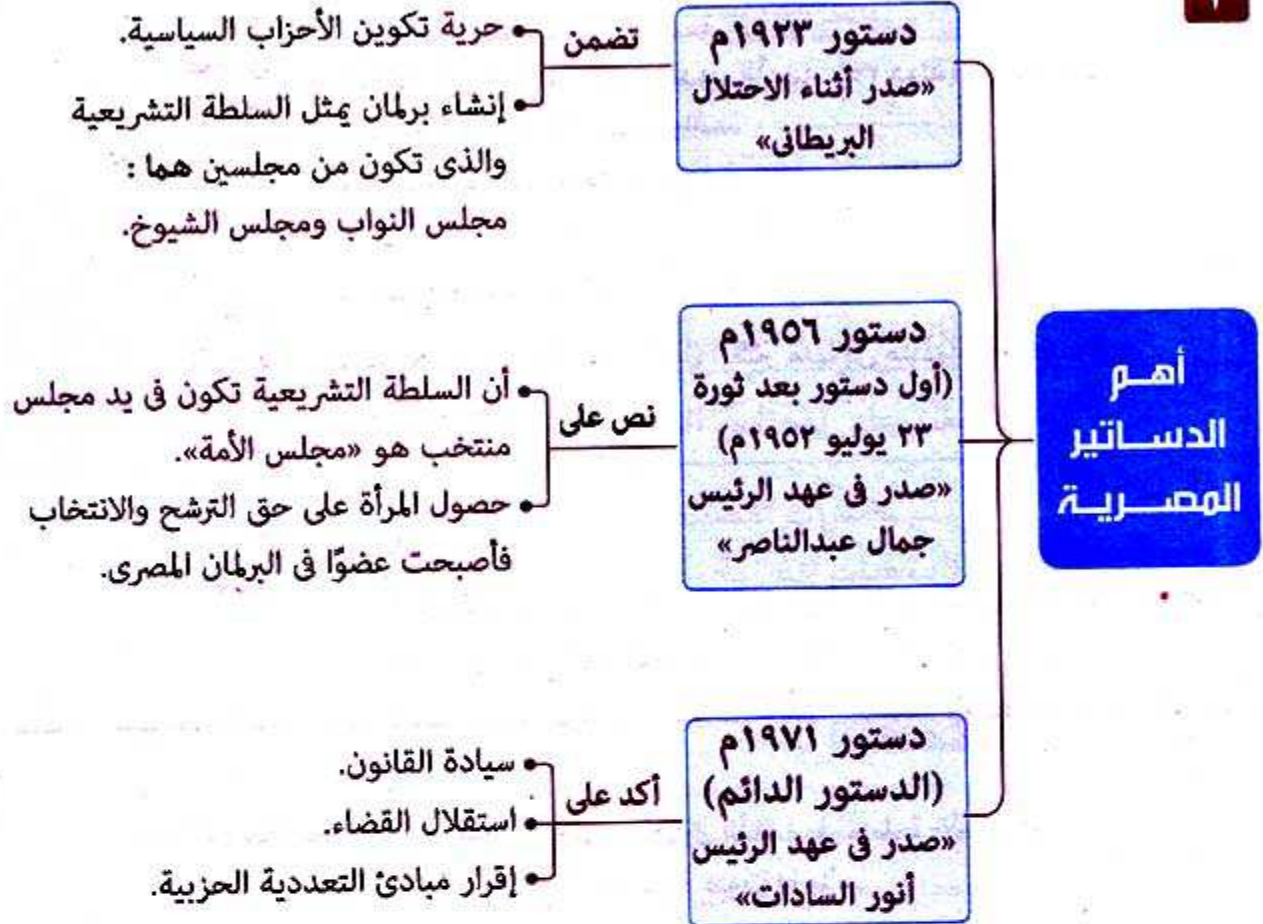
سادساً دلل ...

أولاً أهم المخططات ...

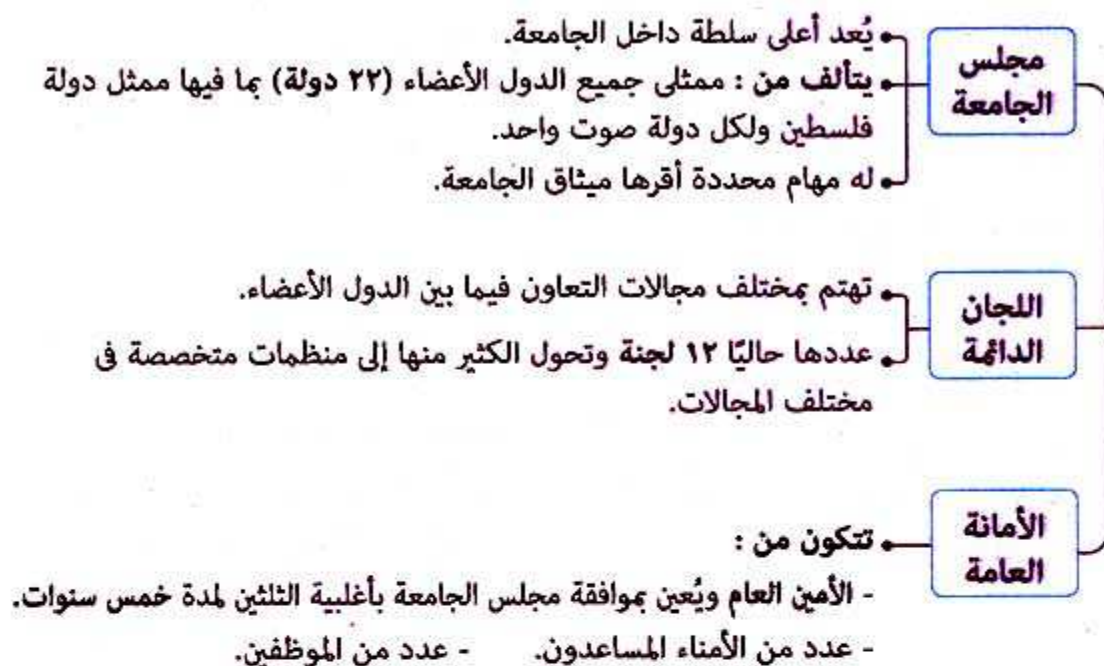
أهم المجالس النيابية في مصر

١





الميكمل التنظيمي لجامعة الدول العربية



الاجهزة الرئيسية لمنظمة الأمم المتحدة



ثانياً ما المقصود بـ ...

الحياة النيابية	قيام الشعب بانتخاب ممثلين لإدارة شئون الحكم فى البلاد وسن القوانين ومراقبة أعمال الحكومة نيابة عنه.
دستور	الوثيقة الرسمية التى تحدد نظام الحكم فى الدولة وتحدد شكل واختصاصات المؤسسات الدستورية المختلفة.
برلمان	يُطلق على المجالس النيابية التى تتولى السلطة التشريعية فى الدولة.
منظمات المجتمع المدنى	تضم جمعيات المجتمعات المحلية والمنظمات غير الحكومية والنقابات العمالية والجمعيات الخيرية وغيرها.

ثالثاً من هو ...

محمد على	حاكم مصر الذى قام بإنشاء عدة مجالس نيابية استشارية صورية لا سلطة لها ومنها مجلس المشورة والمجلس العالى.
الخديو إسماعيل	* حاكم مصر الذى قام بإنشاء مجلس شورى النواب فى ديسمبر ١٨٦٦م. * استجاب لدعوة رفاة الطهطاوى بتعليم البنات فأنشأ أول مدرسة لتعليم البنات عام ١٨٧٣م وهى مدرسة السنية (موجودة حالياً بحى السيدة زينب).
الرئيس جمال عبدالناصر	* فى عهده : • صدر دستور ١٩٥٦م. • تشكل مجلس الأمة عام ١٩٥٧م. • حصلت المرأة على حق الانتخاب والترشح طبقاً لدستور ١٩٥٦م.
الرئيس محمد أنور السادات	صدر فى عهده دستور عام ١٩٧١م (الدستور الدائم).
جميلة حافظ	أصدرت أول مجلة نسائية مصرية وهى «مجلة الريحانة» فى فبراير ١٩٠٧م والتى تحولت إلى جريدة فى مارس ١٩٠٨م.
هدى شعراوي	انتخبت رئيساً للجنة الوفد المركزية للسيدات عام ١٩٢٠م.
حكمت أبو زيد	أول وزيرة للشئون الاجتماعية فى مصر عام ١٩٦٢م.
عائشة راتب	عينت وزيرة للشئون الاجتماعية عام ١٩٧١م فى عهد الرئيس السادات.
آمال عثمان	شغلت منصب رئيس اللجنة التشريعية بمجلس الشعب.

رابعاً قارن بين ...

①	المنظمة الإقليمية	المنظمة الدولية
مفهومها	* منظمة تجمع عدداً من الدول المستقلة التي ترتبط ببعضها بروابط معينة.	* منظمة تضم في عضويتها دول العالم المستقلة وإن لم ترتبط ببعضها بروابط معينة.
أمثلة لها	* جامعة الدول العربية. * الاتحاد الأفريقي (الوحدة الأفريقية سابقاً). * منظمة المؤتمر الإسلامي.	* منظمة الأمم المتحدة. * حركة عدم الانحياز.

②	جامعة الدول العربية (مارس ١٩٤٥م)	الأمم المتحدة (أواخر عام ١٩٤٥م)
نوعها	منظمة إقليمية	منظمة دولية (عالمية)
أهدافها (أسباب إنشائها)	(١) تنسيق العلاقات بين الدول الأعضاء. (٢) تنسيق الخطط السياسية والاقتصادية والاجتماعية والثقافية والأمنية. (٣) التعاون وحماية الأمن القومي العربي. (٤) صيانة وحماية استقلال الدول الأعضاء وسيادتها. (٥) تعزيز العمل العربي المشترك في مختلف المجالات.	(١) المحافظة على السلام والأمن الدوليين. (٢) تنمية العلاقات الودية والتعاون الدولي لحل المشكلات الاقتصادية والاجتماعية والثقافية. (٣) تعزيز احترام حقوق الإنسان وحياته دون تفرقة بسبب الجنس أو الدين.

٣	منظمة الصحة العالمية	منظمة الأغذية والزراعة (الفاو)
مقرها	جنيف (بسويسرا)	روما (بإيطاليا)
أهدافها	<p>* أنشئت في أبريل ١٩٤٨ م بهدف :</p> <ul style="list-style-type: none"> • توفير أفضل سبل الرعاية الصحية لجميع الشعوب. • نشر الوعي من أجل حماية مياه الشرب من التلوث. • عقد دورات تدريبية لتطوير الخدمة الصحية. 	<p>* القضاء على الجوع.</p> <p>* مساعدة البلدان النامية على تطوير وتحسين الإنتاج الزراعي والتغذية الجيدة.</p>

٤	منظمة اليونسكو	منظمة اليونيسيف
تخصصها	مجال التربية والعلوم والثقافة	مجال الطفولة
أهدافها	<p>* تأسست عام ١٩٤٥ م بهدف :</p> <p>المساهمة في إحلال السلام والأمن عن طريق رفع مستوى التعاون بين دول العالم في مجالات التربية والعلوم والثقافة.</p>	<p>* تعزيز وحماية حقوق الأطفال ورفاهيتهم، فأصدرت عام ١٩٥٩ م إعلان حقوق الطفل باعتبار الأطفال يمثلون محور التنمية.</p>

خامساً بم تفسر ...

١ أهمية إصدار دستور مصر الدائم عام ١٩٧١ م.
لأنه :

- أكد على سيادة القانون واستقلال القضاء وإقرار مبادئ التعددية الحزبية.
- كان أحد إجراءات تهيئة وإعداد الجبهة الداخلية لمصر قبل حرب أكتوبر ١٩٧٣ م.

٢ تُعد الأمم المتحدة منظمة دولية.

لأنها تضم في عضويتها دول العالم المستقلة وإن لم ترتبط ببعضها بروابط معينة.

٣

يُعد مجلس الأمن أهم أجهزة الأمم المتحدة.
لأنه : - مسئول عن حفظ السلام والأمن الدوليين.
- يُعد سلطة قانونية على حكومات الدول الأعضاء في الأمم المتحدة.

٤

إنشاء مجلس الوصاية التابع للأمم المتحدة.
لرعاية مصالح شعوب البلدان التي كانت مستعمرات (محتلة)، والأخذ بيدها نحو الحكم الذاتي والاستقلال.

٥

تُعد حركة عدم الانحياز منظمة دولية.
لأنها تضم في عضويتها دول من قارات أفريقيا وآسيا وأوروبا وأمريكا اللاتينية (الجنوبية) وإن لم ترتبط ببعضها بروابط معينة.

سادساً دال ...

١

شهدت الحياة النيابية تطوراً كبيراً بعد قيام ثورة ٢٣ يوليو ١٩٥٢م.
حيث تم :

- إلغاء دستور ١٩٢٣م.
- حل الأحزاب السياسية التي كانت قائمة قبل الثورة.
- صدور أول دستور لمصر بعد الثورة (دستور عام ١٩٥٦م) الذي نص على أن السلطة التشريعية تكون في يد مجلس منتخب هو مجلس الأمة (مجلس النواب حالياً).
- صدور دستور عام ١٩٧١م والذي أطلق عليه (الدستور الدائم).

٢

شهدت مصر نهضة نسائية في فترة ما قبل ثورة ١٩١٩م.
حيث :

- استجاب الخديو إسماعيل لدعوة رفاة الطهطاوى بتعليم البنات فأنشأ أول مدرسة لتعليم البنات عام ١٨٧٣م وهي مدرسة السنية.
- ساهمت المرأة في تأسيس صحافة نسائية تتبنى القضايا النسائية وتدافع عن حقوق المرأة ومكانتها فظهرت أول مجلة نسائية مصرية وهي الريحانة وأصدرتها جميلة حافظ في فبراير ١٩٠٧م والتي تحولت إلى جريدة في مارس ١٩٠٨م.

٣ شهدت مرحلة ما بعد ثورة ١٩١٩م وحتى ثورة ٢٣ يوليو ١٩٥٢م نهضة ودورًا رائدًا للمرأة المصرية.

حيث :

- شاركت إلى جانب الرجل فى المظاهرات بعد نفى سعد زغلول (مارس ١٩١٩م) بصورة لم يعهدها المجتمع المصرى من قبل.
- شكلت لجنة الوفد المركزية للسيدات عام ١٩٢٠م وانتخبت هدى شعراوى رئيسًا لها.
- التحقت بالجامعة المصرية (جامعة القاهرة حاليًا) عام ١٩٢٨م.

٤ شهدت فترة ما بعد ثورة ١٩٥٢م وحتى عام ١٩٧١م مشاركة المرأة المصرية فى كافة المجالات.

حيث :

- حصلت على حق الانتخاب والترشح فى دستور ١٩٥٦م وأصبحت عضوًا بالبرلمان المصرى.
- تقلدت المناصب الوزارية فكانت حكمت أبو زيد أول وزيرة للشئون الاجتماعية عام ١٩٦٢م.
- شاركت فى النقابات العمالية والمهنية والمنظمات غير الحكومية.

٥ شغلت المرأة المصرية مناصب وزارية كما شاركت فى الحياة النيابية فى الفترة من ١٩٧١م إلى ١٩٨١م.

- شغلت المرأة المناصب الوزارية حيث :

قام الرئيس السادات بتعيين الدكتورة «عائشة راتب» وزيرة للشئون الاجتماعية عام ١٩٧١م.

- شاركت المرأة فى الحياة النيابية حيث :

شغلت الدكتورة «أمال عثمان» منصب رئيس اللجنة التشريعية بمجلس الشعب.

٦ شهدت الفترة من عام ١٩٨١م وحتى الآن تغيرات جوهرية للنهوض بالمرأة وتدعيم مكانتها.

حيث :

- تم إنشاء المجلس القومى للمرأة.
- تقلدت المرأة بعض الوظائف والمناصب المختلفة.

لنظمات المجتمع المدني دور مكمل للعمل الحكومي.

حيث تعد هذه المنظمات عناصر فعالة في تقديم الخدمات الاجتماعية وتنفيذ برامج التنمية ويتضح ذلك من خلال الأنشطة التي تقوم بها، ومنها :

- تثقيف المواطنين وتعريفهم بالحقوق السياسية كالتصويت والانتخاب والترشح للمناصب السياسية.

- توضيح علاقة المواطن بالدولة وكيفية التعبير عن حقوقه وواجباته.

- توفير مناخ يحقق الوحدة الوطنية من خلال توعية الأفراد بنبذ العنف.

- تدعيم السياسة العامة للدولة ومواقفها من القضايا الدولية مثل : حظر استخدام الألغام الأرضية، ومحاربة الإرهاب، وحماية البيئة.

لمصر دور كبير في إنشاء منظمة جامعة الدول العربية ومنظمة المؤتمر الإسلامي.

حيث :

- دعت مصر كلاً من رئيس وزراء سوريا والكتلة الوطنية اللبنانية للتباحث في القاهرة

حول فكرة إقامة جامعة عربية وفي مارس ١٩٤٥م تم توقيع ميثاق القاهرة.

- تعد مصر من أوائل الدول التي ساهمت في بلورة فكرة إنشاء منظمة المؤتمر الإسلامي.

لمصر دور فعال في إنشاء عدد من المنظمات الدولية.

- كانت مصر من أوائل الدول التي وقعت على ميثاق الأمم المتحدة.

- شاركت مصر في تأسيس منظمة حركة عدم الانحياز في مؤتمر باندونج عام ١٩٥٥م

مع الهند وإندونيسيا ويوغوسلافيا (سابقاً) وكانت تضم في البداية (٢٥ دولة)

وأصبحت الآن تضم (١١٨ دولة).

لمصر دورًا بارزًا في منظمة الاتحاد الأفريقي.

حيث : - شاركت مصر في تأسيس منظمة الاتحاد الأفريقي.

- استضافت مصر أول قمة أفريقية على أرضها عام ١٩٦٤م.

- تولت مصر رئاسة الاتحاد الأفريقي للمرة الثالثة في فبراير ٢٠١٩م برئاسة

الرئيس عبدالفتاح السيسي.

١١ تتبنى مصر استراتيجية جديدة نحو القارة الأفريقية.

حيث تهدف الاستراتيجية الجديدة إلى :

- العمل على تذليل المعوقات التي تواجه تعميق العمل الأفريقي المشترك.
- تشجيع أبناء القارة على بناء المشروعات القارية الرائدة لتطوير البنية التحتية الأفريقية.
- ربط الأسواق الأفريقية وتفعيل اتفاقية التجارة الحرة.

١٢ لمصر دور مهم في منظمة المؤتمر الإسلامي.

حيث :

- تعد مصر من أوائل الدول التي ساهمت في بلورة فكرة إنشاءها.
- شاركت مصر في كافة المؤتمرات الإسلامية وكان أهمها مؤتمر القمة الإسلامي في سبتمبر ١٩٦٩م والذي عقد في مدينة الرباط بالمغرب.

١٣ أهمية محكمة العدل الدولية.

حيث تعد الجهاز القضائي الأساسي للأمم المتحدة وتختص في نظر القضايا التي تضعها الدول أمامها، وتقديم الاستشارات القانونية للهيئات الدولية.

١٤ لمنظمة اليونسكو دور ثقافي رائد في مصر.

حيث ساهمت في :

- إنقاذ معابد أبو سمبل عام ١٩٦٤م.
- إحياء مكتبة الإسكندرية.


١٥ تُعد مصر عضو فاعل في منظمة الأمم المتحدة.

حيث شاركت مصر :

- في الأنشطة المختلفة للأمم المتحدة.
- بجنودها في قوات حفظ السلام الدولية في بلدان عديدة، منها : الكونغو، البوسنة والهرسك، الصومال، الكويت.



إجابات أسئلة كتاب الشرح



أولاً الجغرافيا

الوحدة 1

الدرس الأول

تدريب ١

- ١ (١) البدائية. (٢) توفير الاحتياجات المحلية.
(٣) قلة تكاليف الزراعة.

- ٢ لأنه : - يمثل مصدراً رئيسياً لغذاء الإنسان
بجانب الأسماك والحيوانات.
- ترتبط به تربية الحيوان.
- يُعد مصدراً مهماً للمواد الخام الزراعية
اللازمة لبعض الصناعات.

- ٣ أجب بالرجوع إلى كتاب الشرح ص ١٧ ، ١٨ ، ١٩

تدريب ٢

- ١ (١) القمح وقصب السكر. (٢) الشاي.
(٣) آسيا.
(٤) درجة الحرارة المرتفعة.

- ٢ (١) ... آسيا. (٢) ... أمريكا الشمالية ...
(٣) ... المناخ الحار. (٤) ... قصب السكر ...
(٥) ... مصر ... (٦) ... البرازيل.

- ٣ (١) يعتبر الغذاء الرئيسى لمعظم شعوب العالم
ويصنع منه الخبز والمكرونه والطويات.
(٢) بسبب عدم توافر الظروف المناخية الملائمة لزراعتها
حيث تقع أوروبا فى المنطقة المعتدلة، بينما يزرع
قصب السكر فى المناطق المدارية الحارة.

أسئلة على الدرس الأول

- ١ (١) الزراعة. (٢) القمح والقطن.
(٣) توفير الاحتياجات المحلية.
(٤) استخدام التكنولوجيا الحديثة.
(٥) ١ (٦) القمح والقطن.
(٧) الحبوب الغذائية.

- (٨) القطن. (٩) البن.
(١٠) انتشارهما فى معظم القارات.
(١١) أمريكا الشمالية. (١٢) أوروبا.
(١٣) فرنسا. (١٤) مصر.
(١٥) المطاط الطبيعى.
(١٦) تايلاند. (١٧) الصين.

- ٢ (١) صواب. (٢) خطأ : ... الزراعة البسيطة ...
(٣) صواب.
(٤) خطأ : ... فى بعض قارات العالم.
(٥) صواب. (٦) صواب.
(٧) صواب. (٨) خطأ : تُعد البرازيل ...
(٩) صواب. (١٠) صواب.
(١١) صواب.
(١٢) خطأ : ... تُعد آسيا ...
(١٣) صواب.

- ٣ (١) الصين. (٢) ٥ (٣) ١
(٤) ٢ (٥) ٤ (٦) ٧
(٧) الزراعة البسيطة (البدائية).

- ٤ (١) آسيا - القمح - القطن - المطاط الطبيعى.
(٢) أمريكا الشمالية - الذرة.
(٣) الصين - القمح - الشاي.
(٤) البرازيل - قصب السكر - السكر.

- ٥ (١) الزراعة البسيطة (البدائية).
(٢) الزراعة الكثيفة.
(٣) الزراعة التجارية والعلمية.

- ٦ (١) ، (٢) ، (٤) أجب بالرجوع إلى المفكرة ص ١٤ بم تفسر.
(٢) لأن الزراعة البسيطة والكثيفة تهدف إلى
إشباع حاجة السكان المحليين من الغذاء
(للاستهلاك المحلى فقط).
(٥) لأن الزراعة التجارية تتم فى مزارع واسعة
فيسهل استخدام الآلات والطرق العلمية الحديثة.
(٦) لأنها تهدف إلى الإنتاج التجارى الضخم.
(٧) لأنه يستخدم فيها أحدث الآلات الزراعية
والطرق العلمية الحديثة.

(٢)	قصب السكر	الشئ
ظروف الزراعة	* يزرع في المناطق المدارية الحارة حيث يحتاج : • درجة حرارة مرتفعة. • كمية مياه وفيرة.	* يحتاج إلى : • تربة خصبة خفيفة. • مناخ حار. • هواء رطب. • مطر غزير.
أولى دول العالم إنتاجاً له	البرازيل	الصين

(٢) أجب بالرجوع إلى المفكرة ص ١٠ قارن بين.

١٠ (١) أجب بالرجوع إلى المفكرة ص ٩ قارن بين.

(٢) يترك للطالب حرية الإجابة في ضوء :

العمل على زيادة الإنتاج من المحاصيل الزراعية

عن طريق :

- الاعتماد على الزراعة التجارية والعلمية.

- استيراد أنواع جيدة من البنود لرفع قيمة الإنتاج.

١١ أجب بالرجوع إلى المفكرة ص ١٠ قارن بين.

١٢ (١) جـ (٢) الأرجنتين.

(٣) تحقيق حاجاته الأولية.

(٤) سرعة الحصول على الإنتاج.

(٥) تنوع المناخ.

(٦) اتباع الزراعة التجارية والعلمية.

١٣ (١) بسبب :

- تنوع المناخ في مصر ما بين صيف حار

مناسب لقصب السكر خاصة بالوجه

القبلي وشتاء معتدل مناسب لبنجر السكر

خاصة بالوجه البحري.

- وجود تربة زراعية خصبة ملائمة لزراعة كل منهما.

(٢) لأن زراعة القطن في مصر تعتمد على

الأيدي العاملة الوفيرة حيث تتم من خلال

عمليات عديدة مثل بذر الحبوب والري وتنقية

الحشائش بالإضافة إلى صغر مساحة الحقول

(٨) بسبب توافر الظروف الملائمة لزراعة قصب السكر

من درجة حرارة مرتفعة وكمية مياه وفيرة.

(٩) بسبب وقوع قارة أوروبا في المنطقة المعتدلة

وبالتالي عدم توافر الظروف المناخية لزراعة

المطاط حيث يزرع في المناطق الاستوائية.

(١٠) لعدم ملائمة الظروف المناخية لزراعة قصب

السكر وملائمتها لزراعة البنجر.

(١١)، (١٢) أجب بالرجوع إلى المفكرة ص ١٤ بم تقصر.

٢ (١) : (٢) أجب بالرجوع إلى المفكرة ص ١٧ ما النتائج.

٨ (١) حيث :

- الزراعة البسيطة :

تتم في مساحات ضيقة وصغيرة ومتباعدة عن

بعضها لذلك يستخدم فيها أدوات بدائية وبسيطة.

- الزراعة الكثيفة :

تتم في حقول صغيرة المساحة لذلك يصعب

فيها استخدام الآلات والميكنة الزراعية.

- الزراعة التجارية والعلمية :

تتم في مزارع واسعة لذلك يستخدم فيها

أحدث الآلات الزراعية والطرق العلمية الحديثة.

(٢) حيث يتم زراعة القمح في جميع قارات العالم

لأنه يُعد الغذاء الرئيسي لمعظم شعوب العالم

ومنهُ يُصنع الخبز والمكرونات والحلويات.

(٣) حيث تُعد الزراعة مصدراً للمواد الخام الزراعية

اللازمة لبعض الصناعات مثل :

- القطن :

يدخل في صناعة أجود أنواع المنسوجات

والملابس، كما يستخرج منه زيت بذرة

القطن وصناعة الأعلاف.

- المطاط الطبيعي :

يدخل في صناعة إطارات السيارات.

- قصب السكر والبنجر :

يدخلان في صناعة السكر.

٩ (١) أجب بالرجوع إلى المفكرة ص ٩ قارن بين.

الزراعية، بينما في الولايات المتحدة الأمريكية تتم في مزارع واسعة وتستخدم فيها أحدث الآلات الزراعية والطرق العلمية الحديثة.

١٤ أدى ذلك إلى إنتاج أفريقيا لـ :

- قصب السكر (لأنه محصول مداري حار).
- القطن (لأنه محصول مداري، وتُعد أفريقيا رابع القارات إنتاجاً له).
- المطاط الطبيعي (لأنه يستخرج من عصارة أشجار استوائية، وتُعد أفريقيا ثانياً القارات إنتاجاً له).

١٥ حيث يتم تصنيع الأعلاف الحيوانية من بذور القطن بعد عصرها.

١٦ العبارة غير صائغة : لأن المطاط الطبيعي يستخرج من عصارة أشجار استوائية أي يزرع في الأقاليم المناخية الحارة فقارة أوروبا مثلاً لا يمكن زراعة المطاط فيها لأنها قارة ذات مناخ معتدل.

١٧ (١) ٢ (ب) ٢ (ج) ٢

١٨ (١) تتمثل أوجه الشبه بين الزراعة البسيطة والزراعة الكثيفة في أنهما يهدفان إلى إشباع حاجة السكان المحليين من الغذاء للاستهلاك المحلي (دون وجود فائض للتصدير).
(ب) المنطقة رقم (١) ، (٤) من مناطق الزراعة التجارية والعلمية التي تعتمد الزراعة بها على الآلات الحديثة.

١٩ (١) ، (٢) ، (٤) القطن.

- (٢) القمح.
- (٦) قصب السكر - بنجر السكر - الشاي.

الدرس الثاني

١ تدريب

١ أدى انتشار التعليم بين قبائل وسط آسيا إلى قلة عدد القائمين بحرفة الرعي البدائي في دول وسط آسيا وتغير نشاطهم للعمل بالصناعة والزراعة والخدمات.

٢ (١) الرعي البدائي (التقليدي). (٢) الأرجنتين.

٢ تدريب

١ (١) آسيا. (٢) الصين.

٢ (١) ... بالمراعى التجارية الواسعة.

(٢) ... الهند ...

٢ زاد معدل الاستهلاك العالمى للحوم الحمراء بسبب ارتفاع مستوى المعيشة فى كثير من دول العالم.

٣ تدريب

١ (١) أمريكا الشمالية. (٢) النرويج.
(٣) الصين.

٢ (١) صواب : حيث تنتشر مصايد الأسماك على

سواحل القارات كما فى :

- سواحل شمال غرب أوروبا.
- سواحل أمريكا الشمالية.
- سواحل أمريكا الجنوبية.
- سواحل شرق وجنوب شرق آسيا.
- (٢) خطأ : يأتى نصف الإنتاج السمكى فى العالم من مياه المحيطات والبحار.
- (٣) خطأ : حيث توجد :
- القشريات مثل الجمبرى.
- الرخويات مثل السبيط.
- الحيتان.

٣ (١) أجب بالرجوع إلى كتاب الشرح ص ٤٣

(العوامل التى تساعد على تطور حرفة صيد وتربية الأسماك).

- (٢) لأنها تنتج ثلث الإنتاج العالمى من الأسماك.
- (٣) بسبب طول سواحلهم على البحار والمحيطات وتقدم وسائل الصيد بهما.

أسئلة على الدرس الثانى

١ (١) ٥ (٢) أستراليا وأفريقيا.

(٣) أستراليا.

(٤) دول وسط آسيا وبادية الشام.

(٥) البرازيل. (٦) التعليم والبترو.

- تُعد الصين (إحدى دول آسيا) أولى دول العالم فى تربية الأغنام كما أنها الأولى فى إنتاج اللحوم.

١٠ (١) أجب بالرجوع إلى المفكرة ص ٤ أهم المخططات.
(٢) - العوامل الطبيعية :

- ♦ ضحالة المياه الساحلية وغناها بالمواد الغذائية.
- ♦ التقاء التيارات البحرية الدافئة مع الباردة.
- ♦ توافر الموانئ لرسو سفن الصيد.
- العوامل البشرية :
- ♦ توافر الخبرات الفنية والعلمية فى صناعة المراكب وأدوات الصيد والثلاجات.
- ♦ التوسع فى تربية الأسماك على أسس علمية حديثة.

١١ (أ) ب

- (٢) وجود الحشائش المعتدلة.
- (٣) شمال أفريقيا.
- (٤) ج (٥) الشمال الغربى.
- (٦) حشائش السافانا والنباتات الصحراوية.
- (٧) الجنوبية الغربية. (٨) آسيا وأفريقيا.
- (٩) الرنة.
- (١٠) التخصص فى حيوان المرعى.
- (١١) الجنوبية. (١٢) الشرقى.
- (١٣) أمريكا الشمالية. (١٤) أوروبا.
- (١٥) شمال أوروبا وألاسكا.

١٢ بسبب : - وجود المساحات الشاسعة من الصحارى.

- قلة المراعى الطبيعية بها.
- عدم الاعتماد على الأساليب العلمية الحديثة فى الرعى واستخدام أساليب بدائية.

١٣ - فقر المراعى الطبيعية.

- قلة أعداد القائمين بحرفة الرعى بسبب توطین البدو لتدفق البترول.

- (٧) الأبقار. (٨) الهند.
- (٩) أمريكا الجنوبية. (١٠) ، (١١) الأغنام.
- (١٢) الصين. (١٣) المياه المالحة.
- (١٤) الصين.

٢ (١) ٧ (٢) الصين. (٣) الأبقار - الأغنام.
(٤) ٨ (٥) ٤ (٦) ٢

٢ (١) آسيا. (٢) الصين. (٣) أستراليا.
(٤) الهند. (٥) الولايات المتحدة الأمريكية.

٤ (١) خطأ : ... الرعى التجارى ...
(٢) خطأ : ... قارة آسيا ...
(٣) خطأ : ... الهند ...
(٤) صواب. (٥) خطأ : ... إنتاجاً للدواجن.
(٦) صواب. (٧) صواب.
(٨) صواب.

٥ (١) الرعى البدائى (التقليدى).
(٢) الرعى التجارى.
(٣) الأبقار.
(٤) الألبان.

٦ (١) أجب بالرجوع إلى المفكرة ص ١٤ بم تفسر.
(٢) : (٧) أجب بالرجوع إلى المفكرة ص ١٥ بم تفسر.
(٨) أجب بالرجوع إلى المفكرة ص ١٦ بم تفسر.

٧ سوف تنتشر بمصر الرعى التجارى وتزداد الثروة الحيوانية بها.

٨ أجب بالرجوع إلى المفكرة ص ١١ قارن بين.

٩ (١) حيث قلت أعداد القائمين على حرفة الرعى البدائى فى :

- شبه الجزيرة العربية وبادية الشام بسبب توطین البدو لتدفق البترول.
- دول وسط آسيا بسبب انتشار التعليم بين القبائل وتغيير نشاطهم للعمل بالصناعة والزراعة والخدمات.

(٢) حيث :

- تُعد آسيا أولى قارات العالم فى تربية الأبقار وأهم دولها الهند والتي تعد الأولى فى إنتاج الألبان.

أسئلة على الدرس الثالث

- ١ (١) النقل والتوزيع. (٢) الحديد.
(٣) اليابان. (٤) أستراليا.
(٥) شيلي. (٦) الألومنيوم.
(٧) كندا. (٨) ج.
(٩) الغاز الطبيعي. (١٠) أوروبا وآسيا.
(١١) السعودية. (١٢) أوروبا.
(١٣) أمريكا الشمالية. (١٤) مصر.

- ٢ (١) ٢ (٢) ٣ (٣) الألومنيوم.
(٤) ٨ (٥) الفحم - البترول. (٦) الصين - ٥

- ٣ (١) شيلي - النحاس.
(٢) أستراليا - البوكسيت.
(٣) الولايات المتحدة الأمريكية - الألومنيوم.
(٤) الصين - الفحم. (٥) السعودية - البترول.
(٦) أوروبا - الطاقة النووية - الغاز الطبيعي.

- ٤ (١) صواب. (٢) صواب.
(٣) خطأ : ... الدول المصدرة ...
(٤) خطأ : يرتفع معدل استهلاك المعادن في الدول المتقدمة عن الدول النامية.
(٥) خطأ : ... البوكسيت ...
(٦) خطأ : تعتبر الصين ... (٧) صواب.

- ٥ (١) النشاط التعدين.
(٢) الفحم. (٣) الغاز الطبيعي.
(٤) كهرباء مائية (الكهرومائية).

- ٦ (١) أجب بالرجوع إلى المفكرة من ١٣ قارن بين.
(٢) ، (٥) ، (٧) أجب بالرجوع إلى المفكرة من ١٦ بم تفسر.
(٣) بسبب قيام الدول النامية المنتجة للحديد بتصديره خام وذلك لعدم توافر شروط صناعته مثل موريتانيا.
(٤) لأن مصادر الطاقة تُعد القوى المحركة لحياة الإنسان في جميع المجالات على مستوى الاستخدامات المختلفة أو على مستوى الصناعة.

١٤ (١) ، (٢) رعى تجارى، حيث ترمى الحيوانات فى مناطق غنية بالحشائش.

(٢) ، (٤) رعى بدائى، حيث ترمى الحيوانات فى مناطق صحراوية ذات مراعى فقيرة.

الدرس الثالث

تدريب ١

- ١ (١) النحاس والبوكسيت. (٢) بريطانيا.
(٣) أستراليا. (٤) النحاس.

٢

نول	نول	نول
مصنعة للألمنيوم	مستوردة للحديد	مصنعة للحديد
* الولايات المتحدة. * كندا. * اليابان.	* اليابان.	* موريتانيا.

٣ (١) حيث :

- عمليات البحث والكشف عن الخامات.
- عمليات إعداد المنجم لعملية التعدين والاستخراج، مثل : مد الخطوط الحديدية والطرق وإنشاء مساكن للعاملين.

(٢) حيث تحتاج إلى :

- وفرة الطاقة الكهربائية.
- خبرة علمية وفنية متطورة.
- سوق محلية وخارجية تستوعب الإنتاج.

تدريب ٢

- ١ (١) ٥ (٢) آسيا.
(٣) البترول. (٤) أوروبا.

- ٢ (١) الفحم. (٢) البترول.
(٣) طاقة الأمواج وحركة المد والجزر والسدود والشلالات.
(٤) الطاقة الشمسية.

- ٣ لأنه : - من مصادر الطاقة الأقل تلويثاً للبيئة.
- رخيص الثمن. - سهل النقل.

(٦) بسبب زيادة الطلب عليه وتعدد استخداماته خاصة وأنه من موارد الطاقة القابلة للنفاذ.
(٨) لأن الدول المتقدمة هي الدول الصناعية التي يتوافر بها رأس المال والتكنولوجيا المتقدمة وبذلك توجد بها الصناعات المختلفة التي تقوم على استهلاك المعادن ومصادر الطاقة بكثرة.

٧ (١) أدى ذلك إلى أن أسعاره في زيادة مستمرة.
(٢) قامت الدول النامية بتصدير معظم إنتاجها من المعادن لقلّة توافر مقومات الصناعة بها.

٨ (١) أجب بالرجوع إلى المفكرة ص ١٧ دلل.
(٢) أجب بالرجوع إلى المفكرة ص ٥ أهم المخططات.
(٣) ، (٤) أجب بالرجوع إلى المفكرة ص ١٨ دلل.
(٥) حيث تُعد مصر الرائدة بين الدول العربية في إنتاج الطاقة الكهربائية النظيفة سواء من الرياح أو السدود أو من الطاقة الشمسية.
(٦) حيث يتم إنتاج الطاقة الكهربائية من :
- الرياح وطاقة الأمواج وحركة المد والجزر
والسدود والشلالات (كهرباء مائية).
- الفحم والبتروول والغاز الطبيعي (كهرباء حرارية).
- الطاقة النووية.

٩ (١) سوف تتمكن الدول النامية المنتجة للبوكسيت من تصنيع الألمنيوم ولن تقوم بتصدير البوكسيت إلى الدول المتقدمة.
(٢) سوف يصبح لمصر مصدر جديد لطاقة نظيفة غير ملوثة للبيئة وغير قابلة للنفاذ وهي الطاقة الكهرومائية.
(٣) سوف تصبح من الدول الصناعية وبالتالي يزداد بها الدخل القومي.

١٠ أجب بالرجوع إلى المفكرة ص ١٣ قارن بين.

١١ (١) يُعد البوكسيت الخام الرئيسي لصناعة الألمنيوم.
(٢) يستخدم الغاز الطبيعي في إنتاج الكهرباء الحرارية.
(٣) تستخدم الأمواج في توليد الكهرباء المائية (الكهرومائية).

١٢ يترك للطالب حرية الإجابة في ضوء :
- التوسع في إنشاء محطات الطاقة من الرياح وحركة المد والجزر.
- التوسع في إنشاء محطات الطاقة الشمسية واستخدامها في المنازل والمصانع والقرى السياحية.

١٣ (١) صناعة الحديد والصلب.
(٢) صناعة الأسلاك والأدوات الكهربائية.

١٤ (١) البوكسيت.
(٢) الخام الرئيسي لمعدن الألمنيوم.

١٥ (١) تنتج الكهرباء من الطاقة المتجددة.
(٢) الحد من تصدير المواد الخام والقيام بتصنيعها.
(٣) الهادى. (٤) المحيط الأطلنطى.
(٥) أمريكا الجنوبية.
(٦) وفرة الخامات في الدول المصنعة.
(٧) الخليج العربي. (٨) أفريقيا.
(٩) الطاقة الحفريّة. (١٠) الشرقية.
(١١) تحتل مركزاً متقدماً عالمياً في إنتاج النحاس.

١٦ بسبب توافر :

- رءوس الأموال اللازمة.
- الخبرة العلمية والفنية المتطورة.
- اعتمادهم على التكنولوجيا الحديثة.

١٧ (١) العبارة غير صادقة :

لأن الألمنيوم يتم إنتاجه من خام البوكسيت.
(٢) العبارة غير صادقة :
لأن إنتاج الطاقة الكهرومائية تحتاج إلى طاقة أمواج أو حركة المد والجزر أو السدود والشلالات وهذا لا يتوافر في كل دول العالم.

الدرس الرابع

تدريب ١

(١) صواب : لأنها تختلف في نوعيتها (خفيفة أو ثقيلة)، ومدى تركيزها، وجودتها.
(٢) صواب : حيث إن الدول المتقدمة هي الدول التي تطورت فيها الصناعة تطوراً مدهلاً أخذت بالأساليب العلمية وتطبيق الأبحاث والتجارب العلمية في الاختراع وتطوير وتحديث المنتجات الصناعية بشكل مستمر.

(٢) خطأ : لأن الموقع المتميز من المقومات الطبيعية اللازمة للصناعة، بينما توافر الأسواق من المقومات البشرية.

تدريب ٢

- إقليم غرب ووسط أوروبا : (٥) ، (٧) ، (٩)
- إقليم شمال شرق الولايات المتحدة الأمريكية : (١)
- إقليم شرق آسيا : (١٣) ، (١٤)
- إقليم روسيا وأوكرانيا : (٢) ، (٨)
- مراكز صناعية حديثة : (٢) ، (٤) ، (٦) ، (١٠) ، (١١) ، (١٢)

أسئلة على الدرس الرابع

- ١ (١) ج (٢) آسيا.
- (٣) الصناعة.
- (٥) بريطانيا.
- (٧) المكسيك.
- (٩) شيلي.
- (٤) توافر الأسواق.
- (٦) روسيا وأوكرانيا.
- (٨) ماليزيا.

- ٢ (١) غرب ووسط أوروبا.
- (٢) شمال شرق الولايات المتحدة الأمريكية.
- (٣) روسيا وأوكرانيا.
- (٥) البرازيل.
- (٤) شرق آسيا.
- (٦) دولة جنوب أفريقيا.

- ٣ (١) الصين - جنوب أفريقيا.
- (٢) التطور العلمي - السياسات الحكومية.
- (٣) هنشو.

- ٤ (١) ... العوامل البشرية ...
- (٢) ... شمال شرق الولايات المتحدة الأمريكية.
- (٣) ... شرق آسيا الصناعي.
- (٤) ... صناعات بترولية.
- (٥) ... في شكل مناطق متباعدة جغرافياً.

- ٥ (١) لأن الدول المتقدمة :
- تأخذ بالأساليب العلمية.
 - تطبق الأبحاث والتجارب العلمية في الاختراع.
 - تطور وتحديث المنتجات الصناعية بشكل مستمر.

(٢) حسب مدى توافر مقومات الصناعة من :

- مقومات طبيعية مثل المواد الخام ومصادر الطاقة والموقع المتميز.

- مقومات بشرية مثل الأيدي العاملة والتطور العلمي وتوافر الأسواق وجودة المنتج.
- (٣) بسبب توافر البترول الذي قامت عليه صناعات بترولية.

٦ أجب بالرجوع إلى المفكرة ص ١٧ ما النتائج.

٧ (١) سوف تتطور وتتوسع الصناعة في الدول النامية وبالتالي ترتفع بمستوى شعوبها وتقرب من مستوى الدول المتقدمة.

(٢) سيؤدي ذلك إلى تحقيق التكامل العربي في الجوانب الاقتصادية والصناعية والتجارية وحمايتها جمركياً.

٨ (١) أجب بالرجوع إلى المفكرة ص ٦ أهم المخططات.

(٢) أجب بالرجوع إلى المفكرة ص ٧ أهم المخططات.

٩ (١) تنتمي إلى إقليم شرق آسيا الصناعي.

(٢) - توفير رؤوس الأموال.

- استخدام الوسائل التكنولوجية.

- الارتقاء بالمستوى العلمي للأيدي العاملة.

١٠ (١) الاهتمام بالبحث العلمي.

(٢) الأطنلى.

١١ العبارة صابقة :

لأن الصناعة تتقدم وتتطور بالأساليب العلمية وتطبيق الأبحاث والتجارب العلمية وتطوير وتحديث المنتجات الصناعية بشكل مستمر.

١٢ (١) الطائرات - السفن - الآلات.

(٢) البترول - الغاز الطبيعي - الفحم.

(٣) - الصناعات الغذائية.

- صناعة الغزل والنسيج.

- صناعة الألومنيوم.

١٢ حيث يتوافر بالوطن العربي مقومات الصناعة من :

- مقومات طبيعية :

♦ مصادر طاقة متجددة : الطاقة الكهرومائية

وطاقة الرياح والطاقة الشمسية.

♦ مصادر طاقة غير متجددة : البترول

والغاز الطبيعي.

♦ مواد خام : زراعية ومعدنية وحيوانية.

- مقومات بشرية :

♦ توافر الأسواق. ♦ وسائل النقل.

♦ الأيدي العاملة. ♦ رأس المال.

الوحدة 2

الدرس الأول

تدريب ١

١ (١) (١) دول نيبال والصين وبتان.

(٢) دولة ميانمار. (٣) خليج البنغال.

(٤) البحر العربي. (٥) دولة باكستان.

(ب) ① جبال الهيمالايا - جبال الغات الشرقية -

جبال الغات الغربية.

② هضبة الدكن.

③ سهول نهر الجانج - سهول نهر كوثري.

④ سهول ملبار - سهول كروماندل.

٢ (١) بنجلاديش. (٢) الغابات الموسمية.

(٣) جنوب شرق.

تدريب ٢

١ (١) الفحم. (٢) الغربية.

(٣) قطع غيار السيارات.

٢ (١) خطأ : ... بعد الصين. (٢) صواب.

(٣) صواب.

(٤) خطأ : ... المنسوجات والصناعات الكيماوية.

٣ (١) حيث يوجد بها أعداد كبيرة من الأبقار

والجاموس والأغنام.

(٢) حيث :

- تصدر مصر إلى الهند : القطن والفوسفات

والأسمدة الخام والمصنعة والجلود.

- تستورد مصر من الهند : غزل القطن والسمسم

والشاي والتوابل وقطع غيار وسائل النقل.

أسئلة على الدرس الأول

١ (١) الصين. (٢) مياه الأنهار والأمطار.

(٣) تدنى نسبة تواجده بالأراضي الهندية.

(٤) الجانج. (٥) جنوب.

(٦) بنجلاديش. (٧) كروماندل.

(٨) ملبار. (٩) هضبة الدكن.

(١٠) التعليم والبحث العلمي.

(١١) شمالاً. (١٢) الموسمية.

(١٣) قصب السكر. (١٤) الفحم.

(١٥) بومباي. (١٦) حيدر أباد.

(١٧) الجلود.

٢

(١) نيبال. (٢) الصين. (٣) باكستان.

(٤) بنجلاديش. (٥) نيودلهي. (٦) كلكتا.

(٧) الهيمالايا. (٨) الغات الشرقية.

(٩) الغات الغربية. (١٠) الدكن. (١١) ملبار.

(١٢) كروماندل. (١٣) الهندوستان.

(١٤) الهندي. (١٥) الجانج. (١٦) كوثري.

(١٧) سيلان. (١٨) بلك.

(١٩) البحر العربي. (٢٠) البنغال.

٢ (١) دول نيبال - الصين - بوتان.

(٢) دولة ميانمار. (٣) دولة باكستان.

(٤) خليج البنغال. (٥) البحر العربي.

٤ (١) صواب. (٢) صواب.

(٣) صواب.

(٤) خطأ : ... صناعات متطورة.

(٥) خطأ : ... في هضبة الدكن.

(٦) خطأ : ... العاصمة السياسية ... العاصمة

التجارية.

(٧) خطأ : ... غزل القطن وقطع غيار وسائل النقل.

الدرس الثاني

تدريب ١

- ١ (١) صواب.
- (٢) خطأ : ... المظهر الهضبي ... (٣) صواب.
- (٤) خطأ : ... فوق هضبة البرازيل.
- (٥) خطأ : ... في الأطراف الجنوبية للبرازيل.

٢ حيث :

- يسود المناخ الاستوائي (شديد الحرارة طوال العام) في حوض الأمازون والسهل الساحلي الشمالي.
- يسود المناخ المداري الحار في السهول الشرقية وهضبة البرازيل.
- يسود المناخ المعتدل الرطب في أقصى جنوب شرق البرازيل.

تدريب ٢

- ١ (١) سهول الأمازون. (٢) الزراعة.
- (٣) جنوب شرق. (٤) ريودي جانيرو.

- ٢ (١) أجب بالرجوع إلى كتاب الشرح ص ١٠٨
- (٢) بسبب وجود المراعى الدائمة (الغنية) في شمال هضبة البرازيل.

- ٢ (١) أجب بالرجوع إلى كتاب الشرح ص ١٠٨
- (٢) حيث كانت في الماضي تقتصر على الصناعات الغذائية والمنسوجات والصناعات الكيماوية أما الآن تطورت الصناعة وظهرت الصناعات الثقيلة كصناعة الحديد والصلب والسيارات والطائرات والآلات الكهربائية والأسمنت.
- (٣) حيث :

- تصدر مصر إلى البرازيل الأقطان، والمواد الغذائية، والأثاث، والمنسوجات، والأسمدة.
- تستورد مصر من البرازيل السكر، واللحوم، والبن، والمعادن خاصة الحديد، والحبوب الغذائية خاصة الزيتية.

- ٥ (١) بسبب سقوط الأمطار الموسمية الصيفية الغزيرة.
- (٢) : (٨) أجب بالرجوع إلى المفكرة ص ٢٧ بم تفسر.

- ٦ (١) ترتب على ذلك أصبحت الهند من الدول الرئيسية المنتجة للأسماك.
- (٢) ترتب على ذلك لجوء الهند لاستخدام الطاقة النووية والكهربائية.

٧ (١) حيث تمتد في :

- الجانب الشرقي : سهول كروماندل الساحلية وجبال الغات الشرقية.
- الجانب الغربي : سهول ملبار الساحلية وجبال الغات الغربية.
- (٢) حيث تتوافر بالهند مقومات الصناعة الطبيعية مثل (المعادن ومصادر الطاقة) ومقومات الصناعة البشرية مثل (الأيدي العاملة والتطور العلمي والأسواق).

- ٨ أجب بالرجوع إلى المفكرة ص ٢٥ الموقع وأهم المدن.

- ٩ أجب بالرجوع إلى المفكرة ص ٢٨ دلل.

- ١٠ (١) جزيرة سيلان. (٢) باكستان.
- (٣) بنجلاديش. (٤) الصين.
- (٥) جنوباً. (٦) جبال الغات الغربية.
- (٧) عامل الارتفاع. (٨) نيودلهي.

- ١١ (١) صواب. (٢) صواب.
- (٣) خطأ : ... الموسمي. (٤) صواب.

- ١٢ (١) حيث تصدر مصر إلى الهند القطن وتستورد مصر من الهند الشاي وكلاهما من المحاصيل المدارية.
- (٢) حيث تصدر مصر إلى الهند الفوسفات والأسمدة الخام والمصنعة والتي تزيد من خصوبة التربة.

أسئلة على الدرس الثاني

- ١ (١) ج (٢) هضبة البرازيل.
(٣) ميناؤوس.
(٤) الشرق والشمال الشرقي.
(٥) الشمال.
(٦) الهضبي.
(٧) المعتدل الرطب.
(٨) الشمالية.
(٩) الحشائش المعتدلة.
(١٠) السهول الفيضية الشمالية.
(١١) الحشائش المعتدلة.
(١٢) برازيليا.
(١٣) ساوياولو.
(١٤) المطلة على المحيط الأطلنطي.
(١٥) ريودي جانيرو.
(١٦) الأقطان.
(١٧) الحبوب الزيتية.
(١٨) المواد المصنعة.

- ٢ (١) الاستواء.
(٢) الأطلنطي.
(٣) جيانا الفرنسية.
(٤) فنزويلا.
(٥) بوليفيا.
(٦) باراجواي.
(٧) أورجواي.
(٨) البرازيل.
(٩) الأمازون.
(١٠) برازيليا.
(١١) ريودي جانيرو.
(١٢) ساوياولو.
(١) هضبة البرازيل.
(٢) اللحوم.
(٣) ريودي جانيرو.

- ٤ (١) صواب.
(٢) صواب.
(٣) صواب.
(٤) خطأ: ... فوق هضبة البرازيل.
(٥) خطأ: ... الهنود الحمر.
(٦) خطأ: ... الجنوبي الشرقي ...
(٧) صواب.
(٨) صواب.
(٩) صواب.
(١٠) صواب.
(١١) صواب.
(١٢) خطأ: ... المحيط الأطلنطي والبحر الكاريبي ونهر الأمازون.
(١٣) صواب.
(١٤) خطأ: ... في الجنوب الشرقي ...
(١٥) خطأ: ريودي جانيرو ...

- ٥ (١) أجب بالرجوع إلى المفكرة ص ٣١ بم تفسر.
(٢) لإعادة توزيع السكان نحو الداخل وتعمير هضبة البرازيل.

(٣) : (٥) أجب بالرجوع إلى المفكرة ص ٣١ بم تفسر.

- ٦ أجب بالرجوع إلى المفكرة ص ٣٢ ما النتائج.
٧ أجب بالرجوع إلى المفكرة ص ٣٢ ، ٣٣ دلت.
٨ أجب بالرجوع إلى المفكرة ص ٢٩ الموقع وأهم المدن.
٩ (١) بيرو.
(٢) أورجواي.
(٣) المداري الحار.
(٤) الأطراف الجنوبية.
(٥) الشمالية.
(٦) حشائش السافانا.
(٧) الشمالية.
(٨) المطاط والماهو جني.

١٠ لأن البرازيل تمتلك ثروة حيوانية كبيرة وذلك لوجود المراعي الغنية في شمال هضبة البرازيل مما جعلها من الدول الرئيسية المنتجة والمصدرة للحوم.

الدرس الثالث

تدريب ١

- ١ (١) دولة النيجر.
(٢) دولتي الكاميرون وتشاد.
(٣) المحيط الأطلنطي (خليج غينيا).
(٤) دولة بنين.

- ٢ (١) الشمالية.
(٢) المناخ المداري.
(٣) الاستوائية والمدارية.

تدريب ٢

- ١ (١) الزراعي.
(٢) القصدير.
(٣) المنطقة الشرقية.
(٤) لاجوس.
(٥) الحبوب الزيتية.

- ٢ (١) خطأ : ... أكبر دول قارة أفريقيا ...
(٢) صواب.
(٣) خطأ : ... حشائش السافانا.
(٤) صواب.
(٥) صواب.
(٦) صواب.

٢ أدت الظروف الطبيعية بنيجيريا من :

- وجود غابات كثيفة وظروف مناخية قاسية إلى قلة السكان في دلتا نهر النيجر جنوب نيجيريا.
- وجود أراضي زراعية ومراعي ومناطق تعدين في الغرب والسهول الشمالية وهضبة جوس إلى تركيز السكان.

أسئلة على الدرس الثالث

١ (١) دلتا النيجر.

(٢) وجود الغابات الاستوائية والمدارية.

(٣) وسط السهول الشمالية.

(٤) بنين. (٥) الأطلنطى.

(٦) الاستوائى. (٧) السافانا.

(٨) الاعتماد على الزراعة.

(٩) المطاط. (١٠) الكاكاو.

(١١) البترول. (١٢) الشرقية.

(١٣) البترول. (١٤) لاجوس.

(١٥) الحبوب الزيتية. (١٦) لاجوس.

(١٧) بنين.

٢ (١) غينيا. (٢) بنين. (٣) تشاد.

(٤) الكاميرون. (٥) چوس. (٦) النيجر.

(٧) أبوجا. (٨) إيبادان. (٩) لاجوس.

٣ (١) صواب. (٢) خطأ : ... المناخ المدارى.

(٣) خطأ : ... دولة النيجر.

(٤) خطأ : يقل ... (٥) صواب.

(٦) خطأ : يقل ... (٧) صواب.

(٨) صواب. (٩) صواب.

(١٠) خطأ : الصناعة فى نيجيريا ليست متطورة أو متنوعة.

(١١) خطأ : أبوجا العاصمة الحالية ...

(١٢) خطأ : ... على المواد المصنعة.

٤ (١) نيجيريا. (٢) نهر النيجر.

(٣) لاجوس. (٤) إيبادان.

٥ أجب بالرجوع إلى المفكرة ص ٣٥ بم تفسر.

٦ (١) ، (٢) أجب بالرجوع إلى المفكرة ص ٣٥ دلل.

(٣) حيث يتركز السكان فى الغرب وفى السهول

الشمالية وهضبة چوس لوجود الأراضى

الزراعية والمراعى ومناطق التعدين، بينما يقل

السكان فى دلتا النيجر فى الجنوب لوجود

الغابات الكثيفة والظروف المناخية القاسية.

(٤) أجب بالرجوع إلى المفكرة ص ٣٦ دلل.

(٥) حيث تصدر مصر لنيجيريا منتجات صناعية
مثل : الأسمدة، المعدات الثقيلة، الأسلاك
النحاسية، المحولات الكهربائية، مواسير
الألومنيوم، الإطارات، بينما تستورد مصر من
نيجيريا السلع الزراعية وأهمها الحبوب الزيتية.

٧ أجب بالرجوع إلى المفكرة ص ٣٤ الموقع وأهم المدن.

٨ يُزدرع فى :

- الجنوب (الأرز - المطاط).

- الوسط والشمال (الذرة الشامية - الذرة الرفيعة -

الكاكاو - الفول السودانى - نخيل الزيت).

٩ ترتب على الموقع الفلكى لدولة نيجيريا وقوع

معظمها فى نطاق المناخ المدارى، بينما الأطراف

الجنوبية تقع ضمن المناخ الاستوائى.

١٠ (١) دائرة الاستواء. (٢) تشاد.

(٣) الجنوب. (٤) كثرة الأمطار.

(٥) المناخ الملائم.

١١ يتمثل الاختلاف فى أن الكثافة السكانية تزداد فى

مصر عند دلتا نهر النيل بسبب خصوبة التربة،

بينما تقل الكثافة السكانية فى نيجيريا عند دلتا

نهر النيجر رغم خصوبة التربة بسبب الغابات

الكثيفة والظروف المناخية القاسية.

الدرس الرابع

تدريب ١

١ (١) البحر البلطى - دولة الدنمارك - بحر الشمال.

(٢) بولندا - التشيك. (٣) النمسا - سويسرا.

(٤) هولندا - بلجيكا - لوكسمبورج - فرنسا.

٢ (١) السهل الألمانى الشمالى.

(٢) بحر الشمال.

(٣) الشمال.

٣ لأنها تغطى بالغابات المخروطية وتكثر بها التلال

والينابيع المائية.

٤ أدى ذلك إلى انكماش مساحة الحشائش فى

السهل الساحلى الشمالى.

تدريب ٢

- ١ (١) العاصمة السياسية.
- (٢) عاصمة إقليم بافاريا جنوباً، يوجد بها مقر عدد من الشركات والمصانع الألمانية العالمية.
- (٣) أهم موانئ ألمانيا القريبة من بحر الشمال.
- ٢ (١) ... وينجر السكر.
- (٢) ... في السهل الشمالي والأودية النهرية.
- (٣) ... الصناعة ...

٣ أجب بالرجوع إلى كتاب الشرح ص ١٣٥

٤ حيث ترتبط مصر وألمانيا :

- بعلاقات ثقافية وعلمية تتمثل في (هيئة التبادل العلمى الألمانية والمركز الثقافى الألمانى والجامعة الألمانية بالقاهرة ومعهد الآثار الألمانى).
- بعلاقات اقتصادية تتمثل في تمويل ألمانيا لمحطات توليد الكهرباء من الرياح فى مصر كما تصدر مصر إلى ألمانيا (البترول والغاز الطبيعى والملابس) وتستورد منها (الصناعات الكيماوية والآلات والسيارات).

أسئلة على الدرس الرابع

- ١ (١) غرب. (٢) الشمال.
- (٣) النمسا. (٤) السهلى.
- (٥) بحر الشمال. (٦) المرتفعات الوسطى.
- (٧) جبال الألب. (٨) الغطاء النباتى.
- (٩) قصب السكر. (١٠) الأرز.
- (١١) الصناعة. (١٢) البترول.

- ٢ (١) الشمال. (٢) البلطى. (٣) بولندا.
- (٤) النمسا. (٥) لوكسمبورج. (٦) بلجيكا.
- (٧) الألب. (٨) إلب. (٩) الراين.
- (١٠) برلين. (١١) ميونخ. (١٢) هامبورج.

- ٣ (١) التشيك - لوكسمبورج. (٢) الألب.
- (٣) غرب أوروبا. (٤) السهل الشمالى.

- ٤ (١) صواب.
- (٢) خطأ : ... السهل الألمانى الشمالى ...
- (٣) خطأ : ... نحو الشرق. (٤) صواب.
- (٥) صواب. (٦) صواب.

- (٧) صواب. (٨) صواب.
- (٩) خطأ : ... هامبورج أهم الموانئ ... برلين عاصمتها.
- (١٠) خطأ : ... جنوب ألمانيا.
- (١١) صواب. (١٢) صواب.

- ٥ (١) البحر البلطى ودولة الدنمارك وبحر الشمال.
- (٢) الراين. (٣) الألب.
- (٤) الشمال. (٥) النفضية والمخروطية.
- (٦) الصناعات الكيماوية والآلات والسيارات.

٦ أجب بالرجوع إلى المفكرة ص ٣٩ بم تفسر.

٧ أجب بالرجوع إلى المفكرة ص ٣٩ دلل.

- ٨ (١) تتمثل فى :
 - توافر مقومات الصناعة.
 - تدفق الاستثمارات.
 - توافر المراكز العلمية المتقدمة.
- (٢) تتمثل فى صناعة الحديد والصلب والسيارات والسفن والمنسوجات والصناعات الإلكترونية والكهربائية.
- (٣) - تصدر مصر إلى ألمانيا :
 - البترول والغاز الطبيعى والملابس وغيرها.
 - تستورد مصر من ألمانيا :
 - الصناعات الكيماوية والآلات والسيارات وغيرها.

٩ أجب بالرجوع إلى المفكرة ص ٣٧ الموقع وأهم المدن.

- ١٠ (١) الدنمارك. (٢) الجنوبية.
- (٣) فيزر. (٤) بولندا والتشيك.
- (٥) التجارية. (٦) الاهتمام بالبحث العلمى.
- (٧) برلين. (٨) الشمالى الشرقى.
- (٩) ميونخ.

- ١١ (١) خطأ : ... بسبب موقعها بالنسبة لخطوط الطول.
- (٢) خطأ : ... إقليم غرب أوروبا.

- ١٢ (١) حيث انكشفت مساحة الحشائش فى ألمانيا بسبب التوسع العمرانى.
- (٢) حيث شهدت الصناعة توسعاً وتطوراً كبيراً بسبب توافر المراكز العلمية المتقدمة.

- ١٣ العبارة غير صادقة : لأن الغابات المخروطية فى ألمانيا تعد مناطق جذب للسياح.

الدرس الخامس

تدريب ١

١

- (١) (١) كندا. (٢) المحيط الأطلنطي.
(٣) دولة المكسيك - خليج المكسيك.
(٤) المحيط الهادى.
(ب) (١) المرتفعات الشرقية. (٢) السهول الوسطى.
(٣) ، (٤) نطاق المرتفعات والأحواض الجبلية الغربية.
(٥) السلاسل الجبلية الغربية (الساحلية).

- ٢ (١) خطأ : ... ما عدا ولايتا هاواي وألاسكا اللتان تقعان خارج الموقع الفلكى للولايات المتحدة الأمريكية.
(٢) صواب.
(٣) خطأ : ... فى الساحل الجنوبي الشرقى ودلتا نهر المسيسيبي ...
(٤) صواب.

تدريب ٢

١

- (١) واشنطن. (٢) المحيط الأطلنطي.
(٣) المحيط الأطلنطي.
(٤) ميناء مهم ويوجد بها مقر الأمم المتحدة.
(٥) شيكاغو. (٦) بحيرة متشجن.
(٧) أكبر الموانئ الأمريكية على ساحل المحيط الهادى.

٢ (١) بسبب :

- وجود المدن الكبرى مثل نيويورك.
- وجود المناطق الصناعية والتجارية الكبرى.
(٢) - فى نطاق المرتفعات والأحواض الغربية : بسبب الظروف الطبيعية الصعبة.
- فى ولاية ألاسكا : بسبب برودة الجو.
(٣) أجب بالرجوع إلى كتاب الشرح ص ١٤٩
(٤) أجب بالرجوع إلى كتاب الشرح ص ١٥٠

٢

- (١) حيث أسهمت الولايات المتحدة الأمريكية بحصص مرتفعة من عدة صناعات منها :
- صناعة السيارات وصناعة الصلب وصناعة الألومنيوم.
- صناعة الطائرات وسفن الفضاء والأقمار الصناعية حيث تحتل المرتبة الأولى عالمياً فى هذه الصناعات.

- الصناعات الإلكترونية والكهربائية حيث تنتج ثلث الإنتاج العالمى منها.
(٢) حيث :

- توجد اتفاقيات بين البلدين فى إطار التعاون الاقتصادى والتكنولوجى والثقافى والعلمى.
- توجد اتفاقيات تجارية بين البلدين منها اتفاقية منطقة التجارة الحرة واتفاقية المناطق الصناعية المؤهلة (الكوزين).
- تستورد مصر من الولايات المتحدة الأمريكية منتجات تكنولوجية حديثة وأسلحة وطائرات وغيرها.

أسئلة على الدرس الخامس

١

- (١) مدار السرطان. (٢) المكسيك.
(٣) هاواي. (٤) ألاسكا.
(٥) دولة كندا. (٦) المحيط الهادى.
(٧) روكى. (٨) شرق.
(٩) غابات الإقليم الصينى.
(١٠) شبه المدارى الحار.
(١١) وجود المدن الكبرى.
(١٢) برمنجهام. (١٣) ج.
(١٤) الظروف المناخية. (١٥) شيكاغو.

٢

- (١) (١) الأطلنطي. (٢) الهادى.
(٣) المكسيك. (٤) كندا.
(٥) المكسيك. (٦) ألاسكا.
(٧) نيويورك. (٨) واشنطن.
(٩) سان فرانسيسكو. (١٠) شيكاغو.
(ب) (١) الأبلش. (٢) روكى.
(٣) كسكيد. (٤) كلورادو.
(٥) المسيسيبي.

٣

- (١) شبه المدارى الحار. (٢) الأحواض الجنوبية.
(٣) المرتفعات الشمالية الغربية.
(٤) تنتشر غابات الإقليم الصينى.
(٥) تنتشر الحشائش فى الوسط والغابات فى أقصى الجنوب.
(٦) تنتشر الأعشاب الصحراوية بصحراء أريزونا الحارة الجافة، والحشائش والنباتات الجبلية، تنتشر بالمرتفعات الشمالية الغربية.

ثانياً التاريخ

الوحدة 3

الدرس الأول

تدريب ١

- ١ (١) مصطفى النحاس.
- (٢) معاهدة ١٩٣٦ م.
- (٣) جمال عبدالناصر.

- ٢ (١) أجب بالرجوع إلى كتاب الشرح ص ١٦٨
- (٢) أجب بالرجوع إلى كتاب الشرح ص ١٦٩
- (٣) أجب بالرجوع إلى كتاب الشرح ص ١٧٠

٣ أجب بالرجوع إلى كتاب الشرح ص ١٧٠

٤ ترتب على ذلك انتشار ظاهرة الفقر والجهل والمرض.

- ٥ حيث استنزفت موارد مصر لخدمة بريطانيا وحلفائها أثناء الحرب العالمية الثانية مما ترتب عليه إرهاب اقتصاد المصري وزيادة معاناة أفراد الشعب المصري.

تدريب ٢

- ١ (١) الاقتصادي.
- (٢) تأمين شركة قناة السويس.
- (٣) تحديد نسبة للعمال من أرباح الشركات.
- (٤) سوريا.
- (٥) إلغاء الملكية وإعلان الجمهورية.
- (٦) إندونيسيا.

- ٢ (١) عدم الانحياز.
- (٢) التأمين.
- (٣) الإقطاع.

٤ (١) خطأ : ... ولايتا ألاسكا وهاواي ...

- (٢) صواب.
- (٣) خطأ : ... الأبالاش.
- (٤) صواب.
- (٥) خطأ : تنمو الحشائش ... بينما تنمو الغابات ...
- (٦) صواب.
- (٧) خطأ : ... بغزارة الأمطار ...
- (٨) صواب.
- (٩) خطأ : ... على التكنولوجيا الحديثة.
- (١٠) خطأ : ... وتصدر جزءاً منها للخارج.
- (١١) صواب.
- (١٢) صواب.
- (١٣) خطأ : ... في منطقة جنوب ...
- (١٤) صواب.
- (١٥) خطأ : سان فرانسيسكو ...

٥ (١) بسبب اتساع مساحة الولايات المتحدة الأمريكية، وتنوع تضاريسها.

- (٢) بسبب اتساع مساحة الولايات المتحدة الأمريكية وتنوع تضاريسها وتنوع المناخ.

- (٣) : (٥) أجب بالرجوع إلى الفكرة ص ٤٢، ٤٣ بم تفسر.
- (٦) لأنها تتمتع بموارد طبيعية وفيرة ومتنوعة، مما أدى إلى تعدد الأنشطة الاقتصادية وضخامة إنتاجها.

(٧) : (٩) أجب بالرجوع إلى الفكرة ص ٤٣ بم تفسر.

٦ أجب بالرجوع إلى الفكرة ص ٤٤ ما النتائج.

٧ أجب بالرجوع إلى الفكرة ص ٤٤ دلل.

٨ (١) برمنجهام. (٢) سان فرانسيسكو.

- ٩ (١) المحيط الأطلنطي. (٢) ألاسكا.
- (٣) متشجن.
- (٤) خليج المكسيك.
- (٥) الغربية.
- (٦) كثرة دوائر العرض.
- (٧) وجود المدن الكبرى.
- (٨) القمح.
- (٩) الشمالية.
- (١٠) نيويورك.
- (١١) سان فرانسيسكو.

١٠ (١) العبارة صادقة : حيث يربى حيوان الرنة في ولاية ألاسكا التابعة لدولة الولايات المتحدة الأمريكية في أقصى شمال القارة.

- (٢) العبارة غير صادقة : بسبب وجود مينائي سان فرانسيسكو ولوس أنجلوس.
- (٣) العبارة صادقة : بسبب وجود حشائش الساقانا وحشائش الإستبس وحشائش التندرا داخل الولايات المتحدة الأمريكية.

١١ حيث يوجد بمدينة نيويورك مقر الأمم المتحدة.

أسئلة على الدرس الأول

- ١ (١) حركة الحياض الإيجابي. (٢) فساد النظام الملكي. (٣) معاهدة ١٩٣٦م. (٤) الصراع بين الأحزاب. (٥) محمد نجيب. (٦) توقيع اتفاقية الجلاء. (٧) الاقتصادي. (٨) الاجتماعي. (٩) جعل التعليم بالمجان. (١٠) الاجتماعي. (١١) العربي والدولي. (١٢) الهند. (١٣) توقيع معاهدة ١٩٣٦م. (١٤) المساهمة في تشكيل حركة عدم الانحياز. (١٥) تمصير شركات التأمين.

- ٢ (١) الملك فاروق - مصطفى النحاس. (٢) محمد أنور السادات. (٣) كينيا. (٤) باندونج.

- ٣ (١) صواب. (٢) خطأ : ... بموجب توقيع اتفاقية الجلاء أكتوبر ١٩٥٤م. (٣) صواب. (٤) صواب. (٥) خطأ : ... في المجال السياسي. (٦) خطأ : ... في المجال الاقتصادي. (٧) صواب. (٨) صواب. (٩) صواب. (١٠) خطأ : ... مصر وسوريا ... (١١) صواب.

- ٤ (١) مصطفى النحاس. (٢) أحمد فؤاد الثاني. (٣) محمد نجيب.

- ٥ (١) تنظيم الضباط الأحرار. (٢) معاهدة ١٩٣٦م. (٣) قانون الإصلاح الزراعي الأول. (٤) حركة عدم الانحياز.

- ٦ (١) أجب بالرجوع إلى الفكرة ص ٥٢ أهم المخططات. (٢) بسبب قيام قوات الاحتلال البريطاني بمحاصرة قصر عابدين في فبراير ١٩٤٢م لإجبار الملك فاروق على تعيين مصطفى النحاس باشا رئيساً للحكومة مما يعد تدخل في شؤون مصر الداخلية.

- (٣) : (٥) أجب بالرجوع إلى الفكرة ص ٦٠ بم تفسر. (٦) بهدف القضاء على الإقطاع.

- ٧ (١) ، (٣) أجب بالرجوع إلى الفكرة ص ٦٤ ما النتائج. (٢) أدى ذلك إلى :
- جعل فئة صغيرة تملك وتستبد.
- انتشار ظاهرة الفقر والجهل والمرض.

- ٨ (١) لم ترحل القوات الإنجليزية عن مصر. (٢) - لم يتم القضاء على ظاهرة الإقطاع. - لم يتم تملك الفلاحين للأراضي الزراعية. (٣) - استمرار تعرض البلاد لخطر الفيضان. - لم يتم تخزين المياه وتوليد الكهرباء.

- ٩ (١) أجب بالرجوع إلى الفكرة ص ٦٧ دلل. (٢) ، (٣) أجب بالرجوع إلى الفكرة ص ٦٨ دلل. (٤) حيث تم توقيع معاهدة ١٩٣٦م التي أدت إلى جعل مصر ميداناً لمعارك الحرب العالمية الثانية وبالتالي استنزاف موارد البلاد لخدمة بريطانيا وحلفائها، مما ترتب عليه إرهاب الاقتصاد المصري وزيادة معاناة أفراد الشعب.

- (٥) أجب بالرجوع إلى الفكرة ص ٦٨ دلل. (٦) ، (٧) أجب بالرجوع إلى الفكرة ص ٦٩ دلل. (٨) حيث جعلت التعليم بجميع مراحله بما فيها التعليم الجامعي بالمجان. (٩) حيث تم :

- تحديد ساعات العمل وإشراك العمال في مجالس إدارة الشركات والمصانع وتحديد نسبة لهم من الأرباح.
- إصدار قوانين للتأمينات الاجتماعية والمعاشات لهم. (١٠) حيث تم منح المرأة حق الانتخاب والترشح لمجلس الأمة (مجلس النواب حالياً) عام ١٩٥٦م. (١١) أجب بالرجوع إلى الفكرة ص ٧٠ دلل.

- ١٠ أصبح اللواء محمد نجيب مسيطرًا على جميع قطاعات الجيش المصري.

- ١١ (١) فساد الأحزاب السياسية وصراعها على الحكم أدى إلى عدم وجود حياة ديمقراطية سليمة في مصر قبل عام ١٩٥٢م.

- تمصير البنوك وشركات التأمين وشركات التصدير والاستيراد.

١٩ أدى فساد النظام الملكي في مصر إلى انتشار الرشاوى كما حدث في صفقة الأسلحة الفاسدة والتي كانت سبباً في هزيمة الجيش المصرى فى حرب فلسطين ١٩٤٨ م.

الدرس الثاني

تدريب ١

- ١ (١) وعد بلفور. (٢) بريطانيا.
- (٣) اللجنة العربية. (٤) الأمم المتحدة.
- (٥) القدس. (٦) الانتداب.

٢ أجب بالرجوع إلى كتاب الشرح ص ١٨٥

تدريب ٢

- ١ (١) أجب بالرجوع إلى كتاب الشرح ص ١٨٧
- (٢) أجب بالرجوع إلى كتاب الشرح ص ١٨٨
- (٣) أجب بالرجوع إلى كتاب الشرح ص ١٨٩
- ٢ (١) أجب بالرجوع إلى كتاب الشرح ص ١٨٨
- (٢) أجب بالرجوع إلى كتاب الشرح ص ١٨٩

٣ أجب بالرجوع إلى كتاب الشرح ص ١٩٠

تدريب ٣

- ١ (١) بالصمود والتصدى. (٢) بورفؤاد.
- (٣) صواريخ البحرية. (٤) عبد المنعم رياض.

٢ لوقف إطلاق النار تمهيداً لحل النزاع سلمياً.

أسئلة على الدرس الثاني

- ١ (١) أثناء الحرب العالمية الأولى. (٢) إيطاليا.
- (٣) بريطانيا.
- (٤) إصدار قرار تقسيم فلسطين.
- (٥) الأمم المتحدة.
- (٦) معظم أراضي فلسطين.
- (٧) الحصار الاقتصادي.

(٢) ساهمت ثورة ٢٣ يوليو ١٩٥٢ فى إظهار قوة مصر الدولية وذلك عندما قامت بـ :

- مساندة الدول العربية والأفريقية لنيل الاستقلال.
- كسر احتكار السلاح العالمى بعقد صفقة الأسلحة الشرقية.
- المساهمة فى تشكيل حركة عدم الانحياز.

١٢ يترك للطالب حرية الإجابة فى ضوء :

عدم وجود حياة ديمقراطية سليمة بسبب :

- خضوع مصر للاحتلال البريطانى.
- فساد النظام الملكى.
- فساد الأحزاب السياسية وزيادة الصراع بينهم من أجل الوصول إلى الحكم.

١٣ (١) ① حصار الإنجليز لقصر عابدين (فبراير ١٩٤٢ م).

② هزيمة الجيش المصرى فى حرب فلسطين (١٩٤٨ م).

③ إصدار قانون الإصلاح الزراعى الأول

(سبتمبر ١٩٥٢ م).

④ اتفاقية الجلاء بين مصر وبريطانيا

(أكتوبر ١٩٥٤ م).

(٢) ① تنازل الملك فاروق عن العرش (يوليو ١٩٥٢ م).

② إلغاء دستور ١٩٢٣ م (ديسمبر ١٩٥٢ م).

③ إعلان الجمهورية المصرية (يونيه ١٩٥٣ م).

④ مؤتمر باندونج (١٩٥٥ م).

⑤ تأميم شركة قناة السويس البحرية (يوليو ١٩٥٦ م).

⑥ الوحدة بين مصر وسوريا (فبراير ١٩٥٨ م).

١٤ (١) ، (٢) أجب بالرجوع إلى المفكرة ص ٥٢ أهم المخططات.

(٣) أجب بالرجوع إلى المفكرة ص ٦٨ دلل.

(٤) أجب بالرجوع إلى المفكرة ص ٦٩ دلل.

١٥ (١) أجب بالرجوع إلى المفكرة ص ٦٨ دلل.

(٢) أجب بالرجوع إلى المفكرة ص ٦٩ دلل.

١٦ (١) نمو النشاط الصناعى. (٢) المغرب.

(٣) تحقيق أول تجربة للوحدة العربية.

١٧ حيث تم إنشاء مصنع الأسمدة بأسوان.

١٨ العبارة صادقة، حيث قامت ثورة ٢٣ يوليو ١٩٥٢ بـ :

- تأميم شركة قناة السويس البحرية والتي أصبحت شركة مصرية بإدارة مصرية.

٦ (١) أجب بالرجوع إلى المفكرة ص ٦٤ ما النتائج.
(٢) ترتب على ذلك موافقة هيئة الأمم المتحدة على تقسيم فلسطين إلى :

- دولة عربية.
- دولة يهودية.
- منطقة دولية (القدس) أى وضع القدس تحت إدارة دولية.

(٣) أجب بالرجوع إلى المفكرة ص ٥٥ أهم الحروب.
(٤) أجب بالرجوع إلى المفكرة ص ٦٥ ما النتائج.
(٥) أجب بالرجوع إلى المفكرة ص ٥٦ أهم الحروب.
(٦) ، (٧) أجب بالرجوع إلى المفكرة ص ٦٥ ما النتائج.

٧ (١) لم يتم :

- السماح بهجرة أعداد كبيرة من اليهود من جميع أنحاء العالم إلى فلسطين.
- السماح بانتقال ملكية الأراضي من عرب فلسطين عن طريق الشراء إلى اليهود.
- إنشاء وطن قومي لليهود في فلسطين.

(٢) كان سيؤدي ذلك إلى :

- عدم استيلاء إسرائيل على معظم الأراضي الفلسطينية.

- لم يتم تقسيم القدس بين العرب واليهود.

(٣) كان سيؤدي ذلك إلى :

- إنهاء حالة الحرب بين إسرائيل والعرب.
- انسحاب إسرائيل من الأراضي التي احتلتها عام ١٩٦٧م.

(٤) كان سيؤدي ذلك إلى :

- هزيمة الجيش المصري في معركة رأس العش واحتلال القوات الإسرائيلية لمدينة بورفؤاد.
- فشل مصر في تدمير المدمرة الإسرائيلية إيلات.
- عدم بناء حائط الصواريخ على الضفة الغربية لقناة السويس.

٨ يترك للطالب حرية الإجابة في ضوء :

- أن التصريح ينص على تعهد بريطانيا ببذل مساعيها لإنشاء وطن قومي لليهود في فلسطين.
- أن التصريح يوصف بأنه وعد ممن لا يملك لمن لا يستحق.

(٨) عدوان ٥ يونيه ١٩٦٧م.

(٩) عدوان ٥ يونيه ١٩٦٧م.

(١٠) مصرى. (١١) بورفؤاد.

(١٢) عقد صفقة الأسلحة الشرقية.

(١٣) غزة وسيناء.

(١٤) مؤتمر سان ريمو. (١٥) الجزائر.

(١٦) أمريكية.

٢ (١) اللجنة العربية. (٢) دير ياسين.

(٣) الدفاع المشترك. (٤) إيلات.

(٥) روجرز.

٣ (١) خطأ : أصدرت بريطانيا ...

(٢) خطأ : ... بدء الانتداب ...

(٣) صواب. (٤) صواب.

(٥) خطأ : وافقت هيئة الأمم المتحدة ...

(٦) صواب. (٧) صواب. (٨) صواب.

(٩) خطأ : ... الولايات المتحدة الأمريكية والاتحاد

السوفييتي (سابقاً).

(١٠) صواب. (١١) صواب. (١٢) صواب.

(١٣) خطأ : ... بصواريخ البحرية ...

(١٤) صواب. (١٥) صواب.

(١٦) صواب. (١٧) صواب.

(١٨) خطأ : ... أثناء حرب الاستنزاف.

(١٩) صواب. (٢٠) صواب.

٤ (١) وعد بلفور. (٢) سان ريمو.

(٣) مرحلة الصمود والتصدي. (٤) رأس العش.

٥ (١) ، (٣) أجب بالرجوع إلى المفكرة ص ٦٠ بم تفسر.

(٢) بسبب موقعها الجغرافي المتميز نسبياً والذي

كان سبباً في طمع الغزاة فيها على مر العصور.

(٤) بسبب عدم التزام اليهود بالهدنة وبدأوا في تقوية

قواتهم من حيث العدد والتسليح والتدريب.

(٥) ، (٨) أجب بالرجوع إلى المفكرة ص ٥٥ ، ٥٦ أهم الحروب.

(٦) بهدف تزويد مصر بالأسلحة والمعدات لمواجهة

الاطماع الإسرائيلية والاعتداءات على الشعب

الفلسطيني.

(٧) ، (٩) : (١٢) أجب بالرجوع إلى المفكرة ص ٦١ بم تفسر.

(٢) أجب بالرجوع إلى المفكرة ص ٥٥ ، ٥٦ أهم الحروب.

- ١٢ ① صدور وعد بلفور (١٩١٧م).
- ② مؤتمر سان ريمو (١٩٢٠م).
- ③ موافقة هيئة الأمم المتحدة على تقسيم فلسطين (١٩٤٧م).
- ④ إعلان قيام دولة إسرائيل (١٩٤٨م).
- ⑤ حرب فلسطين «الحرب العربية / الإسرائيلية» (١٩٤٨م).

- ١٣ (١) العبارة غير صادقة : لأن النذى وافق على قرار التقسيم هيئة الأمم المتحدة.
- (٢) العبارة غير صادقة : لأن أول رد مصرى هو إعلان وقفها بجانب سوريا تطبيقاً لاتفاقية الدفاع المشترك وأرسلت قواتها بسرعة إلى شبه جزيرة سيناء.
- (٣) العبارة صادقة : حيث قامت الوحدة بين مصر وسوريا عام ١٩٥٨م.

- ١٤ (١) ، (٢) أجب بالرجوع إلى المفكرة ص ٥٢ أم المخططات.
- ١٥ (١) افتقاد العدوان للدعم الدولى.
- (٢) عدوان ٥ يونيه ١٩٦٧م.
- (٣) معارض.

- ١٦ (١) حيث عام : - ١٩٤٨م اعترف بقيام دولة إسرائيل.
- ١٩٥٦م هدد دول العدوان الثلاثى بالتدخل لوقف العدوان.
- (٢) - فى حرب فلسطين ١٩٤٨م : كانت الهدنة التى قدمتها الولايات المتحدة الأمريكية لمجلس الأمن سبباً فى هزيمة القوات العربية.
- فى حرب الاستنزاف : كانت مبادرة روجرز (وزير خارجية الولايات المتحدة) لوقف إطلاق النار سبباً فى إيقاف الحرب.
- (٣) حيث كان من نتائج العدوان الثلاثى انسحاب إسرائيل من قطاع غزة وسيناء ولكن استعادت إسرائيل السيطرة على غزة وسيناء بعد عدوان يونيه ١٩٦٧م.

- ٩ (١) أدى انتصار دول الحلفاء فى الحرب العالمية الأولى إلى وضع فلسطين تحت الانتداب البريطانى مع تنفيذ وعد بلفور.
- (٢) أجب بالرجوع إلى المفكرة ص ٧٤ ما العلاقة.
- (٣) كان تهديد الاتحاد السوفيتى (سابقاً) بالتدخل لوقف العدوان ورفض الولايات المتحدة الأمريكية استخدام القوة فى حل النزاعات وتثنيده الأمم المتحدة بالعدوان سبباً فى فشل العدوان الثلاثى على مصر.
- (٤) قدم روجرز وزير خارجية الولايات المتحدة الأمريكية مبادرة لوقف إطلاق النار فى حرب الاستنزاف تمهيداً لحل النزاع سلمياً بين مصر وإسرائيل.

- ١٠ (١) أجب بالرجوع إلى المفكرة ص ٧٠ دلل.
- (٢) حيث تقدمت الولايات المتحدة الأمريكية باقتراح إلى مجلس الأمن لوقف القتال وإقامة هدنة مدتها شهر استطاع اليهود خلالها تقوية قواتهم من حيث العدد والتسلح والتدريب وعند استئناف القتال ظهر تفوق اليهود مما أدى إلى هزيمة القوات العربية.
- (٣) حيث :
- قامت أجهزة تجسس أمريكية حديثة بتصوير المواقع المصرية مما ساعد إسرائيل فى ضرب المطارات المصرية عام ١٩٦٧م.
- ساندت الولايات المتحدة الأمريكية إسرائيل عسكرياً واقتصادياً وسياسياً.
- (٤) أجب بالرجوع إلى المفكرة ص ٧٠ دلل.
- (٥) أجب بالرجوع إلى المفكرة ص ٧١ دلل.

١١

(١)

موقف العرب	موقف اليهود
رفضت الدول العربية مشروع تقسيم فلسطين عام ١٩٤٧م.	وافقوا على التقسيم وقامت عصابات اليهود المسلحة بطرد العرب من ديارهم وارتكاب أبشع المذابح مثل مذبحة دير ياسين.

الدرس الثالث

تدريب ١

- ١ (١) الطيران. (٢) إصدار دستور جديد.
(٣) الجزائر. (٤) الدفروسوار.

٢ (١) صواب.

- (٢) خطأ: استطاع الجيش المصري تدمير خط بارليف،
بينما استطاع الجيش السوري تدمير خط ألون.
(٣) خطأ: ... بالكويت ...

- ٣ بسبب الخسائر الكبيرة التي لحقت بإسرائيل في
أعداد الجنود والطائرات على الجبهتين المصرية
والسورية.

٤ ترتب على ذلك :

- تحطيم أعداد كبيرة من الطائرات والمعدات
العسكرية الإسرائيلية.
- عبور الدبابات والمدافع والآليات العسكرية
المصرية بمختلف أنواعها.

٥ (١) أجب بالرجوع إلى كتاب الشرح ص ٢٠٣

(٢) أجب بالرجوع إلى كتاب الشرح ص ٢٠٥

تدريب ٢

١ أجب بالرجوع إلى كتاب الشرح ص ٢٠٦ ، ٢٠٧

٢ أجب بالرجوع إلى كتاب الشرح ص ٢٠٧

أسئلة على الدرس الثالث

- ١ (١) السعودية. (٢) الشرقية.
(٣) توحيد الصف. (٤) الطيران.
(٥) خط بارليف. (٦) سياسياً.
(٧) طلب الرئيس الأمريكي مساعدات عاجلة لإسرائيل.
(٨) الجزائر. (٩) المغرب.
(١٠) معلومات عسكرية.
(١١) الولايات المتحدة الأمريكية.
(١٢) أحمد إسماعيل.
(١٣) محمد عبد الغنى الجمسى.

٢ (١) صواب. (٢) صواب. (٣) صواب.

(٤) خطأ : ... خط ألون. (٥) صواب.

(٦) صواب. (٧) صواب.

(٨) خطأ : ... لإسرائيل ...

(٩) صواب.

(١٠) خطأ : ... أحمد إسماعيل ...

(١١) خطأ : ... الفريق سعد الدين الشاذلى ...

(١٢) صواب.

(١٣) خطأ : ... على الجبهة المصرية.

(١٤) خطأ : ... الضفة الشرقية ... (١٥) صواب.

٢ (١) محمد حسنى مبارك.

(٢) المشير أحمد إسماعيل.

(٣) الفريق سعد الدين الشاذلى.

(٤) الفريق محمد عبدالغنى الجمسى.

٤ (١) أجب بالرجوع إلى المفكرة ص ٥٦ أهم الحروب.

(٢) أجب بالرجوع إلى المفكرة ص ٦٢ بم تفسر.

(٣) بسبب تدخل الولايات المتحدة مع الدول

الأعضاء فى مجلس الأمن لوقف جميع الأعمال

الحربية بدءاً من يوم ٢٢ أكتوبر ١٩٧٣ م.

(٤) لدوره الواضح فى حرب أكتوبر ١٩٧٣ م

والذى ظهر فى :

- تولى التخطيط والتنسيق على الجبهتين

المصرية والسورية بدقة ومهارة عالية.

- قيادته لخطة الخداع لصرف أنظار إسرائيل

عن التجهيزات الهجومية.

(٥) لدوره الواضح فى حرب أكتوبر ١٩٧٣ م حيث

شارك مع القادة العسكريين فى وضع خطة

لعبور قناة السويس وتحطيم خط بارليف

وقيامه بتنفيذها.

٥ (١) ، (٢) أجب بالرجوع إلى المفكرة ص ٦٦ ما النتائج.

(٣) ترتب على ذلك مساعدة إسرائيل فى إحداث

ثغرة فى منطقة الدفروسوار.

(٤) أجب بالرجوع إلى المفكرة ص ٥٦ أهم الحروب.

(٥) نجاح الدراسة مما كان له أثر فى إحراز نصر

أكتوبر العظيم.

(٦) ترتب على ذلك إفساح المجال للمفاوضات

السياسية من منطلق القوة العربية.

١٢ العبارة صادقة : حيث أصدر الرئيس السادات دستور جديد للبلاد «دستور ١٩٧١م».

الدرس الرابع

تدريب ١

١ (١) صواب.
(٢) خطأ : ... كامب ديفيد ١٩٧٨م. (٣) صواب.

٢ (١) أجب بالرجوع إلى كتاب الشرح ص ٢١٦

(٢) أجب بالرجوع إلى كتاب الشرح ص ٢١٧

(٣) أجب بالرجوع إلى كتاب الشرح ص ٢١٨

٣ أجب بالرجوع إلى كتاب الشرح ص ٢١٧

تدريب ٢

١ (١) مؤتمر مدريد للسلام. (٢) مدينة مدريد.
(٣) اتفاقية أوسلو للسلام.

٢ أجب بالرجوع إلى كتاب الشرح ص ٢١٩ ، ٢٢٠

أسئلة على الدرس الرابع

١ (١) معاهدة السلام ١٩٧٩م.

(٢) واشنطن. (٣) مصر.

(٤) رئيس الولايات المتحدة الأمريكية.

(٥) زيارة رئيس مصر لإسرائيل.

(٦) المعاهدات الرسمية.

(٧) التحكيم الدولي.

٢ (١) أمريكية. (٢) طابا. (٣) مدريد.

٢ (١) صواب.

(٢) خطأ : ... حرب أكتوبر ١٩٧٣م.

(٣) خطأ : ... ورعاية الولايات المتحدة الأمريكية.

(٤) خطأ : ... ما عدا طابا.

(٥) خطأ : ... قرار مجلس الأمن ٢٤٢

(٦) خطأ : ... مؤتمر مدريد للسلام عام ١٩٩١م.

(٧) صواب. (٨) صواب.

(٩) خطأ : ترتب على عقد مؤتمر مدريد للسلام ...

(١٠) صواب.

(١١) خطأ : أيدت ... (١٢) صواب.

٦ (١) - لم يتم إعداد وتهيئة الجبهة العربية استعداداً لحرب أكتوبر ١٩٧٣م.

- لن يكون للدول العربية موقفاً موحداً داعماً لمصر أثناء حرب أكتوبر ١٩٧٣م.

(٢) - لانسحبت إسرائيل من الأراضي التي احتلتها عام ١٩٦٧م.

- لم تحدث حرب الاستنزاف وحرب أكتوبر ١٩٧٣م.

(٣) - لم تتمكن إسرائيل من إحداث ثغرة في منطقة الدفرسوار.

- لم يتم حظر الصادرات النفطية من الدول العربية إلى الولايات المتحدة الأمريكية.

٧ يترك للطالب حرية الإجابة في ضوء :

- تقديم بعض الدول العربية الدعم العسكري والمالي لمصر وسوريا.

- قرار وزراء النفط العربي في اجتماعهم بالكويت بخفض إنتاج البترول وحظر الصادرات النفطية إلى الولايات المتحدة الأمريكية خاصة عندما طلب الرئيس الأمريكي مساعدات عاجلة لإسرائيل.

مما ساهم في تحقيق نصر أكتوبر ١٩٧٣م.

٨ (١) أجب بالرجوع إلى المفكرة ص ٧١ دلل.

(٢) حيث أصدر وزراء النفط العربي قراراً في اجتماعهم بالكويت نص على خفض إنتاج البترول، وحظر الصادرات النفطية إلى الولايات المتحدة الأمريكية خاصة عندما طلب الرئيس الأمريكي مساعدات عاجلة لإسرائيل وساهم هذا القرار في دعم مصر وسوريا أثناء حرب أكتوبر ١٩٧٣م وتحقيق النصر.

(٣) ، (٤) أجب بالرجوع إلى المفكرة ص ٧٢ دلل.

٩ حيث قامت هيئة عمليات القوات المسلحة المصرية بإعداد دراسة عن أنسب التوقيعات للقيام بالعمليات الهجومية على إسرائيل على الجبهتين المصرية والسورية مما كان له الأثر في إحراز النصر.

١٠ أجب بالرجوع إلى المفكرة ص ٧١ دلل.

١١ (١) اتجاه مصر وسوريا للحل العسكري.

(٢) آسيا وأفريقيا.

- ٤ (١) الرئيس الأمريكى كارتر.
(٢) الرئيس محمد أنور السادات.
(٣) الرئيس محمد حسنى مبارك.

٥ أجب بالرجوع إلى المفكرة ص ٦٢ بم تفسر.

- ٦ (١) : (٤) أجب بالرجوع إلى المفكرة ص ٦٦ ما النتائج.
(٥) - سيؤدى ذلك إلى دفع عجلة التنمية الاقتصادية وإصلاح البنية الأساسية للبلاد.
- تشجيع رؤوس الأموال العربية والأجنبية للاستثمار فى مصر وغيرها من الدول العربية.
- تنشيط حركة السياحة مما أدى إلى زيادة الدخل القومى وتوفير العملات الأجنبية.
- إقامة المشروعات الوطنية وتحقيق التنمية فى مصر بشكل خاص ومنطقتنا العربية بشكل عام.

- ٧ (١) لن يتم التوصل إلى إطار اتفاق (معاهدة) للسلام بين مصر وإسرائيل.
(٢) لن يتم استعادة سيناء من المحتل الإسرائيلى ورفع العلم المصرى فوقها كما حدث فى ٢٥ أبريل ١٩٨٢م فيما عدا منطقة طابا على رأس خليج العقبة.
(٣) سوف يتم اللجوء إلى استخدام القوة العسكرية لاسترداد طابا.

- ٨ (١) يترك للطالب حرية الإجابة فى ضوء :
كانت خطوة كبيرة لتحقيق السلام حيث :
- نادى الرئيس السادات بالسلام العادل لكل شعوب المنطقة.
- دعا السادات العالم كله إلى مساندته فى التطلع إلى السلام الدائم بعد سلسلة من الحروب التى استنزفت طاقات وموارد البلاد البشرية والمادية.
(٢) يترك للطالب حرية الإجابة فى ضوء :
أن نصوص المعاهدة والتى كانت فى مجملها تحقيقاً لأهداف الشعب المصرى حيث نصت على :
- انسحاب إسرائيل الكامل من سيناء التى احتلتها عام ١٩٦٧م.
- إنهاء حالة الحرب بين مصر وإسرائيل وحل المنازعات بالطرق السلمية.

- البدء بمفاوضات لإنشاء حكم ذاتى للفلسطينيين فى الضفة الغربية وقطاع غزة.
- التطبيق الكامل لقرار مجلس الأمن الدولى رقم ٢٤٢

- ٩ (١) شاركت مصر بفاعلية فى مؤتمر مدريد للسلام عام ١٩٩١م فقد دعا المؤتمر إلى حل الصراع العربى الإسرائيلى.
(٢) أيدت مصر اتفاقية أوسلو للسلام عام ١٩٩٣م وما حدث من اتفاقيات أخرى تتعلق بالانسحاب الإسرائيلى من الأراضى المحتلة وإقامة السلطة الوطنية الفلسطينية.

١٠ أجب بالرجوع إلى المفكرة ص ٥٣ ، ٥٤ أهم المخططات.

- ١١ (١) حيث مهدت الطريق أمام إسرائيل للقبول بمبدأ التفاوض مع الأطراف المهتمة والمعنية بقضية الصراع العربى / الإسرائيلى.
(٢) حيث :
- دعا الرئيس الأمريكى كارتر كلاً من الرئيس المصرى ورئيس وزراء إسرائيل لعقد اجتماعات فى كامب ديفيد.
- تم توقيع معاهدة السلام بين مصر وإسرائيل بمشاركة ورعاية الولايات المتحدة الأمريكية.
(٣) حيث لجأ الطرفان إلى التحكيم الدولى لحل مشكلة طابا.
(٤) أجب بالرجوع إلى المفكرة ص ٧٣ دلل.

- ١٢ (١) دعا الرئيس الأمريكى كارتر كلاً من الرئيس المصرى محمد أنور السادات ورئيس وزراء إسرائيل بيجين لعقد اجتماعات فى كامب ديفيد بالولايات المتحدة الأمريكية.
(٢) كان من نصوص معاهدة السلام ١٩٧٩م التطبيق الكامل لقرار مجلس الأمن الدولى رقم ٢٤٢

- ١٣ (١) العبارة صادقة، حيث تمثلت تلك الوسائل فى استخدام :
- القوة العسكرية فى حرب أكتوبر ١٩٧٣م.

٢ أجب بالرجوع إلى كتاب الشرح ص ٢٣١

تدريب ٢

- ١ (١) لأن السياسات الجديدة للدولة لم تحقق حلول للمشكلات التي يعاني منها غالبية الشعب المصري خاصة العدالة الاجتماعية واستمرار سوء الأحوال الاقتصادية.
- (٢) حفاظاً على الأمن العام للدولة.

٢ أجب بالرجوع إلى كتاب الشرح ص ٢٣٢

أسئلة على الدرس الخامس

- ١ (١) خلو مجلس الشعب ٢٠١٠ م من أى معارضة.
- (٢) تعيين نائب للرئيس.
- (٣) المجلس الأعلى للقوات المسلحة.
- (٤) عدلى منصور.

- ٢ (١) مبارك.
- (٢) محمد مرسى.
- (٣) القوات المسلحة.

- ٣ (١) صواب.
- (٢) خطأ : ... سبقتها حركات سياسية احتجاجية.
- (٣) خطأ : التطبيق غير السليم ...
- (٤) خطأ : ... اتباع سياسة الانفتاح الاقتصادي دون ضوابط علمية.
- (٥) صواب.
- (٦) صواب.
- (٧) صواب.
- (٨) خطأ : لم ينجح ...
- (٩) صواب.
- (١٠) صواب.

٤ (١) الانفتاح الاقتصادي. (٢) قانون الطوارئ.

- ٥ (١) لأنها سبقتها حركات سياسية احتجاجية مهدت لها.
- (٢) ، (٣) أجب بالرجوع إلى المفكرة ص ٦٢ بم تفسر.
- (٤) بسبب التطبيق غير السليم لسياسة الخصخصة.
- (٦) بسبب تزوير الانتخابات فحصل الحزب الوطنى على ٩٧ ٪ من مقاعد مجلس الشعب وخلا المجلس من أى معارضة وطنية.

- الطرق السلمية بعقد معاهدة السلام مع إسرائيل ١٩٧٩ م.

- الطرق القانونية فى استرداد طابا عن طريق التحكيم الدولى.

(٢) العبارة صادقة، حيث :

لجأ الطرفين (المصرى والإسرائيلى) إلى هيئة التحكيم بمحكمة العدل الدولية لحل مشكلة طابا والتي أصدرت حكمها لصالح مصر وعادت طابا إلى السيادة المصرية.

١٤ ① مبادرة الرئيس السادات لزيارة إسرائيل (١٩٧٧ م).

② عقد مؤتمر كامب ديفيد (١٩٧٨ م).

③ معاهدة السلام بين مصر وإسرائيل (١٩٧٩ م).

④ استعادة مصر طابا (١٩٨٩ م).

⑤ عقد مؤتمر مدريد (١٩٩١ م).

⑥ عقد اتفاقية أوسلو (١٩٩٣ م).

١٥ (١) عدوان ٥ يونيه ١٩٦٧ م.

(٢) الغربى لخليج العقبة.

١٦ - رجل الحرب :

حيث انتصر فى حرب أكتوبر ١٩٧٣ م.

- رجل السلام :

حيث عقد اتفاقية السلام مع إسرائيل ١٩٧٩ م.

١٧ حيث تضمنت معاهدة السلام بين مصر وإسرائيل

نصاً يقضى بالبدء فى مفاوضات الحكم الذاتى للفلسطينيين فى الضفة الغربية وقطاع غزة.

الدرس الخامس

تدريب ١

- ١ (١) صواب.
- (٢) خطأ : ... استمرار العمل ...
- (٣) خطأ : ... خلو المجلس من أى معارضة وطنية.
- (٤) صواب.
- (٥) خطأ : ... لم تمنع استمرار المظاهرات.

٢ (١) أجب بالرجوع إلى كتاب الشرح ص ٢٢٩

(٢) ، (٣) أجب بالرجوع إلى كتاب الشرح ص ٢٣٠

الوحدة 4

الدرس الأول

تدريب ١

- ١ (١) مجلس النواب. (٢) المشورة.
- (٣) الجمعية التشريعية. (٤) مجلس الأمة.
- (٥) أنور السادات.

- ٢ (١) التنفيذية. (٢) القضائية.

- ٣ (١) الحياة النيابية. (٢) دستور.
- (٣) برلمان.

تدريب ٢

- ١ (١) هدى شعراوي. (٢) جميلة حافظ.
- (٣) حكمت أبو زيد. (٤) عائشة راتب.

- ٢ (١) أجب بالرجوع إلى كتاب الشرح ص ٢٤٦
- (٢) أجب بالرجوع إلى كتاب الشرح ص ٢٤٨

أسئلة على الدرس الأول

- ١ (١) محمد أنور السادات.
- (٢) المجلس العالي.
- (٣) مجلس شورى النواب.
- (٤) جمال عبدالناصر. (٥) الأمة.
- (٦) الحكومة. (٧) مجلس النواب.
- (٨) رفاعة الطهطاوى. (٩) إسماعيل.
- (١٠) الصحافة. (١١) ثورة ١٩١٩م.
- (١٢) جميلة حافظ. (١٣) حكمت أبو زيد.
- (١٤) أمال عثمان.

- ٢ (١) المشورة. (٢) الأمة.
- (٣) الدستور الدائم.

- ٢ (١) صواب. (٢) صواب.
- (٣) صواب. (٤) صواب.
- (٥) خطأ : أكد دستور ١٩٧١م على ...
- (٦) صواب. (٧) صواب.
- (٨) صواب. (٩) صواب.
- (١٠) صواب.

(٥) ، (٧) : (١١) أجب بالرجوع إلى المفكرة ص ٦٣ بم تفسر.

- ٦ (١) أجب بالرجوع إلى المفكرة ص ٦٧ ما النتائج.
- (٢) ترتب على ذلك :

- خلو المجلس من أى معارضة وطنية.
- قيام ثورة ٢٥ يناير ٢٠١١م.
- (٣) ترتب على ذلك قيام المجتمع المصرى بتشكيل ما عُرف بـ «اللجان الشعبية».

- (٤) ، (٥) أجب بالرجوع إلى المفكرة ص ٦٧ ما النتائج.

- ٧ أجب بالرجوع إلى المفكرة ص ٧٤ ما العلاقة.

- ٨ حيث قام المجتمع المصرى بكل فئاته بتشكيل ما عرف باللجان الشعبية.

- ٩ (١) لم يتم تأمين الممتلكات العامة والخاصة واستمرت الفوضى فى البلاد.
- (٢) - لانزلقت مصر فى نفق مظلم من الصراع والاقتتال والفتنة الطائفية.
- لم يتم الحفاظ على الأمن العام للدولة.

- ١٠ (١) أجب بالرجوع إلى المفكرة ص ٧٣ دلل.
- (٢) تم الاستعانة بالقوات المسلحة لضمان حماية وتأمين الممتلكات العامة والخاصة والمحافظة على أمن المواطنين فكان قوة مساندة للشعب وليس أداة لدى النظام لقمع المتظاهرين وإجهاض الثورة.

- ١١ (١) الأسس العلمية. (٢) القضائية.

- ١٢ (١) صواب. (٢) خطأ : لم تتجاوب ...

- ١٣ حيث تم تزوير الانتخابات البرلمانية لمجلس الشعب عام ٢٠١٠م فحصل الحزب الوطنى الحاكم على ٩٧٪ من المقاعد وبهذا خلا المجلس من أى معارضة وطنية تذكر وكان هذا من أسباب قيام ثورة ٢٥ يناير ٢٠١١م.

- ♦ مجلس النواب. ♦ مجلس الشيوخ.
(٢) أجب بالرجوع إلى المفكرة ص ٨٤ دلل.

- ٩ - لن يكن هناك شكل محدد لنظام الحكم فى الدول.
- لن يتم تحديد شكل واختصاصات المؤسسات المختلفة فى كل دولة.

- ١٠ (١) ① إنشاء مجلس المشورة والمجلس العالى.
② إنشاء سلطات الاحتلال البريطانى لمجلس شورى القوانين وللجمعية العمومية.
③ تكوين البرلمان المصرى من مجلس النواب ومجلس الشيوخ.
④ إلغاء ثورة يوليو ١٩٥٢ م للأحزاب السياسية القائمة.
⑤ صدور الدستور الدائم لمصر الذى أكد سيادة القانون واستقلال القضاء.
(٢) ① إنشاء مجلس شورى النواب (١٨٦٦ م).
② تشكيل لجنة الوفد المركزية للسيدات (١٩٢٠ م).
③ التحاق المرأة بالجامعة المصرية (١٩٢٨ م).
④ إنشاء مجلس الأمة (١٩٥٧ م).

- ١١ (١) أجب بالرجوع إلى المفكرة ص ٨٣ دلل.
(٢) شاركت المرأة فى الحياة النيابية فشغلت الدكتوراة أمال عثمان منصب رئيس اللجنة التشريعية بمجلس الشعب.
(٣) يترك للطالب حرية الإجابة فى ضوء :
- زيادة نسبة التمثيل النيابى فى الحياة النيابية.
- عمل ندوات ومؤتمرات للحث على أهميتها فى المشاركة الإيجابية لها فى المجتمع.
- زيادة تمويل المشروعات الخاصة بالمرأة المعيلة.
- زيادة برامج التوعية فى الإعلام والمدارس.

١٢ (١)

أهم المجالس النيابية فى عهد إسماعيل	أهم المجالس النيابية فى عهد محمد على
* أسس مجلس شورى النواب فى ديسمبر ١٨٦٦ م.	* أنشأ عدة مجالس استشارية لا سلطة لها منها : • مجلس المشورة. • المجلس العالى.

- ٤ (١) الخديو إسماعيل. (٢) الخديو إسماعيل.
(٣) جميلة حافظ. (٤) الرئيس السادات.

- ٥ (١) الحياة النيابية. (٢) الدستور.
(٣) البرلمان. (٤) السلطة التنفيذية.
(٥) المدرسة السنية.
(٦) منظمات المجتمع المدنى.

- ٦ (١) لأنه أنشأ عدة مجالس نيابية صورية لا سلطة لها.
(٢) لكى يقوموا بالنيابة عنهم :-
- إدارة شئون الحكم فى البلاد.
- سن القوانين.
- مراقبة أعمال الحكومة.
(٣) لأنها هى الوثيقة الرسمية التى :
- تحدد نظام الحكم فى الدولة.
- تحدد شكل واختصاصات المؤسسات المختلفة.
(٤) أجب بالرجوع إلى المفكرة ص ٨١ بم تفسر.
(٥) لكى تتبنى القضايا النسائية والدفاع عن حقوق المرأة ومكانتها.

- ٧ (١) ترتب على ذلك :
- حرية تكوين الأحزاب السياسية.
- إنشاء برلمان يمثل السلطة التشريعية والذى تكون من مجلسين :
♦ مجلس النواب. ♦ مجلس الشيوخ.
(٢) ترتب على ذلك :
- إلغاء دستور ١٩٢٣ م.
- حل الأحزاب السياسية التى كانت قائمة قبل الثورة.
- إصدار دستور ١٩٥٦ م والذى نص على أن تكون السلطة التشريعية فى يد مجلس منتخب هو مجلس الأمة.
(٣) ترتب على ذلك حصول المرأة المصرية على حق الانتخاب والترشح وبالتالي أصبحت عضواً بالبرلمان المصرى.

- ٨ (١) حيث صدر دستور ١٩٢٣ م والذى تضمن :
- حرية تكوين الأحزاب السياسية.
- إنشاء برلمان يمثل السلطة التشريعية والذى تكون من مجلسين هما :

(٢) تمثلت أهم المبادئ في :

- سيادة القانون.
- استقلال القضاء.
- إقرار مبادئ التعددية الحزبية.
- (٣) متروك للطالب.

١٢ الحكم المطلق.

١٤ العبارة صادقة : حيث ظهرت أول مجلة نسائية

مصرية هي الريحانة في فبراير ١٩٠٧م أصدرتها جميلة حافظ ثم تحولت إلى جريدة في مارس ١٩٠٨م، وقد تبنت القضايا النسائية والدفاع عن حقوق المرأة ومكانتها.

١٥ لأن ممثلي الشعب في المجالس النيابية يقومون بـ :

- إدارة شئون الدولة بما يخدم مصالح الشعب.
- سن القوانين التي تحمي حقوقهم.
- مراقبة أعمال الحكومة نيابة عنهم.

١٦ حيث أنشئ في عهد كل من محمد علي والاحتلال

- البريطاني مجلسين استشاريين لا سلطة لهما هما :
- مجلس المشورة، والمجلس العالي في عهد محمد علي.
- مجلس شورى القوانين والجمعية العمومية في عهد الاحتلال.

الدرس الثاني

تدريب ١

- ١ (١) منظمة إقليمية. (٢) منظمة دولية.
- (٣) مجلس الجامعة. (٤) الاتحاد الأفريقي.
- (٥) مصر. (٦) الرباط.

٢ (١) حيث :

- دعت مصر كلاً من رئيس وزراء سوريا والكتلة الوطنية اللبنانية للتباحث في القاهرة حول فكرة إقامة جامعة عربية وفي مارس ١٩٤٥م تم توقيع ميثاق القاهرة.
- شاركت مصر في تأسيس منظمة الاتحاد الأفريقي بعد أن تحررت معظم الدول الأفريقية من الاستعمار واستضافت أول قمة أفريقية على أرضها عام ١٩٦٤م.

- تُعد مصر من أوائل الدول التي ساهمت في بلورة فكرة إنشاء منظمة المؤتمر الإسلامي وشاركت مصر في مؤتمر القمة الإسلامي سبتمبر ١٩٦٩م.

(٢) أجب بالرجوع إلى كتاب الشرح ص ٢٥٩

تدريب ٢

- ١ (١) نيويورك - المحافظة على السلام والأمن الدوليين، وتنمية العلاقات الودية والتعاون الدولي لحل المشكلات الاقتصادية والاجتماعية والثقافية، وتعزيز احترام حقوق الإنسان وحرياته دون تفرقة بسبب الجنس أو الدين.
- (٢) المساهمة في إحلال السلام والأمن عن طريق رفع مستوى التعاون بين دول العالم في مجالات التربية والعلوم والثقافة.
- (٣) جنيف - توفير أفضل سبل الرعاية الصحية لجميع الشعوب، ونشر الوعي من أجل حماية مياه الشرب من التلوث، وعقد دورات تدريبية لتطوير الخدمات الصحية.
- (٤) روما - القضاء على الجوع، ومساعدة البلدان النامية على تطوير وتحسين الإنتاج الزراعي والتغذية الجيدة.
- (٥) تعزيز وحماية حقوق الأطفال ورفاهيتهم.

- ٢ (١) الجمعية العامة. (٢) مجلس الوصاية.
- (٣) لاهي. (٤) باندونج.

٣

اختصاصات محكمة العدل الدولية	اختصاصات مجلس الأمن
* النظر في القضايا التي ترفعها الدول أمامها. * تقديم الاستشارات القانونية للهيئات الدولية.	* مسئول عن حفظ السلام والأمن الدوليين وله سلطة قانونية على حكومات الدول الأعضاء.

أسئلة على الدرس الثاني

- ١ (١) اليمن. (٢) مصر.
- (٣) الرباط. (٤) الكويت.

- (٢) لأنه يُعد أول وثيقة تخص جامعة الدول العربية بشكلها الحالي وتضمن مبادئ قيامها.
(٣) أجب بالرجوع إلى المفكرة ص ٨١ بم تفسر.
(٤) ، (٥) ، (٨) أجب بالرجوع إلى المفكرة ص ٨٢ بم تفسر.
(٦) ، (٧) أجب بالرجوع إلى المفكرة ص ٨١ قارن بين (أهدافها).

٧ ترتب على ذلك :

- إنقاذ معابد (أبو سمبل) فى عام ١٩٦٤م.
- المساهمة فى إحياء مكتبة الإسكندرية.

- ٨ حيث دعت مصر كلاً من رئيس وزراء سوريا والكتلة الوطنية اللبنانية للتباحث فى القاهرة حول فكرة إقامة جامعة عربية وفى مارس ١٩٤٥م تم توقيع ميثاق القاهرة.

- ٩ (١) أجب بالرجوع إلى المفكرة ص ٨٠ قارن بين.
(٢) أجب بالرجوع إلى المفكرة ص ٨١ قارن بين.

- ١٠ (١) ، (٢) أجب بالرجوع إلى المفكرة ص ٨٤ دلل.
(٣) ساهمت مصر فى تأسيس حركة عدم الانحياز حيث كانت البداية مصرية فى مؤتمر باندونج ١٩٥٥م بالاشتراك مع الهند وإندونيسيا ويوغوسلافيا (سابقاً).

١١ حيث تقوم المنظمة بـ :

- الحفاظ على السلام والأمن الدوليين.
- تنمية العلاقات الودية والتعاون الدولي لحل المشكلات الاجتماعية والثقافية.
- تعزيز احترام حقوق الإنسان وحرياته دون تفرقة بسبب الجنس أو الدين.

١٢

الدور الإنسانى للمنظمة اليونسيف	الدور الإنسانى للمنظمة الفاو
* تعزيز وحماية حقوق الأطفال.	* القضاء على الجوع. * مساعدة الدول النامية على التغذية الجيدة.

- (٥) مجلس الأمن.
(٦) مصر.
(٧) مجلس الجامعة.
(٨) مجلس الأمن.
(٩) محكمة العدل الدولية.
(١٠) المجلس الاقتصادى والاجتماعى.
(١١) باندونج.

- ٢ (١) الرباط. (٢) نيويورك. (٣) لاهى.
(٤) نيويورك. (٥) جنيف. (٦) روما.

- ٣ (١) صواب. (٢) صواب.
(٣) خطأ : ... أهدافها سياسية واقتصادية واجتماعية وثقافية وأمنية.
(٤) خطأ : ... بدولة مصر. (٥) صواب.
(٦) صواب. (٧) صواب. (٨) صواب.
(٩) خطأ : ... النظر فى القضايا التى تضعها الدول أمامها.

- (١٠) صواب.
(١١) خطأ : المجلس الاقتصادى والاجتماعى ...
(١٢) خطأ : ... عن طريق الجمعية العامة.
(١٣) صواب.
(١٤) خطأ : ... مقرها جنيف بسويسرا.
(١٥) خطأ : ... مجال الطفولة.
(١٦) صواب. (١٧) صواب.

- ٤ (١) مجلس الأمن. (٢) منظمة اليونسكو.
(٣) منظمة الأغذية والزراعة (الفاو).
(٤) منظمة اليونسيف.


- ٥ (١) ، (٢) أجب بالرجوع إلى المفكرة ص ٨٠ قارن بين (مفهومها).

- (٣) هى منظمة دولية تضم فى عضويتها جميع دول العالم المستقلة ومقرها نيويورك بالولايات المتحدة الأمريكية وقد أنشئت للمحافظة على السلام والأمن الدوليين وتنمية العلاقات الودية والتعاون الدولي وتعزيز احترام حقوق الإنسان.

- ٦ (١) لأنها تضم فى عضويتها دول الوطن العربى التى ترتبط ببعضها بروابط معينة مثل اللغة، التاريخ المشترك، والدين، والموقع الجغرافى.



إجابات أسئلة كتاب المراجعة والامتحانات



إجابات أسئلة الوحدات

الوحدة 1

امتحان 1

١

(١) (١) الزراعة التجارية والعلمية.

(٢) الصين. (٣) البرازيل.

(٤) أفريقيا. (٥) دائرة الاستواء.

(ب) (١) الزراعة البسيطة. (٢) المطاط الطبيعي.

(ج) (١) أجب بالرجوع إلى المفكرة ص ١٤ بم تفسر.

(٢) لأن معظم القطن المصرى والسودانى من الأنواع

طويلة التيلة.

٢

(١) (١) القمح. (٢) الأرز.

(٣) أمريكا الشمالية. (٤) المطاط الطبيعي.

(٥) شرق آسيا.

(ب) (١) الصين. (٢) تايلاند.

(ج) سوف يؤدي ذلك إلى زيادة فى الإنتاج الزراعى

ووجود فائض للتصدير.

امتحان تراكمى 2

١

(١) (١) الولايات المتحدة الأمريكية.

(٢) البرازيل. (٣) آسيا. (٤) الصين.

(ب) (١) الجوت. (٢) المياه المالحة.

(٣) القمح. (٤) الحارة.

(ج) أدى تدفق البترول فى شبه الجزيرة العربية إلى

توطين البدو وبالتالي قلة عدد العاملين بحرفة

الرعى البدائى بها.

(د) سوف يؤدي ذلك إلى زيادة الإنتاج الحيوانى بمصر.

٢

(١) (١) الهند. (٢) تايلاند. (٣) للدواجن.

(ب) حيث تُعد قارة آسيا أولى قارات العالم فى تربية

الأبقار، كما تُعد بعض دولها مثل :

- دولة الصين : أولى دول العالم فى تربية الأغنام

وإنتاجاً للحوم الحمراء (معظمها لحوم الخنازير).

- دولة الهند : أولى دول العالم إنتاجاً للآلبان.

(ج) (١) - العوامل الطبيعية :

♦ ضخالة المياه الساحلية وغناها بالمواد الغذائية.

♦ التقاء التيارات البحرية الدافئة مع الباردة.

♦ توافر الموانئ لرسو سفن الصيد.

- العوامل البشرية :

♦ توافر الخبرات الفنية والعلمية فى صناعة

المراكب وأدوات الصيد والثلاجات.

♦ التوسع فى تربية الأسماك على أسس

علمية حديثة.

(٢) أجب بالرجوع إلى المفكرة ص ٤ أهم المخططات.

(٣) - الصين. - النرويج. - تايلاند.

امتحان تراكمى 3

١

(١) • رقم ④ الولايات المتحدة الأمريكية.

• رقم ③ السعودية. • رقم ① آسيا.

• رقم ② الهند.

(ب) (١) أوروبا. (٢) الأغنام.

(٣) فرنسا. (٤) اليابان.

(ج) (١) أجب بالرجوع إلى المفكرة ص ١٧ ما النتائج.

(٢) ترتب على ذلك :

- تصدير الدول النامية مثل موريتانيا خام الحديد

إلى الدول المتقدمة مثل اليابان وبريطانيا.

- تصدير الدول النامية المنتجة للبوكسيت إلى

الدول المتقدمة التى تقوم بصناعة الألومنيوم.

٢

(١) (١) البسيطة (البدائية). (٢) الصين.

(٣) شيلي. (٤) الصين.

(ب) (١) بسبب صغر مساحات الحقول الزراعية.

(٢) ، (٣) أجب بالرجوع إلى المفكرة ص ١٦ بم تفسر.

أسئلة عامة على الوحدة الأولى

١

١ (١) الزراعة البسيطة (البدائية).

(٢) البوكسيت.

(٣) شمال شرق الولايات المتحدة الأمريكية.

(٤) شبه الجزيرة العربية. (٥) الصين.

٢ (١) ٣ (٢) ٥ (٣) ٦

(٤) ١ (٥) ٢

٣ (١) الهند. (٢) الولايات المتحدة الأمريكية.

(٣) الصين. (٤) الهادي.

(٥) دائرة الاستواء.

٤ (١) مصر. (٢) الزراعة الكثيفة.

(٣) آسيا. (٤) الصين.

(٥) أستراليا. (٦) أوروبا.

٥ (١) الصين. (٢) أفريقيا.

(٣) الولايات المتحدة الأمريكية.

(٤) الهند. (٥) البرازيل.

(٦) مدار السرطان.

٦ (١) الزراعة التجارية والعلمية.

(٢) شيلي. (٣) إقليم غرب ووسط أوروبا.

(٤) ٣ (٥) مدار الجدي.

٧ (١) البنجر. (٢) الرعي البدائي (التقليدي).

(٣) البترول. (٤) إقليم شرق آسيا.

(٥) الأطلنطي.

٢

١ (١) آسيا. (٢) أمريكا الشمالية.

(٣) أوروبا.

٢ (١) الصين. (٢) البرازيل.

(٣) تايلاند. (٤) الهند.

(٥) أستراليا. (٦) الولايات المتحدة الأمريكية.

(٧) شيلي. (٨) السعودية.

٣ (٢) أجب بالرجوع إلى المفكرة ص ١٠ قارن بين.

٤ (٣) أجب بالرجوع إلى المفكرة ص ١٣ قارن بين.

(ج) يُعد التطور التكنولوجي (من الخبرات الفنية والعلمية الحديثة اللازمة لصناعة المراكب وأدوات الصيد والثلاجات) من العوامل التي تساعد على تطور حرفة صيد الأسماك وبالتالي زيادة الإنتاج السمكي.

امتحان تراكمي 4

١

(١) (١) شيلي. (٢) أوروبا.

(٢) شمال شرق الولايات المتحدة الأمريكية.

(٤) دولة جنوب أفريقيا.

(ب) (١) روسيا وأوكرانيا. (٢) توافر الأسواق.

(٣) تحقيق حاجاته الأولية. (٤) الصين.

(ج) أجب بالرجوع إلى المفكرة ص ١٨ دلل.

٢

(١) (١) صواب : لأنها تتم من خلال عمليات عديدة مثل

بذر الحبوب والرى وتنقية الحشائش.

(٢) صواب : حيث كان عماد الثورة الصناعية

في أوروبا والمصدر الأول والرئيسي

للطاقة المستخدمة في العالم حتى

أوائل القرن الـ ٢٠م وفي الوقت

الحالي يستخدم كمصدر رئيسي

للصناعة في الدول الصناعية

الكبرى وفي توليد الكهرباء.

(٣) خطأ : لأن قارة أوروبا هي أولى القارات

إنتاجاً للغاز الطبيعي حيث تنتج $\frac{1}{3}$

الإنتاج العالمي.

(٤) خطأ : لأن دول الخليج العربي تشتهر

بالصناعات البترولية.

(ب) سوف تتمكن الدول النامية المنتجة للبوكسيت من

تصنيع الألومنيوم ولن تقوم بتصدير البوكسيت

إلى الدول المتقدمة.

(ج) أجب بالرجوع إلى المفكرة ص ١٣ قارن بين.

٢

- (٥) مصر. (٦) المدارية.
(٧) آسيا. (٨) آسيا - تايلاند.
(٩) شرق آسيا. (١٠) أستراليا.
(١١) التندرا الباردة. (١٢) آسيا.
(١٣) البحار والمحيطات. (١٤) الألومنيوم.
(١٥) روسيا. (١٦) أوروبا.
(١٧) بترولية. (١٨) جنوب أفريقيا.

٦

- (١) زراعة بسيطة (بدائية). (٢) زراعة كثيفة.
(٣) الزراعة التجارية والعلمية. (٤) المطاط الطبيعي.
(٥) رعى بدائي (تقليدي). (٦) رعى تجارى.
(٧) الألبان. (٨) إقليم شرق آسيا.
(٩) الحيتان. (١٠) البوكسيت.
(١١) النشاط التعدينى.
(١٢) الطاقة الكهرومائية.

٧

- (١)، (٢)، (٥) أجب بالرجوع إلى المفكرة ص ١٤ بم تفسر.
(٣) بسبب صغر مساحات الحقول الزراعية.
(٤) بسبب اعتمادها على أحدث الآلات الزراعية والطرق العلمية الحديثة.
(٦) بسبب تركيز زراعة البنجر فى أوروبا لتوافر ظروف زراعته من مناخ وتربة زراعية.
(٧) : (٩) أجب بالرجوع إلى المفكرة ص ١٤ بم تفسر.
(١٠) : (١٣)، (١٥) أجب بالرجوع إلى المفكرة ص ١٥ بم تفسر.
(١٤)، (١٦) أجب بالرجوع إلى المفكرة ص ١٦ بم تفسر.
(١٧) لأنه يستخدم فى الكثير من الصناعات مثل الأسلاك والأدوات الكهربائية.

- (١٨) : (٢٠) أجب بالرجوع إلى المفكرة ص ١٦ بم تفسر.
(٢١) لأنها : - تأخذ بالأساليب العلمية.
- تطبق الأبحاث والتجارب العلمية فى الاختراعات.
- تطور وتحديث المنتجات الصناعية بشكل مستمر.

٤

- (١) خطأ : ... الزراعة البسيطة ... (٢) صواب.
(٢) صواب. (٤) خطأ : ... فى قارة آسيا ...
(٥) صواب. (٦) خطأ : ... بنجر السكر ...
(٧) صواب. (٨) صواب. (٩) صواب.
(١٠) خطأ : تُعتبر الصين ...
(١١) خطأ : تُعد الهند ... (١٢) صواب.
(١٣) خطأ : تُعتبر الصين ...
(١٤) خطأ : تستهلك الدول المتقدمة المعادن أكثر من الدول النامية.

- (١٥) صواب. (١٦) صواب.
(١٧) خطأ : تُعتبر الصين ... (١٨) صواب.
(١٩) صواب. (٢٠) صواب. (٢١) صواب.

٥

- (١) الكثيفة. (٢) آسيا.
(٣) الهند. (٤) أوروبا.

- (٦) يستخدم الغاز الطبيعي في إنتاج الطاقة الكهربائية (الكهرباء الحرارية).
(٧) تستخدم الرياح في إنتاج الطاقة الكهربائية.

١١ أجب بالرجوع إلى الفكرة ص ٨ ما المقصود.

١٢

- (١) حيث تمثلت تلك العوامل في :
- توافر الخبرات الفنية والعلمية في صناعة المراكب وأدوات الصيد والثلاجات.
- التوسع في تربية الأسماك على أسس علمية حديثة.
(٢) أجب بالرجوع إلى الفكرة ص ١٧ دلل.
(٣) : (٥) أجب بالرجوع إلى الفكرة ص ١٨ دلل.

١٢

- (١) أجب بالرجوع إلى الفكرة ص ٩ قارن بين.
(٢) أجب بالرجوع إلى الفكرة ص ١٠ قارن بين.

(٢)	قصب السكر	الشاي
الظروف الملائمة للزراعة	* درجة حرارة مرتفعة.	* تربة خصبة خفيفة.
	* كمية مياه وفيرة.	* مناخ حار.
		* مطر غزير.
		* هواء رطب.
أولى الدول المنتجة	البرازيل	الصين

- (٤) أجب بالرجوع إلى الفكرة ص ١١ قارن بين.
(٥) أجب بالرجوع إلى الفكرة ص ١٢ قارن بين.
(٦)، (٨)، (٩) أجب بالرجوع إلى الفكرة ص ١٣ قارن بين.

(٧)	صناعة الألومنيوم	صناعة أسلاك الكهرباء
المادة الخام	البوكسيت	النحاس
	أستراليا	شيلي
أولى الدول المنتجة للمادة الخام		

١٤

- ① - حبوب غذائية : القمح، الذرة.
- محاصيل سكرية : قصب السكر، البنجر.

- (١)، (٢) أجب بالرجوع إلى الفكرة ص ١٧ ما النتائج.
(٣) ترتب على ذلك قلة عدد العاملين بحرفة الرعي البدائي وتغير نشاطهم للعمل بالصناعة والزراعة والخدمات.
(٤) : (٧) أجب بالرجوع إلى الفكرة ص ١٧ ما النتائج.

٩

- (١) سوف يؤدي إلى زيادة مساحات الأراضي الزراعية في مصر وبالتالي زيادة الإنتاج الزراعي بها وتقليل تكاليف الإنتاج الزراعي والعمالة الزراعية.
(٢) سوف يؤدي إلى زيادة الدخل القومي لهذه الدول وتصبح الدول النامية ذات مستوى معيشة مرتفع.
(٣) سوف تتمكن الدول النامية من تصنيع الألومنيوم ولن تصدر معدن البوكسيت إلى الدول المتقدمة كمادة خام مما يؤدي إلى زيادة الدخل القومي بها.
(٤) سوف يقلل ذلك من الاعتماد على مصادر الطاقة غير المتجددة (المعرضة للنفاذ)، وبالتالي يقل التلوث الناتج عن استخدامها.
(٥) سوف يؤدي ذلك إلى تطور الصناعة وبالتالي يرتفع مستوى الدخل القومي مما يؤثر في ارتفاع مستوى المعيشة.

١٠

- (١) توجد الزراعة الكثيفة في المناطق كثيفة السكان حيث تزرع الأرض أكثر من مرة في العام الواحد لإشباع حاجة السكان المحليين من الغذاء.
(٢) يستخدم المطاط الطبيعي في صناعة إطارات السيارات.
(٣) كان لتدفق البترول وتوطين البدو دور كبير في قلة عدد العاملين بحرفة الرعي البدائي في شبه الجزيرة العربية.
(٤) يُعد التطور التكنولوجي (من توافر الخبرات الفنية والعلمية الحديثة في صناعة المراكب وأدوات الصيد والثلاجات) من العوامل التي تساعد على تطور حرفة صيد الأسماك وبالتالي زيادة الإنتاج السمكي.
(٥) يُعد البوكسيت الخام الرئيسي لصناعة الألومنيوم.

- (٢) يترك للطالب حرية الإجابة في ضوء :
 - الاعتماد على الرعى التجارى والأخذ
 بالأساليب العلمية فى تربية الحيوانات.
 - استيراد أنواع جيدة من السلالات لزيادة
 الإنتاج الحيوانى فى مصر.

الوحدة 2

امتحان تراكمى 5

١

- (١) (١) البنغال. (٢) بوتان. (٣) بومباى.
 (٤) الدكن. (٥) البحر العربى.
 (٦) مدار السرطان.
 (ب) (١) أجب بالرجوع إلى المفكرة من ١٣ قارن بين.
 (٢) أجب بالرجوع إلى المفكرة من ١٠ قارن بين.
 (ج) (١) أجب بالرجوع إلى المفكرة من ١٧ ما النتائج.
 (٢) ترتب على ذلك لجوء الهند لاستخدام الطاقة
 النووية والكهربائية.

٢

- (١) (١) حيدر أباد.
 (٢) شمال شرق الولايات المتحدة الأمريكية.
 (٣) الصين. (٤) الغاز الطبيعى.
 (ب) (١) أجب بالرجوع إلى المفكرة من ٢٧ بم تفسر.
 (٢) تتمثل فى :
 - القطن.
 - الفوسفات.
 - الأسمدة الخام والمصنعة. - الجلود.
 (ج) سوف يؤدى ذلك إلى :
 - تقليل الاعتماد على البترول والغاز الطبيعى فى
 توليد الكهرباء.
 - سد احتياجات مصر من الطاقة الكهربائية.
 - تطور الصناعة فى مصر.

امتحان تراكمى 6

١

- (١) (١) الأطلنطى.
 (٢) ساو فرانسيسكو.
 (٣) الأرجنتين.
 (٤) بيرو.
 (٥) ساو باولو.

- محاصيل الألياف : القطن.

- محاصيل ذات طبيعة خاصة : المطاط الطبيعى.

(١) (٢) أجب بالرجوع إلى المفكرة من ١٠ قارن بين.

(٢) : (٧) أجب بالرجوع إلى المفكرة من ١٣ قارن بين.

(١) (٢) إقليم شرق آسيا.

(٢) إقليم روسيا وأوكرانيا.

(٣) إقليم غرب ووسط أوروبا.

(٤) إقليم شمال شرق الولايات المتحدة الأمريكية.

(١) (٤) أجب بالرجوع إلى المفكرة من ١٤ بم تفسر.

(٢) أجب بالرجوع إلى المفكرة من ٩ قارن بين.

(٣) القطن.

(٤) العمل على زيادة الإنتاج من المحاصيل الزراعية

من طريق :

- الاعتماد على الزراعة التجارية والعلمية.

- استيراد أنواع جيدة من البذور لرفع قيمة الإنتاج.

(١) (٥) أجب بالرجوع إلى المفكرة من ٤ أهم المخططات.

(٢) أجب بالرجوع إلى المفكرة من ١٦ بم تفسر.

(١) (٦) أجب بالرجوع إلى المفكرة من ١٧ دلل.

(٢) أجب بالرجوع إلى المفكرة من ٥ أهم المخططات.

(١) (٧) استخدام مصادر الطاقة النظيفة والمتجددة.

مثل : الشمس والرياح وحركة المد والجزر

لأنها غير ملوثة للبيئة.

(٢) - التوسع فى إنشاء محطات الطاقة من

الرياح وحركة المد والجزر.

- التوسع فى استخدام الطاقة الشمسية.

(١) (٨) أجب بالرجوع إلى المفكرة من ٦ أهم المخططات.

(٢) إقليم شرق آسيا الصناعى.

(٣) يترك للطالب حرية الإجابة فى ضوء :

- التوسع فى إنشاء المصانع.

- زيادة فتح أسواق لمصر فى الخارج.

- الاهتمام بالبحث العلمى لتطوير الآلات الحديثة

فى مجال التصنيع.

(٤) أجب بالرجوع إلى المفكرة من ٧ أهم المخططات.

(١) (٩) أمريكا الشمالية - يستخدم كعلف للماشية

ويصدر جزء منه للخارج.

(٢) لم يحدث التكامل في الجوانب الاقتصادية بإقليم غرب ووسط أوروبا ولم يتم حمايتها جمركياً أو تدعيمها من جانب هيئة الاتحاد الأوروبي.

٨ امتحان تراكمي

١

- (١) (١) الدنمارك. (٢) الألب.
(٣) الراين. (٤) برلين.
(ب) (١) البقرول. (٢) تايلاند.
(٣) اليابان. (٤) الصين.
(٥) شيلي.

(ج) أجب بالرجوع إلى المفكرة ص ٣٣ دلل.

٢

- (١) (١) ... آسيا ... (٢) ... قصب السكر ...
(٣) ... المناخ المداري. (٤) ... ميونخ ...

(ب) (١) أجب بالرجوع إلى المفكرة ص ١٧ ما النتائج.
(٢) ترتب على ذلك امتلاك البرازيل ثروة حيوانية كبيرة وبالتالي أصبحت من الدول الرئيسية المنتجة والمصدرة للحوم.

(٣) ترتب على ذلك أن أصبحت المرتفعات الوسطى بألمانيا من مناطق الجذب السياحي.

(ج) (١) أجب بالرجوع إلى المفكرة ص ٣١ بم تفسر.
(٢) أجب بالرجوع إلى المفكرة ص ٣٩ بم تفسر.

٩ امتحان تراكمي

١

- (١) (١) الهادي. (٢) الأبلش.
(٣) سانت لورانس. (٤) سان فرانسيسكو.
(٥) كلورادو.

(ب) أجب بالرجوع إلى المفكرة ص ٤٣ بم تفسر.
(ج) (١) تشرف الولايات المتحدة الأمريكية جنوباً على خليج المكسيك، كما تشرف جمهورية نيجيريا الاتحادية جنوباً على خليج غينيا.

(٢) يصب نهر المسيسيبي في خليج المكسيك جنوب الولايات المتحدة الأمريكية، كما يصب نهر النيجر في خليج غينيا جنوب جمهورية نيجيريا الاتحادية.

(ب) أجب بالرجوع إلى المفكرة ص ٤٦ ، ٥٠ مقارنات عامة.
(ج) أجب بالرجوع إلى المفكرة ص ٣٣ دلل.

٢

(١) (١) البنجر. (٢) تايلاند.

(٣) بنجلاديش. (٤) ريودي جانيرو.

(٥) الولايات المتحدة الأمريكية.

(ب) (١) أجب بالرجوع إلى المفكرة ص ١٧ ما النتائج.
(٢) ترتب على ذلك :

- سيادة المناخ الاستوائي مما أدى إلى نمو الغابات الاستوائية في حوض الأمازون التي تعد أكبر غابات استوائية في العالم.

- سيادة المناخ المداري الحار في السهول الشرقية وهضبة البرازيل وبالتالي نمو حشائش السافانا كما أصبحت البرازيل الأولى عالمياً في زراعة البن وقصب السكر.

(ج) الرعي التجاري رعى يعتمد على الأساليب العلمية الحديثة لإنتاج الألبان واللحوم حيث يرعى كل نوع من الحيوانات في مزارع خاصة به دون الاختلاط بحيوانات أخرى.

٧ امتحان تراكمي

١

- (١) (١) النيجر. (٢) لاجوس.
(٣) چوس. (٤) النيجر.
(ب) (١) الأرجنتين. (٢) أوروبا.
(٣) شمالاً. (٤) أفريقيا.

(ج) أجب بالرجوع إلى المفكرة ص ٤٥ ، ٤٨ ، ٤٩ مقارنات عامة.

٢

- (١) (١) للفحم. (٢) بترولية.
(٣) بومباي. (٤) المداري.

(ب) (١) أجب بالرجوع إلى المفكرة ص ١٤ بم تفسر.

(٢) أجب بالرجوع إلى المفكرة ص ٣١ بم تفسر.

(ج) (١) سوف تتمكن الدول النامية المنتجة للبوكسيت من تصنيع الألومنيوم ولن تقوم بتصدير البوكسيت إلى الدول المتقدمة.

(د) أجب بالرجوع إلى الفكرة من ٤٨ مقارنات عامة.

٢

- (١) الصين. (٢) أوروبا وآسيا.
(٣) أوروبا. (٤) المدارى الحار.

(ب) أجب بالرجوع إلى الفكرة من ٥٠ أهم المدن.

(ج) (١) أجب بالرجوع إلى الفكرة من ١٤ بم تفسر.

(٢) أجب بالرجوع إلى الفكرة من ١٥ بم تفسر.

(٣) أجب بالرجوع إلى الفكرة من ٢٩ بم تفسر.

أسئلة عامة على الوحدة الثانية

جمهورية الهند

١

- (١) مدار السرطان. (٢) البنغال.
(٣) العربى. (٤) بوتان.
(٥) بنجلاديش. (٦) ميانمار.
(٧) باكستان. (٨) الهيمالايا.
(٩) لغات الشرقية. (١٠) الدكن.
(١١) ملبار. (١٢) الهندوستان.
(١٣) الجانج. (١٤) كوفرى.
(١٥) نيودلهى. (١٦) بومباى.
(١٧) حيدر أباد. (١٨) كلكتا.
(١٩) بلك. (٢٠) سيلان.
(٢١) الهندى.

٢

- (١) الشمال. (٢) الجانج - كوفرى.
(٣) البحر العربى. (٤) الدكن.
(٥) الأمطار - الأنهار.
(٦) المنسوجات - الإلكترونيات.

٣

- (١) الشمال الشرقى. (٢) بنجلاديش.
(٣) الموسمية. (٤) الأبقار.
(٥) الفحم. (٦) ، (٧) بومباى.

(٨) حيدر أباد. (٩) غزل القطن.

٤

- (١) صواب. (٢) صواب. (٣) صواب.
(٤) خطأ : بومباى ... نيودلهى ...
(٥) خطأ : تشهد العلاقات المصرية الهندية نموًا كبيرًا على كافة المستويات (السياسية والاقتصادية والثقافية والعلمية).
(٦) خطأ : تصدر مصر للهند ...

(٥) (١) كوفرى. (٢) كروماندل. (٣) ثانى.

٦

- (١) سهول ملبار. (٢) الغابات الموسمية.
(٣) نيودلهى.

٧

- (١) : (٧) أجب بالرجوع إلى الفكرة من ٢٧ بم تفسر.
(٨) لأنها - : العاصمة السياسية.
- تتميز بوجود الجامعات والمراكز الصناعية والمعالم التاريخية المهمة.

٨

- (١) ترتب على ذلك تطوير الزراعة والصناعة وبالتالي استطاعت الهند مواجهة المشكلة السكانية.
(٢) ترتب على ذلك أن أصبحت القيمة الاقتصادية للأبقار الموجودة فى الهند محدودة.
(٣) ترتب على ذلك أن أصبحت الهند من الدول الرئيسية المنتجة للأسمك.
(٤) أدى ذلك إلى لجوء الهند لاستخدام الطاقة النووية والكهربائية.

(٩) أجب بالرجوع إلى الفكرة من ٢٨ دل.

جمهورية البرازيل الاتحادية

١

- (١) دائرة الاستواء. (٢) الجدى.
(٣) الأطلنطى. (٤) البرازيل.

جمهورية نيجيريا الاتحادية

١

- | | |
|----------------|---------------|
| (١) غينيا. | (٢) النيجر. |
| (٣) بنين. | (٤) تشاد. |
| (٥) الكاميرون. | (٦) چوس. |
| (٧) النيجر. | (٨) أبوجا. |
| (٩) لاجوس. | (١٠) إيبادان. |

٢

- | | |
|----------------|--------------------|
| (١) بنين. | (٢) چوس - القصدير. |
| (٣) الاستوائي. | (٤) غينيا. |

٣

- | | |
|----------------------|--------------|
| (١) الكاميرون وتشاد. | (٢) المدارى. |
| (٣) السافانا. | (٤) الكاكو. |
| (٥) المطاط. | (٦) القصدير. |
| (٧) البترول. | (٨) الأسمدة. |

٤

- (١) صواب.
- (٢) خطأ : ... فى الغرب والسهول الشمالية وهضبة چوس.
- (٣) خطأ : ... اقتصاد نامى ...
- (٤) صواب.
- (٥) صواب.
- (٦) صواب.
- (٧) صواب.
- (٨) خطأ : ... العاصمة الحالية ...

٥

- (١) المحيط الأطلنطى (خليج غينيا).
- (٢) المدارى.
- (٣) الاستوائية والمدارية.
- (٤) الغزل والنسيج.

٦

- | | |
|----------------------|----------------------|
| (١) السهول الشمالية. | (٢) هضبة چوس. |
| (٣) حشائش السافانا. | (٤) دلتا نهر النيجر. |
| (٥) لاجوس. | (٦) إيبادان. |

- (٥) الأمازون.
- (٦) ساو فرانسيسكو.
- (٧) جيانا الفرنسية.
- (٨) أورجواى.
- (٩) كولومبيا.
- (١٠) برازيليا.
- (١١) ساوياولو.
- (١٢) ريودى چانيرو.

٢

- (١) الشمالية.
- (٢) الشرق - الشمال الشرقى.
- (٣) الساحل الجنوبى الشرقى.
- (٤) ميناؤوس - برازيليا.
- (٥) الزراعة.
- (٦) اللحوم.
- (٧) ساوياولو - ريودى چانيرو.

٣

- (١) الهضبة.
- (٢) جنوب شرق.
- (٣) الأمازون.
- (٤) الحشائش المعتدلة.
- (٥) سهول الأمازون.
- (٦) ساوياولو.
- (٧) جنوب.

٤

- (١) خطأ : ... المحيط الأطلنطى.
- (٢) خطأ : يسود المناخ المعتدل الرطب ...
- (٣) خطأ : ... فوق هضبة البرازيل.
- (٤) خطأ : ... الجنوبى الشرقى ...
- (٥) خطأ : ... جنوب شرق ...
- (٦) صواب.
- (٧) صواب.
- (٨) صواب.
- (٩) خطأ : ... جنوب شرق ...
- (١٠) خطأ : ريودى چانيرو ...

٥

- (١) المدارى الحار.
- (٢) الهنود الحمر.
- (٣) برازيليا.
- (٤) ساوياولو.
- (٥) الحديد.

٦

- (١) الغابات الاستوائية فى حوض الأمازون.
- (٢) ميناؤوس.
- (٣) ساوياولو.

٧ أجب بالرجوع إلى المفكرة ص ٣١ بم تفسر.

٨ أجب بالرجوع إلى المفكرة ص ٣٢ ما النتائج.

٩ أجب بالرجوع إلى المفكرة ص ٣٢، ٣٣ دلل.

٧

- (١) : (٣) أجب بالرجوع إلى المفكرة ص ٣٥ بم تفسر.
(٤) لأن اقتصادها يعتمد على الزراعة في المقام الأول
كما أن الصناعة ليست متطورة أو متنوعة.
(٥) أجب بالرجوع إلى المفكرة ص ٣٥ بم تفسر.

٨

- (١) ترتب على ذلك قلة عدد السكان في دلتا نهر
النيجر جنوب نيجيريا.
(٢) ترتب على ذلك وجود أعداد كبيرة من الأبقار
والأغنام والماعز تقوم عليها حرفة الرعي.
(٣) ترتب على ذلك إنتاج نيجيريا كميات كبيرة من
الأسماك.

٩

- (١) ، (٢) أجب بالرجوع إلى المفكرة ص ٣٥ دلل.
(٣) حيث يتركز السكان في الغرب والسهول الشمالية
وهضبة جنوس، بينما يقلون في دلتا نهر النيجر
جنوب نيجيريا.
(٤) ، (٥) أجب بالرجوع إلى المفكرة ص ٣٦ دلل.

١٠ كان وقوع الأطراف الجنوبية لنيجيريا ضمن المناخ
الاستوائي سبباً في تغطية الغابات الاستوائية نحو
ثلث مساحة نيجيريا مما جعلها مصدراً للأخشاب.

ألمانيا الاتحادية

١

- (١) بحر الشمال.
(٢) فرنسا.
(٣) الدنمارك.
(٤) الألب.
(٥) إلب.
(٦) هامبورج.
(٧) ميونخ.

٢

- (١) ٥ (٢) التشيك.
(٢) ٢ (٣) ١ (٤) ١
(٥) بولندا. ١ (٦) ٤

٣

- (١) التشيك - هولندا - بلجيكا.
(٢) الألب.
(٣) السهل الشمالي.

٤

- (١) الدنمارك.
(٢) برلين.
(٥) غرب أوروبا.
(٧) البترول.
(٢) غرب.
(٤) بحر الشمال.
(٦) الصناعة.

٥

- (١) صواب.
(٢) خطأ : ... الشرق.
(٥) صواب.
(٧) صواب.
(٨) خطأ : هامبورج ... برلين ...
(٩) خطأ : ... جنوب ألمانيا. (١٠) صواب.

٦

- (١) أوروبا - بحر الشمال أو البحر البلطي.
(٢) النمسا وسويسرا.
(٣) الراين.
(٤) النفضية والمخروطية.

٧

- (١) السهل الألماني الشمالي.
(٢) جبال الألب.
(٣) النشاط الصناعي.

٨

- (١) : (٣) أجب بالرجوع إلى المفكرة ص ٣٩ بم تفسر.
(٤) لأنها : - عاصمة إقليم بافاريا جنوباً.
- يوجد بها مقر عدد من الشركات والمصانع
الألمانية العالمية.

٩

- (١) أدى ذلك إلى أن أصبحت المرتفعات الوسطى في
ألمانيا مناطق جذب للسياح.
(٢) ، (٣) أجب بالرجوع إلى المفكرة ص ٣٩ ما النتائج.

١٠

- أجب بالرجوع إلى المفكرة ص ٣٩ دلل.

الولايات المتحدة الأمريكية

٩١٥

١

- | | |
|--------------|---------------------|
| (١) الهادى. | (٢) المكسيك. |
| (٣) كندا. | (٤) المكسيك. |
| (٥) الأبلش. | (٦) روكى. |
| (٧) كسكيد. | (٨) سيرانيقادا. |
| (٩) كلورادو. | (١٠) المسيسيبي. |
| (١١) واشنطن. | (١٢) نيويورك. |
| (١٣) شيكاغو. | (١٤) سان فرانسيسكو. |

٢

- | | |
|---------------------------------|----------------|
| (١) كندا - المكسيك. | (٢) المسيسيبي. |
| (٣) سان فرانسيسكو - لوس أنجلوس. | |
| (٤) ألاسكا. | |

٣

- | | |
|---------------------------|------------|
| (١) الهادى. | (٢) كسكيد. |
| (٣) غابات الإقليم الصينى. | (٤) متشجن. |
| (٥) المحيط الأطلنطى. | |

٤

- | |
|--|
| (١) خطأ : تقع ولاية ألاسكا ... |
| (٢) خطأ : ... الأبلش. |
| (٣) خطأ : ... نطاق المرتفعات الغربية ... |
| (٤) خطأ : ... بغزاراة الأمطار ... (٥) صواب. |
| (٦) خطأ : ... منطقة جنوب ... |
| (٧) خطأ : تصدر الولايات المتحدة الأمريكية جزء للخارج ... |
| (٨) صواب. |
| (٩) خطأ : سان فرانسيسكو ... |
| (١٠) خطأ : ... المحيط الأطلنطى. (١١) صواب. |

٥

- | | |
|----------------|--------------------|
| (١) هاواى. | (٢) روكى. |
| (٣) المسيسيبي. | (٤) سان فرانسيسكو. |

٦

- | | |
|--------------------|----------------|
| (١) السهول الوسطى. | (٢) نيوانجلند. |
|--------------------|----------------|

(٣) الولايات المتحدة الأمريكية.

(٤) الصناعات الإلكترونية والكهربائية.

٧

- (١) بسبب اتساع مساحة الولايات المتحدة الأمريكية وتنوع تضاريسها.
- (٢) بسبب اتساع مساحة الولايات المتحدة الأمريكية وتنوع تضاريسها وتنوع المناخ.
- (٣) أجب بالرجوع إلى المفكرة ص ٤٢ بم تفسر.
- (٤) : (٨) أجب بالرجوع إلى المفكرة ص ٤٣ بم تفسر.
- (٩) لأنها تتمتع بموارد طبيعية وفيرة ومتنوعة مما أدى إلى تعدد الأنشطة الاقتصادية بها وضخامة إنتاجها.

٨ أجب بالرجوع إلى المفكرة ص ٤٤ ما النتائج.

٩

- (١) أجب بالرجوع إلى المفكرة ص ٤٢ المناخ والنبات الطبيعى.
- (٢) أجب بالرجوع إلى المفكرة ص ٤٤ دلل.
- (٣) حيث إن الولايات المتحدة الأمريكية :
- تسهم بحصص مرتفعة فى الإنتاج العالمى من عدة صناعات أهمها صناعة السيارات، وصناعة الصلب، وصناعة الألومنيوم.
 - تحتل المرتبة الأولى عالمياً فى صناعة الطائرات وسفن الفضاء والأقمار الصناعية.
 - تنتج ثلث الإنتاج العالمى من الصناعات الإلكترونية والكهربائية.

الوحدة 3

امتحان 10

١

- (١) (١) تحقيق أول تجربة للوحدة فبراير ١٩٥٨م.
- (٢) القضاء على ظاهرة الإقطاع.
- (٣) العربى والدولى. (٤) مجانية التعليم.
- (ب) (١) مصطفى النحاس. (٢) محمد أنور السادات.
- (٣) محمد نجيب.
- (ج) أجب بالرجوع إلى المفكرة ص ٦٩ دلل.

امتحان تراكمي 12

١

- (١) (١) الجزائر.
- (٢) القضاء على الإقطاع.
- (٣) عودة العلاقات الودية مع الدول العربية.
- (٤) خط بارليف.
- (ب) (١)، (٢) أجب بالرجوع إلى المفكرة ص ٥٥ أهم الحروب.
- (ج) - كلاهما خطوط دفاعية أقامتها إسرائيل على جبهتي القتال فكان خط بارليف في مواجهة الجانب المصري وخط ألون في مواجهة الجانب السوري.
- تم تدميرهما أثناء حرب أكتوبر ١٩٧٣ م وترتب على ذلك إنهاء نظرية الأمن الإسرائيلية القائمة على الخطوط الدفاعية والتحصينات.

٢

- (١) (١) محمد نجيب.
- (٢) روجرز.
- (٣) الفريق أول عبدالمنعم رياض.
- (٤) المشير أحمد إسماعيل.
- (ب) أجب بالرجوع إلى المفكرة ص ٥٥ (مدون يونيه ١٩٦٧ م)، ص ٥٦ (حرب أكتوبر ١٩٧٣ م).
- (ج) (١) حيث تم:
- تحديد ساعات العمل وإشراك العمال في مجالس إدارة الشركات والمصانع وتحديد نسبة لهم من الأرباح.
- إصدار قوانين للتأمينات الاجتماعية والمعاشات للموظفين والعمال.
- (٢) أجب بالرجوع إلى المفكرة ص ٧٢ دلل.

امتحان تراكمي 13

١

- (١) (١) حرب فلسطين ١٩٤٨ م.
- (٢) إقامة الوحدات الصحية.
- (٣) خليج العقبة.
- (٤) أمريكية.
- (٥) اتفاقية أوسلو.
- (ب) (١) أجب بالرجوع إلى المفكرة ص ٦٤ ما النتائج.
- (٢) أجب بالرجوع إلى المفكرة ص ٦٦ ما النتائج.
- (ج) أجب بالرجوع إلى المفكرة ص ٥٢ أهم المخططات.

٢

- (١) (١) الأمة.
- (٢) سوريا.
- (٣) باندونيسيا.
- (ب) (١) أجب بالرجوع إلى المفكرة ص ٥٢ أهم المخططات.
- (٢): (٤) أجب بالرجوع إلى المفكرة ص ٦٠ بم تفسر.
- (ج) أجب بالرجوع إلى المفكرة ص ٦٨ دلل.
- (د) يترك للطالب حرية الإجابة في ضوء:
- أنها من إنجازات ثورة ٢٣ يوليو ١٩٥٢ م في المجال السياسي حيث أصبحت شركة قناة السويس البحرية شركة مصرية بإدارة مصرية وبذلك تم إرجاع حق المصريين.

امتحان تراكمي 11

١

- (١) (١) إقامة الجمعيات الزراعية.
- (٢) بورفؤاد.
- (٣) الحصار الاقتصادي.
- (٤) توقيع معاهدة ١٩٣٦ م.
- (ب) (١) خطأ: وافقت ...
- (٢) صواب.
- (٣) خطأ: تقدمت الولايات المتحدة الأمريكية ...
- (٤) خطأ: ... محمد نجيب ...
- (٥) صواب.
- (ج) (١) أجب بالرجوع إلى المفكرة ص ٥٦ أهم الحروب.
- (٢)، (٣) أجب بالرجوع إلى المفكرة ص ٦٤ ما النتائج.

٢

- (١) (١) روجرز.
- (٢) الملك فاروق.
- (٣) الفريق أول عبدالمنعم رياض.
- (ب) (١) أجب بالرجوع إلى المفكرة ص ٦٠ بم تفسر.
- (٢) أجب بالرجوع إلى المفكرة ص ٦١ بم تفسر.
- (ج) يترك للطالب حرية الإجابة في ضوء:
- أن التصريح ينص على تعهد بريطانيا ببذل مساعيها لإنشاء وطن قومي لليهود في فلسطين.
- أن التصريح يوصف بأنه وعد ممن لا يملك لمن لا يستحق.
- (د) أجب بالرجوع إلى المفكرة ص ٧٣ ما العلاقة.

٢

(١) ① عرض بريطانيا القضية الفلسطينية على هيئة الأمم المتحدة (١٩٤٧م).

② قيام إسرائيل بالهجوم على سوريا واستيلائها على هضبة الجولان (١٩٦٧م).

③ حظر الصادرات النفطية العربية للولايات المتحدة الأمريكية (١٩٧٣م).

④ مبادرة الرئيس السادات بزيارة إسرائيل (١٩٧٧م).

(ب) (١) كان من نصوص معاهدة السلام ١٩٧٩م التطبيق الكامل لقرار مجلس الأمن الدولي رقم (٢٤٢).

(٢) حيث قدمت الولايات المتحدة الأمريكية معلومات عسكرية لإسرائيل أثناء حرب أكتوبر ١٩٧٣م ساعدتها في إحداث ثغرة في منطقة الدفرسوار.

(ج) (١)، (٢) أجب بالرجوع إلى المفكرة ص ٧٢ دل.

امتحان تراكمي 14

١

(١) (١) عبدالمنعم رياض.

(٢) التحكيم الدولي.

(٣) حركة الحياء الإيجابي.

(ب) ترتب على ذلك قيام المجتمع المصري بكل فئاته بتشكيل ما عُرف باللجان الشعبية لحماية المنشآت والمناطق ومواجهة أعمال السرقة والحرق والترويع.

(ج) يترك للطالب حرية الإجابة في ضوء :

كانت خطوة كبيرة لتحقيق السلام حيث :

- نادى الرئيس السادات بالسلام العادل لكل شعوب المنطقة.

- دعا الرئيس السادات العالم كله إلى مساندته في التطلع إلى السلام الدائم بعد سلسلة من الحروب التي استنزفت طاقات وموارد البلاد البشرية والمادية.

- مهدت الزيارة الطريق أمام إسرائيل للقبول بمبدأ التفاوض بين الأطراف المهمة والمعنية بالقضية.

٢

(١) (١) خطأ : لم تتحقق ...

(٢) خطأ : ... الذى وضعته عصبة الأمم.

(٣) صواب. (٤) صواب.

(ب) (١) بسبب مساعدة مصر لحركات التحرر الوطنى فى الجزائر.

(٢) أجب بالرجوع إلى المفكرة ص ٥٦ أهم الحروب.

(ج) (١) أجب بالرجوع إلى المفكرة ص ٦٨ دل.

(٢) أجب بالرجوع إلى المفكرة ص ٦٣ بم تفسر.

(٣) يترك للطالب حرية الإجابة في ضوء :

القضاء على الفوارق بين طبقات المجتمع

والاهتمام بالطبقات الفقيرة من خلال :

- توفير التعليم والصحة مجاناً لهم.

- إيجاد فرص عمل لهم.

أسئلة عامة على الوحدة الثالثة

١

(١) الحركات التحررية فى الجزائر.

(٢) الصراع بين الأحزاب. (٣) محمد نجيب.

(٤) قانون الإصلاح الزراعى الأول.

(٥) تأميم شركة قناة السويس.

(٦) نمو النشاط الصناعى.

(٧) الاجتماعى. (٨) إيطاليا.

(٩) تقسيم فلسطين. (١٠) بريطانيا.

(١١) فلسطين ١٩٤٨م. (١٢) معظم أراضي فلسطين.

(١٣) غزة وسيناء. (١٤) عدوان ٥ يونيو ١٩٦٧م.

(١٥) العدوان الثلاثى. (١٦) خليج العقبة.

(١٧) عدوان ١٩٦٧م. (١٨) بورفؤاد.

(١٩) خط بارليف. (٢٠) تصفية الخلافات.

(٢١) الطيران. (٢٢) سياسياً.

(٢٣) الجزائر. (٢٤) الولايات المتحدة الأمريكية.

(٢٥) سعد الدين الشاذلى. (٢٦) أحمد إسماعيل.

(٢٧) أمريكية. (٢٨) اتفاقية أوسلو.

(٢٩) المعاهدات الرسمية.

(٣٠) خلو مجلس الشعب ٢٠١٠م من أى معارضة.

(٣١) تعيين نائب للرئيس. (٣٢) محمد مرسى.

٢

- (١) الملك فاروق - مصطفى النحاس.
- (٢) محمد أنور السادات.
- (٣) العراق - اليمن - الكويت.
- (٤) باندونج.
- (٥) الاتحاد السوفيتي.
- (٦) تصريح بلفور.
- (٧) الدفاع المشترك.
- (٨) إيالات.

٢

- (١) صواب.
- (٢) خطأ : ... الثانية.
- (٣) : (٥) صواب.
- (٦) خطأ : ... الاجتماعية ...
- (٧) صواب.
- (٨) خطأ : ... كينيا.
- (٩) : (١١) صواب.
- (١٢) خطأ : وافقت هيئة الأمم المتحدة ...
- (١٣) : (١٧) صواب.
- (١٨) خطأ : ... الضفة الغربية ...
- (١٩) صواب.
- (٢٠) خطأ : ... الرئيس محمد أنور السادات ...
- (٢١) صواب.
- (٢٢) صواب.
- (٢٣) خطأ : ... خط ألون.
- (٢٤) : (٢٨) صواب.
- (٢٩) خطأ : ... أمريكية.
- (٣٠) خطأ : ... ما عدا منطقة طابا ...
- (٣١) خطأ : ... مدريد للسلام ١٩٩١ م.
- (٣٢) خطأ : أيدت ...
- (٣٣) صواب.
- (٣٤) صواب.

- (٣٥) خطأ : ... اتباع سياسة الانفتاح الاقتصادي
- دون ضوابط علمية.
- (٣٦) خطأ : التطبيق غير السليم ...
- (٣٧) : (٣٩) صواب.

٤

- (١) محمد نجيب.
- (٢) السياسي.
- (٣) سان ريمو.
- (٤) سوريا.
- (٥) مذبح دير ياسين.
- (٦) بمرحلة الصمود والتصدي.
- (٧) المشير أحمد إسماعيل.
- (٨) محمد أنور السادات.
- (٩) كامب ديفيد.
- (١٠) محكمة العدل الدولية.

٥

- (١) تنظيم الضباط الأحرار. (٢) معاهدة ١٩٣٦ م.
- (٣) قانون الإصلاح الزراعي الأول.
- (٤) حركة عدم الانحياز. (٥) وعد بلفور.
- (٦) خط بارليف.
- (٧) خط ألون.
- (٨) مؤتمر كامب ديفيد.
- (٩) مؤتمر مدريد للسلام. (١٠) اتفاقية أوسلو.
- (١١) سياسة الانفتاح الاقتصادي.
- (١٢) قانون الطوارئ.

٦

- (١) جمال عبدالناصر. (٢) مصطفى النحاس.
- (٣) محمد أنور السادات. (٤) محمد نجيب.
- (٥) بلفور وزير خارجية بريطانيا.
- (٦) روجرز وزير خارجية الولايات المتحدة الأمريكية.
- (٧) الفريق أول عبدالمنعم رياض.
- (٨) محمد حسنى مبارك.
- (٩) ، (١٠) المشير أحمد إسماعيل.
- (١١) الفريق سعد الدين الشاذلى.
- (١٢) محمد عبدالغنى الجمسى.
- (١٣) ، (١٥) محمد أنور السادات.
- (١٤) الرئيس الأمريكى كارتر.
- (١٦) ، (١٧) محمد حسنى مبارك.
- (١٨) المستشار عدلى منصور.
- (١٩) عبدالفتاح السيسى.

٧

- (١) بسبب ما تركته ثورة ٢٣ يوليو ١٩٥٢ م من آثار على أغلب الحركات التحررية فى المنطقة العربية وفى العالم ولما أسهم به قادتها من تأسيس لحركات دولية منها حركة عدم الانحياز والحياد الإيجابى.

- (٢) بهدف القيام بثورة للقضاء على الفساد وتحرير واستقلال مصر من الاحتلال البريطانى.
- (٣) أجب بالرجوع إلى المفكرة ص ٥٢ أهم المخططات.
- (٤) أجب بالرجوع إلى المفكرة ص ٦٨ دلل.
- (٥) ، (٦) أجب بالرجوع إلى المفكرة ص ٦٠ بم تفسر.
- (٧) بهدف القضاء على ظاهرة الإقطاع وقد تم ذلك عن طريق تحديد الملكية الزراعية.

- (١) سوف يؤدي ذلك إلى :
 - تعرض مصر لخطر الفيضان.
 - عدم تخزين المياه وتوليد الكهرباء.
- (٢) لم يتم : القضاء على ظاهرة الإقطاع وإقامة عدالة اجتماعية وبالتالي لم يتم تحديد الملكية الزراعية.
- (٣) لم يتم : - السماح بهجرة أعداد كبيرة من اليهود من جميع دول العالم إلى فلسطين.
 - السماح بانتقال ملكية الأراضي من عرب فلسطين إلى اليهود عن طريق الشراء.
 - إنشاء وطن قومي لليهود في فلسطين.
- (٤) لم تشارك فرنسا في العدوان الثلاثي على مصر.
- (٥) - لم تعلن مصر وقوفها بجانب سوريا تطبيقاً لاتفاقية الدفاع المشترك.
- لم تطالب مصر قوات الطوارئ الدولية الموجودة على الحدود بينها وبين إسرائيل بالانسحاب من بعض النقاط.
- لم تغلق مصر خليج العقبة في وجه الملاحة الإسرائيلية.
- لم تحدث حرب ٥ يونيو ١٩٦٧ م.
- (٦) كان سيؤدي ذلك إلى :
 - إنهاء حالة الحرب بين إسرائيل والعرب.
 - انسحاب إسرائيل من الأراضي التي احتلتها ١٩٦٧ م.
 - لم تقم حرب الاستنزاف.
 - لم تقم مصر وسوريا بحرب أكتوبر ١٩٧٣ م.
- (٧) لم تتمكن مصر من :
 - التصدي للاعتداءات الإسرائيلية كما حدث في معركة رأس العش، وتدمير المدمرة الإسرائيلية إيلات.
 - بناء حائط الصواريخ على الضفة الغربية لقناة السويس، والقصف المستمر لخط بارليف خلال حرب الاستنزاف.
 - الانتصار في حرب أكتوبر ١٩٧٣ م.
- (٨) - لم يتم الضغط على الدول المساندة لإسرائيل مثل الولايات المتحدة الأمريكية.
 - لم تظهر أهمية استخدام النفط العربي كسلاح قوي ومهم (استراتيجي).
- (٩) - لم تتمكن إسرائيل من إحداث ثورة في منطقة الدفرسوار.
 - لم تقم الدول العربية بحظر الصادرات النفطية إلى الولايات المتحدة الأمريكية.
- (١٠) لم يتم التوصل إلى إطار اتفاق (معاهدة) للسلام بين مصر وإسرائيل.

- (٨) : (١٠) أجب بالرجوع إلى الفكرة ص ٦٠ بم تفسر.
- (١١) أجب بالرجوع إلى الفكرة ص ٥٥ أهم الحروب (أسباب العدوان الثلاثي ١٩٥٦ م).
- (١٢) : (١٤) أجب بالرجوع إلى الفكرة ص ٦١ بم تفسر.
- (١٥) أجب بالرجوع إلى الفكرة ص ٥٥ ، ٥٦ أهم الحروب (أسباب عدوان يونيو ١٩٦٧ م).
- (١٦) ، (١٧) أجب بالرجوع إلى الفكرة ص ٦١ بم تفسر.
- (١٨) أجب بالرجوع إلى الفكرة ص ٥٦ أهم الحروب (أسباب حرب أكتوبر ١٩٧٣ م).
- (١٩) : (٢٢) أجب بالرجوع إلى الفكرة ص ٦٢ بم تفسر.
- (٢٣) ، (٢٥) : (٢٩) أجب بالرجوع إلى الفكرة ص ٦٣ بم تفسر.
- (٢٤) أجب بالرجوع إلى الفكرة ص ٧٣ دلل.

- (١) أجب بالرجوع إلى الفكرة ص ٦٨ دلل.
- (٢) ، (٣) أجب بالرجوع إلى الفكرة ص ٦٤ ما النتائج.
- (٤) أجب بالرجوع إلى الفكرة ص ٦٩ دلل.
- (٥) ترتب على ذلك منح المرأة حق الانتخاب والترشح لمجلس الأمة (مجلس النواب حالياً) عام ١٩٥٦ م.
- (٦) أجب بالرجوع إلى الفكرة ص ٦٤ ما النتائج.
- (٧) أجب بالرجوع إلى الفكرة ص ٦٥ ما النتائج.
- (٨) أجب بالرجوع إلى الفكرة ص ٥٥ أهم الحروب (نتائج حرب فلسطين ١٩٤٨ م).
- (٩) أجب بالرجوع إلى الفكرة ص ٥٥ أهم الحروب (نتائج العدوان الثلاثي ١٩٥٦ م).
- (١٠) أجب بالرجوع إلى الفكرة ص ٥٦ أهم الحروب (نتائج عدوان ٥ يونيو ١٩٦٧ م).
- (١١) ، (١٢) أجب بالرجوع إلى الفكرة ص ٦٥ ما النتائج.
- (١٣) : (١٧) أجب بالرجوع إلى الفكرة ص ٦٦ ما النتائج.
- (١٨) ترتب على ذلك تدهور الأوضاع الاقتصادية بمصر مما ساهم في قيام ثورة ٢٥ يناير ٢٠١١ م.
- (١٩) أجب بالرجوع إلى الفكرة ص ٦٧ ما النتائج.
- (٢٠) ترتب على ذلك سوء الأوضاع الاجتماعية بسبب زيادة الفوارق الاجتماعية بين طبقات المجتمع مما ساهم في قيام ثورة ٢٥ يناير ٢٠١١ م.
- (٢١) ترتب على ذلك قيام الشعب المصري بكل فئاته بتشكيل ما عرف باللجان الشعبية.
- (٢٢) أجب بالرجوع إلى الفكرة ص ٦٧ ما النتائج.

١٠

- (١) أجب بالرجوع إلى المفكرة ص ٧٣ ما العلاقة.
 (٢) كان من إنجازات ثورة ٢٣ يوليو ١٩٥٢م في المجال العربي والدولي كسر احتكار السلاح العالمى بعقد صفقة الأسلحة الشرقية.
 (٣) أجب بالرجوع إلى المفكرة ص ٧٣ ما العلاقة.
 (٥) قدم روجرز وزير خارجية الولايات المتحدة الأمريكية أثناء حرب الاستنزاف مبادرة لوقف إطلاق النار بين مصر وإسرائيل تمهيداً لحل النزاع بينهما سلمياً.
 (٤)، (٦) : (٨) أجب بالرجوع إلى المفكرة ص ٧٤ ما العلاقة.

١١

- (١) يترك للطالب حرية الإجابة في ضوء :
 - تعد من إنجازات ثورة ٢٣ يوليو ١٩٥٢م في المجال السياسى.
 - أصبحت شركة قناة السويس شركة مصرية بإدارة مصرية.
 (٢) يترك للطالب حرية الإجابة في ضوء :
 - تعد من إنجازات الثورة في المجال الاجتماعى وكان الهدف منها القضاء على ظاهرة الإقطاع.
 - زادت من تملك الفلاحين للأراضي الزراعية.
 (٣) يترك للطالب حرية الإجابة في ضوء :
 - نص التصريح بتعهد بريطانيا ببذل مساعيها لإنشاء وطن قومى لليهود فى فلسطين.
 - وصف التصريح بأنه وعد ممن لا يملك لمن لا يستحق.
 (٤) يترك للطالب حرية الإجابة في ضوء :
 - تنديد الأمم المتحدة بالعدوان الثلاثى على مصر.
 - قيام الأمم المتحدة بوضع قوات طوارئ دولية بين مصر وإسرائيل منذ عام ١٩٥٧م.
 (٥) يترك للطالب حرية الإجابة في ضوء :
 - تقديم بعض الدول العربية الدعم العسكرى والمالى لمصر وسوريا.
 - قرار وزراء النفط العربى فى اجتماعهم بالكويت بخفض إنتاج البترول وحظر الصادرات النفطية إلى الولايات المتحدة الأمريكية عندما طلب الرئيس الأمريكى مساعدات عاجلة لإسرائيل.
 - مما ساهم فى تحقيق انتصارات أكتوبر ١٩٧٣م.
 (٦) يترك للطالب حرية الإجابة في ضوء :
 - مناداة الرئيس السادات بالسلام العادل لكل شعوب المنطقة.

١٢

- دعوة الرئيس السادات العالم كله إلى مساندته فى التطلع إلى السلام الدائم بعد سلسلة من الحروب استنزفت طاقات وموارد البلاد البشرية والمادية.
 - مهدت الطريق أمام إسرائيل للقبول بمبدأ التفاوض بين الأطراف المهتمة والمعنفة بالقضية.
 (٧) يترك للطالب حرية الإجابة في ضوء :
 - نصوص معاهدة السلام بالمفكرة ص ٥٤ أهم المخططات.
 (٨) يترك للطالب حرية الإجابة في ضوء :
 - أن تحقيق السلام يساعد على تنشيط حركة السياحة فى مصر مما يؤدى إلى زيادة الدخل القومى وتوفير العملات الأجنبية.
 (٩) يترك للطالب حرية الإجابة في ضوء :
 - اتفقت مصر مع إسرائيل على اللجوء إلى التحكيم الدولى عند حدوث خلاف على تعيين مكان بعض علامات الحدود.
 - أصدرت هيئة التحكيم بمحكمة العدل الدولية حكمها لصالح مصر.
 - استعادت مصر طابا وعادت إلى السيادة المصرية عام ١٩٨٩م فى عهد الرئيس الأسبق محمد حسنى مبارك.
 (١٠) يترك للطالب حرية الإجابة في ضوء :
 - كان من نتائج مؤتمر مدريد عام ١٩٩١م حدوث مفاوضات اتسمت بالسرية وأسفرت عن توقيع اتفاقية أوسلو للسلام برعاية أمريكية بواشنطن فى سبتمبر ١٩٩٣م بين إسرائيل ومنظمة التحرير الفلسطينية.
 - تأييد مصر لاتفاقية أوسلو للسلام.
 (١١) يترك للطالب حرية الإجابة في ضوء :
 - ظهرت اللجان الشعبية نتيجة للاضطراب الأمنى.
 - شكل المجتمع المصرى بكل فئاته هذه اللجان لحماية المنشآت والمناطق ومواجهة أعمال السرقة والحرق والترويع.
- (١) أجب بالرجوع إلى المفكرة ص ٦٧ دلل.
 (٢) أجب بالرجوع إلى المفكرة ص ٦٨ دلل.
 (٣) حيث أدت معاهدة ١٩٣٦م إلى جعل مصر ميداناً لمعارك الحرب العالمية الثانية واستنزاف مواردها لخدمة بريطانيا وحلفائها، والذى أدى إلى :
 - إرهاب الاقتصاد المصرى.
 - ازدياد معاناة أفراد الشعب المصرى.

(٤)

أوضاع مصر الاقتصادية الاقتصادية قبل ثورة ٢٣ يوليو ١٩٥٢ م	أوضاع مصر الاقتصادية الاقتصادية قبل ثورة ٢٥ يناير ٢٠١١ م
* كانت الحياة الاقتصادية متدهورة حيث أدى توقيع معاهدة ١٩٣٦ م إلى جعل مصر ميداناً لمعارك الحرب العالمية الثانية واستنزاف موارد مصر لخدمة بريطانيا ولفئانها وأدى ذلك إلى : - إرهاب الاقتصاد المصري. - زيادة معاناة أفراد الشعب المصري.	* كانت الأحوال الاقتصادية متدهورة بسبب : • اتباع سياسة الانفتاح الاقتصادي دون ضوابط علمية. • التطبيق غير السليم لسياسة الخصخصة وبيع مؤسسات الدولة بأقل من سعرها الحقيقي لصالح فئة معينة من رجال الأعمال وأدى ذلك إلى : - ارتفاع الأسعار. - انضمام آلاف العاملين (بعد خروجهم بنظام التقاعد المبكر) لصفوف البطالة من الشباب في وقفات احتجاجية.

١٤

- (١) ① محاصرة الإنجليز للملك فاروق بقصر غابدين (فبراير ١٩٤٢ م).
② هزيمة الجيش المصري في حرب فلسطين (١٩٤٨ م).
③ إصدار قانون الإصلاح الزراعي الأول (سبتمبر ١٩٥٢ م).
④ اتفاقية الجلاء بين مصر وبريطانيا (أكتوبر ١٩٥٤ م).
(٢) ① صدور وعد بلفور (١٩١٧ م).
② مؤتمر سان ريمو بإيطاليا (١٩٢٠ م).
③ موافقة هيئة الأمم المتحدة على تقسيم فلسطين (١٩٤٧ م).
④ إعلان قيام دولة إسرائيل (١٥ مايو ١٩٤٨ م).
⑤ حرب فلسطين «الحرب العربية الإسرائيلية» (١٩٤٨ م).
(٣) ① الانتداب البريطاني على فلسطين (١٩٢٠ م).
② حرب الاستنزاف بين مصر وإسرائيل (١٩٦٩ م : ١٩٧٠ م).
③ عودة طابا للسيادة المصرية (مارس ١٩٨٩ م).
④ مؤتمر مدريد للسلام (١٩٩١ م).
(٤) ① تنازل الملك فاروق عن العرش (١٩٥٢ م).
② عدوان ٥ يونيو على مصر (١٩٦٧ م).
③ مؤتمر كامب ديفيد (سبتمبر ١٩٧٨ م).
④ انسحاب إسرائيل من سيناء (٢٥ أبريل ١٩٨٢ م).
(٥) ① مؤتمر سان ريمو بإيطاليا (١٩٢٠ م).
② مؤتمر باندونج بإندونيسيا (١٩٥٥ م).
③ العدوان الثلاثي على مصر (١٩٥٦ م).

(٤) أجب بالرجوع إلى المفكرة ص ٦٩ دلل.

(٥) حيث تم :

- تحديد ساعات العمل وإشراك العمال في مجالس إدارة الشركات والمصانع وتحديد نسبة لهم من الأرباح.
- إصدار قوانين للتأمينات الاجتماعية والمعاشات للموظفين والعمال.

(٦) أجب بالرجوع إلى المفكرة ص ٦٨ دلل.

(٧)، (٨) أجب بالرجوع إلى المفكرة ص ٧٠ دلل.

- (٩) حيث قام اليهود بتقوية قواتهم من حيث العدد والتسليح والتدريب وبعد استئناف القتال ظهر تفوق اليهود على جميع جبهات القتال مما أدى إلى تراجع وهزيمة القوات العربية.

(١٠) : (١٢) أجب بالرجوع إلى المفكرة ص ٧١ دلل.

- (١٣) حيث قرر وزراء النفط العربي في اجتماعهم بالكويت خفض إنتاج البترول وحظر الصادرات النفطية إلى الولايات المتحدة الأمريكية خاصة عندما طلب الرئيس الأمريكي مساعدات عاجلة لإسرائيل.

(١٤) : (١٦) أجب بالرجوع إلى المفكرة ص ٧٢ دلل.

(١٧)، (١٨) أجب بالرجوع إلى المفكرة ص ٧٣ دلل.

- (١٩) حيث استمرت الثورة ثمانية عشر يوماً حدث خلالها :
- اضطراب أمنى شديد قابله المجتمع المصري بكل فئاته بتشكيل اللجان الشعبية.

- الاستعانة بالقوات المسلحة المصرية لضمان حماية المواطنين والممتلكات.

- اتخاذ نظام مبارك بعض الإجراءات لامتصاص غضب الجماهير ولكنها لم تمنع استمرار المظاهرات.

ونتيجة لذلك اضطر الرئيس مبارك التخلي عن الرئاسة في ١١ فبراير ٢٠١١ م.

(٢٠) أجب بالرجوع إلى المفكرة ص ٦٣ بم تفسر.

١٣

(١) أجب بالرجوع إلى المفكرة ص ٥٣ أهم المخططات.

(٢) أجب بالرجوع إلى المفكرة ص ٥٢ ، ٥٤ أهم المخططات.

(٣) أجب بالرجوع إلى المفكرة ص ٥٥ ، ٥٦ أهم الحروب (أسباب ونتائج العدوان الثلاثي ١٩٥٦ م، وعدوان ٥ يونيو ١٩٦٧ م).

الوحدة 4

امتحان تراكمي 15

١

- (١) (١) الحكم المطلق.
 (٢) الحد من صلاحياته في الحكم.
 (٣) خليج العقبة. (٤) الاجتماعي.
 (ب) اتخذت حكومة الانتداب البريطاني في فلسطين عدة إجراءات لتنفيذ وعد بلفور تمثلت في :
 - السماح بهجرة أعداد كبيرة من اليهود من جميع أنحاء العالم إلى فلسطين.
 - السماح بانتقال ملكية الأراضي من عرب فلسطين عن طريق الشراء إلى اليهود.
 (ج) كان سيؤدي ذلك إلى :
 - تحرير الأراضي العربية التي احتلتها إسرائيل عام ١٩٦٧م.
 - لم تحدث حرب أكتوبر ١٩٧٣م.
 - إنهاء حالة الحرب بين إسرائيل والعرب.
 (د) أجب بالرجوع إلى المفكرة ص ٦٥ ما النتائج.

٢

- (١) (١) قانون الإصلاح الزراعي الأول. (٢) الدستور.
 (٢) الدستور الدائم (دستور عام ١٩٧١م).
 (ب) يترك للطالب حرية الإجابة في ضوء :
 يُعد من إنجازات ثورة ٢٣ يوليو ١٩٥٢م في المجال السياسي وقد أصبحت شركة قناة السويس البحرية منذ صدور هذا القرار شركة مصرية بإدارة مصرية وبذلك تم إرجاع حق المصريين.
 (ج) (١) حيث تم :
 - اتباع سياسة الانفتاح الاقتصادي دون ضوابط علمية.
 - التطبيق غير السليم لسياسة الخصخصة مما أدى إلى :
 ♦ ارتفاع الأسعار.
 ♦ تجمع آلاف العاملين وانضمامهم لصفوف البطالة من الشباب في وقفات احتجاجية.
 (٢) أجب بالرجوع إلى المفكرة ص ٨٢ دلل.
 (٣) أجب بالرجوع إلى المفكرة ص ٨٤ دلل.
 (د) أجب بالرجوع إلى المفكرة ص ٦٠ بم تفسر.

- ④ توقيع معاهدة السلام المصرية الإسرائيلية (١٩٧٩م).
 ⑤ توقيع اتفاقية أوسلو (١٩٩٣م).

١٥

- ① (١) إنجاز في المجال السياسي.
 (٢) إنجاز في المجال العربي والدولي.
 (٣) إنجاز في المجال الاقتصادي.
 (٤) إنجاز في المجال الاجتماعي.
 ② (١) ، (٢) أجب بالرجوع إلى المفكرة ص ٥٢ أهم المخططات.
 (٣) - مساندة الدول العربية والأفريقية لنيل الاستقلال، مثل : السودان، الجزائر، تونس، المغرب، الكويت، العراق، اليمن، كينيا.
 - تأييد ومساندة حقوق الشعب الفلسطيني في إقامة دولة مستقلة عاصمتها القدس الشريف.
 - تحقيق أول تجربة للوحدة العربية وكانت بين مصر وسوريا في فبراير ١٩٥٨م.
 ③ (١) أجب بالرجوع إلى المفكرة ص ٥٧ ما المقصود.
 (٢) ظهر اهتمام ثورة يوليو ١٩٥٢م بالتعليم من خلال مجانية التعليم حيث جعلت جميع مراحل التعليم بما فيها الجامعي بالمجان.
 (٣) ، (٤) أجب بالرجوع إلى المفكرة ص ٦٩ دلل.
 ④ (١) ، (٢) أجب بالرجوع إلى المفكرة ص ٥٢ أهم المخططات.
 ⑤ (١) أجب بالرجوع إلى المفكرة ص ٧١ دلل.
 (٢) أجب بالرجوع إلى المفكرة ص ٥٦ أهم الحروب (النتائج والدروس المستفادة من حرب أكتوبر ١٩٧٣م).
 (٣) أجب بالرجوع إلى المفكرة ص ٧١ دلل.
 ⑥ (١) أجب بالرجوع إلى المفكرة ص ٥٥ ، ٥٦ أهم الحروب (أسباب العنوان الثلاثي ١٩٥٦م).
 (٢) أجب بالرجوع إلى المفكرة ص ٦١ بم تفسر.
 (٣) أجب بالرجوع إلى المفكرة ص ٧٠ دلل.
 (٤) أجب بالرجوع إلى المفكرة ص ٧٣ دلل.
 ⑦ (١) كان تزوير الانتخابات البرلمانية عام ٢٠١٠م لصالح الحزب الوطني وخلق مجلس الشعب من أي معارضة وطنية تذكر سبباً في قيام ثورة ٢٥ يناير ٢٠١١م
 (٢) أجب بالرجوع إلى المفكرة ص ٦٣ بم تفسر.
 (٣) يترك للطالب حرية الإجابة في ضوء :
 - القضاء على الفوارق بين طبقات المجتمع.
 - الاهتمام بالطبقات الفقيرة.
 - توفير فرص عمل للشباب.
 - الاهتمام بالخدمات الصحية والتعليمية.
 ⑧ (١) أجب بالرجوع إلى المفكرة ص ٦٣ بم تفسر.
 (٢) أجب بالرجوع إلى المفكرة ص ٦٧ ما النتائج.

امتحان تراكمي 16

١

- (١) محكمة العدل الدولية. (٢) مصر.
(٣) جميلة حافظ. (٤) مجانية التعليم.
(ب) ① حصار القوات الإنجليزية لقصر عابدين (١٩٤٢م).
② إنشاء جامعة الدول العربية (١٩٤٥م).
③ إعلان قيام الجمهورية في مصر (١٩٥٣م).
④ تأميم شركة قناة السويس (١٩٥٦م).
(ج) أجب بالرجوع إلى المفكرة ص ٨١ قارن بين.
(د) (١)، (٢) أجب بالرجوع إلى المفكرة ص ٨٥ دلل.

٢

- (١) (١) صواب. (٢) صواب.
(٣) خطأ : ... دولية ... (٤) صواب.
(ب) (١) الحياة النيابية. (٢) البرلمان.
(٣) الاتحاد الأفريقي. (٤) مجلس الوصاية.
(ج) (١) أجب بالرجوع إلى المفكرة ص ٦٦ ما النتائج.
(٢) ترتب على ذلك إحداث ثغرة في منطقة الدفرسوار.
(د) (١) كان سيؤدي ذلك إلى :
- عدم استيلاء إسرائيل على معظم الأراضي الفلسطينية.
- لم يتم تقسيم القدس بين العرب واليهود.
- قيام دولة فلسطين على كامل أراضيها.
(٢) لم يتم التوصل إلى إطار اتفاق (معاهدة)
للسلام بين مصر وإسرائيل.

أسئلة عامة على الوحدة الرابعة

١

- (١) دستور ١٩٥٦م. (٢) مدرسة السنية.
(٣) مجلة الريحانة. (٤) حكمت أبو زيد.

٢

- (١) المشورة - العالى. (٢) شورى النواب.
(٣) الأمة. (٤) الدستور الدائم.
(٥) الاتحاد الأفريقي. (٦) محكمة العدل الدولية.

٣

- (١) المجلس العالى. (٢) جمال عبدالناصر.
(٣) الأمة. (٤) الحكومة.
(٥) الصحافة. (٦) هدى شعراوى.

- (٧) آمال عثمان. (٨) السعودية.
(٩) مجلس الجامعة. (١٠) مجلس الجامعة.
(١١) الاتحاد الأفريقي. (١٢) باندونج.
(١٣) المجلس الاقتصادي والاجتماعي.
(١٤) نيويورك.

٤

- (١) : (٥) صواب.
(٦) خطأ : ... التشريعية ... (٧) صواب.
(٨) خطأ : ... دستور ١٩٥٦م. (٩) : (١٣) صواب.
(١٤) خطأ : ... بأغلبية الثلثين ... (١٥) صواب.
(١٦) خطأ : ... المسئول عن حفظ السلام والأمن الدوليين وله
سلطة قانونية على حكومات الدول الأعضاء.
(١٧) خطأ : سلطة مجلس الأمن ... (١٨) صواب.
(١٩) خطأ : ... جنيف بسويسرا.

٥

- (١) مدرسة السنية. (٢) التنفيذية.
(٣) عائشة راتب. (٤) مصر.
(٥) الرباط. (٦) نيويورك.
(٧) اليونيسيف.

٦

- (١) الدستور. (٢) الحياة النيابية.
(٣) برلمان. (٤) مجلة الريحانة.
(٥) منظمات المجتمع المدني.
(٦) مجلس الجامعة. (٧) الجمعية العامة.
(٨) محكمة العدل الدولية. (٩) مجلس الأمن.
(١٠) منظمة الصحة العالمية.
(١١) منظمة الأغذية والزراعة (الفاو).
(١٢) اليونسكو. (١٣) مجلس الوصاية.
(١٤) حركة عدم الانحياز.

٧

- (١) ، (٢) الخديو إسماعيل.
(٣) جميلة حافظ. (٤) هدى شعراوى.
(٥) الرئيس محمد أنور السادات.

٨

- (١) أجب بالرجوع إلى المفكرة ص ٨١ بم تفسر.
(٢) أجب بالرجوع إلى المفكرة ص ٨٢ بم تفسر.

٥) تكوين البرلمان المصري من مجلس النواب ومجلس الشيوخ.

٤) إلغاء ثورة ٢٣ يوليو للأحزاب السياسية القائمة آنذاك.

٥) صدور الدستور الدائم.

(٢) ١) إنشاء أول مدرسة لتعليم البنات (١٨٧٣م).

٢) تشكيل لجنة الوفد المركزية للسيدات (١٩٢٠م).

٣) التحاق المرأة بالجامعة المصرية لأول مرة (١٩٢٨م).

٤) إنشاء مجلس الأمة (١٩٥٧م).

٥) تعيين أول وزيرة للشئون الاجتماعية (١٩٦٢م).

٦) ١) حركة عدم الانحياز (١٩٥٥م).

٢) منظمة الصحة العالمية (١٩٤٨م).

٣) جامعة الدول العربية (١٩٤٥م).

٤) مجلس شورى النواب (١٨٦٦م).

٧) أجب بالرجوع إلى الفكرة ص ٧٧ أهم المخططات.

٤) ١) أجب بالرجوع إلى الفكرة ص ٨٤ دلل.

٢) ، (٣) ، (٧) أجب بالرجوع إلى الفكرة ص ٧٨ أهم المخططات.

(٤) : (٦) أجب بالرجوع إلى الفكرة ص ٨١ قارن بين.

٥) ترتب على ذلك حصول المرأة على حق الانتخاب والترشح

لمجلس الأمة عام ١٩٥٦م فأصبحت عضواً بالبرلمان المصري.

٦) ١) أثرت ثورة ١٩١٩م على دور المرأة في العمل

الوطني من خلال :

- مشاركة المرأة بصورة لم يعهدها المجتمع

المصري إلى جانب الرجل في المظاهرات

عقب نفى سعد زغلول في مارس ١٩١٩م.

- تشكيل المرأة لجنة الوفد المركزية للسيدات عام

١٩٢٠م وانتخبته هدى شعراوى رئيساً لها.

(٢) حيث قامت منظمة اليونسكو بالمساهمة في :

- إنقاذ معابد أبى سمبل عام ١٩٦٤م.

- إحياء مكتبة الإسكندرية.

وبذلك حافظت على التراث الحضارى والثقافى لمصر.

٧) يترك للطالب حرية الإجابة في ضوء :

أن مصر لها دور رائد فى إنشاء دور منظمة

الاتحاد الأفريقى وإزالة العقبات أمامها حرصاً

منها على مصلحة أبناء القارة الأفريقية.

٨) ١) مدينة نيويورك.

(٢) أجب بالرجوع إلى الفكرة ص ٧٨ أهم المخططات.

(٣) أجب بالرجوع إلى الفكرة ص ٨٠ قارن بين.

(٤) لأنها :

- قامت بإنشاء جامعة الدول العربية.

- أسهمت فى تأسيس منظمات إقليمية لتعزيز

التعاون الدولى ، مثل : حركة عدم الانحياز ،

ومنظمة المؤتمر الإسلامى ، والاتحاد الأفريقى.

(٥) أجب بالرجوع إلى الفكرة ص ٨١ بم تفسر.

(٦) أجب بالرجوع إلى الفكرة ص ٨٠ قارن بين.

(٧) ، (١٠) أجب بالرجوع إلى الفكرة ص ٨٢ بم تفسر.

(٨) ، (٩) ، (١١) ، (١٢) أجب بالرجوع إلى الفكرة ص ٨١ قارن بين.

٩

(١) - لم تصبح المرأة عضواً بالبرلمان المصرى نتيجة لعدم

إعطائها حق الانتخاب والترشح فى دستور ١٩٥٦م.

- لم تتولى المرأة المناصب الوزارية وبالتالي لم

يتم تعيين حكمت أبو زيد أول وزيرة للشئون

الاجتماعية عام ١٩٦٢م.

- لم يكن للمرأة حق المشاركة فى النقابات العمالية

والمهنية والمنظمات غير الحكومية.

(٢) لم يكن لمنظمة اليونسكو دور فى المساهمة فى

العديد من المشروعات المصرية ، مثل :

- إنقاذ معابد أبى سمبل فى عام ١٩٦٤م.

- إحياء مكتبة الإسكندرية.

١٠

(١) : (٤) أجب بالرجوع إلى الفكرة ص ٧٩ ما المقصود.

(٥) ، (٦) أجب بالرجوع إلى الفكرة ص ٨٠ قارن بين.

١١

(١) : (٣) أجب بالرجوع إلى الفكرة ص ٨٣ دلل.

(٤) ، (٥) أجب بالرجوع إلى الفكرة ص ٨٤ دلل.

(٦) ، (٨) : (١٠) أجب بالرجوع إلى الفكرة ص ٨٥ دلل.

(٧) أجب بالرجوع إلى الفكرة ص ٨٠ قارن بين.

١٢

(١) ، (٢) أجب بالرجوع إلى الفكرة ص ٨٠ قارن بين.

(٣) أجب بالرجوع إلى الفكرة ص ٨١ قارن بين.

١٣

١) ١) إنشاء مجلس المشورة.

٢) إنشاء سلطات الاحتلال لمجلس شورى

القوانين والجمعية العمومية.

محافظة القاهرة

١

١

(١) (١) الزراعة البسيطة (البدائية).

(٢) أستراليا.

(٣) إقليم شمال شرق الولايات المتحدة الأمريكية.

(٤) الهند.

(ب) (١) أجب بالرجوع إلى المفكرة ص ١٥ بم تفسر.

(٢) أجب بالرجوع إلى المفكرة ص ٢٧ بم تفسر.

(ج) (١) مدينة لاجوس. (٢) المطاط الطبيعي.

٢

(١) (١) قصب السكر. (٢) آسيا. (٣) برلين.

(٤) السعودية. (٥) الرياح. (٦) النيجر.

(ب) (١) أجب بالرجوع إلى المفكرة ص ١٦ بم تفسر.

(٢) أجب بالرجوع إلى المفكرة ص ١٤ بم تفسر.

٣

(١) (١) صواب. (٢) خطأ.

(٣) صواب. (٤) صواب.

(٥) خطأ. (٦) خطأ.

(ب) (١) أجب بالرجوع إلى المفكرة ص ٥٦ أهم الحروب (النتائج).

(٢) أجب بالرجوع إلى المفكرة ص ٦٧ ما النتائج.

٤

(١) (١) مصطفى النحاس.

(٢) المشير أحمد إسماعيل.

(٣) الفريق أول عبدالمنعم رياض.

(٤) كارتر. (٥) هدى شعراوي.

(٦) الخديو إسماعيل.

(ب) (١) أجب بالرجوع إلى المفكرة ص ٥٧ ما المقصود.

(٢) أجب بالرجوع إلى المفكرة ص ٨٠ قارن بين (المفهوم).

(ج) (١) يترك للطالب حرية الإجابة في ضوء :

تم الاستعانة بالقوات المسلحة المصرية بهدف :

- حماية وتأمين الممتلكات (العامة والخاصة).

- المحافظة على أمن المواطنين.

محافظة الجيزة

٢

١

(١) (١) الدكن. (٢) البنغال.

(٣) بومباي. (٤) باكستان.

(ب) (١) الزراعة الكثيفة. (٢) المطاط الطبيعي.

(٣) إقليم شمال شرق الولايات المتحدة الأمريكية.

(ج) (١) أجب بالرجوع إلى المفكرة ص ١٦ بم تفسر.

(٢) أجب بالرجوع إلى المفكرة ص ٣٥ بم تفسر.

(٣) بسبب اتساعها وامتدادها من الشمال للجنوب.

٢

(١) (١) صواب. (٢) صواب. (٣) صواب.

(٤) صواب. (٥) خطأ.

(ب) (١) أجب بالرجوع إلى المفكرة ص ١٤ بم تفسر.

(٢) يتمثل وجه الشبه بينهما في :

- كلاهما من مصادر الطاقة التي تستخرج

من باطن الأرض.

- كلاهما يتم استخدامهم في توليد الكهرباء الحرارية.

(٣) حيث إن الدول المتقدمة هي الدول التي تطورت

فيها الصناعة تطوراً مذهباً أخذت بالأساليب

العلمية وتطبيق الأبحاث والتجارب العلمية

في الاختراع وتطوير وتحديث المنتجات

الصناعية بشكل مستمر.

٣

(١) (١) تأمين شركة قناة السويس.

(٢) تقسيم فلسطين. (٣) خليج العقبة.

(٤) التحكيم الدولي.

(٥) محكمة العدل الدولية.

(ب) (١) أجب بالرجوع إلى المفكرة ص ٧٣ دلل.

(٢) أجب بالرجوع إلى المفكرة ص ٨٤ دلل.

(ج) (١) لن يتم التوصل إلى إطار اتفاق (معاهدة) للسلام

بين مصر وإسرائيل.

٤

- (١) جمال عبدالناصر.
(٢) روجرز وزير خارجية الولايات المتحدة الأمريكية.
(٣) المشير أحمد إسماعيل.
(٤) الخديو إسماعيل. (٥) حكمت أبو زيد.
(ب) (١) أجب بالرجوع إلى المفكرة ص ٦٠ بم تفسر.
(٢) أجب بالرجوع إلى المفكرة ص ٥٢ أهم المخططات.
(٣) أيدت مصر اتفاقية أوسلو للسلام عام ١٩٩٣ وما حدث من اتفاقيات أخرى تتعلق بالانسحاب الإسرائيلي من الأراضي المحتلة وإقامة السلطة الوطنية الفلسطينية.

محافظة الإسكندرية

٣

١

- (١) (١) غينيا. (٢) لاجوس.
(٣) چوس. (٤) النيجر.
(ب) (١) أجب بالرجوع إلى المفكرة ص ١٤ بم تفسر.
(٢) لأنها :

- القوى المحركة لحياة الإنسان في جميع المجالات.
- من الموارد الطبيعية المهمة التي لا غنى عنها على مستوى الاستخدامات البشرية المختلفة أو على مستوى الصناعة.
(٣) بسبب زيادة الطلب عليه وتعدد استخداماته ولأنه من مصادر الطاقة القابلة للنفاذ.
(٤) بسبب استخدام الطرق العلمية الحديثة وأحدث الآلات الزراعية.

- (ج) (١) الصين. (٢) البوكسيت.
(٣) الحيتان. (٤) أوروبا.

٢

- (١) (١) فرنسا. (٢) البحث.
(٣) ماليزيا. (٤) اللحوم الحمراء.
(٥) أمريكا الشمالية.
(ب) أجب بالرجوع إلى المفكرة ص ٤٧ : ٤٩ مقارنات عامة.
(ج) يترك للطالب حرية الإجابة في ضوء :
- استخدام الطرق الحديثة للرعى مثل الرعى بالرش والتنقيط.
- استخدام الأساليب التكنولوجية الحديثة لزيادة القدرة الإنتاجية للأرض الزراعية.

٢

- (١) (١) خطأ. (٢) صواب. (٣) خطأ.
(٤) صواب. (٥) صواب. (٦) صواب.
(ب) (١) أصبح اللواء محمد نجيب مسيطراً على جميع قطاعات الجيش المصري.
(٢) أدى ذلك إلى احتلال بريطانيا لها ثم أعلنت تأييدها فكرة إقامة وطن قومي لليهود في فلسطين/فأصدر وزير خارجيتها بلفور تصريح عام ١٩١٧م/ووضعتها تحت الانتداب.
(٣) أدى ذلك إلى :

- تصفية الخلافت العربية وتوحيد الصف العربي.
- الاستفادة من كل الموارد والإمكانات العربية المتاحة.

مما ساهم في نصر أكتوبر.

(٤) أدى ذلك إلى :

- النظر في القضايا التي تضعها الدول أمامها.
- تقديم الاستشارات القانونية للهيئات الدولية.

٤

- (١) (١) حركة عدم الانحياز. (٢) حرب فلسطين ١٩٤٨م.
(٣) سياسة الخصخصة. (٤) الخديو إسماعيل.
(٥) جامعة الدول العربية. (٦) الرئيس عبدالفتاح السيسي.
(ب) قدم روجرز وزير خارجية الولايات المتحدة الأمريكية مبادرة لوقف إطلاق النار في حرب الاستنزاف تمهيداً لحل النزاع سلمياً بين مصر وإسرائيل.
(ج) (١) أجب بالرجوع إلى المفكرة ص ٧٢ دلل.

- (٢) حيث قامت مصر بإغلاق خليج العقبة في وجه الملاحة الإسرائيلية في مايو ١٩٦٧م.
(٣) حيث : - تولى التخطيط والتنسيق على الجبهتين المصرية والسورية بدقة ومهارة .
- قاد خطة الخداع لصرف أنظار إسرائيل عن التجهيزات الهجومية.

محافظة القليوبية

٤

١

- (١) (١) النيجر. (٢) غينيا.
(٣) بنين. (٤) چوس.

- (٢) أجب بالرجوع إلى الفكرة ص ٧٢ دلل.
 (٤) حيث لجأت مصر إلى هيئة التحكيم الدولي لحل مشكلة طابا بعد حدوث خلاف بينها وبين إسرائيل على تعيين بعض علامات الحدود وقد أصدرت هيئة التحكيم حكمها لصالح مصر وعادت طابا إلى السيادة المصرية.
 (ج) (١) لم تشترك فرنسا في العدوان الثلاثي على مصر عام ١٩٥٦ م.
 (٢) - لم يتم حماية المنشآت والمناطق.
 - لاستمر تعرض البلاد لأعمال السرقة والحرق والترويع.

٤

- (١) (١) الملك فاروق. (٢) جمال عبدالناصر.
 (٣) محمد أنور السادات.
 (٤) محمد حسنى مبارك.
 (ب) (١) أجب بالرجوع إلى الفكرة ص ٦١ بم تفسر.
 (٢) أجب بالرجوع إلى الفكرة ص ٦٢ بم تفسر.
 (٣) أجب بالرجوع إلى الفكرة ص ٨١ بم تفسر.
 (ج) (١) أدى ذلك إلى حصول المرأة المصرية على حق الانتخاب والترشح فى دستور ١٩٥٦ م فأصبحت عضواً بالبرلمان المصرى.
 (٢) أجب بالرجوع إلى الفكرة ص ٨٥ دلل.
 (د) (١) يترك للطالب حرية الإجابة فى ضوء :
 أن تحقيق السلام يعمل على تنشيط حركة السياحة فى البلاد مما يؤدي إلى :
 - زيادة الدخل القومى.
 - توفير العملات الأجنبية.

محافظه الشرقية

٥

١

- (١) (١) الزراعة التجارية والعلمية. (٢) الصين.
 (٣) موريتانيا. (٤) الدكن.
 (ب) (١) توفير الاحتياجات المحلية.
 (٢) التعليم والبترول.
 (٣) الفحم. (٤) مصر.
 (ج) (١) البرازيل. (٢) أستراليا.
 (٣) الحرارية.

- (ب) (١) ، (٢) أجب بالرجوع إلى الفكرة ص ٨ ما المقصود.
 (٣) القوى المحركة لحياة الإنسان فى جميع المجالات ومن الموارد الطبيعية المهمة التى لا غنى عنها على مستوى الاستخدامات البشرية المختلفة أو على مستوى الصناعة.
 (ج) أدى انتشار التعليم فى دول وسط آسيا إلى قلة عدد القائمين على حرفة الرعى البدائى وتغير نشاطهم للعمل بالصناعة والزراعة والخدمات.
 (د) (١) : (٢) أجب بالرجوع إلى الفكرة ص ١٧ ما النتائج.
 (٤) أجب بالرجوع إلى الفكرة ص ٣٩ ما النتائج.

٢

- (١) (١) المطاط الطبيعى. (٢) المياه المالحة.
 (٣) السعودية. (٤) الموسمية.
 (ب) (١) : (٢) أجب بالرجوع إلى الفكرة ص ٥٠ مقارنات عامة (أهم المدن).
 (ج) يترك للطالب حرية الإجابة فى ضوء :
 - توفير رؤوس الأموال.
 - استخدام الوسائل التكنولوجية.
 - الارتقاء بالمستوى العلمى للأيدى العاملة.
 (د) (١) أجب بالرجوع إلى الفكرة ص ١٠ قارن بين.
 (٢) أجب بالرجوع إلى الفكرة ص ١٣ قارن بين.

٢

- (١) (١) محمد أنور السادات. (٢) سان ريمو.
 (٣) مجلس شورى القوانين. (٤) الثالثة.
 (ب) (١) حيث قامت ثورة ٢٣ يوليو ١٩٥٢ م ب :
 - تحديد ساعات العمل وإشراك العمال فى مجالس إدارة الشركات والمصانع.
 - تحديد نسبة من الأرباح للعمال.
 - إصدار قوانين للتأمينات الاجتماعية والمعاشات للعمال.
 (٢) حيث امتنعت بريطانيا عن التصويت وأعلنت إنها ستسحب قواتها وتنتهى انتدابها على فلسطين فى ١٤ مايو ١٩٤٨ م وعقب خروج آخر جندي بريطاني من فلسطين أعلن اليهود قيام دولة إسرائيل فى ١٥ مايو ١٩٤٨ م.

(د) (١) أدى وقوع قارة آسيا ضمن الإقليم الاستوائي والمدارى إلى إنتاجها لـ :

- قصب السكر (محصول مدارى حار).

- القطن (محصول مدارى وتعد أكبر القارات إنتاجاً له).

- المطاط الطبيعى (يستخرج من عصارة أشجار استوائية وتعد أولى القارات إنتاجاً له).

(٢) المقومات البشرية (الأسواق - الأيدي العاملة - السياسات الحكومية - النقل والمواصلات) أحد

العوامل التى ترتبط بقيام الصناعة وتطورها.

(٣) حيث تتمثل علاقة مصر وألمانيا فى النواحي الاقتصادية فى :

- تمويل ألمانيا لمحطات توليد الكهرباء من الرياح فى مصر.

- تصدر مصر لألمانيا «البترول والغاز الطبيعى

والملابس»، وتستورد مصر من ألمانيا

«الصناعات الكيماوية والآلات والسيارات».

٢

(١) (١) حيث تعد قارة آسيا أولى قارات العالم فى

تربية الأبقار، كما تعد بعض دولها، مثل :

- دولة الصين : أولى دول العالم فى تربية الأغنام

وإنتاجاً للحوم الحمراء (معظمها لحوم الخنازير).

- دولة الهند : أولى دول العالم إنتاجاً للألبان.

(٢) حيث تتمثل هذه العوامل فى :

- توافر الخبرات الفنية والعلمية فى صناعة

المراكب وأدوات الصيد والثلاجات.

- التوسع فى تربية الأسماك على أسس علمية.

(٣) حيث :

- يرتبط البترول فى وقتنا الحاضر بالتنمية

الاقتصادية والاجتماعية والعلاقات السياسية.

- يُشكل مع الغاز الطبيعى نحو ٥٥ ٪ من الطاقة

المستخدمة فى العالم.

(٤) حيث يتركز السكان فى الغرب والسهول الشمالية

وهضبة جوس لوجود الأراضى الزراعية

والمراعى ومناطق التعدين، بينما يقل السكان فى

دلتا نهر النيجر جنوب نيجيريا لوجود الغابات

الكثيفة والظروف المناخية القاسية.

(ب) (١) سوف تتمكن الدول النامية من تصنيع الألومنيوم ولن تصدر معدن البوكسيت إلى الدول المتقدمة كمادة خام مما يؤدي إلى زيادة الدخل القومى بها.

(٢) سيؤدي ذلك إلى التكامل فى الجوانب

الاقتصادية (الصناعية والتجارية) بين الدول

العربية وحمايتها جمركياً.

(٣) ستجج مصر فى تطبيق السياسات التنموية

المختلفة لتطوير الزراعة والصناعة.

(ج) (١) خليج البنغال.

(٢) المحيط الأطلنطى (خليج غينيا).

(٣) الدنمارك. (٤) بومباي.

(٥) لاجوس. (٦) برلين.

٣

(١) (١) صواب. (٢) صواب.

(٣) خطأ : ... حرب الاستنزاف. (٤) صواب.

(٥) خطأ : ... كامب ديفيد عام ١٩٧٨ م.

(ب) (١) أدى ذلك إلى :

- عدم وجود حياة ديمقراطية سليمة.

- سوء الأحوال الاجتماعية.

(٢) تدخلت الولايات المتحدة الأمريكية حيث

قدم وزير خارجيتها روجرز مبادرة عُرفت

بمبادرة روجرز لوقف إطلاق النار تمهيداً

لحل النزاع سلمياً.

(٣) أدى ذلك إلى إنشاء الخديو إسماعيل أول مدرسة

لتعليم البنات عام ١٨٧٣ م وهى مدرسة السنية.

(ج) (١)، (٢) أجب بالرجوع إلى المفكرة ص ٧٤ ما العلاقة.

٤

(١) (١) محمد أنور السادات.

(٢) معاهدة السلام عام ١٩٧٩ م.

(٣) مجلس شورى النواب.

(٤) مجلس الجامعة.

(ب) (١) أجب بالرجوع إلى المفكرة ص ٥٦ أهم الحروب (الأسباب).

(٢) أجب بالرجوع إلى المفكرة ص ٨٢ بم تفسر.

(٣) لأنها توفر المناخ الذى يحقق الوحدة الوطنية

من خلال توعية الأفراد بنبذ العنف.

٤

- (١) (١) عدلى منصور. (٢) حكمت أبو زيد.
(٣) منظمة اليونيسيف.
(٤) الفريق محمد عبدالغنى الجيسى.
(٥) محمد نجيب.

- (ب) (١) أجب بالرجوع إلى المفكرة ص ٦٧ ما النتائج.
(٢) أجب بالرجوع إلى المفكرة ص ٥٦ أهم الصروب (النتائج).
(ج) يتكلم الطالب حرية الإجابة فى ضوء :

كان لاستخدام البترول كسلح دوراً فى تحقيق النصر فى حرب أكتوبر ١٩٧٣م وذلك عندما أصدر وزراء النفط العربى قراراً فى اجتماعهم بالكويت نص على خفض إنتاج البترول وحظر الصادرات النفطية إلى الولايات المتحدة الأمريكية خاصة عندما طلب الرئيس الأمريكى مساعدات عاجلة لإسرائيل.

محافظة الغربية

١

- (١) (١) الصين. (٢) الولايات المتحدة الأمريكية.
(٣) البرازيل. (٤) أفريقيا.
(ب) (١) أوروبا وأمريكا الشمالية.
(٢) أمريكا الجنوبية.
(٣) الكاكاو. (٤) النرويج.
(ج) (١) أجب بالرجوع إلى المفكرة ص ١٦ بم تفسر.
(٢) أجب بالرجوع إلى المفكرة ص ٢١ بم تفسر.
(٣) أجب بالرجوع إلى المفكرة ص ٣٥ بم تفسر.
(٤) بسبب اتساع مساحة الولايات المتحدة الأمريكية وتنوع تضاريسها.

٢

- (١) (١) خطأ : يرتفع معدل استهلاك المعادن فى الدول المتقدمة عن الدول النامية.
(٢) صواب.
(٣) خطأ : ... تقل الأمطار.
(٤) خطأ : ... الزراعة الواسعة ...
(٥) صواب.
(٦) خطأ : ... البترول والغاز الطبيعى والفحم ...
(ب) (١) أجب بالرجوع إلى المفكرة ص ٣٦ دلل.

(ج) (١) حركة عدم الانحياز.

(٢) منظمة الأغذية والزراعة (الفاو).

(٣) دستور ٢٠١٤م.

محافظة المنوفية

٦

١

- (١) (١) بنين. (٢) غينيا.
(٣) أبوجا. (٤) النيجر.

(ب) (١) سبق إجابته.

(٢) أجب بالرجوع إلى المفكرة ص ١٦ بم تفسر.

(ج) (١) حيث يُعد تدفق البترول سبباً فى توطين البدو الأمر الذى أدى إلى قلة عدد القانمين بحرفة الرعى البدائى فى شبه الجزيرة العربية وبادية الشام.

(٢) شكل الفحم عماد الثورة الصناعية فى أوروبا أواخر القرن الـ ١٨م.

٢

- (١) (١) الشمال. (٢) نيو إنجلند.
(٣) الذرة.
(٤) الولايات المتحدة الأمريكية.
(٥) السعودية.
(ب) (١) - إقليم شرق آسيا.
- إقليم روسيا وأوكرانيا.
(٢) أجب بالرجوع إلى المفكرة ص ٤٩ مقارنات عامة.

٣

- (١) (١) إندونيسيا. (٢) بريطانيا.
(٣) خط ألون. (٤) مدريد.
(٥) الأمة.

(ب) (١) أجب بالرجوع إلى المفكرة ص ٦٨ دلل.

(٢) أجب بالرجوع إلى المفكرة ص ٦١ بم تفسر.

(ج) اشتركت فرنسا فى العدوان الثلاثى على مصر ١٩٥٦م بسبب مساندة مصر لحركات التحرر الوطنى فى الجزائر.

- خبرة فنية وعلمية متطورة.
- سوق محلية وخارجية تستوعب الإنتاج.
- (٤) واجهتها بسياسات تنموية مختلفة حيث اهتمت بالتعليم وتطوير البحث العلمي مما أدى إلى تطوير الزراعة والصناعة.

٢

(١) (١) ترتب على ذلك وجود علاقات بين مصر وألمانيا :

- ثقافية وعلمية، تتمثل في :
 - ♦ هيئة التبادل العلمي الألمانية.
 - ♦ المركز الثقافي الألماني.
 - ♦ الجامعة الألمانية بالقاهرة.
 - ♦ معهد الآثار الألماني.
- اقتصادية، تتمثل في :
 - ♦ تمويل ألمانيا محطات توليد الكهرباء من الرياح في مصر.
 - ♦ تصدير مصر لألمانيا «البتترول والغاز الطبيعي والملابس» استيراد مصر من ألمانيا «الصناعات الكيماوية والآلات والسيارات».
- (٢) ترتب على ذلك احتلال الصين المركز الأول في إنتاج الأسماك حيث تنتج أكثر من ثلث الإنتاج العالمي من الأسماك.
- (٣) أجب بالرجوع إلى المفكرة ص ١٧ ما النتائج.
- (٤) ترتب على ذلك استخدامه في :
 - الصناعة على نطاق واسع.
 - الاستخدامات المنزلية.
 - توليد الطاقة الكهربائية (الكهرباء الحرارية).
 - وقود السيارات بديلاً للبنزين للحد من تلوث البيئة، وتوسع العالم في استخدامه كبديل لمصادر الطاقة الأخرى لأنه أقل تلويثاً للبيئة ورخيص الثمن وسهل النقل.

- (٢) أجب بالرجوع إلى المفكرة ص ١٧ ما النتائج.
- (٣) أجب بالرجوع إلى المفكرة ص ٨ ما المقصود.

٣

- (١) (١) حركة عدم الانحياز. (٢) محمد أنور السادات.
- (٣) تصفية الخلافات. (٤) مجلس الجامعة.
- (٥) الصحافة النسائية.
- (٦) الفريق سعد الدين الشاذلي.
- (ب) (١)، (٢) أجب بالرجوع إلى المفكرة ص ٦١ بم تفسر.
- (٣) أجب بالرجوع إلى المفكرة ص ٦٣ بم تفسر.
- (٤) أجب بالرجوع إلى المفكرة ص ٨٢ بم تفسر.

٤

- (١) (١) صواب.
- (٢) خطأ : ... بريطانيا ...
- (٣) خطأ : ... السياسي. (٤) صواب.
- (٥) خطأ : ... مرحلة الصمود والتصدي.
- (٦) خطأ : ... الرباط ...
- (ب) (١) أجب بالرجوع إلى المفكرة ص ٥٦ أهم الحروب (الدروس المستفادة).
- (٢) أجب بالرجوع إلى المفكرة ص ٧٣ دلل.
- (٣) أجب بالرجوع إلى المفكرة ص ٧٤ ما العلاقة.

محافظة الدقهلية

٨

١

- (١) (١) (١) جوس. (٢) إبيادان.
- (٣) النيجر. (٤) بنين.
- (ب) (١) يتم إنتاج السكر من :
 - يزرع قصب السكر في المناطق المدارية ذات الحرارة المرتفعة كما في قارتى آسيا وأمريكا الجنوبية.
 - بنجر السكر والذي يزرع في المناطق المعتدلة كما في قارة أوروبا.
- (٢) - المقصود : أجب بالرجوع إلى المفكرة ص ٨ ما المقصود.
- الخصائص : أجب بالرجوع إلى المفكرة ص ٩ قارن بين.
- (٣) حيث يتوافر بها مقومات صناعته من :
 - طاقة كهربائية.

(ب)	الفهم	حركة المد والجزر
أنواع الكهرباء المتولدة	* الكهرباء الحرارية.	* الكهرباء المائية (الكهرومائية).
أهم الدول في الإنتاج	* الصين، * الولايات المتحدة، * الهند.	* بريطانيا، * فرنسا، * اليابان.

- (ب) (١) أجب بالرجوع إلى المفكرة ص ١٤ بم تفسر.
(٢) أجب بالرجوع إلى المفكرة ص ٣٥ بم تفسر.
(ج) أجب بالرجوع إلى المفكرة ص ٩ قارن بين.

٢

- (١) (١) البن. (٢) الجنوبي.
(٣) أمريكا الجنوبية. (٤) المغرب.
(٥) البترولية.

- (ب) (١) أجب بالرجوع إلى المفكرة ص ٦ أهم المخططات.
(٢) (١) أجب بالرجوع إلى المفكرة ص ١٧ ما النتائج.
(٢) أدى ذلك إلى لجوء الهند للطاقة النووية والكهربائية.
(٣) أجب بالرجوع إلى المفكرة ص ٥٠ مقارنات
عامة (أهم المدن).

٢

- (١) (١) خطأ. (٢) صواب. (٣) خطأ. (٤) صواب.
(ب) (١) حيث قامت هيئة عمليات القوات المسلحة بإعداد دراسة عن أنسب التوقيتات للقيام بالعمليات الهجومية على إسرائيل على الجبهتين المصرية والسورية مما كان له الأثر في انتصار الجيش المصري في حرب أكتوبر ١٩٧٣ م.
(٢) حيث حصلت المرأة المصرية على حق الانتخاب والترشح في دستور ١٩٥٦ م فأصبحت عضواً في البرلمان المصري وبذلك حصلت على حقوقها السياسية.

(ج) (١)

الأوضاع الاجتماعية بمصر التي أدت إلى قيام ثورة ٢٥ يناير ٢٠١١ م	الأوضاع الاجتماعية بمصر التي أدت إلى قيام ثورة ٢٣ يوليو ١٩٥٢ م
كانت الأوضاع الاجتماعية سيئة بسبب : * زيادة الفوارق الاجتماعية بين طبقات المجتمع. * غياب العدالة الاجتماعية في توزيع الثروات.	* الصراعات السياسية بين الأحزاب. * ظاهرة الإقطاع مما جعل فئة صغيرة تملك وتستبد مما أدى إلى انتشار ظاهرة الفقر والجهل والمرض.

(ج) يترك للطالب حرية الإجابة في ضوء :

- التوسع في إنشاء المصانع.
- زيادة فتح أسواق لمصر في الخارج.
- الاهتمام بالبحث العلمي وتطوير الآلات في مجال التصنيع.

(د) (١) مراكز صناعية حديثة.

- (٢) إقليم شرق آسيا.
(٣) إقليم روسيا وأوكرانيا.
(٤) إقليم غرب ووسط أوروبا.

٢

- (١) (١) أمريكية. (٢) تصريح (وعد) بلفور.
(٣) محكمة العدل الدولية. (٤) الاستنزاف.
(ب) (١) أجب بالرجوع إلى المفكرة ص ٦١ ما النتائج.
(٢) أجب بالرجوع إلى المفكرة ص ٦٣ بم تفسر.
(٣) أجب بالرجوع إلى المفكرة ص ٧٠ دلل.
(٤) أجب بالرجوع إلى المفكرة ص ٦٧ دلل.

٤

- (١) (١) الدفرسوار. (٢) الجلاء.
(٣) عدوان ١٩٦٧ م. (٤) الرباط.
(ب) (١) قام بإنشاء أول مدرسة لتعليم البنات عام ١٨٧٣ م وهي مدرسة السنية بعد استجابته لدعوة رفاة الطهطاوى.
(٢) حيث تبنت القضايا النسائية التي تدافع عن حقوق المرأة ومكانتها عن طريق الصحافة النسائية فأصدرت أول مجلة نسائية مصرية هي الريحانة في فبراير ١٩٠٧ م التي تحولت إلى جريدة في مارس ١٩٠٨ م.
(٣) أجب بالرجوع إلى المفكرة ص ٦٩ دلل.
(ج) (١) مدينة روما بإيطاليا.
(٢) مدينة نيويورك بالولايات المتحدة الأمريكية.

محافظة الإسماعيلية

٩

١

- (١) (١) (١) التشيك.
(٢) (٢) (٢) (٤)
(٣) (٣) (٣) (٦)
(٤) (٤) (٤) (٦)
(٥) (٥) (٥) (٦)

(٢) حيث قامت القوات المسلحة المصرية بتدمير خط الدفاع الإسرائيلي (خط بارليف أسطورة إسرائيل) في ست ساعات، وكذلك قامت القوات المسلحة السورية بتدمير خط الدفاع الإسرائيلي خط ألون في هضبة الجولان والذي يماثل خط بارليف.

٤

- (١) (١) معركة رأس العرش.
(٢) الولايات المتحدة الأمريكية.
(٣) المستشار عدلى منصور.
(٤) مجلس الأمن.
(ب) (١) أجب بالرجوع إلى المفكرة ص ٧٠ دل.
(٢) حيث :

- هدد الاتحاد السوفيتى (سابقاً) بالتدخل لوقف العدوان.
- رفضت الولايات المتحدة الأمريكية استخدام القوة في حل النزاعات.
- قامت الأمم المتحدة بالتنديد بالعدوان.
- (٣) أجب بالرجوع إلى المفكرة ص ٨١ بم تفسر.
- (٤) يترك للطالب حرية الإجابة في ضوء :
مساهمة منظمة اليونسكو في :
- إنقاذ معابد أبو سمبل عام ١٩٦٤م.
- إحياء مكتبة الإسكندرية.

محافظة السويس

١٠

١

- (١) (١) الأطلنطى. (٢) سيرانيقادا.
(٣) الميسيسى. (٤) كندا.
(ب) (١) أجب بالرجوع إلى المفكرة ص ١٤ بم تفسر.
(٢) أجب بالرجوع إلى المفكرة ص ١٥ بم تفسر.
(٣) أجب بالرجوع إلى المفكرة ص ٢٧ بم تفسر.
(ج) (١) الألومنيوم. (٢) أبوجا. (٣) آسيا.

٢

- (١) (١) القمح. (٢) ولاية هاواي.
(٣) الفحم.
(ب) (١) الموقع المتميز. (٢) روسيا وأوكرانيا.

- (٣) حيدر أباد. (٤) المداى.
(٥) مصر.

(ج) أجب بالرجوع إلى المفكرة ص ٥٠ مقارنات عامة (أهم المدن).

٢

- (١) (١) صواب. (٢) خطأ. (٣) صواب.
(٤) صواب. (٥) صواب.
(ب) (١) قانون الإصلاح الزراعى الأول.
(٢) الدستور.
(٣) حركة عدم الانحياز.
(٤) تنظيم الضباط الأحرار.
(ج) أجب بالرجوع إلى المفكرة ص ٦٢ بم تفسر.

٤

- (١) (١) محمد نجيب. (٢) محمد أنور السادات.
(٣) جميلة حافظ. (٤) محمد على.
(ب) (١) أجب بالرجوع إلى المفكرة ص ٦٥ ما النتائج.
(٢) أجب بالرجوع إلى المفكرة ص ٦٦ ما النتائج.
(ج) (١) مجانية التعليم. (٢) بورسعيد.
(٣) عدوان يونيه ١٩٦٧م. (٤) نيويورك.

محافظة بورسعيد

١١

١

- (١) (١) الصين. (٢) أوروبا.
(٣) غينيا. (٤) برازيليا.
(ب) (١) أجب بالرجوع إلى المفكرة ص ١٧ ما النتائج.
(٢) وفرة الطاقة الكهربائية إحدى المقومات التي تتطلبها تحويل البوكسيت إلى ألومنيوم.
(٣) يترك للطالب حرية الإجابة في ضوء :
أن هذا الاتجاه سوف يؤدي إلى :
- تخفيف العبء على مصادر الطاقة الموجودة حالياً.
- إمكانية التوسع في الصناعات القائمة على الطاقة.
- الحفاظ على البيئة من التلوث.
(٤) أجب بالرجوع إلى المفكرة ص ٥٠ مقارنات عامة (أهم المدن).

- (٢) أدى ذلك إلى مساعدة إسرائيل في إحداث ثغرة في منطقة الدفرسوار.
- (٣) أجب بالرجوع إلى المفكرة ص ٧٤ ما العلاقة.
- (د) يترك للطالب حرية الإجابة في ضوء :
- شغلت المرأة المناصب الوزارية حيث عين الرئيس السادات الدكتورة عائشة راتب وزيرة للشئون الاجتماعية عام ١٩٧١م.
- شاركت المرأة في الحياة النيابية فشغلت الدكتورة أمال عثمان منصب رئيس اللجنة التشريعية بمجلس الشعب.

محافظة دمياط

١٢

- (١) (أ) البرازيل. (٢) شيلي.
- (٣) الولايات المتحدة الأمريكية. (٤) كندا.
- (ب) (١) ، (٢) أجب بالرجوع إلى المفكرة ص ١٦ بم تفسر.
- (٣) أجب بالرجوع إلى المفكرة ص ٢٧ بم تفسر.
- (٤) أجب بالرجوع إلى المفكرة ص ٣٥ بم تفسر.
- (ج) (١) آسيا. (٢) الكثيفة.
- (٣) أستراليا. (٤) رأس المال.
- (٢) (أ) (١) شرق آسيا. (٢) مصر.
- (٣) الأبلش. (٤) الصين.
- (ب) (١) مصدر الطاقة : الفحم.
- أكبر القارات المنتجة له : آسيا.
- (٢) يستخدم في الصناعة وتوليد الكهرباء (الكهرباء الحرارية).
- (٣) أجب بالرجوع إلى المفكرة ص ١٦ بم تفسر.
- (ج) أجب بالرجوع إلى المفكرة ص ٥٠ مقارنات عامة (أهم المدن).

٣

- (١) (أ) محمد أنور السادات.
- (٢) المستشار عدلى منصور.
- (٣) مجلس شورى النواب.
- (٤) منظمة الأغذية والزراعة (الفاو).
- (ب) (١) أجب بالرجوع إلى المفكرة ص ٧٤ ما العلاقة.

(٥)	البرازيل	نيجييريا
المناخ	يقعان ضمن نطاق المناخ المدارى الحار والمناخ الاستوائى.	
النبات الطبيعي	* تنمو بهما : • غابات استوائية. • حشائش السافانا.	

٢

- (١) (أ) شرق آسيا. (٢) الهند.
- (٣) نيجييريا. (٤) ولاية ألاسكا.
- (ب) (١) الفحم. (٢) جزيرة هنشو.
- (ج) (١) أدى ذلك إلى تغير نشاطهم للعمل فى الصناعة والزراعة والخدمات مما تسبب فى قلة أعداد القائمين على حرفة الرعى البدائى بقبائل وسط آسيا.
- (٢) أجب بالرجوع إلى المفكرة ص ١٧ ما النتائج.
- (د) (١) أجب بالرجوع إلى المفكرة ص ٤٤ دلل.
- (٢) أجب بالرجوع إلى المفكرة ص ١٦ بم تفسر.

٢

- (١) (أ) محمد نجيب. (٢) بورفؤاد.
- (٣) رقاعة الطهطاوى. (٤) لامهى.
- (ب) (١) أجب بالرجوع إلى المفكرة ص ٧٩ ما المقصود.
- (٢) أجب بالرجوع إلى المفكرة ص ٨٠ قارن بين (المفهوم).
- (ج) (١) أجب بالرجوع إلى المفكرة ص ٦١ بم تفسر.
- (٢) أجب بالرجوع إلى المفكرة ص ٦٣ بم تفسر.
- (د) (١) ، (٢) أجب بالرجوع إلى المفكرة ص ٧٣ ما العلاقة.

٤

- (١) (أ) قانون الإصلاح الزراعى الأول.
- (٢) مؤتمر باندونج.
- (٣) الرئيس عبدالفتاح السيسى.
- (٤) منظمة الأغذية والزراعة (الفاو).
- (ب) (١) حيث تم منح اسم الفريق سعد الدين الشاذلى قلادة النيل العظمى فى الذكرى ال ٣٩ لنصر أكتوبر.
- (٢) سبق إجابته.
- (ج) (١) أجب بالرجوع إلى المفكرة ص ٥٦ أهم الحروب (الأسباب).

١

- (١) (١) كندا. (٢) روكي.
(٣) الهادي (٤) المسيسي.
(ب) (١) أجب بالرجوع إلى المفكرة ص ٨ ما المقصود.
(٢) أجب بالرجوع إلى المفكرة ص ١٤ بم تفسر.
(٣) أجب بالرجوع إلى المفكرة ص ١٧ ما النتائج.
(٤) • إقليم وسط وغرب أوروبا.
• إقليم روسيا وأوكرانيا.
• إقليم شمال شرق الولايات المتحدة.
• إقليم شرق آسيا.
(ج) (١) القمح. (٢) الصين.
(٣) البرازيل. (٤) البوكسيت.

٢

- (١) (١) أستراليا.
(٢) السعودية.
(٣) ودول جنوب أفريقيا.
(٤) الحديد.
(ب) (١) ، (٢) أجب بالرجوع إلى المفكرة ص ١٤ بم تفسر.
(٣) ، (٤) أجب بالرجوع إلى المفكرة ص ١٦ بم تفسر.
(٥) أجب بالرجوع إلى المفكرة ص ٣٩ دلل.
(ج) أجب بالرجوع إلى المفكرة ص ٥٠ مقارنات عامة
(أهم المدن).

٢

- (١) (١) خطأ. (٢) صواب. (٣) خطأ. (٤) خطأ.
(ب) (١) أجب بالرجوع إلى المفكرة ص ٥٥ أهم الحروب (النتائج).
(٢) أدى ذلك إلى :
- تحطم أعداد كبيرة من الطائرات والمعدات العسكرية الإسرائيلية.
- عبور الدبابات والمدافع والآليات العسكرية المصرية بمختلف أنواعها.
(٣) أجب بالرجوع إلى المفكرة ص ٧٣ دلل.
(٤) أدى ذلك إلى :
- نجاح القوات المسلحة المصرية في هزيمة القوات الإسرائيلية عندما حاولت احتلال مدينة بورفؤاد في معركة رأس العش.

- (٢) لأنها تسببت في تدهور الأوضاع الاقتصادية بمصر مما أدى إلى قيام ثورة ٢٥ يناير ٢٠١١ م.
(٣) أجب بالرجوع إلى المفكرة ص ٨٥ دلل.
(ج) (١) حيث قامت ثورة ٢٣ يوليو ١٩٥٢ م بإصدار قوانين الإصلاح الزراعي للقضاء على الإقطاع أحد أهداف الثورة.
(٢) حيث قامت هيئة الأمم المتحدة بالموافقة على تقسيم فلسطين عام ١٩٤٧ م إلى ثلاث أقسام وهي :
- دولة عربية. - دولة يهودية.
- منطقة دولية في القدس.
فأعلن اليهود قيام دولة إسرائيل في ١٥ مايو ١٩٤٨ م عقب خروج آخر جندي بريطاني في ١٤ مايو ١٩٤٨ م.
(٣) حيث فكر الرئيس محمد أنور السادات بعد حرب أكتوبر ١٩٧٣ م في إنهاء الصراع العربي / الإسرائيلي سلمياً فبادر بزيارة إسرائيل عام ١٩٧٧ م وهناك نادى بالسلام العادل لكل شعوب المنطقة ودعا العالم كله إلى مساندته في التطلع إلى السلام الدائم.

٤

- (١) (١) سان ريمو. (٢) روجرز.
(٣) أوصلو. (٤) التنفيذية.
(ب) (١) لم تحدث ثورة ٢٣ يوليو ١٩٥٢ م وبالتالي لم يتم تحرير البلاد من الاحتلال ولم يتم القضاء على فساد النظام الملكي.
(٢) أدى ذلك إلى اشتراك فرنسا في العدوان الثلاثي على مصر عام ١٩٥٦ م.
(٣) أجب بالرجوع إلى المفكرة ص ٦٣ بم تفسر.
(ج) (١) حيث تم توقيع اتفاقية الجلاء مع بريطانيا في أكتوبر ١٩٥٤ م وتقرر فيها جلاء القوات الإنجليزية عن مصر خلال ٢٠ شهراً من توقيع الاتفاقية وبالفعل تم الجلاء عن مصر في يونيو ١٩٥٦ م بعد احتلال دام ٧٤ عام.
(٢) أجب بالرجوع إلى المفكرة ص ٧٢ دلل.
(٣) أجب بالرجوع إلى المفكرة ص ٨٣ دلل.

- (٣) أجب بالرجوع إلى المفكرة ص ١٦ بم تفسر.
 (٤) لأن الدول المتقدمة التى تطورت بها الصناعة أخذت بالأساليب العلمية، وطبقت الأبحاث والتجارب العلمية فى الاختراع وقامت بتطوير وتحديث المنتجات الصناعية بشكل مستمر.
 (٥) أجب بالرجوع إلى المفكرة ص ٣٩ بم تفسر.
 (ب) (١) الزراعة. (٢) تايلاند.
 (٣) اللحوم الحمراء. (٤) مصادر الطاقة.
 (٥) القصدير.

٢

- (١) (١) الملكى. (٢) الاجتماعى.
 (٣) عدلى منصور. (٤) السادات.
 (٥) الرباط.
 (ب) (١) أجب بالرجوع إلى المفكرة ص ٦٨ دال.
 (٢) أجب بالرجوع إلى المفكرة ص ٦٤ ما النتائج.
 (٣) أجب بالرجوع إلى المفكرة ص ٥٥ أهم الحروب (النتائج).
 (ج) (١) - عدم قيام العصائيات اليهودية المسلحة بطرد العرب من ديارهم وارتكاب المذابح مثل مذبحه (دير ياسين).
 - لم يعلن اليهود قيام دولة إسرائيل.
 - استمرار الانتداب البريطانى على فلسطين.
 (٢) استمرار الخلاف على تعيين مكان بعض علامات الحدود بين مصر وإسرائيل.

٤

- (١) (١) باندونج. (٢) الجوى.
 (٣) علمية. (٤) الأمة.
 (٥) نيويورك.
 (ب) (١) أجب بالرجوع إلى المفكرة ص ٧٠ دال.
 (٢) أجب بالرجوع إلى المفكرة ص ٥٦ أهم الحروب (الأسباب).
 (٣) أجب بالرجوع إلى المفكرة ص ٦٦ ما النتائج.
 (٤) أجب بالرجوع إلى المفكرة ص ٥٩ من هو.
 (٥) أجب بالرجوع إلى المفكرة ص ٥٤ أهم المخططات.

- تدمير المدمرة الإسرائيلية إيلات بالصواريخ البحرية المصرية فى أكتوبر ١٩٦٧م.
 (ج) (١) مبادرة روجرز. (٢) لجنة الوفد المركزية.

٤

- (١) (١) أجب بالرجوع إلى المفكرة ص ٦٨ دال.
 (٢) أجب بالرجوع إلى المفكرة ص ٦٠ بم تفسر.
 (٣) أجب بالرجوع إلى المفكرة ص ٧١ دال.
 (٤) أجب بالرجوع إلى المفكرة ص ٨٤ دال.
 (٥) تشابهت معاهدة السلام ١٩٧٩م مع قرار ٢٤٢ لعام ١٩٦٧م فى :
 - إنهاء حالة الحرب بين إسرائيل والعرب.
 - احترام سيادة دول المنطقة على أراضيها.
 - حرية الملاحة فى الممرات الدولية.
 - إنشاء مناطق منزوعة السلاح.
 - انسحاب إسرائيل من الأراضى التى احتلتها عام ١٩٦٧م.
 (٦) أجب بالرجوع إلى المفكرة ص ٦٣ بم تفسر.
 (ب) (١) أجب بالرجوع إلى المفكرة ص ٨١ قارن بين (الأهداف).
 (٢) أجب بالرجوع إلى المفكرة ص ٧٩ ما المقصود.

محافظة البحيرة

١٤

١

- (١) (١) باكستان. (٢) البنغال.
 (٣) الدكن. (٤) بومباى.
 (ب) (١) خطأ. (٢) صواب. (٣) صواب.
 (ج) (١) أجب بالرجوع إلى المفكرة ص ٨ ما المقصود.
 (٢) يترتب على ذلك تطور حرفة الصيد بمصايد الأسماك المنتشرة على سواحل القارات.
 (٣) أجب بالرجوع إلى المفكرة ص ٥ أهم المخططات.
 (٤) أجب بالرجوع إلى المفكرة ص ١٣ قارن بين.

٢

- (١) (١) أجب بالرجوع إلى المفكرة ص ١٤ بم تفسر.
 (٢) أجب بالرجوع إلى المفكرة ص ١٥ بم تفسر.

١

- (١) (١) مصر.
 (٢) الولايات المتحدة الأمريكية.
 (٣) الدكن.
 (٤) الأطلنطي.
 (ب) (١) القمح.
 (٢) الصين.
 (٣) الغاز الطبيعي.
 (٤) نيچيريا.

(ج) أدى ذلك إلى توطين البدو مما تسبب في قلة أعداد القائمين بحرفة الرعى البدائي في شبه الجزيرة العربية ويادية الشام.

٢

- (١) (١) المطاط.
 (٢) أوروبا.
 (٣) البوكسيت.
 (٤) بومباي.
 (٥) الهادي.

- (ب) (١) أجب بالرجوع إلى المفكرة ص ٢٨ دلل.
 (٢) أجب بالرجوع إلى المفكرة ص ٤٣ بم تفسر.
 (٣) أجب بالرجوع إلى المفكرة ص ٣٦ دلل.
 (ج) أجب بالرجوع إلى المفكرة ص ١٢ قارن بين.

٣

- (١) (١) السياسي.
 (٢) دير ياسين.
 (٣) محمد أنور السادات.
 (٤) التحكيم الدولي.
 (٥) بريطانيا وفرنسا وإسرائيل.

- (ب) (١) سبق إجابته.
 (٢) أجب بالرجوع إلى المفكرة ص ٦٤ ما النتائج.
 (ج) يترك للطالب حرية الإجابة في ضوء :

- تقديم بعض الدول العربية الدعم العسكري والمالي لمصر وسوريا.
 - قرار وزراء النفط العربي في اجتماعهم بالكويت بخفض إنتاج البترول وحظر الصادرات النفطية إلى الولايات المتحدة الأمريكية خاصة عندما طلب الرئيس الأمريكي مساعدات عاجلة لإسرائيل.
 مما ساهم في تحقيق نصر أكتوبر.

٤

- (١) (١) عبدالفتاح السيسي.
 (٢) المشير أحمد إسماعيل.
 (٣) جميلة حافظ.
 (٤) محمد حسنى مبارك.
 (٥) محمد نجيب.

(ب) (١) لم يتم :

- السماح بهجرة أعداد كبيرة من اليهود من جميع دول العالم إلى فلسطين.
 - السماح بانتقال ملكية الأراضي من عرب فلسطين إلى اليهود عن طريق الشراء.
 - إنشاء وطن قومي لليهود في فلسطين.
 (٢) لم تصبح شركة قناة السويس منذ يوليو ١٩٥٦ م شركة مصرية بإدارة مصرية وبالتالي استمرار الوجود الأجنبي داخل شركة القناة.
 (ج) أجب بالرجوع إلى المفكرة ص ٧٩ ما المقصود.

الامتحان

الدراسات
الاجتماعية

نماذج امتحانات

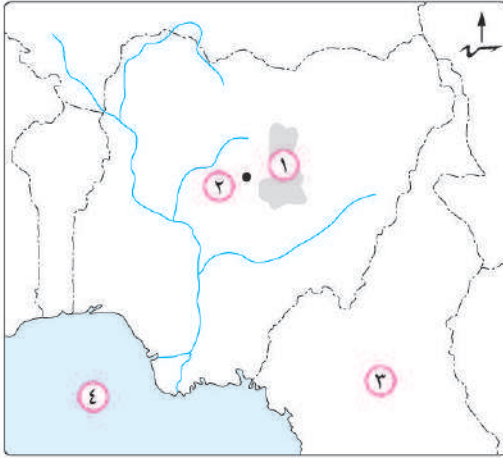
الصف 3 الإعدادي

الفصل الدراسي الثاني ٢٠٢١

(الهند - نيجيريا - ألمانيا)

أجب عن الأسئلة الآتية :

أولاً الجغرافيا



١ (أ) أمامك خريطة لدولة نيجيريا، وضح مدلول الأرقام

الموجودة عليها :

- (١) هضبة
- (٢) مدينة
- (٣) دولة
- (٤) مسطح مائي

(ب) ما النتائج المترتبة على ... ؟

- (١) وجود المناخ الاستوائي والمدارى فى قارة آسيا بالنسبة لإنتاج الموارد الزراعية.
- (٢) وقوع الصين على المحيط الهادى ووجود الأنهار والبحيرات ومزارع تربية الأسماك بها.
- (٣) زيادة الطلب على البترول وتعدد استخداماته.
- (٤) وجود التلال والينابيع بالمرتفعات الوسطى فى ألمانيا.
- (ج) قارن بين : القطن، والمطاط الطبيعى، من حيث : * الأهمية. * أهم الدول المنتجة.

٢ (١) اختر الإجابة الصحيحة مما بين القوسين :

- (١) أكبر دولة منتجة للبنجر فى قارة أفريقيا دولة (جنوب أفريقيا - مصر - نيجيريا - السودان)
- (٢) تعتبر أولى دول العالم إنتاجاً للفحم. (الصين - الهند - الولايات المتحدة الأمريكية - روسيا)
- (٣) من المراكز الصناعية الحديثة فى أمريكا الجنوبية (بيرو - بوليفيا - الأرجنتين - المكسيك)
- (٤) تُعد البرازيل أولى دول العالم إنتاجاً لـ (الصوف - السكر - اللحوم - القمح)
- (٥) يحد ألمانيا من جهة الغرب دولة (بولندا - التشيك - الدنمارك - فرنسا)

(ب) «تُعد مصادر الطاقة القوى المحركة لحياة الإنسان». فى ضوء ذلك، أجب عما يأتى :

- (١) وضح : استخدامات الغاز الطبيعى.
- (٢) ما العلاقة بين : الألومنيوم، والطاقة الكهربائية ؟
- (٣) ما مقترحاتك لـ : زيادة إنتاج الطاقة فى مصر ؟ (من خلال ما درست).
- (٤) دلل جغرافياً على صحة العبارة الآتية :
- واجهت الهند المشكلة السكانية بسياسات تنمية مختلفة.

ثانياً التاريخ

٣ (١) أعد كتابة العبارات الآتية بعد تصويب ما تحته خط :

- (١) أسس جمال عبدالناصر تنظيم تكون من مجموعة من ضباط الجيش المصري عُرف باسم عدم الانحياز.
- (٢) وضعت فلسطين تحت الانتداب البريطاني بمقتضى مؤتمر باندونج ١٩٢٠م.
- (٣) عقد مؤتمر كامب ديفيد على أساس مبدأ الأرض مقابل السلام.
- (٤) استشهد الفريق أول عبدالمنعم رياض في حرب أكتوبر ١٩٧٣م.
- (٥) إقامة الوحدات الصحية والجمعيات الزراعية من إنجازات ثورة ٢٣ يوليو ١٩٥٢م في المجال السياسي.

(ب) بم تفسر ... ؟

- (١) لم تحقق معاهدة ١٩٣٦م الاستقلال الحقيقي لمصر.
- (٢) فشل العدوان الثلاثي على مصر.
- (٣) تشكيل اللجان الشعبية أثناء ثورة ٢٥ يناير ٢٠١١م.
- (٤) صدور الدستور الدائم عام ١٩٧١م.
- (٥) إنشاء محكمة العدل الدولية.

٤ (١) اختر الإجابة الصحيحة مما بين القوسين :

- (١) قامت مصر في أكتوبر ١٩٥٤م ب.....
- (إلغاء دستور ١٩٢٣م - توقيع اتفاقية الجلاء - إلغاء الملكية وإعلان الجمهورية - إصدار قانون الإصلاح الزراعي)
- (٢) إحكامًا للحصار الاقتصادي الذي فرضه العرب على إسرائيل قامت مصر بإغلاق خليج في مايو ١٩٦٧م.
- (السويس - عدن - العقبة - هرمز)
- (٣) نجحت القوات المصرية في هزيمة القوات الإسرائيلية في معركة رأس العش عندما حاولت احتلال مدينة
- (بورسعيد - بورفؤاد - السويس - الإسماعيلية)
- (٤) شاركت المرأة في الحياة النيابية، وشغلت الدكتوراة منصب رئيس
- اللجنة التشريعية بمجلس الشعب. (حكمت أبو زيد - عائشة راتب - أمال عثمان - تهاني الجبالي)
- (٥) يعد أعلى سلطة داخل الجامعة العربية.
- (مجلس الجامعة - الأمين العام - الأمناء المساعدون - اللجان الدائمة)

(ب) «كانت حرب أكتوبر ١٩٧٣م أحد حلقات الصراع مع إسرائيل». في ضوء ذلك، وضح :

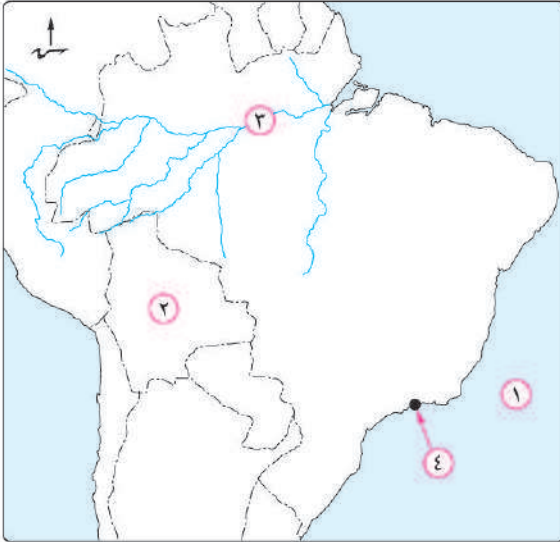
- (١) أسباب حرب أكتوبر ١٩٧٣م.
- (٢) الإجراءات التي قامت بها مصر لإعداد وتهيئة الجبهة الداخلية استعدادًا لحرب أكتوبر ١٩٧٣م.
- (٣) دور الدول العربية في دعم مصر وسوريا في حرب أكتوبر ١٩٧٣م.

(ج) دلل تاريخيًا على صحة كل عبارة مما يأتي :

- (١) عدم التزام اليهود بالهدنة كان سببًا لتفوقهم في حرب ١٩٤٨م.
- (٢) لتحقيق السلام وإنهاء الصراع العربي / الإسرائيلي عدة مزايا لمصر والدول العربية.

أجب عن الأسئلة الآتية :

أولاً الجغرافيا



١ (١) أمامك خريطة صماء لدولة البرازيل،

اكتب ما تدل عليه الأرقام الآتية :

(١) المحيط

(٢) دولة

(٣) نهر

(٤) العاصمة القديمة

(ب) بم تفسر ... ؟

(١) قيام الدول النامية المنتجة للبوكسيت بتصديره إلى

الدول المتقدمة .

(٢) قلة عدد السكان في دلتا النيجر .

(٣) توسع العالم في استخدام الغاز الطبيعي كبديل لمصادر الطاقة الأخرى .

(٤) تركيز زراعة البنجر في معظم دول قارة أوروبا .

(ج) ما الأهمية الاقتصادية لكل مورد مما يأتي ... ؟ مع تحديد أولى الدول المنتجة له :

(١) المطاط الطبيعي . (٢) النحاس .

(د) دلل جغرافياً على صحة العبارة الآتية : قوة العلاقات بين مصر وكل من نيجييريا وألمانيا .

٢ (١) اختر الإجابة الصحيحة مما بين القوسين :

(١) تحتل دولة المركز الأول عالمياً في تربية الدواجن .

(الولايات المتحدة الأمريكية - الهند - الصين - تايلاند)

(٢) تقع أهم مراكز الصناعة الحديثة في جنوب شرق آسيا بدولة

(فنزويلا - شيلي - ماليزيا - المكسيك)

(٣) يستخرج من هضبة جوس بدولة نيجييريا معدن (الحديد - القصدير - البوكسيت - الرصاص)

(٤) أولى الدول العربية في توليد الطاقة الكهربائية من الرياح (المغرب - تونس - سوريا - مصر)

(ب) ما النتائج المترتبة على ... ؟

(١) التوسع العمراني في السهل الساحلي الشمالي بألمانيا .

(٢) انتشار التعليم بين قبائل وسط آسيا .

(ج) ما المقصود بكل مفهوم من المفاهيم الجغرافية الآتية ... ؟

- (١) زراعة الأرض أكثر من مرة في العام لإشباع حاجة السكان المحليين من الغذاء.
- (٢) نبات دائم الخضرة موطنه الأصلي شرق آسيا.
- (٣) القوى المحركة لحياة الإنسان في جميع مجالات حياته.
- (٤) يعتبر غذاء رئيسي لكثير من سكان العالم خاصة في المناطق الساحلية.

ثانياً التاريخ

٣ (١) صوب ما تحته خط :

- (١) امتنعت فرنسا عن التصويت بعد قرار تقسيم فلسطين عام ١٩٤٧م.
- (٢) تدخل مجلس الوصاية وأصدر القرار رقم ٢٤٢ في نوفمبر ١٩٦٧م.
- (٣) أستشهد الفريق أول عبدالمنعم رياض في حرب فلسطين.
- (٤) أنشأ إسماعيل مجلس المشورة عام ١٨٦٦م.
- (٥) استضافت تونس أول قمة أفريقية على أرضها عام ١٩٦٤م.

(ب) ما النتائج التي ترتبت على ... ؟

- (١) فشل العدوان الثلاثي على مصر عام ١٩٥٦م.
- (٢) حرب أكتوبر ١٩٧٣م. (يُلقَى بأبنة نزاله)
- (٣) اللجوء إلى التحكيم الدولي في قضية طابا.

(ج) ماذا كان يحدث إذا ... ؟

- (١) تم هزيمة إسرائيل في ٥ يونيو ١٩٦٧م.
- (٢) رفض كل من السادات وبيجين دعوة الرئيس الأمريكي كارتر لاجتماعات كامب ديفيد.

٤ (١) لمن تنسب الأعمال التاريخية الآتية ... ؟

- (١) سيطر على جميع قطاعات الجيش المصري بموجب إذاعة البيان الأول لثورة ٢٣ يوليو ١٩٥٢م.
- (٢) قاد خطة الخداع لصرف أنظار إسرائيل عن التجهيزات الهجومية لحرب أكتوبر ١٩٧٣م.
- (٣) شغلت منصب رئيس اللجنة التشريعية بمجلس الشعب.
- (٤) منظمة دولية ساهمت في إحياء مكتبة الإسكندرية.

(ب) دلل تاريخياً على صحة كل عبارة من العبارات الآتية :

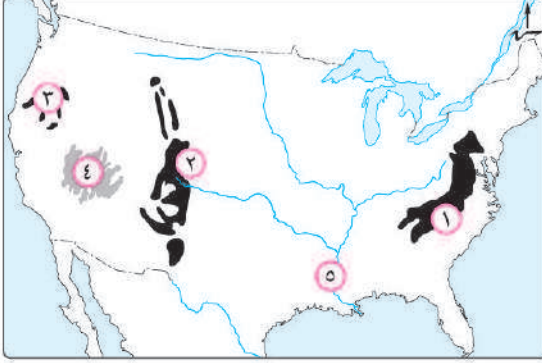
- (١) اهتمام ثورة ٢٣ يوليو ١٩٥٢م بحقوق العمال.
- (٢) تطبيق الهدنة في حرب فلسطين عام ١٩٤٨م لم يكن في صالح العرب.

(ج) قارن بين :

أوضاع مصر الاقتصادية قبل ثورة ٢٣ يوليو ١٩٥٢م، وقبل ثورة ٢٥ يناير ٢٠١١م.

أجب عن الأسئلة الآتية :

أولاً الجغرافيا



١ (١) أمامك خريطة للولايات المتحدة الأمريكية،

اكتب ما تدل عليه الأرقام :

- (١) جبال
 (٢) جبال
 (٣) جبال
 (٤) هضبة
 (٥) نهر

(ب) صوب الكلمات التي فوق الخط في كل عبارة من العبارات الآتية :

- (١) يزرع القمح في كل قارات العالم عدا قارة أوروبا.
 (٢) تُعد الأغنام المصدر الرئيسي للحوم لغالبية سكان العالم.
 (٣) مدينة أبوجا هي مركز للتجارة والتعليم والمواصلات وتأتي في المركز الثاني في الأهمية بعد لاجوس.
 (ج) «اتجه الإنسان بالفطرة نحو إشباع حاجاته الضرورية لاستمرار حياته وقد مارس البشر العديد من الأنشطة الاقتصادية». في ضوء العبارة السابقة، أجب عن الأسئلة الآتية :
 (١) وضح المقصود بمصطلح : الزراعة الكثيفة.
 (٢) ما العلاقة بين : تدفق البترول، والرعى البدائي في شبه الجزيرة العربية، وبادية الشام ؟
 (٣) ما النتائج المترتبة على : الوحدة الاقتصادية الأوروبية ؟

٢ (١) اختر الإجابة الصحيحة مما بين القوسين :

- (١) أولى قارات العالم في إنتاج القمح قارة
 (٢) تحتل دولة المركز الأول في إنتاج الأسماك في العالم.
 (٣) توجد خمس دول عربية تنتج الطاقة الكهربائية من الرياح تتقدمها مصر تليها
 (العراق - تونس - المغرب - الجزائر)
 (٤) أهم مدن الساحل الغربي في الهند مدينة
 (بومباي - نيودلهي - كلكتا - حيدرآباد)

(ب) بم تفسر ... ؟

- (١) تركّز زراعة الشاي في دول شرق آسيا.
 (٢) توجد بالهند ثروة حيوانية ضخمة.
 (٣) يقل عدد السكان في دلتا نهر النيجر.
 (٤) تفوق الهند في صناعة الحديد والصلب.
 (ج) قارن بين : صناعة الألومنيوم، وصناعة أسلاك الكهرباء، من حيث :
 * المادة الخام الرئيسية في إنتاج كل منهما.
 * أولى الدول المنتجة للمادة الخام الرئيسية لكل منهما.

ثانياً التاريخ

٣ (١) اختر الإجابة الصحيحة مما بين القوسين :

- (١) شارك مصر في تشكيل حركة عدم الانحياز كل من إندونيسيا و.....
(الهند ونيجيريا - ألمانيا ويوغوسلافيا - الهند ويوغوسلافيا - أمريكا وروسيا)
- (٢) يُعد الفريق أحد أبطال العسكرية المصرية والذي استشهد في حرب الاستنزاف.
(سعد الدين الشاذلي - أحمد إسماعيل - محمد نجيب - عبد المنعم رياض)
- (٣) أشهر المذابح التي ارتكبتها اليهود ضد العرب في فلسطين مذبحه
(بحر البقر - دير ياسين - القلعة - يافا)
- (٤) ظهرت أول مجلة نسائية مصرية (الريحانة) في فبراير ١٩٠٧م وأصدرتها
(جميلة حافظ - هدى شعراوي - عائشة راتب - آمال عثمان)

(ب) بم تفسر ... ؟

- (١) غادر الملك فاروق وأسرته البلاد قبل الموعد الذي حددته ثورة ٢٣ يوليو ١٩٥٢م.
- (٢) أهمية منظمات المجتمع المدني.
- (٣) يعتبر مجلس الأمن أهم أجهزة الأمم المتحدة.

(ج) دلل تاريخياً على صحة كل عبارة من العبارات الآتية :

- (١) اختلفت الكتابات وتعددت الآراء حول ثورة ٢٣ يوليو ١٩٥٢م.
- (٢) كان الدعم العربي لمصر أحد أسباب النصر في حرب أكتوبر ١٩٧٣م.
- (٣) سوء الأحوال الاجتماعية في مصر أحد أسباب ثورة ٢٥ يناير ٢٠١١م.

٤ (١) اكتب كلمة (صواب) أمام العبارة الصحيحة، وكلمة (خطأ) أمام العبارة غير الصحيحة :

- () (١) أذيع البيان الأول لثورة ١٩٥٢م بصوت محمد نجيب.
- () (٢) نجحت مصر في استعادة كل أراضيها من إسرائيل في ٢٥ أبريل ١٩٨٢م.
- () (٣) تحقيق السلام يؤدي إلى الاستقرار الداخلي للبلاد العربية.
- () (٤) المنظمات الإقليمية يشترك فيها كل دول العالم.

(ب) «أدركت بريطانيا أهمية فلسطين، لذا سعت لتأييد فكرة الوطن اليهودي».

في ضوء العبارة السابقة، وضح :

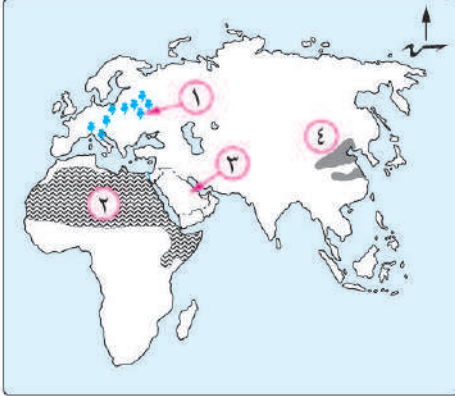
- (١) أهمية فلسطين في قلب كل عربي.
- (٢) إجراءات بريطانيا لتنفيذ وعد بلفور.
- (٣) دور الولايات المتحدة الأمريكية في هزيمة مصر والعرب في حرب فلسطين ١٩٤٨م.
- (٤) جهود الرئيس السادات في إعداد الجبهة الداخلية استعداداً للحرب أكتوبر ١٩٧٣م.

(ج) ما النتائج التي ترتبت على ... ؟

- (١) عدوان ٥ يونيو ١٩٦٧م.
- (٢) إنشاء السد العالي في مصر.

أجب عن الأسئلة الآتية :

أولاً الجغرافيا



١ (١) أمامك خريطة لقارات العالم القديم، اكتب مدلول

الأرقام الموقعة عليها :

(١) محصول سكري

(٢) نوع الرعى

(٣) مصدر للطاقة تعتبر الدولة الموضحة الأولى في إنتاجه

(٤) إقليم صناعي

(ب) قارن بين : حركة المد والجزر، والغاز الطبيعي، من حيث :

نوع الكهرباء المتولدة عن كل منهما.

(ج) اكتب ما تشير إليه كل عبارة من العبارات الآتية :

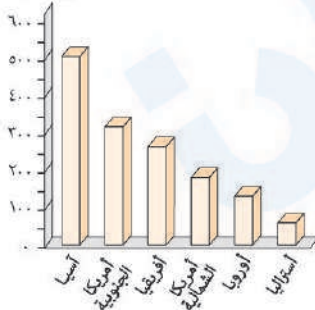
(١) محصول زراعي يعتبر الغذاء الرئيسي لمعظم شعوب العالم.

(٢) دولة عربية تعد الأولى في توليد الطاقة الكهربائية من الرياح.

(٣) أحد المدن الجديدة البرازيلية التي تقع على نهر الأمازون.

(٤) أكبر المدن النيجيروية تكديسا بالسكان.

مليون رأس



٢ (١) أمامك رسم بياني يمثل إنتاج أحد الموارد الحيوانية في العالم،

استعن به للإجابة عما يأتي :

(١) ما المورد الحيواني الذي يمثله الرسم البياني ؟

وما أهميته الاقتصادية ؟

(٢) ما أهم دول العالم إنتاجاً لهذا المورد ؟

وما سبب ضآلة قيمته الاقتصادية فيها ؟

(ب) أيهما أفضل ... ؟ ولماذا ؟

(١) اتباع نظام الزراعة الكثيفة أم التجارية في المزارع واسعة المساحة.

(٢) استغلال المياه الساحلية الضحلة أم العميقة في نشاط صيد الأسماك.

(٣) تفرق الدول الأوروبية أم تجمعها على هيئة وحدة اقتصادية.

(ج) أكمل المقارنة الآتية :

الولايات المتحدة الأمريكية	جمهورية البرازيل	
يحدها من الشمال دولة (٤)	يحدها من الشرق المحيط (١)	الموقع الجغرافي
تمتد على سواحلها الغربية جبال (٥)	تمتد في جنوبها هضبة (٢)	الظواهر التضاريسية
عاصمتها السياسية (٦)	عاصمتها القديمة (٣)	أهم المدن

ثانياً التاريخ

٣ (١) أكمل العبارات الآتية بكلمات مناسبة :

- (١) تم إذاعة البيان الأول لثورة ٢٣ يوليو ١٩٥٢م من الإذاعة المصرية باسم اللواء
- (٢) امتنعت دولة عن التصويت على مشروع تقسيم فلسطين عام ١٩٤٧م.
- (٣) تخلى الرئيس مبارك عن الرئاسة وسلم إدارة شؤون البلاد لـ
- (٤) بموجب دستور عام ١٩٥٦م تم في عام ١٩٥٧م تشكيل

(ب) بم تفسر ... ؟

- (١) اكتسبت ثورة ٢٣ يوليو ١٩٥٢م أهمية كبيرة في المنطقة العربية والعالم.
- (٢) تفوق اليهود في حرب ١٩٤٨م عند استئناف القتال بعد الهدنة.
- (٣) مبادرة الرئيس محمد أنور السادات لزيارة إسرائيل عام ١٩٧٧م.
- (٤) الأمم المتحدة منظمة دولية.

(ج) دلل تاريخياً على صحة كل عبارة من العبارات الآتية :

- (١) تعتبر بريطانيا صانعة مشكلة فلسطين.
- (٢) أنهت حرب أكتوبر ١٩٧٣م نظرية الأمن الإسرائيلي.
- (٣) لمنظمات المجتمع المدني دور مهم في تثقيف المواطنين.
- (٤) لمصر دور مهم في منظمة الاتحاد الأفريقي.

٤ (١) من يكون ... ؟

- (١) أحد الأعمدة الرئيسة في إعادة بناء وتنظيم القوات المسلحة في حرب الاستنزاف.
- (٢) أصبح رئيساً لأركان حرب القوات المسلحة المصرية في ديسمبر ١٩٧٣م.
- (٣) أنشأ مدرسة لتعليم البنات عام ١٨٧٣م.
- (٤) أول وزيرة للشئون الاجتماعية في مصر عام ١٩٦٢م.

(ب) ما النتائج التي ترتبت على ... ؟

- (١) توقيع اتفاقية الجلاء في أكتوبر ١٩٥٤م.
- (٢) اجتماع وزراء النفط العربي بالكويت أثناء حرب أكتوبر ١٩٧٣م.
- (٣) التعاون بين مصر ومنظمة اليونسكو.

(ج) «حقق الجيش المصري انتصاراً حاسماً في حرب أكتوبر ١٩٧٣م ثم اتجهت مصر بعد ذلك لإنهاء الصراع العربي / الإسرائيلي وتحقيق السلام». في ضوء هذه العبارة، وضح :

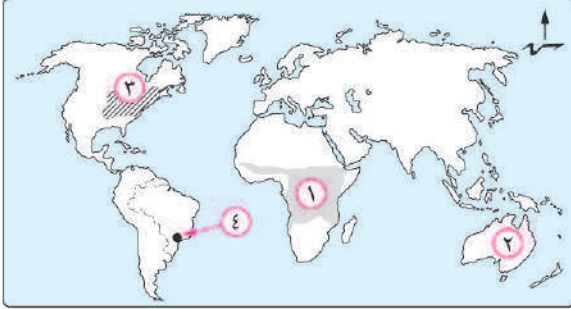
- (١) الاستعدادات التي قامت بها مصر لحرب أكتوبر ١٩٧٣م لتهيئة الجبهة العربية.
- (٢) موقف مصر من مؤتمر مدريد للسلام عام ١٩٩١م.

(د) رتب الأحداث التاريخية الآتية من الأقدم إلى الأحدث :

- * عقد مؤتمر كامب ديفيد.
- * إنشاء جامعة الدول العربية.
- * الوحدة بين مصر وسوريا.
- * حرب الاستنزاف.

أجب عن الأسئلة الآتية :

أولاً الجغرافيا



١ (١) أمامك خريطة للعالم، اكتب مدلول الأرقام

الموقعة عليها :

(١) نوع الزراعة السائدة

(٢) اسم المعدن الذي تحتل الدولة رقم ٢ المرتبة

الأولى في إنتاجه

(٣) إقليم صناعي

(٤) العاصمة القديمة للدولة الموضحة

(ب) «تمثل الأسماك غذاءً رئيسياً لكثير من سكان العالم خاصة في المناطق الساحلية على البحار والمحيطات».

في ضوء هذه العبارة، وضح :

(١) العوامل الطبيعية التي ساعدت على انتشار مصايد الأسماك على سواحل القارات.

(٢) أسباب قيام بعض الدول بصيد الحيتان.

(٣) أسباب امتلاك البرازيل لثروة كبيرة من الأسماك.

(ج) ما العلاقة بين ... ؟

(١) تدفق البترول، وحرفة الرعي البدائي في شبه الجزيرة العربية.

(٢) دولة ألمانيا، ومحطات توليد الكهرباء في مصر.

(د) اكتب المصطلح الجغرافي لكل عبارة من العبارات الآتية :

(١) يستخرج من عصارة أشجار استوائية ويصنع منه إطارات السيارات.

(٢) احتل المصدر الأول والرئيسي للطاقة المستخدمة في العالم حتى أوائل القرن العشرين.

(٣) مناخ يسود الساحل الجنوبي الشرقي للولايات المتحدة الأمريكية.

٢ (١) صوب ما تحته خط في العبارات الآتية :

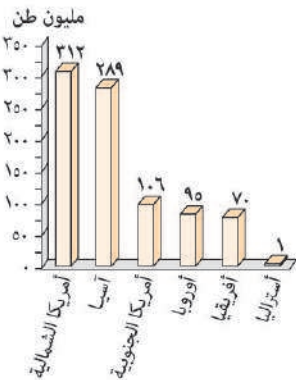
(١) القطن من المحاصيل المعتدلة المهمة لإنتاج الخيوط التي تستخدم في صناعة المنسوجات.(٢) تصدر الدول النامية مثل موريتانيا خام النحاس إلى الدول الصناعية المتقدمة.(٣) تُعد آسيا أولى قارات العالم إنتاجاً للطاقة النووية.(٤) تغطي الغابات ثلث مساحة ألمانيا وأهمها الغابات الاستوائية والمدارية.

(ب) أمامك رسم بياني يمثل إنتاج إحدى أنواع الموارد الزراعية في العالم،

استعن به للإجابة عما يأتي :

(١) ما المورد الزراعي الذي يمثله الرسم البياني ؟

(٢) حدد القيمة الاقتصادية لهذا المورد لأولى القارات المنتجة له.



(ج) ما النتائج المترتبة على ... ؟

- (١) استخدام الطرق العلمية الحديثة في الزراعة التجارية والعلمية.
- (٢) رخص ثمن الغاز الطبيعي وقلّة تلوثه.
- (د) **قارن بين :** الأبقار، والأغنام، من حيث الأهمية الاقتصادية لكل منهما.

ثانياً التاريخ

٣ (١) اكتب كلمة (صواب) أمام العبارة الصحيحة، وكلمة (خطأ) أمام العبارة غير الصحيحة، مع التصويب :

- () (١) كسرت مصر احتكار السلاح العالمي بعقد صفقة الأسلحة الشرقية.
- () (٢) قدمت الولايات المتحدة الأمريكية مساعدات مالية ضخمة عاجلة لمصر أثناء حرب أكتوبر ١٩٧٣ م.
- () (٣) التطبيق السليم لسياسة الخصخصة أدى إلى ارتفاع الأسعار في المجتمع المصري قبل ثورة ٢٥ يناير ٢٠١١ م.
- () (٤) ساهمت منظمة الأمم المتحدة للتربية والعلوم والثقافة في إنقاذ «معابد أبو سمبل» في عام ١٩٦٤ م.

(ب) بم تفسر ... ؟

- (١) عجز الأحزاب السياسية في التعبير عن إرادة الشعب المصري ومطالبه قبل ثورة يوليو ١٩٥٢ م.
- (٢) مشاركة مصر في مؤتمر مدريد للسلام عام ١٩٩١ م.
- (٣) أهمية الدستور الدائم لمصر عام ١٩٧١ م.

(ج) ماذا كان يحدث إذا ... ؟ (١) لم تؤيد مصر حركات التحرر الوطني في الجزائر.

- (٢) لم تشكل اللجان الشعبية أثناء ثورة ٢٥ يناير ٢٠١١ م.

٤ (١) لمن تنسب الأعمال التاريخية الآتية ... ؟

- (١) أذاع أول بيان لثورة ٢٣ يوليو ١٩٥٢ م.
- (٢) أصدر تصريحاً تعهدت فيه بريطانيا بإنشاء وطن قومي لليهود في فلسطين.
- (٣) دعا كلاً من مصر وإسرائيل لعقد مؤتمر كامب ديفيد للسلام عام ١٩٧٨ م.
- (٤) تولت منصب وزيرة الشؤون الاجتماعية عام ١٩٧١ م.
- (ب) «تعددت الحروب والمواجهات بين إسرائيل والعرب منذ عام ١٩٤٨ م وحتى عام ١٩٧٣ م».

في ضوء هذه العبارة، وضح :

- (١) أسباب هزيمة الدول العربية في يونيو ١٩٦٧ م.
- (٢) دور القوات المسلحة المصرية في الصمود والتصدي للاعتداءات الإسرائيلية بعد عدوان عام ١٩٦٧ م.
- (٣) موقف الولايات المتحدة الأمريكية من حرب الاستنزاف.

(ج) رتب الأحداث التاريخية الآتية من الأقدم للأحدث :

- * عودة طابا إلى السيادة المصرية.
- * إصدار جميلة حافظ أول مجلة نسائية مصرية (البحانة).
- * تأميم شركة قناة السويس البحرية شركة مصرية بإدارة مصرية.
- * إنشاء جامعة الدول العربية.

1 إجابة نموذج

1

- (٣) - التوسع في توليد الطاقة الكهربائية من الأمواج وحركة المد والجزر والطاقة الشمسية والرياح.
- استخدام المحطات النووية السلمية في توليد الطاقة الكهربائية.
(٤) حيث اهتمت بالتعليم وتطوير البحث العلمي مما أدى إلى تطوير الزراعة والصناعة.

3

- (١) (١) ... تنظيم الضباط الأحرار.
(٢) ... سان ريمو.
(٣) ... مدريد ...
(٤) ... الاستنزاف عام ١٩٦٩م.
(٥) ... المجال الاجتماعي.
(ب) (١) لأن قوات الاحتلال البريطاني في فبراير ١٩٤٢م قامت بمحاصرة قصر عابدين لإجبار الملك فاروق على تعيين مصطفى النحاس باشا رئيساً للحكومة مما يعد تدخل في شؤون مصر الداخلية.

(٢) بسبب :

- المقاومة الباسلة لجيش مصر وشعبها وصلابة القيادة.
- وقوف الشعوب العربية إلى جانب مصر.
- تهديد الاتحاد السوفيتي (سابقاً) بالتدخل لوقف العدوان.
- رفض الولايات المتحدة الأمريكية استخدام القوة في حل النزاعات.
- تنديد الأمم المتحدة بالعدوان.

(٣) بهدف :

- حماية المنشآت والمناطق.
- مواجهة أعمال السرقة والحرق والترويع.
(٤) لأنه :
- أكد على سيادة القانون واستقلال القضاء وإقرار مبادئ التعددية الحزبية.
- كان أحد إجراءات تهيئة وإعداد الجبهة الداخلية لمصر قبل حرب أكتوبر ١٩٧٣م.

(٥) بهدف :

- النظر في القضايا التي تضعها الدول أمامها.
- تقديم الاستشارات القانونية للهيئات الدولية.

4

- (١) (١) توقيع اتفاقية الجلاء.
(٢) العقبة.
(٣) بوفؤاد.
(٤) أمال عثمان.
(٥) مجلس الجامعة.

- (١) (١) جوس.
(٢) أبو جبا.
(٣) الكامرون.
(٤) خليج غينيا.

(ب) (١) ترتب على ذلك إنتاج قارة آسيا :

- قصب السكر لأنه محصول مدارى حار.
- القطن (تلقى الإنتاج العالمى وهى أولى القارات إنتاجاً له) لأنه محصول مدارى.
- المطاط الطبيعي (أولى قارات العالم إنتاجاً له) لأنه يستخرج من عصارة أشجار استوائية.
(٢) أدى ذلك إلى أن أصبحت الصين من أهم الدول المنتجة للأسماك.
(٣) ترتب على ذلك ارتفاع أسعاره عالمياً.
(٤) ترتب على ذلك أن أصبحت المرتفعات الوسطى في ألمانيا مناطق جذب للسياح.

(ج)

المطاط الطبيعي	القطن	الأممية (الاستخدام)
* يصنع منه إطارات السيارات وصناعات أخرى.	* إنتاج الخيوط التي تُستخدم في صناعة أجود أنواع الملابس والمنسوجات. * مصدر لاستخراج زيت بذرة القطن وصناعة الأعلاف.	
	* الصين. * تايلاند (أولى دول العالم).	أهم الدول المنتجة

2

- (١) (١) مصر.
(٢) الأرجننتين.
(٣) الصين.
(٤) السكر.
(٥) فرنسا.

(ب) (١) حيث يستخدم :

- في الصناعة على نطاق واسع.
- في الاستخدامات المنزلية.
- في توليد الطاقة الكهربائية (الكهرباء الحرارية).
- كوقود للسيارات بديلاً للبنزين للحد من تلوث البيئة.
(٢) وفرة الطاقة الكهربائية من مقومات صناعة الألومنيوم.

(ب) (١) بسبب :

- رفض إسرائيل لكل نداءات السلام بالانسحاب من الأراضي التي احتلتها في العدوان الإسرائيلي ٥ يونيو ١٩٦٧م بموجب قرار مجلس الأمن (٢٤٢).
- تصميم مصر وسوريا على إزالة آثار نكسة يونيو ١٩٦٧م (واسترداد شبه جزيرة سيناء وهضبة الجولان).

(٢) حيث تم :

- رفع الرقابة عن الصحف.
- إصدار دستور جديد للبلاد (دستور ١٩٧١م).
- إلغاء الحراسات والإجراءات المقيدة للحريات.
- القضاء على مراكز القوى.
- تجهيز الجيش وتسليحه بأحدث الأسلحة وتدريبه عليها.

(٣) حيث :

- قدمت بعض الدول العربية الدعم المالي والعسكري لمصر وسوريا.
- قرر وزراء النفط العربي في اجتماعهم بالكويت خفض إنتاج البترول وحظر الصادرات النفطية إلى الولايات المتحدة الأمريكية خاصة عندما طلب الرئيس الأمريكي مساعدات عاجلة لإسرائيل.

(ج) (١) حيث بدأوا في تقوية قواتهم من حيث العدد والتسليح وعند استئناف القتال ظهر تفوق اليهود على جميع جبهات القتال مما أدى لتراجع وهزيمة القوات العربية.

(٢) حيث إن تحقيق السلام يساعد على :

- الاستقرار الداخلي للبلاد العربية.
- دفع عجلة التنمية الاقتصادية والاجتماعية وإصلاح البنية الأساسية للبلاد.
- تشجيع رؤوس الأموال العربية والأجنبية للاستثمار في مصر وغيرها من الدول العربية.
- تنشيط حركة السياحة والتي تؤدي إلى زيادة الدخل القومي وتوفير العملات الأجنبية.
- إقامة المشروعات الوطنية وتحقيق التنمية في مصر بشكل خاص، ومنطقتنا العربية بشكل عام.

إجابة نموذج 2

١

(١) (١) الأطنطنى.
(٣) الأمازون.

(٢) بوليفيا.
(٤) ريودي چانيرو.

(ب) (١) بسبب عدم توافر مقومات صناعة الألومنيوم من طاقة كهربائية وخبرة علمية.

(٢) بسبب وجود الغابات الكثيفة والظروف المناخية القاسية.

(٣) لأنه من مصادر الطاقة الأقل تلويثًا للبيئة ورخيص الثمن

وسهل النقل.

(٤) بسبب ملائمة ظروف زراعته من مناخ وتربة زراعية.

(ج) (١) - الأهمية الاقتصادية : يُصنع منه إطارات السيارات وصناعات أخرى.

- أولى الدول المنتجة له : تايلاند.

(٢) - يستخدم في الكثير من الصناعات، مثل : الأسلاك، والأدوات الكهربائية.

- أولى الدول المنتجة له : شيلي.

(د) - قوة العلاقات بين مصر ونيجييا :

♦ تصدر مصر إلى نيجييا :

الأسمدة، المعدات الثقيلة، الأسلاك النحاسية، الإطارات، مواسير الألومنيوم، المحولات الكهربائية.

♦ تستورد مصر من نيجييا :

السلع الزراعية وأهمها الحبوب الزيتية.

- قوة العلاقات بين مصر وألمانيا :

♦ توجد علاقات ثقافية وعلمية بين مصر وألمانيا،

تتمثل في :

◊ هيئة التبادل العلمي الألمانية.

◊ المركز الثقافي الألماني.

◊ الجامعة الألمانية بالقاهرة.

◊ معهد الآثار الألماني.

♦ توجد علاقات اقتصادية بين مصر وألمانيا،

حيث :

◊ تمول ألمانيا محطات توليد الكهرباء من الرياح في مصر.

◊ تصدر مصر لألمانيا «البترول والغاز الطبيعي والملابس».

وتستورد مصر من ألمانيا «الصناعات الكيماوية والآلات

والسيارات».

٢

(١) (١) الولايات المتحدة الأمريكية. (٢) ماليزيا.

(٣) القصدير. (٤) مصر.

(ب) (١) أدى ذلك إلى انكماش مساحة الحشائش في السهل الساحلي.

(٢) أدى إلى قلة أعداد القاصمين بحرفة الرعي البدائي في وسط

آسيا.

(ج) (١) الزراعة الكثيفة. (٢) الشاي.

(٣) مصادر الطاقة. (٤) الأسماك.

٣

- (١) (١) بريطانيا. (٢) الأمن.
(٣) الاستنزاف. (٤) شورى النواب.
(٥) مصر.

(ب) (١) ترتب على ذلك :

- انسحاب القوات الإنجليزية والفرنسية من بورسعيد فى ٢٣ ديسمبر ١٩٥٦م.
- انسحاب القوات الإسرائيلية من قطاع غزة وسيناء فى أوائل عام ١٩٥٧م ووضع قوات طوارئ دولية بين مصر وإسرائيل منذ عام ١٩٥٧م.
- إدراك الدول العربية الخطر الإسرائيلى وأطماعه فى السيطرة على العالم العربى، ولذلك قامت وحدة بين مصر وسوريا عام ١٩٥٨م.

(٢) - تُعد نقطة تحول فى الصراع العربى/ الإسرائيلى حيث أثبتت أن منطق القوة لا يمنح سلاماً.

- تحطيم أسطورة الجيش الإسرائيلى الذى لا يقهر وعودة الثقة للمقاتل المصرى والعربى.
- تقويض (هدم) أسس العقيدة القتالية للقوات الإسرائيلية.
- انتهاء نظرية الأمن الإسرائيلية بعد انهيار الخطوط الدفاعية والتحصينات القوية مثل خط بارليف.
- إنهاء حالة اللاسلم واللاحرب وبذلك أفسحت المجال للمفاوضات السياسية من منطلق القوة العربية.
- إظهار أهمية استخدام سلاح النفط العربى.
- تأثر العلاقات بين إسرائيل وبعض الدول المحبة للسلام فى آسيا وأفريقيا وأوروبا.

(٣) ترتب على ذلك إصدار محكمة العدل الدولية فى سبتمبر ١٩٨٨م حكمها لصالح مصر وعادت طابا إلى السيادة المصرية فى مارس ١٩٨٩م.

(ج) (١) لم تتمكن إسرائيل من الاستيلاء على :

- قطاع غزة.
- مدينة القدس العربية.
- الضفة الغربية لنهر الأردن.
- هضبة الجولان بسوريا.
- سيناء حتى الضفة الشرقية لقناة السويس.

(٢) كان لم يتم التوصل إلى إطار اتفاق (معاهدة) للسلام بين مصر وإسرائيل.

٤

- (١) (١) محمد نجيب. (٢) المشير أحمد إسماعيل.
(٣) آمال عثمان. (٤) منظمة اليونسكو.

(ب) (١) حيث عملت على :

- تحديد ساعات العمل وإشراك العمال فى مجالس إدارة الشركات والمصانع وتحديد نسبة لهم من الأرباح.
- إصدار قوانين للتأمينات الاجتماعية والمعاشات للموظفين والعمال.

(٢) حيث استطاعت إسرائيل تقوية قواتها من حيث العدد والتسليح والتدريب وبعد استئناف القتال ظهر تفوق اليهود على جميع جبهات القتال مما أدى إلى تراجع وهزيمة القوات العربية.

أوضاع مصر الاقتصادية قبل ثورة ٢٣ يوليو ١٩٥٢م	أوضاع مصر الاقتصادية قبل ثورة ٢٥ يناير ٢٠١١م
* أدى توقيع معاهدة ١٩٣٦م إلى جعل مصر ميداناً لمعارك الحرب العالمية الثانية واستنزاف موارد مصر لخدمة بريطانيا وحلفائها مما ترتب عليه إرهاب الاقتصاد المصرى وزيادة معاناة أفراد الشعب.	* كانت متدهورة بسبب : • اتباع سياسة الانفتاح الاقتصادى دون ضوابط علمية. • التطبيق غير السليم لسياسة الخصخصة وبيع مؤسسات الدولة بأقل من سعرها الحقيقى لصالح فئة معينة من رجال الأعمال وأدى ذلك إلى : - ارتفاع الأسعار. - انضمام آلاف العاملين (بعد خروجهم بنظام التقاعد المبكر) لصفوف البطالة من الشباب فى وقفات احتجاجية.

إجابة نموذج 3

١

- (١) (١) الأبلش. (٢) روكى.
(٣) كسكيد. (٤) كلورادو.
(٥) المسيبى.
(ب) (١) قصب السكر. (٢) الأبقار.
(٣) إبيادان.

- توفير مناخ يحقق الوحدة الوطنية من خلال توعية الأفراد
ببند العنف.

- تدعيم السياسة العامة للدولة ومواقفها من القضايا
الدولية مثل : حظر استخدام الألغام الأرضية، ومحاربة
الإرهاب، وحماية البيئة.

(٣) لأنه : - مسئول عن حفظ السلام والأمن الدوليين.

- يُعد سلطة قانونية على حكومات الدول الأعضاء
في الأمم المتحدة.

(ج) (١) حيث :

- يرى بعض المؤرخين أنها تكتسب أهمية كبيرة لما تركته
من آثار على أغلب الحركات التحررية في المنطقة العربية
وفى العالم، ولما أسهم به قادتها من تأسيس لحركات
دولية منها حركة عدم الانحياز والحياد الإيجابي.

- يرى مؤرخون آخرون أنها لم تبدأ عندما تأسس تنظيم
الضباط الأحرار، أو عندما سيطرت قيادة الثورة على
مقرات الجيش والإذاعة المصرية، إنما كان هذا التحرك
مكملاً لنضال طويل وممتد لشعب مصر، الذي ثار ضد
الفساد والاحتلال وسوء الحكم منذ الثورة العرابية وثورة
١٩١٩م وحتى قيام ثورة ٢٣ يوليو ١٩٥٢م.

(٢) حيث :

- قدمت بعض الدول العربية الدعم المالى والعسكرى لمصر
وسوريا.

- قرر وزراء النفط العربى فى اجتماعهم بالكويت خفض إنتاج
البتترول وحظر الصادرات النفطية إلى الولايات المتحدة
الأمريكية خاصة عندما طلب الرئيس الأمريكى مساعدات
عاجلة لإسرائيل.

(٣) بسبب زيادة الفوارق الاجتماعية (بين طبقات المجتمع)
وغياب العدالة الاجتماعية فى توزيع الثروات.

٤

(١) (١) خطأ.

(٢) خطأ.

(٣) صواب.

(٤) خطأ.

(ب) (١) لأن : - وُلد فيها السيد المسيح عليه السلام .

- أُسرى إليها سيدنا محمد ﷺ .

- يوجد بها المسجد الأقصى أولى القبلتين وثالث الحرمين.

(٢) - السماح بهجرة أعداد كبيرة من اليهود من جميع أنحاء

العالم إلى فلسطين.

- السماح بانتقال ملكية الأراضي من عرب فلسطين عن

طريق الشراء إلى اليهود.

(ج) (١) نوع من الزراعة المتقدمة تُزرع فيه الأرض أكثر من مرة
فى العام الواحد بهدف إشباع حاجة السكان المحليين من
الغذاء (للاستهلاك المحلى فقط) وعادة ما توجد فى المناطق
كثيفة السكان.

(٢) أدى تدفق البترول فى شبه الجزيرة العربية وبداية الشام
إلى توطين البدو وبالتالي قلة عدد العاملين بحرفة الرعى
البدائى بها.

(٣) ترتب على ذلك حدوث التكامل فى الجوانب الاقتصادية
(الصناعية والتجارية) بإقليم غرب ووسط أوروبا وحمايتها
جمركياً وتدعيمها من جانب هيئة الاتحاد الأوروبى.

٢

(١) (١) آسيا.

(٢) الصين.

(٣) المغرب.

(٤) بومباى.

(ب) (١) بسبب توافر ظروف زراعته من تربة خصبة خفيفة ومناخ

حار وهواء رطب ومطر غزير.

(٢) بسبب كثرة المراعى.

(٣) بسبب وجود الغابات الكثيفة والظروف المناخية القاسية.

(٤) لأنها ثالث دول العالم إنتاجاً للفحم الذى يُعد أساس قيام

صناعة الحديد والصلب.

المادة الخام	صناعة الألومنيوم	صناعة أسلاك الكهرباء
أولى الدول المنتجة للمادة الخام	أستراليا	شيلي
البوكسيت	النحاس	

٣

(١) (١) الهند ويوغوسلافيا.

(٢) عبدالمعزم رياض.

(٣) دير ياسين.

(٤) جميلة حافظ.

(ب) (١) لأنه أدرك أن الجيش والشعب يكرهان حكمه بالإضافة إلى

تخلّى الإنجليز عنه لذلك غادر البلاد قبل الموعد المحدد.

(٢) لأن هذه المنظمات تعد عناصر فعالة فى تقديم الخدمات

الاجتماعية وتنفيذ برامج التنمية ويتضح ذلك من خلال

الأنشطة التى تقوم بها، ومنها :

- تثقيف المواطنين وتعريفهم بالحقوق السياسية كالتصويت

والانتخاب والترشح للمناصب السياسية.

- توضيح علاقة المواطن بالدولة وكيفية التعبير عن حقوقه

وواجباته.

(٢) أهم الدول : الهند.

ضالة قيمته الاقتصادية : بسبب تحريم الديانة الهندوسية
أكل لحوم الأبقار.

(ب) (١) الزراعة التجارية لأنها تتم في مزارع واسعة.

(٢) المياه الساحلية الضحلة لأنها غنية بالمواد الغذائية.

(٣) تجمع الدول الأوروبية في هيئة اقتصادية واحدة يساعد
على تحقيق التكامل في الجوانب الاقتصادية (الصناعية
والتجارية) وحمايتها جمركيًا.

(ج) (١) الأطلنطي. (٢) البرازيل.

(٢) ريودي چانيرو. (٤) كندا.

(٥) كسكيد. (٦) واشنطن.

٣

(أ) (١) محمد نجيب. (٢) بريطانيا.

(٣) المجلس الأعلى للقوات المسلحة. (٤) مجلس الأمة.

(ب) (١) بسبب ما تركته الثورة من آثار على أغلب الحركات التحررية
في المنطقة العربية وفي العالم، ولما أسهم به قادتها من
تأسيس لحركات دولية منها حركة عدم الانحياز والحياد
الإيجابي.

(٢) لأن إسرائيل استطاعت تقوية قواتها من حيث العدد والتسليح
والتدريب وبعد استئناف القتال ظهر تفوق اليهود على جميع
جبهات القتال مما أدى إلى تراجع وهزيمة القوات العربية.
(٣) لإنهاء الصراع العربي/ الإسرائيلي سلميًا ولتحقيق السلام
الدائم بعد سلسلة من الحروب استنزفت طاقات وموارد
البلاد البشرية والمادية.

(٤) لأنها تضم في عضويتها دول العالم المستقلة وإن لم ترتبط
ببعضها بروابط معينة.

(ج) (١) حيث قامت بريطانيا بإصدار وعد (تصريح) بلفور
عام ١٩١٧م واتخذت عدة إجراءات لتنفيذه بعد انتدابها على
فلسطين ١٩٢٠م، منها :

- السماح بهجرة أعداد كبيرة من اليهود من جميع أنحاء
العالم إلى فلسطين.

- السماح بانتقال ملكية الأراضي من عرب فلسطين عن
طريق الشراء إلى اليهود.

(٢) حيث انهارت الخطوط الدفاعية والتحصينات القوية
لإسرائيل مثل خط بارليف على الجبهة المصرية.

(٣) حيث تقدمت الولايات المتحدة الأمريكية باقتراح إلى مجلس
الأمن تضمن وقف القتال وإقامة هدنة مدتها شهر يتمتع
خلالها العرب واليهود عن جلب الأسلحة ولم يلتزم اليهود
بالهدنة وبدأوا في تقوية قواتهم من حيث العدد والتسليح
والتدريب وعندما استؤنف القتال ظهر تفوق اليهود على
جميع جبهات القتال مما أدى إلى تراجع وهزيمة القوات
العربية.

(٤) حيث تم :

- رفع الرقابة عن الصحف.

- إصدار دستور جديد للبلاد (دستور ١٩٧١م).

- إلغاء الحراسات والإجراءات المقيدة للحريات.

- القضاء على مراكز القوى.

- تجهيز الجيش وتسليحه بأحدث الأسلحة وتدريبه عليها.

(ج) (١) أدى إلى هزيمة الدول العربية واستيلاء إسرائيل على :

- قطاع غزة.

- سيناء حتى الضفة الشرقية لقناة السويس.

- هضبة الجولان بسوريا.

- مدينة القدس العربية.

- الضفة الغربية لنهر الأردن.

(٢) ترتب على ذلك :

- حماية البلاد من خطر الفيضان.

- تخزين المياه وتوليد الكهرباء.

إجابة نموذج 4

١

(أ) (١) النيجر. (٢) الرعي البدائي (التقليدي).

(٣) البترول. (٤) إقليم شرق آسيا.

(ب)	حركة المد والجزر	الغاز الطبيعي
	الطاقة الكهرومائية	الكهرباء الحرارية

(ج) (١) القمح. (٢) مصر.

(٣) ميناؤوس. (٤) لاجوس.

٢

(أ) (١) - المورد الحيواني : الأبقار.

- الأهمية الاقتصادية :

♦ تُعد المصدر الرئيسي للحوم الحمراء لغالبية سكان
العالم.

♦ تدخل بنسبة كبيرة في التجارة الدولية.

- (د) ① إنشاء جامعة الدول العربية.
② الوحدة بين مصر وسوريا.
③ حرب الاستنزاف.
④ عقد مؤتمر كامب ديفيد.

إجابة نموذج 5

١

- (أ) ① (١) الزراعة البسيطة (البداية). (٢) البوكسيت.
(٣) شمال شرق الولايات المتحدة الأمريكية.
(٤) ريودي چانيرو.

- (ب) ① - ضحالة المياه الساحلية وغناها بالمواد الغذائية.
- التقاء التيارات البحرية الدافئة مع الباردة.
- توافر الموانئ لرسو سفن الصيد.
(٢) للاستفادة من لحومها وشحومها.
(٣) بسبب :

- امتلاكها سواحل طويلة على المحيط الأطلنطي والبحر الكاريبي.
- وجود نهر الأمازون.

- (ج) ① أدى تدفق البترول إلى توطين البدو مما تسبب في قلة العاملين بحرفة الرعي البدائي في شبه الجزيرة العربية.
(٢) تقوم دولة ألمانيا بتمويل محطات توليد الكهرباء من الرياح في مصر.

- (د) ① المطاط الطبيعي. (٢) الفحم.
(٣) المناخ شبه المداري الحار.

٢

- (أ) ① (١) المدارية. (٢) الحديد.
(٣) أوروبا. (٤) النفضية والخروطية.

- (ب) ① الذرة.

- (٢) تستخدم كعلف للماشية وتصدر جزءاً منه للخارج.

- (ج) ① يترتب على ذلك : - قلة التكاليف، وقلة عدد العمالة الزراعية.
- الإنتاج التجاري الضخم.

- (٢) يترتب على ذلك التوسع في استخدام الغاز الطبيعي كبدائل لمصادر الطاقة الأخرى واستخدامه في الصناعة والاستخدامات المنزلية وفي توليد الكهرباء وكذلك كوقود للسيارات بديلاً للبنزين (للحد من التلوث).

- (٢) حيث تعد هذه المنظمات عناصر فعالة في تقديم الخدمات الاجتماعية وتنفيذ برامج التنمية ويتضح ذلك من خلال الأنشطة التي تقوم بها، ومنها :

- تثقيف المواطنين وتعريفهم بالحقوق السياسية كالتصويت والانتخاب والترشح للمناصب السياسية.
- توضيح علاقة المواطن بالدولة وكيفية التعبير عن حقوقه وواجباته.

- توفير مناخ يحقق الوحدة الوطنية من خلال توعية الأفراد بنبذ العنف.

(٤) حيث :

- شاركت مصر في تأسيس منظمة الاتحاد الأفريقي.
- استضافت مصر أول قمة أفريقية على أرضها عام ١٩٦٤م.
- تولت مصر رئاسة الاتحاد الأفريقي للمرة الثالثة في فبراير ٢٠١٩م برئاسة الرئيس عبدالفتاح السيسي.

٤

- (أ) ① (١) الفريق أول عبدالمنعم رياض.

- (٢) الفريق محمد عبدالغنى الجمسى.

- (٣) الخديو إسماعيل. (٤) حكمت أبو زيد.

- (ب) ① ترتب على ذلك جلاء القوات البريطانية عن مصر في ١٨ يونيو ١٩٥٦م بعد احتلال دام ٧٤ عاماً.

(٢) ترتب على ذلك :

- خفض إنتاج البترول.
- حظر الصادرات النفطية إلى الولايات المتحدة الأمريكية خاصة عندما طلب الرئيس الأمريكى مساعدات عاجلة لإسرائيل.

- (٢) يترتب على ذلك مساهمة اليونسكو في :

- إنقاذ معابد أبو سمبل عام ١٩٦٤م.
- إحياء مكتبة الإسكندرية.

(ج) ① قامت مصر بـ :

- تصفية الخلافات وتوحيد الصف العربى.
- الاستفادة من كل الموارد والإمكانات العربية المتاحة.

- (٢) شاركت فيه مصر بفاعلية لدعوته لحل الصراع العربى/الإسرائيلى على أساس مبدأ الأرض مقابل السلام على ضوء قرارات الأمم المتحدة (مجلس الأمن).

- مساندة الولايات المتحدة الأمريكية وبعض الدول الأوروبية لإسرائيل عسكرياً واقتصادياً وسياسياً.
- نقص التدريب وعدم توافر الأسلحة المتطورة للقوات المصرية.

(٢) حيث استطاعت :

- هزيمة القوات الإسرائيلية فى معركة رأس العش عندما حاولت إسرائيل احتلال مدينة بورفؤاد.
- تدمير المدمرة الإسرائيلية إيلات بصواريخ البحرية المصرية أكتوبر ١٩٦٧م.
- وأطلق على هذه المرحلة الصمود والتصدى.
- (٣) تدخلت الولايات المتحدة الأمريكية وقدم وزير خارجيتها روجرز مبادرة عرفت باسمه لوقف إطلاق النار تمهيداً لحل النزاع سلمياً.
- (ج) ① إصدار جميلة حافظ أول مجلة نسائية مصرية (الريحانة) (فبراير ١٩٠٧م).
- ② إنشاء جامعة الدول العربية (مارس ١٩٤٥م).
- ③ تأميم شركة قناة السويس البحرية شركة مصرية بإدارة مصرية (يوليو ١٩٥٦م).
- ④ عودة طابا إلى السيادة المصرية (مارس ١٩٨٩م).

الأبقار	الأغنام
* تُعد المصدر الرئيسى للحوم الحمراء لغالبية سكان العالم.	* تُربى من أجل لحومها وأصوافها.
* تدخل بنسبة كبيرة فى التجارة الدولية.	

٣

(١) (١) صواب.

(٢) خطأ : ... لإسرائيل ...

(٣) خطأ : التطبيق غير السليم ...

(٤) صواب.

(ب) (١) بسبب :

- خضوع مصر للاحتلال البريطانى.
- فساد النظام الملكى.
- فساد الأحزاب السياسية وزيادة الصراع بينهم من أجل الوصول إلى الحكم.
- (٢) لحل الصراع العربى/ الإسرائيلى على أساس مبدأ الأرض مقابل السلام على ضوء قرارات الأمم المتحدة (مجلس الأمن).
- (٣) لأنه :
- أكد على سيادة القانون واستقلال القضاء وإقرار مبادئ التعددية الحزبية.
- كان أحد إجراءات تهينة وإعداد الجبهة الداخلية لمصر قبل حرب أكتوبر ١٩٧٣م.
- (ج) (١) لم تشارك فرنسا فى العدوان الثلاثى على مصر.
- (٢) - لن يتم حماية المنشآت والمناطق.
- تعرض البلاد لأعمال السرقة والحرق والترويع.

٤

(١) (١) الرئيس محمد أنور السادات.

(٢) جيمس بلفور وزير خارجية بريطانيا.

(٣) الرئيس الأمريكى كارتر.

(٤) عائشة راتب.

(ب) (١) بسبب :

- التفوق العسكرى الإسرائيلى وبصفة خاصة السلاح الجوى.
- استخدام إسرائيل عنصر المفاجأة فى ضرب المطارات المصرية بعد أن صورت أجهزة تجسس أمريكية حديثة المواقع المصرية.



مذاهب علم

أولاً الجغرافيا

اجب عن الأسئلة الآتية،



١ (١) أملك خريطة لدولة نيجيريا.

اكتب مدلول الأرقام الموقعة عليها :

(١) نهر النيجر. (٢) دولة تشاد..

(٣) حضبة... جوس.. (٤) مدينة إبيادان.

(ب) «يعد النشاط الصناعي قمة الأنشطة

الاقتصادية المتطورة».

في ضوء هذه العبارة، وضح :

(١) سبب شهرة أستراليا في صناعة نسيج الصوف.

(٢) أثر الوحدة الاقتصادية الأوروبية على إقليم غرب ووسط أوروبا الصناعي.

(ج) قارن بين :

(١) الزراعة الكثيفة، والزراعة التجارية والعلمية، من حيث الخصائص.

(٢) الهند، والولايات المتحدة الأمريكية، من حيث مناطق التركيز السكاني.

١ (١) لوجود اغنام المارينو الشهيرة بفزارة الصوف

٢ (٢) أدى الى حدوث التكامل في الجوانب الاقتصادية (الصناعة والتجارة) بإقليم غرب أوروبا وحمايتها جمركيا وتدعيمها من

جانب هيئة الاتحاد الأوروبي

ج (٢) قارن بين

١ (١) الزراعة الكثيفة والزراعة التجارية والعلمية من حيث الخصائص .

الزراعة التجارية	الزراعة الكثيفة	
تهدف للإنتاج التجاري الضخم / تستخدم أحدث الآلات وتتم في مزارع واسعة/ تخصص في محصول واحد/ تقل التكلفة والعمالة	تتم من خلال عمليات عديدة / تتطلب أيدي عاملة وفيرة/ يصعب استخدام المكنة لضيق الحقول/ تزرع الأرض أكثر من مرة	الخصائص

٢ (٢) الهند والولايات المتحدة من حيث مناطق التركيز السكاني

الولايات المتحدة الأمريكية	الهند	
يتركزون في إقليم نيوانجلند في المنطقة الشمالية - السهول الوسطى - السواحل الغربية حيث المناطق الصناعية بينما يقلون في نطاق المرتفعات والأحواض الغربية - ولاية ألاسكا .	يتركزون في السهول الساحلية والفيضية حيث المدن الرئيسية مثل : نيودلهي - بومباي	مناطق تركيز السكان

٢ (١) اختر الإجابة الصحيحة مما بين القوسين :

(١) أكبر قارات العالم إنتاجاً لمحصول القطن قارة

(آسيا - أفريقيا - أمريكا الشمالية - أمريكا الجنوبية)

(٢) المصدر الأول والرئيسي للطاقة المستخدمة في العالم حتى أوائل القرن الـ ٢٠ م

(البترول - الفحم - الكهرباء - الرياح)

(٣) تقع معظم دولة داخل حدود دولة الهند.

(نيبال - بوتان - بنجلاديش - باكستان)

(٤) تُعد القوة الاقتصادية الأولى في العالم.

(روسيا - كندا - الصين - الولايات المتحدة الأمريكية)

(ب) بم تفسر ... ؟

(١) قلة عدد القاطنين بحرفة الرعي البدائي في صحارى شبه الجزيرة العربية وبادية الشام.

ب (١) لندفق البترول وتوطين البدو

- (٢) توسع العالم في استخدام الغاز الطبيعي كبديل لمصادر الطاقة الأخرى.
(٣) تنوع مناخ الولايات المتحدة الأمريكية واختلافه من منطقة إلى أخرى.

الصفحة الثانية

- (١) اكتب كلمة (صواب) أمام العبارة الصحيحة، وكلمة (خطأ) أمام العبارة غير الصحيحة، مع التصويب :
(١) أصدرت ألمانيا وعد بلفور عام ١٩١٧ لإنشاء وطن لليهود في فلسطين. (خطأ بريطانيا)
(٢) أغلقت مصر خليج السويس في وجه الملاحه الإسرائيلية في مايو ١٩٦٧. (خطأ العقبة)
(٣) نجحت القوات المصرية في هزيمة القوات الإسرائيلية في معركة رأس العش. (صواب)
(٤) تسلم المستشار عدلي منصور رئيس المحكمة الدستورية العليا سلطة حكم مصر في يوليو ٢٠١٣. (صواب)
(٥) نص دستور ١٩٥٦ على أن السلطة التشريعية في يد مجلس منتخب هو مجلس الأمة. (صواب)
- (ب) ما المقصود بالمصطلحات التاريخية الآتية ... ؟
(١) عدم الانحياز (٢) الحياة النيابية. (٣) الأمم المتحدة.
(ج) ما العلاقة بين : منظمة الأمم المتحدة للتربية والعلوم والثقافة (اليونسكو)، وحفظ التراث الثقافي والحضارى لمصر ؟

(٢) لأنه من مصادر الطاقة - الأقل تلويث للبيئة - و الرخيصة - وسهلة النقل .

(٣) بسبب اتساع مساحتها وتنوع تضاريسها

(ب) ما المقصود بالمصطلحات الآتية : (١) عدم الانحياز : عدم الانضمام إلى الكتلتين الشرقية أو الغربية .

(٢) الحياة النيابية : قيام الشعب بانتخاب ممثلين لإدارة شئون الحكم في البلاد وسن القوانين ومراقبة أعمال الحكومة نيابة عنه .

(٣) الأمم المتحدة : هي منظمة تضم في عضويتها دول العالم المستقلة وان لم ترتبط ببعضها بروابط معينة .

(ج) ما العلاقة بين : أدى ذلك الى - إنقاذ معابد أبو سمبل ١٩٦٤ م . - إحياء مكتبة الإسكندرية .

(١) من يكون ... ؟

(١) رئيس الأركان الذي قام بتنفيذ خطة عبور قناة السويس وتحطيم خط بارليف أكتوبر ١٩٧٣ م. **القريب سعد الدين الشاذلي**

(٢) بادر بزيارة إسرائيل من أجل السلام عام ١٩٧٧ م. **الرئيس محمد أنور السادات**

(٣) أصدرت أول مجلة نسائية مصرية (الريحانة) فبراير ١٩٠٧ م. **جميلة حافظة**

(٤) أول رئيس للجمهورية المصرية في يونيو ١٩٥٣ م. **الرئيس محمد نجيب**

(٥) * تولى رئاسة منظمة الاتحاد الأفريقى فبراير ٢٠١٩ م. **الرئيس عبدالفتاح السيسى**

(ب) ما النتائج التى ترتبت على ... ؟

(١) هزيمة الدول العربية في حرب فلسطين ١٩٤٨ م.

(٢) ثورة ٢٣ يوليو ١٩٥٢ بالنسبة للمرأة المصرية.

(ج) ما رأيك في : استضافة مصر أول قمة أفريقية على أرضها عام ١٩٦٤ م ؟

(ب) ما النتائج : (١) ج . أدى إلى نجاح اليهود في الاستيلاء على فلسطين بالكامل ما عدا : الضفة الغربية بها القوات الأردنية . - القدس مقسمة بين العرب واليهود . - قطاع غزة تحت إدارة مصرية .

(٢) ج منح المرأة عام ١٩٥٦ م حق الانتخاب والترشح لمجلس الأمة





مجاب
علمه

اولا الجغرافيا

اجب عن الأسئلة الآتية:



١ (١) أمامك خريطة للولايات

المتحدة الأمريكية.

اكتب مدلول الأرقام

الموقعة عليها :

(١) دولة **الكسبك** ..

(٢) هضبة **.. كلورا دو**

(٣) نهر **السيبي**.

(٤) مدينة تقع على بحيرة

متشجن .. شيكاغو

(ب) صوب ما تحته خط :

(١) ينتج معظم المطاط في قارة **أمريكا الجنوبية** . **آسيا**

(٢) تشتهر **إندونيسيا** بإنتاج الأصواف من أغنام المارينو. **أستراليا**

(٣) تمثل **روسيا** المركز الأول في الإنتاج العالمي للبترول. **السعودية**

(٤) يحدها نيجيريا من الجنوب المحيط **الهادي** . **الاطلنطي**

(ج) قارن بين : الهند، ونيجيريا، من حيث :

* مناطق التركيز السكاني. * العاصمة.

نيجيريا	الهند	
ينتركز السكان في الغرب وفي السهول الشمالية وفي هضبة جوس حيث الأراضي الزراعية والمراعي ومناطق التعدين. بينما يقل عدد السكان في دلتا النيجر بسبب كثافة الغابات والفخروف المناخية القاسية.	ينتركز السكان في السهول الساحلية حيث المدن الرئيسية المكتظة بالسكان مثل نيودلهي العاصمة ويومباي	مناطق التركيز السكاني
أبوجا	نيو دلهي	العاصمة

٢ (١) اختر الإجابة الصحيحة مما بين القوسين :

(١) يعتبر..... من محاصيل الألياف. (البنجر - الشاي - القمح - الجوت)

(٢) تُعد..... أحد مراكز الصناعة في شرق آسيا. (كندا - البرازيل - كوريا - بوليفيا)

(٣) من السهول الفيضية في الهند سهول نهر..... في الجنوب.

(الجانج - كوڤري - السند - ملبار)

(٤) تنمو حشائش..... في شمال نيجيريا. (السافانا - الإستبس - التندرا - البراري)

(ب) بم تفسر ... ؟

- (١) تتطلب الزراعة الكثيفة أيدي عاملة وفيرة.
- (٢) انتشار مصائد الأسماك على سواحل شمال غرب أوروبا.
- (٣) تركيز صناعة الألومنيوم في الدول المتقدمة.
- (٤) للفحم أهمية كبيرة منذ القرن الـ ١٨ الميلادي وحتى الوقت الحالي.

(ج) ما العلاقة بين كل من ... ؟

- (١) انتشار التعليم في دول وسط آسيا، والرعي البدائي.
- (٢) مصر، والولايات المتحدة الأمريكية.

ب (ب) بم تفسر (١) - لأنها تتم من خلال عمليات عديدة مثل بذر الحبوب والري وتنقية الحشائش .
(٢) - لتوافر العوامل الطبيعية والبشرية لحرفة صيد الأسماك بها .

(٣) - بسبب توافر مقومات صناعة الألومنيوم في الدول المتقدمة من (طاقة كهربائية وخبرة فنية وعلمية وسوق محلية وخارجية تستوعب الإنتاج)
(٤) - **في أواخر القرن الـ ١٨** شكل الفحم عماد الثورة الصناعية في أوروبا وأصبح المصدر الأول والرئيسي للطاقة المستخدمة في العالم حتى أوائل القرن الـ ٢٠ . **أما في الوقت الحالي** يستخدم كمصدر رئيسي في الصناعة بالدول الصناعية الكبرى ولا توليد الكهرباء الحرارية .

(ج) ما العلاقة بين :

- (١) أدى ذلك إلى قلة عدد العاملين في حرفة الرعي البدائي بدول وسط آسيا .
- (٢) علاقات ثقافية وعلمية تقوم على التبادل العلمي .
- اتفاقية الكوبز .
- وتستورد مصر من الولايات المتحدة (الطائرات ، الأسلحة) .

ثانياً التاريخ

(١) لمن تنسب الأعمال التاريخية الآتية ... ؟

- (١) أصدر تصريحاً وُصف بأنه وعد ممن لا يملك لمن لا يستحق . **بلشور وزير خارجية بريطانيا**
- (٢) قاد سلاح الطيران المصري في حرب أكتوبر ١٩٧٣م . **محمد حسني مبارك**
- (٣) دعا العالم كله إلى مساندته في التطلع إلى السلام الدائم عام ١٩٧٧م . **الرئيس محمد أنور السادات**
- (٤) أنشأ أول مدرسة لتعليم البنات عام ١٨٧٣م . **الخدوي إسماعيل**

(ب) ما النتائج التي ترتبت على ... ؟

- (١) التطبيق غير السليم لسياسة الخصخصة في مصر.
- (٢) دستور عام ١٩٥٦م بالنسبة للمرأة في مصر.
- (٣) التعاون بين منظمة اليونسكو وجمهورية مصر العربية .

(ج) اكتب المصطلح التاريخي لكل عبارة من العبارات الآتية :

- (١) معاهدة جعلت مصر ميداناً لمعارك الحرب العالمية الثانية واستنزاف مواردها .
- (٢) اتفاقية وقعت بين إسرائيل ومنظمة التحرير الفلسطينية برعاية أمريكية بواشنطن عام ١٩٩٣م .

(٣) الجهاز القضائي الأساسي للأمم المتحدة ومقرها لاهاي بهولندا .

ب (ب) ما النتائج التي ترتبت على ... ؟

- (١) أدى إلى - ارتفاع الأسعار - تجمع آلاف العاملين بعد خروجهم بنظام التقاعد المبكر وانضمامهم لصفوف البطالة .
- (٢) أدى إلى منح المرأة عام ١٩٥٦م حق الانتخاب والترشح لمجلس الأمة .
- (٣) أدى إلى - إنقاذ معابد أبو سمبل ١٩٦٤م . - إحياء مكتبة الإسكندرية .

(ج) اكتب المصطلح التاريخي لكل عبارة :

- (١) معاهدة ١٩٣٦م
- (٢) اتفاقية أوسلو ١٩٩٣م
- (٣) محكمة العدل الدولية .

١ «تعددت الحروب والمواجهات بين إسرائيل والعرب منذ ١٩٤٨م وحتى ١٩٧٣م» .
في ضوء هذه العبارة، وضح :

- (١) أسباب هزيمة الجيش المصري في حرب فلسطين عام ١٩٤٨م .
- (٢) مظاهر تصدى القوات المصرية للاعتداءات الإسرائيلية بعد عدوان ٥ يونيو ١٩٦٧م .
- (٣) رأيك في : الدور العربي أثناء حرب أكتوبر ١٩٧٣م .

١ (بسبب - دعم الولايات المتحدة وبريطانيا لإسرائيل . - عدم استعداد الجيش المصري والعربي عسكريا للحرب .
٢ (تصدى القوات المصرية للاعتداءات الإسرائيلية ومنها معركة رأس العش وفيها نجحت قواتنا في هزيمة القوات الإسرائيلية عندما حاولت احتلال مدينة بور فؤاد ، كما تم تدمير المدمرة الإسرائيلية (إيلات) بصواريخ البحرية المصرية في أكتوبر ١٩٦٧م

٣ (ما رأيك بترك للطلاب التعبير عن رأيه

ويمكنه الاستعانة بـ

الدعم العربي أثناء الحرب :

٤ عسكريا : قدمت بعض الدول العربية دعما عسكريا لمصر وسوريا مثل (العراق والجزائر وليبيا والأردن والمغرب والسعودية والسودان والكويت وتونس) وكان لذلك دور مهم في تحقيق النصر
٤ ماليا : قدمت بعض الدول العربية دعما ماليا لمصر وسوريا مثل (السعودية والجزائر والإمارات)
٤ سياسيا : قرر وزراء النفط العربي في اجتماعهم بالكويت خفض انتاج البترول فارتفعت أسعاره ثم حظر الصادرات النفطية إلى الولايات المتحدة الأمريكية خاصة عندما طلب الرئيس الأمريكي مساعدات عاجلة لإسرائيل .

(ب) اكتب كلمة (صواب) أمام العبارة الصحيحة . وكلمة (خطأ) أمام العبارة غير الصحيحة :

(١) بعد ثورة ٢٣ يوليو ١٩٥٢ وافق الملك فاروق على مغادرة البلاد قبل الموعد المحدد له .

(٢) كانت ثورة ٣٠ يونيو ٢٠١٣ خطوة جادة نحو التقدم والازدهار .

(٣) يمثل مجلس النواب في مصر السلطة التنفيذية .

(٤) توفير مناخ يحقق الوحدة الوطنية أحد أنشطة منظمات المجتمع المدني .

(٥) رأسست مصر الاتحاد الأفريقي ثلاث مرات .

(ج) ماذا كان يحدث اذا : لم تساند مصر حركات التحرر الوطني في الجزائر ؟

لم تشترك فرنسا في العدوان الثلاثي على مصر عام ١٩٥٦ م .





مجاب
عنه

اولا الجغرافيا

اجب عن الأسئلة الآتية:



١ (١) أمامك خريطة لدولة الهند. اكتب

مدلول الأرقام الموقعة عليها :

(١) دولة .. بنجلاديش

(٢) العاصمة التجارية بمباي

(٣) هضبة ... الدكن

(٤) خليج ... البنغال

(ب) بم تفسر ... ؟

(١) تركيز مصايد الأسماك شمال غرب أوروبا.

(٢) انكماش مساحة الحشائش في السهل

الساحلي بألمانيا.

(٣) يعتبر النشاط الزراعى من الأنشطة الاقتصادية الأساسية في العالم.

(٤) يُعد البترول أهم مصادر الطاقة.

ب (١) - توافر العوامل الطبيعية والبشرية لعرفة صيد الأسماك بها.

٢ - بسبب إحلال الزراعة محلها والتوسع العمراني .

٣ - لأنه مصدر رئيسي لقذاء الإنسان . - مصدر لتربية الحيوان . - مصدر للمواد الخام (زراعية / حيوانية / معدنية) .

٤ - لأنه - ترتبط به التنمية الاقتصادية والاجتماعية والعلاقات السياسية . ينتج منه العديد من المشتقات مثل البنزين والبولار

٢ (١) اختر الإجابة الصحيحة مما بين القوسين :

(١) يعتبر محصول من المحاصيل ذات الطبيعة الخاصة.

(القطن - البنجر - الذرة - البن)

(٢) أستراليا أولى دول العالم إنتاجاً لخام

(الحديد - النحاس - البوكسيت - اليورانيوم)

(٣) تُعد العاصمة القديمة لنيجيريا. (أبوجا - لاجوس - إيبادان - كانو)

(٤) أولى دول العالم إنتاجاً لقصب السكر

(فرنسا - الولايات المتحدة الأمريكية - مصر - البرازيل)

(:) ترتبط تربية بالمراعى التجارية الواسعة.

(الإبل - الجاموس - الرنة - الأغنام)

(ب) «تعد الصناعة الحديثة مقياس لتطور الشعوب وازدهارها».

في ضوء هذه العبارة. أجب عما يلي :

(١) دلل جغرافيًا على أن : هناك علاقة بين الإنتاج الحيواني، والصناعة.

(٢) ما المقصود بمصطلح : النشاط التعديني ؟

(٣) ما النتائج المترتبة على : الوحدة الاقتصادية الأوروبية ؟

(٤) قارن بين : حركة المد والجزر، والغاز الطبيعي، من حيث :

نوع الكهرباء المتولدة عن كل منهما.

(٥) ما مقترحاتك لـ : تحقق مصر الجودة في صناعاتها ؟

- ١ (تدخل المنتجات الحيوانية في العديد من الصناعات مثل صوف الأغنام مادة خام أساسية لصناعة نسيج الصوف)
 ⇨ الجلود من المنتجات الحيوانية الرئيسية التي تدخل في صناعة ديب الجلود وتصنيعها في شكل منتجات جلدية متعددة
- ٢ (عملية استخراج المعادن ومصادر الطاقة من باطن الأرض أو بالقرب من السطح .
- ٣ (التكامل في الجوانب الاقتصادية وحمايتها وتدعيمها جمركي من جانب الاتحاد الأوروبي .
- ٤ (

نوع الكهرباء	حركة المد والجزر	الغاز الطبيعي
كهرباء مائية (كهرومائية)	كهرباء حرارية	

٥ (استخدام الوسائل التكنولوجية - توفير رؤوس الأموال - الارتقاء بالمستوى العلمي للأيدي العاملة .

التاريخ

٢ (١) اكتب كلمة (صواب) أمام العبارة الصحيحة، وكلمة (خطأ) أمام العبارة غير الصحيحة، مع التصويب :

(١) ساهمت كل من مصر والهند ويوغوسلافيا (سابقًا) واندونيسيا في تشكيل

حركة عدم الانحياز.

(صواب)

(صواب)

(خطأ /)

خطأ اقرار التعددية الحزبية

(صواب)

(٢) مذبة دير ياسين من نتائج قرار تقسيم فلسطين عام ١٩٤٧م.

(٣) استعادت مصر نوبيع بالتحكيم الدولي.

(٤) أقر الدستور الدائم عام ١٩٧١م حل الأحزاب السياسية.

(٥) القضاء على مراكز القوى من الاستعدادات الداخلية لحرب أكتوبر ١٩٧٣م.

(ب) ما النتائج التي ترتبت على ... ؟

(١) معركة رأس العش.

(٢) اجتماع وزراء النفط العربى بالكويت أثناء حرب أكتوبر ١٩٧٣م.

(٣) ثورة ٢٣ يوليو ١٩٥٢م بالنسبة للمرأة المصرية.

(٤) التطبيق غير السليم لسياسة الخصخصة في مصر قبل ثورة ٢٥ يناير ٢٠١١م.

ب (ما النتائج ...

- ١ (ج . أدى إلى نجاح القوات المصرية في تكبيد القوات الإسرائيلية خسائر فادحة وإجبارها على الانسحاب من مدينة بور فؤاد .
- ٢ (خفض إنتاج البترول فارتفعت أسعاره ثم حظر الصادرات النفطية إلى الولايات المتحدة الأمريكية خاصة عندما طلب الرئيس الأمريكي مساعدات عاجلة لإسرائيل .
- ٣ (منح المرأة عام ١٩٥٦م حق الانتخاب والترشح لمجلس الأمة .
- ٤ (أدى إلى - ارتفاع الأسعار - تجمع آلاف العاملين بعد خروجهم بنظام التقاعد المبكر وانضمامهم لصفوف البطالة .

(ج) ماذا كان يحدث إذا : لم يتخذ الرئيس السادات قرار مبادرة السلام عام ١٩٧٧م ؟

جـ . لم يتم تهديد الطريق أمام إسرائيل للقبول بمبدأ التفاوض مع الأطراف المهتمة والمعنبة بقضية الصراع العربي الإسرائيلي وبالتالي لم يتم إنهاء الصراع العربي الإسرائيلي سلمياً .

٤ (١) اكتب ما تشير إليه كل عبارة من العبارات الآتية :

- ١) منظمة الأمم المتحدة (١) منظمة تضم في عضويتها جميع دول العالم المستقلة ومقرها نيويورك .
- ٢) قيام الشعب بانتخاب ممثلين لإدارة شئون الحكم وسن القوانين ومراقبة أعمال الحكومة .
- ٣) شغلت منصب رئيس اللجنة التشريعية بمجلس الشعب .
- ٤) رئيس المحكمة الدستورية العليا الذي أسند له حكم مصر في عام ٢٠١٣م .
- ٥) رئيس أركان حرب القوات المسلحة الذي مُنح اسمه قلادة النيل العظمى .

(ب) «تعددت الحروب والمواجهات بين إسرائيل والعرب منذ عام ١٩٤٨م حتى عام ١٩٧٣م» .
في ضوء هذه العبارة، أجب عن الأسئلة الآتية :

- ١) دلل تاريخياً على : تعتبر بريطانيا صانعة مشكلة فلسطين .
- ٢) حدد سبباً لـ : إغلاق خليج العقبة في وجه الملاحة الإسرائيلية عام ١٩٦٧م .
- ٣) صوب ما فوق الخط :

ساندت مصر حركات التحرر الوطني في الجزائر ضد الاستعمار الأسباني . الفرنسي

(٤) ما العلاقة بين : حرب الاستنزاف، ومبادرة روجرز ؟

(٥) ما رأيك في : أثر تحقيق السلام على السياحة في المنطقة العربية ؟

- ١ (أصدرت بريطانيا وعد بلفور ١٩١٧م نص على (تعهد بريطانيا ببذل مساعيها لإنشاء وطن قومي لليهود في فلسطين) وهو وعد ممن لا يملك لمن لا يستحق . السماح لهجرة الكثير من يهود العالم إلى فلسطين السماح بالنقل ملكية الأرض من عرب فلسطين إلى اليهود عن طريق الشراء .
 - ٢ - لإحكام الحصار الاقتصادي الذي فرضه العرب على إسرائيل .
 - ٤ (ج . قدمت الولايات المتحدة مبادرة روجرز لوقف حرب الاستنزاف وتهديد لحل النزاع سلمياً .
 - ٥ (يترك للطالب للتعبير عن رأيه
- ويمكنه الاستعانة بـ . تزيد من حركة السياحة مما يؤدي إلى زيادة الدخل القومي وتوفير العملات الأجنبية .

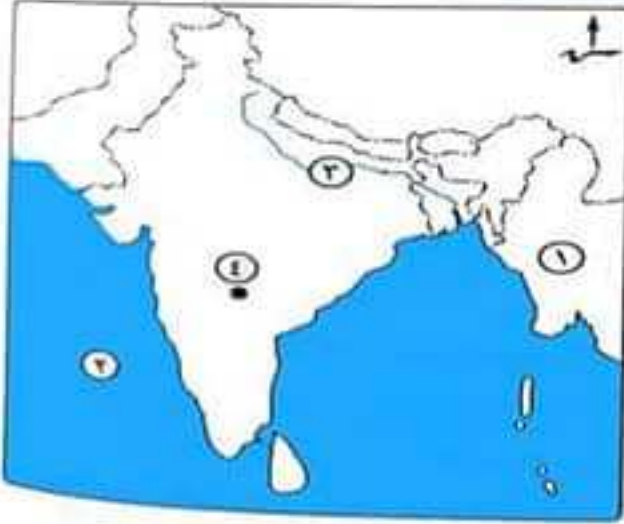




مجاب
عنه

أولاً الجغرافيا

أجب عن الأسئلة الآتية،



١) أمامك خريطة لدولة الهند، اكتب

مدلول الأرقام الموقعة عليها :

(١) دولة **ميانمار**

(٢) البحر **العربي**

(٣) سهول نهر **الجانج**

(٤) مدينة **حيدر اباد**

(ب) صوب الكلمات الى معناها خط، واعد كتابة العبارة صحيحة :

(١) يسود الرعى التجارى في الولايات المتحدة الأمريكية والأرجنتين و**السودان** و**شيلي**

(٢) تُعد مصر و**تونس** من أهم المراكز الصناعية الحديثة في قارة أفريقيا. جنوب أفريقيا

(٣) تستورد مصر من البرازيل المعادن وخاصة **الفوسفات**. الحديد

(٤) يطلق على المرتفعات الشرقية بالولايات المتحدة الأمريكية جبال **كسكيد**. الألباش

(ج) بم تفسر ... ؟

(١) تركيز زراعة الشاي في شرق آسيا.

(٢) تنتشر مناطق الصيد على سواحل شمال غرب أوروبا وسواحل أمريكا الشمالية.

(٣) أسعار البترول في زيادة مستمرة.

(٤) إنشاء دولة البرازيل لمدينة برازيليا.

(ج) بم تفسر لتوافر ظروف الزراعة من تربته من خصبة خفيفة ومناخ حار وهواء رطب ومطر غزير .

(٢) لتوافر العوامل الطبيعية والبشرية التي تساعد على تطور حرفة صيد الأسماك بها .

(٣) بسبب زيادة الطلب على البترول وتعدد استخداماته .

(٤) لتعمير هضبة البرازيل .

٢) اكتب ما تشير إليه كل عبارة من العبارات الآتية :

(١) قارة تحتل المركز الثاني في تربية الأبقار في العالم. **أمريكا الجنوبية**

(٢) أكبر قارتين إنتاجاً للقمح (أكثر من $\frac{2}{3}$ إنتاج العالم). **آسيا وأوروبا**

(٣) إقليم يتركز به ٥٠٪ من سكان الولايات المتحدة الأمريكية ويمثل ١٢٪ من مساحتها. **نيو انجلاند**

(ب) ما أوجه الاختلاف بين :

الزراعة البسيطة (البداية)، والزراعة التجارية والعلمية من حيث خصائص كل منهما ؟

الزراعة التجارية	الزراعة البسيطة	خصائصها
تهدف للإنتاج التجاري الضخم / تستخدم أحدث الآلات وتتم في مزارع واسعة / تخصص في محصول واحد / تقل التكلفة والعمالة	استخدام أدوات بدائية بسيطة / ضيق المساحة وتباعدها / تمارس لتوفير الاحتياجات اللازمة للسكان دون وجود فائض للتصدير.	

(ج) دلل جغرافيًا على صحة العبارات الآتية :

- (١) صناعة الألومنيوم تحتاج إلى عدة مقومات لقيامها.
- (٢) واجهت الهند المشكلة السكانية بسياسات تنموية مختلفة.
- (٣) ضخامة الإنتاج وتنوع الصناعات في الولايات المتحدة الأمريكية.
- (د) ما العلاقة بين ... ؟ (١) الصناعة الحديثة، والدول المتقدمة.
- (٢) الموقع الفلكي، والمناخ بدولة البرازيل.

١ مقومات صناعة الألومنيوم في الدول المتقدمة من (طاقة كهربائية وخبرة فنية وعلمية وسوق محلية وخارجية تستوعب الإنتاج) (٢) واجهت ذلك سياسات تنموية مختلفة مثل التوسع في زراعة المحاصيل الغذائية وتطوير الصناعات المختلفة إلى جانب الاهتمام بالتعليم وتطوير البحث العلمي .

(٣) حيث تساهم بحصص مرتفعة من الإنتاج العالمي في عدد من الصناعات

(صناعة السيارات والصلب والألومنيوم والصناعات الكيماوية والإلكترونية) تنتج ثلث الإنتاج العالمي من الصناعات الكهربائية والإلكترونية (تحتل المراتب الأولى عالميًا في صناعة الطيران (البوينج) وسفن الفضاء والأقمار الصناعية.

(د) ما العلاقة : (١) تطورت الصناعة تطور مذهل في الدول المتقدمة .

- لأنها :- أخذت بالأساليب العلمية. - تطبيق الأبحاث والتجارب العلمية. - تطوير وتحديث المنتجات الصناعية بشكل مستمر.

(٢) أدى إلى

- * يسود المناخ الاستوائي شديد الحرارة في حوض الأمازون والسهل الساحلي طوال العام.
- * يسود المناخ المداري الحار في السهول الشرقية وهضبة البرازيل وبقية أجزاء الدولة .
- * يسود المناخ المعتدل الرطب في أقصى جنوب شرق البرازيل .

نانيا التاريخ

٢ (١) اكتب كلمة (صواب) أمام العبارة الصحيحة، وكلمة (خطأ) أمام العبارة غير الصحيحة، مع التصويب :

- (١) تنازل الملك فاروق عن العرش لابنه الصغير (أحمد فؤاد الثاني). (صواب)
- (٢) أصدرت فرنسا وعد بلفور عام ١٩١٧م. (خطأ بريطانيا)
- (٣) استعادت مصر شبه جزيرة سيناء في ٢٥ أبريل ١٩٨٢م ما عدا منطقة طابا. (صواب)
- (٤) أنشأ محمد علي مجلس شورى النواب عام ١٨٦٦م. (خطأ إسماعيل)
- (٥) الأمم المتحدة منظمة عالمية مقرها مدينة نيويورك. (صواب)

(ب) «تساند مصر دائمًا قضايا المنطقة العربية». في ضوء العبارة، وضح :

- (١) أهم إنجازات ثورة ٢٣ يوليو ١٩٥٢م في المجال العربي والدولي.
- (٢) موقف مصر من اتفاقية أوسلو عام ١٩٩٣م.
- (٣) الأهداف التي من أجلها أنشئت جامعة الدول العربية.

(ج) ما رأيك في : موقف الدول العربية أثناء حرب أكتوبر ١٩٧٣م ؟

ب (١) في المجال العربي

- توحيد الجهود العربية لصالح حركات التحرر فساندت السودان والجزائر وتونس واليمن وساهمت في استقلال الكويت والعراق
- إقامة أول وحدة عربية بين مصر وسوريا في فبراير ١٩٥٨ (عرفت باسم الجمهورية العربية المتحدة)
- لاتزال تؤيد حقوق الشعب الفلسطيني في تقرير مصيره في إقامة دولة مستقلة و عاصمتها القدس الشريف

في المجال الدولي

- ١ - المساهمة في تشكيل حركة عدم الانحياز وظهر الدور الرائد لمصر مع كل من الهند ويوغسلافيا سابقا في مؤتمر باندونج باندونيسيا عام ١٩٥٥م
- ٢ - مساندة الدول الإفريقية لنيل الاستقلال مثل الثورة الكينية والكاميرون والكونجو وغينيا وأنجولا أفريقيا
- ٣ - كسر احتكار السلاح العالمي بعقد صفقة الأسلحة الشرقية عام ١٩٥٥ .

ب (٢) أيدت مصر الاتفاقية وما حدث من اتفاقيات أخرى تتعلق بالانسحاب الإسرائيلي من الأراضي المحتلة وإقامة السلطة الوطنية الفلسطينية .

ب (٣) تنسيق العلاقات بين الدول الأعضاء

- تنسيق الخطط السياسية والاقتصادية والاجتماعية والثقافية
- التعاون وحماية الأمن القومي العربي
- صيانة استقلال الدول الأعضاء وسيادتها
- تعزيز العمل العربي المشترك في مختلف المجالات .
- ج () يترك للطالب مع امكانية الاستعانة ب .

الدعم العربي أثناء الحرب :

- ٤ عسكريا : قدمت بعض الدول العربية دعما عسكريا لمصر وسوريا مثل (العراق والجزائر وليبيا والأردن والمغرب والسعودية والسودان والكويت وتونس)
- ٤ ماليا : قدمت بعض الدول العربية دعما ماليا لمصر وسوريا مثل (السعودية والجزائر والإمارات)
- ٤ سياسيا : قرر وزراء النفط العربي في اجتماعهم بالكويت خفض انتاج البترول فارتفعت أسعاره ثم حظر الصادرات النفطية إلى الولايات المتحدة الأمريكية خاصة عندما طلب الرئيس الأمريكي مساعدات عاجلة لإسرائيل .

٤ (١) من أكون ... ؟

- (١) توليت رئاسة الحكومة المصرية عقب حادث فبراير ١٩٤٣ مصطفى النحاس
- (٢) وضعت خطة الخداع لصرف أنظار إسرائيل عن التجهيزات الهجومية لحرب أكتوبر ١٩٧٣ المشير أحمد اسماعيل
- (٣) أنشأت عدة مجالس استشارية لا سلطة لها في مصر مثل مجلس المشورة .
- (٤) أصدرت أول مجلة نسائية مصرية (الريحانة) عام ١٩٠٧م . محمد علي جميلة حافظ

ب (٢) ما النتائج التي ترتبت على ... ؟

- (١) فشل العدوان الثلاثي على مصر عام ١٩٥٦م .
- (٢) ثورة ٣٠ يونيو ٢٠١٣م .

ج (٣) ماذا كان يحدث إذا ... ؟

- (١) وافقت إسرائيل على قرار مجلس الأمن رقم ٢٤٢
- (٢) فشل مؤتمر كامب ديفيد في سبتمبر ١٩٧٨م .

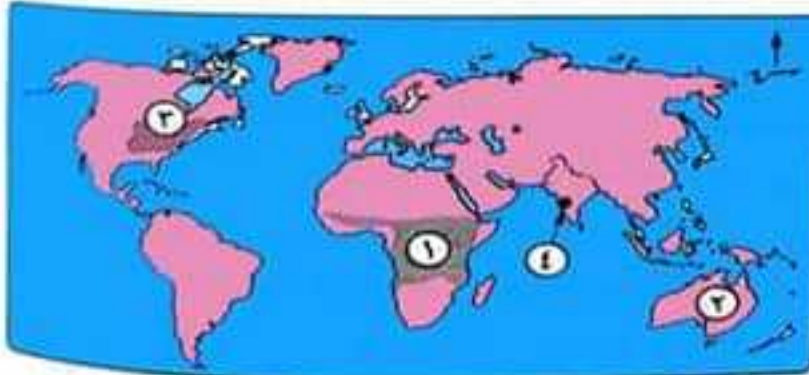
ب (٤) - انسحاب الجنترافرنسا من بورسعيد في ٢٢ ديسمبر ١٩٥٦م . ٢ - انسحاب إسرائيل من غزة وسيناء في أوائل عام ١٩٥٧م . ٣ - إدراك الدول العربية الخطر الإسرائيلي فقامت الوحدة بين مصر وسوريا ١٩٥٨م .

- ٢ (١) - عزل محمد مرسى وتسليم السلطة إلى المستشار عدلي منصور رئيس المحكمة الدستورية العليا .
- ٢ - صدور دستور جديد يناير ٢٠١٤م وعقد انتخابات رئاسية وإعلان فوز المرشح عبدالفتاح السيسي .



اولا الجغرافيا

اجب عن الاسئلة الآتية،



- ١ (١) أمامك خريطة للعالم، اكتب في كراسة إجابتك مدلول الأرقام الموقعة عليها : البدائية (١) نوع الزراعة السائدة (٢) اسم المعدن الذي تحتل هذه الدولة المرتبة الأولى في إنتاجه (البوكسيت)

(٣) إقليم صناعى شمال شرق الولايات المتحدة (٤) العاصمة التجارية

(ب) «تمثل الأسماك غذاء رئيسيا لكثير من سكان العالم خاصة في المناطق الساحلية على البحار والمحيطات». في ضوء هذه العبارة، وضح :

- (١) العوامل الطبيعية التي ساعدت على انتشار مصايد الأسماك على سواحل القارات.
(٢) أسباب قيام بعض الدول بصيد الحيتان.
(٣) أسباب إنتاج نيجيريا لكميات كبيرة من الأسماك.

(ج) ما العلاقة بين ... ؟

- (١) تدفق البترول، وحرفة الرعى البدائي في شبه الجزيرة العربية.
(٢) دولة ألمانيا، ومحطات توليد الكهرباء في مصر.

(د) اكتب المصطلح الجغرافي لكل عبارة من العبارات الآتية :

- (١) يستخرج من عصارة أشجار استوائية ويصنع منه إطارات السيارات.
(٢) احتل المصدر الأول والرئيسي للطاقة المستخدمة في العالم حتى أوائل القرن العشرين.
(٣) نبات طبيعي ينمو على السواحل الغربية والشرقية للهند.

ب (١) المقومات الطبيعية (ضخالة المياه الساحلية - التقاء التيارات البحرية الدافئة والباردة - توافر الموانئ)
٢ للاستفادة من لحومها وشحومها .

٣ تنتج نيجيريا كميات من الأسماك حيث تتمتع بساحل على خليج غينيا وبها أنهار وبحيرات بالداخل .


ج (١) ما العلاقة : ادى الى قلة عدد القاطنين على حرفة الرعى البدائي في شبه الجزيرة العربية

٢ تمويل ألمانيا لمحطات توليد الكهرباء من الرياح في مصر .

د (١) المصطلح (١) المقاطط الطبيعي (٢) الفحم (٣) الغابات الموسمية

٢ (١) صوب ما تحته خط في العبارات الآتية :

- (١) القطن من المحاصيل المعتدلة المهمة لإنتاج الخيوط التي تستخدم في صناعة المنسوجات.
(٢) تصدر الدول النامية مثل موريتانيا خام النحاس إلى الدول الصناعية المتقدمة.
(٣) تُعد آسيا أولى قارات العالم إنتاجاً للطاقة النووية.
(٤) تمتد سهول ملبار على خليج البنغال شرق الهند.



(ب) أمامك رسم بياني يمثل إنتاج إحدى أنواع الموارد الزراعية في العالم، استعن به للإجابة عما يأتي :

- (١) ما المورد الزراعى الذى يمثلته الرسم البياني ؟
(٢) حدد القيمة الاقتصادية لهذا المورد لأولى القارات المنتجة له .

(٤) كروماتيد

(٣) أوروبا

(٢) الحديد

(١) المدارية .

(٢) يستخدم كعلف للماشية وتصدر جزء منه للخارج .

ب (١) الذرة

(ج) ما النتائج المترتبة على ... ؟

- (١) استخدام الطرق العلمية الحديثة في الزراعة التجارية والعلمية.
- (٢) رخص ثمن الغاز الطبيعي وقلة تلوثه.

(د) قارن بين : الأبقار والأغنام، من حيث الأهمية الاقتصادية لكل منهما.

(ج) أدى لقلة عدد العمالة وقلة التكاليف

(٢) أدى الى التوسع في استخدام الغاز الطبيعي كمصدر للطاقة .

(د) قارن

الحيوانات	الأهمية الاقتصادية
الأبقار	تعد المصدر الرئيس للحوم الحمراء لغالبية سكان العالم وتدخل بنسبة كبيرة في التجارة الدولية
الأغنام	تربي من أجل لحومها وأصوافها

ثانياً التاريخ

(٢) (١) اكتب كلمة (صواب) أمام العبارة الصحيحة، وكلمة (خطأ) أمام العبارة غير الصحيحة، مع التصويب :

(١) كسرت مصر احتكار السلاح العالمي بعقد صفقة الأسلحة الشرقية. (صواب)

(٢) قدمت الولايات المتحدة الأمريكية مساعدات مالية ضخمة عاجلة

لمصر أثناء حرب أكتوبر ١٩٧٣م.

(خطأ لإسرائيل)

(٢) التطبيق السليم لسياسة الخصخصة أدى إلى ارتفاع الأسعار في

المجتمع المصري قبل ثورة ٢٥ يناير ٢٠١١م.

(خطأ التطبيق غير السليم)

(٤) ساهمت منظمة الأمم المتحدة للتربية والعلوم والثقافة في إنقاذ

«معابد أبو سمبل» في عام ١٩٦٤م.

(صواب)

(ب) بم تفسر ... ؟

(١) عجز الأحزاب السياسية في التعبير عن إرادة الشعب المصري ومطالبه

قبل ثورة يوليو ١٩٥٢م.

(٢) مشاركة مصر في مؤتمر مدريد للسلام عام ١٩٩١م.

(٣) أهمية الدستور الدائم لمصر عام ١٩٧١م.

(ج) ماذا كان يحدث إذا ... ؟ (١) لم تؤيد مصر حركات التحرر الوطني في الجزائر.

(٢) لم تشكل اللجان الشعبية أثناء ثورة ٢٥ يناير ٢٠١١م.

(ب) ١ - لخضوع مصر للاحتلال البريطاني . - فساد النظام الملكي . - فساد الأحزاب السياسية والصراع للوصول للحكم .

٢ (لحل الصراع العربي الاسرائيلي على أساس - مبدأ الأرض مقابل السلام . - وقرارات مجلس الأمن .

٣ (للتأكيد على ١ - سيادة القانون . ٢ - استقلال القضاء . ٣ - التعددية الحزبية .

(ج) ماذا يحدث إذا ...

١ (لم تشترك فرنسا في العدوان الثلاثي على مصر عام ١٩٥٦ م .

٢ (ج) لم يتم حماية المنشآت والمناطق . ولم يتم مواجهة أعمال السرقة والحرق والترويع .

٤ (١) لمن تنسب الأعمال التاريخية الآتية ... ؟

- (١) أذاع أول بيان لثورة ٢٣ يوليو ١٩٥٢م.
 - (٢) أصدر تصريحاً تعهدت فيه بريطانيا بإنشاء وطن قومي لليهود في فلسطين.
 - (٣) دعا كلاً من مصر وإسرائيل لعقد مؤتمر كامب ديفيد للسلام عام ١٩٧٨م.
 - (٤) تولت منصب وزيرة الشؤون الاجتماعية عام ١٩٧١م.
- (ب) «تعددت الحروب والمواجهات بين إسرائيل والعرب منذ عام ١٩٤٨م وحتى عام ١٩٧٣م».
- في ضوء هذه العبارة، وضح :

- (١) أسباب هزيمة الدول العربية في يونيو ١٩٦٧م.
 - (٢) دور القوات المسلحة المصرية في الصمود والتصدي للاعتداءات الإسرائيلية بعد عدوان عام ١٩٦٧م.
 - (٣) موقف الولايات المتحدة الأمريكية من حرب الاستنزاف.
- (ج) رتب العبارات الآتية طبقاً لأولوية حدوثها تاريخياً :
- * عودة طابا إلى السيادة المصرية.
 - * إصدار جميلة حافظ أول مجلة نسائية مصرية (الريحانة).
 - * تأميم شركة قناة السويس البحرية شركة مصرية بإدارة مصرية.
 - * إنشاء جامعة الدول العربية.

- ٤ (١) محمد أنور السادات ٢ بلفور وزير خارجية بريطانيا ٣ الرئيس الأمريكي كارتر ٤ عائشة راتب
- ب (١) - بسبب ١ - تفوق إسرائيل العسكري وخاصة السلاح الجوي . ٢ - استخدام إسرائيل لعنصر المفاجأة .
- ٣ - مساعدة الولايات المتحدة وبعض الدول الأوروبية لإسرائيل . ٤ - نقص التدريب والتسلح العربى .

٢ (١) تمثلت في صمود القوات المصرية أمام القوات الإسرائيلية على الضفة الغربية للقناة وفيها معركة رأس العش نجحت فيها القوات المصرية في التصدي للقوات الإسرائيلية وألحقت بها خسائر فادحة وأجبرتها على الانسحاب عندما حاولت احتلال مدينة بور فؤاد ١٩٦٧ .

تدمير المدمرة إيلات بالصواريخ البحرية المصرية في أكتوبر ١٩٦٧ م .

٢ (٢) تقدم روجرز وزير خارجية الولايات المتحدة بمبادرة لوقف إطلاق النار تمهيداً لحل النزاع بالطرق السلمية

ج (الترتيب

- (١) إصدار جميلة حافظ أول مجلة نسائية مصرية (الريحانة)
- (٢) إنشاء جامعة الدول العربية
- (٣) تأميم شركة قناة السويس شركة مصرية بإدارة مصرية
- (٤) عودة طابا إلى السيادة المصرية



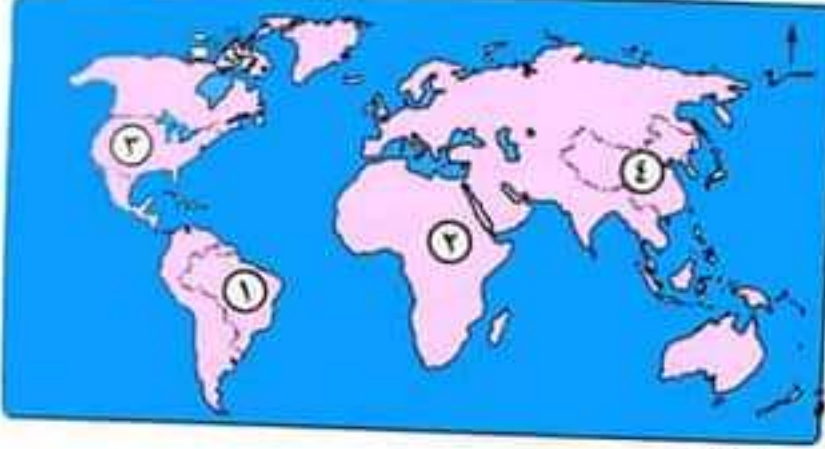


مجاب
عنه

اولا الجغرافيا

اجب عن الأسئلة الآتية:

١ (١) أمامك خريطة للعالم، وضح مدلول الأرقام الموجودة عليها :



- (١) أكبر دول أمريكا الجنوبية مساحة .. البرازيل
(٢) ثاني قارات العالم إنتاجا للمعاطط الطبيعي ... أفريقيا
(٣) أولى دول العالم إنتاجا للغاز الطبيعي الولايات المتحدة
(٤) أكبر دول العالم إنتاجا للفحم .. الصين...

(ب) اكتب المصطلح الجغرافي لكل عبارة مما يأتي :

- (١) أكبر الأقاليم الصناعية في العالم الجديد . إقليم شمال شرق الولايات المتحدة الأمريكية
(٢) زراعة يعمل بها عدد قليل من السكان في مناطق صغيرة ومعزولة . زراعة بسيطة (بدائية)
(ج) صوب ما تحته خط، ثم أعد كتابة العبارة صحيحة :
(١) أكبر دول العالم إنتاجا للألبان فرنسا . جمهورية الهند
(٢) أولى دول العالم إنتاجا للبوكسيت الصين . أستراليا
(د) دلل جغرافيا على صحة كل عبارة مما يأتي :
(١) ترتبط مصر بألمانيا بعلاقات ثقافية وعلمية .
(٢) صناعة الألومنيوم تحتاج إلى عدة مقومات لقيامها .

(د ١) ⇔ علاقات ثقافية وعلمية بين البلدين تتمثل في :

- (هيئة التبادل العلمي الألمانية - المركز الثقافي الألماني - الجامعة الألمانية بالقاهرة - معهد الآثار الألماني)
(٢) - تحتاج صناعة الألومنيوم إلى عدة مقومات من (طاقة كهربائية وخبرة فنية وعلمية وسوق محلية وخارجية تستوعب الإنتاج)

٢ (١) اختر الإجابة الصحيحة مما بين القوسين :

- (١) الغذاء الرئيسي لمعظم شعوب العالم محصول (الأرز - القمح - الذرة - الشعير)
(٢) من الدول النامية المصدرة لخام الحديد (موريتانيا - ليبيا - السودان - جيبوتي)
(٣) البرازيل أولى دول العالم إنتاجا لمحصول (الشاي - المعاطط - البن - القمح)
(٤) يحد ألمانيا من جهة الشمال دولة (الدنمارك - بولندا - فرنسا - النمسا)

(ب) بم تفسر ... ؟ (١) تقدم الصناعة وتطورها في الدول المتقدمة.

(٢) أهمية الثروة الحيوانية في العالم.

(٣) يُزرع قصب السكر في كل قارات العالم عدا قارة أوروبا.

(٤) تُعد إندونيسيا من أهم الدول إنتاجاً للأسمك في العالم.

(ج) ما العلاقة بين : الديانة الهندوسية، وضخامة أعداد الأبقار في الهند ؟

التاريخ

٢ (١) اكتب كلمة (صواب) أمام العبارة الصحيحة، وكلمة (خطأ) أمام العبارة غير الصحيحة، مع التصويب :

(١) أذيع البيان الأول لثورة ٢٣ يوليو ١٩٥٢ بصوت محمد نجيب. خطأ محمد أنور السادات

(٢) أعطى مؤتمر سان ريمو في أبريل ١٩٢٠ لبريطانيا حق الانتداب على فلسطين. (صواب)

(٣) من أمثلة التعاون بين منظمة اليونسكو ومصر إنقاذ معابد أبو سمبل عام ١٩٦٤م. (صواب)

(٤) من المجالس النيابية الاستشارية في مصر والتي لا سلطة لها قبل

الاحتلال البريطاني مجلس المشورة. (صواب)

(ب) ما النتائج التي ترتبت على ... ؟

(١) مؤتمر كامب ديفيد سبتمبر ١٩٧٨م.

(٢) العدوان الإسرائيلي في ٥ يونيو ١٩٦٧م.

(٣) * رئاسة مصر لمنظمة الاتحاد الأفريقي للمرة الثالثة فبراير ٢٠١٩م.

(ج) ماذا كان يحدث إذا : أهملت الدولة مكانة المرأة في الفترة من عام ١٩٨١م وحتى الآن ؟

ب (ب) بم تفسر ١ : - لأنها : - أخذت بالأساليب العلمية. - تطبيق الأبحاث والتجارب العلمية. - تطوير وتحديث المنتجات الصناعية بشكل مستمر

٢ (٢) - تعد المصدر الرئيسي للحوم الحمراء والألبان بجانب الجلود والصوف وغيرها .

٣ (٣) - لوقوع قارة أوروبا في المنطقة المعتدلة وقصب السكر يحتاج إلى مناخ مداري .

٤ (٤) بسبب طول السواحل على البحار والمحيطات . - تقدم وسائل الصيد .

ج (٣) ما العلاقة : أكبر عدد من الأبقار (٢٢٠ مليون رأس) في العالم وأن كانت قيمتها الاقتصادية محدودة (بسبب تحريم الهندوس أكل لحوم الأبقار)

التاريخ .. ب (١) ما النتائج ..

١ (١) ج . التوصل إلى إطار اتفاق للسلام بين مصر وإسرائيل .

٢ (٢) ج . نجاح إسرائيل في الاستيلاء على قطاع غزة والضفة الغربية لنهر الأردن ومدينة القدس العربية .

- استولت على سيناء من مصر . - استولت إسرائيل على هضبة الجولان من سوريا .

٣ (٣) تبنت مصر إستراتيجية جديدة تهدف إلى :

- العمل على تذليل العقبات التي تواجه تعميق العمل الأفريقي المشترك .

- تشجيع أبناء القارة على بناء المشروعات القارية الرائدة بتطوير البنية التحتية الإفريقية

- ربط الأسواق الإفريقية وتفعيل اتفاقية التجارة الحرة .

ج (٣) ماذا يحدث إذا : لم يتم إنشاء المجلس القومي للمرأة ولم تتقلد بعض الوظائف والمناصب المختلفة .

٤ (١) اكتب اسم الشخصية التي تتحدث عن نفسها :

- (١) قمت بتأسيس تنظيم الضباط الأحرار.
 - (٢) عملت رئيساً لأركان حرب القوات المسلحة في حرب الاستنزاف.
 - (٣) كنت قائد سلاح الطيران في حرب أكتوبر ١٩٧٣ م.
 - (٤) عملت رئيساً للمحكمة الدستورية العليا وتسلمت حكم مصر في يوليو ٢٠١٣ م.
 - (٥) تنازلت عن عرش مصر لابني الصغير أحمد فؤاد الثاني.
- (ب) دلل تاريخياً على صحة كل عبارة من العبارات الآتية :
- (١) كان للأمم المتحدة دور كبير في تقسيم فلسطين عام ١٩٤٧ م.
 - (٢) لجأت مصر للطرق السلمية في استعادة طابا.
 - (٣) كان للدول العربية دور بارز في حرب أكتوبر ١٩٧٣ م.
- (ج) ما رأيك في : الاستعانة بالقوات المسلحة المصرية أثناء ثورة ٢٥ يناير ٢٠١١ م ؟

٤ (اسم الشخصية :

١ (جمال عبد الناصر

٢ (الفريق اول عبد المنعم رياض

٣ (محمد حسنى مبارك

٤ (المستشار عدلى منصور

٥ (الملك فاروق

ب (دلل ... عرضت بريطانيا قضية فلسطين على الأمم المتحدة عام ١٩٤٧

وافقت الأمم المتحدة على تقسيم فلسطين إلى :

دولة عربية - دولة يهودية

القدس منقطة دولية (وضعها تحت إدارة دولية)

٢ (- تم إحالة القضية إلى التحكيم الدولي وبعد قرار التحكيم في ٢٩ سبتمبر ١٩٨٨ م عادت طابا لمصر في ١٩ مارس ١٩٨٩

٣ (الدعم العربي أثناء الحرب :

٤ عسكريا : قدمت بعض الدول العربية دعماً عسكرياً لمصر وسوريا مثل (العراق والجزائر وليبيا والأردن والمغرب والسعودية والسودان والكويت وتونس)

٤ ماليا : قدمت بعض الدول العربية دعماً مالياً لمصر وسوريا مثل (السعودية والجزائر والإمارات)

٤ سياسياً : قرر وزراء النفط العربي في اجتماعهم بالكويت خفض انتاج البترول فارتفعت أسعاره ثم حظر الصادرات النفطية إلى الولايات المتحدة الأمريكية خاصة عندما طلب الرئيس الأمريكي مساعدات عاجلة لإسرائيل .

ج - (ما رأيك بترك الطلاب للتعبير عن رأيه ويمكن الاستعانة بـ .

حماية وتأمين الممتلكات (العامة والخاصة)

المحافظة على أمن المواطنين .

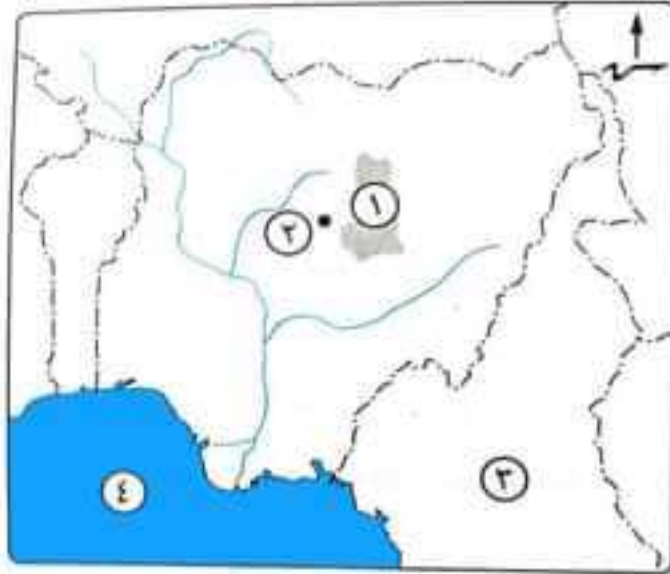




مجاب
عليه

أولاً الجغرافيا

أجب عن الأسئلة الآتية:



١) أمامك خريطة لدولة نيجيريا. وضح مدلول الأرقام الموجودة عليها:

- (١) هضبة جوس....
- (٢) مدينة.... أبوجا.
- (٣) دولة الكاميرون.
- (٤) مسطح مائي خليج غينيا.

ب) ما الفوائد المترتبة على ... ؟

- (١) صغر مساحات الحقول الزراعية في نطاق الزراعة الكثيفة.
- (٢) وقوع الصين على المحيط الهادى ووجود الأنهار والبحيرات ومزارع تربية الأسماك بها.
- (٣) زيادة الطلب على البترول وتعدد استخداماته.
- (٤) وجود التلال والينابيع بالمرتفعات الوسطى في ألمانيا.

ج) قارن بين : القطن، والمطاط الطبيعى، من حيث : * الأهمية. * أهم الدول المنتجة.

ب) ما الفوائد ...

- ١) صعوبة استخدام الآلات والمكنة الزراعية.
- ٢) أصبحت الصين من أهم الدول في إنتاج الأسماك في العالم.
- ٣) ارتفاع أسعاره بشكل مستمر.
- ٤) أصبحت المرتفعات الوسطى مناطق جذب للسياح.

ج) المقارنة بين القطن والمطاط من حيث الأهمية - أهم الدول المنتجة.

وجه المقارنة	القطن	المطاط
الأهمية	إنتاج الخيوط التي تستخدم في أجود الملابس - استخراج زيت بذرة القطن وصناعة الأعلاف.	يستخدم في صناعة إطارات السيارات والصناعات الأخرى.
أهم الدول المنتجة	الصين / الهند	تايلاند



٢ (١) اخترا الإجابة الصحيحة مما بين القوسين :

- (١) أكبر دولة منتجة للبنجر في قارة أفريقيا دولة
(جنوب أفريقيا - مصر - نيجيريا - السودان)
(٢) تعتبر ثاني دول العالم إنتاجاً للقمح.
(الصين - الهند - الولايات المتحدة الأمريكية - روسيا)
(٣) من المراكز الصناعية الحديثة في أمريكا الجنوبية
(بيرو - بوليفيا - الأرجنتين - المكسيك)
(٤) تُعد البرازيل أولى دول العالم إنتاجاً لـ
(الصوف - البن - اللحوم - القمح)
(٥) يحد ألمانيا من جهة الغرب دولة
(بولندا - التشيك - الدنمارك - فرنسا)
(ب) «تعد مصادر الطاقة القوى المحركة لحياة الإنسان». في ضوء ذلك، أجب عما يأتي :

- (١) وضح : استخدامات الغاز الطبيعي.
(٢) ما العلاقة بين : الألومنيوم، والطاقة الكهربائية ؟
(٣) حدد : أهم مراكز الصناعة في إقليم شرق آسيا.
(٤) ماذا يحدث إذا : اتجهت الدول النامية لتصنيع الحديد بدلاً من تصديره خام ؟
(٥) دلل جغرافياً على صحة العبارة الآتية :
يعد النشاط الزراعي من الأنشطة الاقتصادية الأساسية في العالم.



ب (١) حيث يستخدم في [١ - الصناعة على نطاق واسع ٢ - الاستخدامات المنزلية - توليد الطاقة الكهربائية وقود للسيارات بدلاً للبترين للحد من التلوث] .

٢ (٢) وفرة الطاقة الكهربائية من مقومات صناعة الألومنيوم .

٣ (٣) توجد مناطق صناعية في دول هذا النطاق الصناعي خاصة الجزيرة اليابانية (هنشو) وجمهورية كوريا ومناطق صناعية عديدة بالصين

٤ (٤) سوف تصبح هذه الدول من الدول ذات مستوى معيشي مرتفع وسوف يرتفع الدخل القومي والفردى لهذه الدول .

٥ (٥) - لأنه مصدر رئيسى لغذاء الإنسان . - مصدر لتربية الحيوان . - مصدر للمواد الخام (زراعية / حيوانية / معدنية) .

ثانياً التاريخ

٢ (١) أعد كتابة العبارات الآتية بعد تصويب ما تحته خط :

(١) أسس جمال عبدالناصر تنظيم تكون من مجموعة من ضباط الجيش المصري عُرف باسم عدم الانحياز . الضباط الأحرار

(٢) وضعت فلسطين تحت الانتداب البريطاني بمقتضى مؤتمر باندونج ١٩٢٠م . سان ريمو

(٣) عقد مؤتمر كامب ديفيد على أساس مبدأ الأرض مقابل السلام . مؤتمر مدريد للسلام

(٤) استشهد الفريق أول عبدالمنعم رياض في حرب أكتوبر ١٩٧٣م . حرب الاستنزاف ١٩٦٩م

(٥) إقامة الوحدات الصحية والجمعيات الزراعية من إنجازات ثورة ٢٣ يوليو ١٩٥٢م

في المجال السياسي . المجال الاجتماعي

- (١) لم تحقق معاهدة ١٩٣٦ الاستقلال الحقيقي لمصر.
- (٢) فشل العدوان الثلاثي على مصر.
- (٣) تشكيل اللجان الشعبية أثناء ثورة ٢٥ يناير ٢٠١١م.
- (٤) صدور الدستور الدائم عام ١٩٧١م.
- (٥) إنشاء محكمة العدل الدولية.

٤ (١) اخترا الإجابة الصحيحة مما بين القوسين :

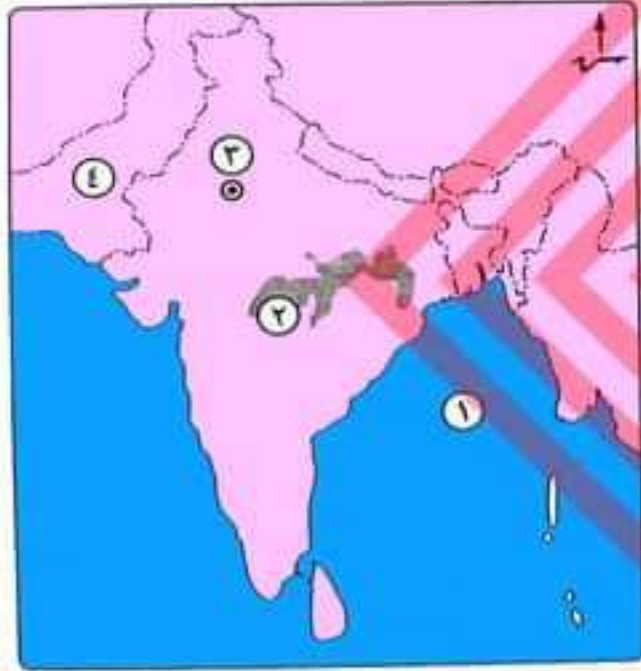
- (١) قامت مصر في أكتوبر ١٩٥٤م ب.....
(إلغاء دستور ١٩٢٣م - توقيع اتفاقية الجلاء - إلغاء الملكية وإعلان الجمهورية - إصدار قانون الإصلاح الزراعي)
- (٢) إحكامًا للحصار الاقتصادي الذي فرضه العرب على إسرائيل قامت مصر بإغلاق خليج في مايو ١٩٦٧م.
(السويس - عدن - العقبة - هرمز)
- (٣) نجحت القوات المصرية في هزيمة القوات الإسرائيلية في معركة رأس العش عندما حاولت احتلال مدينة
(بورسعيد - بورفؤاد - السويس - الإسماعيلية)
- (٤) شاركت المرأة في الحياة النيابية، وشغلت الدكتوراة منصب رئيس اللجنة التشريعية بمجلس الشعب.
- (٥) حكمت أبو زيد - عائشة راتب - أمال عثمان - تهاني الجبال
(يعد أعلى سلطة داخل الجامعة العربية.
(مجلس الجامعة - الأمين العام - الأمناء المساعدون - اللجان الدائمة)
- (ب) «كانت حرب أكتوبر ١٩٧٣م أحد حلقات الصراع مع إسرائيل». في ضوء ذلك، وضع :
(١) أسباب حرب أكتوبر ١٩٧٣م.
(٢) الإجراءات التي قامت بها مصر لإعداد وتهيئة الجبهة الداخلية استعدادًا لحرب أكتوبر ١٩٧٣م.
(٣) دور الدول العربية في دعم مصر وسوريا في حرب أكتوبر ١٩٧٣م.
- (ج) دلل تاريخيًا على صحة كل عبارة مما يأتي :
(١) عدم التزام اليهود بالهدنة كان سببًا لتفوقهم في حرب ١٩٤٨م.
(٢) لتحقيق السلام وإنهاء الصراع العربي / الإسرائيلي عدة مزايا لمصر والدول العربية.
- (ب) بم تفسر ... (١٠ ج - حيث قامت بريطانيا بحصار قصر عابدين لإجبار الملك فاروق على تشكيل حكومة جديدة برئاسة مصطفى النحاس مما يعد تدخلًا سافرًا في شئون مصر الداخلية .
- (٢) بسبب - المقاومة الباسلة من الجيش والشعب وصلابة القيادة . - وقوف الشعوب العربية إلى جانب مصر .
تهديد الاتحاد السوفيتي بالتدخل لوقف العدوان . - رفض الولايات المتحدة استخدام القوة في حل النزاعات .
تنديد الأمم المتحدة بالعدوان .
- (٣) - لحماية المنشآت والمناطق . - مواجهة أعمال السرقة والحرق والترويع .
- (٤) التأكيد على ١ - سيادة القانون . ٢ - استقلال القضاء . ٣ - إقرار مبادئ التعددية الحزبية .
- (٥ ج - حيث تعد الجهاز القضائي الأساسي للأمم المتحدة - تختص بالنظر في القضايا الدولية وتقديم الاستشارات القانونية .
- (٤ ب) (١) - رفض إسرائيل لكل نداءات السلام بالانسحاب من الأراضي التي احتلتها في حرب ٥ يونيو ١٩٦٧م .
- تصميم مصر وسوريا على إزالة آثار هزيمة يونيو ١٩٦٧م .
- (٢) الجبهة الداخلية : ١ - رفع الرقابة عن الصحف . ٢ - إصدار دستور ١٩٧١م . ٣ - إلغاء الحراسات والإجراءات المقيدة للحريات . ٤ - القضاء على مراكز القوى . ٥ - تجهيز وتسليح الجيش وتدريبه .
- (٣) الدعم العربي أثناء الحرب :
عسكريًا : قدمت بعض الدول العربية دعماً عسكرياً لمصر وسوريا مثل (العراق والجزائر وليبيا والأردن والمغرب والسعودية والسودان والكويت وتونس)



- ٤ ماليا : قدمت بعض الدول العربية دعما ماليا لمصر وسوريا مثل (السعودية والجزائر والإمارات)
٤ سياسيا : قرر وزراء النفط العربي في اجتماعهم بالكويت خفض إنتاج البترول فارتفعت أسعاره ثم حظر الصادرات النفطية إلى الولايات المتحدة الأمريكية خاصة عندما طلب الرئيس الأمريكي مساعدات عاجلة لإسرائيل .

(ج) دلل تاريخيا

- ١ () لم يلتزم اليهود بالهدنة وبدأوا في تسليح أنفسهم والتدريب استؤنف القتال فظهر التفوق اليهودي مما أدى إلى هزيمة وتراجع القوات العربية .
٢ () مزايا تحقيق السلام وحل الصراع العربي الإسرائيلي .
١ - تحقيق الاستقرار الداخلي للبلاد العربية .
٢ - دفع عجلة التنمية الاقتصادية والاجتماعية .
٣ - تشجيع رؤوس الأموال على الاستثمار في مصر والدول العربية .
٤ - تنشيط حركة السياحة .



١ (١) أمامك خريطة لدولة الهند، اكتب ما تشير إليه الأرقام الآتية :

- (١) خليج البنغال
(٢) هضبة الدكن
(٣) مدينة نيودلهي
(٤) دولة باكستان

(ب) « إن إشباع حاجات الإنسان هي المحرك الأساسي وراء تنوع الأنشطة الاقتصادية في العالم ». في ضوء العبارة، وضح :

- (١) العلاقة بين أنواع الزراعة والهدف منها.
(٢) أثر الصحارى في نوع وتوزيع مناطق الرعى في العالم.
(٣) مقترحاتك لزيادة إنتاج الطاقة في مصر (من خلال ما درست).
(٤) عوامل انتشار حرفة الرعى في هضبة البرازيل، وجهود الدولة لتعمير تلك الهضبة.

(ب ١)

الزراعة البسيطة	الزراعة الكثيفة	الزراعة التجارية	الهدف منها
تهدف إلى توفير الاحتياجات الغذائية اللازمة للسكان المحليين	تهدف إلى إشباع حاجة السكان المحليين من الغذاء	تهدف إلى الإنتاج التجاري الضخم .	

- ٢ () - ارتبط بالصحارى وجود الرعى البدائي مثل الصحارى الحارة (شبه الجزيرة العربية وبادية الشام - شمال أفريقيا) - صحارى دول وسط آسيا - صحراء التندرا الباردة (آسيا - أوروبا) .

٣ () بترك للطلاب

- ٤ () + تنمو حشائش السافانا في هضبة البرازيل . + تنمو الحشائش المعتدلة قرب حدودها الجنوبية + وجود المراعي الدائمة في الشمال تغطي من هضبة البرازيل .
جهود الدولة لتعميرها أنشئت عدة مدن لتعميرها مثل مدينة برازيليا .



٢ (١) ما النتائج المترتبة على ... ؟

- (١) استخدام ألمانيا للتكنولوجيا والأساليب العلمية المتقدمة في الأنشطة الاقتصادية.
- (٢) تركيز نسبة من إنتاج المعادن والطاقة بالدول النامية. (مع التمثيل)
- (٣) وجود المناخ الاستوائي والمدارى في قارة آسيا بالنسبة لإنتاج الموارد الزراعية.
- (٤) توافر المراعى الطبيعية في دولة الصين.

(ب) اكتب ما تشير إليه كل عبارة من العبارات التالية :

- (١) جبال بها أعلى القمم الجبلية في دولة ألمانيا.
- (٢) أكبر الأقاليم الصناعية في العالم الجديد.
- (٣) أولى دول العالم إنتاجاً للسكر.
- (٤) دولة تساهم بحوالى ثلث إنتاج الأسماك في العالم.

٢ (١) أدى إلى + تقدم الزراعة لاعتمادها على التكنولوجيا الحديثة . + تربية الماشية والخنازير والأغنام لإنتاج اللحوم والألبان في حظائر بأساليب علمية حديثة + توسع وتطور الصناعات الألمانية بعد الحرب العالمية الثانية لتوافر المراكز العلمية ترتب على ذلك ارتفاع مستوى شعوب هذه الدول واقتربت من مستوى الدول المتقدمة مثل مصر والصين وجنوب أفريقيا

٣ (٢) أدى إلى إنتاج قارة آسيا من المحاصيل الاستوائية والمدارية مثل قصب السكر وهى اكبر القارات إنتاجاً له وأيضاً محصول المطاط الذي يستخرج من عصارة أشجار استوائية .

٤ (٣) أصبحت أولى الدول في تربية الأغنام بسبب توافر الحشائش ، وأولى الدول في إنتاج اللحوم ومعظمها من لحوم الخنازير وثاني دول العالم إنتاجاً للصوف .

ب (١) جبال الألب (٢) إقليم شمال شرق الولايات المتحدة الأمريكية (٣) البرازيل (٤) الصين

ثانياً التاريخ

٣ (١) أكمل كل عبارة مما يأتي بما يناسبها مما بين القوسين :

(الاتحاد السوفيتى - بريطانيا - مجالس استشارية - الولايات المتحدة الأمريكية - أحزاب - إدارات محلية)

- (١) بموجب دستور عام ١٩٢٣م تم تشكيل عدة .. أجزله.
- (٢) عقدت حكومة ثورة ١٩٥٢م اتفاقية مع لتزويد مصر بالأسلحة.
- (٣) أنشأ محمد على عدة لا سلطة لها. مجالس استشارية
- (٤) أقامت جسراً جويًا لتقديم المساعدة العسكرية لإسرائيل أثناء حرب أكتوبر ١٩٧٣م. الولايات المتحدة الأمريكية

(ب) بم تفسر ... ؟

- (١) أهمية منظمة الأمم المتحدة.
- (٢) تأسيس ضباط الجيش تنظيم خاص بهم قبل عام ١٩٥٢م.
- (٣) إعداد وتخطيط مصر وسوريا لحرب أكتوبر ١٩٧٣م.
- (٤) لمصر دور مهم في توطيد الروابط العربية والتعاون الدولى.

- ب (١) منظمة عالمية تضم في عضويتها جميع دول العالم المستقلة ومقرها نيويورك
- المحافظة على السلام والأمن الدوليين
 - تنمية العلاقات الودية والتعاون الدولي لحل المشكلات الاقتصادية والاجتماعية والثقافية
 - تعزيز احترام حقوق الانسان وحرياته .
- (٢) - لقيام بثورة للقضاء على الفساد والعمل على تحرير البلاد من الاستعمار .

- (٣) بسبب رفض إسرائيل كل نداءات السلام بالانسحاب من الأراضي التي احتلتها في ١٩٦٧م
- تصميم مصر وسوريا على إزالة آثار هزيمة يونيو ١٩٦٧ م واسترداد سيناء والجولان .
- (٤) حيث شاركت مصر في انشاء جامعة الدول العربية كما أسهمت في تأسيس منظمة الاتحاد الأفريقي وساهمت في تأسيس حركة عدم الانحياز ومنظمة المؤتمر الاسلامي .

٤ (ا) رتب الأحداث التاريخية التالية ترتيباً زمنياً من الأقدم إلى الأحدث :

- * إصدار منظمة اليونسيف إعلان حقوق الطفل .
 - * عقد مؤتمر سان ريمو .
 - * إنشاء إسماعيل مجلس شورى النواب .
 - * إعلان اليهود قيام دولة إسرائيل .
- (ب) « يقول رفاة الطهطاوى في كتابه المرشد الأمين : إن تعليم المرأة يحقق مزايا عديدة للمجتمع » . في ضوء العبارة السابقة ، أجب عما يلي :
- (١) ما رأيك في تلك العبارة ؟ ثم حدد بعض المزايا لتعليم المرأة .
 - (٢) صنف دور المرأة في العمل الوطني بعد ثورة ١٩١٩م حتى ثورة ١٩٥٢م .
 - (٣) أثبت بالأدلة التاريخية : تقدير الدولة للمرأة المصرية منذ عام ١٩٨١م حتى الآن .
 - (٤) ما العلاقة بين : ثورة ٢٣ يوليو ١٩٥٢م ، ونهضة التعليم ؟

- (٤) ١ - إنشاء إسماعيل مجلس شورى النواب ٢ - عقد مؤتمر سان ريمو ٣ - إعلان قيام دولة إسرائيل ٤ - إصدار منظمة اليونسيف إعلان حقوق الطفل .

- ب (١) يترك للطلاب للتعبير عن رأيه .
- (٢) من ثورة ١٩١٩م حتى ثورة ١٩٥٢م شهدت نهضة رائدة للمرأة كما يلي :
- شاركت في ثورة ١٩١٩م .
- عقدت اجتماعات للتعبير عن الوحدة الوطنية ديسمبر ١٩١٩
- تشكيل لجنة الوفد للسيدات ١٩٢٠م انتخبت هدي شعراوي رئيس لها .
- التحق بالجامعة المصرية ١٩٢٨م وساهمت في النهضة
- (٣) تم إنشاء المجلس القومي للمرأة .
- تقلدت بعض المناصب والوظائف المختلفة .
- (٤) العلاقة بين ثورة يوليو والتعليم حيث جعلت التعليم بالمجان بجميع مراحله والتوسع في إنشاء المدارس والجامعات .

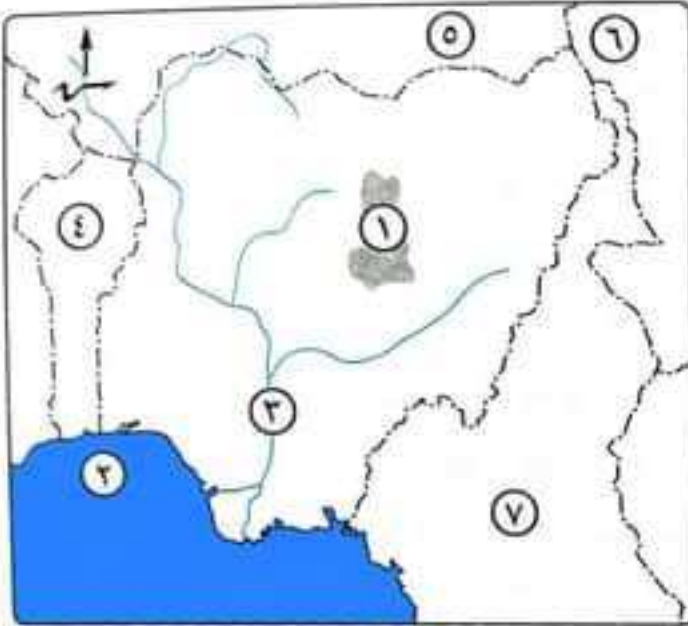




مجاب
عنه

أولاً الجغرافيا

أجب عن الأسئلة الآتية:



١) أمامك خريطة لدولة نيجيريا، اكتب مدلول الأرقام الآتية :

(١) هضبة ... **جوس**

(٢) خليج .. **غينيا**

(٣) نهر .. **النيجر**

(٤) دولة تشاد تحمل على الخريطة

الرقم ٦

(ب) بم تفسر ... ؟

(١) تركيز زراعة الشاي في دول شرق آسيا.

(٢) تزرع الأرض في مناطق الزراعة الكثيفة أكثر من مرة في العام.

(٣) تُعد الولايات المتحدة الأمريكية من أكبر الدول المصنعة للألومنيوم.

(ج) ما المقصود بالمصطلحات الجغرافية الآتية ... ؟

(١) الرعى التجارى . (٢) النشاط التعدينى . (٣) مصادر الطاقة .

ب (بم تفسر ... ١) لتوافر ظروف الزراعة من تربته من خصبة خفيفة ومناخ حار وهواء رطب ومطر غزير .

٢ (لإشباع حاجة السكان من الغذاء

٣ (حيث تتوافر مقومات صناعة الألومنيوم من (طاقة كهربائية وخبرة فنية وعلمية وسوق محلية وخارجية تستوعب الإنتاج .

ج (الرعى التجارى : رعى يمارس في مناطق حشائش الإستبس والسافانا في قارات العالم ويعتمد على الأساليب الحديثة في الزراعة والتخصص في حيوان الرعى .

- النشاط التعدينى : عملية استخراج المعادن ومصادر الطاقة من باطن الأرض أو بالقرب من السطح .

- مصادر الطاقة : هي القوى المحركة لحياة الإنسان في جميع مجالات حياته كما أنها من الموارد الطبيعية الهامة التي

لاغنى عنها في الصناعة وفي مختلف الاستخدامات البشرية .

٢) (١) اكتب كلمة (صواب) أمام العبارة الصحيحة، وكلمة (خطأ) أمام العبارة غير الصحيحة :

(١) تتركز زراعة القطن في قارة آسيا . (صواب)

(٢) تحتل دولة النرويج المركز الأول عالمياً في إنتاج الدواجن . (خطأ)

(٣) يتم صيد الحيتان من المحيطات للاستفادة من لحومها وشحوماتها . (صواب)

(٤) تعتبر جزيرة هنشو منطقة صناعية في إقليم شرق آسيا . (صواب)

(٥) برمنجهام من أهم المدن الصناعية في منطقة شمال شرق الولايات المتحدة الأمريكية . (خطأ)

(٦) تنتج الولايات المتحدة الأمريكية ثلث الإنتاج العالمى من الصناعات الكهربية والإلكترونية . (صواب)

(ب) «جمهورية الهند إحدى دول قارة آسيا شهدت تطورات هائلة في المجالات الاقتصادية والسياسية». في ضوء هذه العبارة، أجب عما يأتي :

- (١) دلل : (١) واجهت الهند المشكلة السكانية بسياسات تنموية مختلفة.
(٢) تعد الصناعة الحديثة مقياساً رئيسياً لتطور الشعوب وازدهارها.
(٣) ماذا يحدث إذا : نجحت مصر في توليد الكهرباء من الطاقة النووية ؟
(٤) ما العاصمة السياسية للهند ؟ وبم تتميز ؟

- ١ (ب) - واجهت ذلك سياسات تنموية مختلفة مثل التوسع في زراعة المحاصيل الغذائية وتطوير الصناعات المختلفة إلى جانب الاهتمام بالتعليم ومراكز البحوث العلمية.
٢ - لأنها : - أخذت بالأساليب العلمية . تطبيق الأبحاث والتجارب العلمية . - تطوير وتحديث المنتجات الصناعية بشكل مستمر
٣ - سوف يؤدي الى تقليل الاعتماد على البترول والغاز الطبيعي في توليد الكهرباء . سد احتياجات مصر من الطاقة الكهربائية - تطور الصناعة في مصر .
٤ (نيو دلهي تتميز بوجود المراكز الصناعية - الجامعات - المعالم التاريخية والأثرية .

التاريخ

- (١) اخترا الإجابة الصحيحة مما بين القوسين :
(١) أهم إنجازات ثورة ٢٣ يوليو ١٩٥٢ السياسية (تأميم قناة السويس - صدور قانون الإصلاح الزراعي - تمصير البنوك - نشأة حركة عدم الانحياز)
(٢) كانت الوحدة بين مصر وسوريا من نتائج (حرب فلسطين عام ١٩٤٨ - العدوان الثلاثي - عدوان ٥ يونيو ١٩٦٧ - حرب الاستنزاف)
(٣) من أسباب ثورة ٢٥ يناير ٢٠١١ تزوير الانتخابات عام ٢٠١٠ لصالح (حزب الوفد - حزب الأحرار الدستوريين - حزب الأمة - الحزب الوطني)
(٤) * أقام محمد علي عدة مجالس مثل (مجلس شورى القوانين - مجلس المشورة - مجلس شورى النواب - مجلس الأمة)

(ب) قارن بين كل من :
موقف مجلس الأمن من عدوان ٥ يونيو ١٩٦٧ ، ومن حرب أكتوبر ١٩٧٣ .

(ج) ما النتائج التي ترتبت على ... ؟

- (١) عقد مؤتمر مدريد للسلام عام ١٩٩١ .
(٢) التطبيق غير السليم لسياسة الخصخصة في مصر قبل ثورة ٢٥ يناير ٢٠١١ .

ب (قارن

موقف مجلس الأمن في عدوان ١٩٦٧ م	موقف مجلس الأمن في حرب أكتوبر ١٩٧٣ م
قرار مجلس الأمن رقم ٢٤٢ نوفمبر ١٩٦٧ إنهاء حالة الحرب بين العرب وإسرائيل احترام دول المنطقة على أراضيها انسحاب إسرائيل من الأراضي التي احتلتها في ١٩٦٧ حرية الملاحة في الممرات الدولية إنشاء مناطق منزوعة السلاح	وتم إصدار القرار ٣٣٨ الذي يقضي بوقف جميع الأعمال الحربية بدء من يوم ٢٢ أكتوبر ١٩٧٣ وقبلت مصر القرار وبدأت المباحثات بينهم .



ج (ما النتائج :

- ١ (أ - الاتفاق على حل الصراع العربي الإسرائيلي على أساس مبدأ الأرض مقابل السلام وقرارات مجلس الأمن .
- ب - حدوث مفاوضات سرية بين إسرائيل ومنظمة التحرير الفلسطينية في أوسلو أسفرت عن توقيع اتفاقية في سبتمبر ١٩٩٣م (اتفاقية أوسلو) بواشنطن برعاية أمريكية .

٢ (أدى إلى - ارتفاع الأسعار - تجمع آلاف العاملين بعد خروجهم بنظام التقاعد المبكر وانضمامهم لصفوف البطالة .

٤ (١) اكتب ما تشير إليه كل عبارة من العبارات التالية :

- (١) تنازل له الملك فاروق عن الحكم بعد ثورة ٢٣ يوليو ١٩٥٢م .
- (٢) مؤتمر عقد بالولايات المتحدة الأمريكية وتم التوصل فيه إلى إطار للسلام بين مصر وإسرائيل .
- (٣) * دولة أصبح لها حق الانتداب على فلسطين بموجب قرارات مؤتمر سان ريمو ١٩٢٠م .

(٤) أول مجلة نسائية مصرية ظهرت في فبراير ١٩٠٧م .

(ب) «تعرضت فلسطين لمؤامرة دولية منذ الحرب العالمية الأولى وأثرت بصورة مباشرة

على البلاد العربية» . في ضوء العبارة، وضح :

(١) إجراءات إنجلترا لتنفيذ وعد بلفور .

(٢) الهدف من إنشاء جامعة الدول العربية .

(ج) ما رأيك في ... ؟

(١) موقف ثورة يوليو ١٩٥٢م مع الدول العربية .

(٢) دور الفريق محمد عبدالغنى الجمسى خلال حرب أكتوبر ١٩٧٣م .

٤ (أ) ١ (أحمد فؤاد الثانى ٢ - مؤتمر كامب ديفيد ٣ - بريطانيا ٤ - الريحانة

ب (١ -) السماح بهجرة أعداد كبيرة من يهود العالم إلى فلسطين .

٢ - السماح بنقل ملكية الأراضى من عرب فلسطين إلى اليهود عن طريق الشراء .

٢ (* تنسيق العلاقات بين الدول الأعضاء

* تنسيق الخطط السياسية والاقتصادية والاجتماعية والثقافية

* التعاون وحماية الأمن القومى العربى

* صيانة استقلال الدول الأعضاء وسيادتها

* تعزيز العمل العربى المشترك في مختلف المجالات .

ج (ما رأيك

١ (يترك للطلاب مع الاستعانة بانجازات الثورة في المجال العربى

توحيد الجهود العربية لصالح حركات التحرر فساندت السودان والجزائر وتونس واليمن وساهمت في استقلال الكويت

❖ إقامة أول وحدة عربية بين مصر وسوريا في فبراير ١٩٥٨ (عرفت باسم الجمهورية العربية المتحدة)

❖ لاتزال تؤيد حقوق الشعب الفلسطينى في تقرير مصيره في إقامة دولة مستقلة و عاصمتها القدس الشريف .

٢ (شغل منصب رئيس هيئة عمليات القوات المسلحة ١٩٧٢

أصبح رئيس لأركان حرب القوات المسلحة عام ١٩٧٣ بعد الحرب مباشرة .





مجاب
عنه

أولاً الجغرافيا

أجب عن الأسئلة الآتية:



١) أمامك خريطة صماء لدولة البرازيل،

اكتب ما تدل عليه الأرقام الآتية :

(١) المحيط الهادي ..

(٢) دائرة دائرة الاستواء

(٣) نهر الامزون

(٤) العاصمة القديمة زيرو دي جانيرو

(ب) بم تفسر ... ؟

(١) قيام الدول النامية المنتجة للبوكسيت

بتصديره إلى الدول المتقدمة.

(٢) قلة عدد السكان في دلتا النيجر.

(٣) توسع العالم في استخدام الغاز الطبيعي كبديل لمصادر الطاقة الأخرى.

(٤) تركيز زراعة البنجر في معظم دول قارة أوروبا.

(ج) ما الأهمية الاقتصادية لكل مورد مما يأتي ... ؟ مع تحديد أولى الدول المنتجة له :

(١) المطاط الطبيعي.

(٢) النحاس.

(د) دلل جغرافياً على صحة العبارة الآتية : قوة العلاقات بين مصر وكل من نيجيريا وألمانيا.

ب بم تفسر - بسبب توافر مقومات صناعة الألومنيوم في الدول المتقدمة من (طاقة كهربائية وخبرة فنية وعلمية

وسوق محلية وخارجية تستوعب الإنتاج) وعدم توفرها في الدول النامية المنتجة للبوكسيت .

٢) بسبب كثافة الغابات والظروف المناخية القاسية .

٣) - لأنه من مصادر الطاقة - أقل تلويثاً للبيئة . - والرخيصة . - وسهولة النقل .

٤) بسبب ملائمة ظروف زراعته من مناخ وتربة زراعية

ج .) أهمية المطاط الطبيعي : يُستخدم في صناعة إطارات السيارات والصناعات الأخرى . أولى الدول تابيلاند

(النحاس : يُستخدم في صناعة الأسلاك والأدوات الكهربائية . أولى الدول المنتجة شيلي

د) دلل : علاقة مصر بدوله نيجيريا . علاقات اقتصادية تقوم على التبادل التجاري حيث

تصدر مصر إلى نيجيريا (الاسمدة ، مواسير الألومنيوم ، والأسلاك النحاسية ، والمعدات الثقيلة) .

وتستورد مصر من نيجيريا (الحبوب الزيتية) .

⊕ العلاقات المصرية الألمانية : علاقات ثقافية وعلمية بين البلدين تتمثل في :

(هيئة التبادل العلمي الألمانية - المركز الثقافي الألماني - الجامعة الألمانية بالقاهرة - معهد الآثار الألماني)

⇔ علاقات اقتصادية تتمثل في : تمويل ألمانيا لمحطات توليد الكهرباء من الرياح في مصر

تصدر مصر إلى ألمانيا البترول والغاز الطبيعي والملابس

تستورد مصر من ألمانيا الصناعات الكيماوية والآلات والسيارات .



٢ (١) اخترا الإجابة الصحيحة مما بين القوسين :

- (١) تحتل دولة المركز الأول عالمياً في تربية الدواجن .
(الولايات المتحدة الأمريكية - الهند - الصين - تايلاند)
(٢) تقع أهم مراكز الصناعة الحديثة في جنوب شرق آسيا بدولة
(فنزويلا - شيلي - ماليزيا - المكسيك)
(٣) يستخرج من هضبة جوس بدولة نيجيريا معدن
(الحديد - القصدير - البوكسيت - الرصاص)
(٤) أولى الدول العربية في توليد الطاقة الكهربائية من الرياح
(المغرب - تونس - سوريا - مصر)

(ب) ما النتائج المترتبة على ... ؟

- (١) كثرة التلال والينابيع في المرتفعات الوسطى بدولة ألمانيا .
(٢) انتشار التعليم بين قبائل وسط آسيا .

(ج) ما المقصود بكل مفهوم من المفاهيم الجغرافية الآتية ... ؟

- (١) زراعة الأرض أكثر من مرة في العام لإشباع حاجة السكان المحليين من الغذاء .
(٢) نبات دائم الخضرة موطنه الأصلي شرق آسيا .
(٣) القوى المحركة لحياة الإنسان في جميع مجالات حياته .
(٤) يعتبر غذاء رئيسي لكثير من سكان العالم خاصة في المناطق الساحلية .

(ب) أصبحت المرتفعات الوسطى مناطق جذب للسياح

- قلة عدد العاملين في حرفة الرعي البدائي بدول وسط آسيا

(ج) ما المقصود :

- ١ - الزراعة الكثيفة ٢ - الشاي ٣ - مصادر الطاقة ٤ - الأسماك

ثانياً التاريخ

٢ (١) صوب ما تحته خط :

- (١) امتنعت فرنسا عن التصويت بعد قرار تقسيم فلسطين عام ١٩٤٧م . بريطانيا
(٢) تدخل مجلس الوصاية وأصدر القرار رقم ٢٤٢ في نوفمبر ١٩٦٧م . الأمن
(٣) أستشهد الفريق أول عبد المنعم رياض في حرب فلسطين . الاستنزاف
(٤) أنشأ إسماعيل مجلس المشورة عام ١٨٦٦م . شورى النواب
(٥) استضافت تونس أول قمة أفريقية على أرضها عام ١٩٦٤م . مصر

(ب) ما النتائج التي ترتبت على ... ؟

- (١) فشل العدوان الثلاثي على مصر عام ١٩٥٦م .
(٢) حرب أكتوبر ١٩٧٣م . (بكتف بأربعة نقات)
(٣) اللجوء إلى التحكيم الدولي في قضية طابا .

(ج) ماذا كان يحدث إذا ... ؟

- (١) تم هزيمة إسرائيل في ٥ يونيو ١٩٦٧م .
(٢) رفض كل من السادات وبيجين دعوة الرئيس الأمريكي كارتر لاجتماعات كامب ديفيد .

- (ب) ١ - انسحاب انجلترا وفرنسا من بورسعيد في ٢٣ ديسمبر ١٩٥٦ م. ٢ - انسحاب إسرائيل من غزة وسيناء في أوائل عام ١٩٥٧ م. ٣ - إدراك الدول العربية الخطر الإسرائيلي فقامت الوحدة بين مصر وسوريا ١٩٥٨ م. ٢ (١) - نقطة تحول في الصراع العربي الإسرائيلي. ٢ - تحطيم أسطورة الجيش الإسرائيلي الذي لا يقهر. ٣ - تقويض أسس العقيدة القتالية للقوات الإسرائيلية. ٤ - انتهاء نظرية الأمن الإسرائيلية. ٥ - أنهت حالة اللاسلم واللاحرب. ٦ - أظهرت أهمية استخدام سلاح النفط العربي. ٣ (١) - إحالة القضية إلى التحكيم الدولي و بعد قرار التحكيم في ٢٩ سبتمبر ١٩٨٨ م بأحقية مصر في شريط طابا عادت طابا لمصر في ١٩ مارس ١٩٨٩ م لتعود بذلك آخر قطعة من أرض مصر. ج - (١) ماذا يحدث إذا ؟

- ١ - لم تتمكن إسرائيل من السيطرة على قطاع غزة - الضفة الغربية لنهر الأردن - مدينة القدس - هضبة الجولان بسوريا - سيناء حتى الضفة الشرقية لقناة السويس. ٢ (١) لم يتم التوصل إلى إطار اتفاق للسلام بين مصر وإسرائيل.

٤ (١) من تنسب الأعمال التاريخية الآتية ... ؟

- (١) سيطر على جميع قطاعات الجيش المصري بموجب إذاعة البيان الأول لثورة ٢٣ يوليو ١٩٥٢ م. (٢) قاد خطة الخداع لصرف أنظار إسرائيل عن التجهيزات الهجومية لحرب أكتوبر ١٩٧٣ م. (٣) تسلم السلطة في ٣ يوليو ٢٠١٣ م وكان رئيس المحكمة الدستورية العليا. (٤) شغلت منصب رئيس اللجنة التشريعية بمجلس الشعب. (٥) منظمة دولية ساهمت في إحياء مكتبة الإسكندرية.

(ب) دلت تاريخياً على صحة كل عبارة من العبارات الآتية :

- (١) اهتمام ثورة ٢٣ يوليو ١٩٥٢ م بحقوق العمال. (٢) تطبيق الهدنة في حرب فلسطين عام ١٩٤٨ م لم يكن في صالح العرب. (٣) للسلام مزايا عديدة لمصر ولوطننا العربي.

(ج) قارن بين :

أوضاع مصر الاقتصادية قبل ثورة ٢٣ يوليو ١٩٥٢ م، وقبل ثورة ٢٥ يناير ٢٠١١ م.

- ٤ (١) - محمد نجيب ٢ - المشير احمد إسماعيل ٣ - عدلي منصور ٤ - أمال عثمان ٥ - منظمة اليونسكو ب (١) * تحديد ساعات العمل وإشراك العمال في مجالس إدارة الشركات وتحديد نسبة لهم من الأرباح. * إصدار قوانين التأمينات والمعاشات الاجتماعية للموظفين والعمال. ٢ لم يلتزم اليهود بالهدنة وبدأوا في تسليح أنفسهم والتدريب استؤنف القتال ظهر التفوق اليهودي وتراجع الجبهة العربية ٣ (١) مزايا تحقيق السلام لمصر ولوطننا العربي.

- ١ - تحقيق الاستقرار الداخلي للبلاد العربية. ٢ - دفع عجلة التنمية الاقتصادية والاجتماعية. ٣ - تشجيع رؤوس الأموال على الاستثمار في مصر والدول العربية. ٤ - تنشيط حركة السياحة.

ج (١) قارن

الأوضاع الاقتصادية قبل ثورة ٢٥ يناير ٢٠١١ م	الأوضاع الاقتصادية قبل ثورة يوليو ١٩٥٢ م
<p>- سياسة الانفتاح الاقتصادي دون ضوابط علمية</p> <p>- التطبيق غير السليم لنظام الخصخصة حيث تم بيع مؤسسات الدولة بأقل من سعرها الحقيقي لصالح فئة معينة مما أدى إلى :</p> <p>أ - ارتفاع الأسعار ب - خروج آلاف العاملين بنظام التقاعد المبكر</p>	<p>- أدت معاهدة ١٩٣٦ م إلى جعل مصر ميدان للحرب العالمية الثانية واستنزاف موارد البلاد لخدمة بريطانيا وحلفائها وإرهاق الاقتصاد المصري مما زاد معاناة الشعب.</p>



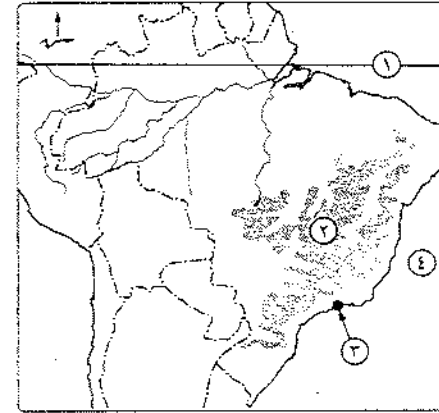
محافظه القاهرة

مديرية التربية والتعليم



مجاب عنه

أجب عن الأسئلة الآتية: أولاً الجغرافيا



١ (١) أمامك خريطة لدولة البرازيل، اكتب

مدلول الأرقام الموضحة عليها :

(١) دائرة عرض رئيسية

(٢) هضبة

(٣) العاصمة القديمة

(٤) المحيط

(ب) صوب ما تحته خط :

(١) الولايات المتحدة الأمريكية أولى

دول العالم إنتاجاً للصوف.

(٢) تعد مصر أكبر دول العالم إنتاجاً للآلبن.

(٣) أهم الصناعات الحديثة في دول الخليج العربي الصناعات البتروية.

(٤) أعلى القمم الجبلية في ألمانيا جبال البرانس.

(ج) بم تفسر ... ؟ (١) تحتل الصين المركز الأول في إنتاج الأسماك.

(٢) تركز صناعة الألومنيوم في الدول المتقدمة.

(٣) انكماش مساحة الحشائش بالسهول الساحلية في ألمانيا.

(٤) صعوبة استخدام الآلات والميكنة الزراعية في الزراعة الكثيفة.

٢ (١) اختر الإجابة الصحيحة مما بين القوسين :

(١) يُعد الموطن الأصلي للشاي

(شرق أفريقيا - غرب البرازيل - شرق آسيا - جنوب ألمانيا)

(٢) أكبر الأقاليم الصناعية في العالم الجديد إقليم

(غرب ووسط أوروبا - شرق أفريقيا - شمال شرق الولايات المتحدة الأمريكية - روسيا)

(٣) أهم دول أفريقيا في إنتاج القطن

(المغرب - ليبيا - تونس - مصر)

(ب) أجب عما يأتي :

(١) ما المقصود بـ ... ؟ (١) * النشاط التعديني. (٢) الرعى التجاري.

(٢) أيد بالأدلة : ترتبط مصر وألمانيا بعلاقات ثقافية وعلمية.

(٣) اذكر نتيجة واحدة مترتبة على :

(١) الوحدة الاقتصادية الأوروبية.

(٢) استخدام الآلات الزراعية والطرق العلمية الحديثة في الزراعة التجارية والعلمية.

(٤) من وجهة نظرك : ما المقومات الطبيعية والبشرية التي يمكن أن تساهم في قيام

التمنية الصناعية في مصر ؟

ثانياً التاريخ

٢ (١) إلى من تنسب الأعمال الآتية ... ؟

(١) تولى رئاسة مصر بعد الانتخابات عام ٢٠١٤م.

(٢) * أسس تنظيم الضباط الأحرار.

(٣) * رئيس المحكمة الدستورية العليا وأسند إليه حكم مصر في ٣ يوليو ٢٠١٣م.

(٤) الرئيس الأمريكي الذي دعا إلى مؤتمر كامب ديفيد.

رئيس أركان حرب القوات المسلحة في حرب الاستنزاف.

ما النتائج التي ترتبت عن ... ؟

(١) وضع فلسطين تحت الانتداب البريطاني ١٩٢٠م.

(٢) فشل العدوان الثلاثي على مصر ١٩٥٦م. (٣) إنشاء السيد العالي.

٣ (١) ماذا كان يحدث إذا ... ؟

(١) انتصرت مصر على إسرائيل في عدوان يونيو ١٩٦٧م.

(٢) لم تشكل اللجان الشعبية أثناء ثورة ٢٥ يناير ٢٠١١م.

(٣) لم يقم الرئيس محمد أنور السادات بزيارة إسرائيل ١٩٧٧م.

(٤) لم تصدر ثورة ٢٣ يوليو ١٩٥٢م قوانين الإصلاح الزراعي.

(ب) ولا مكان للإرهاب على أرض مصر - تحية لشعب مصر العظيم وتحية لجيش مصرولشرطة مصر العظيمة على مر العصور. في ضوء العبارة وضع :

(١) أهداف ثورة ٢٣ يوليو ١٩٥٢م. (يلتصق بثلاث نقاط)

(٢) دور المشير أحمد إسماعيل كشخصية عسكرية وطنية في نصر أكتوبر ١٩٧٣م.

(٣) رأيك في تقديم بعض الدول العربية الدعم العسكري لمصر وسوريا عام ١٩٧٣م.



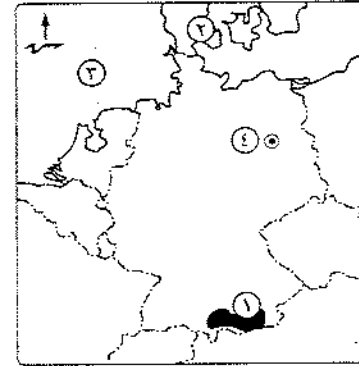
مديرية التربية والتعليم

محافظة الجيزة

مجاب عنه

أولاً الجغرافيا

أجب عن الأسئلة الآتية:



(١) أمامك خريطة لدولة ألمانيا.

وضح مدلول الأرقام الآتية :

(١) جبال

(٢) دولة

(٣) بحر

(٤) العاصمة

(ب) اكتب كلمة (صواب) أمام العبارة الصحيحة.

وكلمة (خطأ) أمام العبارة غير الصحيحة :

- (١) يزرع قصب السكر في المناطق المعتدلة الباردة. ()
- (٢) يُعد الغاز الطبيعي مصدر الطاقة الأقل تلوثاً والأرخص عالمياً. ()
- (٣) يُعتبر النشاط الصناعي قمة الأنشطة الاقتصادية المتطورة في العالم. ()
- (٤) يسود المناخ المداري الحار في أقصى جنوب شرق البرازيل. ()

(ج) ما النتائج المترتبة على ... ؟

(١) صغر مساحة الحقول الزراعية في الزراعة الكثيفة.

(٢) الوحدة الاقتصادية الأوروبية.

(٢) اكتب ما تشير إليه كل عبارة مما يأتي :

- (١) يستخرج من عصارة أشجار استوائية وتصنع منه إطارات السيارات.
- (٢) نشاط يمارسه سكان المناطق الصحراوية في مساحات واسعة في العالم.
- (٣) استخراج المعادن ومصادر الطاقة من باطن الأرض أو بالقرب من سطح الأرض.
- (٤) طاقة تنتج من الأمواج وحركة المد والجزر في بعض الدول المتقدمة.

(ب) دلل جغرافياً على صحة كل عبارة من العبارات الآتية :

- (١) تنتشر مصايد الأسماك على سواحل القارات.
- (٢) يعد البترول أهم مصادر الطاقة. (٣) سكان البرازيل خليط من معظم الأجناس.
- (٤) توجد علاقات ثقافية وعلمية بين مصر وألمانيا.

(ج) قارن في جدول بين : البرازيل، وألمانيا، من حيث : * أهم الموانئ. * أهم المحاصيل.

ثانياً التاريخ

(٢) اختر الإجابة الصحيحة مما بين القوسين :

- (١) ترتب على فشل العدوان الثلاثي ١٩٥٦م انسحاب القوات الإنجليزية والفرنسية من مدينة (السويس - الإسماعيلية - الإسكندرية - بورسعيد)
- (٢) يعتبر مبدأ الأرض مقابل السلام من قرارات مؤتمر (كامب ديفيد - مدريد - سان ريمو - باندونج)
- (٣) تضمن دستور ١٩٢٣م إنشاء برلمان يمثل السلطة (القضائية - التنفيذية - التشريعية - المدنية)
- (٤) تم إنشاء أول مدرسة لتعليم البنات بدعوة من (رفاة الطهطاوي - سعد زغلول - مصطفى النحاس - الملك فاروق)

(ب) يم تفسر ... ؟

- (١) تقديم الولايات المتحدة الأمريكية لمبادرة روجرز.
- (٢) تعد ثورة ٢٥ يناير ٢٠١١م من الثورات الفريدة في تاريخ مصر.
- (٣) أهمية منظمات المجتمع المدني.

(ج) ما المقصود بكل من ... ؟

- (١) عدم الانحياز. (٢) مرحلة الصمود والتصدي. (٣) الحياة النيابية.

(١) من تنسب الأحداث الآتية ... ؟

- (١) * اعتمد عليه جمال عبدالناصر في إعادة بناء وتنظيم القوات المسلحة في حرب الاستنزاف.
- (٢) قاد خطة الخداع لصرف أنظار إسرائيل عن التجهيزات الهجومية لحرب أكتوبر ١٩٧٣م.
- (٣) يادر بزيارة إسرائيل من أجل السلام عام ١٩٧٧م.
- (٤) شاركت في الحياة النيابية وشغلت منصب رئيس اللجنة التشريعية بمجلس الشعب.

(ب) صوب الكلمات التي تحتها خط :

- (١) أُنذع البيان الأول لثورة ٢٣ يوليو ١٩٥٢م باسم اللواء جمال عبدالناصر.
- (٢) وقعت مصر اتفاقية الجلاء في أكتوبر ١٩٥٤م مع فرنسا.
- (٣) تم إغلاق خليج السويس في وجه الملاحة الإسرائيلية في مايو ١٩٦٧م.
- (٤) تسلم السلطة في يوليو ٢٠١٣م المستشار عدلي منصور رئيس المحكمة الجنائية.

(ج) ماذا كان يحدث إذا ... ؟

- (١) لم تقدم الولايات المتحدة الأمريكية معلومات عسكرية لإسرائيل في حرب ١٩٧٣م.
- (٢) * لم تصدر بريطانيا وعد بلفور عام ١٩١٧م.



- (ب) قارن في جدول بين : القمح، والبترو، من حيث : * الأهمية. * أهم الدول المنتجة.
(ج) أدبى تباين الموارد الطبيعية والبشرية إلى اختلاف النشاط الاقتصادي بين دول العالم.
في ضوء العبارة وضح :

- (١) خصائص الزراعة الكثيفة.
(٢) نتائج انتشار التعليم بين قبائل وسط آسيا بالنسبة لحرفة الرعى البدائي.
(٣) مقترحاتك لـ : تطوير الصناعة في الدول النامية.

ثانياً التاريخ

- (٢) (١) صوب الكلمات التي تحتها خط :

- (١) قررت دول المحور وضع فلسطين تحت الانتداب البريطاني.
(٢) من نتائج حرب أكتوبر ١٩٧٣م تدعيم أسس العقيدة القتالية للقوات الإسرائيلية.
(٣) الإدارة المحلية يمثلها رئيس الجمهورية والأجهزة التنفيذية.
(٤) التطبيق غير السليم لسياسة التأميم من الأسباب الاقتصادية لثورة ٢٥ يناير ٢٠١١م.
(٥) مساندة مصر لحركات التحرر الوطني في تونس من أسباب العدوان الثلاثي على مصر ١٩٥٦م.
(ب) ما النتائج التي ترقبت على ... ؟
(١) قرار هيئة التحكيم الدولي عام ١٩٨٨م بشأن طابا.
(٢) العدوان الإسرائيلي ٥ يونيو ١٩٦٧م.
(٣) اهتمام ثورة يوليو ١٩٥٢م بالصناعة في مصر.
(ج) ما العلاقة بين ... ؟ (١) النفط العربي، وحرب أكتوبر ١٩٧٣م.
(٢) صدور دستور ١٩٢٣م، والحياة النيابية في مصر.

- (٤) (١) إلى من تنسب الأعمال الآتية ... ؟

- (١) قام بزيارة إسرائيل من أجل السلام عام ١٩٧٧م.
(٢) * تولى رئاسة الحكومة المصرية في فبراير عام ١٩٤٢م.
(٣) انتخبت رئيساً للجنة الوفد المركزية للسيدات عام ١٩٢٠م.
(٤) قاد خطة الدفاع لصرف أنظار إسرائيل عن التجهيزات الهجومية في حرب أكتوبر ١٩٧٣م.
(٥) قدم مبادرة لوقف إطلاق النار أثناء حرب الاستنزاف.
(ب) دلل تاريخياً على صحة كل عبارة من العبارات الآتية :
(١) حققت ثورة يوليو ١٩٥٢م إنجازات عديدة في المجال العربي والدولي.
(٢) اختيار السلام بدلاً من الحرب يعود بالنفع على وطننا العربي.
(٣) تصدى القوات المصرية للاعتداءات الإسرائيلية في مرحلة الصمود والتصدي.
(٤) اتخذت مصر عدة إجراءات لتهيئة وإعداد الجبهة الداخلية قبل حرب أكتوبر ١٩٧٣م.
(ج) ما رأيك في : موافقة الملك فاروق على مطالب ثورة يوليو ١٩٥٢م ؟



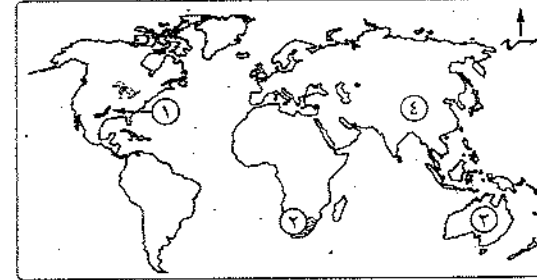
مديرية التربية والتعليم

محافظة الإسكندرية

٣

أولاً الجغرافيا

أجب عن الأسئلة الآتية:



- (١) أمامك خريطة للعالم، اكتب ما تدل عليه الأرقام الآتية :
(١) جبال
(٢) مركز صناعى حديث
(٣) دولة منتجة للصوف
(٤) * أكبر قارات العالم إنتاجاً
للقطن

(ب) يم تفسر ... ؟

- (١) تركز زراعة الشاي في شرق آسيا.
(٢) أهمية مدينة إيبادان بنيجيريا.
(٣) إندونيسيا من أهم الدول المنتجة للأسماك.
(٤) تنوع المناخ بالولايات المتحدة الأمريكية.

(ج) اكتب كلمة (صواب) أمام العبارة الصحيحة، وكلمة (خطأ) أمام العبارة غير الصحيحة :

- (١) تعتبر الألبان المنتج الثانى المهم للثروة الحيوانية.
(٢) موريتانيا من الدول النامية المستوردة للحديد.
(٣) اقتصاد بنيجيريا اقتصاداً متقدماً يعتمد على الزراعة فى المقام الأول.
(٤) تأتي قارة أمريكا الشمالية فى المرتبة الأولى إنتاجاً للذرة.

- (٢) (١) اختر الإجابة الصحيحة مما بين القوسين :

- (١) المصدر الرئيسى للحوم لغالبية سكان العالم
(الجاموس - الأبقار - الإبل - الماعز)
(٢) يُعد الخام الرئيسى لمعدن الألومنيوم.
(البوكسيت - الحديد - النحاس - الرصاص)
(٣) تقع ولاية هاواي فى وسط المحيط
(الأطلنطى - الهندي - الهادى - القطبى الشمالى)
(٤) يستخدم كل ما يلى فى إنتاج الكهرباء الحرارية ما عدا
(القمح - الشلالات - البترول - الغاز الطبيعى)

محافظه القليوبية

مديرية التربية والتعليم

مجاب عنه

اولا الجغرافيا

اجب عن الأسئلة الآتية:



(١) اكتب خريطة للعالم، اكتب

معدن الارض الموقعة عليها :

(١) دولة منتجة للقطن

(٢) أكبر الدول إنتاجاً

للالبان

(٣) دولة منتجة للنحاس

(٤) إقليم صناعي

(ب) اكتب كلمة (صواب) أمام العبارة الصحيحة، وكلمة (خطأ) أمام العبارة غير الصحيحة

مع ذكر السبب في الإجابتين :

(١) تعد قارة أفريقيا أولى قارات العالم إنتاجاً للذرة. ()

(٢) يأتي ثلث الإنتاج السمكي في العالم من مزارع تربية الأسماك. ()

(٣) للفحم أهمية كبيرة منذ أواخر القرن الـ ١٨ وحتى الآن. ()

(٤) توجد علاقات ثقافية وعلمية بين مصر وألمانيا. ()

(ج) قارن بين :

(١) القمح، والمطاط الطبيعي، من حيث : * الأهمية. * أولى الدول المنتجة.

(٢) نيجيريا، وألمانيا، من حيث أماكن تركيز السكان.

(٢) اكتب ما تشير إليه كل عبارة من العبارات التالية :

(١) تعد المصدر الرئيسي للحوم لغالبية سكان العالم.

(٢) دولة نامية تصدر خام الحديد إلى الدول الصناعية المتقدمة.

(٣) مصدر للطاقة النظيفة تستخدمه خمس دول عربية في توليد الكهرباء تتقدمها مصر

وتليها المغرب.

(٤) مدينة نيجيرية تأتي في المركز الثاني بعد لاجوس وهي مركز للتجارة والتعليم

والمواصلات.

(ب) تم تفسر ... ؟

(١) قلة عدد القاشمين بحرقه الرعي البدائي (التقليدي) بقارة آسيا.

(٢) يعد البترول أهم مصادر الطاقة.

(٣) تنتج نيجيريا كميات كبيرة من الأسماك.

(٤) تجذب المرتفعات الوسطى السياح في ألمانيا.

(ج) ما العلاقة بين ... ؟

(١) الزراعة الكثيفة، والأيدى العاملة.

(٢) الصناعة الحديثة، وتطور الشعوب.

التاريخ

٢

(١) صوب الكلمات التي تحتها خط، وأعد كتابة العبارات كاملة في كراسة إجابتك :

(١) أعطى مؤتمر مونتره ١٩٢٠م لبريطانيا حق الانتداب على فلسطين.

(٢) تعرف المرحلة الأولى من إعادة بناء القوات المسلحة بعد عام ١٩٦٧م بمرحلة

الاستنزاف والمواجهة.

(٣) ساهمت مصر في تشكيل حركة عدم الانحياز في مؤتمر لندن عام ١٩٥٥م.

(٤) من عوامل قيام ثورة ٢٥ يناير ٢٠١١م تزوير الانتخابات الرئاسية لعام ٢٠١٠م.

(ب) دال تاريخياً على صحة كل عبارة من العبارتين الآتيتين :

(١) * أيدت مصر دعوات السلام وإنهاء الصراع العربي / الإسرائيلي عام ١٩٩١م.

(٢) * شهدت مصر نهضة نسائية في فترة ما قبل ثورة ١٩١٩م.

(ج) ماذا كان يحدث إذا تم ... ؟

(١) يتم توقيع معاهدة ١٩٣٦م بين مصر وبريطانيا.

(٢) تقدم الولايات المتحدة الأمريكية الدعم لإسرائيل خلال حرب أكتوبر ١٩٧٣م.

(٤) لمن تنسب الأعمال الآتية ... ؟

(١) * رئيس أركان حرب القوات المسلحة أثناء حرب الاستنزاف.

(٢) وضع خطة لعبور قناة السويس وتحطيم خط بارليف ونفذها في حرب أكتوبر ١٩٧٣م.

(٣) أصدرت حكمها لصالح مصر في استعادة طابا الذي تم في مارس ١٩٨٩م.

(٤) تم انتخابها رئيس للجنة الوفد المركزية للسيدات عام ١٩٢٠م.

(ب) ما النتائج التي ثرتت على ... ؟

(١) هزيمة العرب في حرب فلسطين ١٩٤٨م. (٢) ثورة ٣٠ يونيه ٢٠١٣م.

(٣) * عقد مؤتمر كامب ديفيد عام ١٩٧٨م.

(ج) ما رأيك في : إنشاء مشروع السد العالي ؟



مديرية التربية والتعليم

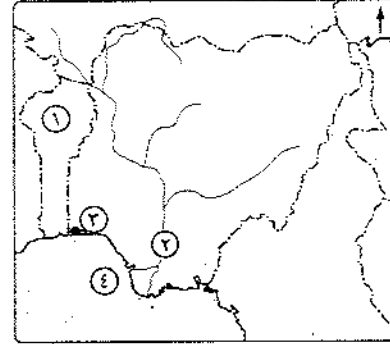
محافظة الشرقية

٥

مجاب عنه

أولاً الجغرافيا

أجب عن الأسئلة الآتية:



(١) أمامك خريطة لدولة نيجيريا الاتحادية،

اكتب في كراسة إجابتك مدلول الأرقام
الموقعة عليها :

(١) دولة (٢) نهر

(٣) العاصمة القديمة

(٤) خليج

(ب) ما المقصود بكل من ... ؟

(١) الزراعة الكثيفة. (٢) الرعى البدائي (التقليدي).

(ج) «يعد النشاط الصناعي قمة الأنشطة الاقتصادية وسبباً رئيسياً في تقدم الشعوب

وازدهارها». في ضوء هذه العبارة أجب عما يأتي :

(١) قارن بين : إقليم غرب ووسط أوروبا الصناعي، وإقليم شرق آسيا الصناعي، من
حيث المراكز الصناعية في كل إقليم.(٢) دلل على صحة العبارة الآتية : الصناعة هي العمود الفقري للاقتصاد الألماني
وشهدت تطوراً وتوسعاً بعد الحرب العالمية الثانية.

(د) يم تفسر ... ؟

(١) تتركز زراعة البنجر في أوروبا وأمريكا الشمالية.

(٢) تُعد إندونيسيا والولايات المتحدة الأمريكية من الدول الرئيسية في إنتاج

الأسماك في العالم.

(١) صوب ما فوق الخط، ثم أعد كتابة العبارة صحيحة في كراسة إجابتك :

(١) تُعد دولة الفلبين أولى دول العالم في إنتاج المطاط الطبيعي.

(٢) تُعد الصين أكبر الدول إنتاجاً للآلبان في العالم.

(ب) ما العلاقة بين ... ؟

(١) البوكسيت، والألومنيوم. (٢) الرياح، والكهرباء.

(ج) ما النتائج المترتبة على ... ؟

(١) رخص ثمن الغاز الطبيعي وعدم تلويثه للبيئة.

(٢) وقوع الأطراف الجنوبية من نيجيريا في نطاق المناخ الاستوائي.

(٣) كثرة وجود التلال والينابيع بالمرتفعات الوسطى في ألمانيا.

(د) اختر الإجابة الصحيحة مما بين القوسين :

(١) ينتج قصب السكر في كل قارات العالم عدا قارة

(أوروبا - أستراليا - أفريقيا - آسيا)

(٢) أكبر دول العالم المربية للأغنام دولة (الصين - بريطانيا - مصر - أستراليا)

(٣) من المقومات الطبيعية اللازمة للصناعة

(الأيدي العاملة - الأسواق - مصادر الطاقة - رأس المال)

ثانياً التاريخ

(١) اختر الإجابة الصحيحة مما بين القوسين :

(١) أذيع البيان الأول لثورة ٢٣ يوليو ١٩٥٢م من دار الإذاعة المصرية بصوت

(محمد نجيب - جمال عبدالناصر - أنور السادات - أحمد فؤاد)

(٢) أعطى مؤتمر سان ريمو عام ١٩٢٠م لبريطانيا حق الانتخاب على

(سوريا - لبنان - فلسطين - الجزائر)

(٣) * تم تدمير المدمرة الإسرائيلية إيلات بـ المصرية في أكتوبر ١٩٦٧م.

(المدفعية - الطائرات - صواريخ البحرية - الذبابات)

(٤) تولى القيادة العامة للموحدة للقوات المصرية السورية في حرب أكتوبر

١٩٧٣م القائد

(سعد الدين الشاذلي - محمد عبدالغنى الجمسى - أحمد إسماعيل - عبدالمنعم رياض)

(ب) ما النتائج التي ترقبت على ... ؟

(١) مبادرة الرئيس السادات لزيارة إسرائيل عام ١٩٧٧م.

(٢) إصدار دستور مصر الدائم عام ١٩٧١م.

(٣) اهتمام ثورة ٢٣ يوليو ١٩٥٢م بالمرأة المصرية.

(٤) قشل العنوان الثلاثي على مصر عام ١٩٥٦م.

(ج) * ماذا كان يحدث إذا : لم تقم ثورة ٢٣ يوليو ١٩٥٢م بإنشاء مشروع السد العالي ؟

٤ (١) اكتب كلمة (صواب) أمام العبارة الصحيحة، وكلمة (خطأ) أمام العبارة غير الصحيحة :

- (١) أدى توقيع معاهدة ١٩٣٦م إلى جعل مصر ميداناً لمعارك الحرب العالمية الأولى. ()
 (٢) القضاء على الإقطاع من إنجازات ثورة ٢٣ يوليو ١٩٥٢م في المجال الاقتصادي. ()
 (٣) قبلت إسرائيل قرار مجلس الأمن رقم ٢٤٢ عام ١٩٦٧م. ()
 (٤) تُعد منظمات المجتمع المدني عناصر فاعلة في تقديم الخدمات الاجتماعية. ()

(ب) يم تقصر ... ؟

- (١) هزيمة الدول العربية في عدوان ٥ يونيه ١٩٦٧م.
 (٢) اندلاع حرب أكتوبر ١٩٧٣م. (٣) استعادة مصر لطايبا ١٩٨٩م.
 (٤) قيام الشعب المصري بثورة ٢٥ يناير ٢٠١١م.

(ج) ما رأيك في : إنجازات ثورة ٢٣ يوليو ١٩٥٢م في المجال العربي ؟



مديرية التربية والتعليم

٦ محافظة المنوفية

مجاب عنه

أولاً الجغرافيا

أجب عن الأسئلة الآتية :

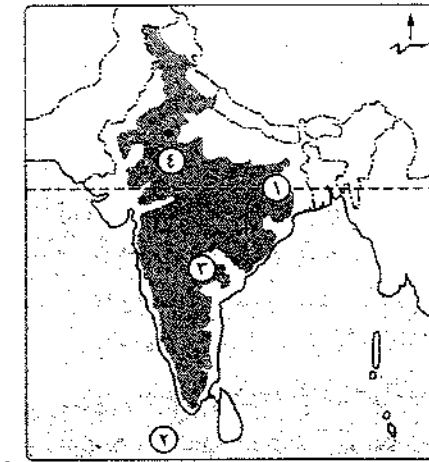
١ (١) أمامك خريطة لجمهورية الهند،

اكتب ما تدل عليه الأرقام التالية :

- (١) دائرة عرض
 (٢) المحيط
 (٣) هضبة
 (٤) مدينة

(ب) ما المقصود بالمصطلحات الآتية ... ؟

- (١) الزراعة الكثيفة.
 (٢) النشاط التعديني.
 (٣) * الرعي البدائي.



(ج) ما النتائج المترتبة على ... ؟

- (١) طول سواحل الصين على المحيط الهادئ ووجود الأنهار.
 (٢) كثرة التلال والينابيع المائية في ألمانيا.

(د) ماذا يحدث إذا : توافرت الطاقة الكهربائية والخبرة الفنية في الدول المنتجة للبوكسيت ؟

٢ (١) اختر الإجابة الصحيحة مما بين القوسين :

(١) تعد تايلاند أولى دول العالم إنتاجاً لـ

(الشاي - البن - السكر - المطاط الطبيعي)

(٢) تأتي مصر في مقدمة الدول العربية في توليد الطاقة الكهربائية من

(الفحم - الرياح - البترول - الغاز الطبيعي)

(٣) أكبر الأقاليم الصناعية في العالم الجديد إقليم

(شمال شرق الولايات المتحدة الأمريكية - روسيا وأوكرانيا - شرق آسيا - الخليج العربي)

(٤) العمود الفقري للاقتصاد الألماني (الزراعة - التجارة - الصناعة - التعدين)

(ب) يم تقصر ... ؟

(١) يعد النشاط الزراعي من الأنشطة الاقتصادية الأساسية في العالم.

(٢) تناقص أعداد القائمين بالرعي البدائي في دول وسط آسيا.

(٣) يعد البترول أهم مصادر الطاقة في العالم.

(٤) توسع العالم في استخدام الغاز الطبيعي كبديل لمصادر الطاقة الأخرى.

(ج) «تشهد العلاقات المصرية مع دول العالم نمواً كبيراً على كافة الأصعدة».

في ضوء العبارة وضع :

(١) أهم صادرات مصر إلى الهند. (٢) العلاقات الثقافية والعلمية بين مصر وألمانيا.

ثانياً التاريخ

٣ (١) حدد صحة أو خطأ العبارات الآتية، مع التصويب :

(١) في يونيه ١٩٥٣م تم إلغاء الملكية وإعلان الجمهورية وتعيين جمال عبدالناصر أول رئيس لجمهورية مصر العربية.

(٢) استطاعت صواريخ البحرية المصرية في أكتوبر ١٩٦٧م تدمير المدمرة الإسرائيلية إيلات.

(٣) قام السادات بالقضاء على مراكز القوى لتهيئة وإعداد الجبهة الداخلية قبل حرب أكتوبر ١٩٧٣ م.

(٤) * توفير مناخ يحقق الوحدة الوطنية أحد أنشطة المجتمع المدني.

(ب) ما النتائج التي ترقبت على ... ؟

(١) فشل العدوان الثلاثي على مصر ١٩٥٦ م.

(٢) التطبيق غير السليم لسياسة الخصخصة في عهد الرئيس حسنى مبارك.

(ج) «تعد ثورة ٢٣ يوليو ١٩٥٢ م من أهم الثورات المصرية في التاريخ الحديث والمعاصر».

في ضوء العبارة وضع :

(١) عوامل قيام ثورة يوليو ١٩٥٢ م. (بلفظ بالثنية)

(٢) مطالب ثورة ٢٣ يوليو ١٩٥٢ م من الملك فاروق.

(د) ماذا كان يحدث إذا لم ... ؟

(١) تقم مصر بإغلاق خليج العقبة في وجه الملاحة الإسرائيلية مايو ١٩٦٧ م.

(٢) تقم مصر بإنشاء السد العالي.

(٤) (١) من تتسبب الأعمال الآتية ... ؟

(١) شغل منصب رئيس هيئة عمليات القوات المسلحة عام ١٩٧٢ م.

(٢) صاحب مبادرة وقف إطلاق النار بين مصر وإسرائيل أثناء حرب الاستنزاف.

(٣) * دعا لإنشاء أول مدرسة لتعليم البنات في مصر.

(٤) رئيس لجنة الوفد المركزية للسيدات عام ١٩٢٠ م.

(ب) أيد صحة كل عبارة من العبارات الآتية تاريخياً :

(١) قامت ثورة ٢٣ يوليو ١٩٥٢ م بدور بارز على المستوى العربى والدولى.

(٢) فلسطين لها أهمية خاصة فى قلب كل عربى.

(٣) ساهمت الدول العربية بدور بارز أثناء حرب أكتوبر ١٩٧٣ م.

(٤) عاد السلام وحل الصراع العربى / الإسرائيلى بالنفع على وطننا العربى.

(ج) وضع موقف كل من : العرب، واليهود من قرار الأمم المتحدة بتقسيم فلسطين عام ١٩٤٧ م.



مديرية التربية والتعليم

محافظة الغربية

٧

مجاب عنه

أولاً الجغرافيا

أجب عن الأسئلة الآتية:

(١) أمامك خريطة لدولة الهند. وضع

مداول الأرقام المدونة عليها :

(١) دولة (٢) هضبة

(٣) ميناء

(٤) مسطح مائى

(ب) بم تقصر ... ؟

(١) لا يزرع قصب السكر فى قارة أوروبا.

(٢) قلة عدد القاطنين على حرفة الرعى

اليدائى فى دول وسط آسيا.

(٣) يعد البترول أهم مصادر الطاقة فى العالم.

(٤) قلة التكاليف والأيدى العاملة فى الزراعة التجارية والعلمية.

(٥) توطن صناعة الألومنيوم فى الدول المتقدمة رغم فقرها للبوكسيت.

(ج) اكتب المصطلح الجغرافى الذى تدل عليه كل عبارة مما يأتى :

(١) زراعة يعمل بها عدد قليل من السكان وتتميز بضيق المساحة وتباعدها عن بعضها البعض.

(٢) * يستخرج من عصارة أشجار أستوائية وتصنع منه إطارات السيارات.

(٣) إقليم مناخى يتمثل فى دلتا نهر المسيسيبى بالولايات المتحدة الأمريكية ويتأثر

بالأعاصير المدارية المدمرة..

(٧) (١) اكتب كلمة (صواب) أمام العبارة الصحيحة، وكلمة (خطأ) أمام العبارة غير الصحيحة، مع التصويب :

(١) يعد القطن فى مصر والسودان من أجود أنواع القطن فى العالم. ()

(٢) أمريكا الجنوبية تستخدم معظم إنتاجها من الذرة كعلف للماشية وتصدر

جزء منه للخارج. ()

(٣) تحتل النرويج المركز الأول فى إنتاج اللحوم الحمراء فى العالم. ()

(٤) مدينة برمنجهام من أهم المدن الصناعية فى شمال شرق الولايات المتحدة الأمريكية. ()

(٥) تحتل الولايات المتحدة الأمريكية المركز الأول فى إنتاج الدواجن فى العالم. ()



- (٤) اهتمت ثورة ٢٣ يوليو ١٩٥٢م بالتعليم فجعلته مجانيًا بجميع المراحل التعليمية.
- (٥) استعادت مصر طابا بمقتضى معاهدة السلام التي وقعت بين مصر وإسرائيل ١٩٧٩م.
- (٦) تولى الفريق سعد الدين الشاذلي القيادة العامة للموحدة للقوات المصرية السورية في حرب أكتوبر ١٩٧٣م.
- (ب) أكتب صحة كل عبارة من العبارات الآتية تاريخياً : (يلقى بعنصره للعبارة)
- (١) اتخذت حكومة الانتداب البريطاني عدة إجراءات لتنفيذ وعد بلفور.
- (٢) اهتمت ثورة ٢٣ يوليو ١٩٥٢م بالصناعة في مصر.
- (٣) لعب البترول العربي دوراً مهماً كسلاح في حرب أكتوبر ١٩٧٣م.
- (٤) شهدت مرحلة الصمود والتصدي للاعتداءات الإسرائيلية بطولات رائعة للقوات المسلحة المصرية.
- (٥) إنهاء الصراع العربي / الإسرائيلي وتحقيق السلام يعود بالنفع على وطننا العربي.

- (ب) اختر الإجابة الصحيحة مما بين القوسين :
- (١) نصف إنتاج الأسماك في العالم يأتي من
- (المزارع السمكية - المياه المالحة - المياه العذبة - الترع والمصارف)
- (٢) أولى دول العالم إنتاجاً للنحاس (الصين - تايلاند - شيلي - جنوب أفريقيا)
- (٣) أولى الدول العربية المنتجة للطاقة الكهربائية من الرياح
- (موريتانيا - اليمن - السودان - مصر)
- (٤) من المقومات الطبيعية اللازمة لقيام الصناعة
- (الأيدى العاملة - الأسواق - مصادر الطاقة - رأس المال)
- (ج) ما النتائج المترتبة على ... ؟
- (١) افتقار الهند لمصادر الطاقة مثل البترول.
- (٢) الوحدة الاقتصادية الأوروبية.

ثانياً التاريخ

- (١) إلى من تنسب الأعمال الآتية ... ؟
- (١) أذاع البيان الأول لثورة ٢٣ يوليو ١٩٥٢م.
- (٢) أنشأ أول مدرسة لتعليم البنات في مصر عام ١٨٧٣م.
- (٣) * أصبح رئيساً لأركان حرب القوات المسلحة ديسمبر ١٩٧٣م.
- (٤) شغلت منصب وزيرة الشؤون الاجتماعية ١٩٧١م.
- (ب) بم تفسر ... ؟ (يلقى بعنصره للعبارة)
- (١) هزيمة الجيوش العربية في عدوان يونيه ١٩٦٧م.
- (٢) العدوان الثلاثي على مصر عام ١٩٥٦م.
- (٣) تدهور الأوضاع الاقتصادية في مصر قبل ثورة ٢٥ يناير ٢٠١١م.
- (٤) * أهمية منظمات المجتمع المدني.
- (ج) ما المقصود بكل من ... ؟ (١) * عدم الانحياز. (٢) الدستور.

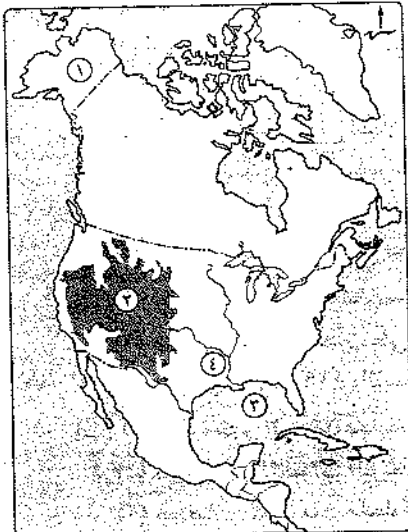
- (١) اكتب كلمة (صواب) أمام العبارة الصحيحة، وكلمة (خطأ) أمام العبارة غير الصحيحة، مع التصويب :
- (١) القضاء على الإقطاع من الإنجازات السياسية لثورة ٢٣ يوليو ١٩٥٢م. ()
- (٢) أثبتت حرب أكتوبر ١٩٧٣م أن منطق القوة لا يمنح سلاماً. ()
- (٣) تم تحقيق أول تجربة للوحدة العربية بين مصر والأردن في فبراير ١٩٥٨م. ()

محافظة الدقهلية

مديرية التربية والتعليم

مجاب عنه

أولاً الجغرافيا



- (١) أمامك خريطة لقارة أمريكا الشمالية. اكتب ما تشير إليه الأرقام :
- (١) ولاية (٢) هضبة
- (٣) خليج (٤) نهر
- (ب) بم تفسر ... ؟
- (١) * أهمية البترول كمصدر للطاقة.
- (٢) عدم وجود صناعة الألومنيوم بالدول النامية.
- (٣) تركيز زراعة الشاي في دول شرق آسيا.
- (٤) وفرة إنتاج الأسماك في غرب قارة أوروبا.

(ج) وضع العلاقة بين كل مما يأتي :

- (١) مناطق الحشائش، والنشاط الرعوى فى العالم.
(٢) الظروف الجغرافية الطبيعية، وتوزيع السكان فى دولة نيجيريا.

٢ (١) «يتنوع النشاط الزراعى والتعدينى والصناعى فى العالم». فى ضوء العبارة وضع :

- (١) مصادر توليد الطاقة الكهرومائية.
(٢) رأيك لى تتطور الصناعات الحديثة فى مصر تطوراً مذهباً.
(٣) أثر الوحدة الاقتصادية الأوروبية على الصناعة فى دول قارة أوروبا.
(٤) أسباب قلة العمالة فى الزراعة التجارية والعلمية.

(ب) انقل العبارات التالية فى ورقة إجابتك مع تصويب ما تحته خط :

- (١) لا تناسب الظروف الطبيعية زراعة قصب السكر فى قارة أمريكا الشمالية.
(٢) مدينة إيبادان هى العاصمة الاقتصادية لدولة نيجيريا.
(٣) من الدول النامية الأفريقية المصدرة للحديد دولة السودان.
(٤) تحتل الصين المركز الأول فى إنتاج البترول على مستوى العالم.

(ج) اذكر استخداماً واحداً لكل من الموارد التالية، مع ذكر أولى الدول إنتاجاً لكل منها :
(١) المطاط. (٢) النحاس. (٣) * قصب السكر. (٤) طاقة الرياح.

ثالث التاريخ

٢ (١) اكتب كلمة (صواب) أمام العبارة الصحيحة، وكلمة (خطأ) أمام العبارة غير الصحيحة، مع التصويب :

- (١) سيطر السادات على جميع قطاعات الجيش بموجب إعلان بيان ثورة ٢٣ يوليو ١٩٥٢م.
(٢) صدن التحكيم الدولى لصالح مصر عام ١٩٨٨م بشأن بعض علامات الحدود.
(٣) أدى التطبيق غير السليم لسياسة الخصخصة إلى ارتفاع الأسعار فى المجتمع المصرى.
(٤) تمثل سلطات الحكم فى مصر ثلاث سلطات.

(ب) ما النتائج التى ترتبت على ... ؟

- (١) عرض قضية فلسطين على هيئة الأمم المتحدة عام ١٩٤٧م.
(٢) دستور عام ١٩٥٦م بالنسبة للمرأة.

(ج) اكتب ما تشير إليه كل عبارة من العبارات الآتية :

- (١) مؤتمر أقر الانتداب البريطانى على فلسطين.
(٢) جمعيات المجتمعات المحلية والمنظمات غير الحكومية والنقابات العمالية.



- (٣) معركة انتصرت فيها القوات المصرية على القوات الإسرائيلية عند بورفؤاد.
(٤) أسطورة إسرائيل الذى تم تدميره فى ست ساعات فى حرب أكتوبر ١٩٧٣م.

٤ (١) رتب الأحداث التاريخية التالية من الأقدم إلى الأحدث :

- * إصدار قانون الإصلاح الزراعى الأول. * مؤتمر مدريد.
* إنشاء مدرسة السنية للبنات. * إغلاق خليج العقبة فى وجه الملاحة الإسرائيلية.

(ب) «اعلم أن التضحية من أجل الوطن والاستشهاد فى سبيل رفعة وتقدمه وصيانة كرامته واجب وطنى». فى ضوء العبارة أجب عما يأتى :

- (١) ما رأيك فى : مبادرة الرئيس السادات بزيارة إسرائيل عام ١٩٧٧م ؟
(٢) اختر أحد الشخصيات المضيئة فى حرب أكتوبر ١٩٧٣م، مع توضيح المهام التى قام بها.
(٣) اذكر أسباب كل مما يأتى :

(١) فشل العدوان الثلاثى على مصر عام ١٩٥٦م.

(٢) قيام الضباط الأحرار بثورة عام ١٩٥٢م.

(ج) أيد بالأدلة التاريخية صحة العبارة التالية :

مصر والدول العربية كل منهما ساند الآخر عقب ثورة يوليو ١٩٥٢م، وفى حرب أكتوبر ١٩٧٣م.



مديرة التربية والتعليم

٩ محافظة الإسماعيلية

مجاب عنه

أولاً الجغرافيا

أجب عن الأسئلة الآتية:

١ (١) لاحظ خريطة العالم التى أمامك

وأجب عن الأسئلة التى تليها :

* القارة الأولى إنتاجاً للقمح

تحمل على الخريطة رقم

* أولى دول العالم إنتاجاً لقصب

السكر تحمل على الخريطة

رقم

* أشهر دول العالم إنتاجاً للأصواف من أغنام المارينو تحمل على الخريطة رقم

* دولة عربية تحتل المركز الأول فى إنتاج البترول تحمل على الخريطة رقم

* هضبة كولورادو تحمل على الخريطة رقم

(ب) «إن الإنسان اتجه بالفطرة نحو إشباع حاجاته الضرورية لاستمرار حياته ولقد مارس البشر العديد من الأنشطة الاقتصادية البدائية في الماضي وتطورت في النهاية حتى وصلت إلى النشاط الصناعي». في ضوء العبارة أجب عما يأتي :

- (١) ما المقصود ب : الزراعة الكثيفة ؟
- (٢) اذكر : العوامل الطبيعية والبشرية التي تساعد على تطور حرفة صيد الأسماك.
- (٣) بم تقسر ... ؟
- (٤) أهمية الثروة الحيوانية.
- (٥) توسع العالم في استخدام الغاز الطبيعي كبديل لمصادر الطاقة الأخرى.

(١) اكتب كلمة (صواب) أمام العبارة الصحيحة، وكلمة (خطأ) أمام العبارة غير الصحيحة. مع التصويب ،

- (١) تُعد مصر من أكبر الدول المنتجة للآلبن في العالم. ()
- (٢) * يتم إنتاج الكهرباء من حركة المد والجزر والشلالات والسدود. ()
- (٣) التطور العلمي والسياسات الحكومية من العوامل البشرية لقيام الصناعة. ()
- (٤) يُعد اقتصاد نيجيريا متقدم يعتمد على الصناعة في المقام الأول. ()
- (٥) تعتبر الولايات المتحدة الأمريكية القوة الصناعية الأولى في العالم. ()
- (٦) سان فرانسيسكو أكبر الموانئ الأمريكية على ساحل المحيط الهادئ. ()

(ب) ما النتائج المترتبة على ... ؟

- (١) الوحدة الاقتصادية الأوروبية.
- (٢) الموقع الفلكي لدولة نيجيريا مناخياً.
- (٣) اتساع مساحة الولايات المتحدة الأمريكية وتنوع تضاريسها.

التاريخ

(١) اختر الإجابة الصحيحة مما بين القوسين :

- (١) يعد القضاء على الإقطاع أحد إنجازات ثورة ٢٣ يوليو ١٩٥٢م في المجال (الاقتصادي - الاجتماعي - السياسي - الاستراتيجي)
- (٢) * وضعت فلسطين تحت الانتداب البريطاني بناء على نظام الانتداب الذي تم إقراره بواسطة (الأمم المتحدة - عصبة الأمم - مجلس الأمن - مجلس الوصاية)
- (٣) تأكدت الدعوة لمبدأ الأرض مقابل السلام بين العرب وإسرائيل من خلال مؤتمر (مدريد - سان ريمو - كامب ديفيد - باندونج)
- (٤) * أقام مجلس المشورة. (الخدوي إسماعيل - محمد علي - جمال عبدالناصر - محمد نجيب)

(ب) قارن بين : أسباب العدوان الثلاثي على مصر ١٩٥٦م، وأسباب اندلاع حرب أكتوبر ١٩٧٣م.

(ج) ما العلاقة بين ... ؟

- (١) حرب أكتوبر ١٩٧٣م، وأهمية سلاح البترول «النفط العربي».
- (٢) منظمات المجتمع المدني، والعمل الحكومي.

(١) العبارات التالية خطأ. أعد كتابتها لتكون صحيحة بكتابة الإجابة :

(١) أدى استمرار الاحتلال البريطاني لمصر لتأسيس اللواء محمد نجيب تنظيم الضباط الأحرار.

(٢) تعد ثورة يوليو ١٩٥٢م من الثورات الفريدة في التاريخ بسبب مساهمة التكنولوجيا المتقدمة ووسائل الاتصال الحديثة فيها.

(٣) * المنظمة الإقليمية هي التي تضم في عضويتها دول العالم المستقلة وإن لم ترتبط ببعضها بروابط معينة.

(٤) حصلت المرأة المصرية على حق الانتخاب والترشح في دستور ١٩٢٣م.

(ب) «فلسطين مكانة خاصة في قلب كل عربي نظراً لأهميتها الدينية، بالإضافة لما تتميز به من موقع جغرافي فكانت مطمناً للفرقة على مر العصور». في ضوء العبارة أجب عما يأتي :

- (١) موقف مجلس الأمن من العدوان الإسرائيلي في ٥-يونيه ١٩٦٧م.
- (٢) كيف نجحت مصر في تهينة وإعداد الجبهة الداخلية استعداداً لحرب أكتوبر ١٩٧٣م ؟
- (ج) ماذا كان يحدث إذا ... ؟

(١) تمكنت الجيوش العربية من تحقيق النصر في حرب فلسطين عام ١٩٤٨م.

(٢) لم يتخذ الرئيس السادات قراراً بمبادرة السلام عام ١٩٧٧م.

مديرية التربية والتعليم

محافظة السويس

مجايب عنه

أولاً الجغرافيا

أجب عن الأسئلة الآتية :

(١) أمامك خريطة للولايات

المتحدة الأمريكية، اكتب

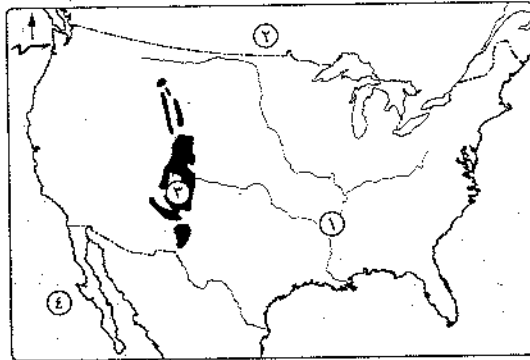
ما تدل عليه الأرقام ،

(١) نهر

(٢) دولة

(٣) جبال

(٤) المحيط



(ب) بم تفسر ... ؟

- (١) يُعد النشاط الزراعي من الأنشطة الاقتصادية في العالم.
 (٢) يُزرع قصب السكر في كل قارات العالم ما عدا قارة أوروبا.
 (٣) ارتفاع الكثافة السكانية في الغرب والسهول الشمالية وهضبة جوس بنيجيوريا.
 (٤) انخفاض أعداد العاملين بالرعي البدائي في شبه الجزيرة العربية.
 (ج) حدد الدولة الأولى عالمياً في إنتاج ما يلي :
 (١) الشاي. (٢) النحاس. (٣) قصب السكر. (٤) الغاز الطبيعي.

(٢) (١) دتل على صحة كل عبارة مما يأتي ،

- (١) يسبق عملية التعدين عدة عمليات. (٢) يربط مصر بنيجيوريا علاقات قوية.

(ب) اختر الإجابة الصحيحة مما بين القوسين فيما يلي :

- (١) يُعد البوكسيت الخام الرئيسى لمعدن
 (٢) تُعد قارة أولى قارات العالم إنتاجاً للطاقة النووية.
 (٣) تشتهر دولة بإنتاج الأصواف من أغنام المارينوفى العالم.
 (٤) تحتل المركز الأول في إنتاج الأسماك. (الهند - كندا - الصين - مصر)
 (ج) ما النتائج المترتبة على ... ؟
 (١) الوحدة الاقتصادية الأوروبية. (٢) زيادة الطلب على البترول وتعدد استخداماته.

لأننا التاريخ

(٢) (١) اختر الإجابة الصحيحة مما بين القوسين :

- (١) طالبت قوات الاحتلال البريطاني بتعيين رئيساً للحكومة المصرية في فبراير ١٩٤٢م. (جمال عبدالناصر - مصطفى النحاس - سعد زغلول - محمد نجيب)
 (٢) صدر قرار تقسيم فلسطين عام ١٩٤٧م عن
 (٣) انسحبت إسرائيل من سيناء وفقاً لنصوص عام ١٩٧٩م.
 (٤) من الدول العربية التي قدمت دعماً عسكرياً لمصر وسوريا في حرب أكتوبر ١٩٧٣م دولة
 (اليمن - الصومال - لبنان - الجزائر)



(ب) بم تفسر ... ؟ (١) العدوان الثلاثى على مصر عام ١٩٥٦م.

(٢) تدهور الأوضاع الاقتصادية بمصر قبل ثورة ٢٥ يناير ٢٠١١م.

(ج) لمن تشير كل عبارة من العبارتين التاليتين ؟...

(١) * تخلى عن حكم مصر في ١١ فبراير ٢٠١١م وسلم إدارة شؤون البلاد للمجلس الأعلى للقوات المسلحة.

(٢) رئيس أركان حرب الجيش المصرى الذى استشهد فى حرب الاستنزاف.

(٤) (١) اكتب كلمة (صواب) أمام العبارة الصحيحة، وكلمة (خطأ) أمام العبارة غير الصحيحة، مع التصويب:

- (١) رفض الملك فاروق مغادرة البلاد فى الموعد الذى حدده له الضباط الأحرار. ()
 (٢) قامت أول وحدة عربية عام ١٩٥٨م بين مصر والسودان. ()
 (٣) رفضت إسرائيل قرار مجلس الأمن رقم ٢٤٢ ()
 (٤) ظهرت أول صحيفة نسائية مصرية على يد هدى شعراوى. ()
 (٥) أنشئت أول مدرسة لتعليم البنات فى مصر فى عهد الخديو إسماعيل. ()

(ب) حدد المصطلح الذى تشير إليه العبارات التالية :

- (١) المرحلة الأولى لإعادة بناء القوات المسلحة بعد هزيمة ٥ يونيو ١٩٦٧م.
 (٢) * الوثيقة الرسمية التى تحدد نظام الحكم فى الدولة وتحدد شكل اختصاصات المؤسسات الدستورية المختلفة.

(٣) أحد سلطات نظام الحكم فى مصر المسئولة عن السلطة التشريعية.

(٤) منظمات تقدم الخدمات الاجتماعية وبرامج التنمية لتكملة عمل الحكومة.

(ج) قارن بين : نتائج حرب فلسطين ١٩٤٨م، ونتائج حرب أكتوبر ١٩٧٣م. (يلقى بلان ثلاثة لدرج أكتوبر)



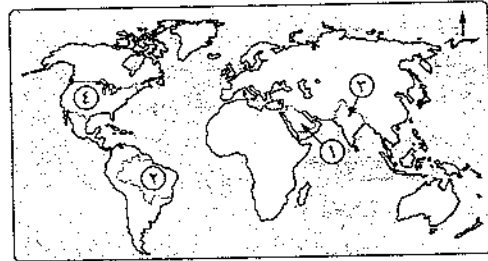
مديرية التربية والتعليم

محافظة بورسعيد

مجاب عنه

اولا الجغرافيا

اجب عن الأسئلة الآتية:



(١) أمامك خريطة للعالم،

اكتب فى كراسة إجابتك

مدلول الأرقام الموقعة عليها :

(١) أولى دول العالم إنتاجاً

للبنترول

(٢) أكبر دول العالم إنتاجاً

للسكر

(٣) أكبر دول العالم إنتاجاً للالبان

(٤) أولى دول العالم إنتاجاً للغاز الطبيعى

(ب) «تمثل الأسماك غذاءً رئيسياً لكثير من سكان العالم في المناطق الساحلية».

في ضوء دراستك وضح ما يلي :

(١) العوامل الطبيعية والبشرية اللازمة لتطوير حرفة الصيد.

(٢) أهم الدول المصدرة للأسماك في العالم.

(ج) اكتب المصطلح الذي تعبر عنه كل عبارة من العبارات الآتية :

(١) زراعة الأرض أكثر من مرة في العام الواحد لإشباع حاجة السكان المحليين من الغذاء.

(٢) نشاط اقتصادي يمثل العمود الفقري للاقتصاد الألماني يعمل به ثلث القوى العاملة.

(٣) طاقة تولد منها الكهرباء في خمس دول عربية تتقدمها مصر وتليها المغرب.

(١) اكتب كلمة (صواب) أمام العبارة الصحيحة، وكلمة (خطأ) أمام العبارة غير الصحيحة. مع التصويب :

(١) تقع ألمانيا في شرق القارة الأوروبية. ()

(٢) قلت أعداد القائمين بحرفة الرعي البدائي في شبه الجزيرة العربية

وبادية الشام نتيجة توطين البدو لتدفق البترول. ()

(٣) تعد قارة أمريكا الشمالية الأولى إنتاجاً لمحصول الذرة. ()

(٤) المطاط الطبيعي يستخرج من عصارة أشجار مخروطية. ()

(ب) ما العلاقة بين كل من : البوكسيت، والألومنيوم ؟

(ج) ماذا يحدث إذا : أخذت الدول النامية بالأساليب العلمية في الصناعة ؟

(د) إلى أي الدول تنتمي الظواهر الآتية ... ؟

(١) هضبة جوس. (٢) جبال الألب. (٣) نهر النيجر.

التاريخ

(١) اختر الإجابة الصحيحة مما بين القوسين، ثم انقل الجملة كاملة في ورقة إجابتك :

(١) من إنجازات ثورة ٢٣ يوليو ١٩٥٢ السياسية

(منح المرأة حق الانتخاب - إصدار قوانين التأمينات الاجتماعية -

قانون الإصلاح الزراعي الأول - تأميم شركة قناة السويس)

(٢) * بعد فشل العدوان الثلاثي قامت إسرائيل بالانسحاب أوائل عام ١٩٥٧ من

(بورسعيد - السويس - غزة وسيناء - الضفة الغربية لنهر الأردن)

(٣) قيام الشعب بانتخاب ممثلين لإدارة شئون الحكم في البلاد وسن القوانين

ومراقبة أعمال الحكومة نيابة عنه يقصد بها

(الدستور - الحياة النيابية - البرلمان - النقابات العمالية)

(٤) أول وزير للشئون الاجتماعية في مصر عام ١٩٦٢م كانت

(عائشة راتب - هدى شعراوي - حكمت أبو زيد - أمال عثمان)

(ب) يم تفسر ... ؟

(١) قيام مصر وسوريا بالإعداد والتخطيط لحرب أكتوبر ١٩٧٣م.

(٢) تعد ثورة ٢٥ يناير ٢٠١١م من الثورات الفريدة في التاريخ المصري الحديث والمعاصر.

(ج) ما رأيك في الآتي ... ؟

(١) وعد بلفور ١٩١٧م.

(٢) * مبادرة الرئيس أنور السادات بزيارة إسرائيل من أجل السلام عام ١٩٧٧م.

(١) صوب ما تحته خط في العبارات الآتية :

(١) * أعلنت مصر وقوقها بجانب سوريا عام ١٩٦٧م تطبيقاً لاتفاقية السلام بينهما.

(٢) ساهمت مصر مع كل من الهند ويوغوسلافيا في تشكيل حركة الضباط الأحرار.

(٣) تولى الرئيس الأسبق مبارك عن الرئاسة وسلم إدارة شئون البلاد لرئيس المحكمة

الدستورية العليا.

(٤) نص دستور ١٩٥٦م على أن السلطة التشريعية تكون في يد مجلس منتخب هو

مجلس المشورة.

(ب) «تعلمت الحروب والمواجهات بين إسرائيل والعرب منذ عام ١٩٤٨م وحتى عام ١٩٧٣م».

في ضوء العبارة وضح :

(١) نتائج هزيمة العرب في حرب ١٩٤٨م.

(٢) ماذا كان يحدث إذا : وافقت إسرائيل على تنفيذ قرار مجلس الأمن رقم ٢٤٢ عام ١٩٦٧م.

(٣) مظاهر تصدى القوات المصرية للاعتداءات الإسرائيلية في مرحلة الصمود والتصدي.

(ج) أعط مثالا لكل من :

(١) اهتمام ثورة ٢٣ يوليو ١٩٥٢م بالتعليم.

(٢) الدعم العربي لكل من مصر وسوريا أثناء حرب أكتوبر ١٩٧٣م.

(٣) * أنشطة منظمات المجتمع المدني.

محافظة دمياط

مديرية التربية والتعليم

مجاب عنه

أجب عن الأسئلة الآتية:

(١) أمامك خريطة للولايات المتحدة، اكتب في كراسة

الإجابة مدلول الأرقام التي عليها :

(١) أكبر دول العالم إنتاجاً لقصب السكر

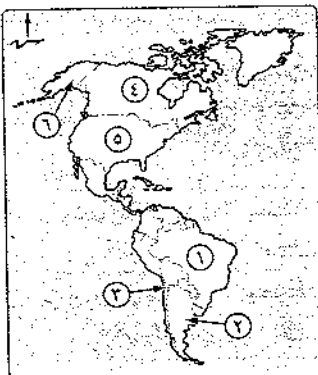
(٢) دولة يسود فيها الرعي التجاري

(٣) دولة منتجة للنحاس

(٤) دولة مصنعة للألومنيوم

(٥) أولى دول العالم إنتاجاً للغاز الطبيعي

(٦) ولاية أمريكية يقل فيها عدد السكان



(ب) اكتب في كراسة الإجابة ما تشير إليه كل عبارة من العبارات الآتية :

(١) حبوب غذائية يستخدم معظم إنتاجها كعلف للماشية في أمريكا الشمالية.

(٢) جزيرة يابانية تمثل مركز صناعي بإقليم شرق آسيا.

(٣) منطقة تمثل أكبر غابة استوائية في العالم.

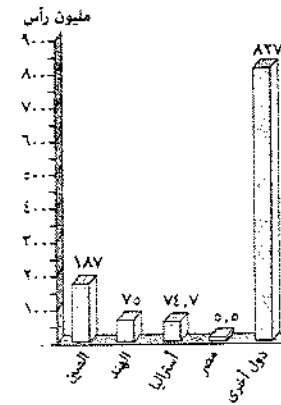
(ج) ما النتائج المترتبة على ... ؟

(١) * الوحدة الاقتصادية الأوروبية.

(٢) انتشار التعليم بين القائمين بحرفة الرعى في دول وسط آسيا.

(٣) تميز الغاز الطبيعي برخص ثمنه وسهولة نقله وعدم تلويثه للبيئة.

(٤) اتساع السهول الوسطى وامتدادها من الشمال للجنوب بالولايات المتحدة الأمريكية.



(١) أمامك رسمين بيانيين يمثلان إنتاج نوعين

من الموارد الاقتصادية في العالم، استعن

بهما للإجابة عما يأتي :

(١) ما المورد الحيواني الذي يمثل

الرسم البياني الأول ؟ وما سبب

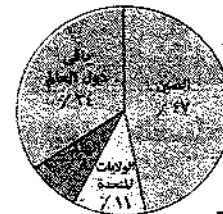
توفره في أولى الدول المنتجة له ؟

(٢) ما مصدر الطاقة الذي يمثل

الرسم البياني الثاني ؟

(٣) ما المنتجات التي يوفرها كل مورد

من الموردين ؟



(ب) أكمل المقارنة الآتية، ثم اقل الجدول كاملاً في كراسة الإجابة :

وجه المقارنة	الموقع الجغرافي	الظواهر التضاريسية	أهم المدن
جمهورية البرازيل الاتحادية	يحدّها من الشرق المحيط (١)	تمتد في جنوبها ووسطها هضبة (٢)	تعد واحدة من أجمل مدن العالم مدينة (٣)
الولايات المتحدة الأمريكية	يحدّها من الغرب المحيط (٤)	تمتد في شرقها جبال (٥)	تعد من أكبر مدن السهول الوسطى مدينة (٦)

(ج) يم تقسر ... ؟

(١) صعوبة استخدام الآلات والميكنة الزراعية في الزراعة الكثيفة.

(٢) محصول القطن من محاصيل الألياف الهامة للإنتاج الصناعي.

(٣) انتشار مصايد الأسماك على سواحل القارات.

(٤) ارتفاع نسبة ما يدخل من الإنتاج العالمي للحديد في التجارة الدولية.

التاريخ

(١) أكمل العبارات الآتية بكلمات مناسبة، ثم انقلها كاملة في كراسة الإجابة :

(١) من عوامل قيام ثورة ٢٣ يوليو ١٩٥٢م استمرار الاحتلال

(٢) عدم الانضمام إلى أي من الكتلتين الشرقية والغربية يسمى

(٣) نجحت القوات المصرية في هزيمة القوات الإسرائيلية عند محاولتها احتلال بورفؤاد

في معركة

(٤) دعا الرئيس الأمريكي كل من رئيس مصر ورئيس وزراء إسرائيل عام ١٩٧٨م لعقد

مؤتمر في

(٥) شكل المجتمع المصري أثناء ثورة ٢٥ يناير ٢٠١١م عرف ب لحفظ الأمن

والنظام.

(٦) يمثل رئيس مجلس الوزراء ونوابه والوزراء والإدارة المحلية السلطة

(ب) يم تقسر ... ؟

(١) مغادرة الملك فاروق البلاد قبل الموعد الذي حدده ضباط ثورة ٢٣ يوليو ١٩٥٢م.

(٢) عدوان ٥ يونيو ١٩٦٧م.

(٣) أهمية منظمات المجتمع المدني.

(ج) دّل تاريخياً على صحة كل عبارة من العبارات الآتية :

(١) اهتمت ثورة ٢٣ يوليو ١٩٥٢م بالصناعة في مصر.

(٢) اتخذت مصر عدة إجراءات لتهيئة وإعداد الجبهة العربية لحرب أكتوبر ١٩٧٣م.

(٣) جهود مصر لتحقيق السلام في القضية الفلسطينية بدءاً من عام ١٩٧٩م.

(٤) كان للمرأة المصرية دوراً رائداً في العمل الوطني في فترة ما قبل ثورة ١٩١٩م.

(٤) (١) لن تنسب الأعمال الآتية ... ؟

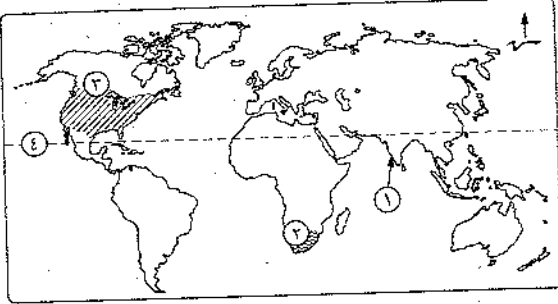
(١) أذاع البيان الأول لثورة ٢٣ يوليو ١٩٥٢م من دار الإذاعة المصرية.

(٢) أحد الأعمدة الرئيسية في إعادة بناء وتنظيم القوات المسلحة المصرية

في حرب الاستنزاف.

(٣) قدم مبادرة لوقف إطلاق النار تمهيداً لحل النزاع سلمياً بين مصر وإسرائيل

أثناء حرب الاستنزاف.



٢ (١) أمامك خريطة للعالم، اكتب

مدلول الأرقام الموقعة عليها ،

(١) سهل ساحلى

(٢) مركز صناعى

حديث

(٣) نوع الزراعة

السائد

(٤) دائرة عرض

(ب) إلى أى الدول تنتمى كل مدينة مما يأتى وما شهرتها ؟

(١) حيدر أباد . (٢) ميونخ .

(ج) «الصناعة الحديثة مقياس لتطور الشعوب وأزدهارها». فى ضوء هذه العبارة أجب عما يأتى ،

(١) ما المقصود بـ : النشاط التعدينى ؟

(٢) ما النتائج المترتبة على : تحريم الديانة الهندوسية أكل لحوم الأبقار ؟

(٣) دلل على : وجود علاقات ثقافية وعلمية بين مصر وألمانيا .

(٤) ما مقترحاتك من أجل : تطوير الصناعة المصرية لتصبح مصر من الدول الصناعية ؟

ثانياً التاريخ

٢ (١) اختر الإجابة الصحيحة مما بين القوسين ،

(١) تأسيس حركة عدم الانحياز من إنجازات ثورة ٢٣ يوليو ١٩٥٢م فى المجال

(الاقتصادى - الاجتماعى - الثقافى - الدولى)

(٢) هزمت القوات المصرية القوات الإسرائيلية فى معركة رأس العرش عند محاولتها

احتلال مدينة (بورفؤاد - بورسعيد - السويس - الإسماعيلية)

(٣) أنهت حالة اللاسلم واللاحرب وأفسحت المجال للمفاوضات السياسية من

منطق القوة العربية . (حرب فلسطين ١٩٤٨م -

عدوان ٥ يونية ١٩٦٧م - حرب الاستنزاف - حرب أكتوبر ١٩٧٣م)

(٤) بموجب دستور ١٩٥٦م تم تشكيل مجلس عام ١٩٥٧م .

(المشورة - الأمة - شورى النواب - شورى القوانين)

(٤) تولى القيادة العامة الموحدة للقوات المصرية والسورية فى حرب أكتوبر ١٩٧٣م .

(٥) أنشأ مجلس شورى النواب فى ديسمبر ١٨٦٦م .

(٦) حصلت على منصب رئيس اللجنة التشريعية بمجلس الشعب المصرى .

(ب) ما النتائج التى ترقبت على ... ؟

(١) توقيع معاهدة عام ١٩٣٦م بالنسبة لمصر .

(٢) اللجوء إلى التحكيم الدولى لمشكلة طابا .

(٣) * صدور دستور ١٩٥٦م بالنسبة للمرأة فى مصر .

(ج) «وصف وعد بلفور عام ١٩١٧م بتعهد بريطانيا بإنشاء وطن قومى لليهود فى فلسطين

بأنه وعد من من لا يملك لمن لا يستحق». فى ضوء العبارة أجب عما يأتى :

(١) ما رأيك فى مقولة : «وعد من من لا يملك لمن لا يستحق» ؟ (مدللاً على ذلك)

(٢) ما الإجراءات التى اتخذتها بريطانيا لتنفيذ هذا الوعد ؟

(٣) قارن بين : الموقف العربى من إعلان قيام دولة إسرائيل عام ١٩٤٨م ، وأثناء حرب

أكتوبر ١٩٧٣م .



مديرية التربية والتعليم

محافظه كفر الشيخ

١٣

مجاب عنه

أجب عن الأسئلة الآتية: أولاً الجغرافيا

١ (١) أكمل العبارات التالية بما يناسبها من كلمات :

(١) أولى دول العالم إنتاجاً لقصب السكر

(٢) ثلث الإنتاج السمكى فى العالم يأتى من

(٣) تحتل قارة المركز الثانى فى إنتاج الطاقة النووية .

(٤) تنمو الغابات المخروطية والنفضية فى ألمانيا على منحدرات جبال

(ب) بيم تفسر ... ؟

(١) القطن فى مصر والسودان من أجود أنواع القطن فى العالم .

(٢) أسعار البترول فى زيادة مستمرة .

(٣) لجأت الهند لاستخدام الطاقة النووية والكهربائية .

(٤) انكماش مساحة الحشائش بالسهل الساحلى فى ألمانيا .

(ج) برهن على صحة العبارة التالية : أثر التعليم على نشاط قبائل وسط آسيا .

(ب) يم تفسر ... ؟

(١) سوء الأحوال الاجتماعية في مصر قبل ثورة ٢٣ يوليو ١٩٥٢م.

(٢) فلسطين أهمية خاصة في قلب كل عربي.

(٣) إحدث ثورة في منطقة الدفرسوار أثناء حرب أكتوبر ١٩٧٣م.

(٤) تأييد مصر لاتفاقية أوسلو عام ١٩٩٣م.

(ج) أيد بالأدلة التاريخية صحة كل عبارة مما يأتي :

(١) التطبيق غير السليم لسياسة الخصخصة أدى لتدهور الأحوال الاقتصادية في مصر.

(٢) شهدت مرحلة ما بعد ثورة ١٩١٩م وحتى ثورة يوليو ١٩٥٢م نهضة نسائية في

مختلف المجالات.

(٤) (أ) اكتب كلمة (صواب) أمام العبارة الصحيحة، وكلمة (خطأ) أمام العبارة غير الصحيحة :

(١) وافقت بريطانيا على قرار هيئة الأمم المتحدة بتقسيم فلسطين عام ١٩٤٧م. ()

(٢) تحقيق عنصر المفاجأة في ضرب المطارات المصرية خلال العدوان

الإسرائيلي عام ١٩٦٧م تم بمساعدة أمريكية. ()

(٣) * يمثل مجلس النواب السلطة التنفيذية في الدولة. ()

(٤) * أنشأ الخديف إسماعيل مجلس شورى النواب عام ١٨٦٦م. ()

(ب) ما النتائج التي ترقبت على ... ؟

(١) بناء حائط الصواريخ على الضفة الغربية لقناة السويس أثناء حرب الاستنزاف.

(٢) * ثورة ٣٠ يونيو ٢٠١٣م.

(ج) «تحية إعزاز وفخر للمصريين وجيشهم ففي أقل من ثلاثة عقود خاضوا أربعة حروب

لحماية وطنهم وأمتهم». في ضوء العبارة وض :

(١) نتائج فشل العدوان الثلاثي على مصر ١٩٥٦م.

(٢) أسباب إغلاق مصر لخليج العقبة في وجه الملاحاة الإسرائيلية مايو ١٩٦٧م.

(٣) كيف هيأت مصر الجبهة الداخلية لحرب أكتوبر ١٩٧٣م.

(٤) رأيك في : سعى مصر الدائم مع جيرانها لتحقيق السلام.

١٤ محافظة البحيرة

مديرية التربية والتعليم

مجاب عنه

أولاً الجغرافيا : أجب عن الأسئلة الآتية :

(١) أمامك خريطة لتيجيريا، اكتب مدلول

الأرقام الموقعة عليها في كراسة إجابتك :

(١) دولة (٢) هضبة

(٣) مدينة (٤) خليج

(ب) «مارس البشر العديد من الأنشطة الاقتصادية

البدائية في الماضي، ومع زيادة عدد السكان

تنوعت الأنشطة وتطورت حتى وصلت لما هو

عليه الآن». في ضوء العبارة السابقة، أجب عما يأتي :

(١) اذكر نتيجة واحدة لكل مما يأتي :

(١) تربية أغنام المارينو بأستراليا.

(٢) كثرة التلال والينابيع المائية في المرتفعات الوسطى بألمانيا.

(٢) قارن بين : الزراعة الكثيفة، والزراعة التجارية والعلمية، من حيث الخصائص.

(٣) دلل على صحة العبارة الآتية : يعد البترول أهم مصادر الطاقة في العالم.

(ج) اكتب كلمة (صواب) أمام العبارة الصحيحة، وكلمة (خطأ) أمام العبارة غير الصحيحة :

(١) يوجد الرعي البدائي في مناطق الحشائش في العالم ويعتمد على أحدث

الأساليب العلمية.

()

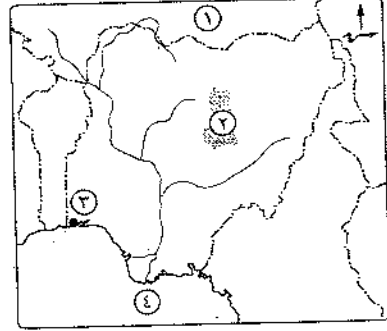
(٢) تُعد الصين والنرويج وتايلاند من الدول الرئيسية المصدرة للأسمك. ()

(٣) يتركز إنتاج النحاس في عدد من دول العالم أهمها البرازيل في أمريكا الجنوبية. ()

(٤) تُعد الولايات المتحدة الأمريكية أكبر دول العالم إنتاجاً للألومنيوم. ()

(٥) تتركز الصناعات التكنولوجية في دول الخليج العربي. ()

(٦) مدينة ميونخ هي أهم موانئ ألمانيا وتقع بالقرب من بحر الشمال. ()



(١) بم تفسر ... ؟

- (١) يُعد النشاط الزراعى من الأنشطة الاقتصادية الأساسية فى العالم.
- (٢) انتشار مناطق الصيد على سواحل القارات.
- (٣) توسع العالم فى استخدام الغاز الطبيعى كبديل لمصادر الطاقة الأخرى.
- (٤) تطور الصناعة فى الدول المتقدمة تطوراً مذهلاً.
- (٥) تركز سكان نيجيريا فى الغرب والسهول الشمالية.

(ب) اختر الإجابة الصحيحة مما بين القوسين :

- (١) ترتبط تربية بالمراعى التجارية الواسعة.
- (٢) تصدر الدول النامية مثل خام الحديد إلى الدول المتقدمة.
- (٣) * أولى دول العالم فى إنتاج الألبان دولة
- (٤) الولايات المتحدة الأمريكية - الهند - الصين - اليابان
- (٥) تتقدم دولة الدول العربية الخمس المنتجة للطاقة الكهربائية من الرياح.
- (٦) مصر - تونس - الأردن - المغرب
- (٧) تمثل العمود الفقرى للاقتصاد الألمانى فيعمل بها نحو ثلث القوى العاملة.
- (٨) (الزراعة - الصناعة - السياحة - التجارة)

التاريخ

(١) صوب ما تحته خط فى العبارات الآتية :

- (١) كان الفريق سعد الدين الشاذلى وزيراً للحربية أثناء حرب أكتوبر ١٩٧٣م.
- (٢) نصت معاهدة السلام مارس ١٩٧٩م على البدء بمفاوضات لإنشاء حكم ذاتى للفلسطينيين فى الضفة الغربية والقدس.
- (٣) تم توقيع اتفاقية أوسلو ١٩٩٣م برعاية أمريكية بين إسرائيل ومنظمة الجهاد الفلسطينية.
- (٤) تم عزل محمد مرسى فى الثالث من يوليو ٢٠١٢م وتسليم السلطة إلى المستشار محمد عبدالغنى الجمسى رئيس المحكمة الدستورية العليا.
- (٥) نص دستور ١٩٥٦م على أن السلطة التشريعية تكون فى يد مجلس منتخب هو مجلس النواب.

(ب) دلت تاريخياً على صحة العبارات الآتية :

- (١) لم تؤد معاهدة ١٩٣٦م إلى استقلال حقيقى لمصر.
- (٢) اختلفت المواقف بشأن قرار تقسيم فلسطين عام ١٩٤٧م.
- (٣) عملت الدولة على تدعيم مكانة المرأة المصرية على كافة المستويات فى الفترة من ١٩٨١م وحتى الآن.
- (ج) ماذا كان يحدث إذا ... ؟

- (١) قبلت إسرائيل تنفيذ قرار مجلس الأمن رقم ٢٤٢ بعد عدوان ١٩٦٧م.
- (٢) كان موقف الولايات المتحدة الأمريكية على الحياد ولم تدعم إسرائيل فى حرب أكتوبر ١٩٧٣م.

(١) اكتب ما تشير إليه العبارات الآتية :

- (١) * تصريح بريطانى يتضمن إنشاء وطن قومى لليهود فى فلسطين.
- (٢) عاصمة أوروبية عقد فيها مؤتمر عام ١٩٩١م الذى أكد على مبدأ الأرض مقابل السلام وحل الصراع العربى/الإسرائيلى على ضوء قرارات مجلس الأمن.
- (٣) لجان شكلها المجتمع المصرى بكل فئاته لحماية المنشآت ومواجهة أعمال السرقة والحرق والترويع أثناء ثورة ٢٥ يناير ٢٠١١م.
- (٤) يُطلق على المجالس النيابية التى تتولى السلطة التشريعية فى الدولة.
- (٥) استجاب لدعوة رفاة الطهاوى وأنشأ أول مدرسة لتعليم البنات فى مصر عام ١٨٧٣م.

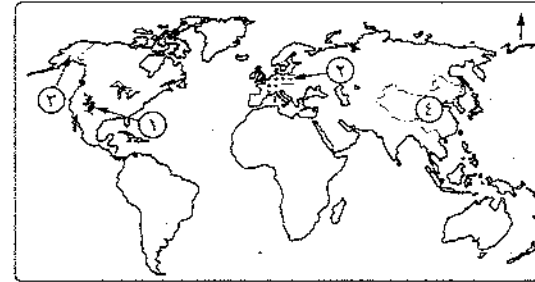
(ب) ما النتائج التى ترتبت على ... ؟

- (١) حرب فلسطين عام ١٩٤٨م.
- (٢) نجاح الضربة الجوية ونيران المدفعية على طول القناة يوم السادس من أكتوبر ١٩٧٣م.
- (ج) «تنوعت أحداث ثورة ٢٣ يوليو ١٩٥٢م ما بين القضاء على سلبيات وإقامة إيجابيات» فى ضوء ذلك وضح .

- (١) مطالب الثورة من الملك فاروق، ولماذا وافق عليها.
- (٢) كيف تمكنت الثورة من القضاء على الإقطاع.
- (٣) موقف الثورة من القضية الفلسطينية وحقوق الشعب الفلسطينى.



أجب عن الأسئلة الآتية : أولاً الجغرافيا



(١) أمامك خريطة للعالم.

اكتب مدلول الأرقام التالية :

(١) سلاسل جبلية

(٢) إقليم صناعي

(٣) ولاية أمريكية

(٤) أولى دول العالم

في إنتاج الحديد

(ب) اكتب المصطلح الجغرافي لكل عبارة من العبارات الآتية :

(١) محصول تنتج مصر والسودان أجود أنواعه في العالم.

(٢) دولة شهيرة بإنتاج أصواف المارينو.

(٣) * يستخدم في صناعة الأسلاك والأدوات الكهربائية وشيلى أولى الدول إنتاجاً له.

(٤) الخام الرئيسي لمعدن الألومنيوم.

(ج) قارن بين :

(١) حشائش البرارى، وحشائش التندرا، من حيث :

* نوع الرعى.

(٢) المطاط، وقصب السكر، من حيث :

* الدولة الأولى عالمياً في إنتاجه.

* الأهمية الاقتصادية.

(١) اختر الإجابة الصحيحة مما بين القوسين :

(١) زراعة الأرض بشكل مكثف لإشباع حاجة السكان المحليين من الغذاء زراعة

(بدائية - كثيفة - علمية - جميع ما سبق)

(٢) يأتى نصف الإنتاج السمكى في العالم من مياه

(الأنهار - البحيرات - البحار والمحيطات - المزارع السمكية)

(٣) أكثر من $\frac{2}{3}$ إنتاج القمح في العالم يأتى من

(أوروبا وأفريقيا - أوروبا وآسيا - آسيا وأستراليا - أمريكا الشمالية وأوروبا)

(٤) أهم المراكز الصناعية الحديثة في أمريكا الشمالية يوجد في دولة

(كوبا - شيلى - بنما - المكسيك)

(ب) «تشابه السواحل الجنوبية للولايات المتحدة الأمريكية مع السواحل الجنوبية لجمهورية

نيجييريا الاتحادية». فى ضوء العبارة اذكر :

(١) الخليج الذى تطل عليه السواحل الجنوبية لكل منهما والنهر الذى يصب فيه.

(٢) عدد الولايات التى تتكون منها كل دولة من الدولتين.

(ج) دلل جغرافياً على صحة كل عبارة مما يأتى :

(١) ترتبط مصر مع نيجييريا بعلاقات قوية.

(٢) * تعد الصناعة الحديثة مقياساً لتطور الشعوب.

التاريخ

(١) رتب الأحداث التاريخية التالية من الأقدم إلى الأحدث :

* مؤتمر مدريد للسلام.

* اتفاقية أوسلو.

* مؤتمر كامب ديفيد.

(ب) أكمل العبارات الآتية بكلمات مناسبة :

(١) ساهمت مصر والهند ويوغوسلافيا في تشكيل حركة

(٢) أصدرت ثورة ٢٣ يوليو ١٩٥٢م قوانين لتحديد الملكية الزراعية سميت بقوانين

(٣) * استطاع الجيش المصرى تدمير فى ست ساعات أثناء حرب أكتوبر ١٩٧٣م.

(٤) نجحت القوات المصرية فى هزيمة القوات الإسرائيلية عندما حاولت احتلال مدينة

بورفؤاد فى معركة

(ج) ما رأيك فى ... ؟

(١) قرار تأميم شركة قناة السويس ١٩٥٦م.

(٢) مساهمة التكنولوجيا المتطورة ووسائل الاتصال فى إندلاع ثورة ٢٥ يناير ٢٠١١م.

(د) ما النتائج التى ترتبت على : حرب أكتوبر ١٩٧٣م بالنسبة لمصر وإسرائيل ؟

(١) من أنا ... ؟

(١) توليت وزارة الشؤون الاجتماعية فى مصر عام ١٩٦٢م.

(٢) أول رئيس لجمهورية مصر العربية بعد ثورة ١٩٥٢م.

(٣) * بادرت بزيارة إسرائيل عام ١٩٧٧م ودعيت للسلام العادل لشعوب المنطقة.

(٤) توليت رئاسة الجمهورية بعد ثورة ٢٠ يونيو ٢٠١٣م لحين إجراء انتخابات رئاسية

مبكرة وتعديل الدستور.

(ب) يم تقصر ... ؟ (١) أهمية فلسطين عند الشعوب العربية.

(٢) فشل العدوان الثلاثى على مصر ١٩٥٦م.

(ج) ماذا كان يحدث إذا ... ؟

(١) استجابات إسرائيل لقرار مجلس الأمن رقم ٢٤٢

(٢) لم يتم إنشاء السد العالى فى مصر ١٩٧١م.

محافظة بنى سويف

مديرية التربية والتعليم



أجب عن الأسئلة الآتية: أولاً الجغرافيا

(١) أمامك خريطة للعالم. اكتب في كراسة إجابتك مدلول الأرقام الموضحة عليها:



- (١) منطقة رعى بدائي
(٢) أكبر القارات إنتاجاً للذرة
(٣) مركز صناعى حديث
(٤) أكبر الدول إنتاجاً للنحاس

(ب) اذكر أهمية كل مما يأتى :

- (١) الغاز الطبيعى. (٢) القطن. (٣) الجلود.

(ج) اكتب ما تشير إليه كل عبارة من العبارات الآتية :

- (١) محصول يستخرج من عصارة أشجار استوائية ويدخل في صناعة إطارات السيارات.
(٢) المصدر الأول والرئيسى للطاقة فى العالم حتى أوائل القرن العشرين الميلادى.
(٣) مدينة تمثل مركزاً للتجارة والمواصلات بدولة نيجيريا.

(د) أجب عن الآتى فى ضوء ما درست :

- (١) ما أهم الخصائص التى تتميز بها الزراعة البسيطة ؟
(٢) اذكر أهم الخصائص المناخية لدولة ألمانيا.

(١) اكتب كلمة (صواب) أمام العبارة الصحيحة، وكلمة (خطأ) أمام العبارة غير الصحيحة. مع التصويب :

- (١) تحتل الصين المركز الأول فى إنتاج الأسماك فى العالم. ()
(٢) يصنع الألومنيوم حيث يوجد خام البوكسيت. ()
(٣) تعد قارة أوروبا أولى قارات العالم فى إنتاج القمح. ()



(ب) «يعد النشاط الصناعى قمة الأنشطة الاقتصادية المتطورة». فى ضوء العبارة وضع :

- (١) العلاقة بين : الصناعة، والدول المتقدمة.
(٢) من وجهة نظرك : هل تتوافر المقومات التى تساعد على قيام نهضة صناعية كبرى بمصر.
(ج) دال جغرافياً على صحة كل عبارة من العبارات الآتية :
(١) يعد النشاط الزراعى من الأنشطة الاقتصادية الأساسية فى العالم.
(٢) يسبق التعدين العديد من الخطوات المهمة.
(٣) تشهد العلاقات الاقتصادية بين مصر وألمانيا تطوراً كبيراً.
(د) قارن بين : نيجيريا، وألمانيا، من حيث أهم السهول المنتشرة فى كل منهما.

ثانياً التاريخ

(١) اختر الإجابة الصحيحة مما بين القوسين :

- (١) وضعت فلسطين تحت الانتداب البريطانى وفقاً لقرارات مؤتمر
(باندونج - كامب ديفيد - مدريد - سان ريمو)
(٢) نجحت القوات المصرية فى هزيمة القوات الإسرائيلية فى معركة رأس العش عندما حاولت القوات الإسرائيلية احتلال مدينة
(بورسعيد - السويس - بورفؤاد - الإسماعيلية)
(٣) أنشأ محمد على مجلساً عرف ب
(مجلس الأمة - مجلس المشورة - مجلس الشيوخ - الجمعية التشريعية)
(٤) * الريحانة أول مجلة نسائية أصدرتها عام ١٩٠٧م.
(هدى شعراوي - جميلة حافظ - عائشة راتب - أمال عثمان)

(ب) ما النتائج التى ترقبت على ... ؟

- (١) ظاهرة الإقطاع (سوء توزيع الأرض الزراعية) فى مصر قبل ثورة يوليو ١٩٥٢م.
(٢) اجتماع وزراء النفط العربى بالكويت أثناء حرب أكتوبر ١٩٧٣م.
(ج) ماذا كان يحدث إذا : لم تقم بريطانيا بإصدار وعد بلفور ؟
(د) ما رأيك فى : تعد ثورة ٢٥ يناير ٢٠١١م من الثورات الفريدة فى التاريخ المصرى الحديث والمعاصر ؟

(١) اكتب كلمة (صواب) أمام العبارة الصحيحة، وكلمة (خطأ) أمام العبارة غير الصحيحة. مع التصويب :

- (١) حققت معاهدة ١٩٣٦م الاستقلال الحقيقى لمصر. ()
(٢) امتنعت بريطانيا عن التصويت على قرار هيئة الأمم المتحدة بتقسيم فلسطين عام ١٩٤٧م. ()

(٣) * يعد توفير مناخ يحقق الوحدة الوطنية أحد أنشطة منظمات

()

المجتمع المدني.

(٤) عُينت الدكتورة عائشة راتب أول وزيرة للشئون الاجتماعية عام ١٩٦٢م. ()

(ب) دلت على صحة العبارة التالية :

اختلفت الكتابات وتعددت الآراء حول ثورة ٢٣ يوليو ١٩٥٢م.

(ج) بم تفسر: تدهور الأوضاع الاقتصادية في مصر قبل ثورة ٢٥ يناير ٢٠١١م؟

(د) ما العلاقة بين : محكمة العدل الدولية، وطابا ؟

محافظة المنيا

مديرية التربية والتعليم

أجب عن الأسئلة الآتية:

أولاً الجغرافيا

(١) أمامك خريطة للعالم، اذكر مدلول الأرقام الموضحة عليها :

(١) هضبة

(٢) نوع الزراعة السائد

(٣) إقليم صناعي

(٤) أولى دول العالم

(٥) إنتاجاً للبتروöl

(٥) أهم الدول إنتاجاً

للنحاس



(ب) اكتب ما تشير إليه كل عبارة مما يأتي :

(١) محصول يستخرج من عصارة أشجار استوائية ويدخل في صناعة إطارات السيارات.

(٢) نبات دائم الخضرة موطنه الأصلي شرق آسيا يحتاج في زراعته مناخ حار وهواء

رطب ومطر غزير.

(ج) اكتب اسم الدولة الأولى إنتاجاً لكل من :

(١) اللحوم الحمراء. (٢) البوكسيت. (٣) الغاز الطبيعي.

(٤) قصب السكر. (٥) الألبان. (٦) الأسماك.

(٢) (١) اختر الإجابة الصحيحة مما بين القوسين :

(١) من المقومات الطبيعية للصناعة

() (الأيدى العاملة - المادة الخام - رأس المال - السياسة الحكومية)

(٢) تعد الولايات المتحدة الأمريكية القوة الاقتصادية في العالم.

() (الأولى - الثانية - الثالثة - الرابعة)

(٣) يزرع قصب السكر في كل قارات العالم ما عدا قارة

() (آسيا - أفريقيا - أمريكا الجنوبية - أوروبا)

(٤) أهم الدول المنتجة لصوف الأغنام

() (الهند - أستراليا - الصين - الولايات المتحدة الأمريكية)

(ب) بم تفسر...؟

(١) ارتفاع أسعار البترول عالمياً.

(٢) اتجاه العالم إلى التوسع في استخدام الغاز الطبيعي كبديل لمصادر الطاقة الأخرى.

(٣) قلة عدد السكان في ولاية ألاسكا.

(٤) توطن صناعة الألومنيوم في الدول المتقدمة رغم قلة خام البوكسيت بها.

(ج) وضح العلاقات الاقتصادية بين كل من :

(١) مصر، والهند. (٢) مصر، والولايات المتحدة الأمريكية.

ثانياً التاريخ

(٢) (١) أكمل العبارات الآتية بكلمات مناسبة مما بين القوسين :

(محمد علي - محمد أنور السادات - مصطفى النحاس - محمد نجيب -

سعد الدين الشاذلي - أحمد إسماعيل)

(١) أذيع البيان الأول لثورة ٢٣ يوليو ١٩٥٢م بصوت

(٢) حاصرت قوات الاحتلال البريطاني قصر عابدين في فبراير ١٩٤٢م لإجبار

الملك فاروق على تعيين رئيساً للحكومة.

(٣) تم منح اسم وسام قلادة النيل العظمى في الذكرى الـ ٢٩ لنصر أكتوبر.

(٤) أنشأ مجلس المشورة.

(ب) صوب ما تحته خط في العبارات الآتية :

(١) عُرف خط الدفاع الإسرائيلي في هضبة الجولان السورية باسم خط بارليف.

(٢) عقد مؤتمر باندونج عام ١٩٥٥م في دولة السويد.

(٣) مجلة الريحانة أول مجلة نسائية مصرية أصدرتها عائشة راتب عام ١٩٠٧م.

(ج) ما المقصود بالمفاهيم الآتية ... ؟

- (١) عدم الانحياز. (٢) * منظمات المجتمع المدني. (٣) دستور.

(١) «تعددت الحروب والمواجهات بين إسرائيل والعرب منذ ١٩٤٨ م وحتى ١٩٧٣ م».

فى ضوء هذه العبارة وضح :

(١) موقف الدول العربية من قرار تقسيم فلسطين عام ١٩٤٧ م.

(٢) أسباب العدوان الثلاثى على مصر عام ١٩٥٦ م.

(٣) مزايا تحقيق السلام وإنهاء الصراع العربى/الإسرائيلى.

(ب) اكتب كلمة (صواب) أمام العبارة الصحيحة. وكلمة (خطأ) أمام العبارة غير الصحيحة :

(١) يمثل مجلس النواب السلطة التنفيذية فى الدولة. ()

(٢) استشهد الفريق أول عبدالمنعم رياض فى حرب الاستنزاف. ()

(٣) ساهمت التكنولوجيا المتطورة ووسائل الاتصال فى اندلاع ثورة ٢٥ يناير ٢٠١١ م. ()

(٤) تقلدت المرأة المصرية المناصب الوزارية فكانت هدى شعراوى أول

وزيرة للشئون الاجتماعية عام ١٩٦٢ م. ()

(ج) ما النتائج التى ترتبت على ... ؟

(١) قرار هيئة التحكيم بمحكمة العدل الدولية فى سبتمبر ١٩٨٨ م.

(٢) معركة رأس العش.

(٣) التطبيق غير السليم لسياسة الخصخصة فى مصر قبل ثورة ٢٥ يناير ٢٠١١ م.



مديرية التربية والتعليم

محافظة أسيوط

أجب عن الأسئلة الآتية : أولاً الجغرافيا

(١) أمامك خريطة لجمهورية نيجيريا،

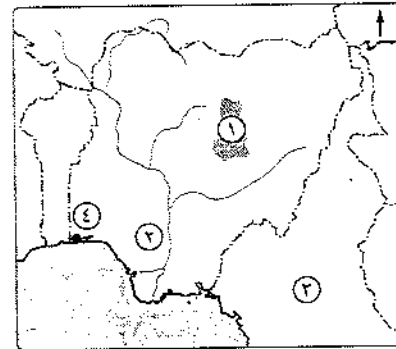
اكتب مدلول الأرقام الموقعة عليها :

(١) هضبة

(٢) نهر

(٣) دولة

(٤) العاصمة القديمة



(ب) يم تقصر ... ؟ (يلتقصص واحد)

(١) يعتبر النشاط الزراعى من الأنشطة الاقتصادية الأساسية فى العالم.

(٢) توسع العالم فى استخدام الغاز الطبيعى كبديل لمصادر الطاقة.

(٣) انتشار مصايد الأسماك على سواحل شمال غرب أوروبا.

(٤) ازدهار صناعة الألومنيوم فى الدول المتقدمة.

(ج) صوب ما تحته خط فى العبارات الآتية :

(١) تعتبر دولة ماليزيا من أهم الدول المنتجة لأصواف أغنام المارينو الشهيرة ثم الصين.

(٢) يسود دولة ألمانيا الاتحادية مناخ استوائى ممطر طول العام خاصة فى الشمال.

(٣) أكبر الأقاليم الصناعية فى العالم الجديد إقليم شمال شرق فرنسا الصناعى.

(٤) * تحتل دولة أستراليا المركز الأول فى إنتاج القمح فى العالم.

(١) اختر الإجابة الصحيحة مما بين القوسين :

(١) من المحاصيل التى تستخدم فى تصنيع إطارات السيارات

(الفطن - الجوت - المطاط الطبيعى - النرة)

(٢) تعد الهند من أكبر دول العالم تربية لـ (الماز - الأبقار - الإبل - الجاموس)

(٣) أولى دول العالم إنتاجاً لمعدن الحديد دولة

(الولايات المتحدة الأمريكية - شيلي - فرنسا - الصين)

(٤) تاتى مصر فى مقدمة خمس دول عربية تقوم بتوليد الكهرباء من

(الرياح - البترول - الغاز الطبيعى - القمح)

(٥) تعتبر دولة بريطانيا من أهم المراكز الصناعية فى إقليم الصناعى.

(شرق آسيا - أمريكا الجنوبية - غرب ووسط أوروبا - روسيا وأوكرانيا)

(ب) «تنوع الموارد والأنشطة الاقتصادية فى العالم». فى ضوء ذلك أجب عما يأتى :

(١) دلل على صحة العبارة الآتية : صعوبة زراعة قصب السكر فى أوروبا.

(٢) اذكر نتيجة واحدة مترتبة على : كثرة الغابات والتلال والينابيع المائية فى المرتفعات

الوسطى لجمهورية ألمانيا الاتحادية.

(٣) اذكر خصائص كل من : الزراعة البسيطة (البداية)، والزراعة التجارية العلمية.

(٤) ما العلاقة بين : تدفق البترول، وحرفة الرعى البدائى فى شبه الجزيرة العربية ؟

ثانياً التاريخ

٣ (١) اكتب كلمة (صواب) أمام العبارة الصحيحة. وكلمة (خطأ) أمام العبارة غير الصحيحة. مع التصويب :

- (١) حاصرت قوات الاحتلال البريطاني قصر عابدين في فبراير ١٩٤٢م. ()
 (٢) قامت مصر بإغلاق خليج السويس أمام الملاحة الإسرائيلية في مايو ١٩٦٧م. ()
 (٣) من العوامل الاقتصادية لقيام ثورة ٢٥ يناير ٢٠١١م استمرار العمل بقانون الطوارئ. ()
 (٤) نصت معاهدة السلام في مارس ١٩٧٩م على التطبيق الكامل لقرار مجلس الأمن الدولي رقم «٢٤٢». ()

(ب) إلى من تنسب الأعمال الآتية ... ؟

- (١) شارك في وضع خطة عبور قناة السويس وتحطيم خط بارليف بعد توليته رئيساً لأركان حرب القوات المسلحة عام ١٩٧١م.
 (٢) تسلم قيادة السلطة المصرية بعد عزل الرئيس «محمد مرسى» في ٢ يوليو ٢٠١٣م.
 (٣) شغلت منصب رئيس اللجنة التشريعية بمجلس الشعب.

(ج) اذكر فتية واحدة ترتبت على :

- (١) العمليات العسكرية التي قام بها سلاح الطيران والمدفعية على الجبهة المصرية أثناء حرب أكتوبر ١٩٧٣م.
 (٢) * قيام مصر بتأميم شركة قناة السويس في يوليو ١٩٥٦م.
 (٣) هزيمة العرب في حرب فلسطين ١٩٤٨م.

٤ (١) اختر الإجابة الصحيحة مما بين القوسين، وأكمل بها العبارات الآتية :

- (سوريا - عائشة راتب - سان ريمو - فلسطين - ألوان - الاجتماعي - رفاة الطهاوى)
 (١) منح المرأة حق الانتخاب والترشح لمجلس الأمة من إنجازات ثورة ٢٣ يوليو ١٩٥٢م في المجال
 (٢) وضعت فلسطين تحت الانتداب البريطاني طبقاً لقرارات مؤتمر عام ١٩٢٠م.
 (٣) تحقيق أول تجربة للوحدة العربية في فبراير ١٩٥٨م بين كل من مصر و
 (٤) أنشأ الخديو إسماعيل مدرسة لتعليم البنات استجابة لدعوة عام ١٨٧٣م.
 (٥) وافقت هيئة الأمم المتحدة في عام ١٩٤٧م على تقسيم
 (٦) يُعرف خط الدفاع الإسرائيلي في هضبة الجولان باسم خط

(ب) «تجمعت العديد من الأسباب لتمهيد لاندلاع ثورة ٢٥ يناير ٢٠١١م».

في ضوء ذلك أجب عما يأتي :

- (١) دلل : يعد الجيش المصري الضامن لثورة ٢٥ يناير ٢٠١١م ؟
 (٢) ما دور منظمات المجتمع المدني كمناصر فاعلة في تقديم الخدمات الاجتماعية للمصريين ؟
 (٣) ماذا كان يحدث إذا لم : تقم مصر بإنشاء مشروع السد العالي ؟
 (٤) ما رأيك في : أن تحقيق السلام يعود بالنفع على الوطن العربي ؟



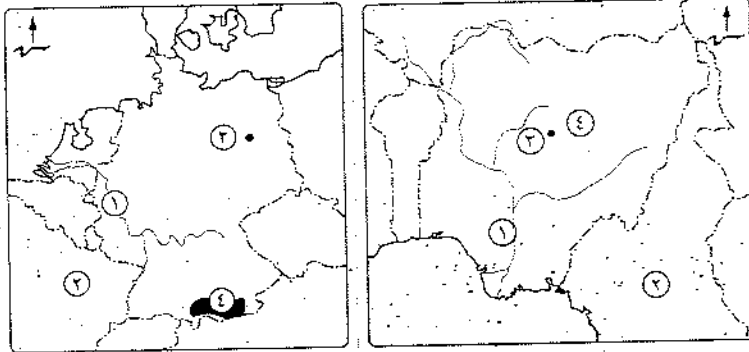
مديرية التربية والتعليم

محافظة سوهاج

١٩

أجب عن الأسئلة الآتية : أولاً الجغرافيا

١ (١) أمامك خريطتان الأولى لجمهورية نيجيريا. والثانية لدولة ألمانيا الاتحادية. اكتب مدلول الأرقام الموقعة عليهما :



- ① (١) نهر
 (٢) دولة
 (٣) مدينة
 (٤) هضبة
 ② (١) نهر
 (٢) دولة
 (٣) مدينة
 (٤) جبال

(ب) اكتب ما تشير إليه كل عبارة من العبارات الآتية :

- (١) * استخراج المعادن ومصادر الطاقة من باطن الأرض أو بالقرب من سطح الأرض.
 (٢) رعى يوجد في مناطق الحشائش القصيرة (البرارى) والإستبس والسافانا بقارات العالم.
 (٣) زراعة يعمل بها عدد قليل من السكان في مناطق صغيرة ومعزولة.
 (٤) أكبر الأقاليم الصناعية في العالم الجديد.

(ج) بم تفسر ... ؟

- (١) توسع العالم في استخدام الغاز الطبيعي كبديل لمصادر الطاقة الأخرى.
(٢) انتشار مصايد الأسماك على طول سواحل قارتي أمريكا الشمالية والجنوبية.

(٢) (١) أى العبارات الآتية صحيحة وأنها خطأ ؟ مع ذكر السبب فى الجائتين :

- (١) قارة آسيا أولى قارات العالم إنتاجاً للطاقة النووية.
(٢) توجد عدة عمليات تسبق عملية التعدين.
(٣) يتركز إنتاج النحاس فى دولة شيلي بقارة أفريقيا.
(٤) دولة ألمانيا أولى دول العالم إنتاجاً لقصب السكر.

(ب) استخراج الكلمة المختلفة فى المجموعتين الآتيتين، ثم اذكر السبب :

- (١) المطاط - الشاي - الجوت - البن.
(٢) التطور العلمى - رأس المال - المواد الخام - السياسات الحكومية.
(ج) قارن بين : الغابات فى جمهورية نيجيريا، والغابات فى ألمانيا الاتحادية.

ثانياً التاريخ

(٢) (١) صوب ما تحته خط فى العبارات الآتية، ثم أعد كتابة العبارة كاملة فى كراسة الإجابة :

- (١) قامت مصر ببناء حائط مدفعية على الضفة الغربية فيما بين عامى ١٩٦٩م و ١٩٧٠م.
(٢) * ساهمت منظمة اليونسيف فى إحياء مكتبة الإسكندرية.
(٣) استعادت مصر سيناء كاملة عام ١٩٨٢م ما عدا منطقة رفح.
(٤) * يعرف خط الدفاع الإسرائيلى على هضبة الجولان السورية باسم خط بارليف.
(٥) تم توقيع معاهدة السلام مارس ١٩٧٩م بين مصر وألمانيا.
(٦) الدستور يطلق على المجالس النيابية التى تتولى السلطة التشريعية.

(ب) ما النتائج التى ترتبت على ... ؟

- (١) هزيمة العرب فى حرب فلسطين ١٩٤٨م.
(٢) * فشل العدوان الثلاثى على مصر أكتوبر ١٩٥٦م.
(٣) دستور ١٩٥٦م بالنسبة للمرأة فى مصر.
(٤) معركة رأس العش فى مصر.

(٤) (١) من أكون ... ؟

- (١) أصدرت أول مجلة نسائية (الريحانة) فبراير ١٩٠٧م.
(٢) تم اختياري رئيساً لأركان حرب القوات المسلحة المصرية عام ١٩٧١م.

(٣) تخلّيت عن رئاسة مصر فى ١١ فبراير ٢٠١١م.

(٤) قمت بتأسيس مجلس شورى النواب ديسمبر ١٨٦٦م.

(ب) دلل تاريخياً على صحة كل عبارة مما يأتى :

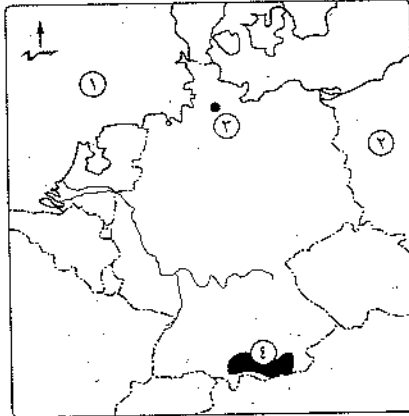
- (١) معاهدة ١٩٢٦م لم تؤدِ إلى الاستقلال الحقيقى لمصر.
(٢) قام العرب بدور مهم فى حرب أكتوبر ١٩٧٣م.

(ج) اختر : شخصية من زعماء ثورة ٢٣ يوليو ١٩٥٢م أعجبتك، ولماذا ؟

محافظة قنا

مديرية التربية والتعليم

أجب عن الأسئلة الآتية : أولاً الجغرافيا



(١) أمامك خريطة لدولة ألمانيا، اكتب مدلول

الأرقام الموقعة عليها :

- (١) بحر (٢) دولة
(٣) ميناء مهم (٤) جبال

(ب) بم تفسر ... ؟

- (١) صعوبة استخدام الآلات والميكنة
الزراعية فى الزراعة الكثيفة.
(٢) قلة عدد العاملين بحرفة الرعى البدائى
فى شبه الجزيرة العربية وبادية الشام.

(٢) توسع العالم فى استخدام الغاز الطبيعى كبديل لمصادر الطاقة الأخرى.

(ج) صوب ما تحته خط فى العبارات الآتية :

- (١) يحد دولة نيجيريا من الجنوب المحيط الهندى.
(٢) دولة النرويج أولى دول العالم فى إنتاج الأسماك.
(٣) أكبر الأقاليم الصناعية فى العالم الجديد إقليم روسيا وأوكرانيا الصناعى.

(٢) (١) قارن بين كل مما يأتى :

- (١) القمح، والذرة، من حيث أولى قارات العالم فى الإنتاج.
(٢) مدينة لاجوس، ومدينة ميونخ، من حيث الشهرة.



٢٠ (١) اكتب كلمة (صواب) أمام العبارة الصحيحة، وكلمة (خطأ) أمام العبارة غير الصحيحة، مع التصويب :

(١) أثناء حرب الاستنزاف تدخلت روسيا فقدم وزير خارجيتها روجرز مبادرة لوقف إطلاق النار. ()

(٢) حاصرت قوات الاحتلال البريطاني قصر عابدين لإجبار الملك فاروق على تعيين سعد زغلول رئيساً للحكومة. ()

(٣) أثناء ثورة ٢٥ يناير ٢٠١١ شكل المجتمع المصرى بكل فئاته ما عرف باللجان الشعبية. ()

(٤) من أسباب عدوان إسرائيل على العرب فى يونيو ١٩٦٧م إغلاق الخليج العربى فى وجه الملاحة الإسرائيلية. ()

(ب) ما النتائج التى ترتبت على ... ؟

(١) عقد مؤتمر سان ريمو بإيطاليا. (٢) هزيمة العرب فى حرب فلسطين ١٩٤٨م.

(ج) رتب الأحداث الآتية من الأقدم إلى الأحدث :

* ظهرت أول مجلة نسائية مصرية وهى الريحانة.

* تسلم المستشار عدلى منصور سلطة الحكم فى البلاد.

* إنشاء مجلس المشورة. * عقد مؤتمر مدريد للسلام.

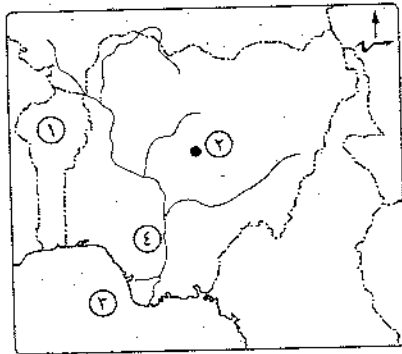


مديرية التربية والتعليم

محافظة الأقصر

٢١

أجب عن الأسئلة الآتية : أولاً الجغرافيا



١ (١) أمامك خريطة لدولة نيجيريا اكتب

مدلول الأرقام الموقعة عليها :

(١) دولة (٢) مدينة

(٣) خليج (٤) نهر

(ب) يم تفسر ... ؟

(١) عدم زراعة قصب السكر بقارة أوروبا.

(٢) توطن صناعة الألومنيوم بالدول المتقدمة.

(٣) تعد المرتفعات الوسطى فى ألمانيا

مناطق جذب للسياح.

(ب) اختر الإجابة الصحيحة مما بين القوسين :

(١) معظم إنتاج الصين من اللحوم الحمراء يأتي من لحوم

(الأبقار - الأغنام - الجاموس - الخنازير)

(٢) من المقومات الطبيعية للصناعة توفر

(المواد الخام - الأسواق - رأس المال - الأيدي العاملة الماهرة)

(٣) * تعتبر دولة أولى دول قارة آسيا فى إنتاج المطاط.

(تايلاند - نيجيريا - السودان - المغرب)

(ج) اكتب ما تشير إليه كل عبارة من العبارات الآتية :

(١) يعد الخام الرئيسى لمعدن الألومنيوم.

(٢) المحصول الثانى لإنتاج السكر فى العالم.

(٣) * تنتج من الأمواج وحركة المد والجزر فى بعض الدول المتقدمة.

التاريخ

٢ (١) «مصر تناضل من أجل تحقيق السلام وتقوم بالثورات ضد الفساد والاستبداد».

فى ضوء العبارة وضع :

(١) سبباً واحداً من أسباب ثورة ٢٥ يناير ٢٠١١م.

(٢) أهم مطالب ثورة ٢٣ يوليو ١٩٥٢م من الملك فاروق.

(٣) أسباب اندلاع حرب أكتوبر ١٩٧٣م.

(٤) مزايا تحقيق السلام لمصر والوطن العربى. (يلقى بالنسبة)

(ب) إلى من تنسب الأعمال الآتية ... ؟

(١) أنشأ مجلس شورى النواب ١٨٦٦م.

(٢) أول وزيرة للشئون الاجتماعية فى مصر.

(٣) الرئيس الأمريكى الذى دعا إلى عقد مؤتمر كامب ديفيد.

(٤) تولى القيادة العامة الموحدة للقوات المصرية السورية فى حرب أكتوبر ١٩٧٣م

وحصل على وسام نجمة سيناء.

(ج) أيد صحة كل عبارة مما يأتى :

(١) استطاعت ثورة ٢٣ يوليو ١٩٥٢م القضاء على الإقطاع.

(٢) كان للعرب دوراً كبيراً فى دعم مصر أثناء حرب أكتوبر ١٩٧٣م.

- (ج) حدد أولى دول العالم في إنتاج كل من :
 (١) البترول. (٢) المطاط الطبيعي. (٣) النحاس.

٢ (١) اختر الإجابة الصحيحة مما بين القوسين :

- (١) يصعب استخدام الآلات والميكنة الزراعية في المناطق الزراعية
 (البدائية - العلمية - الكثيفة - جميع ما سبق)
 (٢) من الدول الرئيسية المصدرة للأسماك (السعودية - الهند - الترويج - باكستان)
 (٣) تقع مراكز الصناعات الحديثة في جنوب شرق آسيا بدولة
 (فنزويلا - الأرجنتين - ماليزيا - المكسيك)
 (٤) تصدر مصر إلى دولة ألمانيا
 (الصناعات الكيماوية - الآلات - الغاز الطبيعي - السيارات)
 (ب) قارن بين : الرعي البدائي، والرعي التجاري، من حيث :
 * المفهوم. * أماكن التركيز.
 (ج) ما النتائج المترتبة على ... ؟
 (١) الوحدة الاقتصادية الأوروبية. (٢) وقوع ألمانيا في نطاق مناخ غرب أوروبا (مناخياً).

ثانياً التاريخ

٣ (١) اختر الإجابة الصحيحة مما بين القوسين :

- (١) تم الدعوة لمبدأ الأرض مقابل السلام في مؤتمر
 (مدريد - أوصلو - سان ريمو - باندونج)
 (٢) أقرت نظام الانتداب بعد انتهاء الحرب العالمية الأولى.
 (بريطانيا - فرنسا - عصبة الأمم - الأمم المتحدة)
 (٣) أجبرت بريطانيا الملك فاروق على تعيين مصطفى النحاس رئيساً للحكومة بعد
 حصار (الإسكندرية - قصر عابدين - قصر رأس التين - بورسعيد)
 (٤) قدم مبادرة وقف إطلاق النار وحل النزاع العربي / الإسرائيلي سلمياً أثناء
 حرب الاستنزاف (روجرز - كارتر - بيجين - السادات)

(ب) وضح كل من :

- (١) دور بريطانيا في إنشاء وطن قومي لليهود في فلسطين.
 (٢) دور المرأة في ثورة ١٩١٩م.

- (ج) بم تفسر ... ؟ (١) تدهور الأوضاع الاقتصادية قبل ثورة ٢٥ يناير ٢٠١١م.
 (٢) لمنظمات المجتمع المدني دور فاعل في المجتمع.

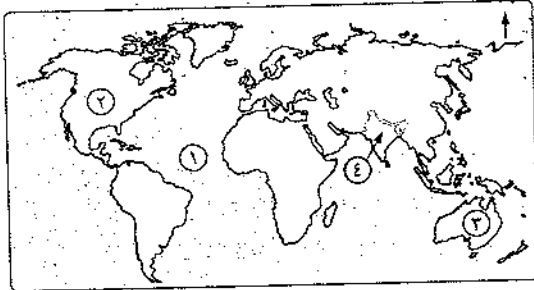
٤ (١) صوب ما تحته خط. وأعد كتابة العبارة صحيحة في كراسة إجابتك :

- (١) * استعادت مصر سيناء كاملة ١٩٨٢م ما عدا منطقة رفح.
 (٢) من شهداء حرب الاستنزاف الفريق سعد الدين الشاذلي.
 (٣) أصدر جمال عبد الناصر الدستور الدائم ١٩٧١م.
 (٤) أغلقت مصر خليج السويس في مايو ١٩٦٧م أمام الملاحة الإسرائيلية.
 (ب) اكتب المصطلح الذي تشير إليه كل عبارة من العبارات التالية :
 (١) مؤتمر دعا له الرئيس الأمريكي كارتر للتوصل إلى اتفاق للسلام بين مصر وإسرائيل.
 (٢) منطقة قدمت عنها الولايات المتحدة الأمريكية معلومات عسكرية لإسرائيل ساعدت
 على وجود ثغرة في الجبهة المصرية.
 (٣) قانون صدر في سبتمبر ١٩٥٢م يهدف إلى القضاء على الإقطاع.
 (٤) * اسم يطلق على المرحلة الأولى لإعادة بناء القوات المسلحة بعد هزيمة ٥ يونيو ١٩٦٧م.
 (ج) ما النتائج التي تترتب على ... ؟
 (١) مساندة مصر لحركات التحرر الوطني في الجزائر.
 (٢) بناء حائط الصواريخ على الضفة الغربية للقناة أثناء حرب الاستنزاف.

محافظة أسوان

مديرية التربية والتعليم

أولاً الجغرافيا



أجب عن الأسئلة الآتية :

١ (١) أمامك خريطة للعالم

اكتب مدلول الأرقام :

(١) المحيط

(٢) أكبر القارات إنتاجاً

للزرة

(٣) أولى دول العالم إنتاجاً

للوكسيت

(٤) أكبر دول العالم إنتاجاً

للألبان

(ب) صف المحصولين الآتيين حسب النوع الذي ينتميان إليه، موضحاً استخداماتهما :

(١) القطن. (٢) القمح.

(ج) اكتب ما تشير إليه كل عبارة من العبارات الآتية :

- (١) محصول يستخرج من عصارة الأشجار الاستوائية يُصنع منه إطارات السيارات.
(٢) * مصدر طاقة رخيص الثمن وسهل النقل وأقل تلويثاً للبيئة ويستخدم في الأغراض المنزلية.

(٣) نهر يجرى داخل نيجيريا ويُعتمد على مياهه في الري والزراعة.

(٤) منطقة تُعد من أهم مناطق الجذب السياحي في ألمانيا.

(١) صوب ما تحته خط في العبارات الآتية :

- (١) تحتل أستراليا المركز الأول في أعداد الأغنام.
(٢) من الأحياء البحرية الرخويات مثل الجمبري.
(٣) يوجد الحديد في أفريقيا وآسيا فقط.
(٤) يُستخدم البترول والفحم والغاز الطبيعي في إنتاج الكهرباء المائية.
(٥) معظم الصناعات في دول الخليج العربي من الصناعات الكيميائية.

(ب) قارن بين : ألمانيا، ونيجيريا، من حيث :

* العاصمة. * ما تصدره مصر إلى كل منهما. (يُلقَى بالثبته).

(ج) أجب عن الأسئلة الآتية :

- (١) ما العلاقة بين : انتشار التعليم بين قبائل وسط آسيا، والرعى البدائي ؟
(٢) بم تفسر : تنتشر مناطق الصيد على سواحل القارات ؟
(٣) ماذا يحدث إذا : تحولت مصر من نظام الزراعة الكثيفة إلى الزراعة العلمية والتجارية ؟

ثانياً التاريخ

(١) اكتب كلمة (صواب) أمام العبارة الصحيحة، وكلمة (خطأ) أمام العبارة غير الصحيحة. مع التصويب :

- (١) ألغت ثورة ٢٣ يوليو ١٩٥٢ م دستور ١٩٢٣ م. ()
(٢) أعطى مؤتمر سان ريمو ١٩٢٠ م لفرنسا حق الانتداب على فلسطين. ()
(٣) * ساهمت التكنولوجيا المتطورة ووسائل الاتصال الحديثة في اندلاع ثورة ٢٥ يناير ٢٠١١ م. ()
(٤) * تُعد منظمات المجتمع المدني عناصر فعالة في تقديم الخدمات الاجتماعية. ()

(ب) أيد بالأدلة التاريخية صحة ما يلي : (يُلقَى بالثبته فقط)

- (١) لم تحقق معاهدة ١٩٣٦ م الاستقلال الحقيقي لمصر.
(٢) كان لفشل العدوان الثلاثي على مصر عام ١٩٥٦ م العديد من الأسباب. (يُلقَى بالثبته)
(٣) كان للدعم العربي أثره الفعال في حرب أكتوبر ١٩٧٣ م.



(ج) رتب الأحداث التاريخية الآتية من الأقدم إلى الأحدث :

- * تأمين قناة السويس.
* تدمير المدمرة الإسرائيلية إيلات.
* مؤتمر باندونج.
* إصدار وعد بلفور.

٤ (أ) «خاض شعب مصر العظيم وجيشها الياسل العديد من الحروب والثورات من أجل التخلص من الاحتلال والظلم والاستبداد والفساد بشتى صوره وأشكاله».

في ضوء العبارة وضع ما يلي :

- (١) إنجازات ثورة ٢٣ يوليو ١٩٥٢ م في مجال الصناعة.
(٢) أسباب هزيمة الدول العربية في عدوان ٥ يونيو ١٩٦٧ م. (يُلقَى بالثبته)
(٣) دور المرأة المصرية في العمل الوطني منذ عام ١٩٨١ م وحتى الآن. (يُلقَى بالثبته)

(ب) ما النتائج التي ترقبت على ... ؟

(١) معركة رأس العش. (٢) مؤتمر مدريد ١٩٩١ م.

(ج) ما رأيك في ... ؟ (١) قرار هيئة الأمم المتحدة بتقسيم فلسطين عام ١٩٤٧ م.

(٢) بنود معاهدة السلام المصرية الإسرائيلية في مارس ١٩٧٩ م.



مديرية التربية والتعليم

٢٣ محافظة الوادي الجديد

أجب عن الأسئلة الآتية : أولاً الجغرافيا

(١) أمامك خريطة للعالم

اكتب ما تشير إليه الأرقام :

(١) أولى قارات العالم في

إنتاج الغاز الطبيعي

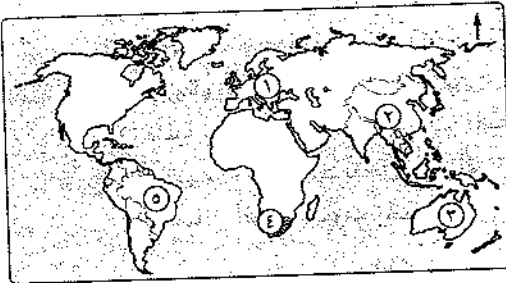
(٢) أولى دول العالم في

إنتاج الأسماك

(٣) أولى دول العالم في إنتاج خام البوكسيت

(٤) أحد المراكز الصناعية الحديثة في أفريقيا

(٥) أولى دول العالم في زراعة قصب السكر



(ب) «تمثل الهند نموذج الدول النامية وألمانيا نموذج الدول المتقدمة في العالم وترتبط مصر

معهما بعلاقات طيبة في جميع المجالات». في ضوء العبارة أجب عما يأتي :

- (١) اذكر : نوع الغابات في كل من الهند وألمانيا.
- (٢) بين أوجه الشبه بين : الهند وألمانيا من حيث مناطق تركيز السكان.
- (٣) ما العلاقة بين : انتشار الحشائش بالسهل الساحلي الشمالي، والسكان في ألمانيا ؟
- (٤) في رأيك : كيف يمكن لمصر أن تستفيد من تجربة الهند لمواجهة المشكلة السكانية بها ؟

(١) اختر الإجابة الصحيحة مما بين القوسين :

- (١) تنتشر الزراعة الكثيفة في المناطق
- (الحارة والمعتدلة - الحارة - المعتدلة - الباردة)
- (٢) تحتل دولة المركز الأول في تربية الدواجن.
- (الصين - الولايات المتحدة الأمريكية - البرازيل - فرنسا)
- (٣) أولى دول العالم في إنتاج البترول
- (الولايات المتحدة الأمريكية - الكويت - السعودية - روسيا)
- (٤) تمثل جزيرة اليابانية أحد المناطق الصناعية في شرق آسيا.
- (كيوشو - جاوة - أندمان - هنشو)

(ب) ما النتائج المترتبة على ... ؟

- (١) استخدام أحدث الآلات والطرق العلمية الحديثة في الزراعة التجارية والعلمية.
- (٢) الوحدة الاقتصادية الأوروبية. (٣) افتقار الهند للبترول.
- (ج) اكتب المصطلح الجغرافي الذي تعبر عنه كل عبارة من العبارات الآتية :
- (١) نبات دائم الخضرة ويحتاج في زراعته إلى تربة خصبة خفيفة ومناخ حار وأمطار غزيرة وموطنه الأصلي شرق آسيا.
- (٢) عملية استخراج المعادن ومصادر الطاقة من باطن الأرض أو بالقرب من السطح.
- (٣) مجموعة مقومات تتمثل في توافر المواد الخام (زراعية - حيوانية - معدنية) ومصادر الطاقة والموقع المتميز.

التاريخ

(١) اكتب كلمة (صواب) أمام العبارة الصحيحة، وكلمة (خطأ) أمام العبارة غير الصحيحة، مع التصويب :

- (١) استمرار الاجتلال البريطاني وفساد النظام الملكي في مصر من عوامل قيام ثورة ٢٣ يوليو ١٩٥٢م.

()



(٢) من نصوص قرار مجلس الأمن رقم ٢٤٢ انسحاب إسرائيل من الأراضي التي احتلتها عام ١٩٦٧م.

()

(٣) وعد بلفور ١٩١٧م أعطى لبريطانيا حق الانتداب على فلسطين.

()

(٤) شغل الفريق عبدالغنى الجيسى رئاسة أركان حرب القوات المسلحة

()

المصرية في ديسمبر ١٩٧٣م.

(ب) يم تفسر ... ؟

(١) موافقة الملك فاروق على مغادرة البلاد قبل الموعد الذي تم تحديده من ضباط ثورة ١٩٥٢م.

(٢) إعلان مصر وقوفها إلى جانب سوريا بعد قيام إسرائيل بحشد قواتها على الحدود مع سوريا ١٩٦٧م.

(٣) حدوث ثغرة في منطقة الدفرسوار أثناء حرب ١٩٧٣م.

(٤) مشاركة مصر بفاعلية في مؤتمر مدريد للسلام ١٩٩١م.

(٥) * أهمية منظمات المجتمع المدني.

(١) أكمل ما يأتي :

(١) من أهداف ثورة ٢٣ يوليو ١٩٥٢م القضاء على وسيطرة رأس المال على الحكم وإقامة اجتماعية.

(٢) تم تعيين السيدة كأول وزيرة للشئون الاجتماعية عام ١٩٦٢م.

(ب) «سيقف التاريخ طويلاً أمام ثورة ٢٣ يوليو ١٩٥٢م فهي تعد بمثابة التبراس الذي أضاء

الطريق أمام حركات التحرر في المنطقة العربية بشكل خاص والعالم بشكل عام».

في ضوء ذلك أجب عما يأتي :

(١) من أكون ... ؟

(١) تم إذاعة البيان الأول لثورة ٢٣ يوليو ١٩٥٢م باسمي من دار الإذاعة المصرية.

(٢) أحد الأعمدة الرئيسية التي اعتمد عليها الرئيس جمال عبدالناصر لإعادة بناء

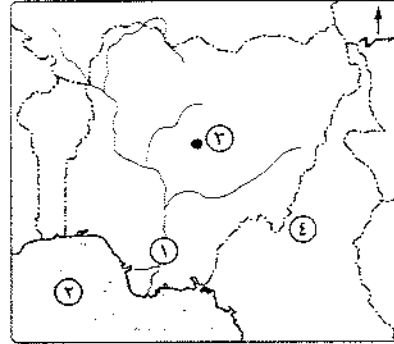
وتنظيم القوات المسلحة المصرية في حرب الاستنزاف.

(٢) ماذا كان يحدث إذا : لم يتم إنشاء السد العالي ؟

(٣) دال على صحة العبارة الآتية : أنهت حرب أكتوبر ١٩٧٣م نظرية الأمن الإسرائيلي.



أجب عن الأسئلة الآتية: أولاً الجغرافيا



١ (١) أمامك خريطة لدولة نيجيريا اكتب

مدلول الأرقام الموقعة عليها :

- (١) نهر (٢) خليج
(٣) مدينة (٤) دولة

(ب) ما المقصود بكل من ... ؟

- (١) الرعى البدائي.
(٢) النشاط التعديني.

(ج) قارن بين : الزراعة البسيطة، والزراعة الكثيفة، من حيث :

- * الخصائص. * أهم المحاصيل.

٢ (١) اكتب كلمة (صواب) أمام العبارة الصحيحة، وكلمة (خطأ) أمام العبارة غير الصحيحة. مع التصويب :

- (١) يزرع قصب السكر في كل قارات العالم. ()
(٢) تعتبر الولايات المتحدة الأمريكية أكبر دول العالم إنتاجاً للأسماك. ()
(٣) يتم إنتاج الكهرباء الحرارية من الفحم والبتروال والغاز الطبيعي. ()
(٤) كان الغاز الطبيعي المصدر الأول والرئيسي للطاقة المستخدمة حتى أوائل القرن العشرين. ()
(٥) يسود ألمانيا مناخ غرب أوروبا الممطر طول العام خاصة في الشمال. ()

(ب) ما النتائج المترتبة على ... ؟

- (١) تدفق البترول في شبه الجزيرة العربية بالنسبة لحرفة الرعى.
(٢) الوحدة الاقتصادية الأوروبية.

(ج) ما العلاقة بين : خام البوكسيت، وصناعة الألومنيوم ؟

(د) دلل على صحة هذه العبارة : ترتبط مصر وألمانيا بعلاقات ثقافية وعلمية.

ثانياً التاريخ

٣ (١) اختر الإجابة الصحيحة مما بين القوسين :

- (١) * قرر مؤتمر سان ريمو ١٩٢٠م وضع فلسطين تحت انتداب
(الولايات المتحدة الأمريكية - بريطانيا - فرنسا - ألمانيا)
(٢) رئيس أركان حرب القوات المسلحة واستشهد في حرب الاستنزاف
(عبدالمعز رياض - أحمد إسماعيل - سعد الدين الشاذلي - محمد عبدالغنى الجمسى)
(٣) تقلدت المناصب الوزارية وكانت أول وزيرة للشئون الاجتماعية عام ١٩٦٢م
(أمال عثمان - هدى شعراوي - حكمت أبو زيد - عائشة راتب)

(ب) بم تقصر ... ؟

- (١) فشل العدوان الثلاثي على مصر عام ١٩٥٦م.
(٢) تدهور أوضاع مصر الاقتصادية قبل ثورة ٢٥ يناير ٢٠١١م.
(٣) * إنشاء جامعة الدول العربية عام ١٩٤٥م.

(ج) وضع العلاقة بين : حرب فلسطين، وثورة ٢٣ يوليو ١٩٥٢م.

٤ (١) لن تنسب الأعمال الآتية ... ؟

- (١) * أصبح مسيطراً على جميع قطاعات الجيش المصري بموجب البيان الأول لثورة ٢٣ يوليو ١٩٥٢م.
(٢) رئيس المحكمة الدستورية الذي تسلم السلطة في مصر عام ٢٠١٣م.
(٣) أصدرت أول مجلة نسائية مصرية وهي الريحانة عام ١٩٠٧م.
(ب) دلل تاريخياً على صحة كل عبارة من العبارات الآتية :
(١) اهتمت ثورة ٢٣ يوليو ١٩٥٢م بتطوير الصناعة المصرية.
(٢) كان للدور العربي أثر كبير في انتصار حرب أكتوبر ١٩٧٣م.
(٣) تحقيق السلام وإنهاء الصراع العربي / الإسرائيلي يحقق مزايا عديدة للوطن العربي.
(ج) ماذا كان يحدث إذا : ألزمت إسرائيل بتنفيذ قرار مجلس الأمن رقم (٢٤٢) ؟

(ب) «الولايات المتحدة الأمريكية هي القوة الاقتصادية الأولى في العالم وأول الدول الصناعية السبع». في ضوء العبارة أجب عما يأتي :

- (١) ما المقومات الطبيعية التي يمكن أن تساهم في قيام التنمية الصناعية في العالم ؟
- (٢) اذكر أهم المناطق الصناعية الرئيسية بالولايات المتحدة الأمريكية.
- (٣) اذكر الصناعات القائمة على محصول القمح.
- (٤) وضح العلاقات المصرية الأمريكية في المجال التجاري.

ثانياً التاريخ

٢ (١) إلى من تنسب الأعمال الآتية ... ؟

- (١) أشار على «الخدوي إسماعيل» بإنشاء أول مدرسة لتعليم البنات.
- (٢) قدم مبادرة تحمل اسمه لوقف إطلاق النار أثناء حرب الاستنزاف ١٩٦٩م - ١٩٧٠م.
- (٣) شارك القيادة العسكرية في تطوير القوات المسلحة وفي وضع خطة لعبور قناة السويس وتحطيم خط بارليف وقام بتنفيذها في حرب أكتوبر ١٩٧٣م.
- (٤) شغلت منصب أول وزيرة للشئون الاجتماعية عام ١٩٦٢م.
- (٥) تنازل عن العرش لابنه الصغير «أحمد فؤاد الثاني».
- (٦) أصدرت حكم بأحقية مصر في طابا سبتمبر ١٩٨٨م.

(ب) بم تقصر ... ؟

- (١) إنشاء السد العالي عام ١٩٧١م.
- (٢) سوء الأحوال الاجتماعية في مصر قبل ثورة ٢٣ يوليو ١٩٥٢م.
- (٣) لفلسطين أهمية خاصة في قلب كل عربي.
- (٤) * لمنظمات المجتمع المدني دور فاعل في المجتمع.

٤ (١) اكتب كلمة (صواب) أمام العبارة الصحيحة، وكلمة (خطأ) أمام العبارة غير الصحيحة. مع التصويب :

- (١) عُين اللواء «محمد نجيب» أول رئيس لجمهورية مصر العربية بعد ثورة ١٩٥٢م. ()
- (٢) قبلت مصر بتنفيذ قرار مجلس الأمن رقم ٢٤٢ وامتنعت إسرائيل عن تنفيذه ولم تنسحب من الأراضي التي احتلتها في عام ١٩٦٧م. ()
- (٣) أعطى مؤتمر «سان ريمو» بإيطاليا ١٩٢٠م لبريطانيا حق الانتداب على سوريا. ()
- (٤) الفريق أول «عبدالمعزم رياض» أحد أبطال العسكرية المصرية الذين استشهدوا في حرب الاستنزاف. ()

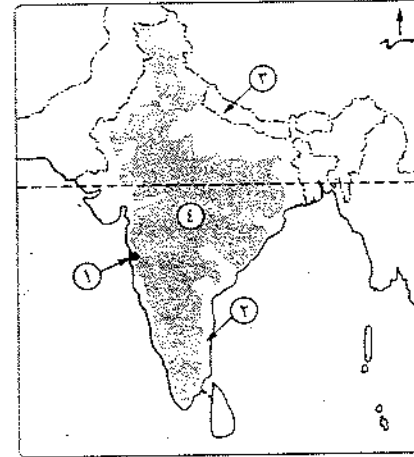


مديرية التربية والتعليم

محافظة البحر الأحمر

٢٥

أجب عن الأسئلة الآتية: أولاً الجغرافيا



١ (١) أمامك خريطة لجمهورية الهند.

اكتب مدلول الأرقام التالية :

- (١) مدينة (٢) سهول
- (٣) دولة (٤) هضبة

(ب) أيد بالأدلة صحة العبارتين الآتيتين :

(١) صناعة الألمنيوم تحتاج لعدة مقومات لقيامها.

(٢) هناك عمليات تسبق عملية التعدين.

(ج) * وضح : سبب قلة التكاليف وقلة العمالة في الزراعة التجارية والعلمية.

٢ (١) اختر الإجابة الصحيحة مما بين القوسين :

- (١) تحتل دولة المركز الأول عالمياً في إنتاج وتربية الدواجن.
- (مصر - الولايات المتحدة الأمريكية - الصين - المغرب)
- (٢) من العوامل البشرية التي تساعد على تطور حرفة الصيد (ضخالة المياه الساحلية - توافر الخبرات الفنية والعلمية - النقاء التيارات البحرية الدافئة مع الباردة - توافر الموانئ)
- (٣) تقوم صناعة الأسلاك على معدن (الفوسفات - البوكسيت - النحاس - التنجستين)
- (٤) من المراكز الصناعية في إقليم شرق آسيا الصناعي (ألمانيا - كوريا - الفلبين - موسكو)
- (٥) يعد أهم مصادر الطاقة لإرتباطه بالتنمية الاقتصادية والاجتماعية والعلاقات السياسية بين الدول. (الرياح - البترول - الغاز الطبيعي - الفحم)
- (٦) تُمارس حرفة في مناطق الحشائش بقرارات العالم وتعتمد على أحدث الأساليب العلمية. (الرعي البدائي - الزراعة البدائية - الرعي التجاري - الصيد)

(ب) «من أجل الكرامة المصرية والعربية خاضت مصر العديد من الحروب ضد إسرائيل».

في ضوء العبارة وضع :

(١) أسباب هزيمة الدول العربية في عدوان ٥ يونيه ١٩٦٧م.

(٢) نتائج فشل العدوان الثلاثي على مصر ١٩٥٦م.

(ج) أكمل العبارات الآتية بكلمة مناسبة :

(١) الوثيقة الرسمية التي تحدد نظام الحكم في الدولة واختصاصات المؤسسات

الدستورية هو

(٢) أعطى الرئيس إشارة بدء حرب السادس من أكتوبر ١٩٧٣م.

(٣) تم توقيع معاهدة السلام بين مصر وإسرائيل عام ١٩٧٩م بمشاركة ورعاية

(٤) نجحت القوات المصرية في هزيمة القوات الإسرائيلية عندما حاولت احتلال مدينة

بورفؤاد في معركة

(ب) اختر الإجابة الصحيحة مما بين القوسين :

(١) أكبر الدول المنتجة للبنجر في أفريقيا (المغرب - تونس - مصر - الجزائر)

(٢) أهم الدول المنتجة لأصواف المارينو

(الهند - أستراليا - الولايات المتحدة الأمريكية - البرازيل)

(٣) يعد الخام الرئيسي لإنتاج معدن الألومنيوم

(الزنك - الرصاص - القصدير - البوكسيت)

(٤) توجد أعلى القمم الجبلية بألمانيا في

(جبال الفوج - جبال الألب - المرتفعات الوسطى - جبال البرانس)

(ج) يم تفسر ... ؟

(١) انكماش الحشائش بالسهل الساحلى فى ألمانيا.

(٢) * أهمية البترول كمصدر من مصادر الطاقة.

(١) صوب ما تحته خط في العبارات الآتية :

(١) أولى قارات العالم إنتاجاً للقمح قارة أوروبا.

(٢) يُمَارَس الرعى البدائي بأفريقيا في صحارى جنوب القارة.

(٣) يأتي حوالى نصف الإنتاج السمكى فى العالم من المياه العذبة.

(٤) * يزرع قصب السكر فى المناطق المعتدلة الباردة.

(ب) أعط مصطلحاً جغرافياً لكل عبارة مما يأتى :

(١) أحد أنواع الزراعة التى يعمل بها عدد قليل من السكان فى مناطق صغيرة ومعزولة.

(٢) عملية استخراج المعادن ومصادر الطاقة من قحمة وبترول وغاز طبيعى من باطن الأرض.

(٣) أحد مصادر الطاقة التى تنتج من الأمواج والمد والجزر والرياح فى الدول المتقدمة.

(٤) عدة عوامل تلعب دوراً كبيراً فى قيام الصناعة وازدهارها وتعتمد على العمالة

والسوق ورأس المال.

(ج) اكتب ما تعرفه عن : العلاقات المصرية الألمانية.

محافظة مطروح

مديرية التربية والتعليم

أولاً الجغرافيا

أجب عن الأسئلة الآتية :

(١) أمامك خريطة لجمهورية الهند،

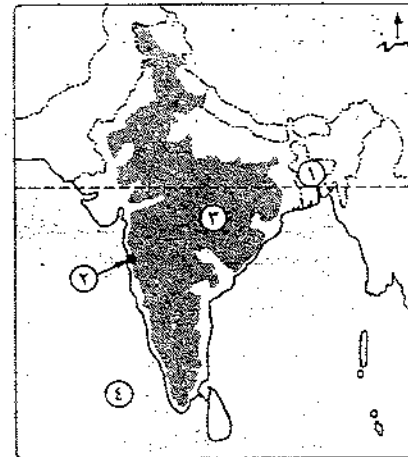
اكتب ما تشير إليه الأرقام :

(١) دولة

(٢) العاصمة التجارية

(٣) هضبة

(٤) المحيط



التاريخ

(١) اكمل الكلمات (صواب) أمام العبارة الصحيحة، وكلمة (خطأ) أمام العبارة غير الصحيحة، مع التصويب :

- (١) أدى توقيع معاهدة ١٩٣٦م إلى جعل مصر ميداناً لمعارك الحرب العالمية الأولى. ()
- (٢) تحطمت أسطورة الجيش الإسرائيلي الذي لا يقهر في حرب أكتوبر ١٩٧٣م. ()
- (٣) عادت طابا إلى السيادة المصرية في عهد الرئيس محمد أنور السادات. ()
- (٤) صدر دستور ١٩٢٣م في عهد الاحتلال البريطاني. ()

(ب) من قام بكل عمل من الأعمال الآتية ... ؟

- (١) * قاد ثورة ١٩٣٦م في فلسطين.
- (٢) تولى القيادة العامة للموحدة للقوات المصرية والسورية في حرب أكتوبر ١٩٧٣م.
- (٣) تسلم إدارة شؤون البلاد في فبراير ٢٠١١م بعد تخلي الرئيس مبارك عن الرئاسة.

(ج) اذكر شيئاً واحداً لكل من :

- (١) اندلاع حرب أكتوبر ١٩٧٣م.
- (٢) سوء الأوضاع الاجتماعية قبل ثورة ٢٥ يناير ٢٠١١م.
- (٣) * صدور الدستور الدائم عام ١٩٧١م.

(١) أكمل العبارات الآتية بكلمات مناسبة :

- (١) قانون الإصلاح الزراعي الأول من أهم إنجازات ثورة يوليو ١٩٥٢م في المجال
- (٢) ساندت مصر حركات التحرر الوطني في الجزائر ضد الاستعمار
- (٣) يعرف خط الدفاع الإسرائيلي على هضبة الجولان بخط
- (٤) تشكلت لجنة الوفد المركزية للسيدات عام ١٩٢٠م برئاسة

(ب) قارن بين : مؤتمر سان ريمو ١٩٢٠م، ومؤتمر كامب ديفيد ١٩٧٨م، من حيث النتائج.

(ج) «تعتبر ثورة ٢٣ يوليو ١٩٥٢م حلقة من حلقات النضال الطويل الممتد لشعب مصر».

في ضوء العبارة وضح :

- (١) أهم إنجازات ثورة ٢٣ يوليو ١٩٥٢م في مجال الصناعة. (يلتق بالتيه)
- (٢) ماذا كان يحدث إذا : قبلت إسرائيل تنفيذ قرار مجلس الأمن رقم ٢٤٢ في نوفمبر ١٩٦٧م. (يلتق بالتيه)

١ محافظة القاهرة

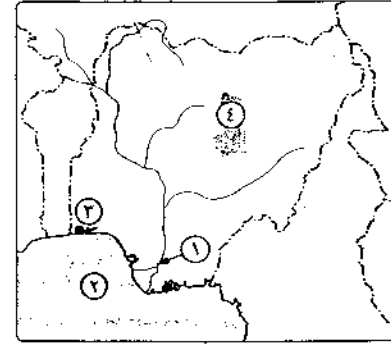
مديرية تربية والتعليم



مجاب عنه

أولاً الجغرافيا

أجب عن الأسئلة الآتية:



(١) أمامك خريطة لدولة نيجيريا،

اكتب مدلول الأرقام التي عليها،

(١) دلتا نهر

(٢) خليج

(٣) العاصمة القديمة

(٤) هضبة

(ب) اختر الإجابة الصحيحة مما بين القوسين :

(١) أولى دول العالم إنتاجاً للمطاط الطبيعي

(الصين - الهند - البرازيل - تايلاند)

(٢) أكبر الأقاليم الصناعية في العالم الجديد إقليم

(غرب ووسط أوروبا - شمال شرق الولايات المتحدة - روسيا وأوكرانيا - شرق آسيا)

(٣) تصدر مصر للبرازيل

(الصوف - الكتان - الحرير - الأقطان)

(٤) عاصمة إقليم بافاريا بألمانيا مدينة

(هامبورج - برلين - ميونخ - بون)

(ج) «تمثل الأسماك غذاءً رئيسياً لكثير من سكان العالم» في ضوء هذه العبارة وضح :

(١) العوامل الطبيعية والبشرية التي تساعد في تطور حرفة الصيد.

(٢) أهم الدول المصدرة للأسماك.

(د) قارن بين : الهند، وألمانيا من حيث علاقة كل منهما بمصر.

(٢) (١) حدد الدول الأولى عالمياً في إنتاج كل من :

(١) قصب السكر. (٢) * القمح. (٣) الألومنيوم. (٤) البترول.

(ب) بم تفسر ... ؟

(١) قلة عدد العاملين بحرفة الرعي البدائي في صحراء شبه الجزيرة العربية وبادية الشام.

(٢) * أهمية معدن النحاس.

(٣) توسع العالم في استخدام الغاز الطبيعي كبديل لمصادر الطاقة الأخرى.

(٤) تعاني البرازيل من قلة عدد السكان.

ثانياً

(١) اكتب كلمة (صح) أمام العبارة الصحيحة، وكلمة (خطأ) أمام العبارة غير الصحيحة.

مع تصويب الخطأ :

(١) من إنجازات ثورة ٢٣ يوليو ١٩٥٢م في المجال العربي تحقيق أول وحدة

() عربية بين مصر والسودان عام ١٩٥٨م.

(٢) استشهد الفريق أول عبدالمنعم رياض رئيس أركان حرب القوات المسلحة

() أثناء حرب أكتوبر عام ١٩٧٣م.

(٣) يعتبر من مزايا إنهاء الصراع العربي الإسرائيلي دفع عجلة التنمية

() في الدول العربية.

(٤) أنشأ محمد علي عدة مجالس استشارية لا سلطة لها.

(ب) ماذا كان يحدث إذا لم ... ؟

(١) تقم ثورة ٢٣ يوليو ١٩٥٢م بإنجاز مشروع السد العالي.

(٢) يتعاون الجيش مع الشعب أثناء ثورة ٢٥ يناير ٢٠١١م.

(ج) اكتب ما تعبر عنه كل عبارة من العبارات الآتية :

(١) قانون أصدرته ثورة ٢٣ يوليو وبمقتضاه تم تحديد الملكية الزراعية في سبتمبر ١٩٥٢م.

(٢) مؤتمر دعا إليه كلاً من الولايات المتحدة والاتحاد السوفيتي مؤكداً مبدأ الأرض

مقابل السلام.

(٣) منظمة عالمية متخصصة في المجال الصحي أنشئت عام ١٩٤٨م ومقرها جنيف بسويسرا.

(٤) (١) إلى من تنسب الأعمال الآتية ... ؟

(١) تولى القيادة العامة الموحدة للقوات المصرية السورية في حرب أكتوبر عام ١٩٧٣م.

(٢) رئيس المحكمة الدستورية العليا الذي تسلم السلطة في مصر بعد ثورة ٣٠ يونيو

٢٠١٣م لحين إجراء انتخابات رئاسية مبكرة.

(٣) أنشأ مجلس شوري النواب عام ١٨٦٦م.

(٤) ترأست لجنة الوفد المركزية للسيدات عام ١٩٢٠م.

(ب) ما النتائج التي ترقبت على ... ؟

(١) هزيمة الجيوش العربية في حرب فلسطين عام ١٩٤٨م.

(٢) تطور التكنولوجيا ووسائل الاتصال ومواقع التواصل الاجتماعي مثل (الفيس بوك)

على تاريخ مصر حديثاً.

(٣) تعاون منظمة اليونسكو مع مصر.

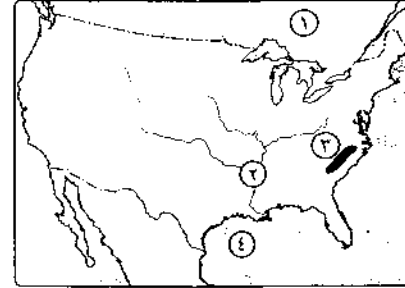
محافظة الجيزة

مديرية التربية والتعليم

مجاب عنه

أولاً الجغرافيا

أجب عن الأسئلة الآتية:



(١) أمامك خريطة لدولة الولايات

المتحدة، اكتب في كراسة الإجابة

مدلول الأرقام الموقعة عليها:

(١) دولة (٢) نهر

(٣) مرتفعات (٤) خليج

(ب) صوب ما تحته خط في العبارات التالية :

(١) يُعد قصب السكر من المحاصيل الأساسية لإنتاج السكر ويزرع في المناطق المعتدلة.

(٢) * تنتشر الزراعة الكثيفة على هوامش الغابات الاستوائية.

(٣) تعد قارة أوروبا ثاني قارات العالم إنتاجاً للطاقة النووية.

(٤) يمثل سكان جمهورية البرازيل ثلث عدد سكان قارة أمريكا الجنوبية.

(ج) في أي الدول توجد المدن الآتية ... وما شهرتها ؟

(١) نيودلهي. (٢) ريودي جانيرو. (٣) لاجوس. (٤) نيويورك.

(٢) (١) اكتب ما تشير إليه كل عبارة من العبارات التالية :

(١) تتم في مزارع واسعة وتستخدم أحدث الآلات الزراعية والطرق العلمية الحديثة.

(٢) مصدر طاقة يستخرج من باطن الأرض وتعد الصين أولى دول العالم إنتاجاً له.

(٣) أكبر الأقاليم الصناعية في العالم الجديد وقد تطورت الصناعة فيه بسبب توفر مقومات الصناعة.

(٤) * من أكبر الأقاليم التضاريسية بألمانيا وهو جزء من السهل الأوروبي العظيم.

(ب) بم تفسر ... ؟ (١) ارتباط صناعة الألمنيوم بالدول المتقدمة.

(٢) تفوق الهند في صناعة الحديد والصلب.

(٣) يقل عدد السكان في دلتا النيجر.

(٤) تقدم الصناعة في ألمانيا بعد الحرب العالمية الثانية.

(ج) قارن بين : * القطن، والمطاط الطبيعي من حيث :

* أهم الدول المنتجة. * الأهمية الاقتصادية.

ثانياً التاريخ

(٢) (١) اختر الإجابة الصحيحة مما بين القوسين :

(١) الاهتمام بالتعليم الصناعي من إنجازات ثورة يوليو ١٩٥٢م
(السياسية - الثقافية - الاجتماعية - الاقتصادية)(٢) امتنعت عن التصويت على قرار تقسيم فلسطين عام ١٩٤٧م
(فرنسا - الولايات المتحدة - بريطانيا - الاتحاد السوفيتي)(٣) تميزت الفترة من ١٩٢٣م إلى ١٩٥٢م بالصراعات وحدث تصادم بين القصر
(الأمة - الوفد - الإصلاح - الأحرار الدستوريين) وحزب

(٤) عُينت أول قاضية مصرية عام ٢٠٠٣م بالمحكمة الدستورية العليا.

(تهنى الجبالي - عائشة راتب - أمال عثمان - حكمت أبوزيد)

(ب) لمن تنسب الأعمال الآتية ... ؟

(١) تولى القيادة العامة للموحدة للقوات المصرية السورية في حرب أكتوبر ١٩٧٣م.

(٢) يادر بزيارة إسرائيل من أجل السلام عام ١٩٧٧م.

(٣) استجاب لدعوة رفاعة الطهطاوي وأنشأ أول مدرسة لتعليم البنات عام ١٨٧٣م.

(٤) المسئول عن حفظ السلام والأمن الدوليين وسلطته قانونية على حكومات الدول الأعضاء.

(ج) ما النتائج التي ترقبت على ... ؟

(١) عقد مؤتمر سان ريمو في أبريل ١٩٢٠م.

(٢) * حرب فلسطين عام ١٩٤٨م.

(٤) (١) اكتب كلمة (صح) أمام العبارة الصحيحة، وكلمة (خطأ) أمام العبارة غير الصحيحة :

(١) * أصبح اللواء محمد نجيب أول رئيس لجمهورية مصر العربية بعد إلغاء الملكية. ()

(٢) * من أسباب العدوان الثلاثي على مصر تأميم قناة السويس. ()

(٣) السلطة التشريعية تتكون من مؤسسة الرئاسة ويرأسها رئيس الجمهورية. ()

(٤) قام حزب الإصلاح على المبادئ الدستورية برئاسة الشيخ على يوسف. ()

(ب) ما المقصود بكل من ... ؟ (١) عدم الانحياز. (٢) الحياة النيابية.

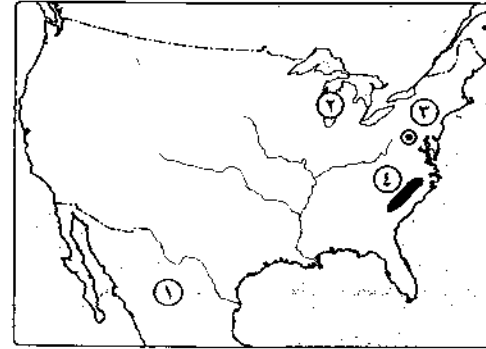
(ج) رتب الأحداث التاريخية الآتية من الأقدم إلى الأحدث :

* خروج آخر جندي بريطاني من فلسطين.

* أقامت الولايات المتحدة جسراً جويّاً لتقديم المساعدات العسكرية لإسرائيل.

* استعادت مصر طابا وعادت للسيادة المصرية.

* تشكيل لجنة الوفد المركزية للسيدات وانتخاب هدى شعراوي رئيساً لها.



(١) أمامك خريطة للولايات

المتحدة الأمريكية، اكتب

ما تدل عليه الأرقام،

(١) دولة

(٢) بحيرة

(٣) العاصمة

(٤) جبال

(ب) ما النتائج المترتبة على ... ؟

(١) معرفة الإنسان الزراعة منذ أقدم العصور.

(٢) انتشار التعليم بين قبائل وسط آسيا.

(٣) الوحدة الاقتصادية الأوروبية.

(ج) فى أى الدول تقع المدن الآتية ... ؟ وما شهرتها ؟

(١) ريودى چانيرو. (٢) نيودلهى. (٣) إيبادان.

(١) صوب ما تحته خط،

(١) تعد دولة بنجلاديش أولى دول العالم فى إنتاج المطاط.

(٢) تساهم الأغنام بنسبة كبيرة فى التجارة الدولية للثروة الحيوانية.

(٣) * الموطن الأصلي لمحصول الشاي غرب أفريقيا.

(٤) من الأحياء البحرية الرخويات مثل الجمبرى.

(٥) يجرى سهل نهر الجانج فى جنوب الهند.

(ب) قارن فى جدول بين،

(١) * الغاز الطبيعى، والبتروىل من حيث : * الأهمية. * أولى الدول المنتجة.

(٢) علاقة مصر الاقتصادية بكل من نيجيريا، وألمانيا.

(ج) ماذا يحدث إذا : لم تنتشر الديانة الهندوسية فى الهند (بالنسبة لإنتاج اللحوم) ؟

(١) اختر الإجابة الصحيحة مما بين القوسين :

(١) سيطر على جميع قطاعات الجيش المصرى بعد إذاعة البيان الأول لثورة ٢٣ يوليو ١٩٥٢م.

(جمال عبدالناصر - أنور السادات - محمد نجيب - أحمد عبدالعزيز)

(٢) * تحققت أول تجربة للوحدة العربية بين مصر و عام ١٩٥٨م.

(سوريا - السودان - اليمن - العراق)

(٣) قاد خطة الخداع لصرف أنظار إسرائيل عن التجهيزات الهجومية

فى حرب ١٩٧٣م.

(عبدالنعم رياض - أحمد إسماعيل - سعد الدين الشاذلى - عبدالغنى الجمسى)

(٤) أكدت الأحداث أن قوة مساندة للشعب فى ثورة ٢٥ يناير ٢٠١١م.

(الجيش - الشرطة - الإعلام - جميع ما سبق)

(ب) بم تفسر ... ؟ (١) العدوان الثلاثى على مصر ١٩٥٦م.

(٢) * اندلاع حرب أكتوبر المجيدة عام ١٩٧٣م.

(٣) إنشاء مجلس الوصاية كأحد أجهزة الأمم المتحدة.

(ج) اذكر أهم قرارات مجلس الأمن،

(١) رقم ٢٤٢ عام ١٩٦٧م. (٢) رقم ٢٣٨ عام ١٩٧٣م.

(١) اكتب كلمة (صح) أمام العبارة الصحيحة، وكلمة (خطأ) أمام العبارة غير الصحيحة :

(١) أعطى مؤتمر جنيف فى أبريل ١٩٢٠م لبريطانيا حق الانتداب على فلسطين. ()

(٢) نجحت مصر فى بناء حائط الصواريخ على الضفة الشرقية لقناة

السويس أثناء حرب الاستنزاف. ()

(٣) قامت مصر بإغلاق خليج السويس أمام الملاحة الإسرائيلية عام ١٩٦٧م. ()

(٤) المجلس العالى الذى أنشئ عام ١٨٢٤م يماثل الآن مجلس الوزراء. ()

(٥) تشكلت لجنة الوفد المركزية للسيدات عام ١٩٢٠م برئاسة هدى شعراوى. ()

(ب) دلل على صحة كل عبارة مما يأتى :

(١) للسلام مزايا متعددة على وطننا العربى. *

(٢) لمنظمة اليونسكو دور ثقافى رائد فى مصر.

(ج) اكتب ما تعبر عنه كل عبارة من العبارات الآتية :

(١) معاهدة جعلت مصر ميدان للحرب العالمية الثانية واستنزاف موارد مصر.

(٢) أول مدرسة لتعليم البنات عام ١٨٧٣م.

(٣) أعلى سلطة داخل جامعة الدول العربية.



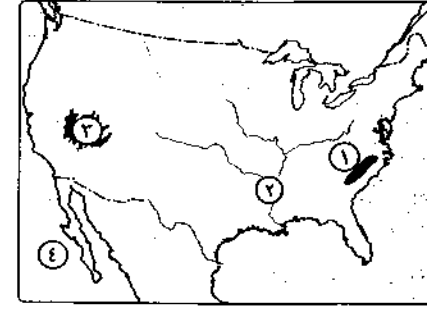
الجمهورية العربية السورية

محافظة القليوبية

مجال علم

الجغرافيا

أجب عن الأسئلة الآتية:



- (1) أمامك خريطة للدولة الولايات المتحدة الأمريكية، اكتب في كراسة إجابتك مدلول الأرقام الموقعة عليها:
- (1) جبال (2) نهر
(3) هضبة (4) المحيط
(ب) ما المقصود بـ ... ؟
(1) الزراعة الكثيفة. (2) الغاز الطبيعي.

(ج) بم تفسر ... ؟

- (1) تركز زراعة وإنتاج البنجر في دول أوروبا وأمريكا الشمالية.
(2) العوامل الطبيعية والبشرية التي تساعد على تطور حرفة صيد الأسماك على سواحل القارات.
(3) توجد بالهند ثروة حيوانية ضخمة.
(4) تعاني البرازيل من قلة عدد السكان رغم أنها أكثر دول أمريكا الجنوبية سكاناً.

(1) اختر الإجابة الصحيحة مما بين القوسين، ثم اكتب العبارة كاملة في كراسة إجابتك:

- (1) تأتي قارة أمريكا الشمالية في المرتبة إنتاجاً للذرة.
(الاولى - الثانية - الثالثة - الرابعة)
(2) * تعتبر دولة أكبر دول العالم إنتاجاً للشاي.
(البرازيل - الصين - الولايات المتحدة الأمريكية - روسيا)
(3) يُعد الخام الرئيسي لمعدن الألومنيوم.
(المنجنيز - البوكسيت - القصدير - الفوسفات)
(4) أكبر الاقاليم الصناعية في العالم الجديد إقليم
(روسيا وأكرانيا - شرق آسيا - غرب ووسط أوروبا - شمال شرق الولايات المتحدة)

(ب) قارن بين:

- (1) البترول، والغاز الطبيعي من حيث: * التكوين. * أهم الدول المنتجة.
(2) الهند، ونيجييريا من حيث: * الثروة المعدنية. * مصادر الطاقة.

(ج) صوب ما تحته خط:

- (1) تُعد الهند أكبر دول العالم إنتاجاً للسكر.
(2) فحم اللجنيت هو أجود الأنواع الثلاثة وأقلها وجوداً في الطبيعة.
(3) برلين أهم موانئ ألمانيا وهي قريبة من بحر الشمال.

الاجابة

- (1) اكتب كلمة (صح) أمام العبارة الصحيحة، وكلمة (خطأ) أمام العبارة غير الصحيحة، مع التصويب:
- (1) وافق الملك فاروق على مغادرة البلاد قبل الموعد المحدد له. ()
(2) سعت الولايات المتحدة الأمريكية لتأييد فكرة إنشاء وطن قومي لليهود في فلسطين وأصدرت وعد بلفور. ()
(3) * تم رفع العلم المصري فوق سيناء بعد استعادتها كاملة بعد توقيع معاهدة السلام فيما عدا منطقة طابا. ()
(4) أصدرت هدى شعراوي أول مجلة نسائية في مصر عام ١٩٠٧م. ()

(ب) برهن تاريخياً على صحة كل عبارة مما يأتي:

- (1) شهدت الحياة النيابية تطوراً كبيراً بعد قيام ثورة ٢٣ يوليو ١٩٥٢م.
(2) تميزت الفترة من ١٩٨١م وحتى الآن تغيرات جوهرية ملموسة للنهوض بالمرأة.
(3) لمصر نور مهم في منظمة الاتحاد الأفريقي.
(4) الأمم المتحدة منظمة لها أهداف عالمية.

(ج) ماذا كان يحدث إذا ... ؟ (1) استجابت إسرائيل لقرار مجلس الأمن رقم ٢٤٢ (2) لم يكن هناك تعاون بين منظمة اليونسكو ومصر.

(1) ولقد كانت لثورات الشعب المصري على مر التاريخ دوراً كبيراً في تغيير أوضاعه.

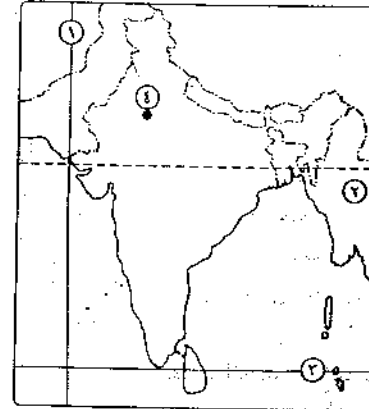
في ضوء هذه العبارة وضح:

- (1) * كيف استطاعت ثورة ٢٣ يوليو ١٩٥٢م أن تحقق إنجازات اجتماعية.
(2) أسباب تدهور الأوضاع الاقتصادية في مصر قبل ثورة ٢٥ يناير ٢٠١١م.
(3) النتائج التي ترتبت على ثورة الشعب في ٣٠ يونيو ٢٠١٢م.
(4) رأيك في موقف الجيش المصري أثناء ثورة ٢٥ يناير ٢٠١١م.

(ب) لمن تناسب الأعمال الآتية ... ؟

- (1) مفتي القدس الذي قاد اللجنة العربية عام ١٩٣٦م.
(2) تولى القيادة العامة للقوات المصرية السورية في حرب أكتوبر ١٩٧٣م.
(3) حل المنازعات الدولية بالتحكيم وتقديم الاستشارات القانونية.
(4) أول وزيرة للشئون الاجتماعية عام ١٩٦٢م.

(ج) قارن بين: حرب ١٩٤٨م، وحرب ٥ يونيو ١٩٦٧م من حيث الأسباب.



١) أمامك خريطة لدولة الهند، اكتب في كراسة

إجابتك مدلول الأرقام الموقعة عليها:

(١) خط طول (٢) دولة

(٣) دائرة عرض (٤) مدينة

(ب) دلل جغرافياً على صحة العبارات التالية:

(١) يصعب استخدام الآلات والميكنة

الزراعية في الزراعة الكثيفة.

(٢) * تنوع المناخ في نيجيريا.

(٣) تأثير الموقع الفلكي على المناخ في البرازيل.

(٤) لتطويع حرفة إنتاج الأسماك لا بد من توافر عوامل طبيعية وبشرية.

(٥) وجود علاقات ثقافية وعلمية بين مصر وألمانيا الاتحادية.

(ج) ما العلاقة بين: الرعى البدائي، وانتشار التعليم بين قبائل وسط آسيا ؟

(د) ما النتائج المترتبة على ... ؟

(١) افتقار الهند للبرترول.

(٢) كثرة التلال والينابيع المائية بالمرتفعات الوسطى بألمانيا.

٢) «تشابه السواحل الجنوبية للولايات المتحدة الأمريكية مع السواحل الجنوبية لنيجيريا

الاتحادية في بعض الظواهر الجغرافية». في ضوء هذه العبارة اذكر:

(١) الخليج البحري الجنوبي الذي تشرف عليه كل من الدولتين.

(٢) النهر الذي يصب في الخليج البحري الجنوبي لكل من الدولتين.

(٣) عدد الولايات التي تتكون منها كل من الدولتين.

(ب) صنف كل محصول مما يلي حسب النوع الذي ينتمى إليه موضحاً استخداماته:

(١) البنجر. (٢) * القمح. (٣) المطاط.

(ج) اكتب ما تشير إليه كل عبارة مما يأتي:

(١) إقليم يمثل ١٢ ٪ من مساحة الولايات المتحدة الأمريكية ويعتبر الأكثر سكاناً.

(٢) هيئة تمثل الوحدة الاقتصادية الأوروبية أدت إلى التكامل في الجوانب الاقتصادية والصناعية.

(د) استخرج الكلمة المختلفة مما يلي، واكتبها في كراسة إجابتك مع ذكر السبب:

(١) البيتوميني - اليوكسيت - الإنتراسيت - اللجنيت.

(٢) برلين - ميونخ - إيبادان - هامبورج.

ثانياً التاريخ

٣) (١) اختر الإجابة الصحيحة مما بين القوسين:

(١) أذيع البيان الأول لثورة ٢٣ يوليو من دار الإذاعة المصرية بصوت

(محمد نجيب - جمال عبدالناصر - محمد أنور السادات - أحمد فؤاد)

(٢) من إنجازات ثورة ٢٣ يوليو في المجال الاجتماعي

(تمصير البنوك - استصلاح الأراضي - إنشاء المصانع - جعل التعليم بالمجان)

(٣) * شنت كل من بريطانيا و وإسرائيل عدواناً على مصر في عام ١٩٥٦م.

(ألمانيا - الولايات المتحدة - فرنسا - البرتغال)

(٤) تولى القيادة العامة الموحدة للقوات المصرية السورية في حرب أكتوبر ١٩٧٣م

(أحمد إسماعيل - سعد الدين الشاذلي - محمد الجمسى - محمد عبده)

(٥) أنشأ مجلس شورى النواب في مصر (محمد علي - عباس - سعيد - إسماعيل)

(ب) ما النتائج التي ترقبت على ... ؟

(١) إنشاء السد العالي.

(٢) التعاون بين مصر ومنظمة اليونسكو.

(٣) إصدار دستور مصر الدائم ١٩٧١م. (٤) مزايا تحقيق السلام بين العرب وإسرائيل.

(ج) ماذا كان يحدث إذا: لم تتصارع الأحزاب السياسية بعد ثورة ١٩١٩م ؟

٤) (١) اكتب كلمة (صح) أمام العبارة الصحيحة، وكلمة (خطأ) أمام العبارة غير الصحيحة:

(١) وافق الشعب الفلسطيني على إجراءات تنفيذ وعد بلفور. ()

(٢) قبلت مصر تنفيذ قرار مجلس الأمن رقم ٢٤٢ عام ١٩٦٧م. ()

(٣) عادت الثقة للمقاتل المصري والعربي بعد حرب أكتوبر ١٩٧٣م. ()

(٤) * محكمة العدل الدولية هي الجهاز القضائي الأساسي للأمم المتحدة. ()

(ب) بم تقصر ... ؟

(١) اندلاع حرب أكتوبر ١٩٧٣م. (٢) قيام الشعب المصري بثورة ٢٥ يناير ٢٠١١م.

(٣) تدعيم مكانة المرأة في المجتمع المصري في الفترة من ١٩٨١م وحتى الآن.

(ج) إلى من تنسب الأعمال الآتية ... ؟

(١) نادى بالسلام العادل لكل شعوب المنطقة وزار إسرائيل عام ١٩٧٧م.

(٢) أعلى سلطة داخل جامعة الدول العربية ويتألف من ممثلي جميع الدول الأعضاء.

(د) ما رأيك في: قرار تأميم شركة قناة السويس ؟

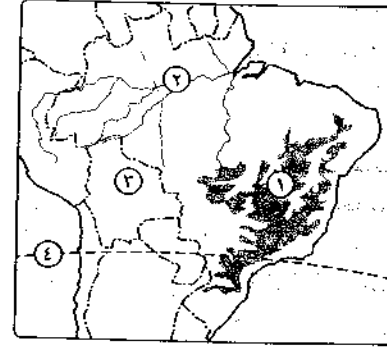
محافظه المنوفية

مديرية التربية والتعليم

مجاب عنه

أولاً الجغرافيا

أجب عن الأسئلة الآتية:



(١) أمامك خريطة لدولة البرازيل،

اكتب مدلول الأرقام الموضحة عليها :

(١) هضبة (٢) نهر

(٣) دولة (٤) مدار

(ب) بم تفسر ... ؟

(١) يقل عدد العمال وتقل التكلفة في الزراعة

التجارية والعلمية.

(٢) ينتج قصب السكر في كل قارات العالم

عدا قارة أوروبا.

(٣) للثروة الحيوانية أهمية كبيرة في العالم.

(٤) يقل عدد سكان نيجيريا في دلتا النيجر.

(ج) قارن بين : دولة الهند ، ودولة ألمانيا من حيث :

* القارة التي تنتمي لها كل دولة. * مناطق تركيز السكان.

(١) اختر الإجابة الصحيحة مما بين القوسين :

(١) * تُعد قارة أكبر قارات العالم إنتاجاً للطاقة النووية.

(أوروبا - آسيا - أمريكا الشمالية - أمريكا الجنوبية)

(٢) يُطلق على المرتفعات الشرقية بالولايات المتحدة الأمريكية اسم جبال

(روكي - سيرانيقادا - الأبلش - ماكينزي)

(٣) * يسود الرعى التجاري في دولة بأمريكا الجنوبية.

(بيرو - شيلي - إكوادور - الأرجنتين)

(٤) اليابان من أهم الدول الصناعية في إقليم

(غرب أوروبا - روسيا وأوكرانيا - شرق آسيا - شمال شرق أمريكا الشمالية)

(ب) بم تفسر ... ؟

(١) تنتشر مناطق الأسماك في سواحل غرب أوروبا وسواحل أمريكا الشمالية.

(٢) تُصدر الدول النامية خام البوكسيت إلى الدول المتقدمة.

(٣) يُعد البترول أهم مصادر الطاقة.

ثانياً التاريخ

(١) اكتب ما تشير إليه كل عبارة من العبارات الآتية :

(١) قانون صدر للقضاء على الإقطاع بتحديد الملكية الزراعية سبتمبر ١٩٥٢م.

(٢) منظمة متخصصة في المجال الزراعي للقضاء على الجوع ومساندة الدول النامية.

(٣) خط عسكري منيع حطمته القوات المصرية في حرب أكتوبر ١٩٧٣م.

(٤) نص بريطاني يتضمن إنشاء وطن قومي لليهود في فلسطين.

(ب) برهن بالأدلة التاريخية على صحة كل عبارة مما يأتي :

(١) لفلسطين أهمية خاصة في قلب كل عربي.

(٢) كان للعرب دوراً عظيماً في حرب أكتوبر ١٩٧٣م.

(ج) ماذا كان يحدث إذا ... ؟

(١) استجابت إسرائيل لنداءات السلام ونفذت قرار مجلس الأمن رقم ٢٤٢

(٢) لم ترسخ الفترة من ١٩٥٢م إلى ١٩٧١م على مشاركة المرأة المصرية في كافة المجالات.

(١) لمن تنسب الأعمال الآتية ... ؟

(١) أذاع أول بيان لثورة ٢٣ يوليو ١٩٥٢م.

(٢) قام بإعداد دراسة عن أنسب التوقيتات للقيام بحرب أكتوبر ١٩٧٣م.

(٣) قامت بإصدار أول مجلة نسائية فبراير ١٩٠٧م.

(٤) المساهمة في إحياء مكتبة الإسكندرية.

(ب) ما النتائج التي ترتبت على ... ؟

(١) * قيام ثورة ٢٣ يوليو ١٩٥٢م في المجال العربي والدولي.

(٢) سوء الأوضاع الاجتماعية في أواخر عهد مبارك.

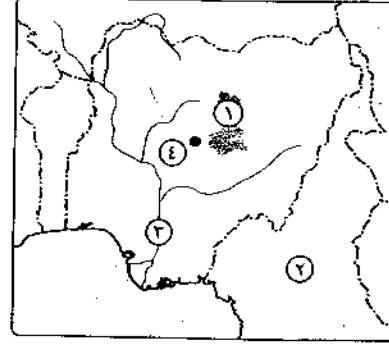
(٣) * معاهدة السلام ١٩٧٩م.

٧ محافظة الغربية

مديرية شربين والتعليم

مساب عنه

أجب عن الأسئلة الآتية : **أولاً الجغرافيا**



١/ (١) أمامك خريطة لدولة نيجيريا، اكتب مدلول الأرقام الموجودة عليها :

- (١) هضبة (٢) دولة
(٣) نهر (٤) مدينة

(ب) بم تفسر ... ؟

- (١) تعد البرازيل من الدول المنتجة للأسماك.
(٢) البترول من أهم مصادر الطاقة.
(٣) يتركز ٥٠ ٪ من سكان الولايات المتحدة الأمريكية في إقليم نيو إنجلند.
(٤) قلة التكاليف وعدد العمال في الزراعة التجارية والعلمية.
(٥) * تطور الصناعة تطوراً مذهلاً في الدول المتقدمة.

(ج) صوب ما تحته خط في العبارات الآتية، ثم اكتبها في كراسة الإجابة :

- (١) تحتل أستراليا المركز الأول في أعداد الأغنام.
(٢) * معظم الصناعات في دول الخليج العربي من الصناعات التكنولوجية.
(٣) كان الغاز الطبيعي يشكل عماد الثورة الصناعية في أوروبا أواخر القرن الثامن عشر الميلادي.

٢/ (١) اختر الإجابة الصحيحة مما بين القوسين :

- (١) أكبر مدن السهول الوسطى بالولايات المتحدة الأمريكية وتقع على بحيرة متشجن
(٢) من المراكز الصناعية الحديثة في أمريكا الجنوبية دولة
(٣) أكثر دول العالم إنتاجاً للألبان
(٤) يُنتج قصب السكر في كل قارات العالم عدا قارة
(٥) الكهرباء المولدة من السد العالي في مصر من الكهرباء
(النوية - الحرارية - المائية - جميع ما سبق)

(ب) قارن بين كل من :

- (١) القطن، والذرة من حيث : * الأهمية. * القارة الأولى في الإنتاج.
(٢) الهند، و ألمانيا من حيث المناخ.

(ج) ماذا يحدث إذا : توافرت مصادر الطاقة والخبرة العلمية في الدول المنتجة لخام البوكسيت ؟

ثانياً التاريخ

٣/ (١) «لقد ساهمت بريطانيا بدور كبير في إقامة وطن قومي لليهود في فلسطين».

في ضوء هذه العبارة أجب عما يأتي :

- (١) ما أهم الإجراءات التي قامت بها بريطانيا في فلسطين لتنفيذ وعد بلفور خلال فترة الانتداب ؟

(٢) ما أسباب العدوان الثلاثي على مصر عام ١٩٥٦م ؟

(٣) ما رأيك في : معاهدة السلام مارس ١٩٧٩م بين مصر وإسرائيل ؟ أيد رأيك بالأدلة.

(ب) قارن بين : منظمة الصحة العالمية، ومنظمة الأغذية والزراعة «الفاو» من حيث :

- * الهدف. * المقر.

(ج) اختر الإجابة الصحيحة مما بين القوسين :

- (١) * عُقدت اتفاقية بين مصر وبريطانيا عام ١٩٥٤م.
(السلام - العريش - الجلاء - كامب ديفيد)
(٢) كانت أول تجربة للوحدة العربية عام ١٩٥٨م بين مصر ودولة
(العراق - سوريا - لبنان - اليمن)
(٣) استولت إسرائيل على مرتفعات الجولان بعد
(حرب ١٩٤٨م - العدوان الثلاثي ١٩٥٦م - حرب يونيو ١٩٦٧م - حرب الاستنزاف)
(٤) أول وزيرة للشؤون الاجتماعية في مصر
(درة شفيق - عائشة راتب - حكمت أبو زيد - جميلة حافظ)
(٥) أنشأ مجلس شورى النواب عام ١٨٦٦م.
(محمد علي - سعيد باشا - الخديو إسماعيل - الخديو توفيق)

٤/ (١) اكتب كلمة (صح) أمام العبارة الصحيحة، وكلمة (خطأ) أمام العبارة غير الصحيحة، مع التصويب :

- (١) أسس أحمد لطفي السيد حزب الإصلاح على المبادئ الدستورية. ()
(٢) بعد قيام ثورة ٢٣ يوليو ١٩٥٢م تأسس أول دستور عام ١٩٥٨م. ()
(٣) أدت حرب أكتوبر ١٩٧٣م إلى عودة الثقة للمقاتل المصري والعربي. ()

(٤) تم تدمير المدمرة الإسرائيلية إيلات بصواريخ البحرية المصرية فى

()

أكتوبر ١٩٦٧م.

()

(٥) أدت معاهدة ١٩٣٦م إلى الاستقلال الحقيقى لمصر.

(ب) ما النتائج التى ترتبت على ... ؟

(١) صدور قوانين الإصلاح الزراعى. (٢) ثورة الشعب المصرى فى ٣٠ يونيه ٢٠١٣م.

(٣) بناء حائط من الصواريخ على الضفة الغربية لقناة السويس خلال حرب الاستنزاف.

(٤) * العدوان الثلاثى على مصر عام ١٩٥٦م.

(ج) لمن تنسب كل عمل مما يأتى ... ؟

(١) أذاع البيان الأول لثورة ٢٣ يوليو ١٩٥٢م من الإذاعة المصرية.

(٢) تولى القيادة العامة للموحدة للقوات المصرية السورية فى حرب أكتوبر ١٩٧٣م.



مديرية التربية والتعليم

محافظة الدقهلية

مجاب عنه

أولاً جغرافياً

أجب عن الأسئلة الآتية:

(١) أمامك خريطة لدولة البرازيل،

اكتب ما تشير إليه الأرقام :

(١) مدينة (٢) المحيط

(٣) نهر (٤) دولة

(ب) اكتب فى كراسة إجابتك ما تشير إليه كل

عبارة من العبارات التالية :

(١) نهر يجرى فى نيجيريا وتقوم عليه الزراعة.

(٢) تُعد أهم موانئ ألمانيا قرب بحر الشمال.

(٣) * يستخرج من عصارة أشجار استوائية ويصنع منه إطارات السيارات.

(٤) مصدر للطاقة الأقل تلويثاً للبيئة ويمثل ٢٥ ٪ من مصادر الوقود فى العالم.

(ج) قارن بين : (١) الرعى التجارى، والرعى البدائى.

(٢) الزراعة البسيطة، والزراعة التجارية من حيث الخصائص.

(٢) (١) اختر الإجابة الصحيحة مما بين القوسين :

(١) أولى دول العالم فى إنتاج الأسماك (الصين - اليابان - الهند - روسيا)

(٢) منطقة الأورال إحدى المناطق الصناعية فى إقليم الصناعى.

(غرب أوروبا - شمال شرق الولايات المتحدة - شرق آسيا - روسيا وأوكرانيا)

(٣) * تُعد شيلي أهم دول العالم إنتاجاً لـ

(الفحم - الذهب - البوكسيت - النحاس)

(٤) الثروة الحيوانية فى الهند لها قيمة اقتصادية محدودة لأسباب

(مناخية - دينية - سياسية - لغوية)

(ب) بم تفسر ... ؟

(١) تنوع النبات الطبيعى فى ألمانيا. (٢) ارتفاع الكثافة السكانية فى هضبة جوس.

(٣) تقدم الصناعة فى قارة أوروبا.

(٤) ضخامة وتنوع الإنتاج الزراعى فى الولايات المتحدة الأمريكية.

ثانياً التاريخ

(٢) (١) ضع علامة (✓) أمام العبارة الصحيحة، وعلامة (X) أمام العبارة غير الصحيحة مع التصويب :

(١) لم تؤد معاهدة ١٩٣٦م بين مصر وبريطانيا إلى استقلال حقيقى لمصر. ()

(٢) عارضت مصر نصوص اتفاقية أوسلو عام ١٩٩٣م. ()

(٣) أنشأ محمد على عدة مجالس نيابية استشارية لا سلطة لها. ()

(٤) تم عقد المؤتمر الإسلامى عام ١٩٦٩م بمدينة الرياض بالملكة العربية السعودية. ()

(ب) ما النتائج التى ترتبت على ... ؟

(١) ثورة ٢٣ يوليو ١٩٥٢م فى المجال السياسى.

(٢) الضربة الجوية ونيران المدفعية على طول قناة السويس فى حرب أكتوبر ١٩٧٣م.

(٣) * حرب فلسطين عام ١٩٤٨م.

(٤) الصراعات الحزبية فى مصر خلال الفترة من عام ١٩٢٣م حتى عام ١٩٥٢م.

(٤) (١) إلى من تنسب كل من الأعمال التالية ... ؟

(١) أنشأ أول مدرسة لتعليم البنات عام ١٨٧٣م.

(٢) تولى التخطيط والتنسيق على الجبهتين المصرية والسورية فى حرب أكتوبر ١٩٧٣م.

(٣) تولت منصب العمدة كأول امرأة مصرية.

(٤) تنتظر فى القضايا الدولية التى تضعها الدول أمامها وتقديم الاستشارات القانونية.

(ب) دلت على صحة كل عبارة مما يأتي :

- (١) اتخذت حكومة الانتداب البريطاني في فلسطين عدة إجراءات لتنفيذ وعد بلفور.
- (٢) ساهم دستور عام ١٩٧١م في تطور الحياة النيابية في مصر.
- (ج) «سيناء أرض مصرية، وقد سجل التاريخ لأهالي سيناء مواقف في الشرف والانتماء والعزة والكرامة». في ضوء العبارة أجب عما يأتي :
- (١) بم تفسر : هزيمة الدول العربية في عدوان ٥ يونيو ١٩٦٧م ؟
- (٢) ما مظاهر تصدي القوات المصرية للاعتداءات الإسرائيلية بعد عام ١٩٦٧م ؟
- (٣) ماذا كان يحدث إذا : لم يتم توقيع معاهدة السلام ١٩٧٩م ؟
- (٤) اذكر مزايا السلام لكل من مصر والدول العربية.



٩ محافظة الإسماعيلية مديرية التربية والتعليم

مجاب عنه

أولاً الجغرافيا

أجب عن الأسئلة الآتية :

١/ (١) أمامك خريطة لدولة الهند،

اكتب مدلول الأرقام الموضحة عليها :

- (١) جزيرة (٢) خليج
- (٣) دولة (٤) العاصمة

(ب) اكتب ما تشير إليه كل عبارة مما يأتي :

- (١) زراعة الأرض بشكل مكثف لسد حاجة السكان المحليين من الغذاء.
- (٢) * مصدر للطاقة نتج عن تحليل كائنات عضوية كانت تعيش في البحار ثم تجمعت بكميات كبيرة وغطتها رواسب الطين والرمال ثم تحللت.

(ج) ماذا يحدث إذا ... ؟

- (١) توفرت الطاقة الرخيصة والخبرة العلمية لدى الدول النامية المنتجة للبوكسيت.
- (٢) استفادت نيجيريا من مواردها الطبيعية.

٢/ (١) اختر الإجابة الصحيحة مما بين القوسين :

- (١) يعتمد الرعي التجاري في العالم على
(الأيدي العاملة - الأمطار - المياه الجوفية - الأساليب العلمية الحديثة)
- (٢) يعتبر فحم أقل أنواع الفحم جودة ولكن أكثرها وجوداً في الطبيعة.
(اللجنيت - البيتوميني - الإنثراسيت - الكوك)
- (٣) من المقومات الطبيعية للصناعة
(الأيدي العاملة - مصادر الطاقة - رأس المال - الأسواق)
- (٤) أكبر أقاليم الصناعة في العالم الجديد إقليم
(غرب ووسط أوروبا - روسيا وأوكرانيا - شمال شرق الولايات المتحدة - شرق آسيا)

(ب) بم تفسر ... ؟

- (١) تعاني البرازيل من قلة عدد السكان رغم أن عدد سكانها ٢٠٣ مليون نسمة.
- (٢) الصناعة تُعد العمود الفقري للاقتصاد الألماني.
- (ج) «تخيل أنك فزت بجائزة للسفر والإقامة لمدة شهر إلى إحدى الدول التي درستها هذا العام». فأياها تختار ... ؟ ولماذا ؟

ثانياً التاريخ

- ٢/ (١) من هو ... ؟ (١) وزير الحربية وقائد القوات المسلحة في حرب أكتوبر ١٩٧٣م.
- (٢) أنشأ مجلس المشورة عام ١٨٢٩م.
- (٣) أصدر قرار السماح بقيام ثلاثة منابر للرأي (اليمين والوسط واليسار).
- (٤) أول وزيرة للشئون الاجتماعية.

(ب) دلت على صحة كل عبارة من العبارات التالية :

- (١) حققت ثورة ٢٣ يوليو هدفها في القضاء على الإقطاع.
- (٢) كان مؤتمر سان ريمو ١٩٢٠م مؤامرة دولية ضد الشعب الفلسطيني.
- (٣) الجيش قوة مساندة للشعب خلال ثورة ٢٥ يناير ٢٠١١م.

٤/ (١) أكمل الفراغات في العبارات التالية بما يناسبها :

- (١) * ترجع نشأة الصهيونية كحركة سياسية إلى
- (٢) في أكتوبر ١٩٦٧م تمكنت البحرية المصرية من تدمير المدمرة الإسرائيلية
- (٣) عادت للسيادة المصرية بقرار هيئة التحكيم الدولية.
- (٤) عقد مؤتمر على أساس مبدأ الأرض مقابل السلام.
- (٥) اليونسيف إحدى منظمات الأمم المتحدة في مجال

(ب) «الموانع الطبيعية والصناعية لا يمكنها أن تقف حائلًا أمام الجيوش الحديثة بما لديها من تجهيزات وأسلحة ومعدات». في ضوء ما درست بالعبارة السابقة أجب عما يأتي :

- (١) بم تفسر : اندلاع حرب أكتوبر ١٩٧٣ م ؟
 (٢) ما دور العرب في تقديم الدعم أثناء الحرب ؟
 (٢) ما رأيك في دور الولايات المتحدة الأمريكية في قيام دولة إسرائيل خلال حرب ١٩٤٨ م ؟

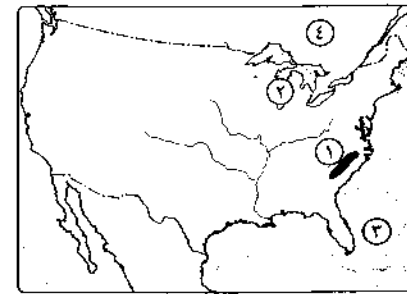


مديرية التربية والتعليم

محافظة السويس

مجاب عنه

أجب عن الأسئلة الآتية : أولاً الجغرافيا



(١) أمامك خريطة للولايات المتحدة الأمريكية ،

اكتب ما تدل عليه الأرقام الآتية :

- (١) جبال
 (٢) بحيرة
 (٣) المحيط
 (٤) دولة

(ب) قارن بين : دولتي ألمانيا ، ونيجييريا من حيث :

- * العاصمة.
 * مناطق التركيز السكاني.
 * العلاقات مع مصر.

(ج) اذكر المقصود بالمفاهيم الآتية :

- (١) الزراعة الكثيفة. (٢) الرعى التجاري. (٣) الفحم.

(٢) اختر الإجابة الصحيحة مما بين القوسين :

- (١) أكبر دول العالم في تربية الأغنام (بريطانيا - السودان - أستراليا - الصين)
 (٢) من الدول النامية المشاركة في التجارة الدولية للحديد دولة
 (مصر - السودان - المغرب - موريتانيا)
 (٣) من المراكز الصناعية الحديثة في جنوب شرق آسيا الصناعي
 (كندا - ماليزيا - الأرجنتين - المكسيك)
 (٤) أولى الدول العربية في توليد الطاقة الكهربائية من الرياح
 (المغرب - تونس - مصر - الأردن)
 (٥) * تنتج قارة أوروبا ثلث إنتاج العالم من
 (الفحم - البترول - الغاز الطبيعي - الفوسفات)

(ب) بم تفسر ... ؟

- (١) توسع العالم في استخدام الغاز الطبيعي كبديل لمصادر الطاقة الأخرى.
 (٢) مارس البشر في الماضي العديد من الأنشطة الاقتصادية البدائية.
 (٣) إنشاء عدة مدن على هضبة البرازيل.

(ج) ما النتائج المترتبة على ... ؟

- (١) الوحدة الاقتصادية الأوروبية.
 (٢) إشراف الهند على محيطات وخلجان بجبهات ساحلية طويلة.

التاريخ

(٢) (١) اكتب كلمة (صح) أمام العبارة الصحيحة، وكلمة (خطأ) أمام العبارة غير الصحيحة :

- (١) من عوامل قيام ثورة ٢٣ يوليو ١٩٥٢ م استمرار الاحتلال البريطاني وتدخله في شئون مصر الداخلية.
 (٢) فشل مؤتمر كامب ديفيد بين السادات وبيجين ولم يصل إلى نتائج.
 (٣) توفير مناخ الوحدة الوطنية أحد أنشطة منظمات المجتمع المدني.
 (٤) وافقت الدول العربية على تقسيم فلسطين عام ١٩٤٧ م.
 (ب) قارن بين : نصوص معاهدة السلام مارس ١٩٧٩ م، وقرار مجلس الأمن رقم ٢٤٢ لعام ١٩٦٧ م ومدى تنفيذ كل منهما.

(ج) ما النتائج التي تترتب على ... ؟

- (١) فشل العدوان الثلاثي على مصر ١٩٥٦ م.
 (٢) وضع فلسطين تحت الانتداب البريطاني طبقاً لمؤتمر سان ريمو ١٩٢٠ م.

(٤) (١) إلى من تنسب الأعمال الآتية ... ؟

- (١) رئيس المحكمة الدستورية العليا الذي تولى حكم مصر عام ٢٠١٣ م.
 (٢) أصدرت أول مجلة نسائية وهي الريحانة وتحولت إلى جريدة عام ١٩٠٨ م.
 (٣) قاد خطة الخداع في حرب أكتوبر ١٩٧٣ م لصرف أنظار إسرائيل عن التجهيزات الهجومية.
 (٤) منظمة عملت على إنقاذ معابد أبو سمبل وإحياء مكتبة الإسكندرية.

(ب) أيد صحة كل عبارة من العبارات الآتية :

- (١) كان للدعم العربي أثناء حرب أكتوبر ١٩٧٣ م أثر فعال في تحقيق النصر.
 (٢) لفلسطين أهمية خاصة في قلب كل عربي «مسلم أو مسيحي».
 (٣) لم يحقق مجلس المشورة في عصر محمد علي حياة نيابية سليمة.

(ج) ماذا كان يحدث إذا : لم تتصارع الأحزاب السياسية في مرحلة ما بعد ثورة ١٩١٩ م ؟

محافظة بورسعيد

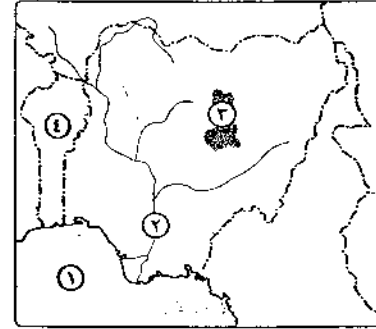
مديرية تربية والتعليم

مجاب عنه

الجغرافيا

أولاً

اجب عن الأسئلة الآتية:



(١) لاحظ خريطة نيجيريا، ثم اكتب

مدلولات الأرقام التالية:

- (١) خليج (٢) نهر
(٣) مضية (٤) دولة

(ب) اختر الإجابة الصحيحة مما بين القوسين :

- (١) * أولى دول العالم إنتاجاً للشاي
(٢) (تايلاند - الهند - البرازيل - الصين)

(٢) من المحاصيل ذات الطبيعة الخاصة وتصنع منه إطارات السيارات

(الجوت - المطاط - الكتان - القطن)

(٣) يتم إنتاج محصول قصب السكر في كل قارات العالم عدا قارة

(أفريقيا - أمريكا الشمالية - أمريكا الجنوبية - أوروبا)

(٤) بقايا أشجار ونتيجة للحرارة والضغط تحولت لمادة كربونية سوداء

(الفحم - الغاز - البترول - الفوسفات)

(ج) في أي الدول تقع المدن الآتية ... ؟

(١) ميونخ. (٢) بومباي. (٣) ساو باولو. (٤) سان فرانسيسكو.

(د) بم تفسر ... ؟

(١) يصدر خام البوكسيت من الدول النامية المنتجة له إلى الدول المتقدمة التي تصنع الألومنيوم.

(٢) يعد النشاط الزراعي من الأنشطة الاقتصادية الأساسية في العالم.

(١) اكتب كلمة (صح) أمام العبارة الصحيحة وكلمة (خطأ) أمام العبارة غير الصحيحة. مع التصويب:

(١) تحتاج الزراعة التجارية الواسعة إلى أيدي عاملة وفيرة. ()
(٢) الولايات المتحدة أهم الدول المنتجة لأصواف أغنام المارينو. ()
(٣) تحتل الصين المركز الأول عالمياً في إنتاج الأسماك. ()
(٤) يعتبر توفر الأسواق ورأس المال من المقومات البشرية للصناعة. ()
(٥) أمريكا الشمالية أولى قارات العالم إنتاجاً للقمح والقطن. ()

(ب) قارن في جدول بين : البرازيل، وألمانيا من حيث :

* النبات الطبيعي في كل منهما. * ما تصدره مصر إليهما.

(ج) دلل على صحة العبارتين الآتيتين :

(١) القيمة الاقتصادية للأبقار في الهند محدودة.

(٢) إقليم نيو إنجلند هو الأكثر اكتظاظاً بالسكان في المنطقة الشمالية الشرقية من الولايات المتحدة الأمريكية.

(د) اكتب المصطلح الذي تدل عليه كل عبارة من العبارات الآتية :

(١) رعى يعتمد على أحدث الأساليب العلمية الحديثة ويسود في الولايات المتحدة والأرجنتين وأستراليا.

(٢) مصدر للطاقة نشأ عن تحلل كائنات عضوية بحرية تجمعت وغطتها رواسب الطين والرمل ثم تحللت.

(٣) * معدن يستخدم في صناعة الأسلاك والأدوات الكهربائية وتعد شيلي أولى الدول إنتاجاً له.

(٤) * طاقة تستخدم الشلالات والسدود والأمواج وحركة المد والجزر في توليدها.

الأسئلة القصيرة

(١) اختر الإجابة الصحيحة مما بين القوسين، ثم انقل الجملة كاملة في ورقة إجابتك :

(١) من أهم إنجازات ثورة ٢٣ يوليو في المجال الاقتصادي (عقد اتفاقية

الجلاء - مجانية التعليم - تأميم شركة قناة السويس - بناء السد العالي)

(٢) وضعت فلسطين تحت الانتداب البريطاني وفقاً لقرارات مؤتمر

(أوسلو - سان ريمو - كامب ديفيد - مدريد)

(٣) استجاب الخديو إسماعيل لدعوة وأنشأ أول مدرسة لتعليم البنات عام ١٨٧٢م.

(علي مبارك - قاسم أمين - رفاعة الطهطاوي - طه حسين)

(٤) يوجد مقر الأمانة العامة للأمم المتحدة في مدينة

(سان فرانسيسكو - روما - لندن - نيويورك)

(ب) بم تفسر ... ؟

(١) قيام قوات الاحتلال البريطاني بمحاصرة قصر غابدين ٤ فبراير ١٩٤٢م.

(٢) هزيمة الدول العربية ٥ يونيو ١٩٦٧م.

(٣) مجلس الأمن هو أهم أجهزة الأمم المتحدة.

١٢٧

١٢٦

(ج) ما العلاقة بين كل من ... ؟

- (١) حرب الاستنزاف ومبادرة روجرز.
- (٢) التطبيق غير السليم لسياسة الخصخصة، وزيادة البطالة في مصر.

(٤) (١) لمن تنسب الأعمال الآتية ... ؟

- (١) * تولى رئاسة مصر بعد إلغاء الملكية عام ١٩٥٣م.
 - (٢) رئيس أركان القوات المسلحة عام ١٩٧١م وتم تكريمه في الذكرى ٢٩ لنصر أكتوبر.
 - (٣) رئيس المحكمة الدستورية العليا الذي تسلم حكم مصر عام ٢٠١٣م.
 - (٤) * سمح بقيام منابر للرأى تمثل اليمين واليسار والوسط.
- (ب) قارن بين : العدوان الثلاثى على مصر ١٩٥٦م، وعدوان ١٩٦٧م من حيث الأسباب.
- (ج) دلي على صحة العبارتين الآتيتين :
- (١) تعددت أنشطة منظمات المجتمع المدني. (٢) لمصر دور بارز في الاتحاد الأفريقى.
- (د) ما رأيك فى : مطالب ثورة ٢٣ يوليو ١٩٥٢م من الملك فاروق ؟

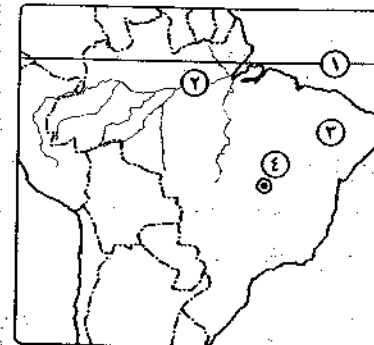
١٢ محافظة دويط

سيرة التريفة والتعليم

مجاب عنه

أوبة الجغرافيا

أجب عن الأسئلة الآتية :



(١) اكتب فى كراسة الإجابة مدلول الأرقام

الموقعة على خريطة البرازيل التى أمامك :

- (١) دائرة عرض
- (٢) سهول نهر
- (٣) محصول منتج للسكر
- (٤) العاصمة الجديدة

(ب) بم تفسر ... ؟

- (١) يُعد النشاط الزراعى من الأنشطة الاقتصادية الأساسية فى العالم.
- (٢) تنتج الصين أكثر من ثلث الإنتاج العالمى من الأسماك.
- (٣) تعدد وتنوع مصادر الطاقة فى العالم.

(ج) اكتب فى كراسة الإجابة ما تشير إليه كل عبارة من العبارات الآتية :

- (١) * مصدر للطاقة عبارة عن غازات موجودة فى باطن الأرض داخل مسام الصخور وقد توجد بشكل منفصل وتكون مصاحبة لوجود البترول.
- (٢) منطقة تتركز بها زراعة الأرز بجمهورية نيجيريا الاتحادية.
- (٣) جبال تنمو على منحدراتها الغابات المخروطية والنفضية بجمهورية ألمانيا.
- (٤) إقليم مناخى يتمثل فى دلتا نهر الميسيسى ويتأثر بالأعاصير المدارية.

(د) «على هامش أعمال قمة منتدى الهند - أفريقيا التقى الرئيس المصرى برئيس الوزراء الهندى وتناول اللقاء دعم العلاقات المصرية الهندية فى مختلف المجالات وزيادة التبادل التجارى بين البلدين». فى ضوء هذه العبارة أجب عما يأتى :

- (١) ما السياسات التى واجهت بها جمهورية الهند المشكلة السكانية ؟
- (٢) ما أوجه التبادل التجارى بين البلدين تصديراً واستيراداً ؟
- (٣) ما مقترحاتك لتطوير الصناعة وازدهارها فى البلدين ؟

(٤) (١) أكمل العبارات الآتية، ثم انقلها كاملة فى كراسة الإجابة :

- (١) الغذاء الرئيسى لمعظم شعوب العالم محصول
- (٢) الرعى التجارى يمارس فى مناطق البرارى بقارة
- (٣) أولى دول العالم إنتاجاً لمعدن النحاس دولة
- (٤) مصدر للطاقة ينتج من تدفق مياه الشلالات أو السدود

(ب) ما النتائج المترتبة على ... ؟

- (١) اعتماد اقتصاد جمهورية نيجيريا الاتحادية على الزراعة.
- (٢) العلاقات الثقافية والعلمية بين مصر وألمانيا.
- (٣) تمتع الولايات المتحدة الأمريكية بموارد طبيعية متنوعة.

(ج) صوب ما فوق الخط، ثم أعد كتابة العبارات صحيحة فى كراسة الإجابة :

- (١) أولى دول العالم إنتاجاً للمطاط الطبيعى دولة بيرو.
- (٢) أكبر قارتين إنتاجاً للفحم قارة أوروبا وقارة أستراليا.
- (٣) أهم الدول إسهاماً فى التجارة الدولية للبترول والغاز الطبيعى دول البحر الكاريبى.
- (٤) السكان الأصليون لجمهورية البرازيل الاتحادية من الزنوج الأفارقة.

(د) أمامك رسمين بيانيين يمثلان إنتاج نوعين من

الموارد الاقتصادية في العالم لعام ٢٠١٢م،

استعن به وأجب عما يأتي :

(١) ما محصول الألياف الذي

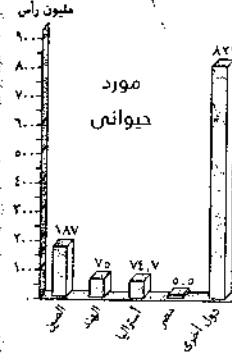

يمثله الرسم البياني الأول ؟

وما شهرة مصر في إنتاجه ؟

(٢) ما المورد الحيواني الذي يمثله الرسم البياني الثاني ؟

وما سبب توفره في أولى الدول المنتجة له ؟

(٣) ما الأهمية الاقتصادية لكل من الموردين ؟



التاريخ

(١) اختر الإجابة الصحيحة مما بين القوسين، ثم انقل العبارة كاملة في ورقة إجابتك :

(١) حاصر الإنجليز قصر عابدين في فبراير ١٩٤٢م لإجبار الملك فاروق على

تعيين رئيساً للحكومة.

(٢) (سعد زغلول - مصطفى النحاس - شريف باشا - رياض باشا)

(٣) أصبح لبريطانيا حق الانتخاب على فلسطين وفقاً لقرارات مؤتمر

(لندن - باريس - الآستانة - سان ريمو)

(٤) تتولى المحاكم على اختلاف أنواعها

(السلطة التشريعية - السلطة التنفيذية - السلطة القضائية - الإدارة المحلية)

(٥) أنشأ الخديو إسماعيل أول مدرسة لتعليم البنات عام ١٨٧٣م استجابة لدعوة

(رفاعة الطهطاوي - أحمد لطفي السيد - مصطفى كامل - جمال الدين الأفغاني)

(ب) بم تفسر ... ؟ (١) فشل العدوان الثلاثي على مصر عام ١٩٥٦م.

(٢) * اندلاع حرب السادس من أكتوبر ١٩٧٣م.

(٣) مشاركة مصر بفاعلية في مؤتمر مدريد للسلام عام ١٩٩١م.

(ج) لمن تنسب الأعمال الآتية ... ؟

(١) مفتي القدس وقائد اللجنة العربية التي قامت بثورة ١٩٣٦م في فلسطين.

(٢) رئيس أركان حرب القوات المسلحة الذي استشهد في حرب الاستنزاف.

(٣) إنشاء مجلس المشورة عام ١٨٢٩م للنظر في المسائل الإدارية.

(د) أيد بالأدلة التاريخية صحة ما يأتي :

(١) أظهرت حرب أكتوبر عام ١٩٧٣م أهمية التضامن العربي في مواجهة إسرائيل.

(٢) شهدت مصر نهضة نسائية في مختلف المجالات في فترة ما بعد ثورة ١٩١٩م وحتى

ثورة يوليو ١٩٥٢م.

(٤) اكتب كلمة (صح) أمام العبارة الصحيحة، وكلمة (خطأ) أمام العبارة غير الصحيحة،

مع تصويب الخطأ :

(١) ساهمت مصر بدور كبير في تشكيل حركة عدم الانحياز عام ١٩٥٥م. ()

(٢) أسس الشيخ «علي يوسف» حزب الأحرار وتولى رئاسته. ()

(٣) دعا الرئيس الأمريكي «بيل كلينتون» كل من (السادات - بيجين)

إلى مؤتمر كامب ديفيد عام ١٩٧٨م. ()

(٤) من أمثلة التعاون بين مصر ومنظمة اليونسكو المساهمة في إحياء مكتبة

الإسكندرية. ()

(ب) قارن بين : جامعة الدول العربية، وهيئة الأمم المتحدة من حيث الأهداف.

(ج) «اشتركت ثورتى ٢٣ يوليو ١٩٥٢م، و ٢٥ يناير ٢٠١١م في هدف أساسي هو القضاء على

الفساد وتحقيق العدالة الاجتماعية». في ضوء هذه العبارة أجب عما يأتي :

(١) بم تفسر : * تدهور الأوضاع الاقتصادية قبل ثورة ٢٥ يناير ٢٠١١م ؟

(٢) ما رأيك في : قرار تأميم شركة قناة السويس في يوليو ١٩٥٦م ؟

(د) ما النتائج التي ترقبت على ... ؟

(١) * إنجازات ثورة ٢٣ يوليو ١٩٥٢م في المجال الاجتماعي.

(٢) ثورة ٢٠ يونيو عام ٢٠١٣م. (٣) هزيمة العرب في ٥ يونيو عام ١٩٦٧م.

١٣ محافظة كفر الشيخ

مديرية التربية والتعليم

مجاب عنه

أجب عن الأسئلة الآتية : **أولاً : الجغرافيا**

(١) أمامك خريطة للعالم،

ادرسها جيداً ثم بين مدلول

الأرقام الموقعة عليها :

(١) مصدر للطاقة وتعد

هذه الدولة الأولى في

إنتاجه

(٢) نوع الرعى

السائد

(٣) ولاية

(٤) المحيط

(ب) اختر الإجابة الصحيحة مما بين القوسين :

- (١) * أكبر دول قارة أفريقيا المنتجة للبنجر دولة
(موريتانيا - مصر - ليبيا - تونس)
(٢) تُعد أستراليا أهم الدول المنتجة لـ (الألبان - الأسماك - الصوف - الدواجن)
(٣) يعتبر من المقومات الطبيعية اللازمة لقيام الصناعة
(التطور العلمي - الأسواق - رأس المال - الموقع المتميز)
(٤) ميناء من أهم موانئ البرازيل على المحيط الأطلنطي
(ريودي جانيرو - برازيليا - ساو باولو - ميناؤوس)
(٥) دولة تقع معظمها داخل حدود الهند
(نيبال - بوتان - بنجلاديش - باكستان)

(ج) انقل الجدول الآتي في كراسة إجابتك، ثم أكمل الفراغات الموجودة بالجدول :

الدولة (١)	نيجيريا	ألمانيا
التضاريس	تتوسطها هضبة الدكن	يجري في أراضيها نهر	يصب نهر الراين في بحر
المناخ والنبات الطبيعي	تنمو (٢) على السواحل الغربية والشرقية	الأجزاء الجنوبية فيها تقع في نطاق المناخ (٤)	في الصيف يعتدل المناخ وترتفع درجة الحرارة بالاتجاه نحو (٦)

(٢) (١) اكتب كلمة (صح) أمام العبارة الصحيحة، وكلمة (خطأ) أمام العبارة غير الصحيحة :

- (١) تستخدم الآلات والميكنة الزراعية في الزراعة الكثيفة. ()
(٢) * شكل الفحم عماد الثورة الصناعية في أوروبا حتى أواخر القرن الـ ١٨م. ()
(٣) تعد الصين واندونيسيا والولايات المتحدة الأمريكية من أوائل الدول المنتجة للأسماك. ()
(٤) يسود المناخ المعتدل الرطب حوض الأمازون والسهل الساحلي الشمالي في البرازيل. ()

(ب) اكتب ما تشير إليه كل عبارة مما يأتي :

- (١) يستخرج من عصارة أشجار استوائية ويُصنع منه إطارات السيارات.
(٢) تُعد القوة الاقتصادية الأولى في العالم وأول الدول الصناعية السبع.

(ج) بم تفسر ... ؟

- (١) يُعد البترول من أهم مصادر الطاقة. (٢) يعتبر اقتصاد نيجيريا اقتصاداً نامياً.
(٣) توسع الصناعة الألمانية وتطورها بعد الحرب العالمية الثانية.
(٤) تركز ٥٠ ٪ من سكان الولايات المتحدة الأمريكية في إقليم نيو إنجلند.

ثانياً التاريخ

(١) أكمل العبارات التالية بكلمات مناسبة :

- (١) تم التوقيع على معاهدة السلام بين مصر وإسرائيل عام ١٩٧٩م برعاية
(٢) شاركت مصر عام ١٩٥٥م في مؤتمر باندونج بدولة
(٣) * تزعم مصطفى كامل الحزب
(٤) رئيسة لجنة الوفد المركزية للسيدات عام ١٩٢٠م هي السيدة

(ب) ما النتائج التي ترقبت على ... ؟

- (١) المعارك الجوية بين الطيران السوري والطيران الإسرائيلي عام ١٩٧٣م.
(٢) إعلان الانتداب البريطاني على فلسطين عام ١٩٢٠م.
(٣) معركة رأس العش.
(٤) النشاط السياحي في مصر بعد توقيع معاهدة السلام بين مصر وإسرائيل عام ١٩٧٩م.

(ج) اكتب المصطلح الذي تعبر عنه كل عبارة مما يأتي :

- (١) انتخاب الشعب ممثلين عنه لإدارة شئون الحكم وسمن القوانين ومراقبة أعمال الحكومة نيابة عنه.
(٢) قانون صدر في سبتمبر ١٩٥٢م، حدد الملكية الزراعية وبموجبه امتلك الفلاحون الأراضي التي يعملون بها.

(د) رتب الأحداث التاريخية الآتية من القديم إلى الحديث :

- * الحرب العالمية الأولى. * تعيين أول قاضية مصرية.
* صدور مجلة الريانة. * إنقاذ معابد أبي سمبل.

(٤) (١) لمن تنسب الأعمال الآتية ... ؟

- (١) أنشأ المدرسة السنية للبنات.
(٢) شغل منصب رئيس هيئة عمليات القوات المسلحة عام ١٩٧٢م.
(٣) تولى رئاسة الحكومة المصرية في فبراير ١٩٤٢م.
(٤) قدم مبادرة عُرفت باسمه لوقف إطلاق النار بين مصر وإسرائيل أثناء حرب الاستنزاف.

(٣) أكثر أنواع الفحم انتشاراً واستخداماً في الصناعة فحم اللجنيت.

(٤) تعتبر الزراعة العمود الفقري للاقتصاد الألماني ويعمل بها ثلث القوى العاملة.

(٢) (١) اختر الإجابة الصحيحة مما بين القوسين لكل مما يلي :

(١) الموطن الأصلي لمحصول الشاي

(شرق آسيا - شمال أوروبا - جنوب أستراليا - غرب أفريقيا)

(٢) * أولى دول العالم في إنتاج السكر دولة (الصين - البرازيل - الهند - روسيا)

(٣) الدولة التي يقع معظمها داخل حدود الهند دولة

(باكستان - بوتان - بنجلاديش - نيبال)

(٤) يسود الرعي التجاري في دولة بأمريكا الجنوبية.

(شيلي - بيرو - فنزويلا - الأرجنتين)

(ب) قارن بين كل من :

(١) القمح، والذرة من حيث : * الأهمية. * أولى قارات العالم إنتاجاً.

(٢) الولايات المتحدة الأمريكية، وألمانيا من حيث :

* القارة التي تنتمي إليها. * أهم ما تستورده مصر منها.

(ج) إلى أي الدول تنتمي كل مدينة مما يأتي ... ؟ وما شهرة كل منها ؟

(١) لاجوس. (٢) حيدر أباد.

لانيا

(٢) (١) ما النتائج التي ترقبت على كل مما يأتي ... ؟

(١) قرار التحكيم الدولي سبتمبر ١٩٨٨م.

(٢) الهدنة التي اقترحتها الولايات المتحدة على مجلس الأمن عام ١٩٤٨م.

(٣) فشل العدوان الثلاثي على مصر عام ١٩٥٦م.

(ب) اختر الإجابة الصحيحة مما بين القوسين :

(١) * أنشأ محمد علي عام ١٨٢٤م. (المجلس العالي - مجلس المشورة - مجلس شورى النواب - مجلس شورى القوانين)

(٢) كانت معاهدة السلام بين مصر وإسرائيل عام ١٩٧٩م بمشاركة ورعاية

(أمريكية - أوروبية - روسية - عربية)

(ب) دلل تاريخياً على صحة كل عبارة مما يأتي :

(١) * لعب سلاح البترول دوراً مهماً أثناء حرب أكتوبر ١٩٧٣م.

(٢) لعبت ثورة ٢٣ يوليو ١٩٥٢ دوراً مؤثراً على المستويين العربي والدولي.

(ج) أعد كتابة كل عبارة مما يأتي في كراسة إجابتك، بعد تصحيح ما بها من خطأ :

(١) عادت طابا تحت السيادة المصرية في مارس ١٩٨٨م.

(٢) استولت إسرائيل على مدينة القدس العربية أثناء العدوان الثلاثي عام ١٩٥٦م.

(د) «حقق الجيش المصري انتصاراً حاسماً في أكتوبر ١٩٧٣م استعاد به الأرض والكرامة العربية». في ضوء هذه العبارة وضح :

(١) أوجه الشبه بين خط ألوان، وخط بارليف.

(٢) أوجه الاختلاف بين موقف الولايات المتحدة الأمريكية من مصر أثناء العدوان

الثلاثي ١٩٥٦م، وأثناء حرب أكتوبر ١٩٧٣م.

(٣) العلاقة بين : قرار مجلس الأمن رقم ٢٤٢ وحرب أكتوبر عام ١٩٧٣م.

(٤) ماذا كان يحدث إذا : لم تتشكل اللجان الشعبية أثناء ثورة ٢٥ يناير ٢٠١١م.

١٤ محافظة البحيرة

مديرية البحيرة : نعيم

مجا، عته

أوق الجغرافيا

أجب عن الأسئلة الآتية :

(٧) (١) أمامك خريطة لدولة البرازيل، اكتب مدلول

الأرقام الموضحة عليها بكراسة الإجابة :

(١) المحيط (٢) مدينة

(٣) نهر (٤) مدار

(ب) يم تفسر ... ؟

(١) احتياج الزراعة الكثيفة إلى أيدي

عاملة وفيرة.

(٢) زيادة معدل الاستهلاك العالمي من اللحوم الحمراء

(٣) تقدم الصناعة في أوروبا. (٤) قلة عدد السكان في دلتا نهر النيجر.

(ج) صوب ما تحته خط في العبارات التالية :

(١) يُعد البوكسيت الخام الرئيسي لمعدن الحديد.

(٢) يحده الولايات المتحدة الأمريكية شمالاً دولة المكسيك

(٢) * يعد أعلى سلطة داخل جامعة الدول العربية.

(الأمانة العامة - مجلس الوصاية - اللجان الدائمة - مجلس الجامعة)

(٤) استضافت أول قمة أفريقية على أرضها عام ١٩٦٤م.

(إثيوبيا - مصر - كينيا - ليبيا)

(٥) أنشأ مجلس شورى النواب فى ديسمبر ١٨٦٦م.

(إبراهيم باشا - الخديو إسماعيل - الخديو توفيق - سعيد باشا)

(ج) قارن بين ، نظام الانتخاب ، ومجلس الوصاية من حيث أسباب الظهور .

(١) برهن على صحة كل عبارة من العبارات الآتية ،

(١) تشابه الدفاعات الإسرائيلية فى الجبهتين المصرية والسورية قبل حرب أكتوبر ١٩٧٣م.

(٢) لمنظمة اليونسكو دور ثقافى فى مصر .

(٢) كان للتكنولوجيا المتطورة دور مهم فى ثورة ٢٥ يناير ٢٠١١م.

(ب) انقل العبارات الآتية إلى ورقة الإجابة، ثم ضع علامة (✓) أمام العبارة الصحيحة،

وعلمة (X) أمام العبارة غير الصحيحة ،

(١) قبلت مصر وإسرائيل قرار مجلس الأمن ٢٤٢ لسنة ١٩٦٧م. ()

(٢) رفض المستشار عدلى منصور إجراء انتخابات مبكرة يونيه ٢٠١٣م. ()

(٣) عُقد مؤتمر القمة الإسلامى عام ١٩٦٩م فى الرباط. ()

(٤) أنهى مؤتمر كامب ديفيد سبتمبر ١٩٧٨م حالة الاحرب واللاسلم. ()

(٥) يُعد برتوكول الإسكندرية أول وثيقة تخص جامعة الدول العربية. ()

(٦) جعل التعليم الجامعى بالمصروفات من الإنجازات الاجتماعية

لثورة ٢٣ يوليو ١٩٥٢م. ()

(ج) اكتب ما تشير إليه كل عبارة من العبارات التالية :

(١) رئيسة لجنة الوفد المركزية للسيدات عام ١٩٢٠م.

(٢) أول رئيس لمصر بعد إعلان النظام الجمهورى يونيه ١٩٥٣م.

(٣) معركة انتصرت فيها القوات المصرية على القوات الإسرائيلية عند مدينة بورفؤاد.

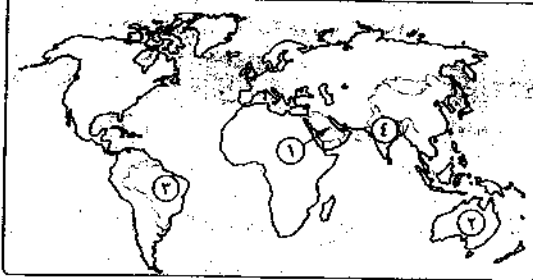
(د) ما العلاقة بين ، حرب فلسطين عام ١٩٤٨م ، والجيش المصرى ؟

١٥ محافظة الفيوم

مدينة التربية والتعليم

مجاب عنه

أولاً الجغرافيا



أجب عن الأسئلة الآتية:

(١) أمامك خريطة لقارات

للعالم، اكتب فى كراسة

إجابتك مدلول الأرقام

الموقعة عليها ،

(١) أولى دول العالم إنتاجاً

للبنترول

(٢) أولى دول العالم إنتاجاً

للصوف

(٣) * أولى دول العالم إنتاجاً للسكر (٤) أولى دول العالم إنتاجاً للالبان

(ب) كيف واجهت الهند المشكلة السكانية التى واجهتها ؟

(ج) صنف المحصولين الآتيين حسب النوع الذى ينتميان إليه موضحاً استخداماتهما ،

(١) القطن. (٢) القمح.

(د) صوب الكلمات التى تحتها خط فى كل عبارة مما يأتى :

(١) تهدف الزراعة الكثيفة للإنتاج التجارى الضخم.

(٢) * يستخدم القمح أو البنترول فى إنتاج الكهرباء المائية.

(٢) قارن بين ، نيجيريا ، والولايات المتحدة الأمريكية من حيث :

* العاصمة السياسية. * أهم الوردات المصرية من كل منهما .

(ب) اذكر الخام الذى يدخل فى الصناعات الآتية ،

(١) * صناعة علف الماشية. (٢) صناعة الأسلاك والأدوات الكهربائية.

(٣) صناعة إطارات السيارات. (٤) صناعة الألومنيوم.

(ج) اختر الإجابة الصحيحة مما بين القوسين ،

(١) الصين أولى دول العالم إنتاجاً للحوم ومعظم إنتاجها من لحوم

(٢) تقع ألمانيا فى قارة أوروبا. (شرق - وسط - غرب - شمال)

(٣) من الدول المستوردة للحديد (مورتانيا - جنوب أفريقيا - البرازيل - بريطانيا)

(٤) أكبر الأقاليم الصناعية فى العالم الجديد إقليم

(غرب أستراليا - شمال شرق الولايات المتحدة - شرق آسيا الصناعى - غرب ووسط أوروبا الصناعى)

النتائج النهائية

٢ (١) «يرى المفكرون أن الظلم وحده ليس دافعاً لقيام الثورات ولكن الشعور بالظلم هو الذي

يحرك الشعوب نحو الثورات». في ضوء هذه العبارة أجب عما يأتي :

(١) وضح تدهور الأوضاع الاقتصادية في مصر قبل ثورة ٢٥ يناير ٢٠١١م.

(٢) نتائج ثورة ٣٠ يونيو ٢٠١٣م.

(ب) اكتب ما تشير إليه كل عبارة من العبارات الآتية :

(١) أولى المارك التي انتصرت فيها القوات المصرية على القوات الإسرائيلية عقب هزيمة ١٩٦٧م.

(٢) جمعيات المجتمعات المحلية والمنظمات غير الحكومية والتقانات العمالية والجمعيات الخيرية وغيرها.

(٣) * تشكيلات تكونت من أفراد المجتمع المصري لحماية المنشآت أثناء

ثورة ٢٥ يناير ٢٠١١م.

(٤) أعلى سلطة في جامعة الدول العربية ولها مهام حددها ميثاق الجامعة.

(ج) ما النتائج التي ترتبت على ... ؟

(١) حرب الاستنزاف بين مصر وإسرائيل.

(٢) زيارة الرئيس السادات إلى إسرائيل عام ١٩٧٧م.

٤ (١) صوب الكلمات التي تحتها خط في العبارات الآتية :

(١) أعطى مؤتمر لندن عام ١٩٢٠م لبريطانيا حق الانتداب على فلسطين.

(٢) حصلت مصر على طابا بالقوة العسكرية.

(٣) تنازل الملك فاروق عن العرش عام ١٩٥٢م لجمال عبدالناصر.

(٤) ساعدت الولايات المتحدة إسرائيل في أحداث ثغرة القنطرة أثناء حرب أكتوبر ١٩٧٣م.

(ب) اختر الإجابة الصحيحة مما بين القوسين :

(١) من أهم إنجازات ثورة ٢٣ يوليو ١٩٥٢م في المجال الاجتماعي

(إلغاء الملكية - حل الأحزاب السياسية - مجانية التعليم - إنشاء السد العالي)

(٢) يوجد مقر الأمانة العامة للأمم المتحدة في مدينة

(مدريد - روما - واشنطن - نيويورك)

(٣) كان أول رئيس لجمهورية مصر العربية الرئيس

(جمال عبدالناصر - محمد أنور السادات - محمد نجيب - محمد علي)

(٤) رفضت الدول العربية مشروع تقسيم عام ١٩٤٧م.

(ليبيا - سوريا - العراق - فلسطين)

(ج) دلل على صحة العبارة الآتية : «لنظمة اليونسكو دور ثقافي رائد في مصر».



مديرية: شربة وسنعليم

محافظة بنى سويف

١٦

أولاً الجغرافيا

أجب عن الأسئلة الآتية:



١ (١) أمامك خريطة للعالم، اكتب

ما تشير إليه الأرقام :

(١) هضبة

(٢) نوع الزراعة السائد

في هذه المنطقة

(٣) إقليم صناعي

(٤) أولى دول العالم إنتاجاً للبتروöl

(ب) صحح الكلمات التي تحتها خط في الجمل الآتية :

(١) تعد مصر أولى دول قارة أفريقيا من حيث عدد السكان.

(٢) * يعتبر الذرة المحصول الغذائي لمعظم شعوب العالم.

(٣) * تشتهر الصين بإنتاج الأصواف من أغنام المارينو.

(٤) يوجد الحديد في أفريقيا وآسيا فقط.

(ج) بم تفسر ... ؟

(١) انتشار مصايد الأسماك على سواحل القارات.

(٢) الصناعة هي العمود الفقري للاقتصاد الألماني.

٢ (١) اكتب ما تشير إليه كل عبارة من العبارات الآتية :

(١) أكبر المدن النيجيرية وأكثرها اكتسافاً بالسكان وتعتبر العاصمة الاقتصادية.

(٢) أكثر أنواع الفحم انتشاراً في العالم وأكثرها استخداماً في الصناعة.

(٣) القوة الاقتصادية الأولى في العالم وأولى الدول الصناعية السبع.

(٤) يعد الخام الرئيسي لمعدن الألومنيوم.

(ب) أجب حسب المطلوب :

- (١) ما النتائج المترتبة على : وقوع مساحة كبيرة من البرازيل في المنطقة الاستوائية ؟
 (٢) انسب المدن الآتية إلى دولها، ثم اذكر سبب شهرتها.
 (١) حيدر آباد. (٢) ريودي جانيرو. (٣) واشنطن.

(ج) استخرج الاسم المختلف في المجموعات الآتية، ثم اذكر السبب :

- (١) الجوت - القطن - الكتان - النجر.
 (٢) ميونخ - برلين - شيكاغو - هامبورج.

ثانياً

(١) اختر الإجابة الصحيحة مما بين القوسين :

- (١) بعد بيان ثورة يوليو ١٩٥٢ م سيطر على جميع قطاعات الجيش.
 (محمد نجيب - جمال عبدالناصر - صلاح سالم - أنور السادات)
 (٢) تأسست الحركة الصهيونية في لندن على يد
 (بلفور - شارون - صهيون - هرتزل)
 (٣) أنشأ محمد علي عام ١٨٢٩ م مجلس
 (شورى القوانين - المشورة - شورى النواب - الأمة)
 (٤) ساهمت مصر في تأسيس حركة عدم الانحياز في مؤتمر
 (جنيف - شرم الشيخ - بانكوك - باريس)

(ب) وضح العلاقة بين : معاهدة السلام ١٩٧٩ م، والتنمية في مصر.

(ج) دلل تاريخياً على هذه العبارة : «شاركت المرأة المصرية في كافة المجالات منذ ١٩٨١ م».

(د) ماذا كان يحدث إذا ... ؟

- (١) * لم تقم بريطانيا بإصدار وعد بلفور.
 (٢) * لم تقم ثورة ٢٣ يوليو ١٩٥٢ م بإنجاز مشروع بناء السد العالي.

(١) إلى من تنسب الأعمال الآتية ... ؟

- (١) قام بدعوة الرئيس السادات ورئيس وزراء إسرائيل إلى مؤتمر كامب ديفيد.
 (٢) أشار على الخديو إسماعيل بإنشاء أول مدرسة للبنات في مصر.
 (٣) النظر في القضايا الدولية وتقديم الاستشارات القانونية للهيئات الدولية.

(ب) «قام الضباط الأحرار في الجيش المصري بثورة ٢٣ يوليو ١٩٥٢ م والتي حققت أهداف

وإنجازات في جميع المجالات». في ضوء العبارة السابقة وضح :

- (١) ما أهداف «مبادئ» ثورة يوليو ١٩٥٢ م.
 (٢) كيف قضت ثورة يوليو على الإقطاع في مصر.
 (٣) دور ثورة يوليو في تطوير الحياة النيابية في مصر.

(ج) ضع علامة (✓) أمام العبارة الصحيحة، وعلامة (X) أمام العبارة غير الصحيحة مع التصويب :

- (١) ظهرت الأحزاب المصرية (الوطنى والأمة والإصلاح) نتيجة ثورة ١٩١٩ م. ()
 (٢) كان للدعم العربى دوراً كبيراً فى انتصار أكتوبر ١٩٧٣ م. ()
 (٣) * زيادة الفوارق الاجتماعية بين طبقات المجتمع من أسباب ثورة ٢٥ يناير ٢٠١١ م. ()
 (٤) * توفير مناخ الوحدة الوطنية أحد أنشطة منظمات المجتمع المدنى. ()

محافضة المنيا

١٧

تربية التربية والنص

أجب عن الأسئلة الآتية :

أولاً

(١) أمامك خريطة لجمهورية الهند، اكتب في

كراسة الإجابة ما تدل عليه الأرقام التالية :

- (١) دولة (٢) مدينة
 (٣) خليج (٤) هضبة
 (٥) دائرة عرض

(ب) ما النتائج المترتبة على ما يلي ... ؟

- (١) الوحدة الاقتصادية الأوروبية.
 (٢) تمتع نيجيريا بساحل طويل على خليج غينيا.

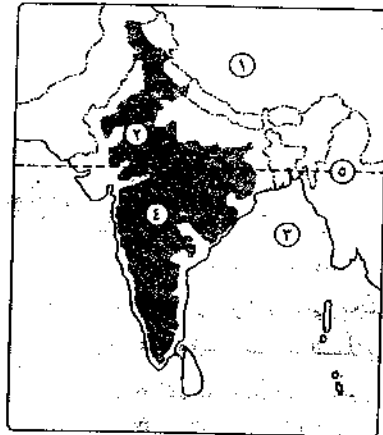
(٣) امتلاك البرازيل ثروة حيوانية كبيرة.

(٤) توافر كل مقومات الصناعة في الولايات المتحدة.

(٥) توطين البدو لتدفق البترول في شبه جزيرة العربية وبادية الشام.

(٢) (١) صوب ما تحته خط، ثم أعد كتابة العبارة صحيحة في كراسة إجابتك :

- (١) أكبر قارات العالم إنتاجاً للقطن قارة أوروبا.
 (٢) * يزرع قصب السكر في المناطق المعتدلة الباردة.
 (٣) يُعد البوكسيت الخام الرئيسى لمعدن النحاس.
 (٤) * تحتل دولة أستراليا المركز الأول في إنتاج الفحم في العالم.
 (٥) * تقع مدينة شيكاغو على المحيط الأطلنطي.



(ب) في أي الدول تقع المدن الآتية ... وما شهرة كل منها ؟

- (١) إبيدآن. (٢) هامبورج. (٣) سان فرانسيسكو.
(٤) ريودي جانيرو. (٥) لاجوس.

ثانياً التاريخ

(١) اختر الإجابة الصحيحة مما بين القوسين :

- (١) * من إنجازات ثورة ٢٣ يوليو ١٩٥٢ م في المجال العربي والدولي
(القضاء على الإقطاع - مجانية التعليم - تشكيل حركة عدم الانحياز - توقيع اتفاقية الجلاء)
(٢) أعطى مؤتمر لبريطانيا حق الانتداب على فلسطين عام ١٩٢٠ م.
(لندن - أوسلو - مدريد - سان ريمو)
(٣) حصل على وسام نجمة سيناء الذي يعد أعلى الأوسمة العسكرية.
(أحمد إسماعيل - سعد الدين الشاذلي - عبد المنعم رياض - محمد عبدالغنى الجمسي)
(٤) تم رفع العلم المصري فوق شبه جزيرة سيناء بعد استعادتها كاملة ما عدا
(رفح - طابا - شرم الشيخ - نويبع)
(٥) أحد أجهزة الأمم المتحدة المسئول عن حفظ السلام والأمن الدوليين هو
(الجمعية العامة - المجلس الاقتصادي والاجتماعي - مجلس الأمن - الأمانة العامة)

(ب) بم تفسر ... ؟

- (١) هزيمة الجيش المصري في حرب فلسطين ١٩٤٨ م.
(٢) العدوان الثلاثي على مصر ١٩٥٦ م.
(٣) عقد مؤتمر مدريد للسلام بإسبانيا عام ١٩٩١ م.
(٤) تدهور الأوضاع الاقتصادية في مصر قبل ثورة ٢٥ يناير ٢٠١١ م.
(٥) * إنشاء منظمة الأمم المتحدة عام ١٩٤٥ م.

(١) اكتب كلمة (صح) أمام العبارة الصحيحة، وكلمة (خطأ) أمام العبارة غير الصحيحة، مع تصويب الخطأ :

- (١) كسرت مصر احتكار السلاح العالمي بصفقة الأسلحة الشرقية عام ١٩٥٢ م. ()
(٢) قبلت مصر قرار مجلس الأمن رقم ٢٤٢ وامتنعت إسرائيل عن تنفيذه. ()
(٣) كان مؤتمر كامب ديفيد ١٩٧٨ م بدعوة من الرئيس الأمريكي كارتر. ()
(٤) تم تعيين تهاني الجبالي أول قاضية مصرية عام ٢٠٠٢ م بالحكمة الدستورية العليا. ()
(٥) يتم تعيين الأمين العام للأمم المتحدة عن طريق مجلس الوصاية. ()

(ب) اقرأ العبارة الآتية ثم أجب : واكتسبت ثورة ٢٣ يوليو ١٩٥٢ م أهمية كبيرة لما تركته

من آثار واضحة على أغلب الحركات التحريرية في الوطن العربي والعالم.

- (١) اذكر : (١) عوامل قيام ثورة ٢٣ يوليو ١٩٥٢ م.
(٢) الدروس المستفادة من حرب أكتوبر ١٩٧٣ م.
(٣) الهدف من إنشاء جامعة الدول العربية ١٩٤٥ م.
(٢) لمن تنسب الأعمال الآتية ... ؟

- (١) إنشاء أول مدرسة لتعليم البنات عام ١٨٧٣ م.
(٢) المساهمة في إنقاذ معبد أبو سمبل عام ١٩٦٤ م.



مديرية التربية والتعليم

١٨ محافظة أسيوط

اجب عن الأسئلة الآتية :

(١) أمامك خريطة للولايات المتحدة

الأمريكية، اكتب في كراسة إجابتك
مدلول الأرقام الموقعة عليها ،

- (١) خليج (٢) دولة
(٣) جبال (٤) نهر

(ب) بم تفسر ... ؟

- (١) تحتل الصين المركز الأول في
العالم لإنتاج الأسماك.

(٢) عدم إنتاج قصب السكر في قارة أوروبا.

(٣) الأهمية الاقتصادية محبوبة لثروة الهند من الأبقار.

(٤) تركز سكان نيجيريا في الغرب وهضبة جوس والسهول الشمالية.

(ج) في أي الدول تقع كل مدينة مما يأتي ... وما شهرتها ؟ (١) نيودلهي. (٢) ريودي جانيرو.

(١) ضع علامة (✓) أمام العبارة الصحيحة، وعلامة (X) أمام العبارة غير الصحيحة :

- (١) تنتشر الزراعة التجارية والعلمية على هوامش الغابات الاستوائية. ()
(٢) * قارة أوروبا أكبر قارات العالم في إنتاج المطاط الطبيعي. ()
(٣) يجري نهر النيجر في الأراضي النيجيرية وتعتمد عليه في الزراعة والري. ()
(٤) البرازيل أكبر دول قارة أمريكا الجنوبية في إنتاج النحاس. ()

(ب) اختر الإجابة الصحيحة مما بين القوسين لكل مما يلي :

- (١) أولى قارات العالم في إنتاج القمح (أفريقيا - أوروبا - أستراليا - آسيا)
 (٢) * الأطراف الجنوبية في نييجيريا تقع في نطاق المناخ
 (الصحراوي - المعتدل - الاستوائي - البارد)
 (٣) تقع ألمانيا قارة أوروبا .
 (شرق - غرب - شمال - جنوب)
 (٤) * تعد دولة أولى دول العالم إنتاجاً للغاز الطبيعي .
 (فرنسا - السعودية - الولايات المتحدة - روسيا)

(ج) اكتب ما تعبر عنه كل عبارة مما يأتي :

- (١) * عاصمة نييجيريا وتعد مدينة داخلية حديثة.
 (٢) حرفة يمارسها سكان المناطق الصحراوية في مساحات واسعة من قارات العالم.

ثانياً : التفسير

(١) اختر الإجابة الصحيحة مما بين القوسين :

- (١) وضعت فلسطين تحت الانتداب البريطاني وفقاً لقرار مؤتمر
 (أوسلو - مدريد - سان ريمو - كامب ديفيد)
 (٢) عُقدت اتفاقية بين مصر وإسرائيل عام ١٩٧٩م برعاية
 (ألمانية - أمريكية - أوروبية - يابانية)
 (٣) عام ١٩٤٧م رفضت الدول العربية مشروع تقسيم
 (مصر - فلسطين - السودان - سوريا)
 (٤) * عقد مؤتمر باندونج بدولة عام ١٩٥٥م .
 (ليبيا - إندونيسيا - السعودية - مصر)

(ب) بم تفسر ... ؟ (١) العدوان الثلاثي على مصر .

(٢) أهمية منظمة الأغذية والزراعة (الفاو) لسكان العالم.

(ج) اكتب ما تعبر عنه كل عبارة مما يأتي :

- (١) أهم أجهزة هيئة الأمم المتحدة المسئول عن حفظ السلام والأمن الدوليين.
 (٢) * قانون صدر في سبتمبر ١٩٥٢م حدد الملكية الزراعية.

(١) أكمل ما يأتي :

- (١) أفسحت حرب أكتوبر ١٩٧٣م المجال للمفاوضات السياسية وأنهت حالة
 (٢) دعمت الدولة المرأة على كافة المستويات فعيّنت أول مائدة شرعية.

(ب) إلى من تنسب الأعمال الآتية ... ؟

- (١) أنشأ مجلس الثورة ١٨٢٩م . (٢) فيلسوف ومفكر أسس حزب الأمة.
 (٣) أذاع أول بيان لثورة ٢٣ يوليو ١٩٥٢م من الإذاعة المصرية.
 (٤) تولى التخطيط والتنسيق على الجبهة المصرية والسورية في حرب أكتوبر ١٩٧٣م.
 (ج) «تعتبر ثورة ٣٠ يونيو ٢٠١٣م مكملة لنضال طويل ممتد للشعب المصري الذي ثار ضد الفساد والاحتلال وسوء الحكم منذ قيام الثورة العربية وحتى قيام هذه الثورة».

في ضوء هذه العبارة أجب :

- (١) اذكر أسباب قيام ثورة ٢٥ يناير ٢٠١١م.
 (٢) ما إنجازات ثورة ٢٣ يوليو ١٩٥٢م في المجال الصناعي ؟

مدينة القنطرة والتصميم

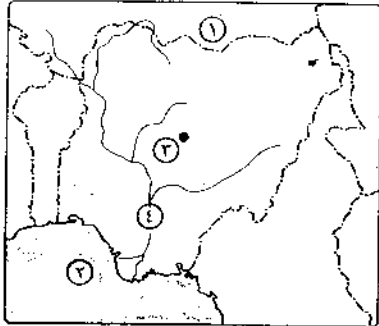
محافظه سوهاج

١٩

الجغرافيا

أولاً

أجب عن الأسئلة الآتية :



(١) أمامك خريطة لدولة نييجيريا، اكتب في كراسة

إجابتك مدلول الأرقام الموضحة عليها :

- (١) دولة
 (٢) خليج
 (٣) مدينة
 (٤) نهر

(ب) اختر الإجابة الصحيحة مما بين القوسين :

- (١) تحتل دولة المركز الأول في إنتاج الشاي في العالم.
 (الهند - الصين - البرازيل - فرنسا)
 (٢) تعد دولة ثاني دول العالم في إنتاج البترول.
 (السعودية - الولايات المتحدة الأمريكية - روسيا - الصين)
 (٣) * يستخرج معدن من هضبة جوس بنييجيريا .
 (الحديد - القصدير - النحاس - الفوسفات)
 (٤) تسود حرفة الرعي التجاري في دولة (بيرو - شيلي - البرازيل - الأرجنتين)
 (ج) قارن بين ، الهند ، والبرازيل من حيث علاقة كل منهما بمصر .

٢ (١) بم تفسر ... ؟

- (١) تنوع المناخ واختلافه من منطقة لأخرى في الولايات المتحدة.
 (٢) بدأت حرفة الرعي تقل في دول وسط آسيا.
 (٣) يُعد البترول أهم مصادر الطاقة في العالم.
 (٤) تُعد الصين من أوائل الدول الرئيسية المنتجة للأسماك.

(ب) أين توجد المدن الآتية ... ؟ وما شهرتها ؟

- (١) برلين. (٢) برازيليا. (٣) بومباي. (٤) شيكاغو.

ثانياً التاريخ

٣ (١) اكتب كلمة (صح) أمام العبارة الصحيحة، وكلمة (خطأ) أمام العبارة غير الصحيحة :

- (١) تولت حكمت أبو زيد منصب أول وزيرة للشئون الاجتماعية عام ١٩٦٢م. ()
 (٢) مقر الامانة العامة للأمم المتحدة مدينة نيويورك بالولايات المتحدة. ()
 (٣) أسس الحزب الوطني المفكر أحمد لطفى السيد. ()

(ب) دلل على صحة العبارات الآتية :

- (١) كان لثورة ٢٣ يوليو ١٩٥٢ إنجازات في مجال الزراعة.
 (٢) لعبت الدول العربية دوراً مهماً في حرب أكتوبر ١٩٧٣م.
 (٣) لفلسطين أهمية خاصة في قلب كل عربى «مسلم/مسيحى».

(ج) ماذا كان يحدث إذا : لم يتضامن الجيش مع الشعب أثناء ثورة ٢٥ يناير ٢٠١١م ؟

٤ (١) صوب ما تحته خط وأعد كتابة العبارات الآتية :

- (١) أعطى مؤتمر مدريد لبريطانيا حق الانتداب على فلسطين عام ١٩٢٠م.
 (٢) عُقد مؤتمر باندونج بالسويد عام ١٩٥٥م.
 (٣) الدستور يطلق على المجالس النيابية التى تتولى السلطة التشريعية فى الدولة.
 (٤) أصدرت هيئة التحكيم الدولية حكمها لصالح مصر عام ١٩٨٩م فى استرداد العريش.

(ب) ما النتائج التى ترتبت على ... ؟

- (١) هزيمة ٥ يونيه ١٩٦٧م. (٢) تحقيق السلام وإنهاء الصراع العربى الإسرائيلى.

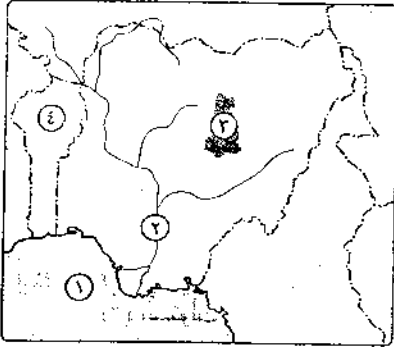
(ج) من أكون ... ؟

- (١) شاركت فى تطوير القوات المسلحة ووضعت خطة لعبور قناة السويس وتحطيم خط بارليف عام ١٩٧٣م.
 (٢) المسئول عن حفظ الأمن والسلام الدوليين وسلطى قانونية على حكومات الدول الأعضاء.

٢٠ محافظة قنا

مديرية التربية والتعليم

أجب عن الأسئلة الآتية :



١ (١) أمامك خريطة لدولة نيجيريا، اكتب

مدلول الأرقام الموقعة عليها :

- (١) خليج (٢) نهر
 (٣) مضبة (٤) دولة

(ب) بم تفسر ... ؟

- (١) توسع الصناعة الألمانية بعد الحرب العالمية الثانية.
 (٢) يُعد النشاط الزراعى من الأنشطة الاقتصادية الأساسية فى العالم.

(ج) ما المقصود بكل من ... ؟ (١) الزراعة الكثيفة. (٢) الفحم.

٢ (١) اختر الإجابة الصحيحة مما بين القوسين :

- (١) تعتبر العمود الفقرى للاقتصاد الألمانى.
 (الزراعة - الصناعة - التجارة - الثروة الحيوانية)
 (٢) يوجد بالبرازيل ثروة معدنية كبيرة أهمها
 (البوكسيت - النحاس - الذهب - الرصاص)
 (٣) تُعد دولة أكبر دول العالم إنتاجاً للألومنيوم.
 (فرنسا - كندا - اليابان - الولايات المتحدة الأمريكية)
 (٤) أكبر الدول المنتجة لبنجر السكر فى أفريقيا
 (الجزائر - مصر - المغرب - تونس)

(ب) أمامك مجموعة من المدن حدد ما تشتهر به، والدولة التى تنتمى إليها :

- (١) بومباي. (٢) ساوباولو. (٣) هامبورج. (٤) شيكاغو.

(ج) * قارن بين : المطاط الطبيعى، والشاي من حيث أهم الدول المنتجة فى العالم.

ثانياً التاريخ

٣ (١) أكمل العبارات التالية بما يناسبها من الكلمات التى بين القوسين :

- (مريد - باندونج - كارتر - السنية - العقبة - اليونسيف - مونترو)
 (١) ظهر دور مصر الرائد فى مؤتمر باندونيسيا عام ١٩٥٥م لتشكيل حركة عدم الانحياز.

- (٢) عُقد مؤتمر للسلام عام ١٩٩١م تأكيداً على مبدأ الأرض مقابل السلام.
 (٣) أغلقت مصر في مايو ١٩٦٧م خليج في وجه الملاحة الإسرائيلية.
 (٤) دعا الرئيس الأمريكي إلى مؤتمر كامب ديفيد عام ١٩٧٨م.
 (٥) أنشأ الخديو إسماعيل مدرسة لتعليم البنات عام ١٨٧٣م.
 (٦) منظمة الأمم المتحدة الوحيدة المتخصصة في مجال الطفولة هي

(ب) برهن بالأدلة التاريخية على صحة كل عبارة مما يأتي :

- (١) * حققت ثورة ٢٣ يوليو إنجازات ملموسة في المجال الاجتماعي.
 (٢) * للسلام مزايا عديدة لمصر ولوطننا العربي.

(٤) (١) صوب ما فوق الخط في العبارات الآتية :

- (١) من عوامل قيام ثورة ٢٣ يوليو ١٩٥٢م فساد النظام الجمهوري.
 (٢) استعادت مصر من إسرائيل في مارس ١٩٨٩م مدينة رفح.
 (٣) استولت إسرائيل في عدوان ٥ يونيو ١٩٦٧م على هضبة تجد من سوريا.
 (٤) عين الرئيس السادات حكمت أبو زيد وزيرة للشئون الاجتماعية عام ١٩٧١م.
 (ب) مكافح الشعب المصري خلال مراحل التاريخ المختلفة من أجل الاستقلال والسيادة والحرية.
 على ضوء هذه العبارة أجب عما يأتي :
 (١) ما المقصود بـ : الحياة النيابية ؟
 (٢) بم تفسر : فشل العدوان الثلاثي على مصر ؟
 (٣) ما رأيك في : مبادرة الرئيس السادات بزيارة إسرائيل من أجل السلام ١٩٧٧م ؟

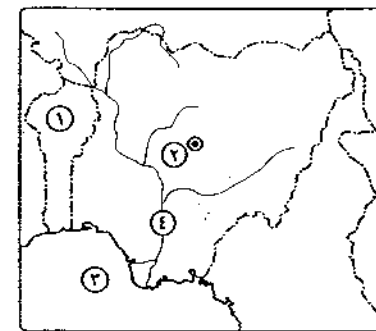


وزارة التعليم والبحث العلمي

محافظة الأقصر

٢١

أجب عن الأسئلة الآتية،



- (١) أمامك خريطة لدولة نيجيريا، اكتب في كراسة إجابتك مدلول الأرقام الموقعة عليها :
 (١) دولة من دول الجوار تحدها غرباً
 (٢) العاصمة الحديثة
 (٣) خليج
 (٤) نهر

(ب) بم تفسر ... ؟

- (١) يُعد النشاط الزراعي من الأنشطة الاقتصادية الأساسية في العالم.
 (٢) * شهرة القطن المصري والسوداني.
 (٣) التوسع في استخدام الغاز الطبيعي كمصدر للطاقة.

(٢) (١) اختر الإجابة الصحيحة مما بين القوسين :

- (١) تعتبر مدينة العاصمة التجارية للهند ومن أكبر المدن الصناعية.
 (لاجوس - نيودلهي - بومباي - حيدر آباد)
 (٢) تُعد أستراليا من أهم الدول المنتجة
 (للداجن - الذرة - الصوف - الأسماك)
 (٣) * من المراكز الصناعية الحديثة في قارة أمريكا الجنوبية
 (البرازيل - فنزويلا - بيرو - كندا)
 (٤) من المحاصيل التي تستخدم في تصنيع إطارات السيارات
 (القطن - الجوت - المطاط الطبيعي - الكتان)

(ب) أعد كتابة كل عبارة مما يأتي بعد تصويب ما تحته خط :

- (١) يزرع قصب السكر في معظم قارات العالم ما عدا قارة آسيا.
 (٢) أكثر أنواع الفحم انتشاراً واستخداماً في الصناعة اللجنيت.

(ج) قارن بين : دولة ألمانيا، ودولة البرازيل من حيث :

- * القارة التي تنتمي إليها. * ما تصدره مصر لها.

للتدبير

(٢) (١) ضع علامة (✓) أمام العبارة الصحيحة، وعلامة (X) أمام العبارة غير الصحيحة :

- (١) أدى توقيع مصر معاهدة ١٩٣٦م إلى جعل مصر ميداناً لمعارك الحرب العالمية الثانية. ()
 (٢) منظمات المجتمع المدني هي جمعيات تابعة للحكومة. ()
 (٣) قامت القوات المسلحة بحماية الممتلكات والمواطنين في ثورة ٢٥ يناير ٢٠١١م. ()
 (٤) كانت مساندة مصر لثورة الجزائر من أسباب العدوان الثلاثي على مصر عام ١٩٥٦م. ()

(ب) ما المقصود بكل من ... ؟ (١) الانتداب. (٢) الحياة النيابية.

(ج) ما الأدلة التاريخية التي تثبت أن ... ؟

(١) مؤتمر سان ريمو ١٩٢٠م كان أحد أسباب المشكلة الفلسطينية.

(٢) * كان لثورة ٢٣ يوليو إنجازات في المجال السياسي.

(٤) (١) بم تفسر ... ؟

(١) ظهور تنظيم الضباط الأحرار. (٢) زيارة الرئيس السادات للقدس ١٩٧٧م.

(ب) لمن تنسب الأعمال الآتية ... ؟

(١) التخطيط والتنسيق على الجبهتين المصرية والسورية في حرب أكتوبر ١٩٧٣م.

(٢) تقديم مبادرة وقف إطلاق النار وحل الصراع العربي/الإسرائيلي سلمياً عام ١٩٦٩م.

(ج) اكتب أهم النتائج لكل حدث مما يأتي :

(١) هزيمة العرب في حرب فلسطين ١٩٤٨م. (٢) * مؤتمر كامب ديفيد ١٩٧٨م.

٢٢ محافظة أسوان

مديرية التربة والتحصين

أجب عن الأسئلة الآتية :

أول الجغرافيا

(١) أمامك خريطة لدولة نيجيريا، وضع

مدلول الأرقام الآتية :

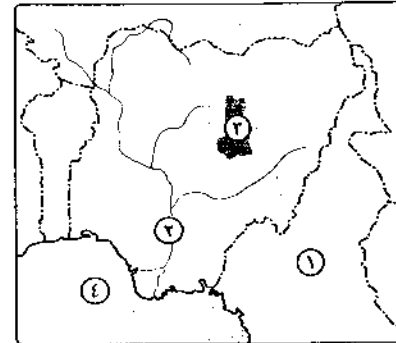
(١) دولة (٢) نهر

(٣) هضبة (٤) خليج

(ب) هارن بين :

(١) المقومات الطبيعية والبشرية لكل من الإنتاج

السكى، والإنتاج الصناعى فى العالم.



(٢) العلاقات بين مصر وكل من الهند، وألمانيا من حيث التبادل التجارى.

(ج) حدد المدينة المختلفة فى كل مجموعة مما يلي ثم انسب هذه المجموعة للدولة المناسبة لها :

(١) حيدر أباد - نيويورك - نيودلهى - بومباى.

(٢) ساو باولو - ريو دى جانيرو - شيكاغو - برازيليا.

(٣) هامبورج - ميونخ - برلين - لاجوس.

(٤) إبيادان - واشنطن - نيويورك - شيكاغو.

(٢) (١) اختر من القائمة (ب) ما يناسب القائمة (أ) :

(١)	(ب)
(١) * القمح	(١) عادة يعطو البترول لخفة وزنه.
(٢) اليوكسيت	(ب) يستخدم كعلف للحيوانات.
(٣) * المطاط الطبيعى	(ج) الصين أكبر دول العالم إنتاجاً له.
(٤) الغاز الطبيعى	(د) أولى دول العالم المنتجة له تايلاند.
	(هـ) الخام الرئيسى لمعدن الألومنيوم.

(ب) بم تفسر الآتى ... ؟

(١) اعتبار-النشاط الزراعى من الأنشطة الاقتصادية الأساسية فى العالم.

(٢) احتلال أستراليا والصين المراكز الأولى فى إنتاج الأغنام.

(٣) تعاني دولة البرازيل من قلة السكان رغم أن عدد سكانها ٢٠٣ مليون نسمة.

(٤) تنوع المناخ فى الولايات المتحدة الأمريكية.

(ج) من وجهة نظرك ، كيف يمكن تحقيق جودة الإنتاج الصناعى فى مصر ؟

ثانياً التاريخ

(٢) (١) اختر الإجابة الصحيحة مما بين القوسين :

(١) بعد إلغاء الملكية تم تعيين اللواء أول رئيس للجمهورية المصرية.

(حسنى مبارك - السادات - محمد نجيب - جمال عبدالناصر)

(٢) تم وضع فلسطين تحت الانتداب الإنجليزى طبقاً لقرارات مؤتمر

(سان ريمو - كامب ديفيد - مدريد - الآستانة)

(٣) تولى القيادة العامة الموحدة لمصر وسوريا خلال حرب أكتوبر ١٩٧٣م.

(عبدالمنعم رياض - سعد الدين الشاذلى - محمد عبدالغنى الجمسى - أحمد إسماعيل)

(٤) منظمة دولية ساهمت فى إنقاذ معابد أبو سمبل وإحياء مكتبة الإسكندرية هى

(الفاو - اليونيسيف - اليونسكو - الصحة العالمية)

(ب) ماذا كان يحدث إذا ... ؟

(١) لم يتم إنجاز مشروع السد العالى فى مصر.

(٢) نفذت إسرائيل قرار مجلس الأمن رقم «٢٤٢» لعام ١٩٦٧م.

(ج) ما النتائج التى ترقبت على ... ؟

(١) العدوان الثلاثى على مصر عام ١٩٥٦م.

(٢) تحقيق السلام وإنهاء الصراعات والحروب فى المنطقة العربية.

٤ (١) «الثورات التي تقوم بها الشعوب تهدف دائماً إلى تحقيق الإصلاح والعدالة، والقضاء

على الظلم والفساد». في ضوء العبارة وضع،

(١) دور ثورة ٢٣ يوليو في تحقيق إنجازات اجتماعية.

(٢) الأوضاع الاقتصادية ودورها في قيام ثورة ٢٥ يناير ٢٠١١م.

(٣) بعض الأنشطة التي تقوم بها منظمات المجتمع المدني في مصر.

(٤) رأيك في دعم العرب لمصر وسوريا أثناء حرب أكتوبر ١٩٧٣م.

(ب) اذكر الأحداث التاريخية التي وقعت في كل تاريخ من التواريخ التالية،

(١) مارس ١٩٤٥م. (٢) يونيو ١٩٧٧م. (٣) مارس ١٩٨٩م.

(ج) اكتب المصطلح المناسب لكل عبارة مما يلي،

(١) تنظيم كونه ضباط الجيش المصري يهدف إلى استقلال الوطن والقضاء على فساد الحكم.

(٢) وثيقة رسمية تحدد نظام الحكم في الدولة وتحدد شكل واختصاصات المؤسسات

الدستورية المختلفة.

(٣) منظمة عالمية أنشئت عام ١٩٤٥م، تضم جميع دول العالم المستقلة ومقرها نيويورك.



٢٣ محافظة الوادي الجديد

أجب عن الأسئلة الآتية:

٤ (١) أمامك خريطة للدولة ألمانيا، اكتب مدلول

الأرقام الموضحة عليها بكتابة الإجابة،

(١) السهل

(٢) العاصمة

(٣) دولة

(٤) بحر

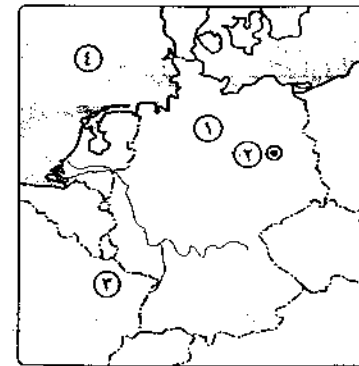
(ب) بم تقصر ... ؟

(١) تتطلب الزراعة الكثيفة أيدي عاملة وفيرة.

(٢) يُعد البترول أهم مصادر الطاقة في العالم.

(٣) تمتلك البرازيل ثروة حيوانية كبيرة.

(٤) ممارسة الإنسان للأنشطة الاقتصادية البدائية في الماضي.



(ج) حدد أولى قارات العالم إنتاجاً لكل مما يأتي،

(١) القمح. (٢) الذرة. (٣) القطن. (٤) * الفحم.

٢ (١) اكتب كلمة (صح) أمام العبارة الصحيحة، وكلمة (خطأ) أمام العبارة غير الصحيحة،

(١) يوجد الرعي البدائي في مناطق الشنشايش القصيرة بأمريكا الشمالية. ()

(٢) يوجد الحديد في جميع قارات العالم. ()

(٣) إقليم غرب ووسط أوروبا من أكبر الأقاليم الصناعية بالعالم الجديد. ()

(٤) شيكاغو أكبر الموانئ الأمريكية على المحيط الأطلسي. ()

(ب) قارن بين، الهند، ونيجيريا من حيث:

* القارة. * مناطق تركيز السكان. * ما تصدره مصر لها.

(ج) اكتب ما تشير إليه كل عبارة من العبارات الآتية،

(١) من المحاصيل المدارية الحارة المنتجة للسكر يزرع في كل القارات عدا أوروبا.

(٢) مادة تستخرج من عصارة الأشجار الاستوائية يصنع منها إطارات السيارات.

(٣) تُعد واحدة من أجمل مدن العالم والعاصمة القديمة للبرازيل.

ثانياً

٢ (١) اختر الإجابة الصحيحة مما بين القوسين،

(١) وقعت اتفاقية الجلاء عن مصر في

(يونيو ١٩٥٣م - أكتوبر ١٩٥٤م - نوفمبر ١٩٥٢م - يناير ١٩٥١م)

(٢) تم عقد مؤتمر كامب ديفيد ١٩٧٨م برعاية

(أمريكية - روسية - فرنسية - إنجليزية)

(٣) * تُعد أول ماثونة شرعية في مصر.

(أمال عثمان - أمل سليمان عفيفي - عائشة راتب - هدى شعراوي)

(٤) * يوجد مقر محكمة العدل الدولية في مدينة

(نيويورك - روما - لاهاي - جنيف)

(ب) برهن تاريخياً على صحة كل عبارة من العبارات الآتية،

(١) كانت هزيمة الجيش المصري في حرب فلسطين ١٩٤٨م سبباً في قيام ثورة ٢٣ يوليو.

(٢) * لثورة ٢٣ يوليو ١٩٥٢م العديد من الإنجازات في مجال الزراعة.

(٣) لمنظمات المجتمع المدني دور فعال في تقديم الخدمات الاجتماعية.

(ج) من أكون ... ؟ (١) مفتي القدس الذي قاد اللجنة العربية في ثورة ١٩٣٦م.

(٢) * مؤسس الحركة الصهيونية.

(٣) المنظمة الوحيدة المتخصصة في حماية حقوق الأطفال.

٤ (١) أكمل الفراغات الآتية بما يناسبها :

- (١) تحققت أول وحدة عربية بين مصر وسوريا عام
- (٢) كان الهدف من قيام ثورة ٢٣ يوليو ١٩٥٢م هو التخلص من الاحتلال
- (٣) تتكون السلطة التشريعية في جمهورية مصر العربية من مجلس
- (٤) أول قاضية مصرية تم تعيينها بالمحكمة الدستورية العليا عام ٢٠٠٣م هي

(ب) ما النتائج التي تترتب على ... ؟

- (١) العدوان الثلاثي على مصر ١٩٥٦م.
- (٢) إقامة حائط للصواريخ على الضفة الغربية للقناة في حرب الاستنزاف.
- (٣) * ثورة ٣٠ يونيو ٢٠١٣م.

(ج) «إن اختيار السلام بدلاً من الحرب التي تستنزف الموارد الاقتصادية يعود بالنفع على

وطننا العربي». في ضوء هذه العبارة أجب عما يأتي :

- (١) كيف كان الاستعداد الجيد لحرب أكتوبر ١٩٧٣م سبباً في النصر ؟
- (٢) ما رأيك في : مؤتمر مدريد للسلام عام ١٩٩١م ولماذا اشتركت فيه مصر بفاعلية ؟
- (٣) أثبت أن : منظمة الأمم المتحدة منظمة عالمية في أهدافها.



٢٤ محافظة جنوب سيناء

أول الجغرافيا

أجب عن الأسئلة الآتية :



١ (١) أمامك خريطة للعالم، اكتب

- في كراسة إجابتك مدلول الأرقام الموضحة عليها :
- (١) أولى قارات العالم إنتاجاً للذرة
- (٢) دولة منتجة لأصواف المارينسو

(٣) دولة يتركز بها إنتاج النحاس (٤) إقليم صناعي

(ب) بم تفسر ... ؟ (١) أهمية النشاط الزراعي في العالم.

(٢) تنتشر مناطق الأسماك على سواحل القارات.

(ج) ماذا يحدث إذا ، اتجه العالم نحو الزراعة الواسعة المتقدمة ؟

٢ (١) اكتب كلمة (صح) أمام العبارة الصحيحة، وكلمة (خطأ) أمام العبارة غير الصحيحة، مع تصويب الخطأ :

- (١) تُعد مصر من أكبر الدول الأفريقية المنتجة لبنجر السكر. ()
- (٢) الصين أكبر دول العالم إنتاجاً للحوم ومعظمها من الأبقار. ()
- (٣) الولايات المتحدة الأمريكية من أكبر الدول إنتاجاً لمعدن الألومنيوم. ()
- (٤) تتموحشائش الساقانا في حوض الأمازون بالبرازيل. ()
- (٥) يسود ألمانيا المناخ المداري الحار طول العام. ()

(ب) قارن بين : دولة الهند، ودولة نيجيريا من حيث : * الصناعة. * أهم المدن.

(ج) من وجهة نظرك : هل تتوافر في الوطن العربي مقومات الصناعة ليصبح منطقة صناعية عالمية ؟ أيد إجابتك.

التاريخ

٢ (١) لمن تنسب الأعمال الآتية ... ؟

- (١) مفتي القدس وقائد ثورة ١٩٣٦م في فلسطين.
- (٢) تولي القيادة العامة الموحدة للقوات المصرية السورية وقاد خطة الخداع ضد إسرائيل في حرب أكتوبر ١٩٧٣م.
- (٣) أنشأ أول مدرسة لتعليم البنات في مصر عام ١٨٧٣م.
- (٤) قام بإنشاء مجلس المشورة عام ١٨٢٩م.

(ب) ما النتائج التي تترتب على ... ؟

- (١) العدوان الثلاثي على مصر عام ١٩٥٦م.
- (٢) ثورة ٣٠ يونيو عام ٢٠١٣م.

(ج) ماذا كان يحدث إذا ... ؟

- (١) لم يتضامن الجيش مع الشعب أثناء ثورة ٢٥ يناير ٢٠١١م.
- (٢) لم تتصارع الأحزاب السياسية المصرية في مرحلة ما بعد ثورة ١٩١٩م.

٤ «لمصر دور ريادي في إنهاء الصراع العربي/الإسرائيلي وإقرار السلام».

في ضوء هذه العبارة أجب عما يأتي :

(١) ما المقصود بكل من ... ؟ (١) الانتداب. (٢) دستور. (٣) المنظمات الإقليمية.

(ب) دلل على صحة كل عبارة من العبارات الآتية :

(١) حققت ثورة ٢٣ يوليو إنجازات عديدة فى مجال الصناعة.

(٢) للسلام مزايا عديدة لمصر والأمة العربية.

(٣) قامت منظمة اليونسكو بدور ثقافى مهم فى مصر.

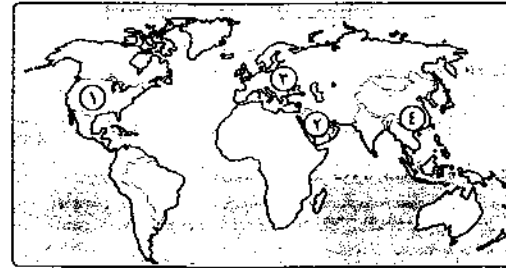
(ج) ما العلاقة بين : سياسة الانفتاح الاقتصادى، وسوء الأحوال الاقتصادية فى مصر ؟



محافظة شمال سيناء مدينة التربية والتعليم

اجب عن الأسئلة الآتية:

أولاً الجغرافيا



(١) أمامك خريطة للعالم، اكتب

مدلول الأرقام الموضحة عليها ،

(١) * أولى دول العالم فى

إنتاج الألومنيوم

(٢) أولى دول العالم

إنتاجاً للبترول

(٣) أولى قارات العالم إنتاجاً للطاقة النووية

(٤) أولى دول العالم إنتاجاً للأسماك

(ب) اختر الإجابة الصحيحة مما بين القوسين :

(١) * تُعد قارة آسيا أولى قارات العالم فى إنتاج

(القمح - المطاط الطبيعى - القطن - جميع ما سبق)

(٢) * تسود الغابات على السواحل الغربية للهند.

(الاستوائية - الموسمية - المدارية - المخروطية)

(٣) تصدر مصر إلى الهند القطن وتستورد منها

(الشاي - الأسمدة - الفوسفات - الجلود)

(ج) يم تفسر ... ؟

(١) زيادة معدل الاستهلاك العالمى من اللحوم.

(٢) تركيز زراعة البنجر فى معظم دول قارة أوروبا.

(٣) تُعد الولايات المتحدة الأمريكية القوة الصناعية الأولى فى العالم.

٢

(١) اكتب المصطلح الجغرافى الذى تدل عليه كل عبارة من العبارات الآتية :

(١) زراعة تتم فى مزارع واسعة وتهدف إلى الإنتاج التجارى الضخم.

(٢) الخام الرئيسى لمعدن الألومنيوم.

(٣) * تعد الهند ثالث دول العالم إنتاجاً له وتوجد مناجمه فى هضبة الدكن.

(٤) منطقة تعتبر من أهم مناطق الجذب السياحى فى ألمانيا.

(ب) انقل الجدول التالى فى كراسة إجابتك، ثم اكمل المطلوب فى الفراغات :

شهرة المدينة	المدينة	الدولة
أكبر مدن نيجيريا وأكثرها سكاناً وتعتبر العاصمة الاقتصادية	(١)	نيجيريا
(٢)	ريودى جانيرو	(٢)
العاصمة السياسية	(٤)	ألمانيا

(ج) ماذا يحدث إذا : توسعت مصر فى إنشاء محطات لتوليد الطاقة النووية ؟

ثانياً التاريخ

٢

(١) ضع علامة (✓) أمام العبارة الصحيحة، وعلامة (X) أمام العبارة غير الصحيحة، مع التصويب :

(١) قبلت كل من مصر وإسرائيل قرار مجلس الأمن رقم ٢٤٢ ()

(٢) كان سوء الأوضاع الاجتماعية من عوامل قيام ثورتى مصر

فى ٢٣ يوليو ١٩٥٢ م، ٢٥ يناير ٢٠١١ م. ()

(٣) تعرف المرحلة الثانية من إعادة بناء القوات المسلحة بعد هزيمة ١٩٦٧ م

بالحرب الإلكترونية. ()

(٤) انعقد مؤتمر مدريد للسلام عام ١٩٩١ م على أساس مبدأ الأرض مقابل السلام. ()

(ب) أكمل العبارات الآتية :

(١) يوجد مقر الأمانة العامة للأمم المتحدة فى مدينة بالولايات المتحدة الأمريكية.

(٢) صدر دستور جديد لمصر عام ١٩٧١ م عرف بالدستور

(٣) قامت الوحدة بين مصر وسوريا فى فبراير من عام

(٤) صدرت أول مجلة نسائية فى مصر باسم وأصدرتها جميلة حافظ عام ١٩٠٧ م.

(ج) ما النتائج التى ترقبت على كل من ... ؟

(١) فشل العدوان الثلاثى على مصر عام ١٩٥٦ م.

(٢) إصدار حكومة الثورة فى مصر قوانين الإصلاح الزراعى.

٤ (١) من يكون ... ؟

- (١) مفتي القدس وقائد الثورة الفلسطينية عام ١٩٣٦ م.
 (٢) أول رئيس جمهورية لمصر بعد إلغاء الملكية وإعلان الجمهورية.
 (٣) وزير الحربية المصري الذي تولى القيادة الموحدة للقوات المصرية السورية في حرب أكتوبر ١٩٧٣ م.
 (٤) رئيس مصر الذي سمح بقيام ثلاثة منابر للرأى عام ١٩٧٦ م.

(ب) برهن تاريخياً على صحة كل عبارة مما يأتي ،

- (١) الأمم المتحدة منظمة عالمية في أهدافها.
 (٢) حققت مبادرة الرئيس أنور السادات للسلام عام ١٩٧٧ م أهدافها.

(ج) ما رأيك في ، الدعم العربي لمصر وسوريا أثناء حرب أكتوبر ١٩٧٣ م ؟



عديرة التربية والتعليم

محافظة البحر الأحمر

٢٦

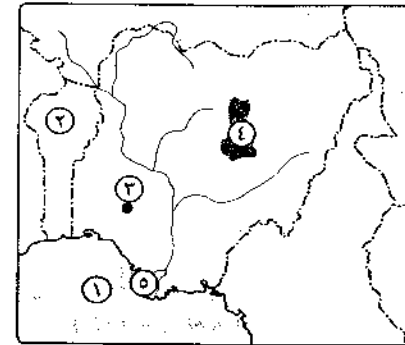
أولاً الجغرافيا

أجب عن الأسئلة الآتية :

٨ (١) أمامك خريطة لدولة نيجيريا ،

اكتب مدلول الأرقام الموقعة أمامك ،

- (١) خليج (٢) دولة
 (٣) مدينة (٤) هضبة
 (٥) محصول غذائى يزرع فى دلتا
 نهر النيجر وتعد ثانياً دول أفريقيا
 إنتاجاً له بعد مصر



(ب) اذكر الأهمية الاقتصادية لكل مما يأتي ،

- (١) الغاز الطبيعى.
 (٢) * الحديد.

(ج) قارن بين ، الهند ، والبرازيل من حيث :

- * أحد الموانئ. * النبات الطبيعى. * ما تستورده مصر منها.

٢ (١) اكتب كلمة (صح) أمام العبارة الصحيحة، وكلمة (خطأ) أمام العبارة غير الصحيحة،

مع تصويب الخطأ ،

- (١) تُعد البرازيل أولى دول العالم إنتاجاً للسكر. ()

- (٢) من المراكز الصناعية الحديثة فى العالم بجنوب شرق آسيا ماليزيا. ()

(٣) تعتبر الولايات المتحدة الأمريكية أكبر دول العالم إنتاجاً لخام البوكسيت

- وبالتالى معدن الألمنيوم. ()

- (٤) تُعد أمريكا الشمالية أولى قارات العالم إنتاجاً للطاقة النووية تليها أوروبا. ()

(ب) «الزراعة أهم وأقدم الحرف التى عرفها الإنسان وساعدته على الاستقرار والإنجاز

الحضارى». فى ضوء هذه العبارة أجب عن الأسئلة الآتية ،

- (١) لماذا يعتبر النشاط الزراعى من الأنشطة الاقتصادية الأساسية فى العالم ؟

(٢) شهرة أوروبا بزراعة بنجر السكر.

- (٣) اذكر اثنين من خصائص الزراعة البسيطة (البداية).

(ج) اكتب ما تشير إليه كل عبارة من العبارات الآتية ،

- (١) أجدد أنواع القمح الثلاثة وأقلها وجوداً فى الطبيعة.

(٢) إقليم صناعى يبدو فى شكل مناطق صناعية متباعدة وأهم مراكز إقليم الأورال.

- (٣) حرفة يمارسها سكان المناطق الصحراوية فى مساحات واسعة فى قارات العالم.

(٤) يُعد من أهم المعادن المستخدمة فى صناعة الأسلاك والأدوات الكهربائية.

ثانياً التاريخ

٣ (١) اختر الإجابة الصحيحة مما بين القوسين ،

- (١) القضاء على الإقطاع من إنجازات ثورة ٢٣ يوليو ١٩٥٢ م فى المجال

(السياسى - الاجتماعى - الاقتصادى - الثقافى)

- (٢) من أبشع المذابح التى ارتكبتها العصابات اليهودية بفلسطين عام ١٩٤٨ م

مذبحة (غزة - يافا - دير ياسين - القدس)

- (٣) وُضعت فلسطين تحت الانتداب البريطانى طبقاً لقرارات مؤتمر

(باريس - سان ريمو - مونترو - لندن)

- (٤) أجبرت بريطانيا الملك فاروق فى فبراير ١٩٤٢ م على تعيين رئيساً للحكومة.

(سعد زغلول - مصطفى النحاس - شريف باشا - رياض باشا)

- (٥) كان أعضاء مجلس شورى النواب ينتخبون كل سنوات.

(ست - خمس - سبع - ثلاث)

الإجابات



(ب) ماذا كان يحدث إذا لم ... ؟

(١) تتمكن مصر من إعادة بناء قواتها المسلحة بعد هزيمة يونيه ١٩٦٧م.

(٢) تقم ثورة ٢٣ يوليو ١٩٥٢م بإنجاز السد العالي.

(ج) اذكر سبباً واحداً لكل مما يأتي :

(١) عدوان ٥ يونيه ١٩٦٧م.

(٢) إحداث ثغرة في منطقة الدفرسوار أثناء حرب أكتوبر ١٩٧٣م.

(٣) * تدهور الأوضاع الاجتماعية قبل ثورة ٢٥ يناير ٢٠١١م.

(١) (٤) إلى من تنسب الأعمال الآتية ... ؟

(١) أذاع أول بيان لثورة ٢٣ يوليو ١٩٥٢م من الإذاعة المصرية.

(٢) قاد خطة الخداع لصرف أنظار إسرائيل عن التجهيزات الهجومية.

(٣) دعا إلى عقد مؤتمر في كامب ديفيد للتوصل إلى إطار للسلام بين مصر وإسرائيل.

(٤) * رئيس المحكمة الدستورية العليا الذي تولى حكم مصر عقب ثورة ٣٠ يونيه ٢٠١٣م.

(ب) اذكر نتيجة لكل مما يأتي :

(١) العدوان الثلاثي على مصر ١٩٥٦م.

(٢) الدعم العربي لمصر أثناء حرب أكتوبر ١٩٧٣م.

(ج) اختر من القائمة (ب) ما يناسب القائمة (أ) :

(أ)	(ب)
(١) من الأبطال الذين استشهدوا في حرب الاستنزاف ١٩٦٩م	(١) خط ألوان.
(٢) * حركة سياسية نادت بإنشاء وطن قومي خاص لليهود	(ب) الفريق سعد الدين الشاذلي.
(٣) خط دفاعي إسرائيلي منيع حطمته القوات السورية في حرب أكتوبر ١٩٧٣م	(ج) الفريق أول عبدالمنعم رياض.
(٤) مفتي القدس ورئيس اللجنة العربية التي قامت بثورة ١٩٣٦م	(د) الصهيونية.
	(هـ) خط بارليف.
	(و) الحاج أمين الحسيني.